

## 沈阳市第 120 中学 2023-2024 学年度上学期

### 高三年级第一次质量监测

#### 历史试题

满分：100 分 时间：75 分钟 命题人：何福全 校对人对：历史组

#### 一、单选题（每小题 3 分，共 48 分）

1. 西周分封制下，诸侯国君爵位由高到低称为公、侯、伯、子、男。楚国先祖在西周初被封以“子男之田”。春秋时期，楚国国君自称为王，称霸中原，争当华夏盟主，孔子编撰《春秋》，仍坚持称楚王为“楚子”。孔子此举目的是（ ）

- A. 实录历史事实
- B. 提升周王权威
- C. 维护等级秩序
- D. 强调文化差异

2. 西汉自高祖始，经汉武帝、汉宣帝至汉成帝的二百年间，前后 6 次大规模地将关东强族豪杰迁徙于关中。汉武帝“元朔二年夏天，迁徙郡、国中的豪杰及费三百万以上者于茂陵”。汉成帝“鸿嘉二年夏，徙郡国豪杰费五百万以上五千户于昌陵。”汉代当政者的这些做法

- A. 确保了中央对地方的有效控制
- B. 遏制了大土地所有制的发展
- C. 客观上有利于自耕农经济发展
- D. 促使庶族地主势力开始崛起

3. 480 年，孝文帝至廷尉、籍坊的两所监狱，引见诸囚。同年闰七月，又亲自录囚，“轻者皆免之”。496 年，下诏说：“法为治要，民命尤重。在京之囚，悉命条奏，朕将亲案，以时议决。”孝文帝的上述举措（ ）

- A. 旨在巩固北魏王朝的正统地位
- B. 弘扬了中原先进的法治文明
- C. 促进了北方社会经济的繁荣
- D. 利于缓和当时尖锐的社会矛盾

4. 唐代中后期文人间流行诗歌唱和之风，“江南”成为唱和的重要主题。杭州、苏州、湖州、宣州（今安徽宣城）等地名常在唱和诗歌中出现。这种风尚（ ）

- A. 得益于稳定的地方秩序
- B. 缘于坊市制度的崩溃
- C. 助推山水田园诗的兴起
- D. 导致经济重心的南移

5. 民众日常生活能够反映时代特点。下列情景中，可能现于北宋都城市民日常生活的是（ ）

- A. 早晨在家喝红薯玉米粥
- B. 晚上去夜市听人说书
- C. 到指定市场用银元购物
- D. 出门时穿件黄色棉袍

6. 我国东南沿海某港口，在 15 世纪只是一个“结茅而居”的渔村，到 16 世纪，已成为“繁华世界”，“宝货塞途，家家歌舞赛神，钟鼓管弦，连飘响答”，时称“小苏杭”。能够说明这一现象的是（ ）

试卷第 1 页，共 6 页



金融业资本	22.83	21.06	26.29	28.09
-------	-------	-------	-------	-------

- A. 民族工业呈现发展趋势  
B. 商业贸易日益萎缩  
C. 近代金融体系臻于完善  
D. 经济结构逐渐失衡

13. 有学者认为，绅商是一个新兴的社会阶层，主要活跃于 19 世纪末 20 世纪初，他们已开始接触和使用新的资本主义营运方式，生活方式和思想意识开始带有近代趋向，但在很多方面依然非常守旧和传统。这可用于说明当时中国（ ）

- A. 绅商是社会转型的主要阻力  
B. “尊士贱商”的积习遭弃  
C. 传统社会阶级结构已被颠覆  
D. 民族资产阶级的两面性

14. 1915 年 5 月 22 日，《申报》刊登了一则上海中国明明眼镜公司的声明：“近有丧心病狂之徒，以自己之营业失败，侮蔑本公司货物，谓贩自日本，实为本公司意外之奇辱也……不独本公司无丝毫日货，即中国全国眼镜界上，吾亦敢断言绝无丝毫日货混杂其间。”该现象反映（ ）

- A. 外交关系影响社会舆论  
B. 新文化运动的深入发展  
C. 民族企业发展形势严峻  
D. 中外商业竞争愈发激烈

15. 1920 年 5 月，陈独秀发表演说：“中国古人说‘劳心者治人，劳力者治于人’。现在我们要将这句话倒转过来说，‘劳力者治人，劳心者治于人’。”9 月，他发文主张“用革命的手段建设劳动阶级（即生产阶级）的国家”。这反映出（ ）

- A. 工人待遇得到极大改善  
B. 民主与科学深入人心  
C. 无产阶级登上政治舞台  
D. 工农运动的蓬勃发展

16. 中国共产党在成立之初就注重增强阶级基础。中共一大在讨论今后的工作时，“决定集中我们的全部精力组织工厂工人……鉴于我们的党至今几乎完全由知识分子组成，所以代表大会决定要特别注意组织工人”。这反映出当时（ ）

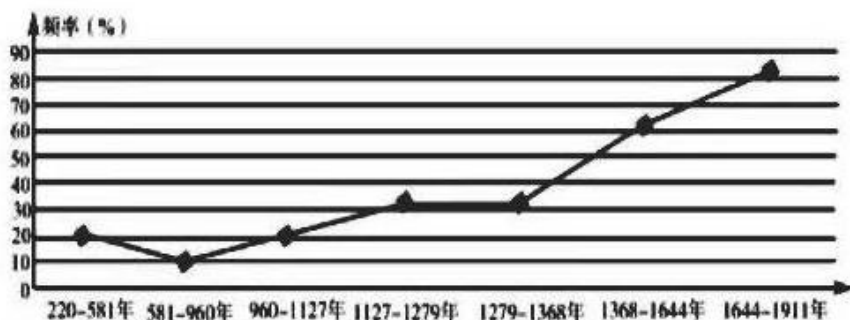
- A. 革命统一战线建立  
B. 民主革命纲领开始制定  
C. 党的中心任务确立  
D. 工农武装割据思想形成

## 二、材料分析题

17. 阅读材料，回答下列问题。

材料一





材料二 中国古代疫灾空间分布表

时段	频发中心	频发区及扩展
220—581年	长安、洛阳、建康	扩展到长江干流一线
581—960年	长安、洛阳	扩展到整个长江流域和闽浙地区
960—1127年	开封	
1127—1279年	临安	
1279—1368年	大都	扩展到两广、云南
1368—1644年	京师	海南开始有了疫病流行
1644—1911年	京师	台湾、东北、新疆也成了疫灾流行区

——据龚胜生《中国疫灾的时空分布变迁规律》

根据材料一、二，针对 220-581 年和 581-960 年这两个历史时期，分析指出中国古代疫灾的时空分布变迁特征，并结合所学知识给出合理的历史解释。（15 分）

### 18. 黄河——“中华民族的根与魂”

材料一 中国人通过祭祀表达对黄河的敬畏。据甲骨卜辞记载，殷人每年多次举行黄河祭祀，以求雨、求丰年等。春秋战国时期，中原地区的诸侯也常常祭祀黄河，以结盟、立誓或祈求战争胜利等。

材料二

1903年	邹容在《革命军》中写道：“沿万里长城，登昆仑，游扬子江上下，溯黄河，竖独立之旗，撞自由之钟。”
1910年	革命派《民声》杂志发表组诗《爱之歌》，其中《黄河》篇写道：“吾族受此河流赐，产出一部民族志。”

1923年	李大钊在《艰难的国运与雄健的国民》中写道：“扬子江、黄河可以代表我们的民族精神。”
1937年	国共两党代表在黄河边同祭黄帝，毛泽东亲撰祭文，“胄衍祀绵，岳峨河浩”“民族阵线，救国良方”。
1938年	《民族诗坛》发表诗歌《黄河》，诗中写道：“黄河！你这中华国族的母亲，现在你再也不能安睡，东方吹动了号角，杀声震变了天地。”
1939年	《黄河大合唱》在延安首演，“保卫黄河、保卫华北、保卫全中国”的歌声激起热烈反响，迅速传唱到各根据地和抗日前线。

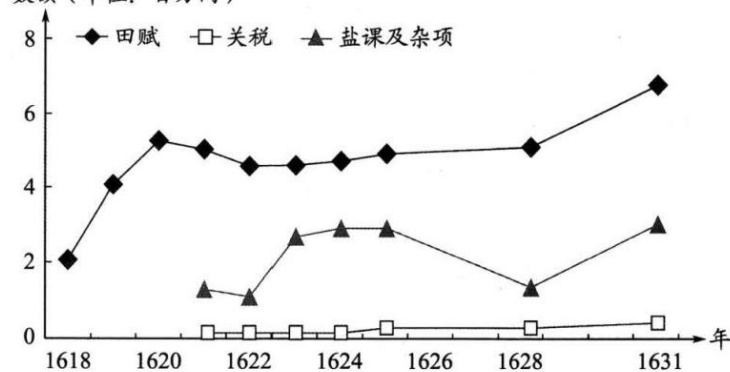
(1)阅读材料一，结合所学，说明中国古代重视祭祀黄河的原因。(6分)

(2)20世纪上半叶，黄河作为中华民族的重要象征，其时代内涵不断丰富。阅读材料二，结合所学，予以说明。(7分)

### 19. 军费与财政

材料一明万历四十六年(1618)至崇祯四年(1631)辽饷结构表

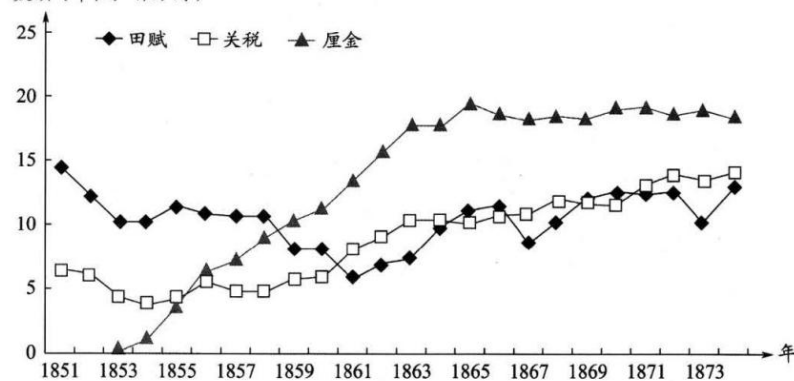
数额(单位:百万两)



注:明万历末年,为应对辽东战事而加派赋税,称“辽饷”。

材料二清咸丰同治时期(1851—1874)主要财政收入趋势表

数额(单位:百万两)



注：清咸丰年间，“盐引停运，关税难征，地丁钱粮复间因兵荒而蠲免（注：免除）缓征”。清政府为镇压太平天国，在国内交通要道设立关卡，依商品数量或价值加征约百分之一的税，称为“厘金”。

(1)明代为应对辽东战事、清代为镇压太平天国而筹措军费。阅读上述材料，指出两者增加军费的主要来源有何不同。（2分）

(2)结合材料及所学，概括19世纪60—70年代清政府财政收入结构变化的总体趋势，并分析导致这一趋势的原因。（10分）

### 三、论述题

20. 阅读材料，完成下列要求。（12分）

材料 1933年1月，《东方杂志》“新年特号”刊载了畅谈“新年梦想”征稿活动的相关稿件。征稿活动由“梦想的中国”和“梦想的个人生活”两个主题构成，“梦想的中国”主题的来稿数量更大，内容也更为丰富。100余名知识分子参与投稿，当中不乏社会各界名流，如作家茅盾、老舍，画家徐悲鸿，国民党著名“左”派人物柳亚子等。

“梦想的中国”来稿关键词统计表

关键词	提到该词的作者人数	该词在全部稿件中一共出现的次数
阶级	27人	58次
教育	27人	50次
帝国主义	23人	41次
民族	21人	70次
日本	18人	38次
社会主义	13人	20次
世界大同	11人	13次 (“大同世界”视为近似词归入此类)
文化	22人	34次
世界大战	5人	6次

——摘编自耿密《民国知识精英的“国家梦”》

根据材料并结合所学知识，任选三个“梦想的中国”来稿关键词，拟定一个论题，结合中国近代史史实进行阐释。（要求：观点正确，史论结合，逻辑严谨）。

试卷第6页，共6页

## 关于我们

自主选拔在线是致力于提供新高考生涯规划、强基计划、综合评价、三位一体、学科竞赛等政策资讯的升学服务平台。总部坐落于北京，旗下拥有网站（[网址：www.zizzs.com](http://www.zizzs.com)）和微信公众平台等媒体矩阵，用户群体涵盖全国 90% 以上的重点中学师生及家长，在全国新高考、自主选拔领域首屈一指。

如需第一时间获取相关资讯及备考指南，请关注**自主选拔在线**官方微信号：**zizzsw**。

