


# 高三文科综合考试

本试题卷分为第 I 卷选择题和第 II 卷非选择题两部分,共 47 小题,时量 150 分钟,满分 300 分。

## 第 I 卷 (选择题 共 140 分)

本卷共 35 小题,每小题 4 分,共 140 分。在每小题给出的四个选项中,只有一项是符合题目要求的。

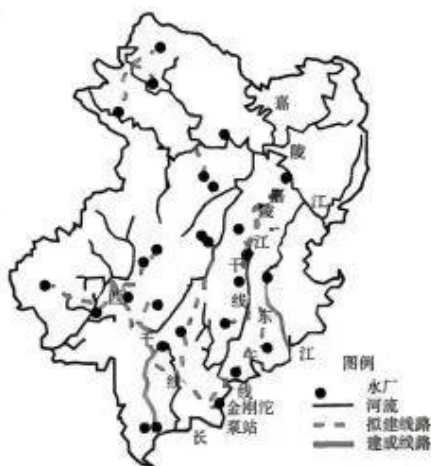
合理的青年人口(14~35 岁)规模、质量和结构是社会存在和发展的基本条件,也是青年发展和社会运行的关键因素。下图示意 1982 年、2020 年我国人口年龄结构金字塔。据此完成 1~2 题。



- 与 1982 年相比,2020 年我国
  - 人口年龄结构年轻
  - 生育率持续上升
  - 老年人口规模扩大
  - 死亡率持续下降
- 针对我国的人口现状,亟须
  - 完善养老体系
  - 限制人口迁移
  - 缩紧生育政策
  - 提高住房价格

2020 年 12 月 23 日,重庆投资规模最大、涉及范围最广、受益人口最多的重大民生水利项目渝西(重庆西部)水资源配置工程全线正式开工。该工程创造性采用了“南片大集中、北片小组团”的水资源优化配置格局,引大江之水,为渝西人民解“渴”。右图为该工程线路示意图。据此完成 3~5 题。

- 渝西水资源匮乏,主要是由于
  - ①年降水量偏少
  - ②工农业用水量大
  - ③地表水下渗严重
  - ④大江大河较少
  - ①②
  - ①③
  - ②④
  - ③④



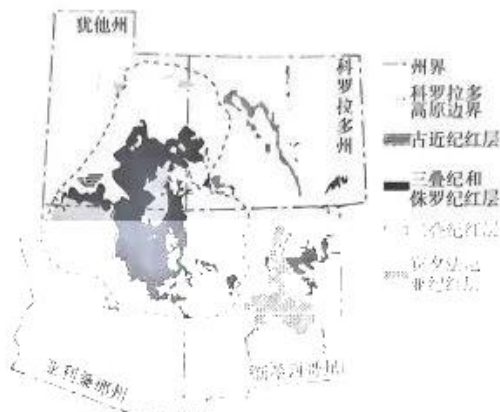
4. 渝西水资源配置工程采用“南片大集中,北片小组团”布局的最主要原因是

- A. 地势南高北低
- B. 北片经济落后
- C. 林地面积差异大
- D. 南片调水量大

5. 渝西水资源配置工程建设运营后,有助于

- A. 降低地下水水位
- B. 有效避免水污染
- C. 提高水资源利用率
- D. 提高输入地水价

地质学上通常把红层认为是各个地质历史时期沉积的岩层。红层是因岩石颗粒、孔隙或基质中存在氧化铁而形成的以红色为主色调的碎屑沉积岩。其中科罗拉多大峡谷两侧发育有众多深窄峡谷,以陡崖坡为特征的红层地貌被称为丹霞地貌。下图示意美国西部地区红层地貌分布。据此完成6~8题。



6. 图示分布有三种红层类型且总分布面积最小的地区是

- A. 犹他州
- B. 亚利桑那州
- C. 科罗拉多州
- D. 新墨西哥州

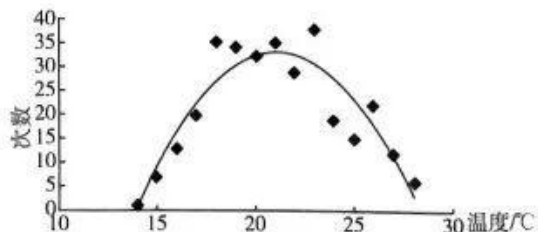
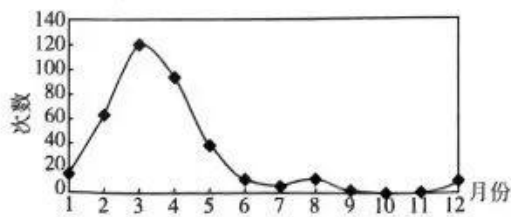
7. 科罗拉多大峡谷两侧发育有众多深窄峡谷的原因是

- A. 人类活动
- B. 暴雨频繁
- C. 飓风侵袭
- D. 地震剧烈

8. 美国西部红层地貌多有陡崖坡形成,推测其地质演化过程为

- A. 盆地形成—外力塑造—红层堆积—构造抬升
- B. 盆地形成—红层堆积—构造抬升—外力塑造
- C. 红层堆积—构造抬升—外力塑造—盆地形成
- D. 构造抬升—红层堆积—盆地形成—外力塑造

研究表明,水汽充足、微风及大气稳定有利于雾的形成。有雾时,海面能见度大大降低,对轮渡的运行影响很大。下图示意1975~2009年广东省南澳岛大雾出现次数与月份、气温的关系。据此完成9~11题。



9. 南澳岛大雾

- ①季节变化明显 ②开始出现时气温一般在 28℃左右 ③水汽多源于暖海面的水分蒸发  
④由强冷空气促成

A. ①③                      B. ②④                      C. ①②                      D. ③④

10. 促使南澳岛大雾消散的直接原因是

- A. 大气逆辐射增强                      B. 地面辐射增强  
C. 大气逆辐射减弱                      D. 太阳辐射增强

11. 连续多日的大雾,导致南澳岛

- A. 航行更加安全                      B. 作物光合作用效果好  
C. 生态环境更好                      D. 昼夜温差减小

12. 《国企改革三年行动方案(2020~2022年)》实施的三年来,我国国有企业聚焦战略安全、产业引领、国计民生、公共服务等功能,既着力调整存量结构,又发力优化增量投向。中国空间站全面建成,首架 C919 大飞机正式交付,白鹤滩水电站全面投产……一大批重大工程、重大项目捷报频传。由此可见

- ①国有经济是我国国民经济的支柱,在国民经济中起主导作用  
②发展、壮大国有经济对增强我国经济实力具有关键性作用  
③国有经济掌握着国家经济命脉,是社会主义经济制度的基础  
④我国坚持公有制为主体、多种所有制共同发展的基本经济制度

A. ①②                      B. ①③                      C. ②④                      D. ③④

13. 锂资源是新能源汽车发展的基石,主要用于生产电池储能系统。针对下图中碳酸锂的市场状况,企业的应对措施合理的是

- 2021年上半年,市场上电池级碳酸锂价格为9万元/吨上下; 2023年4月27日,电池级碳酸锂报18.4万元/吨。
- 锂价格上涨原因:



- ①减少锂矿材料的储存,实行完全的市场价格形成机制  
②加大新型储能关键技术研发力度,研发锂的替代材料  
③缩减企业生产经营规模,减少新能源汽车的生产数量  
④推动产业链上下游企业协同发展,推动全产业链升级

A. ①②                      B. ①③                      C. ②④                      D. ③④

14. 过去5年,我国总体赤字率控制在3%以内(国际上财政赤字率安全警戒线为3%)。2023年,我国赤字率拟按3%安排。中央一般公共预算支出中对地方转移支付占比提高到70%左右,建立并常态化实施中央财政资金直达机制,全国财政支出70%以上用于教育、科技、生态、医疗等重点领域。这说明我国

- ①实施稳健的财政政策,维护国家经济安全  
②优化财政支出结构,强化资金统筹使用  
③推动财政资金下沉,防范地方债务风险



- ④加大民生保障力度,着力增进群众福祉
- A. ①③                      B. ①④                      C. ②③                      D. ②④
15. 2023年一季度,资本形成总额对经济增长贡献率为34.7%,拉动GDP增长1.6个百分点。投资较快增长为我国经济平稳运行提供了重要支撑,在稳增长、调结构、促转型等方面发挥了积极作用。投资拉动经济增长的路径有
- ①完善政府投资→解决发展中结构性矛盾→畅通国民经济循环→厚植发展沃土  
②鼓励民间投资→扩大资本支配范围→激发各类资本活力→改善经济发展预期  
③增加有效投资→创造有效供给→促进供需保持动态平衡→增强经济增长动力  
④降低制度性交易成本→优化投资结构→提高资本运行效率→实现资本有效配置
- A. ①③                      B. ①④                      C. ②③                      D. ②④
16. 某社区由社区党委领办,组建了水电、保洁、安保等20余人的专业工作团队;推行居民议事会、业主委员会、物业公司、共建单位、网格员“五方办”议事协商机制,先后解决了无监控无门禁治安隐患大、墙面小广告乱贴乱画等老大难问题。该社区治理的成功经验是
- ①扩大公民有序政治参与的范围                      ②创新基层组织履行社会职能方式  
③充分发挥基层协商民主的优势                      ④以党建引领基层社区精细化治理
- A. ①②                      B. ①④                      C. ②③                      D. ③④
17. 2023年国务院《政府工作报告》指出,五年来,本届政府提请全国人大常委会审议法律议案50件,制定修订行政法规180件次;依法接受同级人大及其常委会的监督,自觉接受人民政协的民主监督,主动接受社会和舆论的监督。可见政府
- ①坚持依法行政,推进法治政府建设                      ②强化行政内部监督,规范执法行为  
③坚持政务公开,打造智能高效政府                      ④做到有权不可任性,用权必受监督
- A. ①②                      B. ①④                      C. ②③                      D. ③④
18. 2015年,尼泊尔发生8.1级地震,中国派出国际救援队率先抵达尼泊尔;2016年,厄瓜多尔发生7.8级地震,中国第一时间提供紧急人道主义援助;2019年,“伊代”飓风席卷非洲东南部,中国向津巴布韦、莫桑比克、马拉维提供紧急人道主义物资援助;2023年2月,土耳其和叙利亚发生强烈地震,中国第一时间启动紧急人道主义援助机制……这说明
- ①我国在坚定地维护自身利益的同时兼顾他国的合理关切  
②中国发挥负责任大国的作用,为人类发展作出了巨大贡献  
③维护世界和平、促进共同发展是我国外交政策的基本立场  
④中国是人类命运共同体的倡导者、实践者、贡献者和先行者
- A. ①②                      B. ①③                      C. ②④                      D. ③④
19. 2023年3月,国家主席习近平在中国共产党与世界政党高层对话会上首次提出全球文明倡议,强调要共同倡导尊重世界文明多样性、共同倡导弘扬全人类共同价值、共同倡导重视文明传承和创新、共同倡导加强国际人文交流合作,引发国际社会积极反响。这是基于
- ①文化多样性是人类社会的基本特征,是人类文明进步的重要动力  
②全球文明倡议将有力推动文明交流互鉴,促进不同文明相互认同  
③不同文明包容共存、交流互鉴,能够推动人类社会现代化进程  
④世界政党高层对话日益成为世界各国文化交流和传播的主要途径
- A. ①②                      B. ①③                      C. ②④                      D. ③④



20. 文化自信对年轻人意味着什么? 文化的自信自强和传承, 是纽约时代广场上的一抹中国红, 是巴黎街头蓦然流淌的古筝声, 是四海同庆中国年, 是孩子们朗朗诵读的唐诗, 是墨笔下的一撇一捺, 是木雕里的历史人物, 是我们心心念念的家乡美食。这说明
- ①优秀文化积淀着一个国家最深层的情感和精神追求  
②文化自信是在肯定民族和国家文化的基础上产生的  
③文化自信来自我国多元文化中形成的广泛社会共识  
④文化自信的价值在于对优秀传统文化的继承和发展
- A. ①②                      B. ①③                      C. ②④                      D. ③④
21. 习近平总书记提出过一个著名的“地瓜理论”: 地瓜的藤蔓向四面八方延伸, 汲取更多的阳光、雨露和养分, 但它的块茎始终是在根基部, 藤蔓的延伸扩张最终为的是块茎能长得更加粗壮硕大。“地瓜理论”蕴含的哲理有
- ①正确改造世界要把握事物存在和发展的各种条件  
②重视部分的作用, 用局部的发展推动整体的发展  
③整体由部分构成, 整体的功能存在于各个部分之中  
④克服封闭观念, 实现系统中各个要素功能的最大化
- A. ①②                      B. ①③                      C. ②④                      D. ③④
22. 从右侧漫画中我们可以感悟到
- A. 只有对具体问题进行分析, 才能正确解决事物的矛盾  
B. 坚持两点论和重点论的有机统一, 用全面的观点看待问题  
C. 矛盾的主要方面决定事物的性质, 要善于把握事物的主流  
D. 分析事物变化的原因时要着重抓住让事物变化的内部矛盾
23. 人工智能让人类生活更加美好, 同时也带来一些问题。2023年3月底, 千余名科技界领袖呼吁暂停开发人工智能至少6个月, 以避免对社会和人类构成“深远风险”及产生“灾难性”的影响。对此, 联合国教科文组织号召各国立即执行《人工智能伦理问题建议书》。这给我们的哲学启示是
- ①应该把尊重客观规律控制在主观能动性范畴之中  
②真理标准和价值标准统一于人类的实践活动之中  
③量变是质变的前提, 做好工作必须重视量的积累  
④价值判断和价值选择必须遵循社会发展的客观规律
- A. ①②                      B. ①③                      C. ②④                      D. ③④
24. 夏商西周时期用人讲究“论亲不论贤, 论族不论能”, 春秋战国时期却出现了“从来天下士, 只在布衣中”的局面。这一变化反映了
- A. 中央集权的加强                      B. 社会转型的趋势  
C. 宗法观念的崩溃                      D. 世家大族的崛起
25. 《史记·天官书》是我国最早叙述星官的著作, 书中司马迁将星宿命为星官, 认为天人相通、相类, 天上的星辰有官职之分, 有尊卑之别; 他还将星空分为五官, 北极周边的星为中官, 中官是围绕北极星的帝王宫廷。由此可见, 西汉天文学
- A. 形成完整的科学体系                      B. 与农业生产密切相关  
C. 受到儒家思想的影响                      D. 已达到世界领先水平





- 26.《东京梦华录》记载,北宋开封东角楼街巷是一个图书交易场所,“以东街北曰潘楼酒店,其下每日自五更市合,买卖衣物书画,珍玩犀玉”。此外,潘楼东十字大街、相国寺东门大街也多有书籍与其他物品出售。这说明北宋
- A. 城乡经济联系较密切  
B. 草市经济已相当发达  
C. 政府放松对经济控制  
D. 城市的经济功能增强
- 27.嘉靖三十二年(1553年),兵部主事杨继盛批评内阁首辅严嵩,云:“高皇帝罢丞相,设立殿阁之臣,备顾问视制草而已,嵩乃俨然以丞相自居。凡府、部题覆,先面白而后草奏。百官请命,奔走直房如市。无丞相名,而有丞相权。”这反映出当时
- A. 集权统治加强  
B. 首辅权力失控  
C. 皇权受到威胁  
D. 内阁直领六部
- 28.1895年公车上书后,康有为声名大震,朝野名士争相结纳,帝师翁同龢为康有为的《上清帝书》所感,不惜折节,亲自上门拜访官仅六品的康有为。这一情形
- A. 促使变法运动获得了广泛支持  
B. 推动了晚清新旧势力的合流  
C. 扩大了君主立宪制的社会影响  
D. 凸显了救亡图存的时代主题
- 29.下表所示是20世纪初中国出现的影响较大的小说。由此可知,这些小说的创办旨在

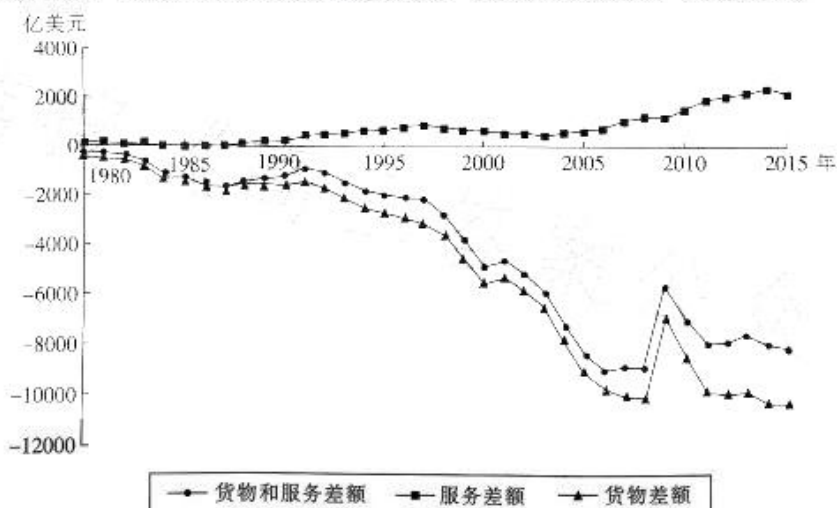
名称	创刊人或主要编撰者	创刊时间	发刊词
《新小说》	梁启超	1902年10月	发起国民政治思想,激励其爱国精神
《绣像小说》	李伯元	1903年5月	藉思开化夫下愚
《新新小说》	陈景韩	1904年9月	意在济润兼及,以一变旧社会腐败堕落之风俗习惯
《新世界小说社报》	孙廷庆	1906年7月	视为开通民智之津梁,涵养民德之要素
《月月小说》	吴趸人	1906年9月	庶几借小说之趣味之感情,为德育之一锄云尔
《小说林》	黄人	1907年1月	则其能鼓舞吾人之理性,感觉吾人之理性

- A. 推动文学革命发展  
B. 传承优秀传统文化  
C. 促进国人思想启蒙  
D. 丰富民众文化生活
- 30.20世纪三四十年代,毛泽东曾多次对干群关系进行比喻,如“种子与土地”(1935年)、“鱼与水”(1941年)、“公仆与主人”(1944年年底)。这一系列比喻有利于
- A. 开辟中国革命的新道路  
B. 发动群众参加抗日战争  
C. 建立广泛革命统一战线  
D. 提升边区民众生产热情
- 31.下表所示是我国第一至五个五年计划中国有经济固定资产投资的资金来源占比情况(%)。据此可知,我国五年计划的实施

时间	国家投资	国内贷款	利用外资	自筹及其他投资
“一五”时期(1953~1957年)	88.9	11.1	0	0
“二五”时期(1958~1962年)	73.2	26.8	0	0
“三五”时期(1966~1970年)	76.4	1.1	0	22.5
“四五”时期(1971~1975年)	66.7	1.0	0	32.3
“五五”时期(1976~1980年)	57.5	4.5	3.5	34.5

- A. 基本上照搬了苏联模式  
B. 增加了国家的财政负担  
C. 实现了社会主义工业化  
D. 体现了自力更生的精神

32. 苏格拉底认为,每个人自己就是中心,整个世界都只集中在他身上,因为他的自我认识就是对神的认识。而且,苏格拉底就是这样理解他自己的,在他看来,每个人都必须照着这样去理解他们自己。这说明苏格拉底
- A. 具有人文主义精神  
B. 主张人是万物的尺度  
C. 注重探索自然规律  
D. 坚持民主政治的规则
33. 新航路开辟后,西班牙通过殖民扩张获得了大量的黄金白银,但人们执着于投资卡斯蒂利亚的政府债券,而非投资商业。当政府债券给出百分之七的利率时,资金就流向它们;当利率下调到百分之五时,资金就会流到土地上。据此可知,这一现象
- A. 使西班牙成为世界中心  
B. 促进了西班牙资本主义发展  
C. 阻碍了西班牙社会转型  
D. 根源于世界市场的初步形成
34. 马克思指出:公社公开宣布“社会解放”是共和国的伟大目标。社会解放就是把资产阶级国家这个集中的、“组织起来的窃居社会主人地位”的政治机器,变为“充当社会公仆的政府权力”。这说明巴黎公社的伟大目标是
- A. 尝试建立无产阶级专政  
B. 改良资产阶级国家机器  
C. 提高人民群众生活水平  
D. 树立社会主义公仆意识
35. 下图所示为 1980~2015 年美国贸易差额走势。由此可推知,这一时期美国



- A. 对外贸易持续衰退  
B. 新科技革命蓬勃发展  
C. 产业转移趋势放缓  
D. 贸易保护政策的失灵

## 第 II 卷 (非选择题 共 160 分)

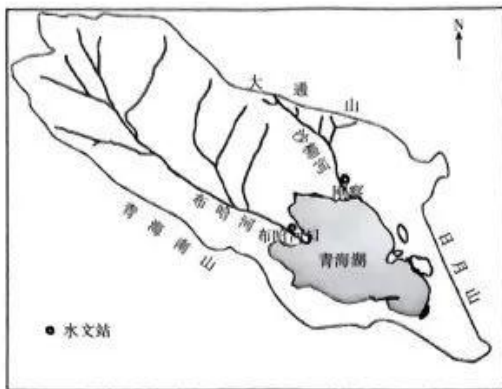
本卷包括必考题和选考题两部分。第 36 题~第 42 题为必考题,每个试题考生都必须作答。第 43 题~第 47 题为选考题,考生根据要求作答。

36. 阅读图文材料,完成下列要求。(24 分)

河川径流量的变化对流域生态系统的植被、水循环以及生态环境具有重要的影响。布哈河发源于青海省天峻县疏勒南山,流域最高山顶海拔 5174 m(海拔 4000 m 以上终年被冰雪覆盖,4000 m 以下多为草原)。沙柳河发源于刚察县境内第一高峰桑斯扎山南麓,源头为冰冻沼泽区。两河径流量占青海湖流域总径流量的 64%,年径流量 1956~2007 年没有显著的变化趋势,但月径流量具有显著的差异。研究表明,1956~2007 年全球气候变暖,高原气候增暖,但青海湖水位整体呈现下降趋势。下图示意青海湖流域布哈河和沙柳河水系分布。

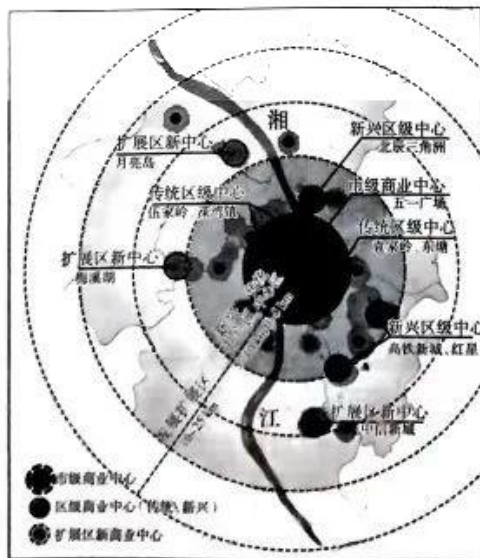
【高三文科综合 第 7 页(共 12 页)】





- (1) 对比分析布哈河与沙柳河水系特征的异同点。(6分)
  - (2) 布哈河最大月径流量大于沙柳河,最小月径流量小于沙柳河,试对此做出合理的解释。(6分)
  - (3) 从水量平衡角度,分析1956~2007年青海湖水位整体下降的主要自然原因。(8分)
  - (4) 推测气温上升对该流域植被、水生生物的影响。(4分)
37. 阅读图文材料,完成下列要求。(22分)

2000年以来,长沙经济加速发展,在全国26个省会城市中的地位稳步提升。随着社会经济的快速发展和产业结构的优化升级,城市逐渐由生产型向消费型转变,商业服务业逐渐成为城市经济增长的主要动力。商业空间规模增长对效益总量的提升具有一定的积极作用。商业单体空间规模与单位、总体市场效益都保持同等程度的增减发展态势,这说明空间规模与效益水平存在着明显的匹配现象,即两者呈耦合关系。研究表明,长沙市区级商业中心发展速度较为缓慢,且产业结构亟待调整,金融、科技与生物医药等产业较为薄弱。下图示意长沙市商业中心等级类型。来源:高三答案公众号



- (1) 从空间扩散的角度,简述长沙市商业中心的发展路径。(6分)
- (2) 分析扩展区新商业中心选址主要考虑的区位条件。(6分)
- (3) 研究表明,长沙市区级商业中心发展速度较为缓慢,试分析其原因。(6分)
- (4) 从产业结构的角度为长沙市新兴区经济发展提供合理性建议。(4分)





38. 阅读材料,完成下列要求。(14分)

2023年国务院《政府工作报告》指出,着力扩大国内需求,把恢复和扩大消费摆在优先位置。

当前,网络购物市场用户群体不断扩大,直播带货快速发展,在线视频的观看时长大增,付费会员数量增加。居民消费更加重视社交、娱乐、体验等方面,高品质、定制化、节能降费、安全智能的产品成为越来越多中国家庭的选项,各类“黑科技”“健康范儿”“小而美”的产品引领消费新潮流。

上海充分挖掘特色街区、文化地标等资源,启动“上海夜生活节”;海南集中举办高端论坛、文艺演出等系列活动;浙江出台扩大消费25条举措;吉林举办“全民消费季”等活动;商务部启动2023年“中华美食荟”活动,全年将推出70余场餐饮促消费活动;国家市场监督管理总局强化消费信用体系建设,完善消费争议多元化解机制、在线消费纠纷解决机制……2023年以来,我国消费市场回暖势头明显,前景看好。

结合材料,运用经济生活知识,分析我国消费市场回暖的驱动因素。

39. 阅读材料,完成下列要求。(12分)

某地响应中共中央号召,推动年轻干部下基层锻炼。年轻干部下基层后,与农户开展结对结亲,吃一锅饭,不提要求,不另开灶,按照标准缴纳伙食费;主动参与入住农户家庭劳作,帮助村民解决生产生活方面的困难和问题;围绕乡村振兴,深入田间地头、合作社、企业等开展调研,撰写调研报告,提出具有可行性的意见建议。年轻干部甲建议A村发展“荷花观赏+鱼苗生长+泥鳅养殖”立体农业,当年增加集体收入5000元;年轻干部乙发挥专长,拍摄并发布乡村视频,吸引游客纷纷前来“打卡”,催生研学旅游、农耕旅游等新业态……更多的年轻干部反思自己以往看问题的方式与解决问题的方法,有意识地将思考、实践得来的规律性认识融会贯通地运用到原有工作中去。

结合材料,运用政治生活知识,说明推动年轻干部下基层锻炼的意义。

40. 阅读材料,完成下列要求。(26分)

党的二十大报告将“丰富人民精神世界”作为中国式现代化的本质要求之一。

党的十八大以来,马克思主义理论研究和建设工程取得一系列重大成果,《法治面对面》《全面小康热点面对面》《新时代面对面》《新中国发展面对面》《中国制度面对面》等系列通俗理论读物,发行总量达数千万册;《马克思是对的》《脱贫攻坚在路上》《必由之路》《我们走在大路上》等专题片,在全国范围引发追片热潮和热烈反响;时代楷模、道德模范、最美人物、身边好人等一批又一批先进模范人物,如同闪耀的明灯,共同构筑起新时代的“道德灯塔”;劳动精神、奋斗精神、奉献精神、创造精神、勤俭节约精神深入人心……

加强考古工作和历史研究,让收藏在博物馆里的文物、陈列在广阔大地上的遗产、书写在古籍里的文字都活起来。中国大地上,地方戏曲、舞蹈曲艺演出,民间技艺、民俗艺术展示,书法、美术、摄影创作,以及“村晚”、花会、灯会、赛歌会、秧歌会、广场舞、舞龙舞狮等文化活动广泛开展。文化惠民工程加速推进,公共图书馆、博物馆、美术馆、文化馆站向社会免费开放。文化创意水平持续提升,文化产业投融资体系不断健全。我国文化建设取得的巨大成就为中国式现代化注入持久力量。

(1)结合材料,运用文化生活知识,说明我国是如何丰富人民的精神世界的。(10分)

(2)丰富人民的精神世界是推进中国式现代化的文化力量。结合材料,运用意识的能动作用的知识对此观点加以说明。(12分)

(3)文化工作者应如何为丰富人民的精神世界作贡献?请列出两条建议。(4分)

41. 阅读材料,完成下列要求。(25分)

材料一

日本的人口问题最早可追溯到江户时代后期的人口停滞。明治时代以后,随着产业革命的推进和东亚战争的爆发,天皇鼓励生育,人口增长速度加快。大正时代(1912~1926年),人口增长率达到最高值后增长速度开始放缓。20世纪30年代,日本发动对外侵略战争后,缓慢下降的人口出生率引起统治者的恐慌和担忧,如何迅速扩张人口成为施策的重心。总体说来,到20世纪60年代,日本人口转变已经大致完成从高出生率、高死亡率向高出生率、低死亡率的转变,此后开始向低出生率、低死亡率转变。

——摘编自郑亚楠《近代日本人口政策的历史考察》

材料二

新中国成立以来,我国人口经历了人口总量的快速增长和增长放缓阶段。1970年左右是构成中国人口变动的一个重要关节点,在这个节点之前,死亡率有着明显的下降,从20‰下降到了10‰以下,但是出生率的水平却维持在30‰~40‰的高位。这构成了我国人口转变的第一个阶段,即由于死亡率的下降所带来的人口转变。到了20世纪70年代之后,死亡率已经降到较低的水平,我国的人口变动表现为生育率的快速下降,它极大地改变了中国人口的基本国情,改变了中国人口的基本面貌。出生率很快从30‰下降到20世纪80年代的20‰。20世纪90年代时,生育水平已经下降到人口的更替水平以下,人口的总体生育率下降到低生育率的水平。

——摘编自任远《新中国人口发展的特点和历史经验》

- (1)根据材料一并结合所学知识,概括19世纪后期至20世纪初期日本人口快速增长的原因。(8分)
- (2)根据材料二并结合所学知识,分析新中国人口发展模式的转变及其影响。(9分)
- (3)根据材料一、二并结合所学知识,比较近现代日本与新中国人口发展的不同。(8分)

42. 阅读材料,完成下列要求。(12分)

材料

家训在中国形成已久,是中国传统文化的一部分。下表所示是中国古代家训发展的阶段和名篇举要。

时期	家训名篇	概要
先秦	《金人铭》《戒》《丹书戒》	假托黄帝而作,事无巨细反复叮咛,注重修身并将其与齐家、治国、平天下相联系
汉魏六朝	马援《诫兄子严、敦书》、班昭《女诫》、诸葛亮《诫子书》、王昶《家诫》	以儒家思想为核心,重视道德修养。但两汉与魏晋南北朝又有所区别。汉代讲“慎言”更多指向个人品德,魏晋南北朝则强调避祸;两汉“勉学”主张读经史之书,魏晋则强调佛道均需涉猎
唐代	颜之推《颜氏家训》、李商隐《家范》	以儒家思想为基础,将忠、孝相提并论,佛教思想体现在个别文人的家训中。《颜氏家训》的《归心》篇讲人应归心于佛教,体现了以儒学应世事,以佛教治身心的主张
宋元明清	朱熹《家礼》、司马光《家范》、张时举《女诫》、袁采《世范》	家训数量之多空前绝后,出现家法族规类的家训,专门针对女性的训诫超过了前代,尤其注重贞烈观和气节

——据朱明勋《中国传统家训研究》整理



根据材料并结合所学中国古代史相关知识,围绕“家训与传统文化”提炼论题并进行阐述。(要求:观点明确,阐述充分,语言简练,逻辑清晰。)(12分)

请考生从2道地理选考题、3道历史选考题中每科任选一题作答。如果多做,则每科按所做的第一题计分。来源:高三答案公众号

43. [地理——选修3:旅游地理](10分)

俄罗斯是我国居民选择出境旅游的重要国家之一。2014年中国成为俄罗斯入境游的最大客源国。据俄罗斯联邦旅游局统计数据,中国实际赴俄游客数从2014年的873792人增加到2018年的1690186人,年平均增长率为18.68%;而同期中国赴俄旅游网络关注度平均增长率为17.32%,两者非常接近。下表示意2014~2018年中国居民赴俄旅游网络关注度年度值、月度值及季节性集中指数。

月份	2014年	2015年	2016年	2017年	2018年
1月	146270	303345	365558	364918	445316
2月	184514	250218	362263	391664	353049
3月	178430	312491	387178	465869	429612
4月	193081	320730	406205	415587	429394
5月	255850	380837	472939	501212	495587
6月	331625	423341	508137	552676	592984
7月	372628	497323	579383	696492	565006
8月	337129	511152	536092	640110	556862
9月	333384	450463	479687	510790	505649
10月	270245	402502	457584	441044	444766
11月	216516	355635	394864	401563	410156
12月	306753	339904	434034	413047	439422
全国网络关注度	3126416	4547941	5383924	5794972	5667797
全国季节性集中指数	2.3196	1.6948	1.2339	1.7012	1.2083

概括2014~2018年中国居民赴俄旅游网络关注度的季节性分布特征,并说明6~9月成为中国居民赴俄旅游网络关注度高峰期的原因。

44. [地理——选修6:环境保护](10分)

矿山富含大量的矿产资源,这些矿产资源对中国各行业的发展都起到了支撑作用,但在开采过程中却极易造成环境破坏与污染,危害当地生态系统。下图示意某矿山地表环境破坏状况。



请列举矿山过度开采可能造成的环境污染,并提出其治理的可行性措施。

45. [历史——选修1:历史上重大改革回眸](15分)

材料

宋建立之初,县尉一般在文官人选中产生,文臣县尉遇到盗贼时多表现为怯懦,致使盗贼纵横,治安混乱。宋神宗意识到文臣县尉的缺陷,一改过去选拔县尉的制度,在重点地区



开始起用使臣县尉,使臣又分大使臣和小使臣,均属于武官。尤其是注重在靠近边防地区的诸县,设武臣县尉,如沧州清池,莫州任丘。宋初,县尉的主要职责是缉捕盗贼、解决斗讼问题。熙宁年间,实行“保甲法”后,县尉又增加了一项新职能,即教阅保甲。经过教阅后,保甲的素质得到提高,犯罪势头有所遏制。熙宁四年(1071年),县尉“旧请七贯、八贯、十贯,米麦两石者,并增至十二贯,米麦三石”。熙宁六年(1073年),神宗下诏:“改环州通远县尉为主簿,仍减弓手”,接着对开封、祥符两县县尉进行减员。熙宁年间的县尉制度改革对宋代社会产生了深远影响。

——摘编自王钟杰《宋代县尉研究》

(1)根据材料并结合所学知识,概括宋神宗县尉制度改革的主要措施。(6分)

(2)根据材料并结合所学知识,简析宋神宗县尉制度改革的意义。(9分)

46. [历史——选修3:20世纪的战争与和平](15分)

材料

1990年7月,“伦敦峰会在‘一个转型的北大西洋联盟’宣言中声称,北约尽管仍是一个集体防御联盟,但必须就正在变化的环境以进行调整”,北约转型之路由此启程。其转型方针大致锁定为四个方向:一是推进东扩,将前华约成员国纳入北约,提高北大西洋区域安全;二是在全世界构建新型伙伴关系,扩展北约的民主与自由价值观;三是有效应对各种非传统安全威胁以及危机与挑战;四是对北约政治—军事体制实施调整。2014年,乌克兰危机爆发后,北约在应对乌克兰危机中却显得力不从心。之后,威尔士峰会调整了北约转型方向,提出暂缓东扩;加快构建伙伴关系和深化现有伙伴关系层次;应对传统安全威胁,将俄罗斯列为头号威胁;资源共享与合作等新目标。在威尔士峰会的指导下,北约将稳步推动和深化其转型进程,但是峰会无法解决北约所有难题。

——摘编自许海云、王秋怡《从芝加哥峰会到威尔士峰会——冷战后的北约转型分析》

(1)根据材料并结合所学知识,指出20世纪90年代初北约开启转型的背景。(8分)

(2)根据材料并结合所学知识,简析20世纪90年代后北约转型的影响。(7分)

47. [历史——选修4:中外历史人物评说](15分)

材料

陈启沅(1834~1903年),广东南海人。他自幼勤奋好学,对于诸子百家、天文地理,均博学强记。陈启沅青少年时期,正值鸦片战争、太平天国运动等爆发时期,中国内忧外患,局势动荡。1854年,陈启沅被迫随兄陈启枢赴安南(今越南)谋生,从事杂货、纱绸生意,经过十多年经营,成为知名侨商。陈启沅在为扩展商务而“历游外国”的过程中接触到西欧的很多新鲜事物,对西洋的汽机之学、“缫丝之器”和“缫丝之法”反复考究,潜心研究西方蚕业技术,参考广东本地的栽桑养蚕经验,撰写了广东第一本蚕桑专著《广东蚕桑谱》。1872年,陈启沅回到南海,创办继昌隆缫丝厂。他从外国购进锅炉一座,其他设备则自行设计,该厂管理层设有司理(总经理)、司账(会计)一人和被称为“行江”的买卖手数人。在经商的同时,陈启沅积极参与家乡的慈善事业,开办克勤义学,修筑乡路和水利等。

——摘编自邢甲志《清末广东南海继昌隆缫丝厂创办人陈启沅》

(1)根据材料并结合所学知识,简述陈启沅的主要事迹。(8分)

(2)根据材料并结合所学知识,说明陈启沅取得成就的原因。(7分)



## 关于我们

自主选拔在线是致力于提供新高考生涯规划、强基计划、综合评价、三位一体、学科竞赛等政策资讯的升学服务平台。总部坐落于北京，旗下拥有网站（[网址: www.zizzs.com](http://www.zizzs.com)）和微信公众平台等媒体矩阵，用户群体涵盖全国90%以上的重点中学师生及家长，在全国新高考、自主选拔领域首屈一指。

如需第一时间获取相关资讯及备考指南，请关注**自主选拔在线**官方微信号：**zizzsw**。



 微信搜一搜

 自主选拔在线



自主选拔在线  
微信号: zizzsw



自主选拔在线  
微信号: zizzsw



自主选拔在线  
微信号: zizzsw