

准考证号 \_\_\_\_\_

绝密★启用前

## 2021 年普通高等学校全国统一招生考试 湘豫名校联考

### 文科综合能力测试

**注意事项：**

1. 本试卷分第 I 卷(选择题)和第 II 卷(非选择题)两部分,答卷前,考生务必将自己的姓名、准考证号填写在答题卡上。时间 150 分钟,满分 300 分。
2. 回答第 I 卷时,选出每小题答案后,用铅笔把答题卡上对应题目的答案标号涂黑。如需改动,用橡皮擦干净后,再选涂其他答案标号。写在本试卷上无效。
3. 回答第 II 卷时,将答案写在答题卡上。写在本试卷上无效。
4. 考试结束后,将本试卷和答题卡一并交回。

#### 第 I 卷(选择题 共 140 分)

本卷共 35 小题,每小题 4 分,共计 140 分。在每小题给出的四个选项中,只有一项是符合题目要求的。

疫苗用瓶是储存疫苗的特殊瓶具,其材质主要以硼硅玻璃为主,按含硼硅量分为低、中、高硼硅玻璃瓶,其中以中硼硅玻璃瓶储存疫苗为最佳。自 2020 年底中、美等国新冠疫苗研制成功并投放市场以来,中、美等疫苗生产国产能一直难以提高。图 1 示意世界三大中硼硅玻璃企业概况。据此完成 1~3 题。

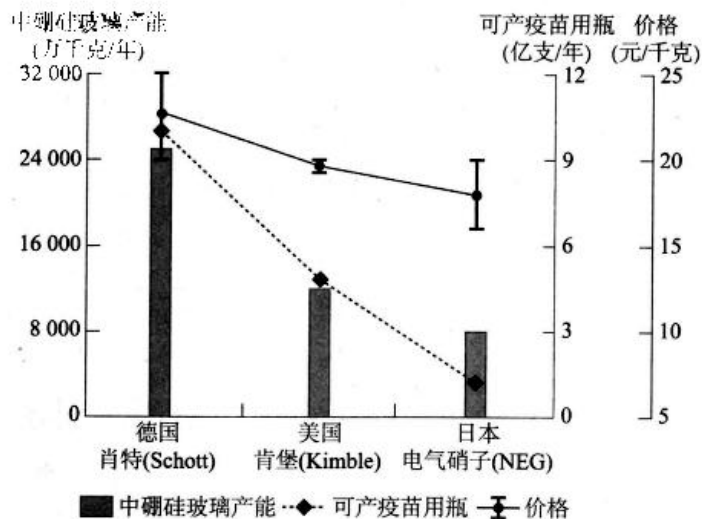


图 1

1. 与普通针剂瓶相比,硼硅玻璃瓶储存疫苗的优势在于
- A. 装苗快,效率高
  - B. 体积小,重量轻
  - C. 耐低温,密闭好
  - D. 产量高,价格低

2. 中硼硅玻璃瓶在三种硼硅玻璃瓶中储存疫苗最佳的原因可能是
- A. 储量适宜, 装剂简单  
B. 成本适宜, 收效较好  
C. 体积适宜, 运输方便  
D. 厚度适宜, 重量较轻

3. 推测新冠疫苗生产国产能难以提高的主要原因是
- A. 疫苗生产企业生产量较小  
B. 疫苗生产厂分装速度较慢  
C. 疫苗国际市场需求量较高  
D. 疫苗储装玻璃瓶产量较低

沿街商铺是指在街道两侧布局的、供消费者购物的商铺, 以零售为主。自 1950 年以来, 特别是到 2000 年前全国各大城市沿街服装、鞋帽、家电等传统店铺众多, 生意红火。近年来, 城市沿街两侧的传统店铺数量锐减, 纷纷转让、闭店, 有的已彻底消失, 而药店、水果店和各种餐饮店等新兴店铺急剧增多。图 2 为 2020 年后我国某城市某段街道商铺分布图。据此完成 4~6 题。

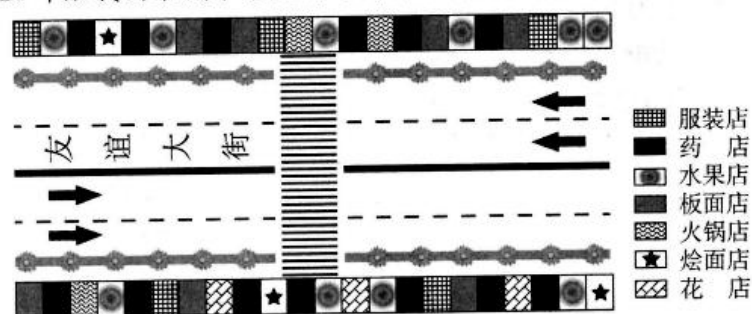


图 2

4. 2000 年前全国各大城市沿街传统商铺众多的主要原因是
- A. 交通通达度高  
B. 商品来源较广  
C. 临街空房较多  
D. 工业发展较快
5. 近年来, 城市沿街传统店铺锐减, 纷纷转让、闭店, 甚至消失, 主要是由于
- A. 货源短缺  
B. 街道拓宽  
C. 交通拥堵  
D. 电商崛起
6. 近年来城市沿街新兴店铺急剧增多的主要原因是
- A. 城市交通拥堵现象明显减少  
B. 这些产品应用时效性较强  
C. 老幼人口消费需求明显增多  
D. 商业投资经营成本降低

伊犁河谷地处新疆西部, 地势东高西低, 西部开阔, 冬季冷空气极易入侵。新疆杨是这里常见的树种, 冬季时树干常因表皮冻裂而造成冻害。据调查, 伊犁河谷当地域内街道林树干表皮冻裂长度明显小于域外的公路林。图 3 为伊犁河谷四地新疆杨平均冻裂长度分布图。据此完成 7~9 题。

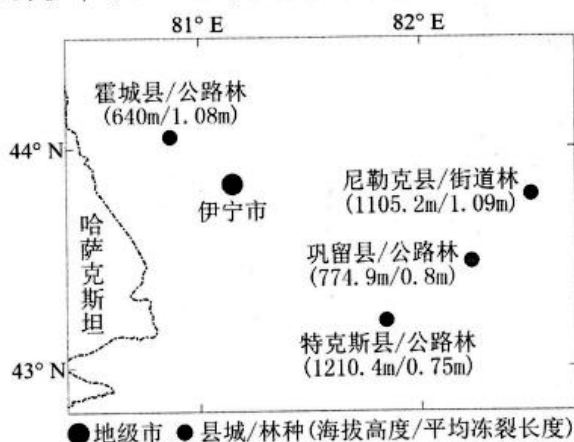


图 3





- 改革要发挥多种所有制共同发展的优势 ④国有企业是中国特色社会主义的重要物质基础  
A. ①② B. ②③ C. ①④ D. ③④
14. 有经济学家认为,未来中国金融的发展方向是服务经济结构转型、科技创新和经济大规模数字化转型,满足老龄化社会居民养老需求和日渐增长的居民财富的长期安全和增值需求。对于未来中国金融的发展方向,下列说法正确的是  
①金融机构能通过发行国库券筹集社会资本 ②金融机构要加大对科技创新企业资金支持  
③未来中国金融可实现居民财富的保值增值 ④未来中国金融应能更好满足人民美好生活需要  
A. ①② B. ①③ C. ②④ D. ③④
15. 特色农业是某地传统优势产业。当地一特色果蔬种植专业合作社充分利用扶持政策,精心组织开展社员技能培训,建立完善运行管理、利益分配等机制,把分散的农户组织起来发展、联合起来竞争,带动农民增收致富,助力乡村振兴。这一做法取得成功的原因在于  
①完善运行机制,促进资源优化配置 ②增加财政投入,提高农民收入水平 ③强化联合生产,推动产业转型升级 ④加强组织管理,形成市场竞争优势  
A. ①③ B. ①④ C. ②③ D. ②④
16. 秉持“有事好商量,大家的事大家商量”的原则,某行政村通过村级协商民主议事平台,就党群服务中心建设、土地整合、路灯安装、道路铺设等工作召开协商民主议事会议,增强了群众参与感和主人翁意识,打响了“有事好商量”协商议事品牌。“有事好商量”协商议事品牌的创立  
①解决了村民自治实行难的问题 ②是社会主义协商民主的新探索 ③保证了村民直接行使国家权力 ④创新了基层民主决策的途径  
A. ①② B. ③④ C. ①③ D. ②④
17. 2021年3月,国务院常务会议要求,压减准入类职业资格数量,推进社会化职业技能等级认定。支持新就业形态健康发展。推进灵活就业职业伤害保障试点,扩大工伤保险覆盖面,维护灵活就业人员合法权益。国务院出台这些新举措是为了  
①改善就业环境,促进居民就业 ②履行经济职能,提高居民收入 ③转变政府职能,优化民生服务 ④推进公正监管,规范就业行为  
A. ①③ B. ②③ C. ①④ D. ②④
18. 近年,各援疆省份认真贯彻落实第三次中央新疆工作座谈会精神,积极加强同新疆协调配合,在政策、项目、资金、人才支援等方面持续发力,用心用情做好对口援疆工作,努力提升对口援疆综合效益。各援疆省份积极做好对口援疆工作意在  
①建立起各民族间的平等互助关系 ②保障民族自治地方行使自治权力 ③促进各民族走上共同繁荣的道路 ④不断铸牢中华民族共同体意识  
A. ①② B. ①③ C. ②④ D. ③④
19. 广东东莞的明伦堂是明清时期当地聚集生员的讲经之所。为了充分发挥博物馆的教育功能,提升群众的文物鉴赏能力和历史认知能力,2021年,东莞致力于以“新时代明伦堂”为名举办文博主题系列讲座,着力打造一个“叫得响、立得起”的文化品牌。这表明  
①教育在人的教化和培育上扮演重要角色 ②文化与经济能够相互影响、融合发展 ③人们在实践中创造文化,也能享用文化 ④提高群众文化素质是文化创新的根本目的  
A. ①③ B. ①④ C. ②③ D. ②④



20. “有困难找志愿者,有时间做志愿者。”这句宣传语中蕴含的文化生活道理是

- ①奉献友爱互助进步是志愿者应具备的精神 ②志愿者应具有解决实际困难的能力和水平  
③甘做志愿者是一个人具有爱心善心的体现 ④做志愿者弘扬了中华民族重信守诺的美德  
A. ①② B. ①③ C. ②④ D. ③④

21. 图 5 华君武的漫画给我们的哲学启示是

- A. 意识对世界的反映是主动的  
B. 认识活动总落后于实践需要  
C. 要在实践中认识和把握世界  
D. 主观与客观的统一是具体的



图 5

22. 习近平指出:“只有自信的国家 and 民族,才能在通往未来的道路上行稳致远。树高叶茂,系于根深。自力更生是中华民族自立于世界民族之林的奋斗基点,自主创新是我们攀登世界科技高峰的必由之路。”这一论述蕴含的哲理是

- ①解决问题要着重抓住事物发展的内部矛盾 ②量变必然引起质变 ③辩证的否定是发展的根本途径 ④创新是自我批判和发展的前提  
A. ①③ B. ②④ C. ②③ D. ①④

23. 2020 年 12 月,国务院公布《关于修改和废止部分行政法规的决定》,对与外商投资法不符的行政法规进行了清理,决定对 22 部行政法规的部分条款予以修改,废止 1 部行政法规。国务院适时修改和废止部分行政法规的哲学依据是

- ①调整生产关系以适应生产力发展要求 ②调整上层建筑以适应经济基础发展要求 ③社会意识随着社会存在的发展而变化发展 ④社会意识对社会存在的发展具有促进作用  
A. ①③ B. ①④ C. ②③ D. ③④

24. 里耶秦简是发现于湖南湘西的一批秦洞庭郡迁陵县的官方档案,包括户口、土地、田租赋税、劳役徭役、仓储钱粮等相关政令和文书。据史书记载,秦始皇统一六国后设置 36 郡,其中却并无洞庭郡。史书记载秦朝“书同文”,以小篆为官方文字,但里耶秦简的大部分文字却属于秦隶。这说明

- A. 隶书才是秦代官方主流文字 B. 史书记载必须与考古发现相印证  
C. 考古发现比各类史书价值大 D. 考古发现是历史研究的重要参考

25. 曹操统一北方的过程中,颁布法令“其收田租亩四升,户出绢二匹、绵二斤而已”,地方官“不得擅兴发。郡国守相明检察之,无令强民有所隐藏,而弱民兼赋也”。这些措施

- A. 不利于中央集权的加强 B. 造成大土地所有制  
C. 有利于社会矛盾的缓和 D. 促进了人口的增长

26. 钱锺书云:“唐诗多以丰神情韵擅长,宋诗多以筋骨思理见胜。”相比唐诗多以自然意象来寄寓诗人情感,宋诗更多地省思主体的内在,往往在写景抒情中表达对人生的思考和理解。这反映了

- A. 宋代诗词理论比唐代进步 B. 社会思想对诗歌的影响  
C. 抒情诗逐渐让位于说理诗 D. 经济发展影响诗词创作

27. 清代开放海禁后,白银大量流入及铜钱供给的相应增加,导致物价缓慢上涨。清人汪辉祖记载乾隆五十九年浙江物价:“夏间米一斗钱三百三四十文。往时米价至(一斗)一百五六十文即有饿殍,今米常贵,而人尚乐生。盖往时专贵在于米,今则鱼、虾、蔬、果,无一不贵,故小贩、村农俱可以

糊口。”这表明当时

- A. 政府开放海禁有益民生  
B. 农民实际负担不断加重  
C. 海外贸易妨碍农民生活  
D. 政府减轻对百姓的剥削

28. 中国近代民族工业在 19 世纪末 20 世纪初迎来初步发展。以上海为中心的棉纺织厂的兴办,刺激了附近地区的棉花生产并推动了农民家庭手工棉纺织业的衍变和发展。农民家庭纺织业对机纱的需求又增加了近代棉纺织业的生命力。这反映了

- A. 民族资本主义迎来短暂春天  
B. 工业进步与农业发展关系密切  
C. 中国卷入资本主义世界市场  
D. 列强侵略阻碍中国经济的发展

29. 下表是清末新政时期教育变革的相关史实,据此可知

1901 年	清政府批准分科递减科举中额,用学堂逐渐取代科举。
1902 年	管学大臣张百熙制定《钦定学堂章程》,又称“壬寅学制”。
1904 年	清政府批准张之洞、张百熙等上奏的《奏定学堂章程》,确立“癸卯学制”。 清廷颁布《各学堂奖励章程》。
1905 年	清政府停罢科举。
1909 年	全国有学堂 58 896 所,学生 1 626 720 人。

- A. 近代教育体系日趋完备  
B. 清末新政取得显著成效  
C. 改革侧重考试形式变化  
D. 清末教育体制平稳转型

30. 20 世纪 60 年代初,中国开始从西方国家引进一些化纤、化工、石油、冶金、矿山、电子和精密机械等方面的设备和技术,从 1960 年到 1966 年,共计用外汇 2.8 亿美元。这一现象表明当时我国

- A. 工业化建设已开始  
B. 已经冲破美国的外交孤立  
C. 外交政策发生转变  
D. 奉行独立自主的外交政策

31. 1984 年 11 月,邓小平在一次谈话中指出:“一个对外开放,一个对内搞活。改革就是搞活,对内搞活就是对内开放。”对内搞活经济,是指通过经济体制改革,解放旧体制束缚下的生产力。由此可知,这一时期我国经济体制改革

- A. 目标是社会主义市场经济体制  
B. 建立了社会主义商品市场体系  
C. 以家庭联产承包责任制为中心  
D. 核心内容是不断增强经济活力

32. 某一时期,雅典公民的名字发生了变化。一个人的名字中必须包括其户籍所在德谟区名、父名和本人的名字,名字中不再出现代表出身阶层的家族名称。与此史实相关的是,雅典

- A. 直接民主政治达到顶峰  
B. 民主政治已经确立  
C. 公民参政议政十分活跃  
D. 注重公民当家做主

33. 17 世纪著名教育家夸美纽斯认为,人是造物主造出的最完美的生物,所有年轻人,无论男女,不分尊卑贫富,都应该进学校接受教育。夸美纽斯的教育主张

- A. 摆脱了宗教观念的束缚  
B. 反映了教育理念的成熟  
C. 体现了人文精神的影响  
D. 推动了启蒙运动的高潮

34. 斯大林在 1926 年 4 月 13 日发表的《关于苏联经济状况和党的政策》一文中指出:“工业化的中心,工业化的基础,就是发展重工业(燃料、金属等)……如果自己国内不能出产生产工具和生产资料……就不可能保持经济上的独立。停留在这个阶段就等于让自己隶属于世界资本。”这一论



断反映了

- A. 苏联的现实需求  
B. 新经济政策理念  
C. 冷战思维的影响  
D. 多数群众的意愿
35. 某一艺术流派不再追求视觉的真实和“逼真”地再现社会现实,将受情感启发的灵感转变为创造过程,将内在的荒诞和怪异添加到外部的客观世界中,对熟悉的事物进行扭曲和转化,从而使幻想具有真实性。这一艺术流派是
- A. 新古典主义      B. 浪漫主义      C. 现实主义      D. 现代主义

## 第Ⅱ卷(非选择题 共160分)

本卷包括必考题和选考题两部分,第36~42题为必考题,每个试题考生都必须作答。第43~47题为选考题,考生根据要求作答。

### (一)必考题

36. 阅读图文材料,完成下列要求。(22分)

我国自古以来就是一个农业大国,拥有着成熟的种植技术,虽然现在种植技术很发达,可以大棚种养或者营养液无土种植,但这些都是需要一定的技术支持。大部分的农民仍然采用土地种植,而且越肥沃的土地瓜果蔬菜长势也越好。自2019年底爆发新冠疫情以来,我国北方农村地区一些农民在自家院落里的砖地地缝里种植了茄子、西红柿、萝卜、油菜、白菜等蔬菜,并发现在自家院子砖缝里种植的蔬菜比在村外菜地里种植的蔬菜长得更好,病虫害也少,而且产量高。因此很多农民就利用自己家里院子的砖地,在砖缝里种植蔬菜。图6为我国北方农村地区某家庭院落砖缝种植蔬菜图。



图6

(1)说明农村院落砖缝能够种植蔬菜的主要原因。(6分)

(2)疫情期间农村利用院落砖缝种植蔬菜的家庭越来越多,请作出合理解释。(6分)

(3)分析农村院落砖缝种植的蔬菜清洁质优的主要原因。(6分)

(4)简述在广大农村地区推广院落砖缝种植蔬菜产生的效益。(4分)

37. 阅读图文材料,完成下列要求。(24分)

帝汶岛位于东南亚的东南部帝汶海西北部,呈西南—东北向,面积约3.1万平方千米。帝汶岛分属印度尼西亚和东帝汶两国,岛上总人口较少,是世界上最贫困的地区之一,南隔帝汶海与澳大利亚相望。岛上高山连绵,有众多的活火山,海岸陡峭,沿海平原十分狭小。最高点法塔迈洛海拔2960米,岸外有珊瑚礁。图7为帝汶岛等高线地形图。

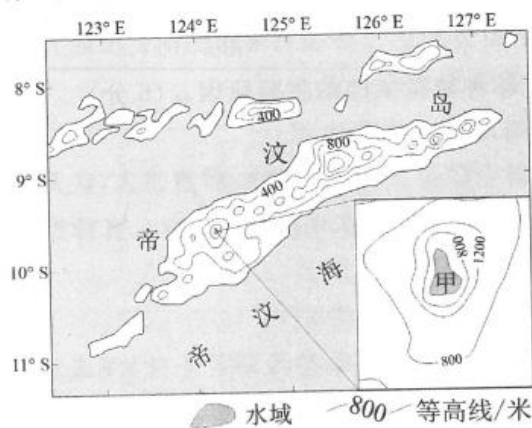


图7

文科综合试题 第8页(共16页)



(1)推测帝汶岛上最典型的地貌类型及其成因。(6分)

(2)简述帝汶岛上甲湖泊形成的主要过程。(6分)

(3)帝汶海常年海流随季节交替而改变,请做出合理解释。(6分)

(4)对帝汶岛的考察结果显示,该岛自然环境保护良好,请说明其理由。(6分)

38. 阅读材料,完成下列要求。(14分)

“流片”服务指的是芯片的“试生产”,来测试芯片设计的精准度。只有通过测试,芯片才能进行大规模生产。在过去,这项服务一直是困扰我国光芯片企业的“卡脖子”难题。C市联合微电子中心有限责任公司积极推进以大数据、智能化为引领的创新驱动发展,推动产业迈向价值链中高端,经过研发团队的刻苦攻关,微电子中心在取得硅基光电子核心技术重大突破的基础上,于2020年率先向全球隆重发布“180nm 成套硅光工艺 PDK(制程设计工具)”,正式宣布向全球提供

文科综合试题 第9页(共16页)

硅光芯片“流片”服务,用以测试芯片设计的精准度。

芯片试生产将图纸变为现实,连接起芯片制造上下游,盘活了整个产业。微电子中心从开始向企业提供硅光芯片“流片”服务以来,生产交货周期已缩短为4个月,交货时间只有境外厂商的一半。目前,微电子中心已与国内外50多家企业签约“流片”服务,带动了全市微电子信息产业向高端发展。

结合材料,运用经济生活知识,说明提供硅光芯片“流片”服务对我国经济发展的积极作用。

39. 阅读材料,完成下列要求。(12分)

2020年10月29日,党的十九届五中全会审议通过《中共中央关于制定国民经济和社会发展第十四个五年规划和二〇三五年远景目标的建议》。规划建议起草期间,习近平总书记多次深入地方考察、调研、听民意,并亲自主持召开了7场专题座谈会,听取企业家、党外人士、经济社会领域专家、科学家、教育文化卫生体育领域专家、地方党政领导、基层代表等各领域各阶层人士意见建议。

党的十九届五中全会后,国务院“十四五”规划《纲要草案》编制工作领导小组深入学习贯彻全会精神,根据规划建议编制规划纲要草案,实化量化“十四五”时期经济社会发展主要目标和重大任务。2021年2月26日,习近平总书记主持召开中央政治局会议,讨论国务院拟提请十三届全国人大四次会议审查的规划纲要草案。

2021年3月5日,十三届全国人大四次会议开幕,根据这份建议编制的厚达142页的“十四五”规划和2035年远景目标纲要草案呈现在代表们面前,提请大会审查。3月11日,十三届全国人大四次会议表决通过了关于国民经济和社会发展第十四个五年规划和2035年远景目标纲要的决议。

结合材料,运用政治生活知识,说明“十四五”规划在编制过程中是如何坚持和加强党的全面领导的。





40. 阅读材料,完成下列要求。(26分)

2021年1月25日,国家主席习近平在北京以视频方式出席世界经济论坛“达沃斯议程”对话会,并发表题为《让多边主义的火炬照亮人类前行之路》的特别致辞。以下是部分致辞内容。

材料一 世界上没有两片完全相同的树叶,也没有完全相同的历史文化和社会制度。各国历史文化和制度各有千秋,没有高低优劣之分,关键在于是否符合本国国情,能否获得人民拥护和支持,能否带来政治稳定、社会进步、民生改善,能否为人类进步事业作出贡献。各国历史文化和制度差异自古就存在,是人类文明的内在属性。没有多样性,就没有人类文明。多样性是客观现实,将长期存在。差异并不可怕,可怕的是傲慢、偏见、仇视,可怕的是想把人类文明分为三六九等,可怕的是把自己的历史文化和制度强加给他人。各国应该在相互尊重、求同存异的基础上实现和平共处,促进各国交流互鉴,为人类文明发展进步注入动力。

材料二 解决好这个时代面临的课题,出路是维护和践行多边主义,推动构建人类命运共同体。我们要坚持开放包容,不搞封闭排他……21世纪的多边主义要守正出新、面向未来,既要坚持多边主义的核心价值和基本原则,也要立足世界格局变化,着眼应对全球性挑战需要……要坚持开放包容,坚持以国际法为基础,坚持协商合作,坚持与时俱进。中国将继续积极参与国际抗疫合作,实施互利共赢的开放战略、促进可持续发展、推进科技创新、推动构建新型国际关系,向着构建人类命运共同体不断迈进!

(1)结合材料一,运用文化多样性的相关知识,说明“没有多样性,就没有人类文明”的原因。(12分)

(2)结合材料二,运用客观规律与主观能动性的关系原理,分析说明应如何维护和践行多边主义。(10分)



- (3)维护和践行多边主义,在当前背景下,强调包容具有重要意义。请你列举两个与包容精神相关的名言、俗语。(4分)

41. 阅读材料,完成下列要求。(25分)

**材料一** 明代印刷书籍题材广泛,不仅包括传统的经、史、子、集和佛道等经典,并且还扩展到小说、音乐、工艺技巧、航海日记、造船以及西方的科学论著。雕版印刷业成就斐然,蓝印、套印、彩印开始流行,版画雕印精美。全国形成一个生产、销售图书的工商行业,“比屋皆鬻书籍,天下商贩者如织”。清代前半期,官府对学术积极奖掖,政府征召著名学者官吏编书修史,推动了印刷业的发展。特别是明清之际《永乐大典》《古今图书集成》《四库全书》等大型类书的编纂,大大丰富了印刷出版的内容。在质量方面,以清代前期内府本和私家精刻本为最好,有些坊刻本也属上乘,不仅注重校勘,而且刻写、纸墨、装帧等都很考究。

——据白寿彝总主编《中国通史》等

**材料二** 改革开放初期,我国印刷业极度落后。1983年,中共中央、国务院在《关于加强出版工作的决定》中明确指出:要有计划地对印刷工业进行技术改造和体制改革,把书刊印刷的技术装备和器材纳入国家计划生产供应渠道。随后,印刷技术装备被列入国家重点技术改造专项,有关部门先后投入资金近30亿元,安排技术改造项目261个。在国家的大力支持下,由王选院士牵头研发的计算机汉字信息处理和激光照排技术取得重大突破,大大加快了我国印刷业告别“铅与火”,迎来“光与电”的进程。2016年,我国共有印刷企业101420家,从业人员309.1万人,实现印刷总产值11544.7亿元,利润总额675.3亿元,对外加工贸易额874.3亿元,我国印刷业的产业总量已经超越德国、日本,连续多年仅次于美国,位居世界第二。

——摘编自范军《中国新闻出版业改革开放40年》

- (1)根据材料一并结合所学知识,指出明清时期印刷业的特点,并概括明清时期促进印刷业发展的因素。(12分)



- (2)根据材料二并结合所学知识,说明改革开放以来印刷业发展的意义,并分析成就取得的原因。  
(13分)

42. 阅读材料,完成下列要求。(12分)

**材料** 马克思在《共产党宣言》中阐明了生产力发展与社会转型的关系:“一句话,封建的所有制关系,就不再适应已经发展的生产力了。这种关系已经在阻碍生产而不是促进生产了。它变成了束缚生产的桎梏。它必须被炸毁,它已经被炸毁了。取而代之的是自由竞争以及与自由竞争相适应的社会制度和政治制度、资产阶级的经济统治和政治统治。”

根据材料并结合所学知识,围绕“生产力发展和社会转型”拟定一个论题,并展开论述。(要求:自拟论题,论证充分,史实准确,表述清晰。)

(二)选考题(请考生从2道地理选考题、3道历史选考题中每科任选一题作答。如果多做,则每学科按所做的第一题计分。)

43. [地理——选修3:旅游地理]阅读材料,回答下题。(10分)

山地旅游是一种沿山路观赏奇峰险岭、欣赏山泉瀑布、拍摄花鸟虫兽、满足探奇欲望的旅游活动,是年轻人最喜爱的一种旅游方式之一。但对于我国许多地区来说,低温、雨雪、多雾、大风等天气下不适合开展山地旅游,尤其是我国北方地区的冬季更不适宜开展山地旅游。图8为我国北方地区某山地旅游图。



图8

说明我国北方地区冬季不适宜开展山地旅游的主要原因。

44. [地理——选修6:环境保护]阅读图文材料,回答下题。(10分)

挖槽(坑)废土是指城市建设项目(包括居住小区建设、桥梁建设、人工河湖建设等)在挖掘地槽(坑)回填后剩余的尚未处理和再利用而产生的废土。这些废土多堆积在原建筑场所附近,不仅会危害城市居民的生活环境,也会造成土地资源的浪费,因此,当前城市挖槽(坑)废土再利用已成为刻不容缓的问题。图9为某小区建设前挖槽(坑)及废土堆图。



图9

说明当前城市挖槽(坑)废土再利用的主要目的及途径。

45. [历史——选修1:历史上重大改革回眸](15分)

材料 宪法是一个国家的根本法,是公民权利的保障书,是治国安邦的总章程。1980年下半年,在全国人大常委会叶剑英委员长直接主持下,我国开始对宪法进行大规模、全局性的修订。经过两年多的讨论、修改,1982年12月,中华人民共和国第四部宪法(“八二宪法”)在第五届全国人大第五次会议上正式通过并颁布。第四部宪法继承和发展了1954年宪法的基本原则,总结了中

文科综合试题 第14页(共16页)



国社会主义发展的经验,并吸收了国际经验,是一部有中国特色、适应中国社会主义现代化建设需要的根本大法。为了适应中国社会和经济的发展变化,全国人大对这部宪法逐步进行了修改、完善,使这部宪法更好地发挥根本大法的作用,对中国社会的发展产生了深远影响。

——摘编自《中国共产党党史知识 800 问》

(1)根据材料并结合所学知识,概括“八二宪法”制定的背景和特点。(11分)

(2)根据材料并结合所学知识,简述“八二宪法”颁布的意义。(4分)

46. [历史——选修 3:20 世纪的战争与和平](15 分)

**材料** 远东战役是第二次世界大战期间,苏联为履行在雅尔塔会议上的承诺,于 1945 年 8—9 月间对法西斯日本进行的一次战略性进攻战役。协同苏军作战的有中国共产党领导的东北抗日联军和外蒙古(今蒙古国)军队。作战地区主要在中国东北境内,同时在朝鲜北部、萨哈林岛(库页岛)南部和千岛群岛也采取了军事行动。远东战役的战场辽阔,地形复杂。为实现大纵深和快速度的进攻,苏军以压倒优势的兵力对日本关东军发动了突然袭击,实施重点突破,东西夹击,并在第一梯队集中大量坦克和机械化兵团迅猛推进,在短短的 10 多天里歼灭了号称百万大军的日本关东军,从而迫使日本最终接受无条件投降。战争结束后,苏联将东北境内的工业企业直接作为其“战利品”。

——据彭训厚《解读第二次世界大战》

(1)根据材料并结合所学知识,概括远东战役爆发的背景。(6分)

(2)根据材料并结合所学知识,简析远东战役。(9分)

47. [历史——选修4:中外历史人物评说](15分)

**材料** 蒋百里(1882—1938年),近代中国著名军事理论家。1901年蒋百里留学日本,1902年编译第一本书《军国民之教育》,首次提出在中国建立国防军的主张。后进入东京陆军士官学校,毕业时名列前茅。1912年蒋百里投身军队建设,出掌保定陆军军官学校,注重培育重然诺轻生死的军人精神,强调军人要为国家尽职尽责。九一八事变后,尤其自华北形势危急以来,蒋百里以其对日本之深入了解,全力分析国内外形势,著《国防论》一书,扉页题词是:“万语千言,只是告诉大家一句话,中国是有办法的!”提出“避免过早的决战,逐步积聚力量,疲惫敌人”“彼利急,我利缓;彼利合,我利分;彼以攻,我以守”的军事总战略。所著《日本人——一个外国人的研究》以“胜也罢,败也罢,就是不要同他讲和”结尾。蒋百里在1938年前后发表近百次公开演说,为全国各界分析时势,揭露日寇之外强中干。

——摘编自谭徐锋《蒋百里全集》等

(1)根据材料并结合所学知识,概括蒋百里的主要贡献。(9分)

(2)根据材料并结合所学知识,指出蒋百里身上体现的优秀品质。(6分)



# 2021年普通高等学校全国统一招生考试 湘豫名校联考

## 地 理

1. C 【解析】通常,疫苗需要低温密闭保存,甚至超低温保存,否则就会迅速失去效果。普通针剂瓶多为普通玻璃烧制而成,具有不耐低温、易破碎、产量高、价格低、存储疫苗时间短等特点,而硼硅玻璃瓶具有清洁卫生、耐低温、抗磨损、气密性好、不产生化学反应、存储疫苗时间长等特点,适宜于储存、运输生物疫苗,但产量低,价格高,故选项 C 正确。
2. B 【解析】硼硅玻璃瓶的性能主要受硼硅化学成分含量的影响,含量越高,其性能越高,价格越高。在三类硼硅玻璃瓶中,中硼硅玻璃瓶具有清洁卫生、耐低温、抗磨损、气密性好、不产生化学反应、成本价格适中等特点,因此,装疫苗使用效果最佳,而高硼硅玻璃瓶,要求技术更高,产量更低,价格更高;低硼硅玻璃瓶要求技术较低,虽产量高和价格低,但性能差,不适于储存疫苗,故选项 B 正确。
3. D 【解析】根据新闻报道可知,目前部分新冠疫苗已研制成功并投放国际市场,说明疫苗针剂可以大量生产。读图并结合世界人口数量可知,目前世界人口约 75 亿人,而装疫苗用的中硼硅玻璃瓶产量每年只有大约 20 亿支,新冠疫苗接种一般每人接种两剂,即中硼硅玻璃瓶只能每年满足约 10 亿人口,因此,目前疫苗储装的中硼硅玻璃瓶产能较低,导致新冠疫苗生产国的产能难以提高,故选项 D 正确。
4. A 【解析】通常,城市沿街店铺地理位置优越,交通通达度高,来往车辆较多,客流量大,消费者较多,所以,沿街传统店铺盈利较高,收益大,经济效益高,故选项 A 正确。
5. D 【解析】近年来,随着网络技术的飞速发展和城市化的加快,电商行业迅速崛起,与实体店相比,网络店铺投资成本低廉,经济效益较高,竞争优势显著,导致选择网上购物的人数急剧增多,因此,电商崛起直接影响到城市沿街店铺服装、鞋帽和家电等传统店铺的经营与发展,故选项 D 正确。
6. B 【解析】随着生活水平的提高,药品、水果和餐饮产品成为居民的及时消费品,时效性很强,虽然这些物品在网上也可以购买到,但其送达时间、直观性、质量等方面明显不同于实体店,故选项 B 正确。
7. D 【解析】据材料可知该地西低东高,且受冬季风影响大,霍城县处在西部地势较低的位置,受冬季风影响大,故选项 D 正确。
8. B 【解析】受城市热岛效应的影响,城市昼夜温差小,城外昼夜温差大。尼勒克县街道林位于城内道路两侧,城内昼夜温差小,热胀冷缩变化小,城外昼夜温差大,热胀冷缩变化大,从而导致城内街道林的树干表皮平均冻裂长度明显小于城外公路林,故选项 B 正确。
9. C 【解析】通常,一天中树干表面西南侧白天温度最高,树木热胀冷缩变化最大。我国西北地区严冬季节昼夜温差较大,当地新疆杨树干西南侧外层树皮和内部木质部收缩快慢不一致,导致西南侧的外层产生严重的纵向破裂。此外,春季时随温度的升高,树木开始生长,内部木质部增粗,迫使西南侧的树皮裂口加宽、长度进一步延伸,故选项 C 正确。
10. C 【解析】根据材料可知,发生“日凌”现象的时间多在“春分”“秋分”前后,说明通信卫星和太阳应位于赤道地区上空,故选项 C 正确。
11. D 【解析】根据材料中“每年春分和秋分前后,如果太阳、通信卫星和地球卫星地面站接收天线恰巧在一条直线上”信息可知,由于通信卫星与太阳、地球处在一条直线上,说明通信卫星“日凌”现象应发生在昼半球的正午前后,故选项 D 正确。

地理参考答案—1



36. (1)现在农村院落空旷,多无大树遮挡,光照较好;砖地下土壤久未利用,土壤肥沃;砖地吸热效果好,土壤热量充足;砖地不仅吸水保水性强,还可阻挡水分蒸发,土壤墒情好。(每点2分,任答3点得6分)
- (2)疫情期间外出打工人数量减少(或人们留居家庭增多),家庭蔬菜需求量增多;自家院落种植蔬菜,可以减少家庭支出;院落小、砖缝杂草少,省工省力省成本;院落砖缝种植蔬菜,能及时方便管理;疫情期间自产自销,减少外出交叉感染概率。(每点2分,任答3点得6分)
- (3)院落土地闲置时间长,土质好土壤肥沃;(2分)雨水和自来水浇灌,不使用化肥农药,产出蔬菜无污染;(2分)自家鸡鸭家禽可以消灭害虫,蔬菜绿色清洁。(2分)
- (4)利用院落砖缝种植蔬菜,可以提高土地资源利用率;可以减轻家庭经济负担;可以改善家庭院落生态环境;可以适当增加农村留守人员如妇女、老人就业机会。(每点2分,任答2点得4分)

**【解析】**第(1)问,农村院落砖缝能够种植蔬菜的主要原因可从光照、土壤、热量及水分等方面说明。第(2)问,疫情期间农村利用院落砖缝种植蔬菜的家庭越来越多的合理性可从疫情期间家庭蔬菜需求变化、家庭支出、种植成本、种植管理、减少疫情感染等方面解释。第(3)问,农村院落砖缝种植的蔬菜清洁质优的主要原因可从土质条件、化肥农药使用量、害虫较少等角度分析。第(4)问,在广大农村地区推广院落砖缝种植蔬菜产生的效益可从提高土地资源利用率、减轻家庭经济负担、改善院落环境、增加留守人员就业机会等方面说明。

37. (1)火山地貌。(2分)成因:地处印度洋板块、太平洋板块与欧亚板块的交界处,地下岩浆活跃,喷发频繁;(2分)火山不断喷发,冷凝后形成锥状的火山地貌。(2分)
- (2)地下岩浆活动导致火山喷发形成火山地貌;(2分)火山喷发停止后火山口塌陷形成封闭的火山口盆地;(2分)雨季时火山口盆地积水形成火口湖。(2分)
- (3)帝汶海地处(夏半年的)东南季风与(冬半年的)西北季风交替控制地带;(2分)东南季风盛行时,海流流向西(西南)方;(2分)西北季风盛行时,海流流向东(东南)方。(2分)
- (4)全年高温,降水丰富,高温湿热,自然条件恶劣,原生态保存良好;(2分)地形多山,地势高,平地少,大规模生产建筑较少;(2分)距离大陆较远,经济落后,人类活动影响小等。(2分)

**【解析】**第(1)问,帝汶岛上最典型的火山地貌成因应从地质位置、岩浆喷发活动、冷凝堆积作用来说明。第(2)问,帝汶岛上甲湖泊形成的主要过程应从火山地貌形成、火口盆地形成、雨季积水形成三大过程说明。第(3)问,帝汶海常年海流随季节交替而改变的解可从季风方向、不同季风与海流流向关系等方面说明。第(4)问,帝汶岛自然环境保护良好的原因可从气候条件、地形特点、人类活动等方面说明。

43. 北方地区冬季气候寒冷,棉服易浸汗导致不适;冬季以降雪为主,山路坡陡易摔伤;冬季白天时间短,旅游时间较短;冬季冰雪较厚,坡度较大地带容易发生雪崩,阻塞登山道路;冬季山区交通道路容易被冰雪覆盖,路面湿滑易导致交通事故和堵塞;冬季山路因冰雪覆盖和多雾等恶劣天气,容易迷路等。(每点2分,任答5点得10分)

**【解析】**我国北方地区冬季不适宜开展山地旅游的主要原因可从冬季寒冷、山路坡陡、旅游时间、积雪危害、道路湿滑、宾馆服务、容易迷路等方面说明。

44. 目的:提高土地资源利用率,减轻土地资源浪费;(2分)减轻生态环境危害,保护优美的城市环境。(2分)
- 途径:利用废土烧制砖料,丰富建筑材料来源,降低建设成本;(2分)填埋非蓄洪泄洪沟塘,扩大耕地面积,提高粮食产量;(2分)堆造土山景观,植树种草,改善城市环境等。(2分)

**【解析】**当前城市挖槽(坑)废土再利利用的主要目的主要从提高土地资源利用率和保护环境两个方面说明。其再利用途径可从制作建筑材料、扩大耕地面积和堆造土山景观等方面说明。

# 2021 年普通高等学校全国统一招生考试 湘豫名校联考

## 政 治

12. A 【解析】根据题意可知,开展“消费月”活动能刺激居民有效消费需求,发挥消费促进生产发展的作用,进而有利于畅通国民经济循环,构建新发展格局,①③符合题意,②④不符合题意。
13. D 【解析】题中强调国有企业改革要发挥国有企业对民营企业的带动和影响作用,即强调了国有企业的重要地位;要国企民企相互配合,推进兼并重组和战略性组合,形成良好的市场结构,即发挥多种所有制经济共同发展的优势,③④符合题意。国企民企在市场上处于平等地位,①表述错误。维护国有资本安全需加强对国有资产的监管,②表述错误。
14. C 【解析】根据材料中经济学家的观点,未来中国金融的发展方向在于服务技术和数字化转型、服务民生需求。对此,金融机构应加大对科技创新企业的资金支持力度,应能更好满足人民美好生活需要,②④符合题意,①③表述错误。
15. B 【解析】材料中做法的主要特征是通过利用财政扶持、组织社员培训、完善运行机制等途径,将分散的农户组织起来,发展特色农业,开展联合竞争,形成竞争优势,①④符合题意,②③不符合题意。
16. D 【解析】材料中“有事好商量”协商议事品牌的创立充分利用村级协商民主议事平台,就村级有关事务进行民主协商,调动了群众参与民主决策的积极性,是社会主义协商民主的新探索,②④符合题意。①不符合题意;③表述错误。
17. A 【解析】就业是最大的民生。材料中国务院出台的这些新举措是为了改善居民就业环境,促进居民就业,同时也能促进政府职能转变,优化民生服务,①③符合题意。②④不符合题意。
18. D 【解析】各援疆省份认真贯彻落实第三次中央新疆工作座谈会精神,积极做好对口援疆工作旨在促进包括新疆在内的各民族共同繁荣,不断铸牢中华民族共同体意识,③④符合题意。①表述错误;②不符合题意。
19. A 【解析】材料中“东莞以‘新时代明伦堂’为名举办文博主题系列讲座,着力打造‘叫得响、立得起’的文化品牌”,旨在“充分发挥博物馆的教育功能,提升群众的文物鉴赏能力和历史认知能力”,这表明教育具有重要的教化功能,人们在实践中创造文化,也能享用文化,①③符合题意。②不符合题意。④表述错误。
20. B 【解析】材料中宣传语表达了两层意思:一是奉献友爱互助进步是志愿者精神,志愿者可能不能直接解决困难,但能帮助他人解决困难;二是做志愿者是出于爱心善心,而不是外在压力,①③符合题意。②④不符合题意。
21. C 【解析】材料中华君武的漫画《君子动口》中说三个事后诸葛亮顶不上一个实干臭皮匠,启示我们要崇尚实干,切忌空谈,要在实践中认识和把握世界,C项符合题意。A、D两项不符合题意。B项表述错误。
22. A 【解析】材料中习近平的这一论述主要强调了要立足中国国情,坚持自力更生、自主创新,让中华民族自立于世界民族之林,让我国的科技登上世界的高峰,其中所蕴含的哲理是通过促使事物内部的矛盾运动和事物自身的否定推动事物的发展,①③符合题意。②表述错误;④颠倒了两者之间的关系。
23. C 【解析】国务院适时修改和废止部分行政法规的举措,从哲学上看属于调整上层建筑而不是生产关系,①不符合题意,②符合题意。这一调整是随着社会存在的变化而进行的,③符合题意。④表述错误。
38. 创新是引领发展的第一动力。硅光芯片“流片”服务是自主创新的重大科技成果。(4分)提供硅光芯片“流片”服务有利于畅通芯片制造产业链、供应链,推动产业结构优化升级;(4分)有利于打破国外的技术垄断,解决光芯片企业的“卡脖子”难题;(3分)有利于带动微电子信息产业迈向价值链中高端,促进经济高质量发展。(3分)

政治参考答案—1



**【解析】**此题主要考查考生推理与论证能力。答好此题,首先要准确提炼材料信息,揭示材料中所蕴含的经济知识。通过分析材料可知,针对一直困扰我国光芯片企业的“卡脖子”难题,C市联合微电子中心刻苦攻关实现了硅光芯片“流片”服务技术的突破,打破了国外的垄断,畅通了芯片制造的产业链供应链,促进了产业结构的优化升级,带动微电子信息产业迈向价值链中高端,促进经济高质量发展。

39. 中国共产党的领导是中国特色社会主义最本质的特征,党是最高政治领导力量。(3分)“十四五”规划建议充分听取各方人士的意见,坚持了以人民为中心的发展思想,集中了人民意志,形成了党的主张;(3分)“十四五”规划纲要编制贯彻了党的十九届五中全会精神,发挥了党总揽全局、协调各方的领导核心作用;(3分)全国人民代表大会审议通过“十四五”规划纲要,使党的主张通过法定程序上升为国家意志,成为亿万人民的共同行动纲领。(3分)

**【解析】**此题主要考查考生对“十四五”规划编制过程中是如何坚持和加强党的领导的认识和理解能力。答好此题关键在于将“十四五”规划编制过程的各环节与坚持和加强党的全面领导进行恰当对接,形成答案。

40. (1)①文化具有多样性。文化是民族的,也是世界的,文化多样性是人类共同的宝贵财富。各国历史文化和制度各有千秋、各具特色,存在差异,但没有优劣、高低之分,都是人类共同的宝贵财富。②文化多样性是人类社会的基本特征,是人类文明进步的重要动力。各国历史文化和制度差异自古就存在,是人类文明的内在属性,只要能符合国情民意、为人类进步事业作出贡献的民族文化,就能为推动人类文明进步提供强大的动力。③文化多样性是文化创新的重要基础。文化创新是不同民族文化之间相互借鉴、“取长补短”,推出融汇多种文化特质的新文化的过程,文化多样性是交流、革新、创作的源泉。④尊重文化多样性是发展民族文化的内在要求,是实现世界文化繁荣进步的必然要求。各国应在相互尊重、求同存异的基础上实现和平共处、交流互鉴,以其鲜明的民族特色丰富世界文化,共同推动人类文明的发展和繁荣。(每点3分,共12分)

(2)①规律具有客观性和普遍性,要尊重规律,按规律办事。21世纪的多边主义,各国应顺应和平与发展的历史潮流,立足世界格局变化,与时俱进,着眼应对全球性挑战需要。(3分)②在尊重客观规律的基础上发挥主观能动性。各国应以国际法则为基础,通过制度和规则来协调规范各国间关系,管控分歧,克服困难,开放包容,协商合作,携手应对全球性挑战需要,积极维护和践行多边主义。(3分)③把发挥主观能动性与尊重客观规律结合起来。维护和践行多边主义,既要坚持多边主义的核心价值和基本原则,互尊互谅,合作共赢,也要立足当今世界格局的变化,遵循社会发展规律。(1分)

(3)示例:海纳百川,有容乃大;各美其美,美美与共;和而不同,协和万邦。(每点2分,答两点即可,共4分)

**【解析】**第(1)问,本题要求考生结合材料一,运用文化多样性的相关知识,说明“没有多样性,就没有人类文明”的原因。知识限定比较具体,属于微观考查。考生可先回顾文化多样性的相关知识,结合材料,进一步缩小解题的知识角度为尊重文化多样性的原因,然后运用这一知识要点结合材料分析,形成答案要点。

第(2)问,本题要求考生结合材料二,运用客观规律与主观能动性的关系原理,分析说明应如何维护和践行多边主义。知识限定比较具体,属于微观考查。考生可先回顾客观规律与主观能动性的关系原理的相关知识,结合材料,进一步缩小解题的知识角度为尊重规律、发挥主观能动性二者的结合,然后运用这些知识要点结合材料分析,形成答案要点。

第(3)问,本题要求考生列举两个与包容精神相关的名言俗语。知识范围未作限定,属于宏观考查。试题具有开放性,考生围绕主题,把握要求,多角度思考作答,试题没有固定答案,言之成理即可。



# 2021年普通高等学校全国统一招生考试 湘豫名校联考

## 历史

24. D 【解析】本题以里耶秦简为切入点,考查学生获取和解读信息、调动和运用知识的能力。本题主要考查学生的史学素养。考古发现与史书记载有出入的情况的确可能发生。然而,在没有更加充分的证据之下,并不能据此判断隶书是秦代官方主流文字,因而排除A项;B、C两项属于常识性错误,并不是所有记载都可以与考古发现相印证,并且也不能不加区分和鉴别地盲目认定考古发现和史书记载的价值。无论是考古发现,还是史书记载,都是研究历史的重要参考,D项正确。
25. C 【解析】本题以曹操《收田租令》“重豪强兼并之法”为切入点,考查学生获取和解读信息、调动和运用知识的能力。根据材料中“其收田租亩……而已”“不得擅兴发”可知,政府明确租税,不允许地方官随意征税,禁止豪强大族肆意兼并土地和强迫贫苦农民代为缴纳租税,对违犯法令者予以处罚,这些措施都有利于缓和社会矛盾,故选C项。抑制豪强兼并土地一定程度上有利于加强中央集权,有利于抑制大土地所有制的发展,排除A、B两项;材料信息无法支撑D项结论。
26. B 【解析】本题以唐宋诗歌特点为切入点,考查学生获取和解读信息、调动和运用知识的能力。本题考查学生对社会思想发展的认知。宋代理学对于社会的影响是广泛而深刻的,另外,佛道思想对社会生活也产生重大影响。宋代大量说理诗出现,充分显示了社会思想对诗歌的影响。材料中“筋骨思理”“省思主体的内在”“表达对人生的思考和理解”,从这些信息可以选出正确答案。材料中并未涉及诗词理论的相关内容,排除A项;唐宋诗歌都有抒情诗风格,排除C项;结合史实可知,宋诗出现的变化,主要是宋朝社会思想文化的影响,排除D项。
27. A 【解析】本题以海外贸易和物价上涨为切入点,考查学生获取和解读信息、调动和运用知识的能力。本题考查学生对社会及经济发展的认知。根据材料中“清代开放海禁后”“物价缓慢上涨”“今米常贵,而人尚乐生”“俱可以糊口”可以看出政府开放海禁是有益于百姓生计的,A项正确。材料中未体现农民负担加重和政府减轻对百姓剥削的信息,排除B、D两项;C项与材料主旨相悖,排除。
28. B 【解析】本题以近代民族资本主义发展为切入点,考查学生获取和解读信息、调动和运用知识的能力。从题中信息“以上海为中心的棉纺织厂的兴办,刺激了附近地区的棉花生产”“农民家庭纺织业对机纱的要求又增加了近代棉纺业的生命力”等可以得出结论,这一时期民族资本主义发展与农业的进步是相互促进的。A项与史实不符,这一时期并非民族资本主义发展的短暂春天;C、D两项材料无法体现。
29. D 【解析】根据材料新学制确立与科举制的废除,1909年新式学堂及学生数量十分可观可知,清末教育体制平稳转型,选D项。材料主要涉及教育体制改革,无法得出近代教育体系日趋完备,排除A项;材料仅涉及教育改革,无法支撑B项结论;材料未涉及考试形式,排除C项。
30. C 【解析】本题以中国对外关系为切入点,考查学生获取和解读信息、调动和运用知识的能力。本题考查学生对新中国外交的认知。由所学知识可知,20世纪60年代中苏关系恶化,再结合材料“从西方国家引进……”可知,当时我国调整了外交政策。A、B两项与史实不符,D项材料并未体现。
31. D 【解析】本题以改革开放为切入点,考查学生获取和解读信息、调动和运用知识的能力。本题考查学生对十一届三中全会和改革开放的认知。由所学知识可知,1984年以后,城市经济体制改革全面展开,城市经济体制改革的中心环节是增强企业活力,把企业搞活。而通过材料信息“对内搞活经济,是指通过经济体制改革,解放旧体制束缚下的生产力”可以推断,这一时期的主要任务是不断增强经济活力,D项正确。A项应该是1992年,排除;B项应为21世纪初,排除;C项是农村经济体制改革的内容,排除。
32. B 【解析】本题以古希腊民主政治为切入点,考查学生获取和解读信息、调动和运用知识的能力。本题考查

历史参考答案—1



学生对古希腊民主政治特点和进程的认知。通过材料可知,公民名字中不再出现代表出身阶层的家族名称,而是显示所在的德谟区,因而可以判断出属于克里斯提尼改革的内容,B项正确。材料主旨是克里斯提尼改革中的地区部落的出现对雅典公民名字的影响,C、D两项与材料主旨无关,均排除。

33. C 【解析】本题以人文主义教育为切入点,考查学生获取和解读信息、调动和运用知识的能力。本题考查学生对人文主义的认知。材料中“无论男女,不分尊卑贫富”“所有年轻人”“人是造物主造出的最完美的生物”反映出人文主义精神,C项正确。A项史实错误,这一时期的教育尚未完全摆脱宗教束缚;B、D两项材料未体现。

34. A 【解析】本题以苏联的社会主义建设为切入点,考查学生获取和解读信息、调动和运用知识的能力。本题考查学生对斯大林模式的认知。根据材料中“1926年4月13日”“工业化的中心……就是发展重工业”及所学知识可知,这一论断推动了新的经济模式——斯大林模式的形式,A项正确。B项不符合史实;此时冷战尚未开始,C项错误;D项材料未体现。

35. D 【解析】本题以19世纪以来的文学和艺术为切入点,考查学生获取和解读信息、调动和运用知识的能力。本题考查学生对现代主义艺术的认知。根据材料中“内在的荒诞和怪异”“对熟悉的事物进行扭曲和转化”再结合所学知识可知,这一艺术流派为现代主义,D项正确。其他三项不正确。

41. 【答案】(1)特点:印刷品题材广泛,数量众多;印刷技术发达;形成全国性产销行业;质量上乘;官方印刷业和民间印刷业皆有所发展。(6分,任答3点即可)

因素:工商业发展,资本主义萌芽出现;社会需求日益旺盛;手工业技术不断进步;市民阶层壮大;国家统一,政府支持;文化繁荣等。(6分,任答3点即可)

(2)意义:有利于满足人民日益增长的文化需求;促进国民经济的发展;促进印刷业的发展;提升综合国力和国际影响力;促进技术革新和新技术应用;促进外汇增长和增加就业。(3点6分,4点7分)

原因:经济体制改革的推进;国家大力支持,投资大幅增加;科技水平的提高;现代化建设加快,需求增大。(6分,任答3点即可)

【命题意图】本题以印刷业的发展为切入点,考查学生对经济发展、技术进步、国家政策及社会影响等知识的掌握。考查学生获取和解读信息、调动和运用知识、描述和阐释事物、论证和探究问题的能力。

【解题思路】(1)第一小问明清时期印刷业的特点,学生根据材料一中“明代印刷书籍题材广泛”“蓝印、套印、彩印等开始流行”“全国形成一个生产、销售图书的工商行业”“内府本和私家精刻本为最好”等信息可以提取概括出正确答案。第二小问考查学生对中国古代政治、经济、文化等方面的综合认知,学生需要根据材料并结合所学知识,提取明清时期政治、经济、文化发展的特点,并与印刷业的繁荣相联系,梳理出正确答案。

(2)第一小问印刷业发展的意义,根据材料二中“计算机汉字信息处理和激光照排技术”等可以得出促进技术革新等信息,根据“从业人员300.1万人,实现印刷总产值11544.7亿元,利润总额675.3亿元,对外加工贸易额874.3亿元”等,可以概括出印刷业的发展促进国民经济发展、外汇增长和增加就业等内容。第二小问成就取得的原因,根据材料二中“1983年,中共中央、国务院在《关于加强出版工作的决定》中明确指出:要有计划地对印刷工业进行技术改造和体制改革,把书刊印刷的技术装备和器材纳入国家计划生产供应渠道”可得出经济体制改革的推进;根据“印刷技术装备被列入国家重点技术改造专项,有关部门先后投入资金近30亿元”等可得出国家大力支持,投资大幅增加;根据“在国家的大力支持下,由王选院士牵头研发的计算机汉字信息处理和激光照排技术取得重大突破,大大加快了我国印刷业告别‘铅与火’,迎来‘光与电’的进程”等可得出科技水平的提高等原因。

42. 【答案】略

【命题意图】本题以“生产力发展与社会转型”为切入点,考查学生对经济发展、思想演变、制度变迁及社会转型等问题的认识。考查学生获取和解读信息、调动和运用知识、描述和阐释事物、论证和探究问题的能力。

【解题思路】首先要拟定论题,紧密围绕“生产力发展和社会转型”,可以辩证地综合论述,也可以从一个方面论述。题中未限定论述范围,因而古今中外皆可作为答题的选择。例如,世界近代史方面,可以选取工业革命、技术革新等与社会转型的关系。中国古代史方面,也可以选取春秋战国时期铁犁牛耕的使用与社会转

历史参考答案—2





型。中国近代史方面,可以从近代经济变迁和社会转型阐述。只要言之有理皆可。

**【评分细则】**论述时观点言简意赅清晰成句,2分。论述部分,要提供两个不同历史时期的社会转型,2分。每个时期可以从生产力、经济、政治、思想等多角度论述观点,逻辑严密清晰,4分。小结不重复论点,可以适当升华,4分。

45. **【答案】**(1)背景:“文化大革命”结束;十一届三中全会召开,提出实行改革开放;原有宪法无法适应当时中国社会发展的需要;人民群众的呼吁和要求;党和政府高度重视推动宪法修订。(6分,任答3点即可)

特点:继承和发展“五四宪法”;吸收借鉴国际经验;经过慎重讨论和修订;适应改革开放和社会主义现代化建设的需要;与时俱进;反映人民主权,充分保障人民权利。(1点1分,共5分)

(2)意义:有力地推动了中国的法制进程;有利于保障人民的合法权利;有利于中国社会稳定和社会主义现代化建设;总结和发展了前代宪法的经验;可以为后世宪法提供借鉴作用;推动中国改革开放;传播宪法精神,有利于提高公民法律意识。(4分,任答2点即可)

**【命题意图】**本题以“八二宪法”为切入点,考查学生获取和解读信息、调动和运用知识的能力,以及描述和阐释事物、论证和探究问题的能力。

**【解题思路】**(1)第一问根据“1980年”时间线索,结合中国现代史所学知识,可以联系“文化大革命”、十一届三中全会和改革开放等所学知识。第二问主要考查有效信息的提取,根据材料“继承和发展了1954年宪法的基本原则,总结了中国社会主义发展的经验,并吸收了国际经验”“为了适应中国社会和经济的发展变化”等信息可以归纳出正确答案

(2)根据材料“是公民权利的保障书,是治国安邦的总章程”“是一部有中国特色、适应中国社会主义现代化建设需要的根本大法”“对中国社会的发展产生了深远影响”等信息,结合所学相关知识,可以概括出正确答案。

46. **【答案】**(1)背景:反法西斯同盟建立;雅尔塔会议召开;德国宣布投降(或西线战场结束,反法西斯战争即将取得胜利)。(6分)

(2)远东战役加速了关东军的投降,加快世界反法西斯战争的胜利进程;有利于维护东亚地区的和平稳定,有利于扩大社会主义阵营;苏联的民族利己主义极大侵害了中国的利益。(9分)

**【命题意图】**本题以远东战役为切入点,考查第二次世界大战的相关知识。考查学生获取和解读信息、调动和运用知识的能力,以及描述和阐释事物、论证和探究问题的能力。

**【解题思路】**(1)第一小问根据材料中的时间“1913年8—9月”“履行在雅尔塔会议上的承诺”等可以推断出战役的相关背景。第二小问根据材料提取有效信息即可。

(2)根据所学第二次世界大战相关知识,结合“在短短的10多天里歼灭了号称百万大军的日本关东军,从而迫使日本最终接受无条件投降”“战争结束后,苏联将东北境内的工业企业直接作为其‘战利品’”等信息可以归纳出答案。

47. **【答案】**(1)贡献:首次提出在中国建立国防军的主张,推进军事近代化;出任保定陆军军官学校校长,培育军事人才;提出对日作战总战略,坚定抗战立场;发表公开演说,揭露日寇外强中干,增强民众抗战信心。(9分,任答3点即可)

(2)优秀品质:强烈的爱国主义情怀;不屈的民族复兴精神;扎实细致的研究作风;敢为人先的开拓意识。(6分,任答3点即可)

**【命题意图】**本题以一个历史人物蒋百里为切入点,考查近代中国中华民族的艰苦奋斗、自强不息的奋斗探索历史。以历史新材料来培养考查学生获取和解读信息、调动和运用知识、描述和阐释事物、论证和探究问题的能力。

**【解题思路】**(1)第一小问根据材料中所列举的蒋百里的各项实践,分析其举措的意义,来回答其历史贡献。

(2)根据材料和所学知识,凝练概括回答蒋百里的优秀品质。这是选修4经常设计的提问,可以平时对品质类型的表述语多做积累和总结。



## 关于我们

自主选拔在线是致力于提供新高考生涯规划、强基计划、综合评价、三位一体、学科竞赛等政策资讯的升学服务平台。总部坐落于北京，旗下拥有网站（[网址: www.zizzs.com](http://www.zizzs.com)）和微信公众平台等媒体矩阵，用户群体涵盖全国90%以上的重点中学师生及家长，在全国新高考、自主选拔领域首屈一指。

如需第一时间获取相关资讯及备考指南，请关注**自主选拔在线**官方微信号：**zizzsw**。



关注后获取更多资料:

回复“答题模板”，即可获取《高中九科试卷的解题技巧和答题模版》

回复“必背知识点”，即可获取《高考考前必背知识点》