

大庆实验中学实验一部 2020 级高（三）得分训练 3

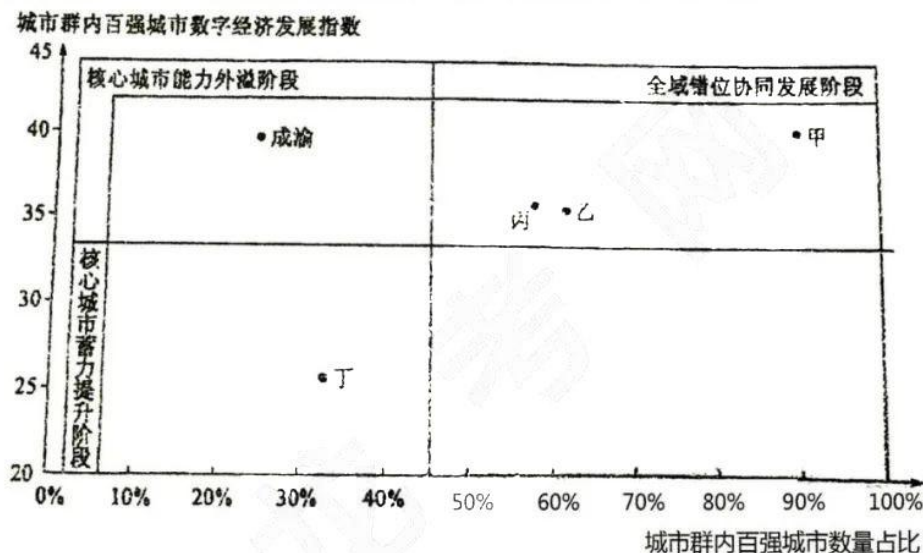
文科综合试题

说明：1. 请将答案填涂在答题卡的指定区域内。

2. 满分 300 分，考试时间 150 分钟。

一、选择题（本题共 35 小题，每小题 4 分，共 140 分。每个小题给出的四个选项中，只有一项符合题目要求。）

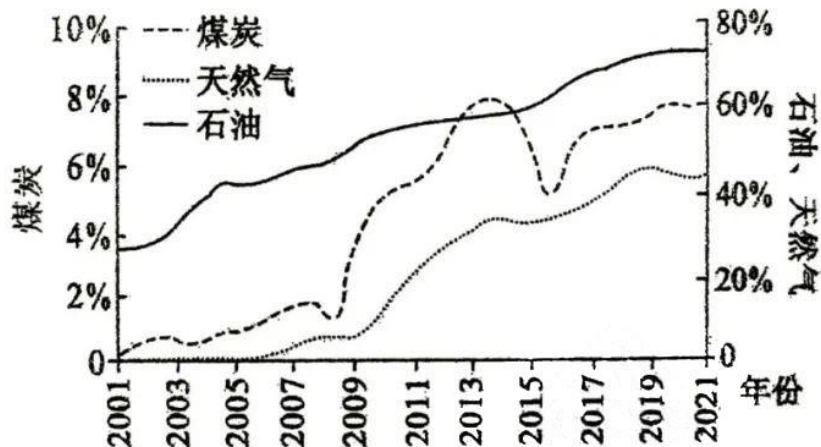
近年来，我国着力推动区域协调发展，不断强化产业集群与经济新增长极建设。目前全国已有 11 个国家级城市群，其中粤港澳大湾区、长江三角洲城市群、京津冀城市群、成渝城市群、长江中游城市群作为我国数字经济发展五大核心区，是我国打造世界数字产业集群、参与国际数字经济竞争的重要载体。下图示意我国五大城市群数字经济发展情况。据此完成 1~3 题。



- 图中甲城市群最可能是
A. 长江三角洲城市群 B. 京津冀城市群 C. 粤港澳大湾区 D. 长江中游城市群
- 城市群数字经济跃升路径依次是
A. 核心城市能力外溢阶段、核心城市蓄力提升阶段、全域错位协调发展阶段
B. 核心城市蓄力提升阶段、核心城市能力外溢阶段、全域错位协调发展阶段
C. 核心城市能力外溢阶段、全域错位协调发展阶段、核心城市蓄力提升阶段
D. 全域错位协调发展阶段、核心城市蓄力提升阶段、核心城市能力外溢阶段
- 成渝城市群共有 16 个城市，其中成都、重庆在数字经济百强城市中分列第 6 位和第 9 位。该城市群当前数字经济发展的关键所在是
A. 打破行政区划的壁垒，破解区域产业同质化弊病
B. 加速科技成果的转化，探索数据流通和高效配置

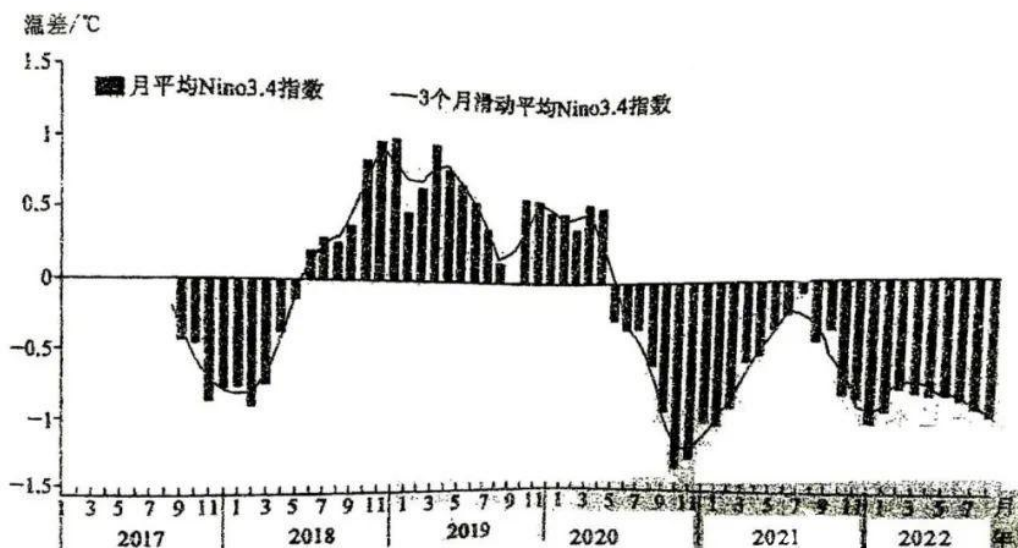
- C. 扩大中心城市的用地规模, 新建多座卫星城市
D. 加强与周边城市产业联动, 辐射带动周边城市

2021年, 我国能源产品进口量有涨有跌。与2020年相比, 2021年原油进口量减少5.4%, 天然气进口量增长19.9%, 煤及褐煤进口量增长6.6%。下图示意2001~2021年我国煤炭、石油和天然气对外依存度变化。据此完成4~5题。



4. 2021年我国原油进口量减少的主要原因可能是
- A. 我国经济放缓
B. 运输成本大幅升高
C. 开发大型油田
D. 国际原油价格较高
5. 下列做法有利于保障我国能源安全的是
- A. 振兴经济, 储备大量资金进口能源
B. 依托科技, 加快推进能源科技创新
C. 居安思危, 用新能源全面替代石油
D. 加强勘探, 大力发展煤炭相关产业

茎柔鱼亦称“美洲大鱿鱼”, 属喜冷水鱼类, 对海水温度敏感而易发生迁徙, 广泛分布于东太平洋海域, 是秘鲁最重要的水产资源之一。依据《厄尔尼诺/拉尼娜事件判别方法》国家标准, 当关键海区(Nino3.4, 120° W至170° W、南北纬5° 之间的区域)海表温度连续3个月高于/低于气候平均状态0.5° C时, 即进入厄尔尼诺/拉尼娜状态。下图示意2017年9月~2022年8月关键海区海表温度距平变化。据此完成6~8题。



6. 下列时间段中，秘鲁渔场茎柔鱼产量可能较大的是
- ①2017年11月~2018年2月 ②2018年5~11月
③2019年8月~2020年2月 ④2022年3~8月
- A. ①② B. ①④ C. ②③ D. ③④


7. 秘鲁渔场茎柔鱼产量较大时期

- A. 南赤道暖流势力较弱 B. 澳大利亚东海岸旱灾多发
C. 亚马孙河口潮汐减弱 D. 我国夏季易出现南旱北涝

8. 研究发现，部分年份秘鲁渔场茎柔鱼的个体较小，主要是由于

- ①海水温度降低 ②海水温度升高 ③栖息范围增大 ④营养盐类减少
- A. ①③ B. ①④ C. ②③ D. ②④

江西三清山有着奇特的花岗岩峰林微地貌景观，主要有峰峦、峰墙、峰丛、石林、峰柱、石锥、岩壁、峡谷和造型石景等9种类型，是研究花岗岩微地貌形成演化的关键地区。下图示意三清山花岗岩地貌发育的不同阶段。据此完成9~11题。



9. 判断图示三清山花岗岩地貌的发育阶段依次是

- A. ①②③④ B. ①②④③ C. ②④①③ D. ③④①②
10. 三清山部分花岗岩峰林顶部尖锐、棱角分明、离立成群，主要得益于其
A. 垂直节理发育 B. 水平节理发育 C. 岩层较薄 D. 岩性较软
11. 内蒙古赤峰市的阿斯哈图石林也是典型的花岗岩地貌。与阿斯哈图石林地区相比，三清山花岗岩地貌区的风化壳
A. 化学风化更显著 B. 物理风化更显著 C. 冰川作用更显著 D. 风力侵蚀更显著
12. 2023 年中国迎来改革开放 45 周年，经过 45 年持续推进改革开放，我国创造了世界罕见的经济快速发展和社会长期稳定两大奇迹，经济社会发展实现了历史性跨越，党的二十大报告明确了前进道路上必须坚持深化改革开放。这是因为改革开放（ ）
①是实现伟大梦想必须深入推进的新的伟大工程
②从根本上改变中国社会发展的方向，是实现中华民族伟大复兴的关键一招
③是在新的历史条件下不断解放和发展社会生产力的必然要求
④是通过社会主义制度自身的力量解决社会矛盾的正确之路
A. ①② B. ①④ C. ②③ D. ③④
13. 2023 年 2 月是《共产党宣言》发表 175 周年。这部著作的问世深刻影响和改变了人类社会发展的进程，照亮了人类发展的前进方向，成为人类发展史上具有划时代意义的标志性文献之一。它的主要贡献有（ ）
①科学论证了资本主义必然灭亡和社会主义必然胜利的历史必然性
②第一次系统论述了无产阶级政党的性质、特点、任务和策略原则
③对共产党的执政规律、社会主义建设规律的认识达到了新的高度
④为科学社会主义奠定理论基石，实现了由空想到科学的伟大飞跃
A. ①② B. ①③ C. ②④ D. ③④
14. 2023 年政府工作报告指出：要坚持稳字当头、稳中求进，保持政策连续性针对性，加强各类政策协调配合，积极的财政政策要加力提效，稳健的货币政策要精准有力，形成共促高质量发展合力。以下举措预期影响推导正确的是（ ）
①下调金融机构存贷款利率→企业融资成本降低→增加企业利润→激发企业创新动力
②增加中央对地方转移支付→统筹地方管理→增强宏观调控能力→兜牢兜实民生底线
③完善税费优惠政策→支持专精特新企业→打造发展新引擎→促进经济高质量发展
④发放电子消费券→增加居民可支配收入→刺激居民消费→大力提振市场主体信心
A. ①② B. ①④ C. ②③ D. ③④
15. 2023 年 1 月 31 日，为规范相关市场主体广告发布行为，保护人民群众生命健康和财产安全，按照河北省涉疫药品和医疗用品稳价保质专项行动的工作安排，省市场监管局发布关于规范涉疫药品及相关商品广告发布行为提醒告诫书，严禁在广告中使用虚构、伪造或者无法验证的科研成果等信息作证明材料。这表明（ ）
①政府通过加强公共服务来弥补市场调节的缺陷
②政府具有加强市场监管、规范市场秩序的职能

- ③有效的政府治理，是我国经济体制的最大优势
④政府坚持人民至上，发挥“看得见的手”的作用
- A. ①② B. ①③ C. ②④ D. ③④
16. 2023年3·15晚会主题是“用诚信之光照亮消费信心”，晚会直击数字消费和百姓公共安全领域的热点问题。香精大米，违规翻新绝缘子，头盔厂家偷工减料等问题被央视曝光。相关国家部门依据《民法典》等法律立案调查，并严厉查处了这些违法违规行为。一年一度的3·15就像一个符号，成为中国消费者最信赖的守护消费品质、净化社会风气的舆论阵地。这（ ）
- ①彰显了我国社会主义民主最真实、最管用的鲜明特点
②维护了人民的根本利益，确立了人民当家作主的地位
③体现了全心全意为人民服务是党的宗旨
④表明坚持专政职能是维护人民利益和规范社会秩序的重要保障
- A. ①② B. ①④ C. ②③ D. ③④
17. 2023年1月9日，习近平总书记在二十届中央纪委二次全会讲话中提到：“全面从严治党永远在路上，要时刻保持解决大党独有难题的清醒和坚定。”党中央以坚如磐石的意志正风肃纪反腐，找到了自我革命这一跳出治乱兴衰历史周期率的第二个答案，并将永远吹响这一冲锋号。这一“冲锋号”（ ）
- ①关系党的生死存亡，旨在完善党的领导、推进依法执政
②有利于更新党内政治生活气象，保持党的先进性纯洁性
③确立和巩固了中国共产党的领导核心地位和执政地位
④是加强党的全面领导、提升执政能力建设的必然要求
- A. ①② B. ①③ C. ②④ D. ③④
18. 2023年1月，国际学术期刊《细胞》发表了中国科学技术大学团队的一项研究成果。研究团队发现，光通过激活人视网膜上特殊的感光细胞，能引发眼、脑和脂肪组织中一系列神经信号传递，从而直接抑制机体血糖代谢能力，这为未来预防乃至治疗此方面疾病提供了可能。由此可知（ ）
- ①任何真理都有自己适用的条件和范围
②探究细胞的认识活动具有反复性和无限性
③事物是可知的，人能揭示事物的本质联系
④指导实践是人们从事细胞研究的最终目的
- A. ①② B. ①④ C. ②③ D. ③④
19. 为实施“健康中国2030”规划，必须发挥中医药独特优势，实施中医药传承工程，不断弘扬当代名老中医药专家学术思想和临床诊疗经验，加快智能装备、智能生产线研发，推动我国中药制造技术迈向高端水平。这表明激发中医药行业的生命力，需要（ ）
- ①把握好文化继承与发展的关系，推陈出新、革故鼎新
②以文化促进科技发展，以科技支撑文化发展
③促进中医药文化创造性转化，与经济政治融合发展
④顺应社会生活的变化，推动传统中医药文化创新性发展

- A. ①③ B. ②③ C. ①④ D. ②④
20. 2022年7月,我国进出口总值3.81万亿元,增长16.6%。其中,出口2.25万亿元,增长23.9%;进口1.56万亿元,增长7.4%。我国对美出口的箱包、纺织制品、鞋帽伞等产品对出口增速贡献率由16%提升至30%左右。在新兴市场上,我国对东盟出口化工品、纺织原料及纺织制品、贱金属制品规模明显提升。据此可以得出的合理结论是()
- ①中国贸易顺差扩大且有利于经济可持续发展
②东盟对我国存在较强的产业链供应链依赖
③中美在高科技产品贸易领域的竞争日趋激烈
④中国改革开放为世界经济发展作出了重要贡献
- A. ①② B. ①③ C. ②④ D. ③④
21. 2023年2月6日,联合国大会通过决议,将每年的2月17日定为旅游业复原力全球日,并呼吁所有国家、组织和个人在每年的2月17日举办相关活动,使公众认识到可持续旅游业的重要性。对此,下列解读正确的是()
- ①联大通过的该项决议对各成员国具有普遍的法律约束力
②联合国是实践多边主义、集体应对发展挑战的有效平台
③联合国在保障全球安全的国际合作中发挥着重要的作用
④联合国大会从战略高度协调国际社会旅游业可持续发展
- A. ①② B. ①③ C. ②④ D. ③④
22. 某单位将一空房出租给江某,江某将合同打印后立即签名并盖章。然而单位法人不在,单位财务收了江某的租金和合同书。后来,江某准备入住时,该单位要提高租金。江某表示应按合同约定履行,单位辩称合同并无单位签名和盖章,合同不成立。下列分析正确的是()
- ①合同并无该单位签名和盖章,合同无效
②江某已经履行了合同的义务,合同成立
③双方应当按该单位要求重新签订新合同
④只有江某签名,合同形式要件尚有欠缺
- A. ①③ B. ①④ C. ②③ D. ②④
23. 随着互联网技术的飞速发展,“网络安全”一词越来越多的出现在人们视野中。党的十八大以来习近平总书记高度重视国家网络安全工作。习近平总书记强调:“没有网络安全,就没有国家安全。”据此,以下对习近平总书记的论断认识正确的是()
- ①用划分方法可明确“网络安全”概念“有哪些”
②该判断准确地表达了认识对象的两种可能情况
③以其为前提进行换质位推理必然得不到真结论
④以其为前提进行推理,否定前件必能否定后件
- A. ①② B. ①③ C. ②④ D. ③④
24. 西周、春秋时期,中原地区盛行休耕制,或种一年休一年,或种一年休两年。到了战国时期,土地肥沃的地区已经采用连作制,甚至可以做到一年两熟。由此可见,战国时期()

- A. 铁犁牛耕普及全国
B. 土地所有制发生剧变
C. 小农经济开始产生
D. 农业耕作趋于精细化
25. 秦汉时期，官吏分为“长吏”（朝廷命官）和“少吏”（低级官吏），少吏虽然职位和俸禄较低，但名目与人数众多，有关规定和限制也很严格，如下表所示。由此可推知，秦汉时期（ ）

项目	内容
选拔资格	家资限制；年龄限制；道德和才能标准；文字知识和晓习律令方面的限制；对特殊群体的限制，如贾人、吏坐赃者及其子孙等。
升迁制度	以保举制、察廉制、功次制为主，辅之以孝廉、贤良方正、茂才、捕格群盗尤异等升迁方式。
社会待遇	赐钱、赐金；赐爵、赐肉、赐酒、赐食；增俸；休假。

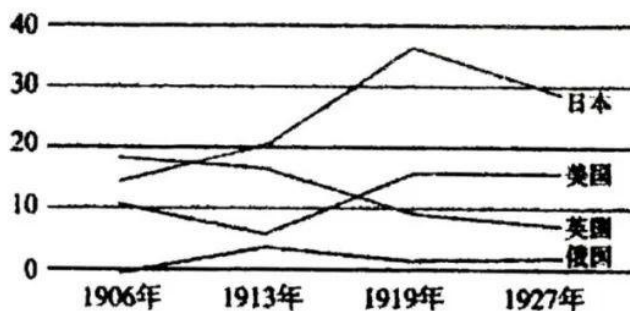
- A. 地方行政体制发生嬗变
B. 君主专制统治的效能遭到削弱
C. 统治阶层内部矛盾缓解
D. 官僚政治有助于巩固封建统治
26. 南宋时期，朱熹编订《朱子家礼》时没有按照北宋“二程”多依古礼的思路，而是依照从众从俗的原则来修改古礼中很难用于现实的制度和器物，如将婚礼的六礼简化为三礼。这一做法（ ）
- A. 确立了理学的官方哲学地位
B. 侧重于内心修养和反省
C. 反映了三教合一的历史潮流
D. 有利于扩大儒学的影响
27. 1082年意大利传教士利玛窦来到中国，并曾编绘世界地图。图1是与利玛窦世界地图有接触的明朝皇族和官员的示意图。这反映出当时西方近代地理知识（ ）



图1

- A. 并未引起明朝民间社会的关注
B. 受到明朝各级官员的高度重视
C. 在明朝上层社会有较广泛影响
D. 对封建正统思想造成一定冲击
28. 张之洞任湖广总督时期，湖北新式教育发展快速。1903年，湖北已有留日学生91人，两年后激增至1700余人，湖北还向欧美各国派遣了一定数量的留学生。以至于慈禧太后1907年说：“造就人才的是湖北，我所虑的也在湖北。”由此可知当时（ ）
- A. 思想解放运动方向发生了变化
B. 民主思想的传播威胁到清统治
C. 清政府改变了鼓励留学的政策
D. 清末新政受到知识界普遍拥护
29. 下图是1906—1927年英国、美国、日本、俄国在中国进口贸易额中所占比重的变化示意图。

造成 1919 年以后四国对华贸易这种态势的主要原因是 ()



四国在中国进出口贸易额中所占比重

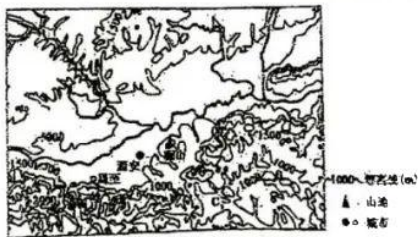
- A. 列强宰割中国局面的重新形成 B. 北洋政府鼓励发展民族工业
C. 中国人民民族民主意识的高涨 D. 西方世界发生严重经济危机
30. 1940年, 陈嘉庚率领南洋华侨慰劳团访问延安, 发现“实在看不出有什么共产党主义的存在。譬如垦荒, 个人自垦自种, 各归私有, 经营行业, 也是市肆如恒, 并无异易”。对上述史实解读最准确的是 ()
- A. 土地改革稳定抗日根据地 B. 抗日民族统一战线的落实
C. 国民党反共宣传最终破产 D. 中共争取和平民主的措施
31. 1981年, 国务院批准在首都钢铁公司等八个国有企业进行扩权试点, 先后试行过利润留成、盈亏包干和以税代利等做法; 在企业内部, 则逐步推行各种形式的经济责任制, 有条件的企业试行厂长(经理)负责制。这些做法 ()
- A. 推动现代企业制度的构建与完善 B. 标志城市经济体制改革全面展开
C. 表明了计划经济体制开始被打破 D. 反映当时我国突破旧体制的尝试
32. 玛雅历法以 13 天为一周, 20 天为一月, 18 个月为一年, 外加 5 天禁忌日, 一年 365 天。而印加历法以 10 天为一周, 每月 3 个星期。一年 12 个月, 每月 30 日, 每年加 5 日, 每 4 年再加 1 日。这可用来说明古代美洲 ()
- A. 文明的多元一体特征 B. 天文学成就领先世界
C. 不同文明的相互交流 D. 农耕文明发展的条件
33. 孟德斯鸠认为, 人民普遍的立法权主要体现在选举代表方面, 人民并不适合去讨论政事, 应该由代表去行使具体的立法权, 而且人民选定代表后, 代表无需事事请示选民, 否则会给政府的运行带来巨大的困难。孟德斯鸠的这一观点 ()
- A. 为近代人民主权理论奠定了基础 B. 凸显国家立法机关的价值
C. 借鉴了古代希腊民主政治的经验 D. 基于提升政务效率的考量
34. 工业革命时期, 英国出现了环境恶劣、住房奇缺、公共空间匮乏等“城市病”。19 世纪 30 年代的霍乱疫情最终使英国政府逐渐放弃自由放任的城市治理政策, 以 1848 年《公共卫生法》的颁布为标志, 英国开始干预城市发展, 进入以公共卫生为中心的城市规划阶段。这说明当时英国 ()

- A. 疫病流行阻碍了工业化进程
B. “城市病”催生城市治理新模式
C. 以干预主义应对城市化问题
D. 开始放弃自由放任的经济政策
35. 20 世纪 80 年代，西欧多数国家同苏联签订了长期的经济、技术合作协定，同苏东国家的贸易额比美国多 10 倍，同苏联的贸易额占苏联同资本主义国家贸易总额的 82%。该现象（ ）
- A. 印证了美国实力衰退的事实
B. 说明双方停止了意识形态对抗
C. 是欧洲走向联合的必然结果
D. 对国际局势的变化有助推作用

二、非选择题（共 160 分）

36. 阅读图文材料，完成下列要求。（28 分）

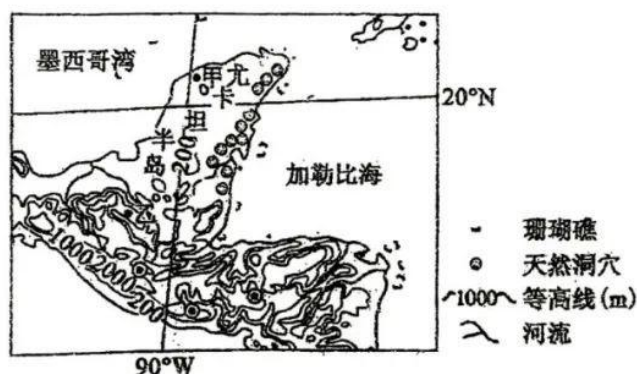
猕猴桃，是一种营养丰富、果肉柔软、味道鲜美的水果。猕猴桃根系脆弱，怕渍怕旱怕高温，不耐低温，强风易折断。陕西省周至县地处关中平原西部、秦岭山脉北麓，是猕猴桃优生区，产品不仅受国内大众喜爱，还远销西欧多国。近年来，该县从科技研发、产品加工、市场营销、品牌建设等多个环节协同推进猕猴桃产业发展，已建成 10 个省市级现代猕猴桃产业示范园区，在猕猴桃产业发展上积极实施资源优化整合，统一规范使用，“周至猕猴桃”logo、“地理标志保护”、“有机食品认证”、“航天品质”等标识统一标准，统一品牌，统一包装，统一宣传，统一销售，使全县猕猴桃产业上档升级。近两年，该县果农在猕猴桃成熟期内，存在提前采摘现象。下图为周至及周围区域等高线示意图。



- (1) 说明周至县成为猕猴桃优生区的有利自然条件。（8 分）
- (2) 简述周至县猕猴桃能远销西欧多国的原因。（6 分）
- (3) 简析周至县在猕猴桃产业发展上积极实施资源优化整合的积极作用。（8 分）
- (4) 说明在猕猴桃成熟期内果农提前采摘对猕猴桃销售的影响。（6 分）

37. 阅读图文材料，完成下列要求。（28 分）

尤卡坦半岛是中美洲北部、墨西哥东南部的半岛，位于墨西哥湾和加勒比海之间，将加勒比海从墨西哥湾中分离出。半岛几乎全部由珊瑚层和多孔石灰岩构成，在地质和气候条件下，在东部滨海地带形成了上千个天然洞穴，多数洞穴彼此连通，与海洋相通，多为水下洞穴，洞穴内生物多样性丰富。下图示意尤卡坦半岛位置及部分地理事物分布。



- (1) 比较分析尤卡坦半岛甲、乙两地自然植被的差异。(8分)
- (2) 尤卡坦半岛东西两岸海风强度不同。试比较尤卡坦半岛东西两岸冬季海风强弱,并说明理由。(6分)
- (3) 推测尤卡坦半岛上天然洞穴的形成过程。(6分)
- (4) 简述尤卡坦半岛上天然洞穴中生物多样性丰富的原因。(4分)
- (5) 尤卡坦半岛东海岸对外贸易和旅游业较西海岸发达,试推测主要原因。(4分)

38. 阅读材料,完成下列要求。(10分)

近年来,G村党支部持续深入贯彻落实中共中央关于“开展移风易俗、弘扬时代新风行动”的重要部署,通过向全村发出移风易俗倡议书,推出“移风易俗知识小讲堂”系列短视频等,不断把移风易俗工作引向深入。同时,该村以问题为导向,将村民反映集中的如大操大办、不孝不敬、摆阔攀比等突出问题,纳入村规民约,以村民“积分”的方式进行治理,召开村民代表大会制定《积分管理办法》,明确积分内容,制定积分规则。为了进一步加大移风易俗工作的开展,在筹措资金上,G村在征集村民意见的同时,还上门与村民商量按照各家实际出资出力,采用“党支部+企业+农户”的方式,村集体拿一点,企业帮扶一点,村民出一点,层层发力让G村基础设施改造有了第一笔启动资金。村民还可通过“阳光三务”(党务公开、村务公开、财务公开)微信小程序,随时查看村务公开内容,实时了解移风易俗工作的数据信息。

结合材料,运用政治与法治知识,分析G村是如何落实基层治理实践的。

39. 阅读材料,完成下列要求。(10分)

调查研究是我们党的传家宝。“没有调查,就没有发言权”,是毛泽东同志的名言。习近平总书记进一步深化了调查研究的思想,赋予了调查研究以时代意义,提出“调查研究是谋事之基、成事之道。没有调查,就没有发言权,更没有决策权”。

习近平多次强调“要在全党大兴调查研究之风”。在湖南十八洞村调研,创造性提出“精准扶贫”理念;到江苏调研,首次公开将“全面从严治党”与全面建成小康社会、全面深化改革、全面推进依法治国一并提出;赴浙江调研后,首次正式提出“新发展格局”……习近平调查研究的足迹

遍布祖国的山山水水，为全党树立了光辉典范，推动着调查研究蔚然成风、产生实效。
结合材料，运用实践的知识说明调查研究是谋事之基、成事之道的正确性。（10分）

40. 阅读材料，完成下列要求。（10分）

当前，中国对非粮食安全合作十分重视，在联合国粮农组织、世界粮食计划署、国际农发基金等国际机制下，通过多边合作参与解决非洲粮食安全问题。即“中国+国际组织+非洲国家”的多边合作模式：首先，鼓励和支持中国企业到非洲国家开展农业种植、粮食仓储等领域的投资合作。其次，重视在联合国粮农组织、世界粮食计划署等国际机制下，通过多边合作参与解决非洲粮食安全问题。最后，中国在对非粮食安全合作中，积极发挥中国农业优势和治理经验，重点解决非洲在农业科技、农业基础设施和农业人才等方面的短板的问题。

结合材料，运用《当代国际政治与经济》的知识，分析我国在对非粮食安全合作中采用“中国+国际组织+非洲国家”模式的原因。

41. 阅读材料，完成下列要求。（12分）

56岁的姜某和65岁的不某是邻居，两家对面有一片空地，平时堆放杂物。2022年3月19日上午8时许，邓某堆放的芝麻秆被风刮倒，于是收拾重新堆放。不想，姜某看见后认为碍事，就让不某把芝麻秆挪一挪，邓某不同意。双方发生口角，进而撕扯到一起，后被人拉开。经报警后，当地派出所对姜某进行了处罚。而邓某上排门牙脱落，经鉴定构成轻微伤，遂住院治疗，进行牙再植术。后由于双方对赔偿意见不一，邓某向当地法院起诉，要求姜某赔偿医疗费等各项损失1.5万余元。法官根据查明的事实，划分了各自的责任，核定了医疗费数额，并作出了一审判决，由被告姜某赔偿原告邓某医药费的60%，即7799.30元。法庭宣判后，邓某不服却不上诉，坚持要上访。

“案结不是终点，事了才是目的。”承办法官又及时邀请镇、村干部对该纠纷进行调解。“远亲不如近邻，如果你们确实觉得‘柴火垛’碍事，可以找村干部给予解决。”经过承办法官、镇、村干部的耐心释法明理，又为双方当事人指定新的堆放柴火地界，终于促成双方达成和解协议，并当场履行。至此，一起柴火垛引起的邻里纠纷得以彻底化解。

(1) 有人说，调解就是“当和事佬”“和稀泥”。结合材料，运用《法律与生活》的知识，谈谈你对这种说法的理解。（7分）

(2) 结合材料，运用《法律与生活》的知识，谈谈上述案件给我们的生活启示。（5分）

42. 阅读材料，完成下列要求。（10分）

在对黄河上中下游地区的历史与现状进行全面细致调研的基础上，中共中央、国务院编制印发《黄河流域生态保护和高质量发展规划纲要》（以下简称《纲要》）。

《纲要》总结了黄河流域的“五大”，“最大的矛盾是水资源短缺”“最大的问题是生态脆弱”“最大的威胁是洪水”“最大的短板是高质量发展不充分”“最大的弱项是民生发展不足”，对该流域的未来发展进行顶层设计、科学谋划、建章立制，并作出治标和治本相结合的具体部署，为黄河流域生态保护和高质量发展制定了“任务书”、绘好了“时间表”、明确了“路线图”，成

为指导当前和今后一个时期黄河流域生态保护和高质量发展的纲领性文件。

联系材料，结合所学知识，分析国家是如何运用超前思维进行《纲要》编制的。

43. 阅读材料，完成下列要求。（25分）

材料一

随着穆斯林的向东扩张，阿拉伯人建立起横跨欧、亚、非的大帝国、阿拔斯王朝初期，哈里发大权独揽，各行省听命于中央。在帝国政府中，外族虽可参与，但穆斯林与异教徒之间地位仍有较大差异。阿拉伯人不仅大力经营东方商道，从唐朝引进大宗商品及火器、造纸技术，而且大量吸收各地文化，翻译和保存了很多古代文献。王朝后期，帝国采用了选募士兵的方法，使突厥军人势力渐渐崛起。突厥将军跋扈，任意拥废君王，哈里发如同傀儡，各省总督也纷纷割据自立。

——摘编自许倬云《万古江河》

材料二

唐朝建立后，立即着手进行统一全国的战争。在魏晋以来民族大融合的基础上，唐实行开明的民族政策，唐太宗说：“自古皆贵中华，贱夷狄，朕独爱之如一。”羁縻政策的推行，推动了中华民族大家庭的团结巩固。随着对外关系的发展，唐政府也吸纳了不少外国人供职，外来宗教也大量涌入中国，但受尊崇的仍是道教和佛教，唐玄宗喜立边功，用募兵制取代府兵制，使得边防重镇军事实力迅速增强。安史之乱后，为弥补财政亏空，唐朝对税收体制做出重大调整，一定程度上加强了唐中央的经济力量。

——摘编自朱绍侯、齐涛主编《中国古代史》

（1）根据材料一、二并结合所学知识，概括阿拔斯王朝与唐朝在国家治理上的异同。（15分）

（2）根据材料二并结合所学知识，简析唐朝国家治理对中国历史的意义。（10分）

44. 阅读材料，完成下列要求。（12分）

材料

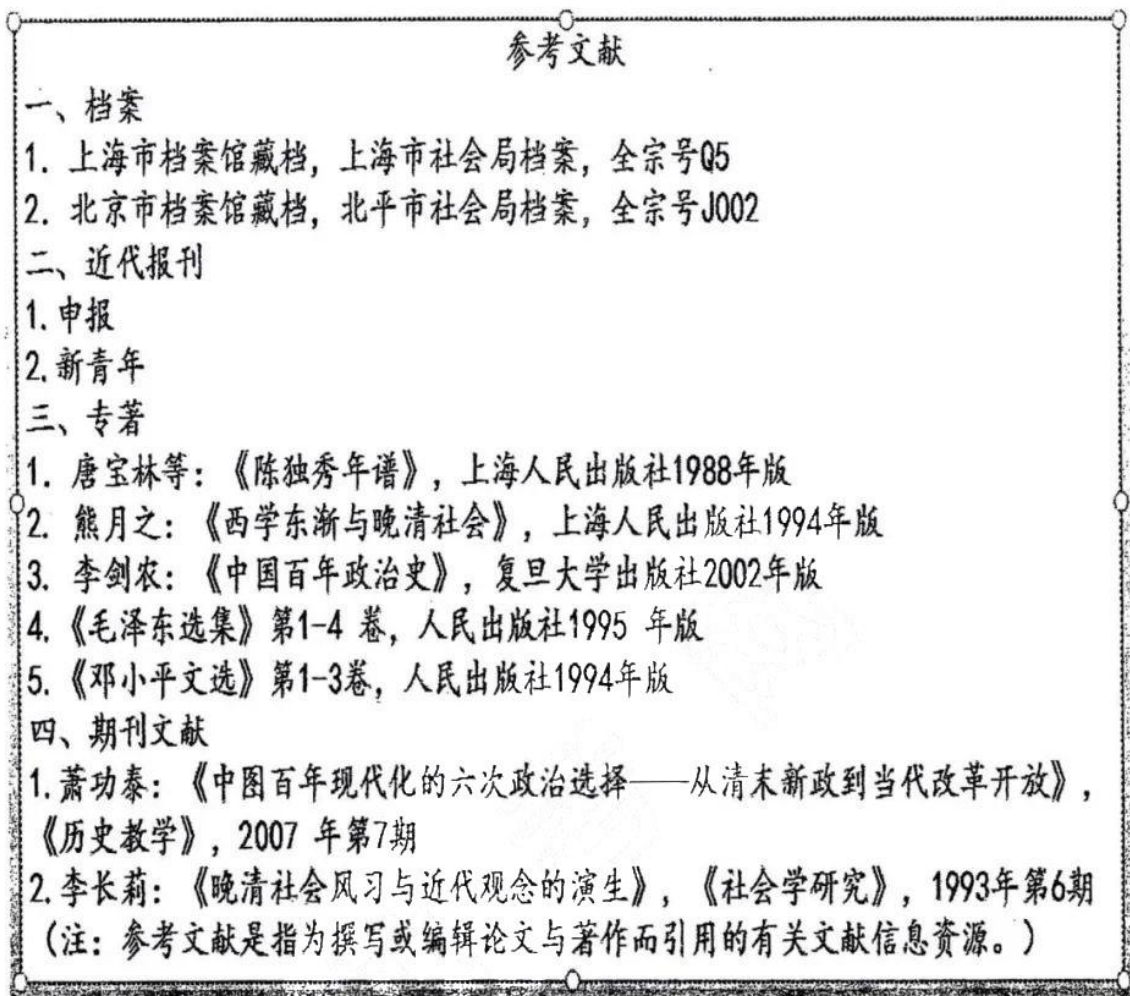


图3

图3可作为某一研究主题的论文的参考文献。根据材料信息并结合所学知识,推断该论文可能的研究主题,并阐述理由。(要求:使用不少于三种类型的参考文献,主题明确,史实准确,论证充分,表述清晰)

45. 阅读材料,完成下列要求。(15分)

材料

20世纪30年代,随着经济危机爆发,德、意两国法西斯化和国际局势的日趋紧张,英国群众厌战、追求和平的呼声更加高涨。和平主义运动的发展极大地影响了英国的对外战略,英国的许多精英人士本身就是和平主义者,自由党和工党都制定了和平主义的外交总路线。在和平主义思潮日益高涨的背景下,执政党的任何增强国家军事力量的措施都会因受到反对党和和平主义者的批评而流产。1935年英国大选,在国际局势发生巨变的背景下,工党仍然以反战为口号。和平主义者的惯

性战略思维使得英国用重整军备的手段来制止战争变得不可能，直到二战爆发，和平主义者的言论失去了市场。

——摘编自丁英胜《20世纪20年代的英国军事战略与对欧政策研究》

- (1) 根据材料并结合所学知识，概括20世纪30年代英国和平主义运动高涨的原因。(8分)
- (2) 根据材料并结合所学知识，分析20世纪30年代英国和平主义运动的影响。(7分)

关于我们

自主选拔在线是致力于提供新高考生涯规划、强基计划、综合评价、三位一体、学科竞赛等政策资讯的升学服务平台。总部坐落于北京，旗下拥有网站(网址: www.zizzs.com)和微信公众平台等媒体矩阵，用户群体涵盖全国90%以上的重点中学师生及家长，在全国新高考、自主选拔领域首屈一指。

如需第一时间获取相关资讯及备考指南，请关注**自主选拔在线**官方微信号：**zizzsw**。



 微信搜一搜

 自主选拔在线