

2023年普通高中学业水平选择性考试压轴卷(T8联盟)

生物学试题(一)

命题学校:华师一附中

试卷满分:100分

考试用时:75分钟

注意事项:

1. 答卷前,考生务必将自己的姓名、准考证号填写在答题卡上。
2. 回答选择题时,选出每小题答案后,用铅笔把答题卡上对应题目的答案标号涂黑,如需改动,用橡皮擦干净后,再选涂其他答案标号。回答非选择题时,将答案写在答题卡上,写在本试卷上无效。
3. 考试结束后,将本试卷和答题卡一并交回。


一、选择题:本题共20小题,每小题2分,共40分。每小题给出的四个选项中,只有一个选项符合题目要求。

1. 大肠杆菌是动物肠道中常见的寄居菌,其细胞壁中肽聚糖含量低,而脂质含量较高。下列相关说法正确的是
 - A. 大肠杆菌细胞壁中的脂质由内质网合成并运输到细胞膜外
 - B. 大肠杆菌细胞壁的成分和含量说明基因通过控制酶的合成控制代谢,进而控制性状
 - C. 大肠杆菌细胞壁具有选择透过性,能让水分子和营养物质优先通过
 - D. 细胞壁是大肠杆菌细胞内外分隔的边界,可在低渗溶液中保护大肠杆菌
2. 显微镜技术是生物学中常用的技术,许多实验中的材料在染色后需使用显微镜观察。下列说法正确的是
 - A. 用醋酸洋红对花生子叶染色后,可观察到其中的脂肪颗粒
 - B. 观察菠菜叶肉细胞时,用碘液染色后的叶绿体的结构更清晰
 - C. 用甲紫溶液对洋葱根尖分生区染色后,可在高倍镜下观察到染色体、核糖体等结构
 - D. 用荧光染料分别对小鼠和人的细胞染色后再进行诱导融合,可证明细胞膜具有流动性
3. 造血干细胞可以分化为白细胞、红细胞、血小板等血细胞。白血病是造血干细胞恶性增殖引起的疾病,这些恶性增殖细胞能够抑制骨髓的正常造血功能,并侵入肝、脾等器官,进而危及患者的生命。下列相关说法正确的是
 - A. 造血干细胞和正常白细胞的基因组成相同
 - B. 造血干细胞恶性增殖是血红蛋白基因突变所致
 - C. 成熟的红细胞由于没有线粒体,不能产生ATP
 - D. 捐献造血干细胞会抑制骨髓造血功能,从而影响捐献者的健康

生物学试题(一) 第1页 共8页

4. 如图为叶绿体的局部结构示意图,①②指示相应结构。下列相关说法正确的是

- A. ①上分布着多种光合色素,可用无水酒精将它们分离开
- B. 在有光的条件下,①可为②提供 ATP 和 NADH
- C. 光照突然增强,②中 C_3 含量会上升, C_5 含量会下降
- D. ①可以增大叶绿体的膜面积,用于附着固定 CO_2 的酶



5. 孟德尔利用豌豆杂交实验发现了遗传规律,被称为“遗传学之父”。下列叙述与孟德尔的研究过程相符合的是

- A. 孟德尔成功揭示了基因的分离定律、自由组合定律和伴性遗传规律
- B. 从一对相对性状到多对相对性状的研究,是孟德尔获得成功的原因之一
- C. 孟德尔用 F_1 的高茎豌豆与矮茎豌豆杂交,后代出现 1 : 1 的分离比,这属于假说—演绎法的演绎推理过程
- D. “生物的性状由基因控制,显性基因控制显性性状,隐性基因控制隐性性状”属于孟德尔的假说内容

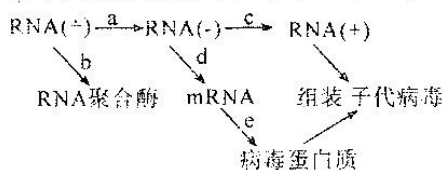
6. 卵细胞的形成过程受到许多因素的调节,组蛋白赖氨酸特异性去甲基化酶 KDM1A 就是其中一种调节因子,它可以去除赖氨酸上的甲基。为探究这种调节因子的作用,科学家用药物 G 抑制了 KDM1A 基因的表达,观察牛卵细胞形成的情况,结果如下表所示。下列说法错误的是

药物 G 浓度/(mmol · L ⁻¹)	统计细胞数	极体排出率/%
0	186	88.17 ± 0.65
160	164	65.24 ± 0.38
320	158	51.27 ± 0.35

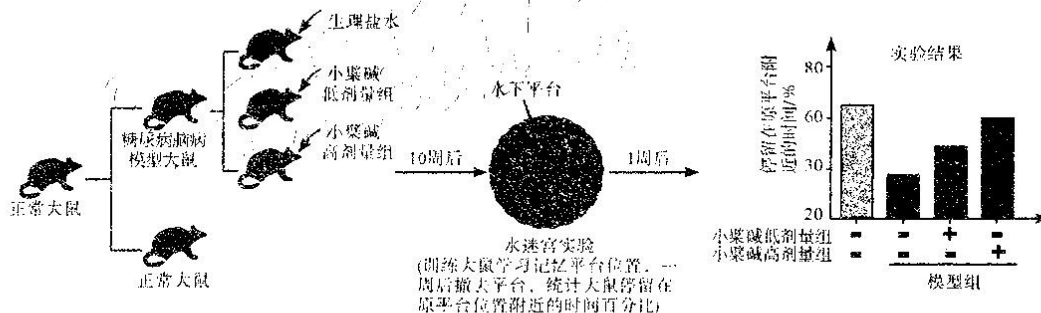
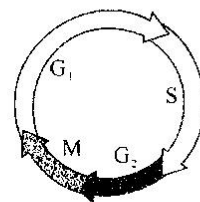
- A. 一定范围内,药物 G 的浓度越大,卵细胞形成率越低
 - B. 卵细胞中的染色体数和 DNA 分子数均为体细胞的一半
 - C. 由表可知,KDM1A 酶可促进卵细胞的形成
 - D. KDM1A 酶可通过影响蛋白质甲基化调节卵细胞的形成
7. 实验室获得了黑腹果蝇的两种新纯合体色突变体:黑条体(dd)、黑檀体(ee)。为判断 d 和 e 基因的关系,科学家将黑条体与黑檀体杂交,下列相关叙述错误的是

- A. 若后代表型全为野生型,说明 d 和 e 是不同基因发生的突变
- B. 若后代表型全为野生型,说明 d 和 e 基因符合基因的自由组合定律
- C. 若后代表型全为突变型,说明 d 和 e 是同一基因发生的突变
- B. 若后代表型全为突变型,说明 d 和 e 基因符合基因的分离定律

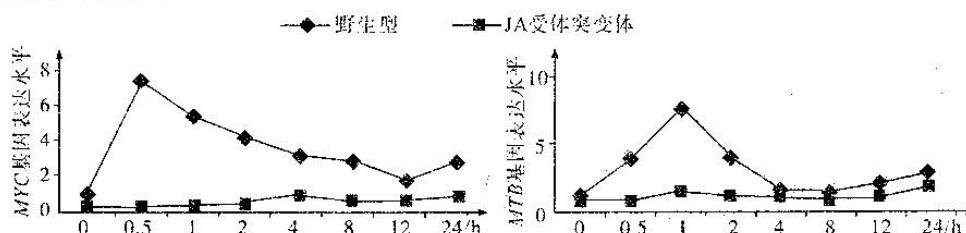
8. 新冠病毒是一种 RNA 病毒,其增殖过程如下图所示。下列说法错误的是



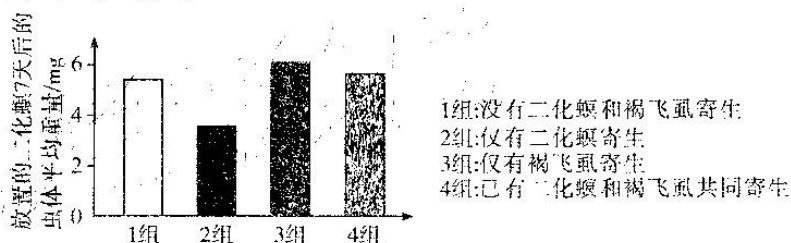
- A. RNA(+)上含有起始密码子和终止密码子
B. a、b、c、d、e均遵循碱基互补配对原则
C. b和e为翻译过程,发生在病毒的核糖体中
D. 预防病毒传播要做到戴口罩、多通风、不聚集
9. 如图为某细胞有丝分裂的细胞周期示意图,分裂间期可分为 G_1 、S、 G_2 期,其中 S 期进行 DNA 复制, G_1 和 G_2 期主要进行 RNA 和蛋白质合成。下列说法正确的是
- A. G_1 、 G_2 期均有 RNA 聚合酶和 DNA 聚合酶参与
B. 用蛋白质合成抑制剂处理该细胞后,不影响 S 期 DNA 复制过程
C. M 期细胞中的染色体数与 DNA 数的比为 1:2
D. 同一个体内的不同细胞分裂时,其 M 期时间可能不同
10. PD-1(程序性死亡受体 1)是一种重要的免疫抑制分子,位于活化的 T 细胞表面。某些肿瘤细胞的细胞膜上有其配体 PD-L1,当 PD-1 和配体 PD-L1 结合后会启动 T 细胞的程序性死亡,从而抑制 T 细胞的炎症活动,防止免疫系统杀死癌细胞。下列相关说法错误的是
- A. T 细胞与肿瘤细胞接触后导致其死亡体现了免疫系统的防卫功能
B. 利用基因工程生产配体 PD-L1 可用于治疗自身免疫性疾病
C. PD-1 和配体 PD-L1 结合体现了细胞膜信息交流的功能
D. 研制抗配体 PD-L1 的单克隆抗体有助于治疗某些癌症
11. 向家兔耳缘静脉注射浓盐水后,在其膀胱插入尿管,并记录注射前后单位时间的排尿量。结果显示,注射前的尿量为 13 滴/min,注射一段时间后的尿量为 8 滴/min。下列相关叙述错误的是
- A. 注射浓盐水后,家兔垂体合成的抗利尿激素增多
B. 注射浓盐水后,家兔细胞外液的渗透压会升高
C. 注射浓盐水后,家兔下丘脑渗透压感受器兴奋
D. 注射浓盐水后,家兔肾小管对水的重吸收增强
12. 糖尿病脑病是中老年糖尿病患者常见的并发症,轻者表现为反应迟钝、记忆力下降,严重者则出现脑血栓、脑中风及老年痴呆等情况,对中老年患者的晚年生活产生极大的影响。小檗碱是中药黄连的有效成分,为探究其对糖尿病脑病的治疗作用,研究者利用糖尿病脑病模型大鼠进行水迷宫实验,主要流程及结果如下图。下列相关叙述错误的是



- A. 该实验的自变量是小檗碱的剂量和不同种类的大鼠
 B. 大鼠停留在原平台附近的时间与其学习记忆能力呈正相关
 C. 低、高剂量的小檗碱均能提高糖尿病脑病模型大鼠的学习记忆能力
 D. 高剂量的小檗碱能使糖尿病脑病模型大鼠的学习记忆能力恢复至正常水平
13. 某种野生型蝴蝶的体色是深紫色, 现有有一个白色纯合品系 M, 研究人员让该品系 M 与纯合野生型蝴蝶进行实验, 所得 F_1 的体色为深紫色。让 F_1 与品系 M 进行正反交, 后代均有 4 种表型: 深紫色(占 45%)、紫色(占 5%)、黑色(占 5%)和白色(占 45%)。下列相关说法正确的是
- A. 控制该种蝴蝶体色的基因不遵循分离定律
 B. 控制该种蝴蝶体色的基因遵循自由组合定律
 C. F_1 与品系 M 进行正反交, 后代出现紫色和黑色的现象叫性状分离
 D. 若 F_1 的雄蝶和雌蝶相互交配, F_2 中白色个体占 $81/400$
14. 茉莉酸(JA)是植物应对机械伤害的重要激素, 植物受到损伤后释放出 JA 与细胞膜上受体结合, 启动相关基因表达实现对伤害的防御。机械损伤处理野生型和 JA 受体突变型番茄幼苗, 检测叶片细胞中 MYC 基因和 MTB 基因的表达情况, 结果如下图所示。下列推测合理的是

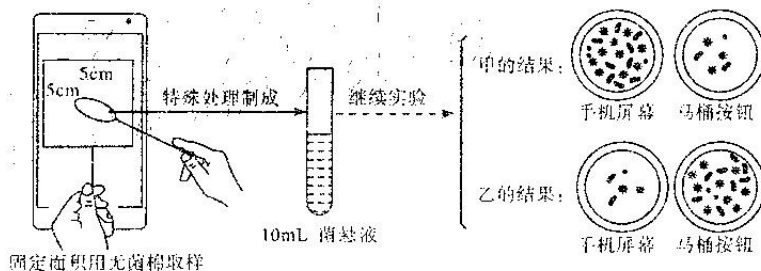


- A. MYC 蛋白参与植物对伤害的防御过程, MTB 蛋白不参与植物对伤害的防御过程
 B. MTB 蛋白参与植物对伤害的防御过程, MYC 蛋白不参与植物对伤害的防御过程
 C. MYC、MTB 蛋白都参与植物对伤害的防御过程, 且 MTB 是 MYC 的下游信号
 D. MYC、MTB 蛋白都参与植物对伤害的防御过程, 且 MYC 是 MTB 的下游信号
15. 二化螟和褐飞虱会在水稻植株上产卵繁殖, 导致水稻减产。研究虫害的生长发育规律, 能为害虫防治提供科学依据。科研人员在害虫寄生情况不同的 4 组水稻植株上, 放置二化螟, 7 天后分别测定各组水稻植株上放置的二化螟虫体重量, 处理及结果如下图所示。下列相关叙述正确的是



- A. 若施用农药防治害虫, 可能诱导害虫产生抗药性变异
 B. 褐飞虱单独存在时, 有利于新放置的二化螟虫体生长

- C. 二化螟和褐飞虱都在水稻植株上产卵繁殖,它们的生态位完全相同
D. 没有褐飞虱和二化螟寄生时,新放置的二化螟的种内竞争最强
16. “窗前修竹霭如云,巧语春禽只听闻”是宋朝孙正平《春日岭南》中对岭南风光的描述。下列相关叙述正确的是
- A. “修竹”和“春禽”等生物构成了一个生态系统
B. 高低错落的修竹体现了群落具有一定的垂直结构
C. “春禽巧语”是通过物理信息调节种间关系和促进种群繁衍
D. 诗人通过赏景而写诗体现了生物多样性的潜在价值
17. 科学家发现了一种粘杆菌,并从该粘杆菌的代谢产物中提取了粘杆菌素,粘杆菌素可以杀死抗青霉素的超级金黄色葡萄球菌,医学上可用于治疗超级细菌感染。下列相关说法正确的是
- A. 粘杆菌能产生粘杆菌素的根本原因是其细胞中含有合成粘杆菌素的酶
B. 粘杆菌素可杀死抗青霉素的超级金黄色葡萄球菌,导致抗青霉素基因频率下降
C. 青霉素对金黄色葡萄球菌进行了定向选择,这是新物种形成的必要条件
D. 抗青霉素的超级金黄色葡萄球菌的产生说明基因突变可产生进化的原材料
18. 1986年,广东湛江农业科学家陈日胜发现海水稻具有很高的科学研究和利用价值,并因此申请了专利,将其定名为“海稻 86”。袁隆平院士成立的青岛海水稻研究发展中心以“海稻 86”为基础培育了多个植物新品种。下列相关说法正确的是
- A. 将“海稻 86”和淡水稻的体细胞进行杂交,培育的新物种具有两种水稻的优良性状
B. 对经紫外线照射的“海稻 86”的花药进行花药离体培养,可以快速获得纯合的优良品种
C. 利用农杆菌转化法可将“海稻 86”的抗盐碱基因整合到其他植物细胞的染色体 DNA 上
D. 可通过核酸分子杂交的方法判断导入的“海稻 86”的抗盐碱基因是否成功表达
19. 中药在我国凭借切实的疗效得到了广泛应用。芍药的主要药效成分是芍药苷,研究人员制备了抗芍药苷的单克隆抗体。下列叙述错误的是
- A. 抗芍药苷的单克隆抗体由淋巴细胞产生
B. 抗芍药苷的单克隆抗体的本质是蛋白质
C. 抗芍药苷的单克隆抗体可在体外大量制备
D. 抗芍药苷的单克隆抗体特异性强、灵敏度高
20. 某研究小组的两位同学为研究手机表面和马桶按钮上的微生物,分别取样并进行了微生物培养实验,其过程和结果如下图所示。下列相关说法正确的是



生物学试题(一) 第5页 共8页

- A. 为了防止杂菌污染,在实验前需要对培养皿、试管和菌悬液等进行灭菌
 B. 若甲同学还分别检测了两物体表面的微生物数量,则检测值可能比实际值偏小
 C. 图中的特殊处理是指将无菌棉插入到蒸馏水中,多次换水并振荡
 D. 造成两甲、乙实验结果不同的原因可能是培养基不同或接种方法不同

二、非选择题:本题共 4 小题,共 60 分。

21. (14 分)IRP 是一种调节线粒体结构和功能稳定性的蛋白质。为了解 IRP 对线粒体功能的调节作用和具体机制,科学家进行了相关实验。回答下列问题:

(1)线粒体是进行有氧呼吸第_____阶段的场所,线粒体增加膜面积的方式是_____。

(2)JC10 是一种荧光染料,JC10 的单体发绿色荧光。正常线粒体发挥功能时,会发生膜电位的变化,变化的膜电位会使得 JC10 聚合形成多聚体进而发出红色荧光。科学家检测了 JC10 处理野生型和 IRP 敲除(不表达)小鼠细胞的荧光情况,结果如图 1 所示。图中结果说明 IRP 对线粒体正常发挥功能是必要的,判断依据是_____。

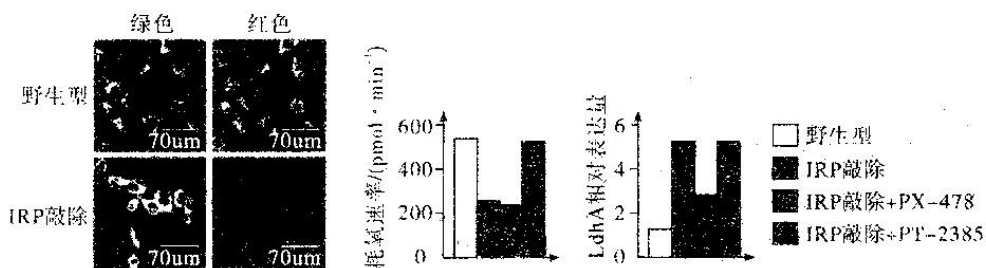


图 1

图 2

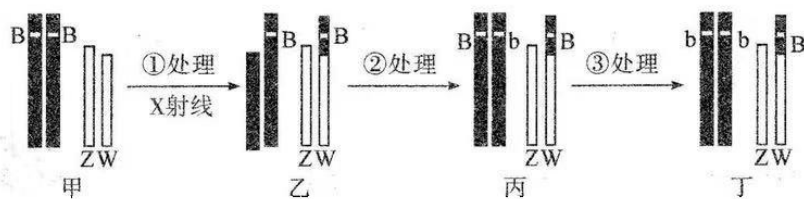
图 3

(3)研究发现,IRP 敲除小鼠中 Hif1 α 和 Hif2 α 两种蛋白的含量明显高于野生型。为探究 IRP 敲除小鼠中这两种蛋白的作用,科学家继续进行了实验。抑制剂 PX-478 和 PT-2385 可以分别抑制 Hif1 α 和 Hif2 α 两种蛋白的功能。

①测量野生型和 IRP 敲除小鼠线粒体的耗氧速率,结果如图 2 所示,说明 IRP 敲除小鼠线粒体功能障碍的原因主要是_____蛋白含量的提高抑制了有氧呼吸第_____阶段。

②测量 LdhA(呼吸作用第一阶段的_____一种酶)表达量,结果如图 3 所示,说明 IRP 敲除小鼠的 Hif1 α 蛋白含量提高后_____ (填“促进”或“抑制”)了 LdhA 的表达。

22. (12 分)由于雄蚕生殖腺发育所需的营养物质比雌蚕少,因此雄蚕的吐丝量比雌蚕高且蚕丝质量好,养殖雄蚕具有更高的经济效益。但在蚕的卵和幼虫期鉴别雌雄是非常困难的。蚕的卵有黑壳和白壳两种,分别由常染色体上的基因 B/b 控制。科学家利用 X 射线处理,将家蚕常染色体上使蚕卵呈黑色的基因 B 转移到 W 染色体上,再经一系列处理,获得染色体如丁的雌性个体,流程如下图所示(染色体按实际大小比例画出)。回答下列问题:



- (1) 经 X 射线处理, 甲到乙的变化属于_____变异。从杂交角度分析, ②处理可能是_____。
- (2) 科学家利用 X 射线处理黑色卵的个体甲, 最终期望获得丁, 这样做的意义是_____。
- (3) 经上述方式处理过的几种雌性个体, 它们的卵壳都是_____色的, 且它们混杂在一起, 无法分辨。请利用题干中涉及的个体, 设计一个杂交实验, 从上述雌性个体中选出染色体组型为丁型的个体。简述实验操作过程及结果:_____。

23. (18 分) 高原鼠兔是广泛分布于青藏高原上的一种小型啮齿动物, 其挖洞造丘、啃食牧草可能引起草地退化。科研人员拟通过植被调控来进行生态防控。回答下列问题:

- (1) 生态系统是指在一定的空间内, 由_____相互作用形成的统一整体。从生态系统的结构上划分, 高原鼠兔属于_____。
- (2) 披碱草是退化草地改良中常用的草种。科研人员在高原鼠兔分布密集草地建立围栏样地, 设置鼠害草地、补播草地(即鼠害草地部分区域替换成披碱草)和人工披碱草草地三种样地研究草地植物群落结构的变化对高原鼠兔种群密度的影响。

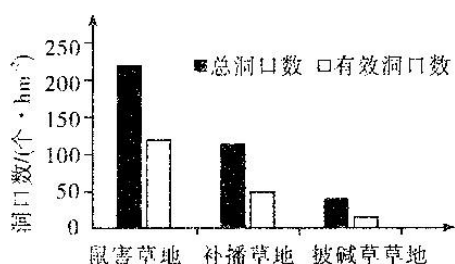


图 1

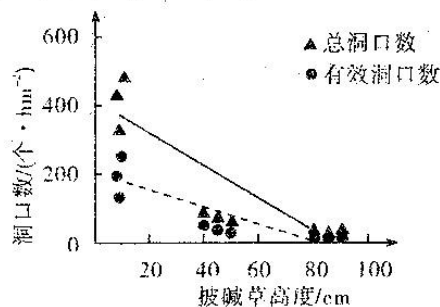
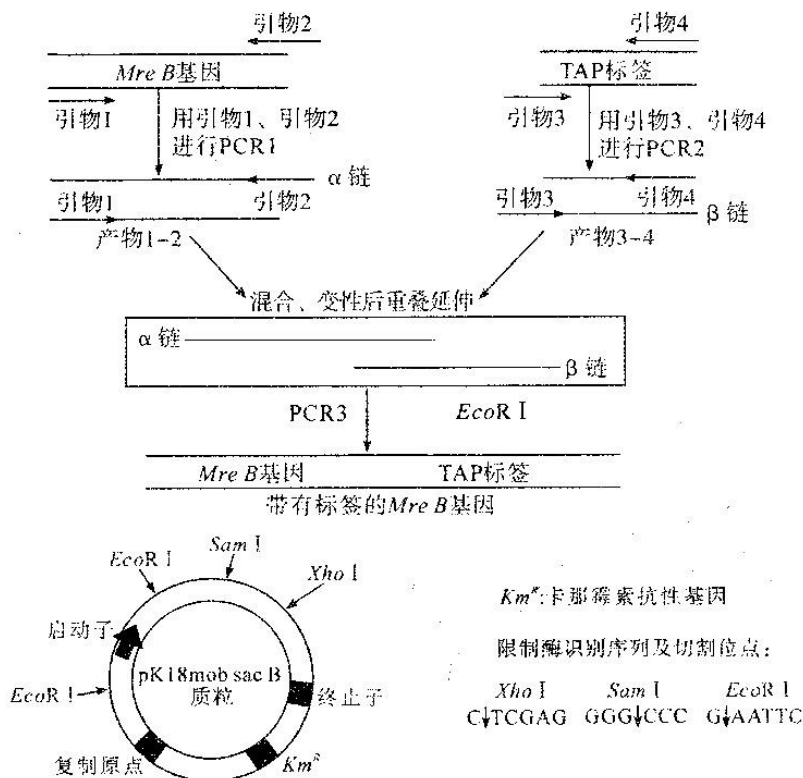


图 2

- ① 通过测定有效洞口数来表示鼠兔的种群密度。图 1 表明, 种植披碱草能_____ (填“升高”或“降低”) 高原鼠兔的种群密度, 判断的依据是_____。
- ② 高原鼠兔的食物组成为紫花针茅等植物。据此推测, 补播草地和披碱草草地中高原鼠兔种群密度变化的原因是_____。
- (3) 鼠害天然草地变为补播或人工草地后, 原来低矮的草种被高大的披碱草所取代, 群落的_____结构发生了改变。继续研究披碱草高度与鼠兔种群密度的关系, 图 2 结果表明随着披碱草高度增加, 鼠兔种群密度_____ (填“增大”或“减小”)。由此推测, 高原鼠兔喜欢生活在_____ (填“视野开阔”或“有高大遮蔽物”) 的环境中。

24. (16分) 幽门螺杆菌是一种常见的人类致病菌, 其骨架蛋白 Mre B 通过影响脲酶活性而参与调控其致病性。为了更准确地分离出 Mre B 蛋白, 用重叠延伸 PCR 技术(指在 PCR 技术的基础上, 采用具有互补末端的引物, 使 PCR 产物形成重叠链, 通过重叠链的延伸, 将不同来源的片段重叠拼接起来的一项技术), 将幽门螺杆菌 Mre B 基因中编码终止密码子前的 DNA 序列与 TAP 标签(可以标记幽门螺杆菌基因组中任何一个基因, 且不会影响基因的表达)进行连接, 构建了融合表达蛋白 Mre B 和 TAP 标签的质粒, 实验流程如图所示。据图回答下列问题:



(1) 重叠 PCR 获得带有标签的 Mre B 基因

- ① 获得两种具有重叠片段 DNA 的过程中, PCR1 和 PCR2 必须在不同的反应体系中, 原因是_____。
- ② PCR3 反应体系中所加入的引物是_____。

(2) 重组质粒的构建

- ① 为将带有标签的 Mre B 基因定向插入到 pK18mob sac B 质粒中, 需要在引物末端添加限制酶识别序列, 据图分析, 在引物 1 添加的序列所对应的限制酶是_____, 在引物 4 添加的序列所对应的限制酶是_____。经过这两种酶酶切的带有标签的 Mre B 基因和 pK18mob sac B 质粒进行连接时, 可选用_____ (填“E. Coli DNA 连接酶”或“T4DNA 连接酶”)。
- ② 重组质粒中, Km^R 基因的作用是_____。

关于我们

自主选拔在线是致力于提供新高考生涯规划、强基计划、综合评价、三位一体、学科竞赛等政策资讯的升学服务平台。总部坐落于北京，旗下拥有网站（网址：www.zizzs.com）和微信公众平台等媒体矩阵，用户群体涵盖全国 90% 以上的重点中学师生及家长，在全国新高考、自主选拔领域首屈一指。

如需第一时间获取相关资讯及备考指南，请关注**自主选拔在线**官方微信号：**zizzsw**。



微信搜一搜

自主选拔在线

