

高一地理试卷

考生注意：

1. 本试卷分选择题和非选择题两部分，共 100 分。考试时间 75 分钟。
2. 请将各题答案填写在答题卡上。
3. 本试卷主要考试内容：必修二第一章至第三章。

一、选择题：本题共 16 小题，每小题 3 分，共 48 分。在每小题给出的四个选项中，只有一项是符合题目要求的。

乌克兰人口超过 4300 万人，自 2022 年以来乌克兰人口向国外流动数量增加。下图为 2022 年 2 月 24 日至 3 月 3 日乌克兰人口流向图(单位：人)。据此完成 1~2 题。

1. 影响此时段乌克兰人口流向国外的主要因素是

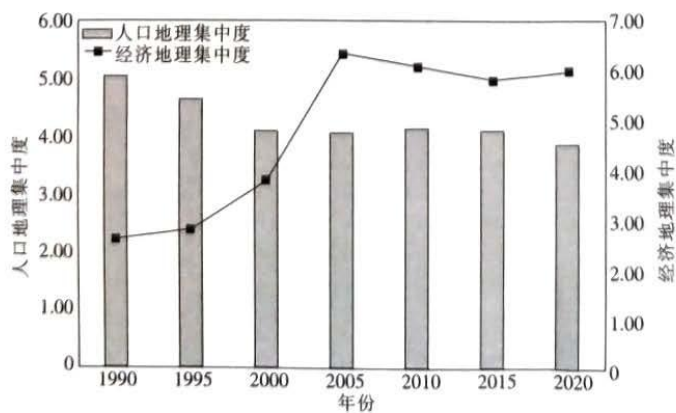
- A. 政策
- B. 经济
- C. 战争
- D. 教育

2. 乌克兰人口流向国外会

- A. 提高波兰的人口合理容量
- B. 减少匈牙利老年人口数量
- C. 导致罗马尼亚发生内乱
- D. 增加摩尔多瓦人地压力



京津冀地区经济发展和人口空间分布都呈现明显的差异性。下图示意 1990~2020 年京津冀地区人口与经济地理集中度指数的均值变化(数值越高，集中度越高)。据此完成 3~4 题。



考号

题

答

要

不

内

线

封

密

班

级

学

校

3. 京津冀地区人口分布

- A. 集中在少数大城市
- B. 呈现均衡化发展趋势
- C. 由城市向乡村迁移
- D. 与经济变化趋势一致

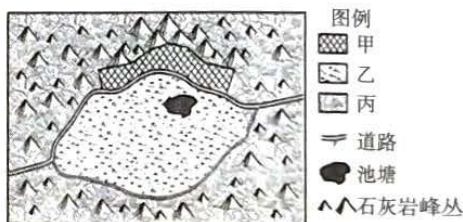
4. 推测 2015 年后京津冀地区人口地理集中度变化的主要成因是

- A. 环境质量变化
- B. 农业发展
- C. 交通改善
- D. 政策引导

在我国西南部喀斯特地貌区,人们的生产、生活用地主要分布在山间的“坝子”中。下图示意我国某喀斯特地貌区的土地利用状况,其中甲、乙、丙表示主要土地利用类型。据此完成 5~7 题。

5. 图中甲土地利用类型最可能为

- A. 居住用地
- B. 林业用地
- C. 耕作用地
- D. 畜牧用地



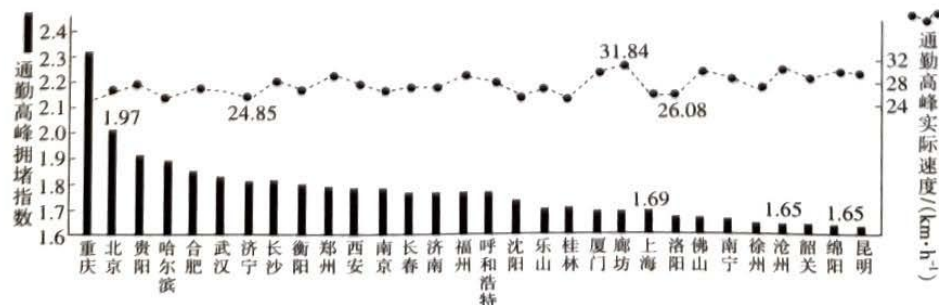
6. 影响乙、丙土地利用类型差异的最主要因素是

- A. 水源
- B. 土壤肥力
- C. 地形
- D. 土地面积

7. 甲土地利用类型面积不断扩大,可能会导致当地

- A. 环境承载力提升
- B. 生物多样性减少
- C. 粮食总产量提高
- D. 水资源总量减少

交通拥堵问题是我国城镇化过程中面临的主要问题之一,一般用通勤高峰期拥堵指数来衡量某城市的交通拥堵程度,指数越大,代表交通拥堵程度越高。下图为 2020 年第一季度我国部分城市通勤高峰拥堵指数和实际速度统计图。据此完成 8~9 题。



8. 重庆通勤高峰拥堵指数大的主要原因是

- A. 车流量大

- B. 道路狭窄
- C. 地形崎岖
- D. 公共交通不完善

9. 为解决通勤高峰交通拥堵问题,最经济低碳的措施是

- A. 鼓励乘坐公共交通
- B. 私家车限号出行
- C. 完善立体交通网络
- D. 各行业延时上下班

地域文化是一定地域人类活动的产物,地域的地理环境在一定程度上影响着地域文化的形成。建筑物作为物质文化景观,最能体现一定的地域文化特色,也能在一定程度上体现地理环境特点。肯尼亚位于非洲东部,是一个位于赤道上的国家。下图为肯尼亚茅草屋景观图。据此完成 10~11 题。

10. 肯尼亚茅草屋在建造过程中就地取材,反映了当地

- A. 冬季寒冷
- B. 土壤肥沃
- C. 气候湿润
- D. 乔木较少



11. 除了居住外,肯尼亚茅草屋主要的开发利用方向是

- A. 作为文物传承保护
- B. 拆迁发展城镇
- C. 开展生态旅游活动
- D. 作为仓储仓库

造船业是为水上交通、海洋开发和国防建设等行业提供技术和装备的现代综合性行业。长三角是我国最主要的造船业集聚地之一。目前,长三角造船业正由小型散货船向天然气运输船、工程船等高附加值船转型。据此完成 12~14 题。

12. 长三角造船业集中分布在

- A. 长江支流处
- B. 水域广阔的乡村
- C. 大城市商业区
- D. 沿河、沿海港口地区

13. 影响长三角造船业集聚的主要因素是

- A. 市场
- B. 技术
- C. 交通
- D. 劳动力

14. 长三角造船业转型发展主要是为了

- A. 增加长三角船舶销量
- B. 降低单一船只制造成本
- C. 提升造船业的竞争力
- D. 增加长三角地区就业率

2023年五一假期,山东淄博烧烤“火”出天际。下图示意淄博烧烤店五大集中分布区(颜色越深表示集中度越高)。据此完成15~16题。



15. 淄博烧烤属于服务业中的

- A. 生产性服务业
- B. 生活性服务业
- C. 公共服务业
- D. 公益服务业

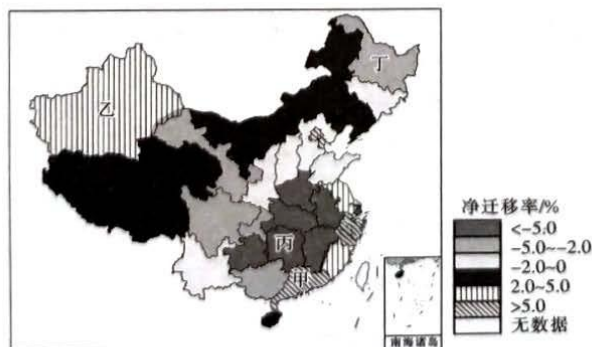
16. 影响淄博烧烤店集中分布区选址的首要因素是

- A. 交通
- B. 原料
- C. 地价
- D. 劳动力

二、非选择题:共52分。

17. 阅读图文材料,完成下列要求。(12分)

人口净迁移率是一定地区、一定时期迁入和迁出人口数量的差值与平均人口数量之比,正值反映人口净迁入;负值反映人口净迁出。下图为近些年我国省际人口净迁移率分布图。



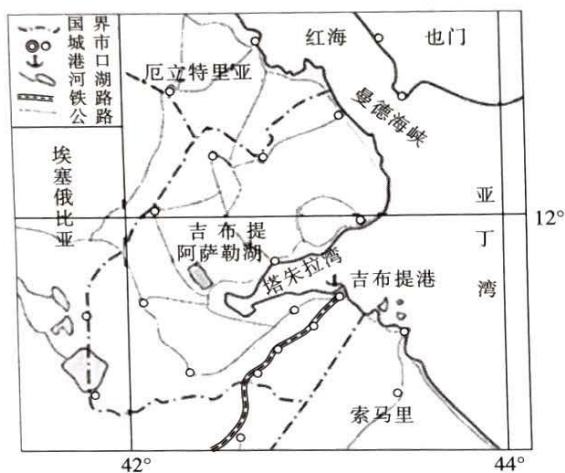
(1) 简述丁省区人口净迁移率的特点及主要原因。(4分)

(2) 指出甲、乙、丙三省区中人口容量最大的省区,并简要说明原因。(3分)

(3) 近些年乙省区人口净迁移率增加,试推测其主要影响因素及可能产生的问题。(5分)

18. 阅读图文材料,完成下列要求。(12分)

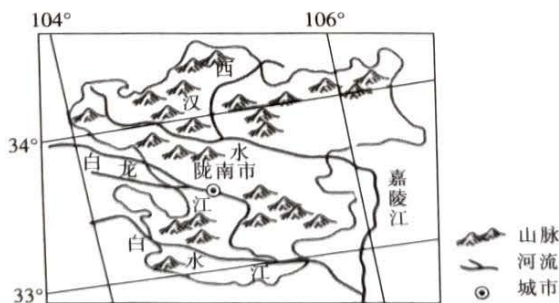
非洲平均城镇化率为43.8%,但吉布提的城镇化率高达79%。吉布提地处非洲东北部亚丁湾西岸,扼红海进入印度洋的要冲曼德海峡。首都吉布提市,人口约100万人,其他城镇规模较小,人口少。该国农业以畜牧业为主,约占国内生产总值的3%,服务业是经济的支柱产业,约占国内生产总值的80%。下图示意吉布提城市分布。



- (1) 简述吉布提城镇化水平高的原因。(4分)
- (2) 说明人口集中分布在吉布提市带来的问题。(4分)
- (3) 为吉布提市城镇化健康有序发展提出可行性建议。(4分)

19. 阅读图文材料,完成下列要求。(14分)

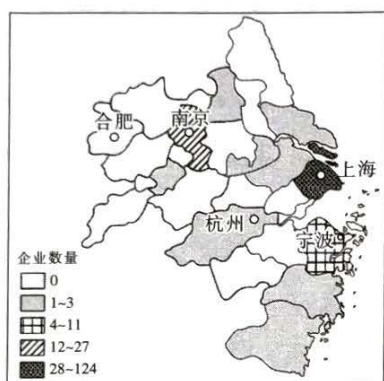
甜柿喜光耐旱,不耐低温,不耐湿。陇南市地处低山宽谷地带,甜柿早在清代就已经在该地区广泛种植,其果实肉厚香甜、营养丰富。除了外销甜柿,陇南还发展柿子果胶、柿子皮果酒、柿子皮软糖等衍生产品,目前陇南市正在申请甜柿生态原产地保护产品商标。下图示意陇南市地形。



- (1) 分析陇南市甜柿种植的有利地形和土壤条件。(4分)
- (2) 陇南市甜柿上市较晚,说明这样做的好处。(4分)
- (3) 简述陇南市甜柿生态原产地保护产品商标申请成功后给当地甜柿产业带来的有利影响。(6分)

20. 阅读图文材料,完成下列要求。(14分)

高端航运服务企业主要从事航运交易、海事融资、海上保险、海事仲裁、船舶经纪、风险管理、货运代理、航运信息咨询、航运培训等方面的服务。上海市高端航运服务企业发展速度快,企业数量从2006年的31家增加到2018年的124家。下图示意2018年长三角地区高端航运服务企业数量分布。



- (1)描述2018年长三角地区高端航运服务企业的空间分布特征。(4分)
- (2)指出上海市与合肥市高端航运服务企业数量差异的主要影响因素。(4分)
- (3)简述上海市高端航运服务企业数量变化对长三角地区社会经济发展的有利影响。(6分)

密封线内不要答题

关于我们

自主选拔在线是致力于提供新高考生涯规划、强基计划、综合评价、三位一体、学科竞赛等政策资讯的升学服务平台。总部坐落于北京，旗下拥有网站（[网址: www.zizzs.com](http://www.zizzs.com)）和微信公众平台等媒体矩阵，用户群体涵盖全国 90% 以上的重点中学师生及家长，在全国新高考、自主选拔领域首屈一指。

如需第一时间获取相关资讯及备考指南，请关注**自主选拔在线**官方微信信号：**zizzsw**。

