

# 岳阳市 2023 届高三教学质量监测 (一)

## 历史试卷

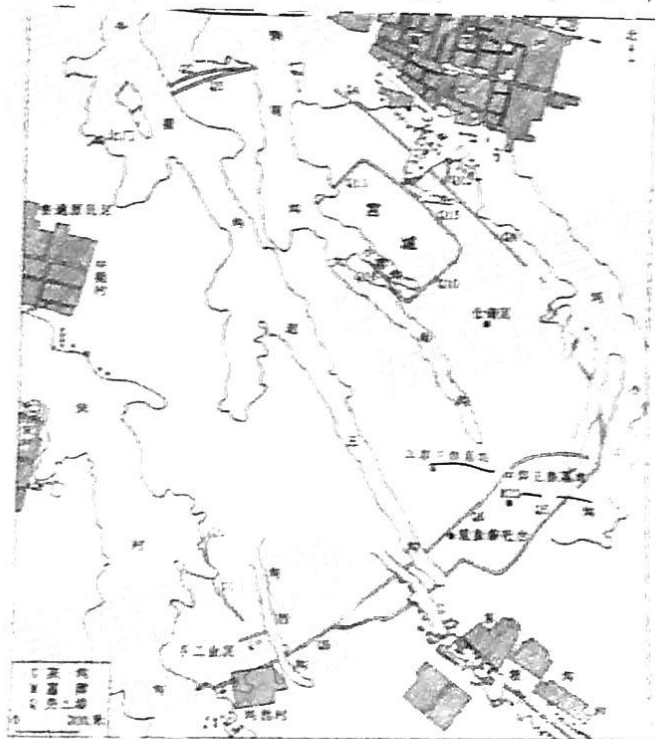
本试卷共 8 页, 20 道题, 满分 100 分, 考试用时 75 分钟。

### 注意事项:

1. 答卷前, 考生务必将自己的学校、班级、考号、姓名填写在答题卡上。
2. 作答选择题时, 选出每小题答案后, 用 2B 铅笔在答题卡上对应题目选项的答案信息点涂黑; 如需改动, 用橡皮擦干净后, 再选涂其它答案。答案不能答在试卷上。
3. 非选择题必须用黑色字迹的钢笔或签字笔作答, 答案必须写在答题卡各题目指定区域内相应位置上; 如需改动, 先划掉原来的答案, 然后再写上新答案; 不准使用铅笔和涂改液。不按以上要求作答无效。
4. 考生必须保证答题卡的整洁。考试结束后, 将答题卡交回。

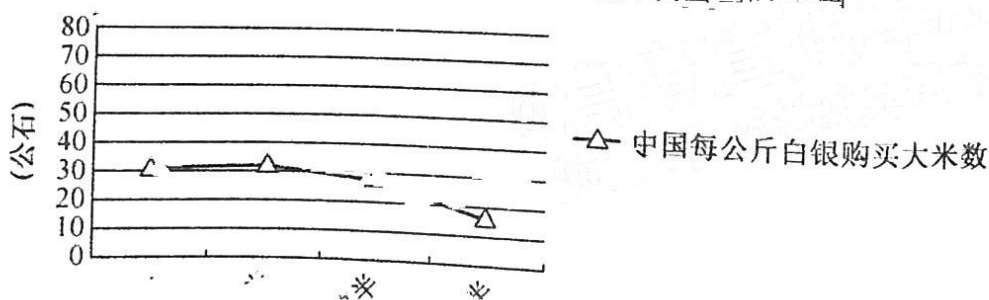
一、选择题: 本题共 16 小题, 每小题 3 分, 共 48 分。在每小题给出的四个选项中, 只有一项是符合题目要求的。

1. 下图为龙山时期的山西襄汾陶寺城址。由此可知当时



- A. 社会阶层分化开始出现
- B. 奴隶制度走向繁荣
- C. 初步形成复杂社会系统
- D. 进入传统农耕时代

2. 公元前124年，汉武帝让平民出身的儒生公孙弘做丞相，改变了即位早期由贵族做丞相的惯例。之后，汉武帝又让贤良之士“并在左右”与大臣辩论。这反映了当时
- A. 中央与地方的矛盾凸显                      B. 国家治理体系的创新  
C. 皇权进一步加强的趋势                      D. 选官制度的重大变革
3. 相对于科举及第者而言，落第者们更贴近下层民众，他们或聚徒讲学，或影响公共事务，成为乡里文化的普及者 基层社会活动的组织者。这表明科举制度
- A. 有益于社会教化                                  B. 扩大了统治基础  
C. 有利于阶层流动                                  D. 推动了基层自治
4. 元代杂剧作家由于受城市分布的区域影响，其作品具有独特的风格，形成了相对固定的作家群体：大都作家群包括马致远、杨品之、纪君祥、张国宾等，杭州作家群包括鲍天佑、萧德祥、王晔、沈和等。这说明元代杂剧
- A. 凸显了南北文化的交融  
B. 得益于商品经济的繁荣  
C. 得到士大夫阶层的追捧  
D. 取决于城市的政治底蕴
5. 下图是 17 至 18 世纪中国白银购买力情况。这反映出当时中国



- A. 赋役的货币化导致白银贬值  
B. 传统重农抑商政策的松动  
C. 产品具有较强的国际竞争力  
D. 商业税成为政府主要税源

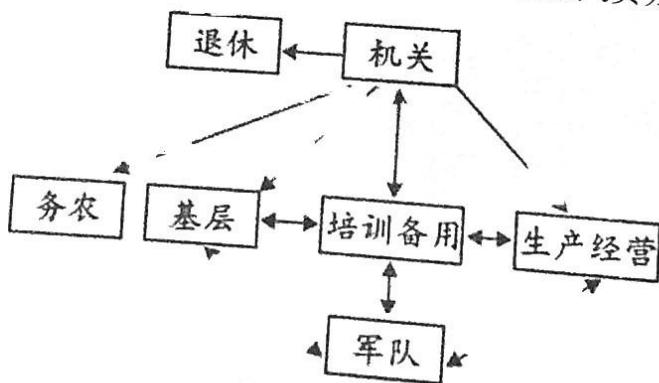
6. 鸦片战争后，魏源认为老子的“无为”思想中也有 作者之所忧患，体现了“革虚而致实”的理念。这反映出魏源
- A. 践行中体西用的主流价值理念
  - B. 根植传统探求救亡图存之道
  - C. 唤醒国人革新政治的忧患意识
  - D. 引领了近代社会变革的方向

7. 下表是 1916—1925 年我国面粉进出口数量统计表（单位：千关担）。

年份	进口量	出口量	出 (+) 入 (-) 超量
1916—1920 年	339.8	1750.9	+1411.1
1921—1925 年	3913.8	643.4	-3270.4

出现这一变化的主要原因是

- A. 自然经济的进一步解体
  - B. 国内农业严重衰退
  - C. 列强对华资本输出减少
  - D. 国际局势发生变化
8. 下图为 1941~1943 年陕甘宁边区实行精兵简政后富余人员分流渠道示意图。



- A. 保证了大生产运动的顺利开展
- B. 推动了抗日民族统一战线建立
- C. 积累了现代中国国家治理经验
- D. 增加了边区政府的消费性支出

9. 基辛格在《论中国》写道,“1969年,毛(中国)的外交政策走到了一个转折点。毛给当时的四位解放军大元帅布置了一个‘家庭作业’——分析当前的国际局势和中国战略选择,四大元帅引经据典,《三国演义》中‘三分天下’的典故,建议与当时的头号敌人美国打开关系”。由此可知
- A. 中国奉行全方位的外交政策  
B. 国家利益影响外交政策调整  
C. 目的是为改革开放营造环境  
D. 中美两国国家利益基本一致
10. 1978年邓小平在全国教育工作会议上指出:“教育工作要为社会主义建设服务……要贯彻教育与生产劳动相结合的原则”。1983年邓小平为景山学校题词:教育要面向现代化、面向世界、面向未来。这表明,邓小平的教育思想
- A. 反映了科教兴国战略的巨大成果  
B. 加快了教育领域拨乱反正步伐  
C. 实现了人才培养方针的根本转变  
D. 体现了时代性与求实性的结合
11. 亚历山大的部队进入埃及后,在尼罗河三角洲地区,他向埃及神祇阿蒙神像致以崇高敬意;在利比亚,他向宙斯献祭;在希腊,他向雅典娜献祭;在意大利,他还送给罗马人战神马尔斯的雕像;在迦太基,他向腓尼基的繁殖女神;在波斯,他向阿拉伯的阿拉伯神像献祭。亚历山大此举意在
- A. 笼络埃及神职人员  
B. 扩大希腊文化影响力  
C. 确立统治的合法性  
D. 改变马其顿宗教信仰
12. 中古时期,西欧的封建制度取代了罗马帝国的政治制度,基督教的传播使整个欧洲大陆
- A. 宗教统一  
B. 政治上的统一性  
C. 地区经济繁荣  
D. 文化基础的统一性

13. 17世纪初，荷兰法学家格劳秀斯指出，海洋是所有人共有的一项财富。无边无际的作为万物之母的海洋，是人类之家，不能成为任何国家的财物，主张海上航行、海上贸易自由，任何国家都不应为了私人利益加以限制。据此可知，格劳秀斯旨在
- A. 打破西葡两国的海上霸权  
B. 倡导自由主义贸易  
C. 打击西欧天主教教皇权威  
D. 缓和西欧间的矛盾
14. 1755年11月1日，号称“虔诚之都”的里斯本发生了大地震。在科学家对地震起因展开思考与探索时，启蒙哲人则利用这一事件倡导人们反对宗教和迷信。教会关于“上帝惩罚”的解释受到普遍质疑。由此可知
- A. 自然灾害频发推动了近代自然科学诞生  
B. 天主教会的权威开始受到全方位的冲击  
C. 启蒙运动的兴起和发展具有偶发性特点  
D. 突发事件加速了科学和理性思想的传播
15. 1933年，美国图书馆协会估计，自1929年以来新增的借书人大约在200万到300万之间，总的图书流通增长了将近50%；每20个成年人当中大约有19个人是报纸的读者。这一现象反映出美国当时
- A. 民众精神世界渴望慰藉  
B. 文化产业拉动了经济增长  
C. 国民素质得到大幅提升  
D. 科技革命推动出版业发展
16. 1976年4月，国际货币基金组织理事会在牙买加首都金斯敦通过《IMF协定第一修正案》，承认固定汇率制与浮动汇率制并存，成员国可自由选择汇率制度；同时IMF继续对各国货币汇率政策实行严格监督，并协调成员国的经济政策。这表明
- A. 布雷顿森林体系影响不复存在  
B. 美国丧失了经济霸主地位  
C. 发展中国家经济获得双重保障  
D. 各国经济发展独立性增强

· 非选择题：共 32 分。

阅读材料，完成下列要求。(14分)

材料一 早期儒家传说中，士的形象往往会与“贫”分不开。但到宋代，中国的社会结构发生了变化，魏晋至隋唐时期的豪门阶层渐次衰落，代之而起的是当时的布衣阶层。宋人郑樵总结道：“自五季以来，取士不问家世，婚姻不问阀阅。”  
知不足斋丛书 士人的姿态，随着科举制度的严密化，无疑会加速社会阶层的流变。相应地，宋代商业经济繁荣，社会中也出现了都市贫民阶层。

——张文涛《宋代救济制度与当代扶贫》

材料二 纵观中国的法制史，从商鞅变法开始，就规定商人及其子孙不得入仕，又将社会化为士、农、工、商四等，商人处于社会的最底层，在社会上处处受到歧视。一直到宋代，这种局面才发生了转变，商人的社会地位得到了巨大的提高。商人不再是低位的“杂类”，商业也不再是君子不齿的“贱业”。宋仁宗景元年(1034年)商人被编入坊廓户，成为国家编户齐民，具有民事主体地位。两宋法律赋予了商人很多权利，如参与国家政策的制定。……子孙可以入朝做官，且其人身财产受到国家法律的保护等等。

——杨军、刘金：《试析两宋经济立法的专门化对两宋社会及后世的影响》

(1) 根据材料一并结合所学知识，概括宋代社会结构的变化，并简析其原因。(8分)

(2) 根据材料二并结合所学知识，围绕“商人地位变化与社会生活”展开论述。(要求：自拟论题，史论结合，论证充分，表述清晰。)(6分)

· 阅读材料，完成下列要求。(12分)

材料 1874年日本侵略台湾前后，督理台湾军务的沈葆楨向清廷提出了在台联外交、储人才、储利器、通信息的方略，得到清廷采纳。随后，在沈葆楨、刘铭传等洋务派官员的主持和推动下，在台湾实行了加固城防、兴建炮台、增调舰船、整备军械、奖励移民、开山抚番、修建道路、开通电报、整顿吏治、第一条铁路、第一条由台出海的商船、第一条新式学校……

和发展成就最突出的地区之一。1983年，清政府下令在台湾建省，台湾成为当时中国的第23个省。

——摘编自王作仁《三变记（台湾近代早期技术发展考论）》

19. 根据材料并结合所学知识，说明19世纪中后期清廷重视台湾户部户部交防「三变记」的意义。（6分）

20. 根据材料并结合所学知识，简析19世纪中后期中国户部户部交防的积极意义。（6分）

21. 24分，以表格形式，完成「有关要求」。

材料一

一星夜一役。

日兵始知安一息。

	1895年	1911年	1949年
甲	11.1%	11.1%	11.1%
乙	11.1%	11.1%	11.1%
丙	11.1%	11.1%	11.1%

材料二

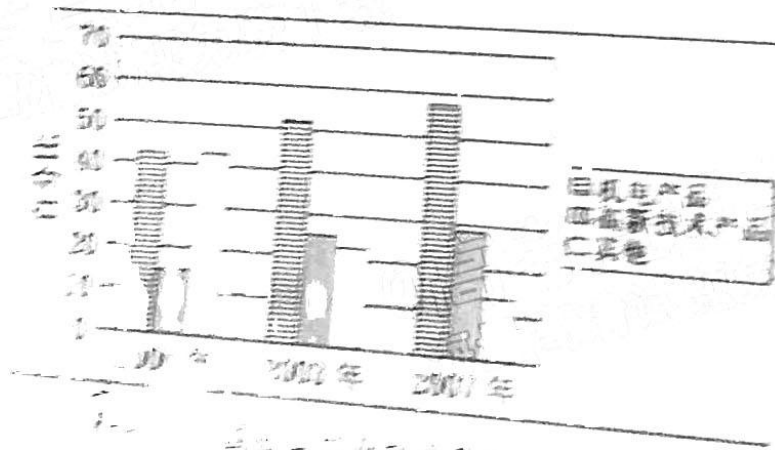


图 1 甲、乙、丙三类产业占比结构

22. 根据材料

二、三、四、五、六、七、八、九、十、十一、十二、十三、十四、十五、十六、十七、十八、十九、二十、二十一、二十二、二十三、二十四、二十五、二十六、二十七、二十八、二十九、三十、三十一、三十二、三十三、三十四、三十五、三十六、三十七、三十八、三十九、四十、四十一、四十二、四十三、四十四、四十五、四十六、四十七、四十八、四十九、五十、五十一、五十二、五十三、五十四、五十五、五十六、五十七、五十八、五十九、六十、六十一、六十二、六十三、六十四、六十五、六十六、六十七、六十八、六十九、七十、七十一、七十二、七十三、七十四、七十五、七十六、七十七、七十八、七十九、八十、八十一、八十二、八十三、八十四、八十五、八十六、八十七、八十八、八十九、九十、九十一、九十二、九十三、九十四、九十五、九十六、九十七、九十八、九十九、一百。

20. (12分) 三角贸易是指一个牵扯到三个区域或港口的贸易名词。它随着殖民扩张的不断深入、世界市场的扩展而发生着相应的变化。

阅读材料，完成下列要求。

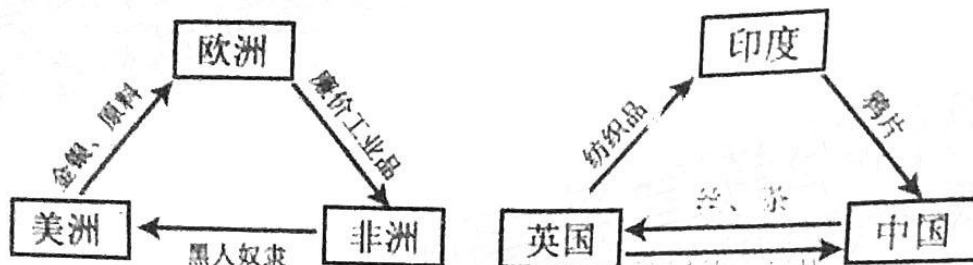


图 1

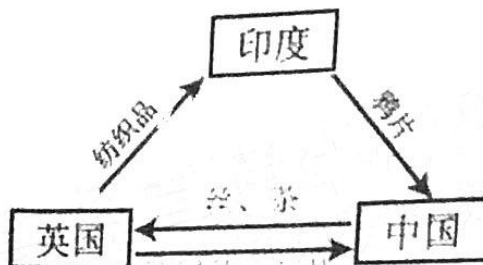


图 2

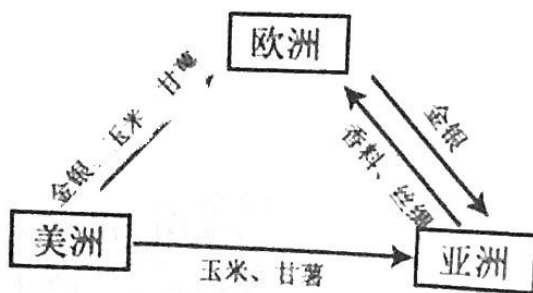


图 3

任选两幅图片，并结合所学知识，分别为其命名并加以说明。(要求：说明需要阐述依据。)(12分)



## 关于我们

自主选拔在线是致力于提供新高考生涯规划、强基计划、综合评价、三位一体、学科竞赛等政策资讯的升学服务平台。总部坐落于北京，旗下拥有网站（[网址：www.zizzs.com](http://www.zizzs.com)）和微信公众平台等媒体矩阵，用户群体涵盖全国 90% 以上的重点中学师生及家长，在全国新高考、自主选拔领域首屈一指。

如需第一时间获取相关资讯及备考指南，请关注**自主选拔在线**官方微信号：**zizzsw**。



 微信搜一搜

 自主选拔在线

