

★2023年3月17日上午

2023年河南省五市高三第一次联考

文科综合能力测试

本试题卷分为第Ⅰ卷(选择题)和第Ⅱ卷(非选择题)两部分。考生作答时,将答案答在答题卡上,在本试题卷上答题无效。考试结束后,监考老师只收答题卡。

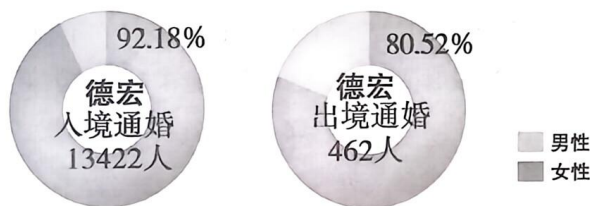
注意事项:

- 1.答题前,考生务必将自己的姓名、准考证号填写(涂)在答题卡上。考生要认真核对答题卡上粘贴的条形码的“准考证号、姓名”与考生本人准考证号、姓名是否一致。
- 2.第Ⅰ卷每小题选出答案后,用2B铅笔把答题卡上对应题目的正确答案标号涂黑,如需改动,用橡皮擦干净后,再选涂其他答案标号。第Ⅱ卷用黑色墨水签字笔在答题卡上书写作答,在试题上作答,答案无效。
- 3.本试卷共47题,共300分,考试时间150分钟。考试结束,监考教师将答题卡收回。

第Ⅰ卷(共140分)

本卷共35个小题,每小题4分,满分140分。在每小题给出的四个选项中,只有一项是符合题目要求的。

我国广西和云南一带与邻国之间经济文化交流密切。通过媒人“牵线”和边贸、打工(如砍蔗)等活动,为国内外青年男女提供了很多交往机会,产生了众多的跨国婚姻。下图为位于边境地区的云南省德宏州跨国婚姻涉及的男女比例(截至2016年底),据此完成1~3题。



- 1.每年的10月下旬,众多越南民众如候鸟般涌入广西,最有可能的动机是
A.跨境上学 B.边境贸易 C.外出务工 D.回乡探亲
- 2.当前,在滇桂边境上形成这种独特跨国婚姻特征的主要原因是
A.社会经济差异 B.临近的地缘关系
C.相同的民族习俗 D.亲缘纽带的牵引

高三文科综合能力测试 第1页(共16页)

3.2020 年以来,在特殊的国际环境下,我国跨国婚姻大幅减少的主要原因是

- A.产业结构的变化
B.政府政策变化
C.择偶标准的变化
D.适龄青年男女数量少

1999 年,我国开始实施“退耕还林还草”政策。但是在耕地“非农化”、“非粮化”背景下,2020 年 9 月,国家又实施“退林还耕”,禁止占用永久基本农田种植除农作物以外的经济林木,也不允许改变耕地用途。部分花农果农因需要“退林还耕”而遭遇发展困境。据此回答 4~6 题。

4.下列耕地中,不适合退耕还林还草的是

- A.生态承受力弱、不适宜耕种的坡耕地
B.水土流失、土地沙化严重的耕地
C.15°以上尤其是 25°以上的陡坡耕地
D.连续多年被撂荒的耕地

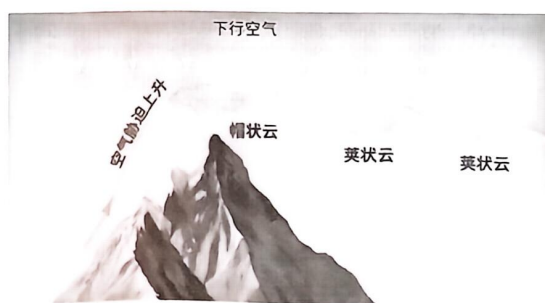
5.“退林还耕”政策实施后,与农业相关的哪些方面会迎来重大利好消息

- ①农机农具需求增长
②对蔬菜种苗需求量增加
③土地经纪人需求增加
④农民收益大幅增加
A.①②③
B.②③④
C.①③④
D.①②④

6.下列破解部分花农果农发展困境的措施中,最合理的是

- A.落实“退林还耕”一次性补偿政策
B.实施耕地进出平衡方案,并给予过渡期
C.控制和减少花卉的市场需求
D.将果树纳入“农作物”范畴

气流顺着—座高耸、孤立的—山峰抬升凝结成云,稳定在—山峰顶部不动,像大帽—样戴在—山顶上的这种特殊的地形云被称为帽状云。帽状云是一种在—山顶稳定气流和低水汽条件下形成的地形云,荚状云往往与帽状云相伴随(当山区气流越过山顶,在—山峰背风坡和平地上方,受波状气流影响,水汽遇冷凝结形成荚状云)。贡嘎山处于青藏高原的东南缘、四川盆地的西侧,山顶多帽状云,山地西坡成为摄影师们拍摄极高山帽状云的胜地。下图为帽状云和荚状云形成过程示意图,据此完成 7~8 题。



7.相对于东坡,摄影爱好者们更倾向于在贡嘎山西坡拍摄帽状云的主要原因是

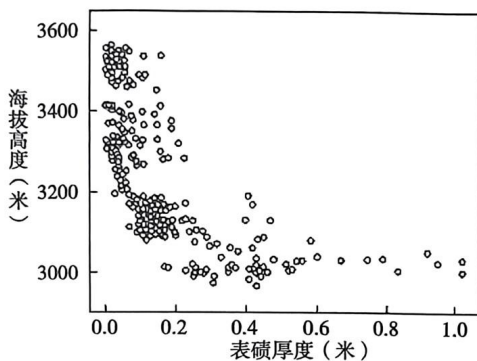
- A.西坡海拔高,气流运动较弱
B.东坡海拔低,温度高
C.东坡水汽充足,气流运动较强
D.西坡水汽含量少,大气透明度高

高三文科综合能力测试 第 2 页(共 16 页)

8. 位于燕山山脉南侧永定河冲积扇上的北京城市上空也曾出现难得一见的荚状云, 推测其原因是

- A. 城市热岛效应显著 B. 距海近, 水汽充足 C. 地形条件有利 D. 夏季风来临

表碛覆盖型冰川又称“脏冰川”, 是中国西部分布较为广泛的冰川类型, 其典型特征是冰川消融区部分或全部覆盖了一层厚度不一的表碛。表碛厚度及其空间分布对下覆冰川的消融过程影响显著, 也深刻影响着冰川流域径流的形成与变化过程。下图是青藏高原东南部海螺沟冰川区表碛厚度随海拔高度的变化特征, 据此回答 9~11 题。



9. 海螺沟冰川表碛厚度

- A. 消融区上部较薄 B. 海拔越低越厚
C. 冰川末端最薄 D. 由两侧向中间逐渐增厚

10. 下列关于表碛对冰川消融的影响, 正确的是

- ①表碛薄, 加速消融 ②表碛薄, 抑制消融 ③表碛厚, 加速消融 ④表碛厚, 抑制消融
A. ①③ B. ②④ C. ①④ D. ②③

11. 影响表碛在冰川区积累的最主要因素是

- A. 冰川运动速度 B. 陡坡的分布 C. 冰川规模大小 D. 冰川区温度

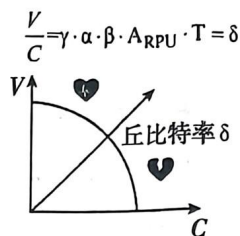
12. 2023 年中央 1 号文件指出, 要深入实施“数商兴农”和“互联网+”农产品出村进城工程, 鼓励发展农产品电商直采、定制生产等模式, 建设农副产品直播电商基地; 提升净菜、中央厨房等产业标准化和规范化水平, 培育发展预制菜产业。提出以上措施是基于

- ①创新销售模式, 增加农产品的使用价值
②延伸产业链, 增加农产品附加值
③培育乡村新业态, 发展壮大集体经济
④生产与消费对接, 助力农产品价值的实现

- A. ①② B. ①③ C. ②④ D. ③④

13. “丘比特经济模型”是基于“影响力—粉丝—付费用户”这一“影响力经济”变现路径推演
高三文科综合能力测试 第 3 页 (共 16 页)

出来的“五因子”模型。如图所示，V 代表商业价值，C 代表成本，丘比特率 δ 代表以下五个变量的函数： γ = 初见（从成本到影响力的转化变量）指数、 α = 暗恋（从影响力到粉丝的转化变量）指数、 β = 表白（从粉丝到付费用户的转化变量）指数、 $ARPU$ = 单位时间（频次）平均用户收入和 T = 时间（频次）。下列对该模型解读正确的是



- ①当 $\delta > 1$ 时，企业可能面临入不敷出的境况
- ②一般来说，企业的盈利能力与 δ 的大小成反比。
- ③付出一定成本开展有针对性的营销活动有助于提高 δ 值
- ④企业可以根据自身情况选择性价比最高的一个因子加大投资

A. ①② B. ①④ C. ②③ D. ③④

14. 我国资本服务实体经济功能不断提升。2021 年首次公开发行股票和再融资金额估计约 1.5 万亿元，股票和交易所债券市场融资合计超 10 万亿元，创历史新高。截止 2022 年 6 月末，A 股战略性新兴产业上市公司超过 2200 家，境内外专业投资机构持仓比三年前提升了 5.7%。党的二十大报告提出，要“健全资本市场功能，提高直接融资比重”。提高直接融资比重对经济发展的合理传导顺序是

- ①利用资本市场风险共担、利益共享的独特机制
- ②促进资本、科技和产业的紧密融合，推动科技创新
- ③降低贷款成本，激发市场主体活力
- ④推动产业结构调整，推动经济高质量发展
- ⑤引导资本自由流动，加快形成创新资本

A. ①—③—②—④ B. ①—⑤—②—④
C. ⑤—①—③—④ D. ②—⑤—①—④

15. 第五届中国国际进口博览会在 2022 年 11 月 5 日至 10 日在上海举办，发挥国际采购、人文交流、开放合作作用，规模越来越大，溢出效应越来越强，吸引了 284 家世界 500 强和行业龙头企业参展，有来自世界各地的新产品、新技术和新服务，成交金额 735.2 亿美元，比上届增长 3.9%。进博会的举办

- ①促进进口增加，繁荣生产与消费市场
- ②带动技术引进，促进产品创新研发
- ③优化营商环境，提高利用外资的水平
- ④高档品消费增加，居民消费趋于理性

A. ①② B. ①④ C. ②③ D. ③④

16. 加强数字政府建设、提升治理数字化水平，是建设数字中国的核心要义。我国数字政府高三文科综合能力测试 第 4 页（共 16 页）

建设取得重要进展,但也面临政务数据开放、个人信息保护、数据安全等方面问题。多地试点首席数据官制度,设立政府首席数据官,一定程度上解决了条块分割问题,实现对数据资源的统筹调度管理。设立政府首席数据官旨在

- ①发掘数据价值,提高政府治理效能
- ②提高行政服务能力,更好满足人民需要
- ③优化地方政府职能配置,保证政府数据安全
- ④提升数据利用效率,增强政府的公信力和权威

A.①② B.①④ C.②③ D.③④

17.湿地,被喻为“地球之肾”,是重要的生态系统,与人们的生产生活息息相关。党的十八大以来,以习近平同志为核心的党中央高度重视湿地保护修复工作,就保护湿地守护百姓福祉作出了一系列决策部署。2021年12月24日,十三届全国人大常委会第三十二次会议表决通过《中华人民共和国湿地保护法》,自2022年6月1日起施行。该法共7章65条,是我国首次针对湿地保护进行的专门立法。该法的通过

- ①表明了全国人大常委会是全国人大行使立法权的职能机构
- ②体现了人民代表大会制度的一项基本功能
- ③坚持民主集中制原则,提高立法的质量
- ④为保护湿地守护百姓福祉提供了根本政治保证

A.①③ B.①④ C.②③ D.②④

18.通过“小切口”真正解决民生大问题,从大处着眼,从小处着手,是政协协商向基层延伸实践探索并取得成效的突出特征。江苏省睢宁县建立县镇村三级基层协商民主工作网络,通过“协商前开展调研、协商中积极互动、协商后跟踪落实”程序设计,保障协商科学、管用、有效。政协协商向基层延伸有利于

- ①政协凝聚社会共识,推动决策科学化、民主化
- ②创新协商议政形式,推动协商民主的制度化发展
- ③畅通人民群众表达诉求,扩大公民有序政治参与
- ④发挥专门协商机构的作用,提升基层政权治理效能

A.①③ B.①④ C.②③ D.②④

19.2022年11月29日,“中国传统制茶技艺及其相关习俗”列入联合国教科文组织人类非物质文化遗产代表作名录,此次申遗有关茶园管理、茶叶采摘、茶的手工制作以及茶的饮用和分享的知识、技艺、实践等,涵盖绿茶、红茶、乌龙茶、白茶、黑茶、黄茶、再加工茶等传统制茶技艺,堪称我国历次人类非遗申报项目中的“体量之最”,有助于更多的人以茶会友,架起各国沟通交流的桥梁,在世界各地掀起中国文化的热潮。这说明

- ①茶文化是中华民族历史文化的长期积淀
- ②茶文化彰显中华文化独特的魅力和价值
- ③人们在社会实践中创造与享用文化
- ④通过交流互鉴促进各国对茶文化的认同

A.①② B.①④ C.②③ D.③④

20.2023 年元旦,国画风动画短片《小妖怪的夏天》上线后迅速爆红,该故事从全新的角度切入国人耳熟能详的《西游记》故事,不仅挖掘了“邪不能胜正”的根源,还用幽默、风趣的姿态阐释了当代职场的运行规则与生存诀窍,引发年轻人共情共鸣和普遍好评。从中可获得的启示是

- ①文化创作要坚持以人民为中心的创作导向
- ②文化创新需要为传统文化注入时代精神
- ③要发挥优秀传统文化的导向和示范作用
- ④要借鉴外来有益文化,融通不同文化资源

A.①② B.①④ C.②③ D.③④

21.漫画往往给人以启迪。下面漫画的哲学寓意是

- A.客观事物的存在不以人的意志为转移
- B.发挥主观能动性就能克服障碍
- C.矛盾双方在一定条件下相互转化
- D.意识对生理活动具有调节与控制作用



“凹”字告诉你：肯低头，就不会撞门

22.面对持续变异的新冠病毒,以习近平同志为核心的党中央坚持以人民为中心,因时因势优化完善防控措施。2022 年 11 月,研究部署进一步优化防控工作的二十条措施;12 月,公布“新十条”;2023 年 1 月 8 日,新冠病毒感染从“乙类甲管”调整为“乙类乙管”。这表明

- ①真理和谬误往往相伴而行,要正确认识和改正错误
- ②追求真理永无止境,要在实践中检验和发展真理
- ③客观事物的运动变化会影响认识结果
- ④真理是客观与主观具体的历史的统一

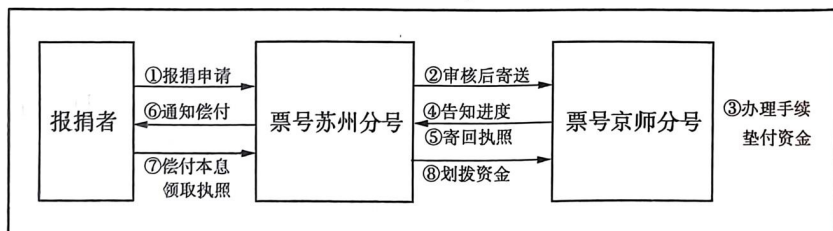
A.①② B.①④ C.②③ D.③④

23.《中共中央国务院关于深化供销合作社综合改革的决定》指出,供销社要坚持从“三农”工作大局出发,始终牢记为农服务宗旨,坚持合作制基本原则,深化体制机制改革,积极服务现代农业建设、乡村特色发展、城乡社区治理和农村人居环境整治,为实施乡村振兴战略、农业增效、农民增收作出了积极贡献。材料表明

- ①通过变革生产关系可以促进生产力的发展

高三文科综合能力测试 第 6 页 (共 16 页)

- ②通过改革上层建筑促进经济基础的发展
③先进的社会意识可以促进社会存在的发展
④生产关系的调整决定社会面貌的变化
- A.①② B.①③ C.②④ D.③④
- 24.商周政体中,君主的权力不是绝对的。商王在处理一些重大事务时,还要征求民众的意见;周王遇到重大问题也要向“国人”(平民)征求意见。这说明商周时期
- A.君主权力受到民众的限制 B.原始民主仍有一定影响
C.民众意见得到充分的尊重 D.早期君主制度尚不完善
- 25.秦律中有一系列与“孝”相关的内容,其中针对不孝的惩罚很细致,将不孝视为重罪;鼓励父母告发子女不孝;针对不孝施以流放、断足等严厉的刑罚。秦朝的做法
- A.有利于维护社会稳定 B.强调儒家的教化功能
C.确立了外儒内法策略 D.进一步完善法家学说
- 26.宋代在科举上实行独有的特奏名制度,政府对于多次试于礼部而不中者(仁宗以后增加了年龄要求),给予额外的考试资格并赐予进士头衔,给予他们中的大部分士人入仕机会。这一制度
- A.改变了政府选拔人才的方式 B.表明选官制在宋代得到完善
C.顺应了宋朝重文政策的要求 D.进一步加剧社会阶层的固化
- 27.明末清初一些思想家提出,君臣同治的基础是“为天下”和“为万民”,而“非为君也”,君臣皆应以“天下万民为事”;还提出“一姓之兴亡,私也,而生民之生死,公也”。据此可知,明清进步思想家
- A.认为君主专制阻碍了社会进步 B.适应了新兴资产阶级的需要
C.试图宣扬民主自由的启蒙思想 D.继承并发展了儒家民本思想
- 28.鸦片战争后,因捐纳(通过捐纳报请取得官职)手续繁杂,“大半归票商承办其事”。下面是蔚泰厚苏州票号代办捐纳流程示意图,这种代办方式



- A.提升了清政府在金融信贷监管领域的效能 B.有利于民族资本主义的发展
C.体现出晚清金融信贷领域已产生近代因素 D.降低了行政审批的办事效率

- 29.陈独秀说,我们反对孔教……不是说他在古代社会无价值。不过因他不能支配现代人心,适合现代潮流,还有一班人硬要拿他出来压迫现代人心,抵抗现代潮流,成了我们社会进化的最大障碍。据此可知,陈独秀
- A.批评传统儒家学说缺乏创新
B.意在反思新文化运动
C.并未完全否定孔子思想学说
D.指明社会落后的根源
- 30.1941年5月1日,陕甘宁边区政府颁布的《陕甘宁边区施政纲领》规定:“依据民族平等原则,实行蒙回民族与汉族在政治经济文化上的平等权利,建立蒙回民族的自治区,尊重蒙回民族的宗教信仰与风俗习惯。”这有利于
- A.发展民族区域自治制度
B.巩固和扩大革命统一战线
C.提升中华民族的凝聚力
D.推动抗日战争进入新阶段
- 31.1991年,邯鄲钢铁总厂厂长刘汉章将市场机制引入企业内部管理,创立推行“模拟市场核算,实行成本否决”的经营机制,形成了“邯钢经验”。“邯钢经验”
- A.有利于全面建设社会主义的开展
B.改变了企业的所有制结构
C.源于社会主义市场经济理论指导
D.顺应了经济体制改革潮流
- 32.苏格拉底认为应该“以知识取代运气,以人竞选取代人人抽签,选举城邦公职人员”。这表明苏格拉底主张
- A.增强公民意识提升城邦竞争能力
B.普及教育提升公民道德
C.改革民主程序规避直接民主弊端
D.削弱领袖权威防止专制
- 33.1494年,意大利数学家首次提出“复式簿记”的概念,建议商人在进行交易时,要以“贷方”和“借方”的身份在总账中记入两次,从而使经营者加强盈利意识。这反映了当时
- A.文艺复兴推动市场繁荣
B.人文精神深入人心
C.科学进步促进经济发展
D.商业活动广受关注
- 34.英国史学家艾瑞克·霍布斯鲍姆说:“无论什么时候,不管是在什么地方,只要有麻烦,就有《共产党宣言》……今天的世界依然是麻烦不断的世界,因此,世人仍然需要《共产党宣言》。”这样评价是因为《共产党宣言》
- A.全面系统地阐述了科学社会主义理论
B.明确了无产阶级革命的最终目的
C.指明阶级斗争对历史发展的推动作用
D.揭示了人类社会发展的基本规律
- 35.1964年,联合国贸易和发展会议构思和实施了普及特惠税制度,根据这一制度,发展中国家的农产品等商品在进入发达国家市场时,可以享受免税或者降低关税。这得益于
- A.多极化趋势的出现
B.新兴民族国家的发展壮大
C.联合国职能的转变
D.战后世界贸易体系的构建

第Ⅱ卷(非选择题 共160分)

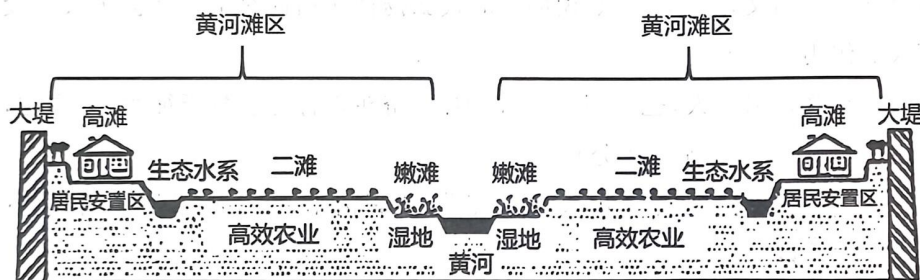
本卷包括必考题和选考题两部分。第36题~42题为必考题,每个试题考生都必须作答。第43题~47题为选考题,考生根据要求作答。

(一)必考题:共135分。

36.阅读图文材料,回答下列问题。(24分)

材料:黄河河槽与大堤之间的广阔滩区,根据过水差异划分为嫩滩、二滩和高滩三类滩地类型。这里既是汛期的行洪空间,也是区内群众的生产生活空间(如下图)。黄河下游山东段的滩区散居人口达60多万,建国以来遭受不同程度的漫滩洪水20余次,社会经济发展滞后,贫困发生率高。

近年来,山东省开展了黄河滩区的河道整治和居民迁建工作,提出了“三滩分治”的基本思路,即在高滩上安置生态移民,满足群众居住和产业发展需求;在二滩上开展生态治理,发展高效农业;在嫩滩上恢复生态湿地,限制居住和生产活动,以合理布局滩区的生产、生活和生态空间,提高面对风险时的快速应对、适应和恢复能力。



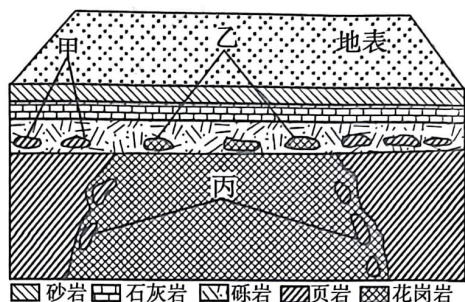
- (1)说明迁建工作实施前滩区贫困发生率高的主要原因。(6分)
- (2)目前滩区沉积功能已显著减弱,试分析其主要原因。(6分)
- (3)为保障人们生产生活安全,滩区需建设防洪生产堤。推测其建设位置并简析原因。(6分)
- (4)分析选择高滩作为居民安置功能区的原因。(6分)

37.阅读图文材料,完成下列要求。(22分)

材料:岩浆侵入过程中所捕获的围岩碎块,称为捕虏体;早期形成的岩层(石)发生长时间的沉积间断一剥蚀,后期又发生沉积作用形成新的岩层,上下岩层(石)之间的面称为不整合面。下图为某地地质剖面图,图中有岩石中存在捕虏体,且甲乙下部存在一

高三文科综合能力测试 第9页(共16页)

个不整合面。



- (1)请指出图中捕虏体存在的位置并说出判断理由。(4分)
- (2)分析图中不整合面形成前后的地质过程。(12分)
- (3)石灰岩是重要的工业原料。该地多采用露天开采而非井下开采,试分析原因。(6分)

38.阅读材料,完成下列要求。(14分)

材料一

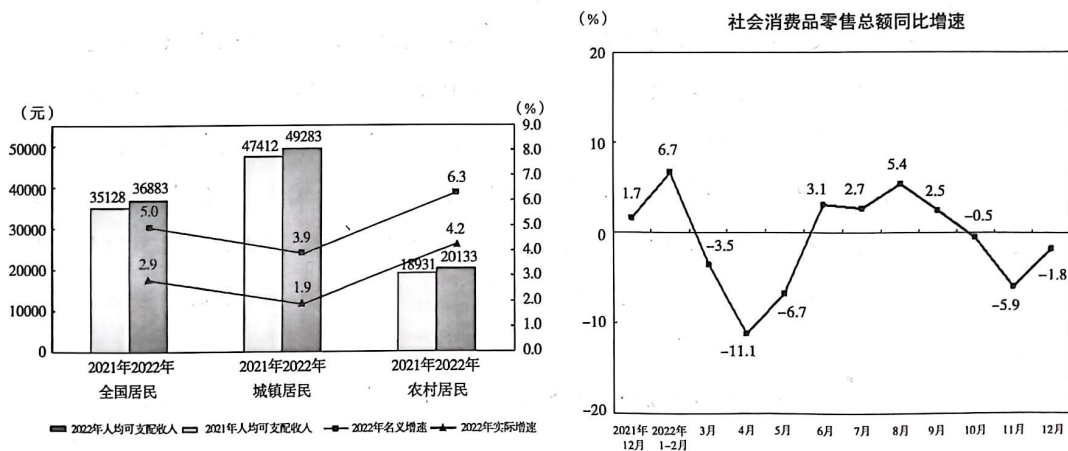


图1 2022年全国及城乡居民人均可支配收入与增速 图2 社会消费品零售总额同比增速

注:实际增速是一种扣除物价因素影响之后的增长幅度。

材料二

2023年1月28日召开的国务院常务会议提出“乘势推动消费加快恢复成为经济主拉动力”,并从多方面部署系列举措进一步促进消费回升。

我国推出稳经济一揽子政策和接续措施,突出稳经济大盘稳就业稳物价,为后续消费持续恢复提供了坚实基础。连日来,各地也频频亮出实招:新疆开展汽车消费补贴活

动、汽车下乡专项行动等,上海明确实施绿色智能家电消费补贴;陕西提出积极培育运动、康养、托育等消费新热点;老字号打造新国潮,不断焕新消费体验,持续探索打造新的消费场景;实体商业加速“触网”“上云”,积极开拓线上市场,新业态不断涌现;完善县域物流基础设施,畅通农产品上行与工业品下行渠道,提高农产品流通效率……多措并举促进内需潜力释放,有效促进消费扩容提质。

(1)结合材料一,解读图表信息。(4分)

(2)结合材料并运用经济生活知识,说明如何乘势推动消费加快恢复成为经济主拉动力。(10分)

39.阅读材料,完成下列要求。(12分)

党的二十大报告指出:“中国式现代化,是中国共产党领导的社会主义现代化,既有各国现代化的共同特征,更有基于自己国情的中国特色。”

实现中华民族伟大复兴和中国的现代化,是中国人民矢志不移的梦想和追求。在中国共产党诞生之前,没有任何政治力量能承担起这一历史使命。中国共产党的成立,解决了中国现代化事业的领导力量问题,为中国现代化指明了正确方向。毛泽东同志指出:“建设社会主义,原来要求是工业现代化,农业现代化,科学文化现代化,现在要加上国防现代化”,“工、农、商、学、兵、政、党这七个方面,党是领导一切的”。邓小平同志强调:“中国由共产党领导,中国的社会主义现代化建设事业由共产党领导,这个原则是不能动摇的;动摇了中国就要倒退到分裂和混乱,就不可能实现现代化。”特别是党的十八大以来,以习近平同志为核心的党中央成功推进和拓展了中国式现代化,他强调“只有毫不动摇坚持党的领导,中国式现代化才能前景光明、繁荣兴盛,否则就会偏离航线、丧失灵魂,甚至犯颠覆性错误。”

中国式现代化需要坚持和加强党的全面领导,过去是、现在是、将来也是。

中国式现代化,是中国共产党领导的社会主义现代化。结合材料运用政治生活有关知识,谈谈你对这一论断的理解。

40.阅读材料,完成下列要求。(26分)

力量源于团结,奋斗创造奇迹。团结奋斗是中国共产党和中国人民最显著的精神标识。

党的二十大报告指出,团结奋斗是中国人民创造历史伟业的必由之路。百年奋斗

高三文科综合能力测试 第11页(共16页)

历史告诉我们,围绕明确奋斗目标形成的团结才是最牢固的团结,依靠紧密团结进行的奋斗才是最有力的奋斗。过去一百年,党带领中国人民站起来、富起来、强起来,交出满意的答卷。现在,党团结带领全国各族人民踏上了实现第二个百年奋斗目标新的赶考之路,只有紧紧依靠人民,始终团结奋斗,我们才能在新征程上铸就新的时代辉煌。

新时代是奋斗者的时代,新征程是充满光荣和梦想的远征。与时间赛跑,为生命护航,医护人员全力守护人民群众健康;成千上万次试验,零隐患出厂调试,青年工匠为中国高铁不断抵达新远方保驾护航……新时代十年伟大变革,处处活跃着奋斗者的英姿,处处闪动着昂扬奋进的精神。在二十大结束后,习近平总书记到安阳考察时说道:“红旗渠就是纪念碑,记载了林县人认命、不服输、敢于战天斗地的英雄气概。要用红旗渠精神教育人民特别是广大青少年,社会主义是拼出来、干出来、拿命换来的。今天,物质生活大为改善,但愚公移山、艰苦奋斗的精神不能变。”习近平总书记的讲话为新时代弘扬党的优良传统提供了根本遵循,必须把奋斗作为根本要求。

- (1)结合材料运用社会历史主体的知识,说明党只有紧紧依靠人民团结奋斗才能铸就新的时代辉煌。(12分)
 - (2)结合材料运用文化生活知识,说明新时代弘扬奋斗精神对培养社会主义建设者与接班人的作用。(10分)
 - (3)广大青年既是追梦人,也是圆梦人,请你以“奋斗正青春筑梦新征程”为主题,向伟大的祖国写一份决心书。(4分)
- 要求:①围绕主题,观点鲜明;②论证充分,逻辑清晰;③学科术语使用规范;④字数在150字以内。

41.阅读材料,完成下列要求。(25分)

材料一:十月革命后,为“建设不同于资本主义的新社会”,1918年1月,全俄苏维埃第三次代表大会通过并颁布了“关于土地社会化”的法令。其中明确规定:“发展农业中的集体经济……减少个体经济,以便向社会主义经济过渡”,“粮食贸易,无论是外贸或内贸,都应由国家垄断”,“土地首先交给为公共利益而不是为谋取个人利益而且愿在土地上劳动的人使用”。对农民平均分配的只是革命前劳动农民实际使用的土地,而没收的地主、教会、官府的土地作为国家的后备土地,并没有在农民中平均分配,农民得到的土地比他们期望的要少得多。国家鼓励的不是个体农民经济,而是给集体经济形式以优先权。

——摘编自左凤荣、沈志华著《俄国现代化的曲折历程》(上)

高三文科综合能力测试 第12页(共16页)

材料二：新中国成立时，还有占全国人口一多半的新解放区尚未完成土地改革，严重阻碍了社会生产力发展。1950年6月30日，中央人民政府公布施行《中华人民共和国土地改革法》。它总结了党过去领导土地改革的经验和教训，又适应新中国成立后的新形势确定了新政策，提出保存富农经济，不动中农土地，限制没收地主财产范围等，以保护中农和分化地主阶级，减少土地改革阻力，促进生产的恢复和发展，成为指导新解放区土地改革的基本法律依据。到1952年底，除一部分少数民族地区外，全国大陆的土地改革基本完成。包括老解放区在内，全国约3亿无地少地的农民无偿获得约7亿亩土地，免除了过去每年向地主交纳的3000万吨以上粮食的地租。

——摘编自中央党史和文献研究院《中国共产党简史》

- (1) 根据材料一、二，概括新政权建立初期，中俄两国土地政策变革的特点。(8分)
- (2) 根据材料并结合所学知识，分别说明中俄两国土地政策变革的历史背景。(12分)
- (3) 根据材料并结合所学知识，简析新中国成立初期土地改革的历史经验。(5分)

42. 阅读材料，完成下列要求。(12分)

材料：语言是文化的载体，折射着社会的变迁。中国古代，各地方言与“官话”并行发展的同时，也不断地进行彼此间的交流融合。

时代	语言发展概况
西周和东周	各地方言差别很大。雅言(西周王畿一带王室所用方言)成为贵族通用的“标准音”。战国时各地方言差异更加复杂。雅言失去标准音地位，各诸侯国“言语异声”
汉代	形成南北两派方言，分别以秦晋方言和楚方言为核心。北方方言发生混化，逐渐糅合。关中话、洛语先后成为“官话”，并向周边扩展
魏晋南北朝	继承洛语为官话。西晋末年北方方言逐渐向南扩展，并与南方方言交融，逐渐形成“南染吴越、北杂夷虏”的现象。洛阳雅音吸收吴越方言而成的金陵音成为正统官话之一
隋唐	隋朝以金陵音和洛阳正音为基础融合形成长安音，唐承隋制。金陵音与长安音分庭抗礼，长安音逐渐成为正统

——根据《中国历史地理概述》等整理

高三文科综合能力测试 第13页(共16页)

从上述材料中任选两个或两个以上历史时期,结合所学知识,提炼出一个关于中国古代语言演进的观点,并进行阐述。(要求:明确列出所选择的历史时期,观点正确,史实准确,论证充分,表述清晰)

(二)选考题:共 25 分。请考生从 2 道地理题、3 道历史题中每科任选一题作答。并用 2B 铅笔在答题卡上将所选题目对应的题号方框涂黑。按所涂题号进行评分,不涂、多涂均按每科所答第一题评分;多答按每科所答第一题评分。

43.【地理——选修 3:旅游地理】根据材料和所学知识,回答下列问题。(10 分)

材料:赛里木湖位于新疆北天山山脉西段的山间盆地中,是新疆海拔最高,面积最大的山地冷水湖,风光秀丽,冬季拥有独一无二的美景奇观,如冰泡、湖星、球状冰汤圆等多种湖冰形态,当地政府欲将其打造成旅游胜地。右图为赛里木湖冰泡景观图。



(1)试说明冬季当地冰泡湖景观易于观赏的原因。(4 分)

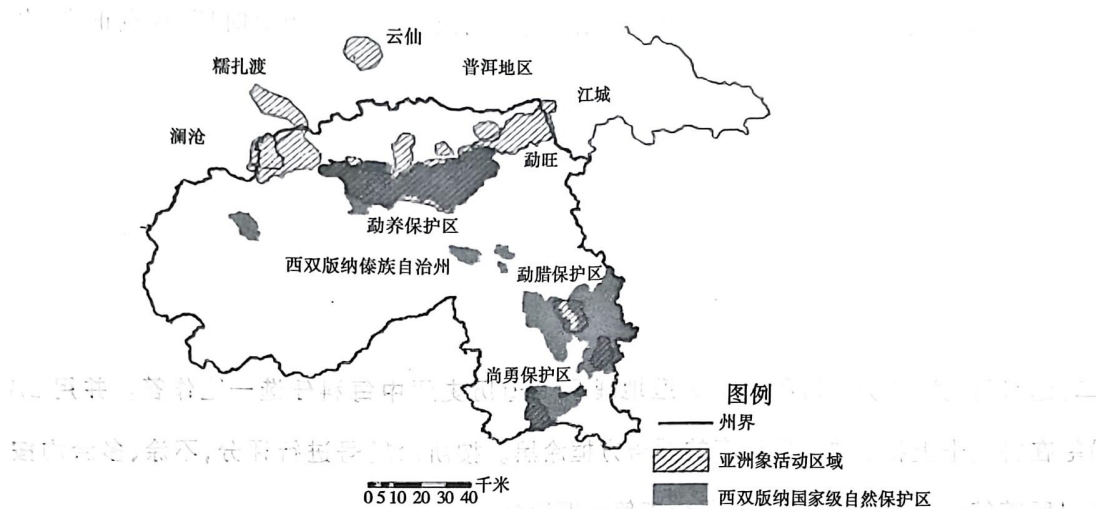
(2)请从旅游资源的角度分析当地进行旅游资源开发的不利条件。(6 分)

44.【地理——选修 6:环境保护】根据材料和所学知识,回答下列问题。(10 分)

材料:目前,我国野生亚洲象种群数量约为 360 头,分布于滇南的一些生态斑块内。近几十年来,云南当地农林经济和基础设施建设的飞速发展致使“人象混居”的现象愈加严重。下图为西双版纳傣族自治州野生亚洲象 2014 年种群分布图,当地政府意在亚

高三文科综合能力测试 第 14 页(共 16 页)

亚洲象定居点的边缘设立缓冲区,他们称之为“大象食堂”,在那里种植额外的饲料作物。



- (1) 试分析“人象混居”产生的不利影响。(4分)
- (2) 你是否赞同当地政府设立“大象食堂”,请表明态度并说明理由。(6分)

45.【历史——选修1:历史上重大改革回眸】阅读材料,完成下列要求。(15分)

材料:平城时代是北魏势力发展的重要时期,但随着北魏帝国的发展,平城已不再适宜作为都城。493年秋,孝文帝放弃平城,迁往洛阳。洛阳素有“王里”之称,却在晋末大乱时毁于兵火,“号为荒土”。孝文帝“营洛务求壮丽”,“礼盛周宣《斯干》(祝贺周朝贵族宫室落成的歌辞)之制,事高汉祖壮丽之仪”,里坊形制益发规整化。城中有“户十万九千余”,若按五口之家的标准计算,至少也有五六十万人。而后世王夫之则认为:迁洛“涂饰虚伪……糜天下于无实之文,自诧升平之象。强宗大族,以侈相尚……部落心离,浮华气长”,是北魏速亡的原因。

——摘编自陈汉玉《也谈北魏孝文帝的改革》等

- (1) 根据材料并结合所学知识,概括孝文帝时期重建洛阳的特点。(6分)
- (2) 根据材料并结合所学知识,简评孝文帝时期重建洛阳的活动。(9分)

46.【历史——选修3:20世纪的战争与和平】阅读材料,完成下列要求。(15分)

材料:1950年冬,中美两支王牌部队为扭转朝鲜战局在长津湖地区展开“强强对决”,该战役被称为“中美两国都不愿提及的血战”。在这场“钢铁人”与“钢铁武装”的较量中,志愿军创造了全歼美军一个整团的纪录,收复了三八线以北的东部广大地区。对于此次战役,英国战略学家罗伯特·奥内尔博士评价道:中国从他们的胜利中一跃成为一个不能再被人轻视的世界大国。《新闻周刊》评论:“也许这是美国历史上自珍珠港事件以来在军事上遭受的最惨痛的失败。”总结长津湖血战时,有一个说法,叫做“气多”战胜了“钢多”,“气多”的“气”,就是中国军人的气概!“钢多”的“钢”,说的就是美军的钢制武器装备。

——摘编自孙文晔《美国军事史上最大的失败,抗美援朝的转折点——血战长津湖》

- (1)根据材料并结合所学知识,概括长津湖战役中国获胜的原因。(6分)
- (2)根据材料并结合所学知识,简析长津湖战役的历史影响。(9分)

47.【历史——选修4:中外历史人物评说】阅读材料,完成下列要求。(15分)

材料:李四光坚信地震预报工作“很有意义,它是选择建设基地的开路性工作,应该走在基本建设的前面,这样就能直接为社会主义建设和国防建设的布局服务。在建设过程中我们就可以选择比较安全的地带或者遭到地震可能性最小的地区进行施工,减少基本建设费用,减免地震带来的危害。……我看了一点外国资料,没有人走这条路。我有这样的信心,在对构造体系活动性进行调查研究的基础上,运用地应力的方法去探索地震预报,这是走中国自己的道路。虽然是根据有限的经验,但是我们有理由相信沿着这条道路去摸清震中的分布,并探索它发展的趋势,是一条正确的道路。”他运用地质力学理论,把我国的地震预报工作推进了一大步。1969年渤海发生地震后,八十高龄的他不顾个人安危,仍深入房山等地调查地震地质现象。直到逝世的前一天,他还恳切地对医生表达了要继续做地震预报工作的意愿。

——摘编自陈群《李四光与新中国地质事业的开创和发展》

- (1)根据材料,概括李四光对地震预报工作的认识。(9分)
- (2)根据材料并结合所学知识,指出李四光在地震预报工作中所展现的精神品质。(6分)

关于我们

自主选拔在线是致力于提供新高考生涯规划、强基计划、综合评价、三位一体、学科竞赛等政策资讯的升学服务平台。总部坐落于北京，旗下拥有网站（[网址: www.zizzs.com](http://www.zizzs.com)）和微信公众平台等媒体矩阵，用户群体涵盖全国 90% 以上的重点中学师生及家长，在全国新高考、自主选拔领域首屈一指。

如需第一时间获取相关资讯及备考指南，请关注**自主选拔在线**官方微信信号：**zizzsw**。

