

文科综合能力测试

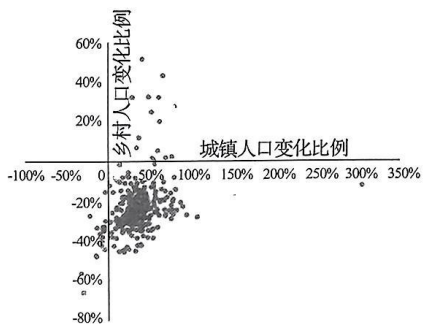
本试卷共 47 题,共 300 分,共 16 页。考试结束后,将本试卷和答题卡一并交回。

注意事项:

1. 答题前,考生先将自己的姓名、准考证号填写清楚,将条形码准确粘贴在条形码区域内。
2. 选择题必须使用 2B 铅笔填涂;非选择题必须使用 0.5 毫米黑色字迹的签字笔书写,字体工整、笔迹清楚。
3. 请按照题号顺序在答题卡各题目的答题区域内作答,超出答题区域书写的答案无效;在草稿纸、试卷上答题无效。
4. 作图可先使用铅笔画出,确定后必须用黑色字迹的签字笔描黑。
5. 保持卡面清洁,不要折叠、不要弄破、弄皱,不准使用涂改液、修正带、刮纸刀。

一、选择题:本题共 35 小题,每小题 4 分,共 140 分。在每小题给出的四个选项中,只有一项是符合题目要求的。

下图是 312 个城市的第七次全国人口普查与第六次全国人口普查城镇及乡村人口数据比较得到的变化率。出现城镇乡村双重负增长的城市仅有 21 个,其中城镇人口缩减比例超过 10% 的城市达到 14 个,全部位于东北地区。下图为 2010—2020 年城镇—乡村人口变化比例图。据此完成 1~3 题。



1. 东北地区作为城镇人口流失严重区域的重要因素最可能是 ()
 - ①城市的环境污染十分严重
 - ②城市对乡村人口吸引力弱
 - ③城市的经济增长速度缓慢
 - ④大城市虹吸作用不断增强
 A. ①② B. ③④ C. ②③ D. ①④

2. 从图文材料可推测 ()

- A. 城镇和乡村双重负增长的城市在南方地区
 - B. 我国大多数城市目前正处于逆城镇化阶段
 - C. 目前我国城乡发展水平逐步趋向于均衡化
 - D. 有些地区目前已经存在异地城镇化的现象
3. 收缩型城市是城市人口流失、失去活力的现象,有效抑制东北地区收缩型城市的措施是 ()
 - A. 合并收缩型的城市
 - B. 实行鼓励生育政策
 - C. 建设城市立体交通
 - D. 产业结构转型升级

图 1 为上海市商业型健身休闲场所分布密度图,图 2 为上海市商业型健身休闲场所空间格局及影响机理。读图,完成 4~6 题。

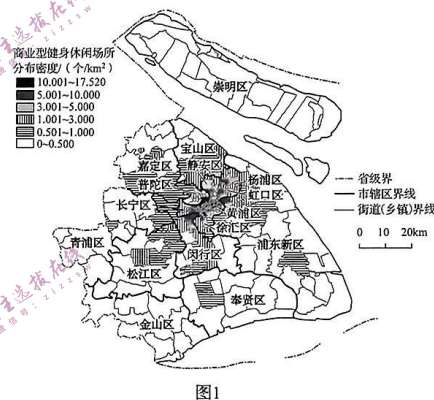


图 1

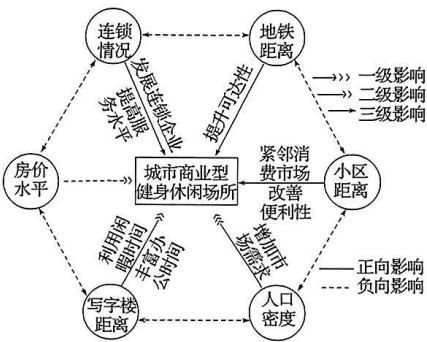
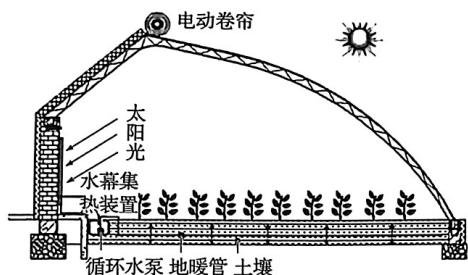


图 2

4. 上海商业型健身休闲场所总体上呈现格局是 ()
 - A. 核心型
 - B. 边缘型
 - C. 核心—边缘型
 - D. 均衡型
5. 上海市商业型健身休闲场所空间格局的一级影响因素是 ()
 - A. 人口密度
 - B. 房价水平
 - C. 写字楼距离
 - D. 连锁情况
6. 房价水平对城市商业型健身休闲场所的分布是负向影响,房价水平高 ()
 - A. 改变商业型健身休闲场所的主要客源
 - B. 更高的成本压力最终转嫁至商家
 - C. 消费者对于价格的敏感度较高
 - D. 影响销售量、营业额和好评率

风沙肆虐的沙漠一直是蔬果生产的禁区,日光温室可以极大地改变这一现状。新疆地区早期建成的温室,普遍存在着冬季夜间室内冻害时常发生的问题。水幕集热—地暖加温系统的应用,较好地解决了这一难题。研究表明,日光温室后墙白天接收太阳总辐射约占温室接收太阳总辐射的 50%~60%,夜间,室内获得的热量中墙面放热量约占 1/3,地面放热量约占 2/3。此外,土壤夜间放热性能较为稳定,受气候条

件影响小。据此完成7~9题。



7. 日光温室建设厚实后墙起到的主要作用是 ()

- ①减少冻害 ②阻挡风沙 ③增大温差 ④保湿作用

- A. ①② B. ①③ C. ③④ D. ②④

8. 电动卷帘可以根据温度高低对玻璃进行择时覆盖。根据沙漠地区的气温变化分析电动卷帘覆盖的时间是 ()

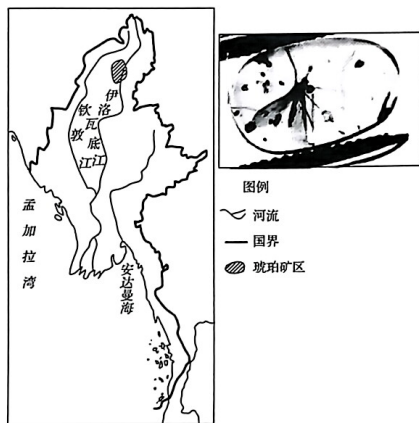
- ①冬季白天 ②冬季夜晚 ③夏季白天 ④夏季夜晚

- A. ①② B. ③④ C. ②③ D. ①④

9. 与一般的温室大棚(没有墙体)相比,日光温室的优势是 ()

- A. 采光面积更大 B. 保温节能效果更好
C. 深受农户青睐 D. 成本回收更快

琥珀是地质时期松脂类树木分泌的树脂由于地壳运动埋藏于地下,经矿化后形成的有机化石。白垩纪时期,当松脂类树木受到火山灰石块的砸击或动物撞击等损害时,在高温环境下会从伤口处流出树脂,有些树脂会浸没一些昆虫,形成虫珀。缅甸胡康谷地(位置见下图)是世界上最著名的琥珀产地之一,据此完成10、11题。



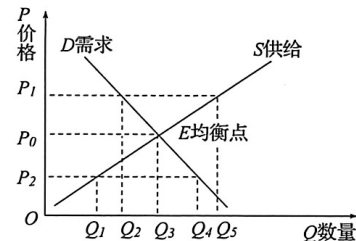
10. 推测该地区琥珀形成的自然条件是 ()

- A. 气候湿热 B. 地壳稳定 C. 海拔较高 D. 土壤肥沃

11. 描述胡康谷地琥珀矿区的形成过程是 ()

- A. 琥珀形成→地壳上升→流水侵蚀搬运→堆积、富集
B. 堆积、富集→琥珀形成→流水侵蚀搬运→地壳上升
C. 地壳上升→流水侵蚀搬运→琥珀形成→堆积、富集
D. 堆积、富集→流水侵蚀搬运→地壳上升→琥珀形成

12. 俄乌武装冲突及由此引发的经济制裁,使世界市场随之出现反复震荡。P表示价格,根据下图,原油、天然气、粮食、金属原材料等国际大宗商品的价格与数量最有可能出现的市场状况是 ()



- A. P_2 与 Q_3 B. P_2 与 Q_1 C. P_1 与 Q_2 D. P_1 与 Q_4

13. 2023年全国两会政府工作报告指出,多渠道增加城乡居民收入。某省以增加居民收入、增进民生福祉为目标,深入实施“四大提升行动”,完善政策机制,着力打好就业创业、社会保障、和谐劳动关系、收入分配组合拳,确保城乡居民收入持续稳定增长。为实现上述目标应该 ()

- ①在再分配过程中增加劳动者劳动报酬
②在第三次分配过程中扩大转移支付
③大力发展生产力,增加就业岗位
④健全体现效率促进公平的分配制度

- A. ①② B. ①③ C. ②④ D. ③④

14. 农村电子商务,通过网络平台嫁接各种服务于农村的资源,拓展农村信息服务业务、服务领域,使之兼而成为遍布县、镇、村的三农信息服务站。部门联合印发《关于开展2022年农业现代化示范区创建工作的通知》提出重点发展农村电商等产业,实现农村消费扩容提质升级。下列选项中,能实现上述目的的传导路径是 ()

- ①电子商务进村→促进农产品产销对接→增加农村居民收入
②发展乡村休闲旅游→产业融合发展→提升农业科技水平
③农村快递网点完善→提升快递服务能力→增加享受资料消费

- ④流通企业下沉供应链→健全乡村物流体系→丰富农村消费市场
A. ①② B. ②③ C. ①④ D. ③④
15. 以“共享 RCEP 新机遇, 助推中国—东盟自由贸易区 3.0 版”为主题的第 19 届东博会于 2022 年 9 月 16 日至 19 日通过“云上东博会+实体展”模式举办。本届东博会丰富了 RCEP 经贸活动, 展示了 RCEP 实施背景下中国—东盟合作新商机, 助力构建更为紧密的中国—东盟命运共同体。对参与国而言, 这意味着 ()
- ①参与国经贸往来更密切, 加快要素资源流动
②参与国之间供应链打通, 减少贸易流通障碍
③贸易投资更加自由便利, 大幅提高投资收益
④提高了企业走出去水平, 化解企业经营风险
A. ①② B. ②③ C. ①④ D. ③④
16. 《中华人民共和国家庭教育促进法》是为了发扬中华民族重视家庭教育的优良传统, 引导全社会注重家庭、家教、家风, 增进家庭幸福与社会和谐, 培养德智体美劳全面发展的社会主义建设者和接班人而制定的法律。截至 2022 年 7 月 1 日, 家庭教育促进法实施半年来, 对改变当今的家庭教育现状, 营造健康、快乐的成长环境起到了重要作用。《中华人民共和国家庭教育促进法》的实施 ()
- ①为维护和实现公民权利提供了法律依据
②说明了社会主义民主是最真实的全民民主
③彰显了国家对公民政治权利的尊重和保障
④是我国人民的利益得到日益充分实现的表现
A. ①③ B. ①④ C. ②③ D. ②④
17. 民有所呼, 我有所应。2022 年 7 月是某市人大代表“为民办实事”集中活动月。代表们围绕群众关心的就业、教育、医疗、养老等民生问题以及人居环境整治等热点难点问题, 通过召开座谈会、入户摸底、“赶大集”等形式, 深入最基层, 集中倾听民声民意, 扑下身子帮助群众解决“急难愁盼”问题。这表明人大代表 ()
- ①采取多种形式深入基层调研, 不断提高自身履职能力
②牢记党的宗旨, 为民履职尽责, 自觉接受人民的监督
③与人民群众保持密切联系, 能帮助所在地政府推进工作
④是人民利益的代言人, 直接行使法定权利维护人民权益
A. ①③ B. ①④ C. ②③ D. ②④
18. 2023 年 1 月 9 日, 习近平总书记在二十届中央纪委二次全会上强调, 把全面从严治党作为党的长期战略、永恒课题, 把严的基调、严的措施、严的氛围长期坚持下去, 把党的伟大自我革命进行到底。新征程上推进全面从严治党要 ()

- ①强化责任担当意识, 发挥总揽协调核心作用
②从人民的意愿出发, 不断提高党的建设质量
③长效推进作风建设, 永葆党的先进性纯洁性
④切实履行国家职能, 增强党的长期执政能力
A. ①③ B. ①④ C. ②③ D. ②④
19. 2022 年 7 月 29 日, 北京语言大学国家语言资源监测与研究平面媒体中心发布“2022 年春季中国主流报纸流行语”。本次发布的流行语包括 9 个类目, 综合类十大流行语: “北京冬残奥会、数字经济、俄乌冲突、高温、先手棋、抗原检测、神舟十四、科技伦理、数字藏品、《新时代的中国青年》。”这表明文化 ()
- A. 彰显时代精神, 引领时代发展 B. 决定时代走向, 创造时代未来
C. 汇集时代智慧, 体现时代潮流 D. 源于时代实践, 反映时代特点
20. 2022 年 11 月 10 日, 国家文物局在北京召开“考古中国”重大项目重要进展工作会, 专题通报河南安阳殷墟考古与甲骨文研究重要成果及新进展。据介绍, 近期的考古工作系统揭示了洹北铸铜、制骨、制陶手工业生产方式和“居葬合一”的族邑布局模式。重视考古研究是基于 ()
- ①保护珍贵文化遗产, 更好认识中华文明的起源
②集中表达民族情感, 丰富深化国人的历史认知
③彰显中华文化底蕴, 增强中华文明历史可信度
④如实再现历史场景, 展示源远流长的中华文化
A. ①② B. ①③ C. ②④ D. ③④
21. 第 19 届亚运会将于 2023 年 9 月 23 日至 10 月 8 日在杭州举行。会徽以经典的扇面寓意着江南浓郁的人文底蕴; 一条条赛道代表了亚运会的核心体育竞技; 互联网符号契合杭州互联网城市的特色; 钱塘江潮奔涌表达了浙江儿女勇立潮头的精神特质。整个会徽形象象征着新时代中国特色社会主义大潮的涌动和发展, 也象征着亚奥理事会大家庭团结携手, 紧密相拥, 永远向前。由杭州亚运会会徽的设计可见 ()
- ①有什么样的意识内容就有什么样的反映对象
②意识的表现形式先于客观世界的变化而变化
③意识活动在艺术创作中具有独特的主动创造性
④优秀的艺术作品要反映时代要求和实践需要
A. ①② B. ①③ C. ②④ D. ③④
22. 研究表明, “熬夜会变傻”是有科学依据的。波士顿大学的科学家首次拍下人类睡眠时大脑清洗的过程: 血液周期性流出→脑脊液趁机涌入→清除毒素(包括可致

阿尔茨海默症的β-淀粉样蛋白),并证实人的大脑衰老与睡眠期的脑波活动有关。

所以,经常熬夜,人的大脑得不到清洗,真的会慢慢“变傻”。这一研究证明了 ()

- ①思维和存在的关系问题是认识活动和实践活动的基本问题
- ②科学探索活动将不断地刷新人脑运动的发展规律
- ③认识每前进一步都是对无限发展着的物质世界的接近
- ④经过实践检验的认识是主观与客观的具体的历史的统一

A. ①③ B. ①④ C. ②③ D. ②④

23. 2022年5月10日,习近平总书记在庆祝中国共产主义青年团成立100周年大会上指出:“青年犹如大地上茁壮成长的小树,总有一天会长成参天大树,撑起一片天。青年又如初升的朝阳,不断积聚着能量,总有一刻会把光和热洒满大地。”这告诉我们 ()

- ①要抓住机遇,有责任有担当,青春才会发光
- ②在成长的道路上,青年要勇敢地应对挫折和挑战
- ③作为新事物,每个青年学生都具有远大的发展前途
- ④要重视量的积累,积极为青春能量的迸发创造条件

A. ①③ B. ①④ C. ②③ D. ②④

24. 下列选项中,材料与结论之间的逻辑关系正确的是 ()

选项	史实	结论
A	《战国策·燕策一》记载:“启与支党攻益,而夺之天下,是禹名传天下于益,其实令启自取之。”	充分证明禅让制转变为王位世袭制由启开始
B	《孟子·滕文公上》记载:“方里而井,井九百亩,其中为公田。八家皆私百亩,同养公田。”	真实记载了西周的井田制度,以及井田的耕作、劳役方式
C	《史记·商君列传》:“治世不一道,便国不法古。故汤武不循古而王,夏殷不易礼而亡。反古者不可非,而循礼者不足多。”	反映了法家思想成为战国各诸侯国的治国思想
D	《柳河东集》:“秦之所以革之者,其为制,公之大者也;其情,私也,私其一己之威也,私其尽臣畜于我也。然而公天下之端自秦始。”	一定程度说明秦朝确立的政治制度的进步性

25. 中国历史上的专制皇朝在皇位继承过程中,母以子贵固然多有,但北魏却确立了子贵母死的制度,一旦儿子被确立为皇太子,他的母亲就会被处死。从“母以子贵”到“子贵母死”变化反映了 ()

- A. 女性地位的低下
- B. 中央集权遭到破坏
- C. 君权至上的后果
- D. 君主专制血腥残忍

26. 北宋科举入朝做官的官员统计表

地区	前期		中期		后期	
	人数	比例	人数	比例	人数	比例
北方	278人	84.5%	274人	63.9%	121人	40.3%
南方	51人	15.5%	155人	36.1%	179人	59.7%

由上表可知,北宋时期 ()

- A. 政治中心由北向南移
- B. 经济格局演变完成
- C. 社会流动性逐步增强
- D. 门第观念日益淡化

27. 明清时期,出现了不少著名的产棉区,如山东东昌府、江苏松江府等。福建漳州府和汀州府是烟草专业户集中的地区。北京丰台一带各村庄都种植花卉,被誉为“花乡”。由此可知,明清时期 ()

- A. 商品经济呈现出繁荣景象
- B. 重农抑商政策已被废除
- C. 经济结构向近代转型趋势
- D. 长途和巨额贸易的发展

28. 19世纪末到20世纪初的中国,先后经历了由“《盛世危言》热”到“《革命军》热”,再到“爱因斯坦热”等热潮。由此可知,19世纪末到20世纪初的中国 ()

- A. 学习西方科技与维护传统伦理的统一
- B. 批判传统与全面引进西方文化的统一
- C. 反抗西方侵略与学习西方文化的统一
- D. 发展资本主义与建立民主共和的统一

29. 针对近代中国某一事件,日本媒体纷纷以“苏联煽动所致”“试图废除不平等条约,收回租界的国民政府”等字样报道该事件。日本媒体关注的这次事件对应的时代主题是 ()

- A. “民国荣光,锦绣河山普照”
- B. “努力国民革命,齐奋斗”
- C. “共赴国难”
- D. “将革命进行到底”

30. 20世纪30年代,中共中央致电国民党五届三中全会,提出五项要求:……保障言论、集会、结社之自由,释放一切政治犯;召开各党各派各界各军的代表会议,集中全国人才,共同救国……改善人民生活。电文指出,如果国民党将上述五项要求定为国策,中国共产党愿意作出四项保证,即实行停止武力推翻国民党政府的方针;工农政府改名为中华民国特区政府……特区实行彻底民主制度;停止没收地主土地的政策等。中共中央提出的“五项要求”“四项保证” ()

- A. 表明党为巩固抗日民族统一战线而努力
- B. 适应了中国社会主要矛盾变化
- C. 说明党的中心工作是以夺取城市为目标
- D. 利于动员各阶层参加联合政府

31. 2023 年央视春晚歌曲《一带繁花一路歌》，描绘了“一带一路”沿线各国的风光。2022 年，我国对“一带一路”沿线国家合计进出口 13.83 万亿元，比上年增长 19.4%。其中，出口 7.89 万亿元，比上年增长 20%；进口 5.94 万亿元，比上年增长 18.7%。这表明当今中国 ()

- A. 极力加强与发展中国家的全面合作
- B. 经济援助成为中国外交主要手段
- C. 努力构建合作共赢的新型国际关系
- D. 放弃了独立自主的和平外交政策

32. (南朝宋)范晔所撰写的《后汉书·西域传》记载：“大秦国一名黎鞬，以在海西，亦云海西国。地方数千里，有四百馀城。小国役属者数十。以石为城郭。列置邮亭，皆堊堊之。有松柏诸木百草。人俗力田作，多种树蚕桑。皆髡头而衣文绣，乘辘辘白盖小车，出入击鼓，建旌旗幡帜。”由此可知，当时 ()

- A. 中国的种桑养蚕技术传入罗马帝国
- B. 汉与罗马帝国直接联系
- C. 汉朝欲与罗马帝国建立联系的愿望
- D. 世界多元文明交融互鉴

33. 马克思在《共产党宣言》中指出：“共产主义并不剥夺任何人占有社会产品的权力，它只剥夺利用这种占有去奴役他人劳动的权力……代替那存在着阶级和阶级对立的资产阶级旧社会的，将是这样一个联合体，在那里，每个人的自由发展是一切人自由发展的条件……无产阶级将利用自己的政治统治，一步步地夺取资产阶级的全部资本，把一切生产工具集中在国家即组织成为统治阶级的无产阶级手里，并且尽可能快地增加生产力的总量。”由此可知，马克思发表《共产党宣言》的主要意图是 ()

- A. 反对利用私有财产剥削他人
- B. 强调每个人都有可以自由发展的机会
- C. 强调了未来社会的基本准则
- D. 提出无产阶级掌权并促进经济的发展

34. 1911 年泰勒的《科学管理原理》一书在美国出版，书中强调“将生产过程分解为工序……进而根据专门化的原则设计工人的动作和机器的功能。智力被驱逐出了车间和工厂，在那儿只留下没有大脑的臂膀和适应钢铁装置的肌肉装置”。尽管该书提倡的管理体制受到劳工组织的反对，但是仍然被迅速推广开来。当时美国社会对《科学管理原理》的不同反应 ()

- A. 反映了科技革新的两面性
- B. 说明效率与公平之间的矛盾
- C. 表明科学管理解放劳动力
- D. 适应美国国家干预经济发展

35. 下表反映了 20 世纪 70 年代世界经济发展状况

国家类别	在世界所占份额(%)1976 年			国内生产总值年均增长率(%) 1960—1976 年	人均国民生产总值(美元) 1976 年	
	人口	生产总值	商业服务出口			
发达资本主义国家	16.2	64.6	83.9	4.3	6 414	
社会主义国家	31.3	19.0	7.8	5.0	1 061	
第三世界国家	石油出口国	0.3	1.1	5.7	9.5	6 691
	其他第三世界国家	52.2	15.3	2.6	5.7	538

由此可知，这一时期 ()

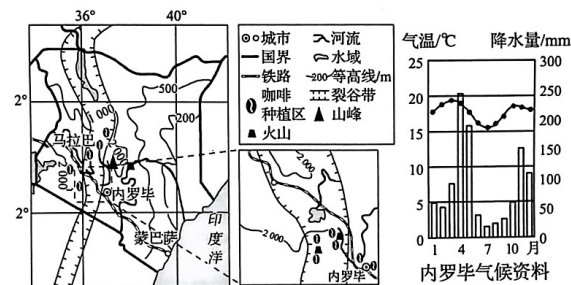
- A. 资本主义国家因国家干预过度发生严重的经济危机，经济实力衰退严重
- B. 社会主义国家受高度集中的计划经济体制严重束缚，经济面临崩溃边缘
- C. 新兴石油出口国实现经济起飞，成为世界一极
- D. 世界经济呈现多极化发展趋势，不平衡性加剧

二、非选择题：共 160 分。第 36~42 题为必考题，每个试题考生都必须作答。第 43~47 题为选考题，考生根据要求作答。

(一)必考题：共 135 分。

36. 阅读下列材料，回答问题。(24 分)

农业是肯尼亚的支柱产业之一。该国生产的咖啡品质优良，大多生长在海拔 1 500~2 100 米的地方，是世界咖啡主要出口国。3—5 月为咖啡豆的开花期，需水量大，肯尼亚咖啡一年采果两季，9—12 月为主要收获期，约占全年收获量的 2/3。肯尼亚咖啡园的小农承包式经营模式大多为家中有几个长工，加上季节性的招工采摘，咖啡豆和茶叶被社区或合作社统一收购拿到市场上去售卖。下图为肯尼亚及周边地区示意图，下右图为内罗毕的气候资料图。



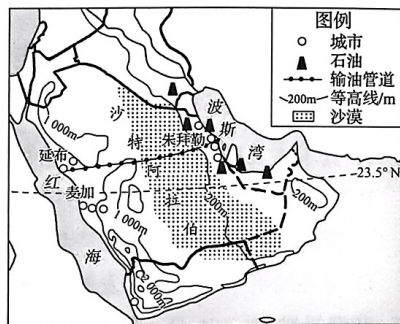
(1)简析内罗毕咖啡品质优良的自然条件。(8 分)

(2)从可持续发展角度对肯尼亚咖啡园小农承包式的经营模式进行评价。(8分)

(3)为增加咖啡产量,有人建议肯尼亚扩大咖啡种植规模。你是否赞同,并说明理由。(8分)

37. 阅读图文材料,完成下列要求。(22分)

沙特阿拉伯是名副其实的“石油王国”,石油是工业的血脉,水是生命的源泉,沙特阿拉伯是迄今为止世界上海水淡化生产量最多的国家。20世纪70年代,沙特阿拉伯提出“小麦自给”计划,利用出口石油获得的经济收益大量补贴小麦生产,发展设施农业,在沙漠腹地开采地下水,将沙漠改造为麦田,一度使得沙特阿拉伯成为世界上小麦出口量位居世界第六位的国家。然而到了2016年,沙特阿拉伯已经完全停止小麦生产,开始改变灌溉技术,发展节水农业,与此同时,沙特阿拉伯政府在泰国、印度尼西亚、苏丹等国投资粮食生产。



(1)简述沙特阿拉伯延布发展海水淡化有利的区位条件。(8分)

(2)分析2016年沙特阿拉伯完全停止小麦生产的原因。(8分)

(3)说明沙特阿拉伯用“石油浇小麦”难以为继的理由。(6分)

38. 阅读材料,完成下列要求。(14分)

新中国成立后,面对帝国主义的核威胁、核讹诈,我们发挥科技攻关的举国体制优势,在党中央的统一领导下,调动全国资源,依靠各部门、各地方、各部队“大协作”,独立自主成功研制出“两弹一星”。改革开放以来,特别是党的十八大以来,我们发挥新型举国体制的优势,我国科技事业发生了历史性、整体性、格局性重大变化,成功进入创新型国家行列。但是我国基础科学研究短板依然突出,同国际先进水平的差距还很明显。在我国科技创新领域,关键核心技术受制于人的局面没有得到根本性改变,如芯片等关键元器件、光刻机等核心装备还依赖进口。

习近平总书记告诫我们:“在引进高新技术上不能抱任何幻想,核心技术尤其是国防科技技术是花钱买不来的。”党的二十大报告也再次强调,完善科技创新体系,

坚持创新在我国现代化建设全局中的核心地位,健全新型举国体制,强化国家战略科技力量,提升国家创新体系整体效能,形成具有全球竞争力的开放创新生态。

“我国要实现科技自立自强必须健全新型举国体制”,请运用经济生活知识对此加以阐明。

39. 阅读材料,完成下列要求。(12分)

中国的空间站以天和核心舱、问天实验舱、梦天实验舱三舱为基本构型。2021年4月,空间站天和核心舱,在海南文昌航天发射场发射升空。2022年7月24日,中国空间站问天实验舱成功进入太空,作为中国空间站首个科学实验舱、国家太空实验室的重要组成部分,问天实验舱为航天员在轨工作生活提供了更大空间,也为空间科学研究提供了更大平台。

从申请加入国际空间站被拒,到成为全球第三个独立自主拥有全套载人航天技术的国家,中国用将近三十年完成了航天技术的蜕变。中国目前已实现13名航天员,累计20人次太空飞行和安全返回,圆满完成“三步走”战略的第一步、第二步全部既定任务。

与美国形成鲜明对比的是,中国载人航天工程自立项以来,中国人就以“造福世界各国人类、开创人类美好未来”为初心使命,从中国载人航天工程与多国以及组织开展广泛交流与合作,到中国空间站对外国航天员“免费入驻”,再到中国已经同意17国的“入驻申请书”,事实证明,中国是人类命运共同体的倡导者、践行者和推动者。正所谓世界好,中国才能好;中国好,世界才更好。中国空间站是为人类谋幸福的空间站,是为世界谋大同的空间站,中国空间站必将肩负起人类命运共同体的重担!

结合材料,运用当代国际社会知识,分析中国自主研发空间站的时代价值。

40. 阅读材料,完成下列要求。(26分)

材料一 1978年,党的十一届三中全会的胜利召开吹响了改革开放的号角。40多年来,我国农业生产、农村面貌、农民生活发生了翻天覆地的变化,农村改革采取了许多措施,取得了巨大成就。其中许多举措都是由农民创造的,比如,农村家庭联产承包责任制的发明权是农民的;乡镇企业也是农民创造的;土地股份合作制、适度规模经营、农村承包地“三权分置”以及外向型农业和生态农业等,都离不开农民在实践中的探索创造。

进入新时代,党中央立足国情农情,在总结农民实践经验的基础上,持续深化农村改革,提出了乡村振兴战略。习近平主席明确提出,乡村振兴,农民是主体。农民思想水平、文化素质和技术能力的高低,直接决定着乡村振兴战略实施的效

果,必须培养和造就一支新型农民队伍。因此,推进农村改革,要尊重农民首创精神和调动农民积极性。

材料二 文化振兴是乡村振兴的灵魂。近年来某村坚持通过民宿经济发展乡村旅游,助力乡村振兴发展战略。面对该村民宿发展存在风格同质化、功能单一、组织管理水平较低、村民观望等问题,村干部发挥带头作用,创办村民夜校,或外聘专家进行专业指导,或邀请乡贤和商户现身说法进行启发教育等,利用乡村振兴战略、农耕文化保护等带来的政策红利,保留乡村风貌,把乡村文化元素融入民宿文化,打造富有地域特色的、具有发展竞争力的民宿产业。同时,将诚信作为立村之本和经营之基,设立“道德讲堂”、建设“明理堂”、打造“村史馆”,为产业振兴塑魂立型……一系列的举措打开了一片农村发展的新天地,凝聚起了乡村振兴的强大合力。

(1)推进农村改革,要尊重农民首创精神和调动农民积极性。结合材料一,运用社会历史主体的知识对此加以说明。(12分)

(2)结合材料二,运用文化作用的知识,分析文化振兴是乡村振兴的灵魂。(10分)

(3)乡村振兴除文化振兴外,也离不开产业振兴。请以“如何实现产业振兴撬动乡村振兴”为主题写一篇小短文。要求在150字以内。(4分)

41. 阅读材料,完成下列要求。(25分)

材料一 自行车初现上海滩是1868年,当时数量极少,而骑行者也都是金发碧眼的洋人。而此时自行车在欧洲也是新创,仅几年后就已传入上海,随着寓沪外侨的不断增多,到1897年上海已经有自行车几百辆之多。此时自行车不仅是件时髦东西,在国人心中还是一种西化、文明、进步的标志。清末民初,不仅男子,就是妇女也开始骑自行车。此时自行车尚属奢侈物品,成为追逐时尚的象征。1911年,上海市邮政局从英国购入了100辆自行车,用于投递邮件。这是自行车作为一种交通工具首次投入公用,自行车自此有了私用和公用之分,也标志着自行车的普及程度进入更加大众化的层面。私用作代步的自行车消费者也逐渐扩展到各洋行里的职员和洋学堂里的学生,如“墨梯女校”(一著名贵族女校)中自行车已是流行的代步工具。上海街头的自行车渐行渐多。

——摘编自徐涛《自行车普及与近代上海社会》

材料二 1949年1月天津解放后,天津市军事管制委员会工业管理处派人接管了工厂,暂定名为“军管天津机器/第二分厂”,直属天津市军事管制委员会领导。后

来1949年10月1日新中国成立后,该厂被正式命名为“天津自行车厂”。1950年4月,鉴于当时中国自行车生产工艺流程不完备,国家划拨13万斤小米,支持天津自行车厂自主生产。“当时新中国刚成立,大家翻身做主人,心里都憋着一股劲儿”,20多名工人同志自愿组成研制团队持续奋战,拆解研究进口自行车,于1950年7月5日,10辆由天津自行车厂工人们制造的样品终于出来了。经过严格技术鉴定和质量检验,新车性能优良。后来上级将这种车正式命名为“飞鸽”牌。从此新中国第一辆全部国产化的名牌自行车诞生了,1951年1月“飞鸽”牌自行车成批地投放市场。

——摘编自彭磊《飞鸽 凤凰 永久 老牌自行车 一代人的记忆》

(1)根据材料一并结合所学知识,概括自行车在上海发展的特点及其意义。(12分)

(2)根据材料二并结合所学知识,分析新中国成立后“飞鸽”牌自行车诞生的主要原因。(8分)

(3)根据材料并结合所学,你从近现代中国交通工具的演变中得出怎样的启示。(5分)

42. 阅读材料,完成下列要求。(12分)

材料 贡德·弗兰克提出,如果我们把(16世纪以来)世界经济的发展看作一场全球博弈的话,那么这种博弈的实质,就是全球经济贸易活动的参与者们,要在全球性的经济结构中为自己争取一个有利的位置。因为获得这样一个有利位置,就可以利用别人的资源和经济剩余来谋求自己的发展。弗兰克以“结构增熵”来描述这种结构互动、结构变迁说:获得在全球结构中的有利位置,就可以把全球结构运动的利润集中在自己手里,从而把代价、把结构运动的“增熵”扩散到整个结构中去。所谓核心地区就是社会组织能力强的地区,如金融和工商业区;所谓边缘地区则是组织能力弱的地区,如广大的农村。这种“结构增熵(发展的代价)”运动,使得核心地区可以充分利用别人的自然、人力和货币资源并把发展和增长的代价耗散到结构的边缘,因此,在这个既定结构中落后地区之落后,既是发达地区之发达的结果,也是其条件。

——节选自韩毓海《五百年来谁著史》

有史以来,人们试图以各种方式认识历史。材料反映了一位学者对16世纪到19世纪世界历史的认识,对此认识提出你自己的见解(赞成、质疑、修改皆可),并说明理由。(要求:见解明确,持论有据,表述清晰)

(二)选考题:共25分。请考生从2道地理题、3道历史题中每科任选一题作答。如果多做,则每科按所做的第一题计分。

43.【地理——选修3:旅游地理】(10分)

国务院发布的《“健康中国2030”规划纲要》中明确提出要“积极促进健康与旅游融合”“打造具有国际竞争力的健康医疗旅游目的地”。罗浮山风景区位于广东省惠州市,罗浮山中医药文化和道教文化源远流长,该景区是天然的植物宝库,堪称“中药圣山”“百草药库”,利用丰富的中草药资源开发药膳市场,推出了“罗浮仙宴”“葛洪养生汤”“补血菜”等一系列特色餐饮产品,成为中医药健康旅游过程中提升游客体验度的新增长点。

(1)分析罗浮山风景区发展中医药健康旅游的条件。(4分)

(2)简析惠州发展中医药健康旅游的意义。(6分)

44.【地理——选修6:环境保护】(10分)

随着时代发展,月饼的包装日新月异。月饼包装选材有皮革、锦、漆木、竹、化学纤维、金属、聚丙烯泡沫、复合材料等,月饼的包装结构除了早期的传统形式之外,还扩充了套盖式、抽屉式、开窗式等。自2022年8月15日起,国家标准规定月饼的包装层数从最多不超过四层减少为最多不超过三层,包装体积缩减了42%。

(1)简述月饼过度包装对环境带来的不利影响。(6分)

(2)为响应国家政策,请你为低碳月饼包装献计献策。(4分)

45.【历史——选修1:历史上重大改革回眸】(15分)

材料 就同权革命而言,商鞅变法是中国历史上唯一的一次。必须强调的是,商鞅变法所体现出来的同权革命(基于特别条件的汇聚,同一政权内部有时可以进行实质改变,实现同体更新。由此而来的社会制度革命,被称为同权革命,即在保持同一政权归属前提下,实现社会制度革命,实现同体基础上的异质更新),并非少数民族征服中原地区后从落后社会制度向中原先进制度过渡的依附型的制度改造,而是在契合历史趋势的前提下,进行的长时间的自变型的制度革命。其体现出来的革命逻辑,对当代中国日趋深化的改革具有较大的借鉴意义。

——摘编自王耀海《商鞅变法研究》

(1)根据材料并结合所学知识,为什么说商鞅变法是“同权革命”?(9分)

(2)根据材料并结合所学知识,从生产力与生产关系辩证关系角度说明商鞅变法对当代中国农村经济体制改革的借鉴意义。(6分)

46.【历史——选修3:20世纪的战争与和平】(15分)

材料 自冷战爆发以来,国际学术界对冷战起源的研究至今不衰,以下两种观点颇具代表性。

项目	内容	立论基础
观点一	20世纪90年代以前的苏联学者认为,美帝国主义所奉行的“实力政策”为冷战起源,苏联的反应是防御性的	基于苏联官方看法
观点二	“新后修正学派”的基本观点:冷战是苏联挑起的,斯大林应该对冷战的发生负主要责任	冷战结束后,随着大量档案特别是苏联档案的解密

——摘编自《中外历史纲要(下)》教师教学用书

(1)结合材料和所学知识,分别指出两种观点有何局限。并就“冷战起源”谈谈你的看法。(8分)

(2)结合材料和所学知识,简析影响历史事物评价的因素。(7分)

47.【历史——选修4:中外历史人物评说】(15分)

材料 “燕京第九景”是首都人民群众对张秉贵售货艺术的美誉。20世纪50年代初,新中国百废待兴……已经36岁的张秉贵因有“多年的经商经验”而被破格录取为北京百货大楼的营业员。成为“新中国第一店”的售货员,让他感到无比光荣,因此更坚定了为人民服务的信念。从这一信念出发,他从1955年11月到百货大楼站柜台,30多年的时间接待顾客近400万人次,没有怠慢过任何一个人。……在工作中张秉贵练就了令人称奇的“一抓准”“一口清”技艺。所谓“一抓准”,就是指张秉贵一把就能抓准分量;“一口清”则是非常神奇的算账速度,经常是顾客要买多少的话音刚落,他就同时报出了应付的钱数。

后来他又发明了“接一问二联系三”的工作方法,即在接待一个顾客时,便问第二个顾客买什么,同时和第三个顾客打好招呼,做好准备。……张秉贵把为人民服务的信念与本职工作密切联系起来,“一个营业员服务态度不好,外地人会说你那个城市服务态度不好,港澳同胞会感到祖国不温暖,外国人会说中华人民共和国不文明。我们真是工作平凡,岗位光荣,责任重大!”

——摘编自《光明日报》(2009年10月13日04版)

(1)根据材料并结合所学知识,概括张秉贵成为“燕京第九景”的主要原因。(8分)

(2)根据材料并结合所学知识,说明张秉贵体现的时代精神。(7分)