

亳州一中 2023 届高三年级高考冲刺卷

文科综合

注意事项:

1. 答题前, 考生务必将自己的姓名、考生号、考场号、座位号认真填写在答题卡上。
2. 回答选择题时, 选出每小题答案后, 用铅笔把答题卡上对应题目的答案标号涂黑。如需改动, 用橡皮擦干净后, 再选涂其他答案标号。回答非选择题时, 将答案写在答题卡上, 写在本试卷上无效。
3. 考试结束后, 只需上交答题卡。
4. 灵气勇气朝气三气并存气贯长虹, 信心决心恒心三心同在心想事成。

一、选择题 (本题共 35 小题, 每小题 4 分, 共 140 分。在每小题给出的四个选项中只有一项是符合题目要求的。)

“科技国潮”用现代科技为中国传统文化注入新的生命力, 深受年轻人的喜爱。我国某中低端手机品牌于 2018 年成功孵化出产品, 并首先在印度市场发行。该手机品牌在海外多采用电商渠道销售, 目前已覆盖全球 61 个国家和地区, 销量超过 1 亿台。近年来该手机品牌进入国内市场, 将传统文化融入科技产品, 在国内迅速走红。据此完成 1~3 题。

1. 该手机品牌 2018 年末选择在国内市场首发产品主要是因为国内
 - A. 品牌竞争激烈
 - B. 劳动力价格高
 - C. 市场趋于饱和
 - D. 技术水平较高
2. 该手机品牌在海外较少选择实体店渠道, 多采用电商渠道销售的主要目的是
 - A. 提高沟通效率
 - B. 增强现场体验
 - C. 降低经营成本
 - D. 扩大销售范围
3. 近年来, 该手机品牌在国内能够迅速走红主要得益于
 - A. 高效的物流运输
 - B. 发达的电子商务
 - C. 广泛的广告宣传
 - D. 良好的设计与品质

图 1 为 2000—2020 年我国不同等级城市人口年均增速统计图。据此完成 4~5 题。

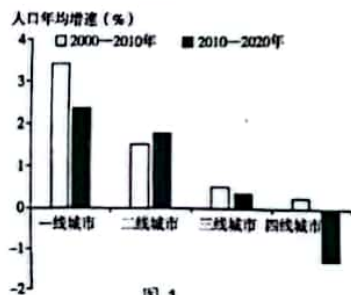


图 1

1

4. 该时段我国不同等级城市人口年均增速变化的主要影响因素有

- ①就业机会 ②生活成本 ③教育水平 ④居住环境
- A. ①② B. ③④ C. ①③ D. ②④

5. 图示时段我国四线城市的人口年均增速变化最显著, 其对四线城市产生的主要影响是

- A. 出生人口增加 B. 人口老龄化加剧
- C. 居住环境改善 D. 交通压力加大

2023 年 1 月 24 日凌晨, 山东烟台受寒潮影响, 出现罕见的“雷打雪”现象。“雷打雪”是指因冷暖气团交汇产生强对流天气, 并在降雪过程中伴有雷电的天气现象, 其发生与风速、风向、温度露点差 (温度与露点的差值, 温度露点差越大, 湿度越小, 当温度露点差接近 0°C 时, 表示空气中的水汽达到近饱和状态) 等气象要素的短期变化密切相关, 图 2 示意烟台该次“雷打雪”事件发生时气象要素随时间的变化状况。据此完成 6~8 题。

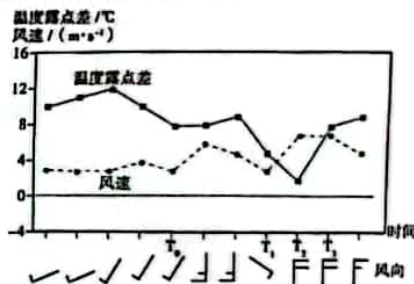


图 2

6. 烟台发生“雷打雪”时,
 - A. 近地面暖湿气流受热迅速上升
 - B. 强冷气团自渤海南下, 遇陆地主动爬升
 - C. 暖湿气流迅速北推, 冷暖气流强烈交汇
 - D. 冷暖气流强烈交汇, 暖气团快速抬升
7. 推测图示“雷打雪”现象发生时刻为
 - A. T₀
 - B. T₁
 - C. T₂
 - D. T₃
8. “雷打雪”发生后一周内, 该地的天气特点为
 - A. 冷干
 - B. 冷湿
 - C. 暖干
 - D. 暖湿

我国东北地区在约 2.8 亿年前为半深海-滨浅海沉积环境, 发育有巨厚的生物碎屑灰岩; 在约 2.5 亿年前为滨浅湖沉积环境, 发育有厚度较大的烃源岩。图 3 示意东北地区局部生物碎屑灰岩厚度和烃源岩分布状况。据此完成 9~11 题。

2



图 3

9. 推测 2.8 亿年前至今，图示区域地壳运动的总体特征为

- A. 持续抬升 B. 持续下沉 C. 间歇性抬升 D. 间歇性下沉

10. 推测图中最先成为陆地的位置是

- A. ①地 B. ②地 C. ③地 D. ④地

11. 图中①②两地中间区域生物碎屑灰岩厚度较①②两地薄，其主要原因是

- A. 侵蚀较强 B. 沉积较少 C. 断裂下陷 D. 人类破坏

12. 中国共产党为什么能，中国特色社会主义为什么好，归根到底是马克思主义行，是中国化时代化的马克思主义行。拥有马克思主义科学理论指导是我们党坚定信仰信念、把握历史主动的根本所在。据此可知

- ①马克思主义是立党立国、兴党兴国的根本指导思想
- ②必须在实践基础上继续推进马克思主义中国化发展
- ③拥有马克思主义科学理论指导可确保国家不走弯路
- ④马克思主义中国化是马克思主义时代化的必要前提

- A. ①② B. ①③ C. ②④ D. ③④

13. 2022 年 10 月 16 日至 22 日，中国共产党第二十次全国代表大会召开。大会的主题是高举中国特色社会主义伟大旗帜，全面贯彻新时代中国特色社会主义思想，弘扬伟大建党精神，自信自强、守正创新，踔厉奋发、勇毅前行，为全面建设社会主义现代化国家、全面推进中华民族伟大复兴而团结奋斗。由此可知

- A. 中国共产党的领导是党和人民大踏步赶上时代的重要法宝
- B. 进入新时代，党和国家的奋斗历程翻开新的一页
- C. 党把握了以中国式现代化推进中华民族伟大复兴的使命任务
- D. 党领导人民开始努力探索适合中国国情的社会主义建设道路

14. 商务部将 2023 年定为“消费提振年”，把恢复和扩大消费摆在优先位置，重点围绕改善消费条件、创新消费场景、营造消费氛围、提振消费信心，进一步增强消费的基础性作用。对此，下列推导合理的是

- ①优化供给质量→改善消费条件→释放消费潜力→畅通国内循环
- ②激活存款储蓄→加大减税力度→刺激消费需求→提振消费信心
- ③创新消费场景→培育数字消费→激发消费活力→促进经济增长
- ④改善消费品质→增强消费能力→提升消费意愿→营造消费氛围

- A. ①② B. ①③ C. ②④ D. ③④

淄博烧烤近日在网络上火爆出圈，成为新晋“网红”，抖音平台播放量超过 13 亿，微博热搜狂揽 2 亿多流量。最近两天，“淄博”火车票搜索增幅位居全国第一，环比增长 988% 以上；淄博住宿订单量较 2019 年上涨 800%。淄博 470 万的常住人口接待了 500 万的游客，不仅有来自全国各地的还吸引了不少的外国游客。带来巨大机遇的同时，也为这座“老工业”城市带来了真正的考验……据此回答 15、16 题。

15. 淄博市本是一个工业化城市，没想到是靠烧烤火出圈。为了淄博经济的可持续发展，当地政府要

- ①顺势而为，大力支持并发展服务型经济，筑牢经济发展的根基
- ②坚持协调发展理念，推动一二三产业结构的优化升级
- ③坚持开放的发展理念，在国内大循环的基础上做好国内国际双循环
- ④坚持绿色发展理念，处理好经济发展与环境保护的关系

- A. ①④ B. ②③ C. ①③ D. ②④

16. 淄博市要抓住商机，可以做出哪些努力

- ①政府要全面履行经济职能与服务职能，坚持有为政府与有效市场相结合
- ②政府要坚持用法治思维和法治方式履行职责，为烧烤经济优化营商环境
- ③市委管理要精细化，坚持科学宏观调控，加强市场监管，整治行业乱象
- ④政府要坚守初心和使命，本着为人民服务的宗旨满足消费者的一切喜好

- A. ①② B. ②③ C. ①④ D. ③④

17. 如何跳出治乱兴衰的历史周期律，是中国共产党长期不懈探索的重大历史课题。新民主主义革命时期，党找到了通过发扬“人民民主”跳出历史周期律的第一个答案；经过不懈努力，在中国特色社会主义新时代，中国共产党又找到了第二个答案：通过“自我革命”，使党永葆生命力和创造力。“成其身而天下成，治

其身而天下治”，治国必先治党，治党务必从严。这说明全面从严治党就要

- ①发挥党组织的战斗堡垒作用和党员的先锋模范作用
 - ②勇于刀刃向内，始终保持党的先进性和纯洁性
 - ③坚持发扬民主，始终坚持民主执政的基本方式
 - ④加强党内监督，提高党的凝聚力和战斗力
- A. ①② B. ①③ C. ②④ D. ③④

18. 2023年3月30日，H市市委召开争当共同富裕示范区城市范例领导小组会议，汇报2023年共同富裕工作思路。会议指出：H市将更加聚焦关键领域取得突破、政策体系加快完善、创新模式持续产生、重大改革迭代深化、群众感受普遍提升，以共同富裕先行的实干实绩彰显中国式现代化美好前景。以下对应哲理正确的是

- ①聚焦关键领域取得突破——坚持两点论与重点论的统一
 - ②政策体系加快完善——上层建筑对经济基础具有促进作用
 - ③群众感受普遍提升——人民群众是历史主体，是历史的创造者
 - ④争当共同富裕示范区城市范例——矛盾的普遍性与特殊性相互联结
- A. ①② B. ②③ C. ①④ D. ③④

19. 2023年4月20日是中国传统二十四节气之一的“谷雨”，也是联合国第14个中文日。在庆祝联合国中文日到来之际，许多对中国文化心怀热忱的外国友人纷纷参加到书写汉字的活动。上述材料体现了

- ①展示中文语言魅力，增进文明交流互鉴
 - ②中文以其独特的魅力深得各国人民的认同和喜爱
 - ③文化交流是文化发展的重要动力
 - ④文化是民族的，又是世界的
- A. ①② B. ①④ C. ②③ D. ③④

20. 2022年11月28日，香港特首李家超按中央人民政府根据香港国安法第11条提出的要求向中央提交报告，并在报告中建议提请全国人大常委会根据香港国安法第65条作出解释，以厘清“根据香港国安法的立法原意和目的，没有本地全面执业资格的海外律师或大律师可否以任何形式参与处理危害国家安全案件的工作”。对此理解正确的是

- ①我国是单一制国家，香港享有高度自治权

- ②旨在防范和化解各种威胁国家安全的风险
- ③中央对高度自治权的行使具有监督的权力
- ④维护我国国家安全是香港法治必守的底线

A. ①② B. ①③ C. ②④ D. ③④

21. 2023年4月6日下午，国家主席习近平在人民大会堂同法国总统马克龙、欧盟委员会主席冯德莱恩举行中法欧三方会晤。习近平强调，中国式现代化和欧洲一体化是双方各自着眼未来作出的战略选择，双方要尊重彼此核心利益和重大关切，通过对话协商聚同化异。这体现了

- ①维护国家核心利益和重大关切是双方合作的基础
- ②我国在维护自身利益的同时，兼顾他国合理关切
- ③构建新型国际关系就是要坚持合作共赢相处之道
- ④竞争、合作与冲突是国际关系的基本内容和形式

A. ①② B. ①③ C. ②③ D. ②④

22. 柳某将自己的一套房屋签约卖给王某，但在办理过户登记前去世。柳某之子柳某甲作为柳某遗产的唯一继承人，将该房屋卖给李某并过户。王某得知后，要求李某和柳某甲赔偿自己的损失。李某认为，自己与王某素不相识，不应对其损失负责。柳某甲认为，父债子偿已经过时，柳某卖房给谁与自己无关。据此，下列判断正确的是

- ①李某作为善意第三人，王某无权要求李某赔偿自己的损失
- ②王某可主张继续履行合同，要求获得该房屋所有权
- ③若柳某甲与王某经人民调解达成协议，则该协议具有强制执行效力
- ④柳某甲既然未放弃继承该房屋，就应该向王某承担责任

A. ①③ B. ①④ C. ②③ D. ②④

23. “凡做大事者都不拘小节，凡潇洒的人都不拘小节，可见，潇洒的人都是做大事者”，这个三段论

- A. 犯了“中项不周延”的逻辑错误 B. 犯了“小项不当扩大”的逻辑错误
- C. 没有逻辑错误，是三段论推理的有效式 D. 犯了“大项不当扩大”的逻辑错误

24. 苏秦这样描绘战国时期齐国的都城临淄：“临淄之途，车毂击，人肩摩，连衽成帷，举袂成幕，挥汗成雨，家殷人足，志高而扬。”可见

- A. 齐国交通发达尽享地理优势
B. 临淄是中原地区的经济中心
C. 战国时期生产力在继续发展
D. 管仲改革带来了城市的繁荣

25. 秦统一后，在全国实行任官赐印制度，无论朝廷大臣还是地方小吏皆是如此。官印是官吏任职的凭证，任官授印，免官收印，印随官转。秦《法律答问》规定，丢失“官玺”必须治罪，即使寻得，也要承担一定的刑罚责任。这说明秦朝

- A. 官印成为权力唯一凭证
B. 中央权力趋于强化
C. 官员任免程序十分复杂
D. 法律制度比较严苛

26. 马球运动起源于波斯，途径土耳其传入中国，唐宋时期在中原地区比较流行。元朝建立后，贵族们在每年的端午节和重阳节都会举行的大规模马球比赛，获胜者会得到丰厚的奖赏。这项运动的流行，主要是由于其

- A. 传达了勇敢协作精神
B. 符合大一统时代气质
C. 便于普通百姓的参与
D. 促进了民族间的交往

27. 表 1 为 1775 年—1819 年英国东印度公司输华毛纺织品价值数据（单位：白银两）。这说明，此时中国

时间	1775—1779	1780—1784	1785—1794	1795—1799	1817—1819
价值	27767	378696	1586662	1556419	1951267

表 1

- A. 自然经济开始日益解体
B. 卷入资本主义世界市场
C. 与世界经济保持了联系
D. 逐步放弃闭关锁国政策

28. 1922 年，胡适就中西哲学问题提出要使中国哲学从儒学的道德伦理和理性的枷锁中解放出来，这种解放不能只依靠大批西方哲学的输入来实现，而是应该让儒学回到其本来的面目。这表明胡适

- A. 主张重构中国传统文化
B. 反对引入西方式哲学
C. 彻底否定传统儒家思想
D. 高举民主科学的大旗

29. 1945 年 4 月，毛泽东在《论联合政府》的报告中指出：“没有工业，便没有巩固的国防，便没有人民的福利，便没有国家的富强”，并强调“中国工人阶级的任务，不但是为着建立新民主主义的国家而斗争，而且是为着中国的工业化和农业近代化而斗争”。这说明此时

- A. 国内已具备大规模建设的条件
B. 党的工作重心正在发生转移

- C. 新民主主义革命即将取得胜利
D. 中国式的发展道路已在探索

30. “这里的官方语言再次恢复成了希腊语，并没有因为之前的官方语言是拉丁语而受到什么影响。这个东罗马帝国，或者说是拜占庭帝国，与其说是罗马的延续，不如说是亚历山大帝国又复活了。”可见，拜占庭帝国

- A. 延续了希腊民主传统
B. 吸收了希腊文化内容
C. 与罗马文化毫无关联
D. 是希腊化时代的产物

31. 1258 年，英国贵族发动了对王权的武装叛乱，并声称要“让法律凌驾于国王的尊严之上”，国王必须按照封建习惯“靠自己过活”，以“固有的法律”来确保臣民“合法”权益。这说明当时

- A. 有限王权理论得到传播
B. 君主立宪体制初步形成
C. 法律至上观念已经确立
D. 封君封臣在地位上平等

32. 图 4 反映了过去两个世纪以来，家庭和社群与国家、市场在人类社会中的地位的变化。导致这种变化的主要原因是



图 4

- A. 父权社会的解体
B. 工业文明的影响
C. 民主政治的发展
D. 启蒙思想的传播

33. 在征服美洲的过程中，早期前往墨西哥的欧洲传教士毫不犹豫地将当地语言中用于描述基督教概念的术语从向印第安人宣教的词典、教礼问答手册中清除了，他们也未将基督教教义翻译成当时墨西哥的语言去宣传。欧洲传教士的这一做法

- A. 捍卫了宗教的纯洁
B. 减少了文化的冲突
C. 促进了美洲的进步
D. 便利了殖民的进行

34. 图 5 为近代德国媒体上的一幅漫画，漫画中一名德国士兵左右手分别拽着俄国和法国士兵，脚下还踩着英国士兵。据此判断，该漫画发表于



图 5

- A. 拿破仑战争时期
B. 普法战争期间
C. 第一次世界大战时期
D. 第二次世界大战时期

35. 1994 年，第 13 届北约首脑会议批准了“和平伙伴关系”计划，所有中东欧国家都可在自愿的基础上与北约建立和平伙伴关系。1996 年，北约公布了《东扩计划研究报告》。2022 年 8 月，乌克兰签署加入北约申请。2023 年 4 月，芬兰正式加入北约。这说明苏联解体后

- A. 两极对峙局面更加激烈
B. 欧洲社会局势日益动荡
C. 北约主导欧洲社会发展
D. 冷战思维依然广泛存在

二、非选择题（本题共 10 小题，共 160 分）

36. 阅读图文材料，完成下列要求。（28 分）

中俄东线天然气管道全长约 8111km，北起俄罗斯的恰扬金气田和科维克金气田，终点是我国上海，其中俄罗斯境内的管道长约 3000km（被称为西伯利亚力量管道）。中俄东线天然气管道预计 2025 年全线贯通，届时，从俄罗斯到我国日输气量将超过 5000 万 m³。该管道建设过程中多采用沉管下沟作业方式，即先沿管道轴线开挖管沟，再利用自重将焊接好的管道缓慢下沉到管沟内。传统下沟法则是先挖好管沟，再利用大型吊管机将焊接好的管道调运到沟中。图 6 为中俄东线天然气管道线路示意图，图 7 为沉管下沟示意图。



图 6



图 7

(1) 从自然因素角度说明中俄东线天然气管道建设过程中可能遇到的困难。（8 分）

(2) 分析与传统下沟法相比，在高地下水位区采用沉管下沟法建设管道的优势。（6 分）

(3) 简述西伯利亚力量管道的建成对俄罗斯社会经济的积极影响。（8 分）

(4) 分析中俄东线天然气管道全线贯通后，对改善我国能源消费结构、保障能源安全的积极作用。（6 分）

37. 阅读图文材料，完成下列要求。（28 分）

埃布罗河是西班牙第一大河（位置见图 8），甲、乙是该河上下游的分界点。该河中游河段在 1950 年前后为自由弯曲或游荡型弯曲河道，形成了广阔的河漫滩，灌溉着两岸耕地和受人类活动破坏后残存的森林廊道，具有重要的社会、经济及生态意义；1961 年以后，中游河段修建了众多水库和防洪堤，河道基本稳定，沙洲面积大幅减少；1980 年以后，中游弯曲河段进行人为裁弯取直，并在每段河曲的凹岸采用抛石护岸技术加固防洪堤；2000 年以后，有专家建议拆除部分河段的水坝和防洪堤，恢复埃布罗河自然形态。

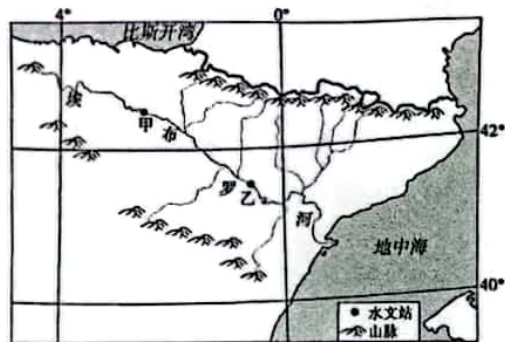


图 8

- (1) 推测 1950 年前后该河中游河段自由弯曲和游荡型弯曲河道的成因。(8 分)
- (2) 分析 1961 年以后该河中游沙洲面积大幅减少的原因。(8 分)
- (3) 指出 1980 以后该河治理措施在减轻洪涝方面的具体作用。(6 分)
- (4) 你是否赞同拆除部分河段的水坝和防洪堤? 请表明态度并说明理由。(6 分)

38. 阅读材料, 完成下列要求。(10 分)

2023 年 2 月 26 日至 28 日, 中国共产党第二十届中央委员会第二次全体会议审议通过了在广泛征求意见的基础上提出的《党和国家机构改革方案》。习近平就《党和国家机构改革方案(草案)》向全会作了说明。全会同意把《党和国家机构改革方案》的部分内容按照法定程序提交十四届全国人大一次会议审议。

2023 年 3 月 7 日, 在第十四届全国人民代表大会第一次会议上, 国务委员兼国务院秘书长肖捷受国务院委托, 根据党的二十届二中全会通过的《党和国家机构改革方案》, 就国务院机构改革方案向大会作说明。3 月 10 日, 十四届全国人大一次会议表决通过了关于国务院机构改革方案的决定, 批准了这个方案。

深化国务院机构改革, 要适应构建新发展格局、推动高质量发展的需要, 加强科学技术、金融监管、数据管理、乡村振兴、知识产权、老龄工作等重点领域的机构职责优化和调整, 转变政府职能, 加快建设法治政府, 为全面建设社会主义现代化国家、全面推进中华民族伟大复兴提供有力保障。

结合材料, 运用政治与法治的相关知识, 说明中国共产党是如何通过国家治理体系和治理能力现代化来推进国家治理的?

39. 阅读材料, 完成下列要求。(10 分)

2022 年 6 月 8 日, 习近平总书记在四川考察时就高校毕业生就业强调: “幸福生活是靠劳动创造的, 大家要保持平实之心, 客观看待个人条件和社会需求, 从实际出发选择职业和工作岗位, 热爱劳动, 脚踏实地, 在实践中一步步成长起来。”

刘德果, 一名湖南中医药大学博士毕业生, 自 2015 年提出“中药鸟巢”设想以来, 他的创业梦想日渐清晰, 并变为现实。“让中医药得到传承创新发展, 带动农民增收致富, 离不开科技的力量。”刘德果说。他带领团队成员发挥专业特长, 反复钻研, 开发了“中药鸟巢”生态生产系统。关于未来, 刘德果还有更多设想: 打造生态中药景观旅游, 开展中医药文化传播, 更好地助力乡村振兴和中医药发展。

如今, 越来越多的优秀青年学子抓住新时代新机遇, 到祖国最需要的地方建功立业。他们在实现中国梦的伟大实践中书写精彩人生。

奋斗正青春, 青春献给党。请运用实现人生价值的知识, 以“青春、奉献、担当”为主题, 撰写一篇演讲稿。

要求: ①围绕主题, 观点明确; ②论证充分, 逻辑清晰; ③学科术语使用规范; ④字数: 200 字左右。

40. 阅读材料, 完成下列要求。(10 分)

近十年来, 全球贸易协定数量翻番, 世界主要国家都参与到区域经济一体化的进程中。多国的实践也表明, 自由贸易区对于区域内贸易发展、生产效率提高以及对外开放水平的进一步提升等都有着直接推动作用。

我国一直顺应全球区域经济一体化趋势, 积极推动自由贸易区建设。党的二十大提出, “扩大面向全球的高标准自由贸易区网络”。此外, 我国还在积极推动加入《全面与进步跨太平洋伙伴关系协定》(CPTPP) 和《数字经济伙伴关系协定》(DEPA) 等高标准经贸协议, 主动对照相关规则、规制、管理、标准, 深化国内相关领域改革。

结合材料, 运用《当代国际政治与经济》相关知识, 分析我国扩大面向全球的高标准自由贸易区网络对我国发展更高层次开放型经济的意义。

41. 阅读材料，完成下列要求。(12分)

2021年3月12日，迪士尼公司创作完成“玲娜贝儿”(英文名:LinaBell)美术作品。同年9月，以该美术作品原形设计制作“玲娜贝儿”玩偶发表。2022年2月，迪士尼企业公司在国家版权局对“玲娜贝儿”美术作品进行了登记。作为上海迪士尼全球首发的新IP角色，而世以来热度一直居高不下，周边产品价格也水深船高。2021年10月起，被告人王某某伙同被告人武某清，在未取得授权的情况下，擅自指使他人生产制作仿冒迪士尼“玲娜贝儿”毛绒玩偶2.5万余件，在线下门店和线上平台销售。

结合材料，运用《法律与生活》相关知识，回答下列问题：

- (1) 被告人侵犯了迪士尼公司的何种权利？为什么？(8分)
- (2) 为提高公民的法律意识提两条合理化建议(4分)

42. 阅读材料，完成下列要求。(10分)

太空育种是利用太空环境诱使植物种子发生基因变异，进而培育农作物新品种的高新技术。(如图9所示)

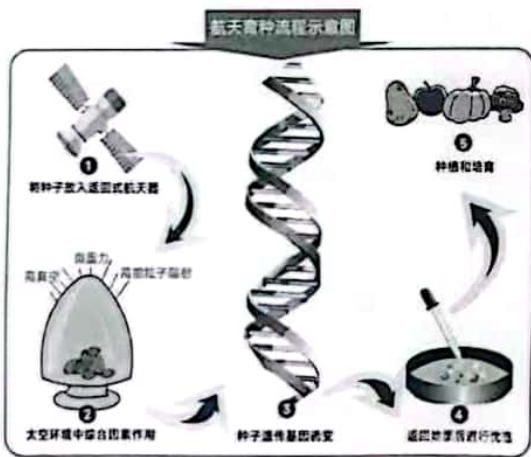


图9

在中国空间站，水稻完成了从种子萌发、生长、开花到产生种子的全生命周期。太空环境下，水稻幼苗的生长不同于地面，茎秆不是笔直向上，而是趴在生长盒的侧壁上，叶片是螺旋状，还有很多水滴。显然，水稻种子患上了“方向乱”“吐水多”“开花晚”等“太空综合症”。本次空间环境下水稻“从种子到种子”的培养实验，将获得水稻培养的关键环境参数，解析空间环境中水稻开花的关键基因表达及变化，为利用水稻进行空间粮食生产提供重要理论指导。

结合材料，说明太空水稻从“种子到种子”的过程是如何体现认识发展历程的。

43. 阅读材料，回答下列问题。(25分)

材料一 独立之初，美国军事与经济实力十分弱小。保护主权与领土完整、捍卫共和政体以及确保和平稳定的发展环境是新生美国的基本安全目标。南北战争结束后，伴随统一大市场的建立，美国国力快速强大。美西战争标志着美国彻底放弃孤立主义，追随欧洲列强，加入全球角力和殖民扩张的行列。二战后，美国在政治、经济和军事上空前强大。美国认定本国的主要威胁来自苏东社会主义阵营，表现为意识形态竞争、军备竞赛与局部武装冲突。东欧剧变、苏联解体 and 冷战结束，找寻新的敌人、遏制新的竞争对手在美国国家安全战略中的意义日益凸显。“9.11事件”对美国国家安全观产生重大影响，安全威胁来源转变为恐怖主义、大规模杀伤性武器和所谓“流氓国家”，美国的安全观由冷战结束后相对透明、自信和开放走向极端，更富有进攻性。进入21世纪，美国更加重视金融危机、气候变化、跨国犯罪及信息安全等其他安全问题。值得关注的是，中国等新兴大国的快速崛起，引起了美国越来越多的警觉，美国安全战略不断聚焦中国。

——摘编自江涌、吕贤《中美国家安全观差异透视》

材料二

表2

时间	安全观	主要内容
建国初期至20世纪70年代末	以军事和政治安全为核心的传统国家安全观	根据国家安全实际需求，以“和平共处五项原则”为基石，务实地制定并调整国家对外政策；镇压反动势力，防止“和平演变”，致力于清除威胁国家安全的隐患；积极备战参战，加强军队建设，为维护国家安全提供力量支撑。
20世纪70年代末至党的十八大前	从传统安全观向非传统安全观的转变	和平与发展的时代主题是维护国家最重要的积极因素；非传统安全威胁逐渐显现，成为国家安全的重要关注点；提出超越传统安全观的新理念指导国家安全实践。
党的十八大后至今	新时代的总体国家安全观	既重视发展问题又重视安全问题，提出“统筹发展与安全”的国家大战略；强调国家安全工作“以人民安全为宗旨”，把“人民安全”置于国家安全工作的核心和首要地位；统筹兼顾国家安全各方面问题，努力构建总体国家安全体系；坚持底线思维，防范化解国家安全重大风险；坚持维护与塑造国家安全相结合，积极推动构建新型国际关系和“人类命运共同体”。

——根据和晓强《建国以来“国家安全观”的历史演进特征分析》整理

(1) 根据材料一并结合所学知识, 分析美国国家安全战略的演进特点。(8分)

(2) 根据材料二并结合所学知识, 分别概括不同时期影响新中国“国家安全观”形成的国际因素。(12分)

(3) 综合以上材料并结合所学知识, 你认为中国的国家安全观与美国相比有何不同?(5分)

44. 阅读材料, 完成下列要求。(12分)

材料 1972年联合国教科文组织通过《世界遗产公约》, 旨在集各国之力, 对日益遭到破坏的文化和自然遗产实施有效保护。《世界遗产公约》确定了文化遗产、自然遗产、文化与自然双重遗产三种类型。1985年, 中国正式加入该条约并制定了具体的实施办法。截至2021年, 中国已有56项世界文化和自然遗产列入名录, 在所有国家中排名第一。

表3 中国世界文化遗产名单(部分)

名称	地点	列入时间	名称	地点	列入时间
明清故宫	北京	1987年	曲阜三孔	山东	1994年
秦始皇陵及兵马俑	陕西	1987年	平遥古城	山西	1997年
周口店北京人遗址	北京	1987年	颐和园	北京	1998年
长城	15省市	1987年	皖南古村落	安徽	2000年
布达拉宫	西藏	1994年	青城山—都江堰	四川	2000年

——根据国家文物局网站相关材料整理

文化遗产保护对保持文化的传承、维护世界文化多样性和创造性具有重要的意义。从上表(或其他中国世界文化遗产)中任意选取其中两处并分别论证其历史文化价值。(要求: 角度明确, 史实准确, 论证合理。)

45. 面对危机, 调整农业政策对社会发展起重要的作用。阅读材料, 回答下列问题。(15分)

材料一 1920年, 苏俄的粮食产量只及1913年的一半。1921年的播种面积只有9030万公顷, 只及1913年的86%。粮食和原材料的短缺使多数工厂无法开工。人民生活困苦不堪, 连面包、肥皂等最基本的物品都十分缺乏。农民强烈反对征粮队的活动, 要求经营自由和贸易自由, 但遭到否定和拒绝。农民的不满与日俱增, 反苏维埃暴动频繁发生。俄共(布)十大后, 全俄苏维埃中央执行委员会于1921年3月21日颁布了《关于以实物税代替余粮收集制》的法令。4月政府宣布, 1921—1922经济年度中的粮食税额为2.4亿普特。这个数字比原定的1921—1922年余粮收集额4.23亿普特低了很多。每一农户的粮食税额取决于他的土地数量、家庭人口、收成和财产状况。

——摘编自吴于廑、齐世荣主编《世界史》

材料二 危机催生变革。20世纪70年代末, 广大民众尤其是广大农民的生存危机倒逼中国农民发动改革。……著名的“大包干”责任制形式就是由安徽农民群众创造和示范, 然后推广到全国的。中国共产党的英明之处在于顺应和尊重基层群众改革举动和创造性实践。……1977年6月中央调整了执行极“左”路线的安徽省委领导班子。新领导班子恢复实事求是的思想路线, 深入基层和群众调查研究, 很快制定了《关于当前农村经济政策几个问题的规定》, 提出要尊重生产队的自主权, 生产队可以实行定任务、定质量、定工分的责任制。……其后他们在实践中探索突破人民公社体制的各种农业生产责任制, 以改变农民集体劳动监督难和平均主义分配方式造成的农民劳动生产积极性不高的问题。

——摘编自唐宏伟《我国农村经济体制改革的成功起步、理论蕴含和现实启示》

(1) 根据材料一并结合所学知识, 概括苏俄农业政策调整的原因。(6分)

(2) 据材料二及所学知识, 概括20世纪70年代末我国农业政策调整的特点及影响。(9分)