

保密★启用前

## 山东中学联盟 2021 届高三大联考

### 数学试题

2020.12

注意事项:

1. 答卷前, 考生务必将自己的姓名、考生号填写在答题卡和试卷指定位置上。
2. 回答选择题时, 选出每小题答案后, 用铅笔把答题卡对应题目的答案标号涂黑。如需改动, 用橡皮擦干净后, 再选涂其他答案标号。回答非选择题时, 将答案写在答题卡上。写在试卷上无效。
3. 考试结束后, 将本试卷和答题卡一并收回。

一、单项选择题: 本题共 8 小题, 每小题 5 分, 共 40 分。在每小题给出的四个选项中, 只有一项是符合题目要求的。

1. 若集合  $A = \{-3, -1, 1, 3\}$ ,  $B = \{x | x^2 - x - 6 \leq 0\}$ , 则  $A \cap B =$

- A.  $\{-3, -1, 1\}$       B.  $\{-1, 1, 3\}$       C.  $\{-3\}$       D.  $\{3\}$

2. 已知  $i$  是虚数单位, 则  $(\frac{1+\sqrt{3}i}{2i})^2$  在复平面内对应的点位于

- A. 第一象限      B. 第二象限      C. 第三象限      D. 第四象限

3. 已知向量  $\vec{a} = (2, 3, -4)$ ,  $\vec{b} = (-3, x, y)$  分别是平面  $\alpha, \beta$  的法向量, 若  $\alpha // \beta$ , 则

- A.  $x = -\frac{9}{2}, y = 6$       B.  $x = -\frac{9}{2}, y = -6$   
C.  $x = \frac{9}{2}, y = 6$       D.  $x = \frac{9}{2}, y = -6$

4. 已知圆  $C: x^2 + y^2 + 4x - 2y - 4 = 0$  关于直线  $l: x - 2ay + 4 = 0$  对称, 则原点  $O$  到直线  $l$  的距离为

- A.  $\frac{4\sqrt{37}}{37}$       B. 1      C.  $\frac{4\sqrt{5}}{5}$       D.  $\frac{\sqrt{5}}{5}$

5. “ $\forall x \in [-2, 1], x^2 - 2a \leq 0$ ”为真命题的一个充分不必要条件是

- A.  $a \geq 0$       B.  $a \geq 1$       C.  $a \geq 2$       D.  $a \geq 3$

6. 设  $p = \ln 3$ ,  $q = \lg 3$ , 则

- A.  $p - q > pq > p + q$       B.  $p - q > p + q > pq$   
C.  $p + q > pq > p - q$       D.  $p + q > p - q > pq$

7. 已知实数  $x, y$  满足  $x + \frac{1}{x} + 9y + \frac{1}{y} = 17$ , 其中  $x > 0, y > 0$ , 则  $\frac{1}{x} + \frac{1}{y}$  的最小值为

- A.  $\frac{1}{16}$       B. 1      C. 2      D. 16

8. 正三角形  $ABC$  的内切圆圆心为  $Q$ , 点  $P$  为圆  $Q$  上任意一点. 若  $\overline{QP} = m\overline{QC} + n\overline{QA}$ , 则  $m + n$  的取值范围

- A.  $[-1, 1]$       B.  $\left[-\frac{1}{2}, \frac{1}{2}\right]$       C.  $\left[-\frac{\sqrt{2}}{2}, \frac{\sqrt{2}}{2}\right]$       D.  $[-\sqrt{2}, \sqrt{2}]$

二、多项选择题: 本题共 4 小题, 每小题 5 分, 共 20 分. 在每小题给出的四个选项中, 有多项符合题目要求. 全部选对的得 5 分, 有选错的得 0 分, 部分选对的得 3 分.

9. 函数  $f(x) = \sin^2 x + \sqrt{3} \sin x \cos x + 1$  的图象的一个最值为

- A.  $\left(\frac{\pi}{3}, \frac{3}{2}\right)$       B.  $\left(\frac{5\pi}{6}, \frac{1}{2}\right)$       C.  $\left(\frac{5\pi}{6}, \frac{5}{2}\right)$       D.  $\left(\frac{4\pi}{3}, \frac{5}{2}\right)$

10. 设  $F_1, F_2$  是双曲线  $C: \frac{x^2}{a^2} - \frac{y^2}{b^2} = 1 (a > 0, b > 0)$  的左、右焦点, 点  $P$  是双曲线上任意一点. 若

双曲线的渐近线方程为  $\sqrt{3}x \pm y = 0$ , 焦距为  $4\sqrt{2}$ , 则下列说法正确的是

- A. 实轴长  $\sqrt{2}$       B. 双曲线的离心率为 2  
C. 双曲线的焦点到渐近线的距离为  $\sqrt{6}$       D. 存在点  $P$ , 使得  $|F_2P| = 1$

11. 已知函数  $f(x)$  是定义在  $R$  上的偶函数, 满足  $f(x-1) = f(x+1)$ , 当  $x \in [0, 1]$  时,  $f(x) = x$ . 设

函数  $g(x) = f(x) - kx - k$ , 下列结论成立的是

- A. 函数  $f(x)$  的一个周期为 2      B.  $f\left(\frac{4}{3}\right) = -\frac{2}{3}$

C. 当实数  $k > -1$  时, 函数  $g(x)$  在区间  $[1, 2]$  上为单调递减函数

D. 在区间  $[-1, 3]$  内, 若函数  $g(x)$  有 4 个零点, 则实数  $k$  的取值范围是  $\left(0, \frac{1}{4}\right]$

12. 棱长为 1 的正方体  $ABCD - A_1B_1C_1D_1$  中,  $P$  是正方形  $ADD_1A_1$  (含边界) 上的动点, 若  $PB_1$  与  $A_1C$  垂直, 下列结论成立的是

- A.  $PB_1 \parallel$  平面  $BC_1D$       B. 动点  $P$  一定在线段  $AD_1$  上  
C.  $|PB_1| \in [1, \sqrt{2}]$       D.  $PB_1$  与平面  $BC_1D$  所成角的正弦值可以是  $\frac{\sqrt{3}}{2}$

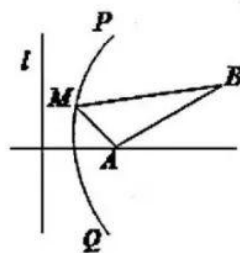
三、填空题: 本题共 4 小题, 每小题 5 分, 共 20 分.

13. 与棱长为  $\sqrt{2}$  的正方体所有棱都相切的球的体积为\_\_\_\_\_.

14. 近两年, 中国移动推动 5G 和 4G 技术共享、资源共享、覆盖协同、业务协同, 充分利用原 4G 线路传输资源, 并高效建设 5G 基站. 如图, 南北方向的公路  $l$ , 城市  $A$  地

(看作一点) 在公路正东  $\sqrt{3} \text{ km}$  处, 城市  $B$  地 (看作一点) 在  $A$  北偏东  $60^\circ$

方向  $2 \text{ km}$  处, 原有移动 4G 线路  $PQ$  曲线上任意一点满足到公路  $l$  和到城市  $A$  地距离相等. 现要在线路  $PQ$  上一处  $M$  建一座 5G 基站, 则这座 5G 基站到城市  $A, B$  两地的总距离最短时为 \_\_\_\_\_  $\text{ km}$ .



15. 已知数列  $\left\{ \frac{1}{(2n-1)(2n+3)} \right\}$  的前  $n$  项和为  $T_n$ , 若对任意的  $n \in \mathbb{N}^*$ ,

不等式  $6T_n < a^2 - a$  恒成立, 则实数  $a$  的取值范围是\_\_\_\_\_.

16. 已知函数  $f(x) = \sin\left(\omega x - \frac{\pi}{6}\right)$  ( $\omega > 0$ ) 在  $[0, \pi]$  有且仅有 3 个零点, 则函数  $f(x)$  在  $[0, \pi]$

上存在 \_\_\_\_\_ 个极小值点, 实数  $\omega$  的取值范围是\_\_\_\_\_ . (第一空 2 分, 第二空 3 分)

四、解答题: 本题包括 6 小题, 共 70 分. 解答应写出文字说明、证明过程或演算步骤.

17. (10 分) 在  $\triangle ABC$  中, 内角  $A, B, C$  所对的边分别为  $a, b, c$ , 且  $b = 5, \cos B = \frac{3}{5}$ ,

(I) 求  $\triangle ABC$  的面积的最大值;

(II) 若  $\sqrt{2}c \sin \frac{B+C}{2} = a \sin C$ , 求  $\triangle ABC$  的周长.

18. (12 分) 已知数列  $\{a_n\}$  的前  $n$  项和是  $A_n$ , 数列  $\{b_n\}$  的前  $n$  项和是  $B_n$ , 若  $A_3 = 14, a_{n+1} = 2a_n$ ,

$n \in \mathbb{N}^*$ . 再从三个条件: ①  $B_n = -n^2 + 21n$ ; ②  $B_{n+1} + 2 = B_n + b_n, b_1 = 20$ ; ③  $b_n = 22 - 2\log_2 a_n$ ,

中任选一组作为已知条件, 完成下面问题的解答 (如果选择多组条件解答, 则以选择第一组解答记分).

(I) 求数列  $\{b_n\}$  的通项公式;

(II) 定义:  $a * b = \begin{cases} a, & a \leq b \\ b, & a > b \end{cases}$ . 记  $c_n = a_n * b_n$ , 求数列  $\{c_n\}$  的前 100 项的和  $T_{100}$ .

19. (12 分) 某工厂有一批材料被预定制作“阳马”(中国古代算数中

的一种几何体, 是底面为长方形, 两个三角侧面与底面垂直的四棱锥体),

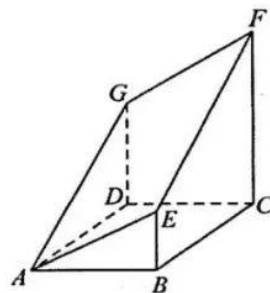
材料是由底面为  $ABCD$  的正四棱柱被截面  $AEFG$  所截而得到的几何体, 每

一块材料制作一个“阳马”. 材料的尺寸如图所示,  $BE = 1, DG = 4,$

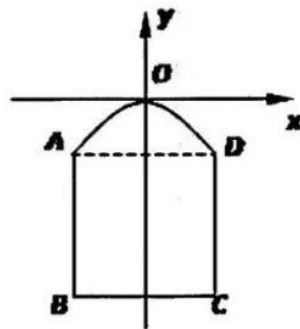
$AB = 2$ .

(I) 求通过此材料制作成的“阳马”中, 最长的棱的长度;

(II) 求平面  $AEFG$  与底面  $ABCD$  所夹锐角的余弦值.



20. (12分) 某地方舱医院的建设中, 为了使得内部环境更为温馨, 在儿童病区采用了如图所示的一个窗户 (该图为轴对称图形), 其中上半部分曲线  $AOD$  拟从以下两种曲线中选择一种: 曲线  $E_1$  是一段余弦曲线, 在如图所示的平面直角坐标系中, 其解析式为  $y = \cos x - 1$ , 此时记窗户的最高点  $O$  到  $BC$  边的距离为  $h_1(t)$ ; 曲线  $E_2$  是一段抛物线, 其焦点到准线的距离为  $\frac{9}{8}$ , 此时记窗户的最高点  $O$  到  $BC$  边的距离为  $h_2(t)$ ; 窗户的下半部分中,  $AB, BC, CD$  是矩形  $ABCD$  的三条边, 由总长度为 6 米的材料弯折而成, 记  $BC$  边的长度为  $2t$  米 ( $1 \leq t \leq \frac{3}{2}$ ).



(I) 分别求函数  $h_1(t)$ 、 $h_2(t)$  的表达式;

(II) 为了使得点  $O$  到  $BC$  边的距离最大, 窗户的上半部分应选择曲线  $E_1$  还是曲线  $E_2$ ? 请说明理由, 并求出此时矩形部分的  $BC$  边长度应设计成多少米.

21. (12分) 已知椭圆  $E: \frac{x^2}{a^2} + \frac{y^2}{b^2} = 1 (a > b > 0)$  过点  $P\left(-1, \frac{\sqrt{3}}{2}\right)$ , 短轴的一个端点到焦点的距离为 2.

(I) 求椭圆  $E$  的方程;

(II) 定义  $k_{PQ}$  为  $P, Q$  两点所在直线的斜率, 若四边形  $ABCD$  为椭圆的内接四边形, 且  $AC, BD$  相交于原点  $O$ , 且  $k_{AC} = \frac{1}{4k_{BD}}$ , 试判断  $k_{AB}$  与  $k_{BC}$  的和是否为定值. 若为定值, 求出此定值; 若不为定值, 请说明理由.

22. (12分) 函数  $m(x) = a \ln x + x^2$ .

(I) 当  $a \neq 0$  时, 若函数  $m(x)$  恰有一个零点, 求实数  $a$  的取值范围;

(II) 设函数  $f(x) = -x^2 m'(x) + \ln x + 2x^3, a \in \mathbb{R}$ .

(i) 若曲线  $y = f(x)$  在点  $(1, f(1))$  处的切线方程为  $y = 2x + m$ , 求实数  $a, m$  的值;

(ii) 对于曲线  $y = f(x)$  上的两个不同的点  $M(x_1, f(x_1)), N(x_2, f(x_2))$ , 记直线  $MN$  的斜率为

$k$ , 若  $y = f(x)$  的导函数为  $f'(x)$ , 证明:  $f'\left(\frac{x_1 + x_2}{2}\right) < k$ .

## 数学试题参考答案及评分标准

说明:

1. 如考生的解法与本解答不同, 可根据试题的主要考察内容, 参照评分标准, 酌情赋分。
2. 当考生的解答在某一步出错误时, 如果后继部分的解答未改该题的内容与难度, 可视影响的程度决定后记部分的给分, 但不得超过该部分正确答案应得分数的一半; 如果后期部分的解答又出现错误或有较严重的错误, 就不再给分。
3. 解答右端所注分数, 表示考生正确做到这一步应得的累加分数。
4. 只给整数分数, 选择题和填空题不给中间分。

一、单项选择题: 本题共 8 小题, 每小题 5 分, 共 40 分。在每小题给出的四个选项中, 只有一项是符合题目要求的。

题号	1	2	3	4	5	6	7	8
答案	B	D	A	C	D	D	B	c

二、多项选择题: 本题共 4 小题, 每小题 5 分, 共 20 分。在每小题给出的四个选项中, 有多项符合题目要求。全部选对的得 5 分, 有选错的得 0 分, 部分选对的得 3 分。

题号	9	10	11	12
答案	BD	BC	ACD	AB

三、填空题 (每小题 5 分, 共 20 分)

13.  $\frac{4\pi}{3}$       14.  $2\sqrt{3}$       15.  $(-\infty, -1] \cup [2, +\infty)$       16.  $1, \left[ \frac{13}{6}, \frac{19}{6} \right)$

四、解答题 (17 题 10 分; 18、19、20、21、22 每题 12 分)

17. 解: (I)  $\because \cos B = \frac{3}{5}, \therefore \sin B = \frac{4}{5},$

由余弦定理知:  $b^2 = a^2 + c^2 - 2ac \cos B,$

即  $25 = a^2 + c^2 - \frac{6}{5}ac \geq 2ac - \frac{6}{5}ac,$  当且仅当  $a = c$  时取等号. .....3 分

所以  $S = \frac{1}{2}ac \sin B \leq \frac{1}{2} \times \frac{125}{4} \times \frac{4}{5} = \frac{25}{2},$

所以  $\triangle ABC$  的面积的最大值为  $\frac{25}{2}.$  .....5 分

(II) 由正弦定理得  $\sqrt{2} \sin C \cdot \sin \frac{\pi - A}{2} = \sin A \cdot \sin C$

$\because \sin C \neq 0, \therefore \sqrt{2} \sin \frac{\pi - A}{2} = \sin A.$  即  $\sqrt{2} \cos \frac{A}{2} = 2 \sin \frac{A}{2} \cdot \cos \frac{A}{2},$

$\because \cos \frac{A}{2} \neq 0$ , 故  $\sin \frac{A}{2} = \frac{\sqrt{2}}{2}$ ,

$\therefore A = 90^\circ$ . .....7分

$\because \sin B = \frac{4}{5} = \frac{b}{a}$ ,  $\therefore a = \frac{25}{4}$ , .....8分

$\therefore c = a \cdot \cos B = \frac{25}{4} \cdot \frac{3}{5} = \frac{15}{4}$ , .....9分

$\therefore$  周长为  $\therefore a + b + c = \frac{25}{4} + 5 + \frac{15}{4} = 15$ . .....10分

18. 解: (I) 由已知得,  $\{a_n\}$  为等比数列, 公比为  $q = 2$ ,

则  $a_1 + 2a_1 + 2^2 a_1 = 14$   $\therefore a_1 = 2$

$\therefore a_n = 2^n$  .....3分

选择①当  $n = 1$  时,  $b_1 = B_1 = 20$ ,

当  $n \geq 2$  时,  $b_n = B_n - B_{n-1} = 22 - 2n$ , .....5分

$\therefore b_n = 22 - 2n$ , .....6分

选择②  $B_{n+1} - B_n = b_n - 2$ ,

即  $b_{n+1} = b_n - 2$ , 所以  $\{b_n\}$  是首项为 20, 公差  $-2$  的等差数列, .....5分

$\therefore b_n = 22 - 2n$  .....6分

选择③  $b_n = 22 - 2 \log_2 2^n = 22 - 2n$ . .....6分

(II) 由 (I) 知:  $c_n = a_n * b_n = \begin{cases} 2^n, & 1 \leq n \leq 3 \\ 22 - 2n, & n \geq 4 \end{cases} (n \in N^*)$  .....8分

所以,  $T_{100} = a_1 + a_2 + a_3 + b_4 + b_5 + b_6 + \dots + b_{100}$

$= \frac{a_1(1-q^3)}{1-q} + \frac{97(b_4 + b_{100})}{2}$  .....10分

$= \frac{2(1-2^3)}{1-2} + \frac{97(14-178)}{2} = 2^4 - 2 - 7954 = -7940$  .....12分

19. 解: (I) 以  $C$  为原点,  $CD, CB, CF$  所在直线分别为  $x$  轴,  $y$  轴, 建立如图所示的空间  
直角坐标系  $O-xyz$ . .....1 分

设点  $F(0,0,h)$ , 且有  $A(2,2,0)$ ,  $G(2,0,4)$ ,  $E(0,2,1)$ ,

因为几何体是由底面为  $ABCD$  的正四棱柱被截面  $AEFG$  所截而得到的,  
所以平面  $ADG \parallel$  平面  $BCFE$ ,

又平面  $ADG \cap$  平面  $AEFG = AG$ , 平面  $BCFE \cap$  平面  $AEFG = EF$ ,

所以  $AG \parallel EF$ , 同理  $AE \parallel GF$ , 所以四边形  $AEFG$  是平行四边形, .....2 分

所以  $\overrightarrow{AG} = \overrightarrow{EF}$ , 即  $(0,-2,4) = (0,-2,h-1)$ , 得  $h=5$  .....4 分

易知制作成的阳马  $F-ABCD$  中, 最长的棱长为  $FA$ ,

所以  $|\overrightarrow{FA}| = \sqrt{4+4+25} = \sqrt{33}$ ,

所以  $FA$  的长为  $\sqrt{33}$ . ... .....6 分

(II) 根据题意可取平面  $ABCD$  的一个法向量为  $\vec{m} = (0,0,1)$ , ... .....7 分

由 (I) 知  $\overrightarrow{AG} = (0,-2,4)$ ,  $\overrightarrow{AE} = (-2,0,1)$ ,

设平面  $AEFG$  的法向量为  $\vec{n} = (x,y,z)$ ,

$$\text{则由 } \begin{cases} \vec{n} \cdot \overrightarrow{AE} = 0 \\ \vec{n} \cdot \overrightarrow{AG} = 0 \end{cases}, \text{ 得 } \begin{cases} -2y + 4z = 0 \\ -2x + z = 0 \end{cases}, \text{ 即 } \begin{cases} y = 2z \\ x = \frac{z}{2} \end{cases},$$

令  $z=2$ , 所以  $\vec{n} = (1,4,2)$ , .....9 分

$$\text{所以 } \cos\langle \vec{m}, \vec{n} \rangle = \frac{\vec{m} \cdot \vec{n}}{|\vec{m}| \cdot |\vec{n}|} = \frac{2}{1 \times \sqrt{1+16+4}} = \frac{2}{\sqrt{21}} = \frac{2\sqrt{21}}{21},$$

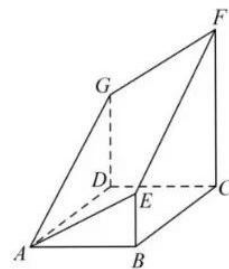
所以平面  $AEFG$  与底面  $ABCD$  所夹锐角的余弦值为  $\frac{2\sqrt{21}}{21}$ . ... .....12 分

20. 解: (I) 曲线  $E_1$  解析式为  $y = \cos x - 1$ ,

所以点  $D$  的坐标为  $(t, \cos t - 1)$ , 点  $O$  到  $AD$  的距离为  $1 - \cos t$ ,

而  $AB = DC = 3 - t$ , 则

$$h_1(t) = (3-t) + (1 - \cos t) = -t - \cos t + 4, \left(1 \leq t \leq \frac{3}{2}\right) \text{ .....2 分}$$



关于曲线  $E_2$ , 可知抛物线的方程为  $x^2 = -\frac{9}{4}y$ , .....3 分

所以点  $D$  的坐标为  $(t, -\frac{4}{9}t^2)$ , 点  $O$  到  $AD$  的距离为  $\frac{4}{9}t^2$ ,

又  $AB = DC = 3 - t$ ,

可得  $h_2(t) = \frac{4}{9}t^2 - t + 3, (1 \leq t \leq \frac{3}{2})$  .....5 分

(II) 因为  $h_1'(t) = -1 + \sin t < 0$ ,

所以  $h_1(t)$  在  $[1, \frac{3}{2}]$  上单调递减,

所以当  $t = 1$  时,  $h_1(t)$  取得最大值为  $3 - \cos 1$ . .....7 分

又  $h_2(t) = \frac{4}{9}t^2 - t + 3, (1 \leq t \leq \frac{3}{2})$

二次函数开口向上, 在  $[1, \frac{9}{8}]$  上单调递减, 在  $[\frac{9}{8}, \frac{3}{2}]$  上单调递增,

当  $t = \frac{3}{2}$  时,  $h_2(t)$  取得最大值为  $\frac{5}{2}$  .....9 分

经比较,  $\cos 1 > \cos \frac{\pi}{3} = \frac{1}{2}$ , 所以  $3 - \cos 1 < 3 - \frac{1}{2} = \frac{5}{2}$

所以, 选用曲线  $E_2$ , 满足点  $O$  到  $BC$  边的距离最大, .....11 分

此时  $2t = 3$ , 即矩形部分的  $BC$  边长度设计成 3 米. ....12 分

21. 解: (I) 因为椭圆  $\frac{x^2}{a^2} + \frac{y^2}{b^2} = 1 (a > b > 0)$  过点  $P(-1, \frac{\sqrt{3}}{2})$ , 所以  $\frac{1}{a^2} + \frac{3}{4b^2} = 1$ ,

又由题意知, 短轴的一个端点到焦点的距离为 2, 即  $a = 2$

联立方程  $\begin{cases} \frac{1}{a^2} + \frac{3}{4b^2} = 1, \\ a = 2 \end{cases}$ , .....2 分

解得  $a^2 = 4, b^2 = 1$ , 所以椭圆  $E$  的方程为  $\frac{x^2}{4} + y^2 = 1$ ; .....4 分

(II) 证明: 设直线  $AB$  的方程为  $y = kx + m, A(x_1, y_1), B(x_2, y_2)$ ,



联立  $\begin{cases} y = kx + m \\ x^2 + 4y^2 = 4 \end{cases}$ , 得  $(1 + 4k^2)x^2 + 8kmx + 4(m^2 - 1) = 0$ ,

$\therefore \Delta = (8km)^2 - 4(4k^2 + 1) \times 4(m^2 - 1) = 16(4k^2 - m^2 + 1) > 0$ ,

$$\begin{cases} x_1 + x_2 = \frac{-8km}{1 + 4k^2} \\ x_1 x_2 = \frac{4(m^2 - 1)}{1 + 4k^2} \end{cases}, \quad \dots \dots \dots 7 \text{分}$$

因为  $k_{AC} = \frac{1}{4k_{BD}}$ , 所以  $k_{OA}k_{OB} = \frac{1}{4}$ , 所以  $4y_1y_2 = x_1x_2$ .  $\dots \dots \dots 8 \text{分}$

又  $y_1y_2 = (kx_1 + m)(kx_2 + m) = k^2x_1x_2 + km(x_1 + x_2) + m^2$ ,

$\therefore (4k^2 - 1)x_1x_2 + 4km(x_1 + x_2) + 4m^2 = 0$ ,

$\therefore (4k^2 - 1) \frac{4(m^2 - 1)}{1 + 4k^2} + 4km \frac{-8km}{1 + 4k^2} + 4m^2 = 0$ .

整理得  $4k^2 = 1$ ,  $\therefore k = \pm \frac{1}{2}$ .  $\dots \dots \dots 11 \text{分}$

$\therefore A, B, C, D$  可以轮换,

$\therefore AB, BC$  的斜率一个是  $\frac{1}{2}$ , 另一个就是  $-\frac{1}{2}$ ,

$\therefore k_{AB} + k_{BC} = 0$   $\dots \dots \dots 12 \text{分}$

22.解: (I) 函数  $m(x) = a \ln x + x^2 (a \neq 0)$  的定义域为  $(0, +\infty)$ ,

$\therefore m'(x) = \frac{a}{x} + 2x = \frac{2x^2 + a}{x}$ .  $\dots \dots \dots 1 \text{分}$

①当  $a > 0$  时,  $m'(x) > 0$ , 所以  $m(x)$  在  $(0, +\infty)$  上单调递增,

取  $x_0 = e^{-\frac{1}{a}}$ , 则  $m\left(e^{-\frac{1}{a}}\right) = -1 + \left(e^{-\frac{1}{a}}\right)^2 < 0$ ,

因为  $m(1) = 1$ , 所以  $m(x_0)m(1) < 0$ , 此时函数  $m(x)$  有一个零点.  $\dots \dots \dots 2 \text{分}$

②当  $a < 0$  时, 令  $m'(x) = 0$ , 解得  $x = \sqrt{-\frac{a}{2}}$ .

当  $0 < x < \sqrt{-\frac{a}{2}}$  时,  $m'(x) < 0$ , 所以  $m(x)$  在  $\left(0, \sqrt{-\frac{a}{2}}\right)$  上单调递减;

当  $x > \sqrt{-\frac{a}{2}}$  时,  $m'(x) > 0$ , 所以  $m(x)$  在  $\left(\sqrt{-\frac{a}{2}}, +\infty\right)$  上单调递增.

要使函数  $m(x)$  有一个零点, 则  $m\left(\sqrt{-\frac{a}{2}}\right) = a \ln \sqrt{-\frac{a}{2}} - \frac{a}{2} = 0$ , 即  $\ln\left(-\frac{a}{2}\right) = 1$ ,  $a = -2e$ .

综上, 若函数  $m(x)$  恰有一个零点, 则  $a = -2e$  或  $a > 0$ . ... 4分

(II) (i)  $\because f(x) = \ln x - ax$ ,

$\therefore f'(x) = \frac{1}{x} - a$ ,

$\because$  曲线  $y = f(x)$  在点  $(1, f(1))$  处的切线方程为  $y = 2x + m$ ,

$\therefore \begin{cases} f'(1) = 1 - a = 2 \\ f(1) = -a = 2 \times 1 + m \end{cases}$ ,

解得  $\begin{cases} a = -1 \\ m = -1 \end{cases}$ . ... 7分

(ii) 证明一:  $f(x_1) - f(x_2) = \ln x_1 - \ln x_2 + a(x_2 - x_1)$ ,

$$k = \frac{f(x_1) - f(x_2)}{x_1 - x_2} = \frac{\ln x_1 - \ln x_2 + a(x_2 - x_1)}{x_1 - x_2} = \frac{\ln x_1 - \ln x_2}{x_1 - x_2} - a,$$

又  $f'(x) = \frac{1}{x} - a = \frac{1 - ax}{x}$ ,  $f'\left(\frac{x_1 + x_2}{2}\right) = \frac{2}{x_1 + x_2} - a$ ,

$$\begin{aligned} f'\left(\frac{x_1 + x_2}{2}\right) - k &= \frac{2}{x_1 + x_2} - \frac{\ln x_1 - \ln x_2}{x_1 - x_2} = \frac{1}{x_1 - x_2} \left[ \frac{2(x_1 - x_2)}{x_1 + x_2} - \ln \frac{x_1}{x_2} \right] \\ &= \frac{1}{x_1 - x_2} \left[ \frac{2\left(\frac{x_1}{x_2} - 1\right)}{\frac{x_1}{x_2} + 1} - \ln \frac{x_1}{x_2} \right] \end{aligned} \quad \dots\dots\dots 9分$$

不妨设  $0 < x_2 < x_1$ ,  $t = \frac{x_1}{x_2}$ , 则  $t > 1$ ,

$$\text{则 } \frac{2\left(\frac{x_1-1}{x_2}\right)}{\frac{x_1+1}{x_2}} - \ln \frac{x_1}{x_2} = \frac{2(t-1)}{t+1} - \ln t.$$

$$\text{令 } h(t) = \frac{2(t-1)}{t+1} - \ln t \quad (t > 1),$$

$$\text{则 } h'(t) = -\frac{(t-1)^2}{(1+t)^2 t} < 0,$$

因此  $h(t)$  在  $(1, +\infty)$  上单调递减, 所以  $h(t) < h(1) = 0$ . .....11分

又  $0 < x_2 < x_1$ , 所以  $x_1 - x_2 > 0$ ,

所以  $f'\left(\frac{x_1+x_2}{2}\right) - k < 0$ , 即  $f'\left(\frac{x_1+x_2}{2}\right) < k$ . .....12分

证明二:  $f(x_1) - f(x_2) = \ln x_1 - \ln x_2 + a(x_2 - x_1)$ ,

$$k = \frac{f(x_1) - f(x_2)}{x_1 - x_2} = \frac{\ln x_1 - \ln x_2 + a(x_2 - x_1)}{x_1 - x_2} = \frac{\ln x_1 - \ln x_2}{x_1 - x_2} - a,$$

$$\text{又 } f'(x) = \frac{1}{x} - a = \frac{1-ax}{x}, \quad f'\left(\frac{x_1+x_2}{2}\right) = \frac{2}{x_1+x_2} - a,$$

要证:  $f'\left(\frac{x_1+x_2}{2}\right) < k$  成立, 只需  $\frac{2}{x_1+x_2} < \frac{\ln x_2 - \ln x_1}{x_2 - x_1}$  成立

只需  $\frac{2(x_2 - x_1)}{x_1 + x_2} < \ln x_2 - \ln x_1$  成立 .....9分

$$\text{不妨设 } 0 < x_2 < x_1, \quad t = \frac{x_1}{x_2}, \quad \text{则 } t > 1, \quad \text{则 } \frac{2\left(\frac{x_2-1}{x_1}\right)}{\frac{x_2+1}{x_1}} < \ln \frac{x_2}{x_1}.$$

$$\text{令 } h(t) = \frac{2(t-1)}{t+1} - \ln t \quad (t > 1), \quad \text{则 } h'(t) = -\frac{(t-1)^2}{(1+t)^2 t} < 0,$$

因此  $h(t)$  在  $(1, +\infty)$  上单调递减, 所以  $h(t) < h(1) = 0$ . .....11分

又  $0 < x_2 < x_1$ , 所以  $x_1 - x_2 > 0$ ,

所以  $f'\left(\frac{x_1+x_2}{2}\right) - k < 0$ , 即  $f'\left(\frac{x_1+x_2}{2}\right) < k$ . .....12 分

## 关于我们

**自主选拔在线** (原自主招生在线) 创办于 2014 年, 历史可追溯至 2008 年, 隶属北京太星网络科技有限公司, 是专注于**中国拔尖人才培养**的升学咨询在线服务平台。主营业务涵盖: 新高考、学科竞赛、强基计划、综合评价、三位一体、高中生涯规划、志愿填报等。

自主选拔在线旗下拥有网站门户、微信公众平台等全媒体矩阵生态平台。平台活跃用户达百万量级, 网站年度流量超 1 亿量级。用户群体涵盖全国 31 省市, 全国超 95% 以上的重点中学老师、家长及考生, 更有许多重点高校招办老师关注, 行业影响力首屈一指。

自主选拔在线平台一直秉承“专业、专注、有态度”的创办理念, 不断探索“K12 教育+互联网+大数据”的运营模式, 尝试基于大数据理论为广大中学和家长提供中学拔尖人才培养咨询服务, 为广大高校、中学和教研单位提供“衔接和桥梁纽带”作用。

平台自创办以来, 为众多重点大学发现和推荐优秀生源, 和全国数百所重点中学达成深度战略合作, 累计举办线上线下升学公益讲座千余场, 直接或间接帮助数百万考生顺利通过强基计划(自主招生)、综合评价和高考, 进入理想大学, 在家长、考生、中学和社会各界具有广泛的口碑影响力, 2019 年荣获央广网“年度口碑影响力在线教育品牌”。

未来, 自主选拔在线将立足于全国新高考改革, 全面整合高校、中学及教育机构等资源, 依托在线教育模式, 致力于打造更加全面、专业的**新高考拔尖人才培养**服务平台。



微信搜一搜

自主选拔在线