

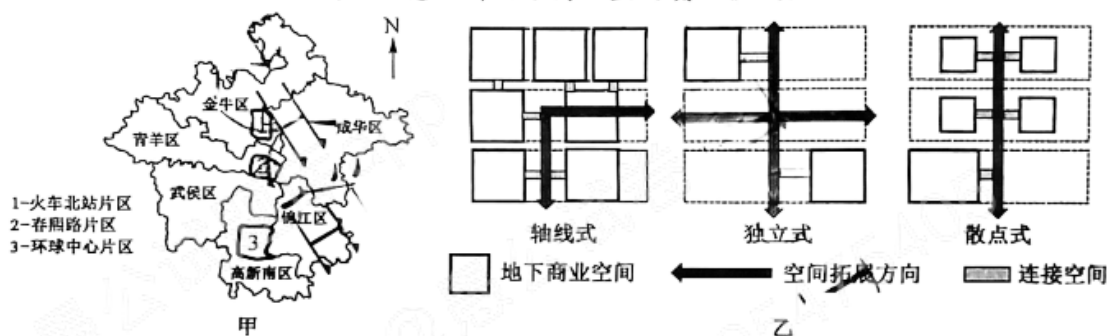
## 高三文科综合

### 考生注意：

1. 本试卷分选择题和非选择题两部分。满分 300 分，考试时间 150 分钟。
2. 答题前，考生务必用直径 0.5 毫米黑色墨水签字笔将密封线内项目填写清楚。
3. 考生作答时，请将答案答在答题卡上。选择题每小题选出答案后，用 2B 铅笔把答题卡上对应题目的答案标号涂黑；非选择题请用直径 0.5 毫米黑色墨水签字笔在答题卡上各题的答题区域内作答，超出答题区域书写的答案无效，在试题卷、草稿纸上作答无效。
4. 本卷命题范围：高考范围。

一、选择题：本题共 35 小题，每小题 4 分，共 140 分。在每小题给出的四个选项中，只有一项是符合题目要求的。

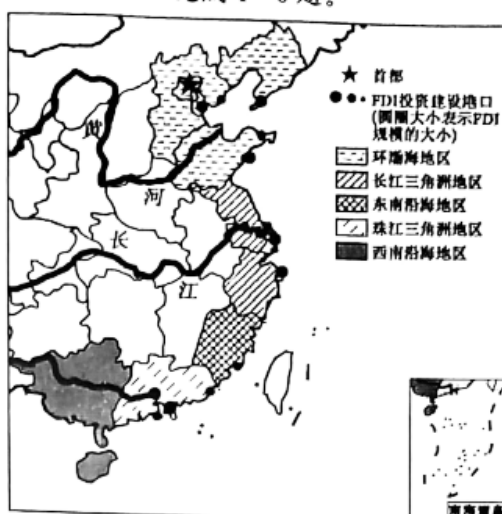
近年来，我国各大城市地下商业空间发展迅速。研究发现，大型居住区周边的地下商业空间应以生活服务、体育休闲等业态为主导进行开发，以满足居民的生活需求；枢纽型的地下商业空间需要形成有特色的、多元化的地下商业圈。成都市春熙路片区、火车北站片区及环球中心片区是具有地下商业空间的三个特色区域，位置如图甲所示，图乙示意三种地下商业空间演化模式。据此完成 1~3 题。



1. 与地上商业空间相比，建设地下商业空间应着重考虑
  - A. 消防、通风排烟和排水系统规划
  - B. 地下空间功能、形态与结构布局
  - C. 地下停车场等相关基础设施建设
  - D. 地下通道与地铁、公交站的距离
2. 春熙路片区、火车北站片区及环球中心片区对应的地下商业空间演化模式依次为
  - A. 轴线式、散点式、独立式
  - B. 散点式、轴线式、独立式
  - C. 轴线式、独立式、散点式
  - D. 独立式、轴线式、散点式
3. 我国各大城市地下商业空间发展迅速的主要影响有
  - ①提升抗灾能力
  - ②缓解用地紧张
  - ③增加能量消耗
  - ④降低土地价格
  - A. ①②
  - B. ①④
  - C. ②③
  - D. ③④

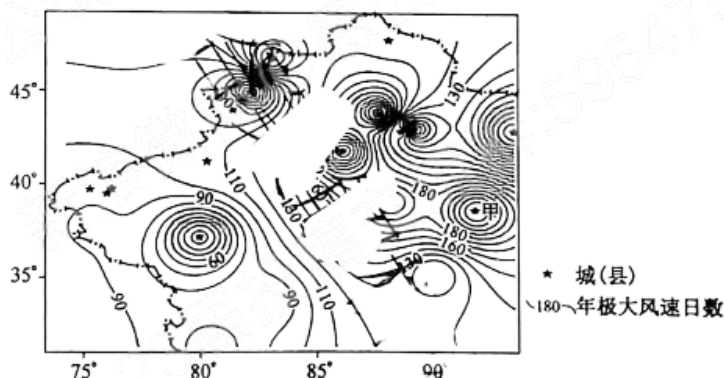
在我国港口的快速发展中，外商直接投资(FDI)成为重要推动力之一。然而，在我国港口吸引外资规模不断扩大的同时，外商的非对称投资使得 FDI 在空间分布上存在显著差异。世界银行数据显示，

1991~2011年底,共有48项外商投资建设我国海港的记录,涉及18个沿海港口。下图示意1991~2011年FDI在我国港口沿海岸线分布状况。据此完成4~6题。



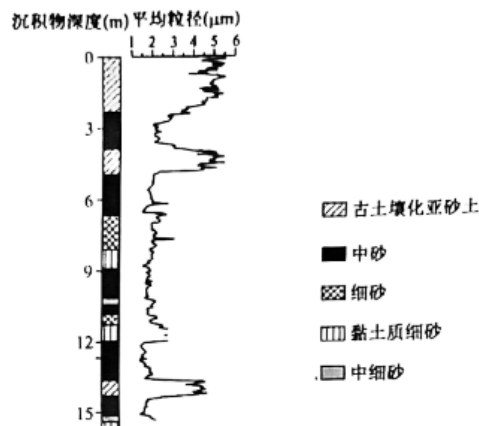
4. 外商的非对称性投资对我国港口的主要影响是
- A. 港口竞争力降低  
B. 扩大港口经济腹地  
C. 空间发展不均衡  
D. 增加了港口的数量
5. 推测 FDI 前期主要集中在
- A. 环渤海地区  
B. 珠江三角洲地区  
C. 西南沿海地区  
D. 长江三角洲地区
6. FDI 在港口群选择上具有时间阶段性,与其关联性最大的是
- A. 我国经济格局的变迁  
B. 港口集群状况  
C. 经济发展水平的高低  
D. 自然资源种类

极大风速(指给定时间段内的瞬时最大风速大于17 m/s)是影响城市森林滞尘循环的重要指标。下图示意新疆主要城(县)年极大风速日数分布。据此完成7~9题。



7. 甲地年极大风速日数最可能为
- A. 160天  
B. 185天  
C. 220天  
D. 235天
8. 影响新疆主要城(县)年极大风速日数分布特征的主要因素有
- ①地形 ②热量, ③降水 ④气压场
- A. ①②  
B. ②③  
C. ①④  
D. ③④
9. 为减少新疆主要城(县)年极大风速日数可采取的措施是
- A. 大力发展风力发电  
B. 提高植被覆盖率  
C. 提高绿洲开发强度  
D. 扩大城市的规模

青山“砂山”位于武汉市青山镇,形成于古地质历史时期,“砂山”呈条带状近乎平行排列,垂直于长江河岸,组成“砂山”的沉积物粒径不一,但呈现出一定的规律性,冬季是“砂山”主要形成期。下图示意“砂山”0~17 m 深度各组成沉积物平均粒径,不同深度的沉积物平均粒径对当地气候环境有指示作用。据此完成 10~11 题。



10. 形成青山“砂山”的主要作用是  
A. 流水沉积      B. 风力沉积      C. 地壳抬升      D. 流水侵蚀
11. “砂山”在 5~10 m 形成期间,其环境特点最可能是  
A. 冷干      B. 冷湿      C. 暖湿      D. 暖干
12. 2023 年 1 月,据海外媒体报道,因车辆使用的高田安全气囊存在安全问题,可能会因高温、湿度过高等原因发生故障。大众汽车在海外将会对甲壳虫进行召回,此次召回涉及 37 558 辆甲壳虫车型,包括 2015—2016 款硬顶及敞篷版本。下列对材料的解读正确的是  
①反映了车企积极承担社会责任    ②被召回的汽车成为未能实现其使用价值的残次商品    ③启示生产经营者必须高度重视产品的质量    ④被召回的汽车成本增加,再次销售的价格会适度提高  
A. ①②      B. ①③      C. ②④      D. ③④
13. 重庆市财政局、市经信委联合印发落实政府采购促进中小企业发展管理办法的通知,畅通政府采购扶“小”助“微”“最后一公里”。对未达到预留份额比例的,应当作出说明。不考虑其他因素,政府采购扶“小”助“微”对经济发展发挥作用的正确传导路径是  
①促进小微企业发展,增加就业    ②促进居民收入增加,扩大社会需求    ③拓展小微企业市场空间,提升盈利能力    ④刺激社会生产,经济回暖复苏  
A. ③→①→②→④      B. ④→②→①→③  
C. ③→④→④→①      D. ④→③→②→①
14. 渐进性延迟退休是近年来社会热议话题。但不少人担心,延迟退休年龄以后,自己中年失业了该怎么办?以延迟后的退休年龄标准为 65 岁计算,如果一个劳动者在 34 岁,甚至 40 岁的时候就失业,而且找不到新的工作。这意味着,要在失业的环境中,坚持 25 年甚至 30 多年才可以退休。而且在失业以后,社保的缴费等都会成为问题。为此,需要  
①完善再分配调节机制,加快推进基本公共服务均等化    ②深化收入分配改革,增强劳动报酬在初次分配中比重    ③加快健全和完善社会保障制度,增强群众更多获得感    ④公民增加权利意识和法律意识,依法维护自身权益  
A. ①②      B. ①③      C. ②④      D. ③④
15. 人民银行、银保监会联合召开房地产金融工作座谈会。会议提出,金融部门要认真贯彻落实党中央、国务院决策部署,围绕“稳地价、稳房价、稳预期”目标,坚持“房住不炒”,加快完善住房租赁金融政策体系。下列措施符合上述要求的是

- ①强化个人住房贷款审慎管理,支持居民刚性居住需求 ②出台征收房地产税的政策,提高炒房的成本,抑制炒房 ③适度上调金融机构购房贷款利率,以便更多的居民买得起 ④落实购地只能用自有资金的规定,严控购地加杠杆行为
- A. ①③ B. ①④ C. ②③ D. ②④
16. 2022年11月20日至2023年1月20日,广西壮族自治区公安机关开展为期两个月的岁末年初打击突出犯罪攻坚战,剑指组织偷越国边境、涉黑恶等七类犯罪。攻坚战开展一个多月以来,广西刑事警情、治安警情同比分别下降15.7%和35.7%。可见
- ①社会主义民主是最广泛、最真实的 ②国家通过专政手段保障人民民主 ③我国政府履行对内职能维护社会秩序 ④阶级斗争在我国少数民族区域尤为突出
- A. ①② B. ①④ C. ②③ D. ③④
17. 国家主席习近平在新年贺词中深情回顾中国共产党百年奋斗的光辉历程,着眼实现中华民族伟大复兴的宏伟目标,强调“我们唯有踔厉奋发、笃行不怠,方能不负历史、不负时代、不负人民”。为此党必须做到
- ①坚持以人为本、公民至上的价值取向 ②坚持人民主体地位,把人民需求作为各项工作的依据 ③坚持人民立场这一我们党的根本立场 ④坚持立党为公、执政为民的执政理念
- A. ①② B. ①④ C. ②③ D. ③④
18. 2022年全国两会期间,国务委员兼外交部长王毅就中国外交政策和对外关系回答中外记者提问时指出,大国竞争不是时代主题,零和博弈不是正确选择。在一个相互依存的全球化时代,中美两个大国的讲话意在强调,中美两国应该
- ①有效管控分歧,尊重各自的发展权利 ②将维护共同利益作为外交活动的出发点 ③坚持相互尊重、和平共处、合作共赢 ④加强对话合作,构建全球治理的战略同盟
- A. ①③ B. ①④ C. ②③ D. ②④
19. 2022年12月31日,2022中国正能量“五个一百”网络精品征集评选展播活动正式拉开帷幕。活动通过多种形式、多种角度的优秀网络作品吸引亿万网民的目光,通过点点滴滴的正能量讴歌伟大时代,在激荡并温暖广大网民心弦的同时,激励更多人主动参与到“网聚正能量,构建同心圆”的大潮中。这表明
- ①优秀文化能对人产生深远持久的影响 ②积极向上的文化活动能够涵养正能量 ③文化通过一定载体丰富人的精神世界 ④人们在感受优秀文化过程中陶冶情操
- A. ①② B. ①③ C. ②④ D. ③④
20. 第七届湖南艺术节期间,共展演了29台新创大型舞台剧目、25个新创小戏作品、12个复排传统经典戏曲剧目、13台群众文化活动;展出美术书法作品272件,摄影作品120组。湘剧《忠诚之路》、花鼓戏《夫子》、京剧《向警予》、花鼓戏《徐特立》等10台剧目获田汉大奖。由此可见,该艺术节的举办
- ①繁荣文化市场,突显中华文化的博大精深 ②彰显文化自信,对接红色文化与优秀传统文化 ③礼敬传统文化,通过文化创新挖掘其商业价值 ④提供精神引领,力促社会思想意识的多元多样
- A. ①② B. ①④ C. ②③ D. ③④
21. 对于雪景的描写,古人在诗句中有所不同。

诗人	有关雪景的描写
李白	燕山雪花大如席,片片吹落轩辕台。
高适	千里黄云白日曛,北风吹雁雪纷纷。
柳宗元	孤舟蓑笠翁,独钓寒江雪。
王安石	遥知不是雪,为有暗香来。

以上有关雪景描述的差异告诉我们

- ①对雪景的描述源自于诗人的情感认知 ②诗人对雪景描述体现意识能动创造性 ③雪景的描述是对客观现实的真实反映 ④雪景描述是客观存在的一种主观表达
- A. ①③ B. ①④ C. ②③ D. ②④
22. 香港宠物店确诊病例出现后,有关部门验出 11 个仓鼠样本对新冠病毒初步呈阳性反应,决定对仓鼠进行扑杀,引发社会争议。部分民众提出“杀鼠令”有失人道;专家则表示,疫情当前,保障人类安全总是第一位的,香港此次若不对仓鼠采取果断举措,或会有更多动物要被人道毁灭。材料蕴含的哲学道理是
- ①实践是人们获得认识的来源 ②认识活动具有主体差异性 ③认识受到具体实践水平的限制 ④认识是主客观的具体的历史的统一
- A. ①② B. ①③ C. ②④ D. ③④
23. 长期以来,基层行政执法领域存在多头执法、重复执法、执法扰民等诸多问题。为此,S 市积极探索推进综合行政执法体制改革,根据不同层级、不同领域情况,分层分类实施改革,有效整合部门内部、相关部门之间和一定区域内的行政执法职能、机构和人员,在市级、县级、镇级层面均实现“一支队伍管执法” S 市积极探索推进综合行政执法体制改革的哲学依据是
- ①生产关系一定要适应生产力的发展 ②改革是推动社会发展的重要动力 ③社会发展只有在改革中才能实现 ④上层建筑一定要适应经济基础状况
- A. ①③ B. ①④ C. ②③ D. ②④
24. “生民”一词,在先秦时保留最多的是儒家典籍,而在同为先秦时代的思想家韩非子那里,“生民”政治思想对于构建他的政治思想体系是无所帮助,甚至和他的政治理念相冲突。两者对待“生民”态度的分歧
- A. 体现了文化间的对立 B. 反映出思想家所属阶层的不同  
C. 源于政治选择的差异 D. 表明先秦诸子学说具有多样性
25. 一份统计资料显示,两晋南北朝由吏部“直接任命”而起家的人,约占总入仕者的半数;由察举和学校开始入仕者的占四分之一;州郡县吏积功升迁的占 14%;公府掾属入仕的占 1.2%。另一份资料也表明,两晋高级士族子弟由吏部铨选入仕的占 50%。这说明两晋南北朝时期
- A. 九品中正制成为选官方式首选 B. 官吏选拔集权化的趋势  
C. 士族政治固化了社会阶层流动 D. 科举制度端倪开始出现
26. 唐代不仅有象征着丰收的丝绸图案,更有以丰收命名的丝绸,如“瑞纒”“散花绫”等。散花绫是河北道邢州的特产,“散花”即“撒花”之意,在黄底上撒满白色的四瓣碎花,寓意为天空撒下了满天飞雪,瑞雪飞舞丰年到。这反映了
- A. 中华民族的农耕意识 B. 唐代昂扬上进的时代风貌  
C. 丝织技术的时代转型 D. 唐代中西文化交流的频繁
27. 清代乾隆年间的《生意世事初阶》一书中将商贾之理财视为居家之急务,并与为官出仕、“出而裕国”相提并论,而《贸易须知》中更是希望学习者“研求温习,玩味熟思”,并把“异日有成,出人头地”的希望寄托于经商之上。这可用来说明当时
- A. 社会结构发生了根本性的变化 B. 工商皆本观念开始流行  
C. 新商业伦理观的构建业已完成 D. 农本商末观念受到冲击
28. 1851 年,太平天国颁布了《太平礼制》,其中以天王诏令的形式从称呼、服饰、仪卫舆马都有明确规定,不准逾越,而凡“东王驾出,如各官士兵,回避不及,当跪于道旁,如敢对面行走者斩首不留”。这表明,太平天国
- A. 大大推动了中国近代化的进程 B. 具有脱离广大群众的倾向  
C. 打破了封建思想对人们的束缚 D. 代表的阶级属性发生变化
29. 新文化运动的代表人物鲁迅认为救治中国,“其首在立人,人立而后凡事举”;陈独秀也明确表示,“人间百行,皆以自我为中心,此而丧失,他何足言”;李大钊更是鼓励人们特立独行,以觉醒之我,实现青春之我。这反映了新文化运动

- A. 提倡民主科学  
B. 批判伦理纲常  
C. 呼吁人的解放  
D. 倡导文学革命
30. 1935 年之前,南京国民政府在重工业建设上始终难以投入较多的资源。1936 年调整制定了《国防工业三年计划》,加快了金融改革与金融统制、重工业建设和铁矿统制,以及交通运输建设的步伐,并取得了一定的成效。这一计划的实施
- A. 完善了苏联的经济发展模式  
B. 使官僚资本的规模急剧扩张  
C. 实现了国民经济的协调发展  
D. 为抗战胜利创造了一定条件
31. 1955 年 10 月,中共七届六中全会讨论并通过了由邓子恢主持修订的《农业生产合作社示范章程(草案)》。该章程规定:“为了照顾社员种植蔬菜或者别的园艺作物的需要,应该允许社员有小块的自留地”,并规定“每口人所留的土地至多不能超过全村每口人所有土地的平均数的百分之五”。这些规定
- A. 说明农业市场化得到中央的认可  
B. 适应了当时农村经济发展需求  
C. 印证了农村经济调整效果的初显  
D. 表明社会主义体系的日渐完善
32. 在以前的罗马法中,丈夫可以在不经过妻子的同意下随意支配妻子的嫁资。查士丁尼时期编纂的《罗马民法大全》明确规定:“禁止丈夫在没有妻子同意的情况下出售嫁资、田宅,以及未经妻子同意的抵押。”据此可知,《罗马民法大全》
- A. 标志着罗马法体系的完善  
B. 成为其他国家民法的典范  
C. 体现了法律面前男女平等  
D. 有利于维护妇女婚姻权益
33. 下表是启蒙思想家的部分观点。其共同点是

孟德斯鸠:不强迫任何人去做法律所不强迫他做的事,也不阻止任何人去做法律所许可他做的事,就要防止滥用权力

卢梭:行政权力的受任者绝不是人民的主人……只要人民愿意就可以委任他们,也可以撤换他们

- A. 主张人民主权原则  
B. 倡导实行民主共和制  
C. 追求个人独立自由  
D. 强调对权力进行制约
34. 有学者说:“英国在十七八世纪,相继在多层保护财产合同、价格控制制度、保护发明者的专利制度等方面做出了大量的努力。到了十九世纪,对输出品的限制、东印度公司对印度贸易垄断、谷物条例、航海条例的逐步废除等因素都很好解释了这一历史发展的因果关系。”材料可用来说明,工业革命
- A. 是一次完整的社会革命  
B. 带来了国际分工的变化  
C. 促进了自由主义的发展  
D. 重视科技与工业的结合
35. 两极格局瓦解以来,世界格局处于单极化趋势与多极化趋势并存的三支力量(要求建立单极世界的力量、中间游移力量、要求建立多极世界的力量)角逐的总体状态。在冷战结束到 2007 年美国次贷危机爆发这个阶段,单极化趋势总体上较为明显;2008 年全球金融危机爆发之后,多极化趋势更加凸显。这一变化说明
- A. 经济危机客观上助推了多极化趋势  
B. 世界政治格局的变化莫测  
C. 经济全球化致使美国霸权意识消弭  
D. 经济全球化遭受巨大挫折

二、非选择题:共 160 分。第 36—42 题为必考题,每个试题考生都必须作答。第 43~47 题为选考题,考生根据要求作答。

(一)必考题:共 135 分。

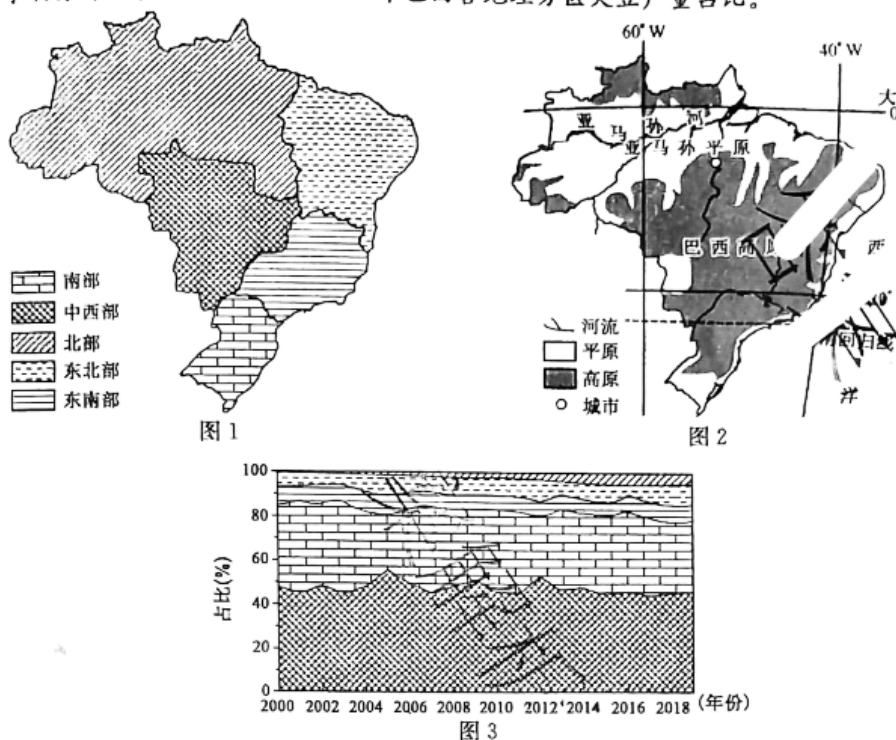
36. 阅读图文材料,完成下列要求。(22 分)

大豆性喜暖,但温度过高易导致植株提前结束生长而使单株产量降低,对土壤肥力要求较高。大豆原产于我国,但近年来我国大豆在国内市场的竞争力逐渐减弱。在技术及政策的支持下,巴西已成

【高三 2 月质量检测·文综 第 6 页(共 12 页)】

LG

为世界上最大的大豆生产国,其大豆种植具有一定的区域性。图1示意巴西国土分区,图2示意巴西相关地理事物分布,图3示意2000~2020年巴西各地理分区大豆产量占比。



- (1)推测我国大豆在国内市场的竞争力逐渐减弱的原因。(6分)
- (2)说明巴西成为世界上最大的大豆生产国的条件。(6分)
- (3)指出巴西各地理分区大豆种植特征,并分析其北部地区种植大豆的劣势。(5分)
- (4)比较巴西南部与东南部地区大豆产量的差异,并分析原因。(5分)

37: 阅读图文材料,完成下列要求。(24分)

牝牛河是位于辽宁西部朝阳境内大凌河的最大一级支流,因汛期河水势若牛奔(俗称“牝牛水”,“牝牛水”可在一定程度上改善中下游地区耕地的土壤状况)而得名,发源于内蒙奈曼旗黄苍他拉乡东南11 km三台力虎村北,全长136 km,流域面积4 400 km<sup>2</sup>。牝牛河流域状如芭蕉扇形,境内丘陵起伏,河谷相间,河道宽窄不等,深浅不定。河流上游为地势起伏的山区,中游、下游均建有大型水库。下图示意牝牛河水系分布。



- (1)分析“牯牛水”形成的主要原因。(6分)
- (2)分析“牯牛水”可改善中下游地区耕地土壤状况的主要原因。(4分)
- (3)说明牯牛河中下游大型水库所发挥的主要功能。(6分)
- (4)指出“牯牛水”的主要危害及应对措施。(8分)

38. 阅读材料,完成下列要求。(14分)

“2022年实施新的组合式税费支持政策,基本原则是坚持阶段性措施和制度性安排相结合,减税与退税并举。”2022年的政府报告中,2022年新的组合式税费支持政策得以公布,预计全年退税减税约2.5万亿元,其中留抵退税约1.5万亿元,退税资金全部直达企业。

回顾2021年,“减税降费+缓税缓费”成为我国涉税政策的一大亮点。围绕提振工业经济运行促进能源电力保供,制造业中小微企业预计办理缓税(费)2400亿元,煤电和供热企业预计办理“减、退、缓”税270亿元。围绕激发科技创新发展活力,受益于两项“升级”的研发费用加计扣除政策,企业提前享受减免税额333亿元。大规模减税降费的对象是市场主体,还兼顾居民家庭,提升职工工资。实践表明,减税降费是助企纾困直接有效的办法,实际上也是“放水养鱼”、涵养税源。

结合材料并运用经济生活知识,分析新的组合式税费支持政策对推动中国经济稳步复苏的作用。

39. 阅读材料,完成下列要求。(12分)

探索建立检察机关提起公益诉讼制度,是党的十八届四中全会作出的一项重大改革部署。

公益诉讼领域涵盖食品药品安全、国有财产保护、国有土地使用权出让、英烈权益保护、生态环境保护以及安全生产、产品质量安全、文物保护等所有法定领域和部分新领域,每一起案件都与国家利益或社会公共利益密切相关。据统计,从2017年7月至2021年6月,检察公益诉讼已全面开展4周年,共提起诉讼19695件,其中生态环境和资源保护与食品药品安全案例所占的比例最高。一方面,生态环境保护和食药安全问题,离老百姓最近,同老百姓生活最密切,是司法维护民生民利最具普遍性的领域。目前,尽管我国生态环境和食药安全形势持续好转,但从各方面数据看,这两个领域的公益损害问题最为突出,群众反映最为强烈;另一方面,生态环境保护和食药安全问题,影响面大,涉及面广,单纯依靠公民个人点对点地提起维护权益的私益诉讼,不仅费时费力,即便赢得诉讼,也很难取得面上的效果,难以维护更多人的利益。

因此,迫切需要检察机关以国家的名义,通过依法独立行使检察权,督促适格主体依法行使公益诉讼权,取得“办理一案、治理一片”的法律效果和社会效果。

结合材料并运用政治生活知识,说明我国探索建立公益诉讼制度的理由。



40. 阅读材料,完成下列要求。(26分)

近年来,随着IP创意产品消费强势崛起,人们消费不再局限于功能性使用的满足,而是更注重其蕴含的文化意涵,关注消费活动的整体体验。

近日,京东消费及产业发展研究院发布了《IP联名消费报告》(以下简称《报告》)。《报告》指出,IP联名商品是IP文化价值与商业价值的结合。文化价值和商业价值并不天然背离,相反,二者的结合能更好地促进文化产业的发展和兴盛。一方面,消费借助品牌符号表达了对某种文化产品和活动的喜爱,获得满足感和幸福感。另一方面,IP联名商品“为文化内涵的衍生,能够提升相关产品的溢价,为文化创作带来了更多的经济价值。此外,IP联名上的文化软实力的构建也有其社会价值,有助于提高国家文化凝聚力。

在中国悠久历史与丰富文化底蕴加持下,未来不会缺少IP生长的土壤。随着中国文化自信的进一步增强,文化活动和文化创意创作日益丰富,中国文化消费市场和IP文创产业前景广阔。近年来,中国IP联名商品占比的加速提升,就是最好的印证。从中国制造到中国创造,发展文化创意产业,要充分发挥国人创造性,让中国的文化IP“出圈”“破圈”,未来中国IP文化创意产业有着巨大的成长空间。

- (1)IP商品必须是文化价值与商业价值的结合。结合材料并运用矛盾基本属性的知识对此加以说明。(12分)
- (2)结合材料,运用文化生活知识,分析未来中国IP文化创意产业有着巨大成长空间的原因。(10分)
- (3)请综合运用所学的知识,就如何实现IP商品从中国制造到中国创造的转变提出两条合理化的建议。(4分)

41. 阅读材料,完成下列要求。(25分)

材料一

“早期工业化”是指工业革命之前的工业化,也就是乡村的工业化,是为市场而非是为家庭的手工业制造业。江南地区的盛泽镇的丝绸业兴盛于明末清初,“盛泽纺织,乃是聚族融汇,为该地农家经济之主要收入,农田收获,反漠视之”。“盛泽所有丝绸产品全为农村工业……盛泽四乡农民,重织轻耕”。盛泽镇鼎盛时期拥有数万户,其中机工、发花有数千人,缫丝、染坊、踞踞等雇佣工人又有近千人,有一半人家以此为生。在盛泽镇附近的黄溪市,丝织机称“万人织机”,等待雇佣的工人,每天清晨聚集于长春桥、泰安桥的桥堍等待雇主召唤,全镇商店五内有家,工商业人口在全镇总人口中占据大多数,工商业人口大大超过农业人口,形成介于县城与乡村之间的小城市,这是中国特色的城市化模式。在1679~1833年的155年中,中国生丝的出口量从微不足道的8担上升到9920担,初露了“外向型”的经济。

——摘编自樊树志《明清江南市镇的“早期工业化”》

【高三2月质量检测·文综 第9页(共12页)】

16

材料二

在16世纪至18世纪中期,英国的乡村工业在全国已有广泛深入地发展,几乎遍及每一个村庄。下面为1520~1801年英国人口结构变动趋势情况。

年份	总人口 (百万)	城市人口 (百万)	乡村人口 (百万)	农业人口占乡村 总人口的比例(%)	乡村农业人口 (百万)	乡村非农业人口 (百万)
1520	2.40	0.13	2.27	80	1.82	0.45
1600	4.11	0.34	3.77	76	2.87	0.90
1670	4.98	0.68	4.30	70	3.01	1.29
1700	5.06	0.85	4.21	66	2.78	1.43
1750	5.77	1.22	4.55	58	2.64	1.91
1801	8.66	2.38	6.28	50	3.14	3.14

——摘编自成德宁《英国前工业化时期的农业革命及其在社会转型中的作用》

- (1)根据材料一并结合所学知识,概括明清时期江南“早期工业化”的表现,并分析其原因。(12分)
- (2)根据材料二并结合所学知识,说明英国乡村工业发展的影响。(8分)
- (3)根据材料一、二并结合所学知识,简析中英乡村工业发展的当代启示。(5分)

阅读材料,完成下列要求。(12分)

①

文明是民族认同的标志,也是人类进步的标尺。文明蕴含自我与他者的比较和对话,也传递了后人对前人的批判和借鉴。作为“具有独特的历史连续性和文化传统同一性的大国”,当代中国的现代文明建构不仅与轴心时代以来文明发展规律相契合,更是在由传统中华文明与科技——工业文明的碰撞交融、民族复兴与人类解放的相通共达中所生成的一种新的文明形态。它的实践性和应然性在于这一民族叙事的新文明不是从头脑中想象出的“抽象逻辑的可能性”,而是在其展开过程中表明的“历史规律的必然性”。

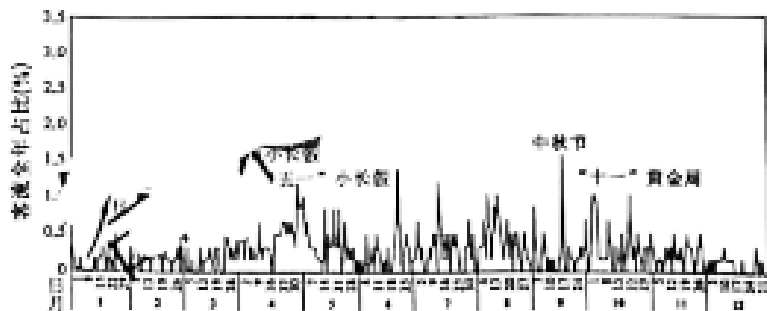
——摘编自吴海江、徐伟轩《新文明的中国形态》

以“新文明的中国形态”为主题,参考材料信息,结合中国史相关知识,自拟一个具体论题并予以阐述。(要求:论题明确,论据有据,论证充分,表述清晰。)

(二)选考题:共 25 分。请考生从 2 道地理题、3 道历史题中每科任选一题作答。如果多做,则每科按所做的第一题计分。

43. [地理——选修 3:旅游地理](10 分)

井冈山地处江西吉安市境内,是一个旅游胜地,也是一个革命圣地。境内有 11 大景区,76 个景点,460 多处景物景观和保存完好的 30 多个革命遗址。早在 1982 年,井冈山就被批准为国家第一批重点风景区。经过多年发展,井冈山已成为宣扬革命精神,开展爱国主义教育的重要基地,并先后被评为国家 5A 级旅游景区、全国红色旅游经典景区。下图示意井冈山客流时间演化。



指出井冈山景区客流的变化特征,并为推动井冈山景区的高质量发展献计献策。

44. [地理——选修 6:环境保护](10 分)

龙川河位于贵州省石阡县,穿石阡县城而过,被誉为石阡县的母亲河,但在几年前,龙川河成了一条“垃圾河”,河水浑浊的同时散发出一阵阵恶臭,冬季尤甚。后经过多年的治理,龙川河又变成“清清爽爽,波光粼粼”的“母亲河”了。

分析龙川河成为“垃圾河”且冬季污染更加严重的原因,并简述当地治理龙川河的有效措施。

45. [历史——选修 1:历史上重大改革回眸](15 分)

材料

无论征派河夫还是出费雇夫,非专业人员易出现效率低下问题。康熙十七年(1678),靳辅总督勒福开始建议废除河夫制,根据防汛的准军事性质征募河兵——河标,专掌维护疏浚堤防工程;设立河管,掌河工调遣及守汛、防汛之事;改增官中,代替河夫。并实行准军事化的管理。勒福还改进了河兵的编制,其一是将河兵分为战兵和守兵两类。战兵分管下桩、下埽等危险和劳动强度大的工作;而守兵分管堤防巡查、运料等较轻工作。战兵每月给银 1.5 两,守兵 1.0 两;其二是由于河兵数量对于应付繁重河工来说有所不足,至于岁修加筑,就更加难以兼顾,因此他建议每兵许其招募帮丁四名。帮丁可以是河兵的子弟家属,给以堤内空地耕种,自食其力,不收钱粮让其参加无偿的河工劳务。可惜,招募帮丁这一建议未被采纳,大的岁修等工程仍照旧例。

——摘编自李先良《论清初黄河治理的改革》

(1)根据材料并结合所学知识,概括清初勒福河工改革的特点。(8 分)

(2)根据材料并结合所学知识,简评清初勒福河工改革的影响。(7 分)

10. [历史——选修3:20世纪的战争与和平](15分)

材料

1914年12月,在德国国会要求增加军费的投票中,著名社会民主党左派议员卡尔·李卜克内西在700多名议员中投下了唯一一张反对票,成为有名的“李卜克内西一票”。1915年4月1日,柏林爆发反战示威。4月28日,国际妇女联合会海牙正式成立,大会通过20项决议,要求“立即实现永久性的和平”,在学校进行“和平教育”。1916年7月23日,英国妇女在新成立的“妇女和平十字军”的领导下,在格拉斯哥举行了第一次反战示威。大战爆发后,尚未参战的美国也出现了声势浩大的反战运动,各种和平组织纷纷向国会递交请愿书,要求和平,反对卷入欧洲战争。美国驻英国大使沃尔特·H.佩奇在给伍德罗·威尔逊总统的信中写道:“感谢上帝赐予我们许多东西——首先是大西洋。”即使在1915年5月7日英国豪华邮轮“卢西塔尼亚号”被德国潜艇击沉,包括128名美国人在内的1198名乘客死亡的重大事件发生后,美国民众也只是要求总统表达举国一致的道义上的愤慨,而很少有人希望进行战争。美国民众的反战情绪是美国在战争开始后实行中立政策的原因之一。威尔逊则迎合大多数美国人的心态,在1916年的大选中,以“他未使我们卷入战争”的口号再次当选为美国总统。

——摘编自徐蓝《第一次世界大战与欧美和平运动的发展》

(1)根据材料并结合所学知识,分析一战期间欧美国家出现和平运动的背景。(6分)

(2)根据材料并结合所学知识,说明一战期间欧美国家和平运动带来的影响。(9分)

11. [历史——选修4:中外历史人物评说](15分)

材料

吴贻芳(1893~1985年),曾任金陵女子大学校长23年。金陵女子大学的办学经费完全依赖外国教会,她重新解释了校训“厚生”的含义,强调“用自己的智慧和能力帮助他人和社会”。她改变了“三从四德”的女子教育内容,制定了严格的考试招生制度及学籍管理规定,同时,又实行弹性学分制。抗战时期,吴贻芳以“努力读书,后援抗日”为教育宗旨,增设了家政、儿童福利和社会系等社会服务类专业。她倡导教育应着眼于人的整体性和知识的综合性,主张通识教育与专才教育相结合。她认为学校不仅应关心学生的学业长进,而且也要对学生的身心成长付出全方位的关怀。她说人格教育的实践,学校尤其应当注重慎微的陶冶,才能使学生整个人生有良好的发展。她平时能够以身作则,到四雷言犹在耳,大到国家使命,都给学生树立了很好的榜样。

——摘编自唐丽萍《吴贻芳高等教育思想研究》

(1)根据材料,概括吴贻芳的教育思想。(8分)

(2)根据材料并结合所学知识,分析影响吴贻芳教育思想的主要因素。(7分)

## 高三文科综合参考答案、提示及评分细则

1. A 建设地下商业空间的目的是缓解地上商业用地的不足,而相对于地上商业空间,地下商业空间存在一定的封闭性,导致其环境及排水要求更高,故建设地下商业空间应着重考虑消防、通风排烟和排水系统规划。
2. C 结合图文材料分析可知,成都市春熙路片区为传统商贸核心区,其地下商业空间辐射全市各类的消费人群,地下商业空间应具有更多公共属性,最可能为轴线式;火车北站片区为枢纽型的地下商业空间,旅客消费随机性强,应沿选择度高的轴线经营布置,最可能为独立式;环球中心片区为大型居住区,其周边的地下商业空间应以生活服务、体育休闲等业态为主导进行开发,以适应居民的生活需求,最可能为散点式。来源:高三答案公众号
3. A 结合所学知识分析可知,我国各大城市地下商业空间发展迅速,城市地面空间得以释放,用地紧张状况得到缓解;地下空间对于难以抗御的外部灾害如战争空袭、地震、风暴等具有较强的防御能力,可以作为灾害时的避难空间、防灾物资的储备仓库及救灾安全通道等;地下空间具有一定的恒温保温性,地下建筑物能量消耗比地面建筑物少;发展地下空间不能降低土地价格。
4. C 结合图文材料分析可知,我国港口的 FDI 地理分布都集中于沿海主要港口,外商的非对称性投资与我国港口能力结构的非均衡式发展相叠加,进一步加剧了我国港口空间发展和码头结构的不均衡性,不利于我国港口产业的长远发展。
5. B 据图并结合所学知识分析可知,最先进行改革开放的深圳、珠海、厦门等经济特区由于政策优势,率先吸引外商投资港口建设。随着浦东开发、环渤海经济圈等一系列政策鼓励,港口 FDI 逐渐向长江三角洲、环渤海地区转移。随着西部开发和东盟自由贸易区的推进,西南沿海特别是广西地区具有巨大的发展前景和市场潜力,我国港口建设的 FDI 区位格局出现西移现象。
6. A 分析可知,FDI 前期主要集中在珠江三角洲地区,而后转向长江三角洲、环渤海地区,目前出现西移现象,FDI 在港口群选择上体现的时间阶段性与我国经济格局的变迁具有很强的同步性,二者的关联性最大。
7. D 根据图示大风日数等值线分布图可知,甲地内层等值线数值可能为 230~240,故该地极大风速日数最可能为 235 天。
8. C 根据图示新疆主要城(县)极大风速日数的分布特征,呈现出多个低值区和高值区,主要是受气压场和地形的影响。
9. B 提高地表植被覆盖率,可以起到降低风速的效果,有利于减少新疆主要城(县)极大风速日数;扩大城市规模,地表硬化率提高,下垫面摩擦力减小,可能会导致新建主要城(县)极大风速日数增加;发展风力发电对减少新疆主要城(县)极大风速日数无明显影响;提高绿洲开发强度,会加剧周边地区地下水下降,导致原生植被退化,可能增加地区极大风速日数。
10. B 由材料可知,“砂山”垂直于长江河道,且呈条带状近乎平行排列,说明是常年在盛行风的吹拂下,由沉积物堆积而成;流水沉积形成的沙丘大致与河道平行,且呈线条状前后排列。
11. D “砂山”在 5~10 m 形成期间,沉积物平均粒径小,说明长江流水搬运用弱,径流量较小,再加上冬季风势力弱,粒径较大的沉积物难以经风吹拂至高处沉积,使之形成“砂山”的沉积物粒径变小。长江流水搬运能力弱,则说明该时期降水少;该时期冬季风势力弱,则冬季气温相对较高;故“砂山”在 5~10m 形成期间其环境特点为暖干。
12. B 车企召回瑕疵产品会直接影响企业的利润,启示生产经营者要重视产品质量,主动承担社会责任,①③当选;瑕疵产品被召回不是没有实现使用价值,而是没有能实现价值,②排除;召回产品会增加企业的生产经营成本,但不一定会提高产品的价格,④排除。
13. A 政府采购可以助力小微企业发展,增强小微企业营利能力,促进小微企业发展,增加就业,收入增加,社会需求扩大,刺激生产,促进我国经济回暖复苏,A 正确。
14. B 材料中“在失业以后,社保的缴费等都会成为问题”等,强调再分配调节机制,并没有涉及初次分配问题,①正确,排除②;材料中没有涉及劳动者维权问题,④不选;③符合题意,入选。
15. B 强化个人住房贷款审慎管理,支持居民刚性居住需求,落实购地只能用自有资金的规定,严控购地加杠杆行为,都是金融部门采取的促进房地产市场健康发展的措施,有助于实现“房住不炒”,①④符合题意;征收房地产税的政策是财政部门的职权,与金融部门无关,排除②;上调金融机构购房贷款利率,会增加居民购房成本,居民购房会减少,排除③。
16. C 广西壮族自治区公安机关开展打击突出犯罪攻坚战,是履行专政职能,保障民主,维护社会秩序,②③符合题意;社会主义民主的广泛性在材料中没有体现,①不选;④的说法不被材料所反映,也不符合实际,不选。
17. D 强调“我们唯有踔厉奋发、笃行不怠,方能不负历史、不负时代、不负人民”。为此,党必须坚持人民立场这一根本立场,坚持立党为公、执政为民的执政理念,全心全意为人民服务,③④入选;坚持以人为本,人民至上的价值取向,而不是公民至上,①错误;党开展各项工作的依据是客观实际、法律、党内法规等,不是人民的需求,②错误。
18. A 大国竞争不是时代主题,零和博弈不是正确选择,表明中美之间应该有效管控分歧,尊重各自的发展权利,坚持相互尊重、和平共处、合作共赢,①③可选;维护国家利益是外交活动的出发点,不是共同利益,②不选;我国奉行不结盟

- 战略,故④说法有误,不选。
19. C 中国正能量“五个一百”网络精品征集评选展播活动,在激荡并温暖广大网民心弦的同时,激励更多人参与到“网络正能量,构建同心圆”的大潮中,说明积极向上的文化活动能够涵养正能量,人们在感受优秀文化过程中陶冶情操,②④符合题意;材料没有体现文化深远持久的影响,①不符合题意;文化有不同的性质,优秀文化能够丰富人的精神世界,③排除。
20. A 从材料可以看出,节会期间举办多项群众文化演出活动,故①可选;从获田汉大奖的剧目可以推知②可选;材料没有体现“挖掘其商业价值”,故③不选;提供精神引领,应该是弘扬主旋律,而不是思想意识的多元性,④不选。
21. D 诗人所处的客观条件不同,同时主观情感不同,体现意识能动创造性,②入选;雪景的描述都是对雪这一客观存在事物的反映,④入选;意识源自于客观存在,①排除;雪景的描述属于意识范畴,意识并非都是对客观现实的如实反映,③排除。
22. A 有关部门通过对仓鼠样本进行检测得出呈阳性反应,并作出扑杀仓鼠的决定,体现了①;关于对仓鼠进行扑杀的决定,引发社会争议,体现了②;材料没有体现实践水平对认识的限制,③不选;正确认识是主观与客观的具体的历史的统一,④不选。
23. D 材料中 S 市积极探索推进综合行政执法体制改革,调整的是上层建筑,其依据是上层建筑一定要适应经济基础状况,改革是推动社会发展的重要动力,②④符合题意;题目没有涉及调整生产关系,①排除;在阶级社会,社会发展通过阶级斗争实现,在社会主义社会,社会发展通过改革实现,③排除。
24. C 考查先秦思想。春秋战国时期,随着中国政治的发展和建立大一统政治的需要,尊君的思想越来越突出,各诸侯国的改革都纷纷加强君主权力,而加强君主权力就意味着“君”的地位上升和“民”之地位的下降,在这种时代背景下,“生民”及其代表的政治理念就显得不合时宜。这也是韩非子没有提到“生民”甚至认为“生民”“和他的政治理念相冲突”的重要原因,故 C 项正确。材料只是提到儒家和法家对待“生民”态度的不同,并未涉及文化间的对立及诸子学说的多样性,故排除 A、D 两项;先秦儒家代表人物孟子和荀子及法家代表人物韩非子都代表的是新兴封建地主阶级的利益,故排除 B 项。
25. B 考查魏晋时期的选官制度。结合材料中“由吏部‘直接任命’而起家的人,约占总入仕者的半数”“两晋高级士族子弟由吏部铨选入仕的占 50%”等信息可知,两晋时期,选官权逐渐集中到中央,有利于中央集权的加强,故 B 项正确。材料涉及多种选官制度,且材料中体现不出九品中正制是首选的选官方式,故排除 A 项;材料反映社会阶层在正常流动,并未固化,故排除 C 项;科举制度的端倪与材料信息无关,故排除 D 项。
26. A 考查唐代的农耕文化与丝织业发展。结合材料中“象征着丰收的丝绸图案”“以丰收命名的丝绸”“瑞雪飞舞丰年到”等信息可知,唐代的丝绸不仅技艺高超,在图案选择上选择承载农业丰收的场景,寄托了唐人对于农业丰收的美好愿景,是中华文明重视农耕技术的时代象征,故 A 项正确。材料与昂扬上进的时代风貌无关,故排除 B 项;丝织技术转型是在元代,故排除 C 项;材料并未涉及中西文化交流,故排除 D 项。
27. D 考查清代的经济思想。结合材料中“将商贾之理财视为居家之急务”“希望寄托于经商之上”等信息可知,明清时期,随着社会经济的发展和工商业的日益繁荣,商贾与上农并列从业,人们的经商观念出现巨大变化,说明农本商末观念受到冲击,故 D 项正确。A 项说法太绝对,故排除;B 项出现是在明朝中后期,故排除;商业伦理指的是商业价值观中的义利观,材料中不涉及,故排除 C 项。
28. B 考查太平天国运动。根据题干,“不准逾越”“东王驾出……如敢对面行走者斩首不留”,这些太平天国颁布的礼制规定,其实质不过是一个新的封建与专制的中央集权的等级森严的王朝而已,这与人民的利益不符,故 B 项正确。太平天国的这些规定并未推动中国近代化的进程,故排除 A 项;由材料可知,这并未打破封建思想的束缚,故排除 C 项;结合所学知识可知,太平天国的阶级属性并未发生变化,仍是属于农民阶级,故排除 D 项。
29. C 考查新文化运动。根据材料可知,新文化的三位代表人物,鲁迅主张要救治中国“其首在立人”,陈独秀则表示“人间百行,皆以自我为中心”,李大钊“鼓励人们特立独行,以觉醒之我,实现青春之我”,三者的共同点是打破束缚,倡导人的解放,故 C 项正确。民主科学是关于个人与国家的关系,而材料提及的是个人的解放问题,故排除 A 项;批判伦理纲常只是部分目的,最终目的是人的解放且材料中并未对伦理纲常进行批判,故排除 B 项;文学革命的倡导者为胡适,且材料未提及内容,故排除 D 项。
30. D 考查南京国民政府的经济建设。根据时间“1935 年之前,南京国民政府在重工业建设上始终难以投入较多的资源”及所学知识可知,1936 年的《国防工业三年计划》是在世界经济大危机和日本侵华加剧的背景下实行的,在“统制经济思想的指导下”“金融改革与金融统制、重工业建设和铁矿统制,以及交通运输建设”等国防建设方面取得了一定的成效,这在一定程度上为以后抗战的胜利准备了一定条件,故 D 项正确。南京国民政府借鉴了而不是完善了苏联的经济发展模式,故排除 A 项;官僚资本的规模急剧扩张是在全面抗战爆发后,故排除 B 项;《国防工业三年计划》主要是调整金融和发展重工业,并未实现国民经济的协调发展,故排除 C 项。
31. B 考查新中国过渡时期的农业建设。结合材料中“1955 年”“允许社员有小块的自留地”“不能超过……平均数的百分之五”等信息可知,面对当时农业合作化运动中农民纷纷加入合作社形成的经济工作问题,党中央及时对合作化运动中存在的问题进行了调整,适应了当时农村经济发展的需求,故 B 项正确。社员允许有自留地并不等于农业集体化,

- 故排除 A 项；农村经济调整是在 1960 年以后，故排除 C 项；社会主义经济体系确立是在 1956 年，故排除 D 项。
32. D 考查古罗马法律。根据材料“禁止丈夫在没有妻子同意的情况下出售嫁资、田宅，以及未经妻子同意的抵押”可知，罗马法注重维护妇女婚姻方面权益，故 D 项正确。其他选项均未体现题干主旨，故排除。
33. D 考查启蒙运动。根据材料“不强迫任何人去做法律所不强迫他做的事，也不阻止任何人去做法律所许可他做的事，就要防止滥用权力”可知，这一观点强调权力不能滥用，这需要权力进行制约；“行政权力的受任者绝不是人民的主人……只要人民愿意就可以委任他们，也可以撤换他们”表明政府的行政权必须接受人民的制约与监督，两者的共同点都反映了对权力进行制约，故 D 项正确。孟德斯鸠的该观点未体现人民主权原则，故排除 A 项；能够对权力进行制约并非强调实行民主共和制，故排除 B 项；个人独立自由两则材料均未体现出，故排除 C 项。来源：高三答案公众号
34. C 考查英国的工业革命。根据材料并结合所学知识可知，工业革命发生之前，英国经济发展过程中国家干预的因素突出，但随着工业革命的推进“对输出品的限制、东印度公司对印度贸易垄断、谷物条例、航海条例的逐步废除”等都是自由主义的体现，结合材料中“都很好解释了这一历史发展的因果关系”这一信息，可知材料可用来说明工业革命促进了自由主义的发展，故 C 项正确。工业革命推动社会关系出现变革，使以家庭和社群结合形成的部落等在社会中的作用逐渐被削弱，国家和市场的功能不断增强可知，工业革命是一次完整的社会革命，A 项在题干中体现不出来，故排除；国际分工、科技与工业的结合在题干中体现不出来，故排除 B、D 两项。
35. A 考查世界政治格局。根据材料“在冷战结束到 2007 年美国次贷危机爆发这个阶段，单极化趋势总体上较为明显；2008 年全球金融危机爆发之后，多极化趋势更加凸显”可知，世界金融危机客观上助推了世界多极化趋势的发展，故 A 项正确。世界政治格局短时期内趋于稳定，并非变幻莫测，故排除 B 项；C 项不符合史实，故排除；D 项并未反映材料主旨，故排除。
36. (1)大豆种植面积减少，总产量减少；大豆育种等研发技术投入少，种子退化，单产低且大豆品质较差；国内大豆生产人工、土地等成本高，价格优势降低；巴西等国家规模化种植，大豆进口成本低，进口量大，冲击国内大豆市场等。（每条 2 分，答对 3 条得 6 分，共 6 分）
- (2)地广人稀，以平原、高原为主，耕地面积大；大部地处热带，大豆种植热量充足；技术研发投入大，大豆单产及品质高；国家政策的支持等。（每条 2 分，答对 3 条得 6 分，共 6 分）
- (3)特征：主要种植在中西部和南部地区；东南部、东北部地区种植较少；北部地区种植最少。（每条 1 分，答对 2 条得 2 分，共 2 分）劣势：河网密布，耕地破碎且洪灾多发；土地淋溶作用强，土壤肥力低；森林密布，耕地开发难度大，大豆可种植面积少；人口稀少，劳动力不足；气温过高，大豆单产低。（每条 1 分，答对 3 条得 3 分，共 3 分）
- (4)差异：南部大豆产量大于东南部。（3 分）原因：东南部城市、人口众多，产业发达，农业用地少；东南部地势起伏较南部大，耕地质量较差等。（从“南部”角度回答亦可，每条 2 分，答对 1 条得 2 分，共 2 分）
37. (1)夏季多暴雨，降水集中且强度大，汛期径流量大；支流众多，流域状如芭蕉扇形，汛期时汇水时间短；丘陵起伏，河谷相间，落差大，流速快等。（每条 2 分，共 6 分）
- (2)“牯牛水”携沙量大，可为农田补充营养物质；带来大量淡水，可淋盐、排盐，减轻土壤盐碱化程度等。（每条 2 分，共 4 分）
- (3)拦沙；供水；农田灌溉；水产养殖；旅游观光；发电等。（每条 2 分，答对 3 条得 6 分，共 6 分）
- (4)主要危害：“牯牛水”流速快，集水速度快，易诱发洪灾；“牯牛水”侵蚀搬运能力强，导致流域内水土流失严重；大量泥沙随“牯牛水”进入水库后淤积，导致水库库容减小等。（每条 2 分，答对 2 条得 4 分，共 4 分）应对措施：上游落差较大的地区，植树造林，涵养水源；中游兴建水利设施，水库清淤，增加库容；下游开挖排水管道，减轻积水导致的洪灾等。（每条 2 分，答对 2 条得 4 分，共 4 分）
38. ①能有效应对经济下行压力，刺激社会总需求增长，激发经济发展内生动力，促进国民经济平稳运行，拉动经济稳步复苏；(3 分)②减少企业税收支出，减轻企业运营负担，激发市场主体活力；(3 分)③提升企业创新能力，帮助制造业转型升级，提升智造能力，推动供给侧结构性改革，为经济持续向好注入更强劲动力；(3 分)④通过延长补助链条，为中小微企业主体减负，稳增长、保就业，提升职工工资，促进共同富裕；(3 分)⑤通过大力支持实体经济，铸牢现代化经济根基，推动经济高质量发展。(2 分)(其他答案，符合题意，可酌情给分)
39. 公益诉讼制度，是维护国家利益和人民利益的制度保障，也是以法治思维和法治方式推进国家治理体系和治理能力现代化的一项重要制度安排；(3 分)我国探索建立公益诉讼制度，有利于发挥法律监督的核心保障作用，捍卫全社会的公平正义，捍卫宪法和法律权威；(3 分)有利于顺应新时代人民群众对美好生活的新期待，切实维护人民群众的合法权益；(3 分)我国探索建立公益诉讼制度，对于社会大众、行政机关、检察机关、审判机关如何更好守法执法司法，推动依法治国，共同加强公益保护，也具有重要积极意义。(3 分)(其他答案，符合题意，可酌情给分)
40. (1)同一性和斗争性是矛盾的两个基本属性。(2 分)斗争性是指矛盾双方相互排斥、相互对立；同一性是指矛盾双方相互依赖、相互贯通。文化价值与商业价值是 IP 商品包含的矛盾着的两个方面。(2 分)IP 商品的文化价值是指 IP 商品的文化内涵及其社会效益；IP 商品的商业价值是指 IP 商品的经济效益。(2 分)IP 商品具有较高的文化价值，才能提升 IP 商品的溢价，为文化创作带来更多的经济效益；(2 分)IP 商品具有较高的商业价值，有利于推动文化传播和文化繁荣，增强人们文化自信。(2 分)二者相结合能更好地促进文化产业发展与兴盛，进而推动经济高质量发展。(2 分)

案,符合题意,可酌情给分)

(2)中华民族历史悠久,中华文化源远流长、博大精深,国人坚定的文化自信,为中国 IP 文化创意产业成长奠定坚实的文化基础;(3分)新时代人们文化需求日益呈现出多层次、多样化、多方面的特点,我国文化市场越来越繁荣,这些都为中国 IP 文化创意产业成长提供良好的市场环境;(3分)我国 IP 文化创意产业注重文化创新,坚持以人民为中心的创作导向,尊重人民主体地位,调动人民群众的积极性,能够提供高质量的文化创意产品。(4分)(其他答案,符合题意,可酌情给分)

(3)从中华优秀传统文化中汲取丰富营养;面向世界,博采众长,促进中西文化的融合;激发全民文化创造力,优化文化创新的社会环境,打开全民创新的闸门,等等。(每条 2 分,答出任意两条即可得 4 分。其他答案,符合题意,可酌情给分)

41. (1)表现:以家庭手工制造业为主业,重织轻耕;出现雇佣工人群体;劳动力市场形成;工商业人口比重的增大;产品面向市场以及出口。(6分,任答三点即可)原因:农业、手工业的发展;赋役制度改革推动了农民人身控制的松弛;重农抑商政策的松动;世界市场的进一步拓展;白银成为主要流通货币。(6分,任答三点即可)

(2)影响:乡村工业发展带动了人口增长,人口增长又促进经济发展到新阶段;为英国由农业社会向工业社会转变奠定了基础;吸纳了乡村剩余劳动力,利于人民生活水平的提高;促进了英国城市化的发展;加快了封建经济的土崩瓦解。(8分,任答四点即可)

(3)启示:调整农业产业结构,推动整个产业结构比例关系协调发展;大力发展乡村工商业解决农村剩余劳动力问题;稳定社会秩序,维护生态平衡;推动乡村城市化,防止人口过于集中到大城市;推动乡村工业也是推动整个国家的现代化;要顺势而为,大力发展乡镇企业,对于农村经济发展和美丽乡村建设具有重大影响。(5分,其他言之有理亦可)

42. 示例:

论题:新中国的民主政治建设是符合中国国情的必然选择。(2分)

阐述:新中国成立后,社会主义民主政治在我国确立,形成了人民代表大会制度、中国共产党领导的多党合作和政治协商制度、民族区域自治制度,这一民主政治建设是符合中国国情的必然选择。中国传统思想文化中的“民本”和“和合”思想,为新中国的民主政治建设提供了思想渊源。同时,近代以孙中山为首的资产阶级实行民主共和制以及以蒋介石为首的资产阶级建立的国民政府,代表的都是资产阶级利益,并未代表广大人民群众利益,因而他们的政权在中国最终失败。1947年,内蒙古自治区的成立是中共在新中国成立前实行民族区域自治政策、解决民族问题的成功实践。新中国的成立和国民经济的恢复,为新中国的民主政治建设奠定了政治基础和经济基础。(8分)

总之,在中国共产党的领导下,通过广大人民群众在各领域的共同努力,建立了符合中国国情的民主政治体系。因此,新中国的民主政治建设是符合中国国情的必然选择。(2分)

43. 变化特征:井冈山客流呈现出明显的月份(季节性)差异;旺季集中在4~10月,12月和次年1月客流降至最低;法定小长假均为旅游旺季等。(每条2分,答对2条得4分,共4分)献计献策:针对不同季节的气候变化和节假日制度特点组织开发多样化的主题旅游产品,吸引不同群体深度参与;加强对景区革命历史和红色文化内涵的挖掘,提高红色精神的教育成效;打造精品旅游项目,提升景区吸引力;合理配置区域内红色旅游资源与其他经济社会要素,实现井冈山红色旅游的全域整合和协调发展等。(每条2分,答对3条得6分,共6分)

44. 原因:城市企业、居民生产生活排放大量固体垃圾进入河流;居民或游客随意向河流丢弃固体废物;冬季河流水位低,流速慢,污染物易在河道汇聚;冬季城市居民燃煤取暖用能多,煤渣等污染物入河多等。(每条2分,答对3条得6分,共6分)有效措施:成立相关执法部门,对随意倾倒或丢弃固体废物垃圾的个人或企业予以处罚;定期对河道进行垃圾捕捞;建立污水处理设施,生产生活污水达标排放;加大环境保护宣传力度,开展保护河流等相关环保活动,提高人们保护河流的意识等。(每条2分,答对2条得4分,共4分)

45. (1)特点:河工专业化;分工细密;管理方式准军事化;河兵制和募兵制相结合。(8分)

(2)影响:有利于提高治河的效率;有利于减轻河道附近百姓的赋役负担。(4分)未彻底改变传统河工制度,存在一定局限性。(3分)

46. (1)背景:战前的和平运动没有阻止一战的爆发;战争残酷性的影响;战争引发了交战各国的政治、经济与社会危机。(6分)

(2)影响:使和平理念深入人心;为谋求和平形成了裁军等共识;推动了国际法的发展和维护和平的国际组织的建立;对欧美外交政策和国际关系产生重要影响。(9分)

47. (1)教育思想:采取刚性与弹性并重的管理方式;重视社会服务教育;关注学生的全面发展及博专兼顾;注重以人为本,强调健全人格的教育,以身作则;关注女子教育。(8分,任答四点即可)

(2)因素:国内政治局势的变动(抗日战争的影响);个人强烈的民族情感及丰厚的学识;中国旧女子教育存在的弊端;外国教会在近代中国的办学(西方列强对中国的文化侵略)。(7分,任答三点即可)



## 关于我们

自主选拔在线是致力于提供新高考生涯规划、强基计划、综合评价、三位一体、学科竞赛等政策资讯的升学服务平台。总部坐落于北京，旗下拥有网站（[网址: www.zizzs.com](http://www.zizzs.com)）和微信公众平台等媒体矩阵，用户群体涵盖全国 90% 以上的重点中学师生及家长，在全国新高考、自主选拔领域首屈一指。

如需第一时间获取相关资讯及备考指南，请关注**自主选拔在线**官方微信号：**zizzsw**。



微信搜一搜

自主选拔在线

