

绝密★考试结束前（向在家休养和隔离的莘莘学子致礼！你们辛苦了，预祝高考取得优异的成绩！）

Z20 名校联盟（浙江省名校新高考研究联盟）2023 届高三第二次联考

历史试题卷

命题：路桥中学 聂佳辉、金丹霞 审稿：富阳中学 骆金凤 永嘉中学 徐森 校稿：田国华、王向阳

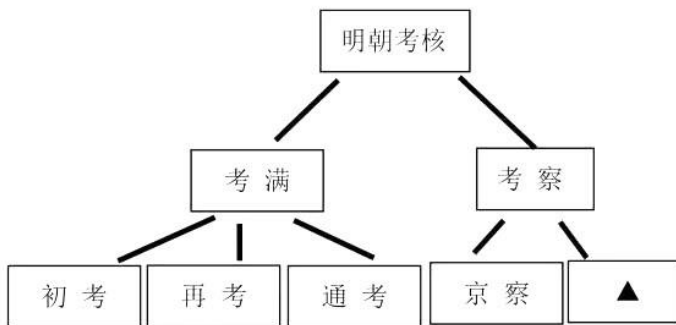
考生须知：

1. 本试题卷分选择题和非选择题两部分，共 8 页，满分 100 分，考试时间 90 分钟。
2. 考生答题前，务必将自己的姓名、准考证号用黑色字迹的签字笔或钢笔填写在答题纸上。
3. 选择题的答案须用 2B 铅笔将答题纸上对应题目的答案标号涂黑，如要改动，须将原填涂处用橡皮擦净。
4. 非选择题的答案须用黑色字迹的签字笔或钢笔写在答题纸上相应区域内，答案写在本试题卷上无效。

选择题部分

一、选择题 I（本大题共 20 小题，每小题 2 分，共 40 分。每小题列出的四个备选项中只有一个是符合题目要求的，不选、多选、错选均不得分）

1. 良渚文化遗址范围广阔，内涵丰富。其中，在反山墓葬群、瑶山祭坛和莫角山土筑金字塔等遗址群中发现了大量精美的玉礼器。在玉架山、茅山等遗址的墓葬中，出土遗物多为普通家居生活用陶制器皿、耘田器、刀、石犁等石质工具等。由此可见，良渚文化时期
①小农经济产生 ②北麦南稻格局形成
③权贵阶层出现 ④出现社会分工现象
A. ①③ B. ②④ C. ③④ D. ①②
2. 韩非子被认为是法家思想的集大成者。《中国法律思想史纲》中提出：“韩非关于实行‘法治’的理论要比前期法家更系统更深入。”下列属于韩非子思想的是
①刑过不避大臣，赏善不遗匹夫 ②以法为教，以吏为师
③治世不一道，便国不法古 ④隆礼尊贤而王，重法爱民而霸
A. ①② B. ①②③ C. ③④ D. ②③④
3. 汉文帝即位之初，首先在淮南国推行“易侯邑”政策，不久又发布“令列侯之国”诏，使淮南王舅父赵兼远离淮南而就国周阳。继而在齐国推行同样政策，使齐哀王舅父驷均和齐悼惠王十子都离开齐国，分别居于济北、济南二郡。这些举措
A. 直接引发吴、楚等七国之乱
B. 为汉武帝解决王国问题提供了借鉴
C. 扩大了诸侯王国的势力范围
D. 埋下了东汉地方豪强割据的隐患
4. 右图是明朝的官员考核制度示意图。图中“▲”应为



- A. 朝觐考察
- B. 巡行考察
- C. 大计
- D. 上计

Z20 名校联盟（浙江省名校新高考研究联盟）2023 届高三第二次联考 历史试题卷 第 1 页 共 8 页

5. 据《清代前中期人口数量及增长率的辨析与重估》记载：乾隆六年（1741年），中国人口约1.43亿，乾隆七年（1742年）约1.60亿，年增长率高达114%，乾隆四十年（1775年），人口大约2.65亿，年增长率高达197%。这一时期人口增长的原因有
- ①国家统一，社会相对稳定，经济繁荣 ②《本草纲目》奠定了中医临床学基础
③高产粮食作物玉米和甘薯的推广种植 ④康熙和雍正以来赋役制度的重大变革
- A. ①②③ B. ②③④ C. ①③④ D. ①②④
6. 1864年，英国人波特·史密斯在汉口建立了湖北第一家教会医院。1865年，《中外新闻七日录》报道：“英国士勿医生（传教士）在汉口设立医院，踵门求医者源源而来。”1867年，《北华捷报》称赞道：“几乎所有社会阶层的人都愿意前来寻求建议，……我们认为，数量如此之多的女性病人，是击败对外国人、外国医学和外科手术偏见的证据之一。”据此可知
- A. 社会各阶层人士都认可西医 B. 西医在洋务运动时传入中国
C. 传教士以治病救人为其宗旨 D. 西学东渐促进口岸风气开化
7. 1902年，梁启超在《论中国学术思想变迁之大势》一文中，首次使用“中华民族”一词，此后他还指出：近代西方社会崛起的重要因素之一就是民族主义。这些思想
- A. 使华夏民族认同感开始形成 B. 为维新变法营造了舆论氛围
C. 抵制了西方殖民者文化侵略 D. 激发了国人救亡图存的意识
8. 《申报》在评述中国近代史上的某场战役时，出现了这些关键词：“1937年”、“国共合作”、“三位将军殉国”、“历时近一个月”、“歼灭日军2万余人”、“规模最大、战斗最激烈”。该战役最可能是
- A. 忻口会战 B. 平型关大捷
C. 淞沪会战 D. 台儿庄战役
9. 中共中央发出的《复电》指出：“不但土地、山林、水利分配，而且要将地主富农两阶级多余的粮食、耕牛、农具、房屋及其他财富拿出来……大规模的森林及水利工程不能分配者由政府管理。此外，同意即由土地会议通过土地法大纲，作为向各解放区政府的建议。”这次土地改革
- A. 满足了赣南、闽西农民对土地的渴望 B. 巩固和发展了当时抗日民族统一战线
C. 适应了解放战争革命形势发展的需要 D. 为新中国社会主义工业化扫除了障碍
10. 1978年9月，邓小平视察东北三省以及唐山和天津等地时谈到：“从现在的实际出发，充分利用各种有利条件，实现毛泽东同志提出的、周恩来同志宣布的四个现代化的目标。现在中央提出的方针、政策是真正的高举。下这样大的决心，切实加速前进的步伐，是最好的高举。离开这些，是形式主义的高举，是假的高举。”这一谈话
- A. 科学总结了新中国成立32年来的历史
B. 开启了中国社会主义现代化建设的新时期
C. 强调了“实事求是”的马克思主义的思想路线
D. 提出了“建设有中国特色的社会主义”重大命题
11. 中共十八大以来，中国积极推动建设相互尊重、公平正义、合作共赢的新型国际关系。以下表述符合史实的有
- ①亚洲文明对话大会在北京召开 ②中国批准加入气候变化《巴黎协定》
③主办二十国集团领导人杭州峰会 ④对非洲国家提出“真实亲诚”的理念
- A. ①② B. ①③ C. ②③④ D. ①②③④

12. 右图中阴影部分所在的地区被称为五海三洲之地，曾经创造了灿烂辉煌的文明，是人类最古老的文明摇篮之一。这一地区

- ①赫梯人率先掌握了冶铁技术
- ②亚述人制定现存最早的成文法
- ③腓尼基人发明了字母文字
- ④波斯人建造了最早的村落

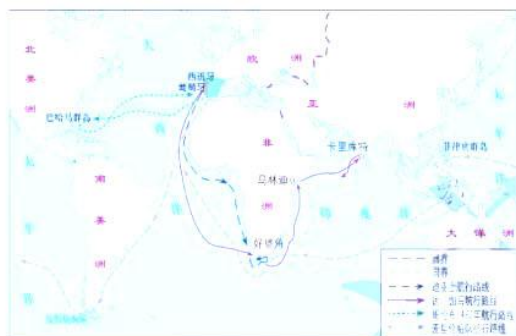
- A. ①②
- B. ③④
- C. ②④
- D. ①③



13. 他在抒情诗歌《歌集》中直言不讳地抨击教会“是黑暗的监狱，是充满欺骗的场所”，酣畅淋漓地讴歌爱情，描写人的喜怒哀乐。“他”是

- A. 但丁
- B. 彼特拉克
- C. 薄伽丘
- D. 卢梭

14. 人类在漫长的历史中不断探索海洋，中国的郑和下西洋和欧洲的新航路开辟是其中的两大壮举。他们的相同之处是



新航路开辟示意图



郑和航线路线图

- A. 二者的目的和性质相同
- B. 规模和影响相似
- C. 推动环球交通网络形成
- D. 都曾途经东南亚

15. 综观黑奴贸易的发展过程，大体可以分成三个时期：15 世纪中叶至 17 世纪中叶为第一时期；17 世纪中叶至 19 世纪初为第二时期，黑奴贸易走向高潮；1807—1808 年英、美两国通过禁止奴隶贸易的法案以后，黑奴贸易进入第三时期。这时奴隶贸易在法律上已被禁止，但直至 1890 年，黑奴贸易才算正式终止。对此解读正确的有

- ①葡萄牙、西班牙和荷兰主导第一时期的黑奴贸易
- ②黑奴贸易的高潮为欧洲工业革命提供丰富劳动力
- ③美国南北战争中通过了禁止奴隶贸易的宣言
- ④黑奴贸易的兴衰折射出资本主义的发展历程

- A. ①③
- B. ②③
- C. ①④
- D. ②④

16. 19 世纪，英国工厂制度盛行。工人进厂、出厂、饮食甚至大小便都有具体的规定；聊天、吹口哨、唱歌也是禁止的。工人必须紧跟机器的运转速度进行操作，不可有片刻松懈。英国的工厂制

- ①体现了资本家对工人剩余价值的压榨
- ②改变了手工作坊零碎分散的生产状态
- ③说明工业文明已经完全取代了农业文明
- ④科学化、人性化和精细化管理日益受到重视

- A. ①②
- B. ①④
- C. ②③
- D. ①②④

17. 归纳法是历史学习的有效方法之一。请根据下表信息，拟定一个合适的主题

时间	事件
1765 年	哈格里夫斯发明珍妮纺纱机
1807 年	美国人富尔顿发明了汽船
1875 年	《法兰西第三共和国宪法》颁布
1890 年	张之洞创办汉阳铁厂

- A. 经济基础对上层建筑的决定作用
B. 工业革命推动政治民主化
C. 经济发展与政治民主相辅相成
D. 工业革命推动近代化进程
18. 历史解释是历史学科的核心素养，而史论结合是历史解释的重要原则。下列史实与结论一致的是

选项	史实	历史解释
A	春秋战国时期“工商食官”	促进了商品经济的繁荣
B	1909 年竣工的京张铁路	中国人在自己国土上修建的第一条实用铁路
C	欧洲的宗教改革	推动了欧洲民族国家的形成和文化教育事业的发展
D	1929-1933 年资本主义经济危机	是第二次世界大战爆发的根本原因

19. 下图是 20 世纪 70 年代历次不结盟国家和政府首脑会议发表的主要文件。这些文件反映出“不结盟运动”的主要目标是

1970 年：《关于和平、独立、发展、合作和国际关系民主化宣言》 《关于不结盟和经济发展宣言》
1973 年：《政治宣言》《经济宣言》《经济合作行动纲领》 《关于民族解放斗争宣言》《关于海洋法宣言》
1976 年：《政治宣言》《经济宣言》《经济合作行动纲领》
1979 年：《政治宣言》《经济宣言》

- A. 建立国际政治经济新秩序
B. 推动世界多极化趋势发展
C. 维护亚非拉国家民族独立
D. 构建政治经济一体化组织
20. 2021 年 3 月，美国贸易代表戴琦在就职听证会上表示“关税是贸易工具箱中的合法工具”，其实际是继续推行自 2018 年以来特朗普时代的贸易保护政策；同月，英国时任贸易大臣特拉拉斯声称“如果世贸组织不进行改革，各国会找到其他发展贸易的机制”。这表明
- A. “逆全球化”成为大国的共识
B. 世界贸易组织已经落后时代潮流
C. 经济全球化面临重重困境
D. 经济全球化对发达国家弊大于利

二、选择题 II（本大题共 5 小题，每小题 3 分，共 15 分。每小题列出的四个备选项中只有一个是符合题目要求的，不选、多选、错选均不得分）

21. 据《中国科学史话》统计，中国历史上共产生状元 700 多名，但有明确著录籍贯的只有 357 名。下列四幅柱状图是中国古代四个历史时期（唐代、两宋、元代、明代）的科举状元籍贯部分统计。与这四个历史时期对应一致的是




①



②



③



④

- A. ②④③① B. ④①②③ C. ②④①③ D. ④③②①
22. 南京国民政府的公务员制度规定，简任官无须考试，荐任和委任官员分别通过高等和普通文官考试取得任职资格，而文官考试实行几十年，实际录取的人数总计不过千人。“非考试及格人员，可以直接上任，即日支俸；考试及格人员虽经初试再试及格，大多数仍须先行学习，学习期间虽有津贴，但与试署人员所支俸禄相差悬殊。”这说明南京国民政府的公务员制度
- A. 标志中国文官考试制度建立
B. 为任人唯亲、拉帮结派提供可能
C. 吸收了西方文官制度的精华
D. 全面践行了孙中山的文官考试思想
23. 中世纪西欧部分城市特许状的内容如下：“如果一个农奴来到一个自治城市，并在城内住满一年零一天，那他以后就是一个市民了”，“市镇的公民一律得到保护，可免受他们先前领主的追索”，“允许市民选举他们自己的郡治安官和司法官”，“手工艺匠和商人每年缴纳一笔定额地租，即有权自由出售房屋”。这说明中世纪西欧的城市特许状
- ①内容较广泛，确认了市民的自由与权利，促进了城市经济的发展
②是国王和封建领主为维护自己领主权的“迫不得已”的行为
③行会和商会规范手工业者和商人的经营活动，把持城市政权
④促使西欧封君封臣制瓦解，使城市获得了独立权，推动王权强化
- A. ①② B. ①②③ C. ③④ D. ②③④
24. 布雷顿森林会议期间，美苏等国围绕基金配额、黄金配额减免、银行配额等问题展开博弈。在美国支持下，苏联正式跻身国际金融体系四强之列；苏联同时承认了美国在战后国际金融秩序中的领导地位。据此推知
- A. 美苏企图通过布雷顿森林体系称霸各自的世界
B. 美国全球霸权的实现得到了苏联的支持与配合
C. 苏联在美国的支持下加入市场经济国家的行列
D. 苏联在二战后的世界经济格局中扮演重要角色

25. 关于洋务运动的评价问题, 历来争议颇多。由于政治斗争需要和研究方法上有些简单化, 因而全面否定洋务运动, 这在新中国初期的史学界中一直占优势。通过六七十年代的论争, 主张全面肯定论, 把洋务运动说成是中国近代史上的一场进步运动。进入八九十年代, 史学界基本同意对洋务运动采用两点论, 即承认它在中国近代史上同时存在进步与积极, 反动与消极两方面的作用。但在探索它的重点究竟是什么, 亦即上述两方面的作用究竟哪一方面是主要问题上, 出现了根本的对立和分歧。进入新世纪, 史学界认为不应该对洋务运动作一概的肯定或否定, 主张具体分析, 从洋务运动本身的发展变化中去评定它的性质和作用。这说明
- A. 不同时代的史家对事物的评价站在各自的立场不断改变历史视角
 - B. 评价历史事物的标准不应该一成不变, 要始终随时代的变化而变化
 - C. 历史评价应该坚持唯物史观, 不应循规蹈矩, 更不应该各取所需
 - D. 历史研究应该恪守求真原则, 提倡百家争鸣, 不必关注成败得失

非选择题部分

三、非选择题(本大题共3小题, 共45分, 其中26题12分、27题16分、28题17分)

26. (12分) 边疆治理对于封建王朝统治者来说是一个非常重要的课题, 边疆安稳则社稷安定, 边疆动乱则中原震动。阅读材料, 回答问题。

材料一 唐朝周边的少数民族很多, 其中最重要的是北方的突厥和回纥、西南的吐蕃和南诏、东北的契丹和靺鞨。唐政府采取了一系列行之有效的开明的边疆治理政策, 怀柔与攻伐政策相结合, 保障了唐代的疆域稳定, 使大唐出现了“东至安东, 西至安西, 南至日南, 北至单于府, 盖南北如汉之盛, 东不及而西过之”的盛世局面。

——摘自田宁《武则天与唐朝前期的边疆民族治理》

材料二 中国古代疆域之边有“内边”和“外边”之分。中国疆域内的大小政权的“边”, 可称之为“内边”。明代以前的治边主要是指“内边”, 明代以后情况发生了变化。随着西方殖民主义崛起, 西方殖民势力用大炮轰开了中国的大门, 使我国沿海地区和东北、新疆、西藏、云南、广西等一些边疆省区的外患日益突出。殖民主义者的入侵, 可称之为“外边”之患。应该说, 明代以后, 在中国“内边”防务问题依然严重存在的同时, 现代意义上的边防即“外边”防务问题开始提上议事日程。

——摘自2016年11月14日《人民日报》16版《不断深化中国古代边疆治理研究》

- (1) 根据材料一并结合所学, 指出唐朝负责各民族宾客接待礼仪的机构。分析唐朝前期开明的边疆治理政策所取得的成效。(5分)
- (2) 蒙古族是清朝前中期的“内边”威胁之一, 根据材料二并结合所学, 概括清朝为解决蒙古威胁所采取的手段。近代以来, 新疆“外边”之患日益严重, 分析新疆面临的主要威胁及清政府为维护国家统一所作的努力。(7分)

27. (16分) 世界文明的形成过程, 就是各民族各地区文明相互交流、碰撞与融合的过程。阅读材料, 回答问题。

材料一 阿拉伯文化不是对单一的传统文化的继承和发展, 它既吸收了西方的希腊、罗马文化, 又继承埃及、波斯、印度等东方文化, 它是许多民族文化在伊斯兰教社会中融合而成的。因此, 阿拉伯文化是一种“综合文化”……文明的发展促使阿拉伯的许多学科如文学、医学、天文学、数学、工程学等得到了广泛的发展, 并传入欧洲。欧洲中世纪文化的发展能打破黑暗达到一个新的历史高度, 阿拉伯文化的传入是其中一个至关重要的因素。

——根据霁枫的《阿拉伯文化的综合与继承》等资料整理

材料二 在1000年至1500年间, 东半球各民族在旅行、贸易、交流和互动方面比以往任何一个时期都更为频繁和密切。蒙古以及其他游牧民族所建立的庞大帝国为这一跨文化的交流互动提供了政治基础。当他们征服并平息了广大地区时, 游牧民族为过往的商人、外交人员、传教士以及其他旅行者提供了安全的通道。除了游牧帝国外, 航海技术的改进也带来了印度洋和南中国海上的交通的增加。所以, 远距离旅行变得比以往任何时候都更加普通, 而像伊本·白图泰和马可·波罗这样的个人旅行家有时还冒险在东半球大部分地区旅行。

到15世纪初期……在欧洲, 当他们寻找进入亚洲市场的途径时, 欧洲的航海家们不仅建立了与非洲和亚洲各民族的直接联系, 还向西驶入西半球和太平洋。他们的航行使得东半球、西半球以及大洋洲的各民族之间进行了稳定和持续的交流与互动。

——摘自(美)杰里·本特利 赫伯特·齐格勒《新全球史》

材料三 中国是维护世界文化多样性的倡导者、践行者。自古以来, 中国文化在传承和创新中不断发展, 在应时处变中不断升华, 与外来文化通过互相沟通和交流, 达到和谐共处……多样性不仅是世界文化的基本特征, 也是人类文明进步的重要动力。当今世界, 有200多个国家和地区, 2500多个民族, 6000多种语言。这些不同民族、不同历史文化背景的人民, 共同创造了丰富多彩的世界……在当今世界经济全球化的过程中, 在快速融合的世界文化潮流中, 文化多样性也面临着前所未有的挑战。

——根据2012年12月17日《人民日报》和《中外历史纲要·下册》等资料整理

- (1) 根据材料一, 概括阿拉伯人在东西方文化交流中的地位。结合典型史实说明阿拉伯文化的传入使“欧洲中世纪文化的发展能打破黑暗达到一个新的历史高度”。(5分)
- (2) 根据材料二, 概括1000年至1500年间跨文化互动频繁和密切的原因。结合所学, 从世界整体发展的角度, 指出“欧洲航海家们的航行”对全球联系的促进作用。(6分)
- (3) 根据材料三并结合所学, 指出文化传承的主要载体(两例)。谈谈你认为我国应该如何应对文化多样性的挑战。(5分)

28. (17分) 思想是政治经济的先导, 同时也是政治经济的反映。阅读材料, 回答问题。

材料一 以下三幅图是中国、古罗马、古美洲印第安人的住宅。



北京门头沟爨底下村四合院



古罗马高层住宅模型



印第安人居住的圆锥形帐篷

材料二 俄国诗人、哲学家、历史学家普希金笔下拿破仑的三幅面孔(节选)

【人间的灾星】《皇村回忆》(注: 创作于1814年) 评判拿破仑的视角是1812年的卫国战争: “敌人像浩荡的洪水/淹没了俄国人的土地” “和平的城市和村庄在黑夜里燃烧/……敌人横冲直撞, 不可阻挡, /烧杀劫掠, 一切化为灰烬。”

【伟大的人物】《拿破仑》(创作于1821年拿破仑离世之后) 思考拿破仑究竟给俄国和世界带来了什么: “那个伟大的人已然逝去/……而你永远闪烁着不朽的光芒/是他给俄罗斯人民/指出了崇高的使命 /给世界以永恒的自由/是他放逐生涯的遗赠”

【奇异的过客】《英雄》(注: 创作于1830年) 从生命哲学的角度来考察拿破仑: “每张床上躺着一具活得尸体/那是黑死病/深深地印上了每一个病人/他从每只床前走过/冷静地和疫病之手紧握/就这样, 他给临死者的心灵/注入了勇气/能让那些垂死的眼神发出欢乐的光芒”

——摘编自宋德发《拿破仑的三幅面孔——普希金笔下的拿破仑形象》

材料三 “……夺得政权后, 无产阶级将利用自己的政治统治, 一步一步地夺取资产阶级的全部资本, 把一切生产工具集中在国家即组织成为统治阶级的无产阶级手里, 并且尽可能快地增加生产力的总量。”

——摘自《共产党宣言》

- (1) 根据材料一并结合所学, 概括我国北方古民居的设计理念。世界各地的古民居建筑形制差异较大, 风格不一, 特点鲜明, 请分析原因。(5分)
- (2) 分析说明材料二中拿破仑“给世界以永恒的自由”的思想内涵。普希金笔下的拿破仑有三种截然不同的形象, 结合所学谈谈评价历史人物应遵循的原则和方法。(6分)
- (3) 在马克思主义的指导下, 新中国一步步践行着《共产党宣言》制定的目标, 结合材料三, 以新中国1949-1956年的相关史实进行论述。(6分)
(要求: 史实正确, 史论结合, 表述清晰。)

关于我们

自主选拔在线是致力于提供新高考生涯规划、强基计划、综合评价、三位一体、学科竞赛等政策资讯的升学服务平台。总部坐落于北京，旗下拥有网站（[网址：www.zizzs.com](http://www.zizzs.com)）和微信公众平台等媒体矩阵，用户群体涵盖全国90%以上的重点中学师生及家长，在全国新高考、自主选拔领域首屈一指。

如需第一时间获取相关资讯及备考指南，请关注**自主选拔在线**官方微信号：**zizzsw**。



 微信搜一搜

 自主选拔在线

