

宜宾市普通高中 2020 级第一次诊断性测试 文科综合能力测试

本试卷共 14 页，45 题，全卷满分 300 分。考试时间 150 分钟。

注意事项：

1. 答题前，考生务必将自己的姓名、考生号等填写在答题卡和试卷指定位置上。
2. 回答选择题时，选出每小题答案后，用 2B 铅笔把答题卡上对应题目的答案标号涂黑。如需改动，用橡皮擦干净后，再选涂其他答案标号。回答非选择题时，将答案写在答题卡上，写在本试卷上无效。
3. 考试结束后，请将答题卡交回。

一、选择题：本题共 35 道小题，每小题 4 分，共 140 分。在每小题给出的四个选项中，只有一项是符合题目要求的。

图 1 为湖南省 2010 年和 2020 年 GDP 排名前五位的城市常住人口占全省人口比重示意图。据此完成 1~3 题。

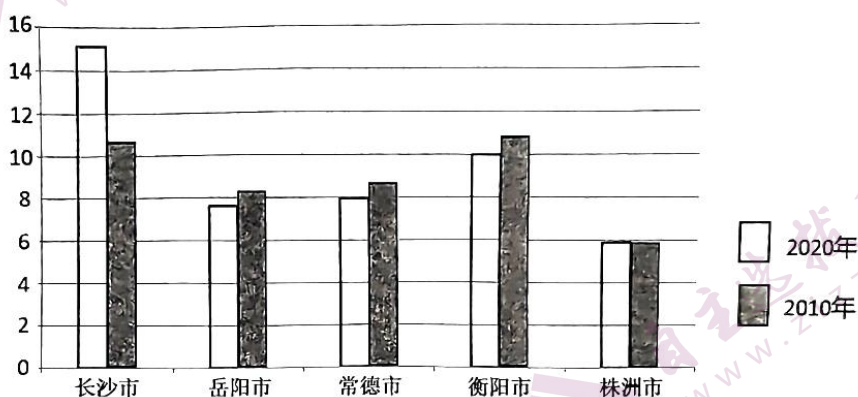


图 1

1. 据图可知，五城市
 - A. 人口均以自然增长为主
 - B. 常住人口数量均减少
 - C. 产业发展方向趋于相同
 - D. 经济发展水平差异大
2. 长沙市常住人口变化可能带来的影响是
 - A. 出现再城市化
 - B. 增加社会失业率
 - C. 加剧人地矛盾
 - D. 加速人口老龄化
3. 衡阳市应对常住人口变化，可采取的最有效措施是
 - A. 发展交通运输
 - B. 承接产业转移
 - C. 发展假日旅游
 - D. 改善环境质量

9. 我国克服巨大困难建设川藏铁路的首要目的是

- A. 提升铁路建设水平
B. 加强区际联系
C. 促进产业结构调整
D. 加快资源开发

“红山白土头”是甘肃省永靖县黄河岸边一种独特的地貌景观，下层是红色砂岩，形成于距今 5000 万年前；上层是白色的黄土层，形成于距今 100 多万年前；中间是砂砾岩夹层。图 3 为该地貌地质剖面示意图，图 4 为砂砾岩景观图。据此完成 10~11 题。

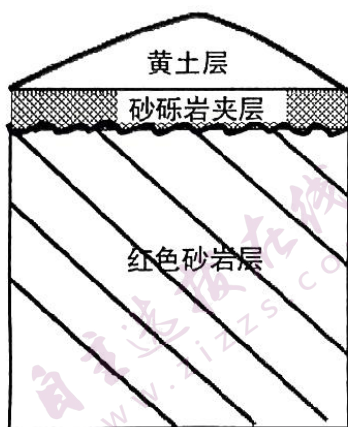


图 3




图 4

10. “红山白土头”地层形成的地质作用过程是

- A. 沉积作用—地壳抬升—沉积作用—侵蚀作用
B. 沉积作用—地壳抬升—侵蚀作用—沉积作用
C. 地壳下沉—沉积作用—沉积作用—侵蚀作用
D. 地壳下沉—沉积作用—侵蚀作用—沉积作用

11. 推测砂砾岩夹层形成时该地的环境特征可能是

- A. 地势平坦
B. 气候干旱
C. 河流湍急
D. 土壤贫瘠

12. 2022 年 10 月 20 日，海南省成功发行新的两期专项债券，总额超过 35 亿元，分别用于海南自由贸易港、基础设施建设。同一天，河北、黑龙江也分别发行了不同额度的专项债券。地方政府专项债券的发行

- ① 是稳投资、稳需求、稳经济的重要政策工具
② 属于利用货币政策支持实体经济的重要手段
③ 使市场主体可以更加直接、快速获得“输血”
④ 有利于发挥财政政策的先导作用和带动效应

- A. ①②
B. ①④
C. ②③
D. ③④

15. 目前,我国以社会保险为主体,包括社会救助、社会福利、社会优抚等制度在内,功能完备的社会保障体系基本建成,基本医疗保险覆盖 13.6 亿人,基本养老保险覆盖近 10 亿人,是世界上规模最大的社会保障体系。这一体系的建成
- ① 是我国应对当前复杂严峻经济形势的根本途径
 - ② 为经济发展提供了坚实的社会基础和民生保障
 - ③ 破除了制约社会主义市场经济的体制机制障碍
 - ④ 有利于让改革的成果更多更公平惠及全体人民
- A. ①② B. ①③ C. ②④ D. ③④
16. 作为一个综合服务枢纽,供销社的力量不可小觑。2021 年全国供销合作总社全系统实现农产品销售额 27591 亿元、日用品销售额 14925 亿元,进一步畅通了农产品上行、日用品下行双向通道,在服务农民生产生活中发挥了积极作用。由此可见供销合作社
- ① 为农民生产生活提供了综合服务平台
 - ② 旨在降低商品价格,提高农民的收入
 - ③ 是实现乡村振兴和共同富裕目标的重要举措
 - ④ 消除城乡二元结构,构建了全国统一大市场
- A. ①② B. ①③ C. ②④ D. ③④
17. 将 2022 年中国经济“半年报”以月度曲线标注,这是一条惊心动魄的 V 形反转。1 月、2 月开局良好,经济数据释放积极信号,3 月、4 月主要经济指标回落,5 月、6 月规模以上工业增加值等多项经济指标明显改善。经济企稳回升的原因可能是
- ① 国内国际的超预期因素冲击陡然增加
 - ② 中国经济的韧性强、潜力大、活力足
 - ③ 国家各项政策措施精准有力加快落地
 - ④ 国内国际双循环新发展格局全面建成
- A. ①② B. ①④ C. ②③ D. ③④
18. “嫩箨香苞初出林,於陵论价重如金。”青年人才是国家战略人才力量的源头活水。中央人才工作会议上,习近平总书记要求把培育国家战略人才力量的政策重心放在青年科技人才上,支持青年人才挑大梁、当主角。这需要给予青年战略人才
- ① 更多的信任,赋予他们更多科技创新的机会和资源
 - ② 更好的帮助,纾解他们成长过程中面临的实际困难
 - ③ 更严格的考核,以论文、奖项和职称为评价的导向
 - ④ 更灵活的机制,破除人才自由流动的各种制度制约
- A. ①② B. ①③ C. ②④ D. ③④
19. 民为国基,谷为民命,粮食安全是“国之大者”。习近平总书记提出“树立大食物观”“构建多元化食物供给体系”。为此,要加强战略布局、突出重点环节,加快构建以粮食安全为基础、以确保食物有效供给为目标的粮食安全综合保障体系。这说明我国

- ① 不断保障人民基本政治权利的实现
② 始终坚持以人民为中心的发展理念
③ 以粮食安全为改革与发展的落脚点
④ 完善治理体系把握粮食安全主动权
A. ①② B. ①③ C. ②④ D. ③④
20. 党的二十大报告提出：全党同志务必不忘初心、牢记使命，务必谦虚谨慎、艰苦奋斗，务必敢于斗争、善于斗争，坚定历史自信，增强历史主动，谱写新时代中国特色社会主义更加绚丽的华章。“三个务必”新论断
- ① 诠释了党创造新时代伟大成就的成功密码
② 完成了对中国共产党治国理政的理论探索
③ 彰显了百年大党新时代赶考的清醒和自觉
④ 丰富了我党的光荣传统和优良作风的内涵
A. ①② B. ①③ C. ②④ D. ③④
21. 2022年10月，市场监管总局等九部门联合发布了《建立健全碳达峰碳中和标准计量体系实施方案》，这将对相关行业、领域、地方和企业开展碳达峰碳中和标准计量体系建设工作起到指导作用。这表明政府
- ① 坚持科学立法，为生态建设提供了法律保障
② 赋予地方政府更大权限，激发地方政府活力
③ 完善生态治理机制，统筹协调“双碳”工作
④ 履行生态职能，促进经济社会实现绿色转型
A. ①② B. ①③ C. ②④ D. ③④
22. 某地检察院为贯彻落实《妇女权益保障法》和《未成年人保护法》，与当地妇女联合会印发《关于加强妇女儿童权益保护协作的十项举措》，进一步深化妇女儿童权益保护工作。这一做法
- ① 是检察院和妇女联合会共同履行国家职能的有益探索
② 发挥检察院与妇联组织的优势，搭建权益维护新平台
③ 表明检察院作为法律监督机关积极推进法律宣传实施
④ 有利于促进妇女儿童权益的保护，彰显民主的真实性
A. ①② B. ①④ C. ②③ D. ③④
23. 习近平主席指出，我们将继续坚定与发展中国家站在一起，把自身发展和发展中国家共同发展紧密联系，携手实现共同繁荣。这一论述
- ① 表明我国积极维护与发展国家的共同利益
② 表达中国推动构建新型国际关系的责任担当
③ 说明中国推动构建与发展国家的结盟关系
④ 反映中国坚定维护本国国家利益和国家形象
A. ①② B. ①③ C. ②④ D. ③④

24. 图 7 为考古学家在全国各地发掘的铜甗和铜尊（都属于酒器，礼器），其时代大体都处于殷商时期。据此可推断，该时期



图 7

- A. 审美观念趋向同一
B. 巴蜀文化领先于世界
C. 礼乐制度较为完善
D. 存在跨区域文化交流
25. 魏晋时期，各少数民族深受中原文化影响，如前赵的刘渊（匈奴）“《史记》、《汉书》、‘诸子’，无不综览”，鲜卑贵族陆义博览群书“于五经最精熟”。同时，胡乐、胡舞、胡床、胡饼等也给汉文化注入新鲜血液。这说明这一时期
- A. 民族隔阂逐渐消除
B. 华夏认同观念产生
C. 民族交融日益发展
D. 胡汉生活习俗趋同
26. 王阳明主张从“本心”入手去认识圣贤之心，以自己的内心为最高权威，反对用先验观念强制管辖心灵。这反映出王阳明心学
- A. 否定人的主观能动性
B. 维护圣人至尊地位
C. 隐含平等和叛逆色彩
D. 抨击儒家伦理道德
27. 明代以来，曾经以天下粮仓闻名的苏州、湖州及其周边地区，逐渐转化为缺粮区。与此同时，长江中游的湖广地区正逐渐成为新的“粮仓”。这种变化反映了明代
- A. 湖广经济水平超过江浙
B. 商品生产的区域化分工
C. 全国性市场的发展受阻
D. 江南农业经济开始衰退
28. 19 世纪 60 年代起，清朝中央政府发现有必要与地方各省大员磋商国是，以争取他们支持自己的立场，势力强大的巡抚和总督时常会摆脱中央政府自行其是。这一现象说明当时清朝
- A. 政治和权力结构变化
B. 新的阶级力量开始崛起
C. 半殖民地化程度加深
D. 地方势力与朝廷分庭抗礼
29. 甲午战争期间，日本 66 家报社派出从军记者 1114 人。战争爆发后仅 1 个月，西方记者就获得了随军采访的许可。日本还策划在随军记者全程见证之下，给受伤清军“提供医疗服务”，然后释放了他们。反观大清，拒绝国内外媒体记者跟随。这反映了
- A. 清廷固守朝贡贸易体制
B. 日本重视国家形象“包装”
C. 舆论宣传决定战争结局
D. 西方记者甘愿充当日本间谍

二、非选择题：本题共 10 道小题，共 160 分。按照要求作答。

36. 阅读图文材料，完成下列要求。（24 分）

巴基斯坦是世界上冰川面积最大的国家，印度河平原是该国重要的灌溉农业区和人口集中区。印度河中下游地区盛产芒果，每年 5~8 月芒果集中上市销售。2022 年巴基斯坦及周边地区气候严重异常，3~5 月受某种气压系统控制，印度河部分河段干涸；6~8 月巴基斯坦迎来长时间、大范围强降水，引发自 2010 年以来最严重的洪灾，三分之一的国土被淹，农业受灾严重。图 8 为巴基斯坦及周边地区示意图。

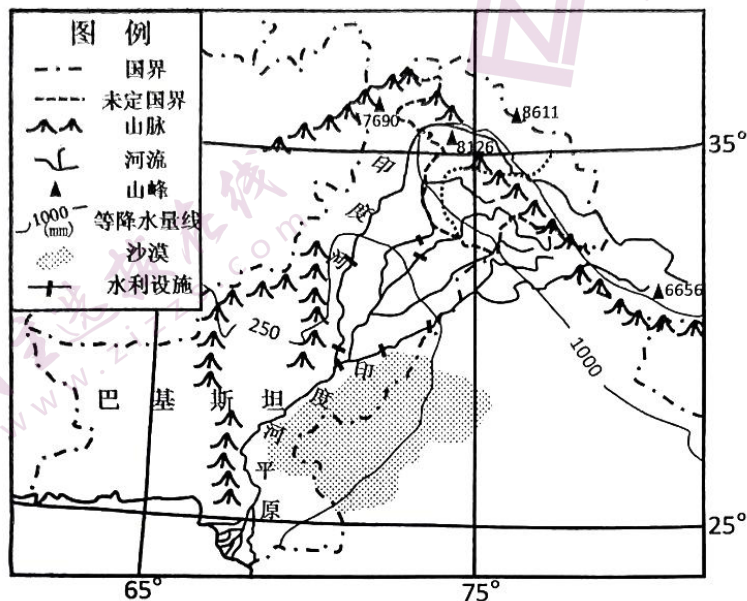


图 8

- (1) 指出 2022 年 3~5 月控制巴基斯坦的近地面气压系统，并分析其对天气状况的影响。（6 分）
- (2) 从气候角度分析巴基斯坦 6~8 月洪水灾害严重的原因。（8 分）
- (3) 简述 2022 年气候异常对巴基斯坦芒果产销的影响。（4 分）
- (4) 从芒果产业角度，提出巴基斯坦防洪减灾的主要措施。（6 分）

37. 阅读图文材料，完成下列要求。（22 分）

2022 年 9 月 22 日，由中国石化、中国石油、宁德时代、上海国际汽车城等共同投资的捷能智电新能源科技有限公司（简称“捷能智电”）在上海正式成立。该公司以动力电池租赁业务为核心，开展换电技术研发推广、电池运营管理等业务。通过对电池实施以租代买、可充可换等车电分离解决方案，给消费者带来全方位的补能新体验。我国两大国企——中国石化和中国石油正大力发展新能源业务，依托其自身优势加速打造综合能源站，预计 2022 年底中国石化充换电站数量将突破 2000 座。图 9 为智能充—换电站示意图。

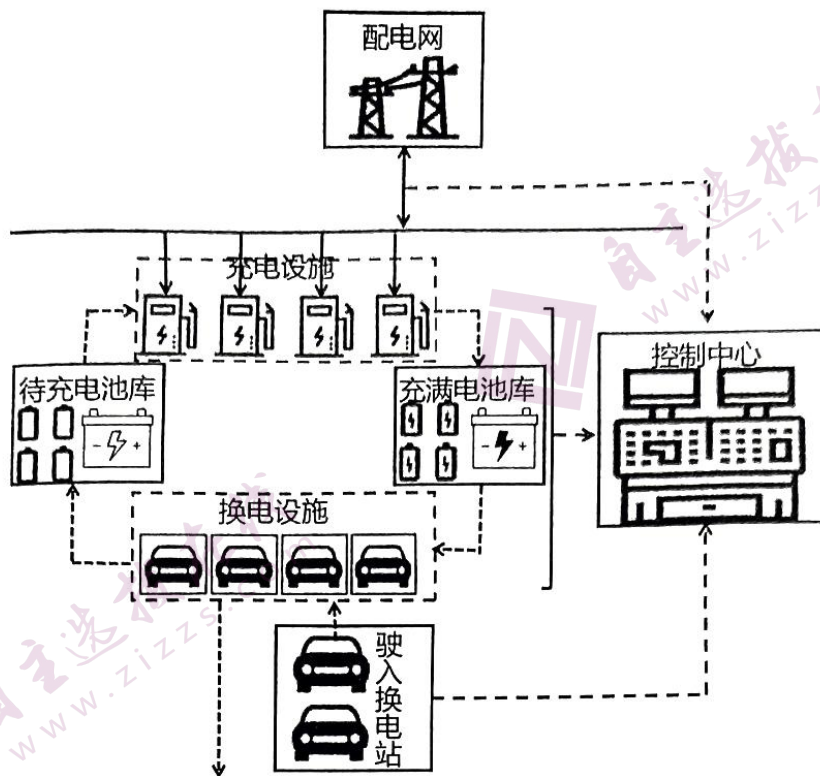


图 9

- (1) 分析“捷能智电”选址上海的原因。(6分)
- (2) 与传统充电方案相比,说明车电分离解决方案对新能源汽车产业发展的促进作用。(8分)
- (3) 分析中国石油和中国石化大力发展新能源业务的原因。(8分)

38. 阅读材料,完成下列要求。(14分)

坚持我国根本经济制度,坚持“两个毫不动摇”,是民营经济产生和不断发展壮大的根本制度保障。

材料一

表一:某省2012年—2021年民营经济发展状况表

	民营经济增加值 (亿元)	民营经济增加值 占全省 GDP 比重	民营经济实现税收 全省占比	全省民间投资
2012年	9618	56%	60.90%	59.90%
2021年	26000	60.80%	68.60%	60.60%
增长	7.70%	4.80%	7.70%	0.70%

备注:截至2021年底,全省民营高新技术企业10710家,占全省94%;全省149家上市公司中,有86家是民营企业。

材料二

改革开放以来，我国民营经济经历了从小到大、从弱到强的发展过程。据国家市场监督管理总局的数据，截至2022年9月底，民营经济市场主体超过1.57亿。但是，由于传统思想观念的束缚和所有制歧视的影响，民营经济在发展过程中，经常遭遇各种非议、限制甚至打击，比如所谓的“民营经济离场论”、因少数企业出现的个别问题而对民营经济进行贬损和丑化等，特别是在新冠肺炎疫情的反复持续冲击下，我国民营企业特别是中小微企业遭遇前所未有的发展困境。同时，平台经济和教培行业规范的整顿以及房地产行业调控，一些政策效应同向叠加等，造成许多民营企业家在思想上存在着各种迷茫、困惑和疑虑，市场预期和发展信心受到严重影响。

党的二十大报告就“促进民营经济发展壮大”作出新的重大论述，为民营经济实现高质量发展指明了方向，标志着我国民营经济将迎来新的历史机遇和进入一个新的发展阶段。

描述表一反映的经济信息。结合材料，运用经济生活知识分析说明为什么要继续毫不动摇鼓励、支持、引导民营经济发展。（14分）

39. 阅读材料，完成下列要求。（12分）

2020年初，突如其来的新冠肺炎疫情，是对制度成色的大考。强化公共卫生法治保障，及时制定专项立法修法工作计划，成立专班分批推进多部法律的制定和修改工作，以法治思维、法治方式应对风险挑战，有力保障了人民健康。

2020年8月，五年规划编制史上的首次“网络问计”收到了上百万条网民意见建议。把加强顶层设计和坚持问计于民统一起来，齐心协力编制的“十四五”规划成为践行全过程人民民主的典范。

实施乡村振兴战略、平安中国建设、应对人口老龄化、保障农产品质量安全、推动民族地区多渠道就业……各党派团体、各族各界人士发挥在界别群众中的代表作用，通过提出提案、视察考察、专题调研等，对国家大政方针、经济社会各领域重要问题，进行广泛协商，提出意见建议。

一系列制度安排，全方位、全链条维护最广大人民根本利益，切实保障人民当家作主。

我们的制度正是体现了根本利益的一致性和智慧力量的广泛性相结合。运用政治生活知识进行说明。

40. 阅读材料，完成下列要求。（26分）

中国式现代化是人口规模巨大的现代化，是全体人民共同富裕的现代化，是物质文明和精神文明相协调的现代化，是人与自然和谐共生的现代化，是走和平发展道路的现代化。中国式现代化最艰巨的任务在农村。

过去十年，作为高质量推进乡村振兴、争创农业农村现代化先行省的浙江，先行先试取得实效：淳安县创新探索大下姜党建联盟乡村联合体共富模式；常山县“两山银行”改革激活农村低效闲置资源；永康市“田保姆+田长制”助力粮食稳产保供；衢州市柯城区余东村农民画以文兴业

打造未来乡村：嘉兴市创新打造“种粮宝”为实现粮食安全插上“数字化”翅膀；宁波市奉化区实行渔船“编组生产”打好渔业安全保卫战；青田县传承发展“稻鱼文化”赋能乡村振兴。如今，“农业强、农村美、农民富”的梦想正在该省变成现实。

2021年，浙江出台《乡镇（街道）法治化综合改革试点实施方案》，推动89个试点乡镇（街道）探索创新法治建设新路径。旭拱岙村继首倡了“村民说事”后，象山县将“村官说法”纳入基层治理体系，形成了“两说经验”，法治内涵更丰富，构成了法治引领、德治辅助，自治实践的乡村治理模式，切实把乡镇（街道）各项工作纳入法治化轨道。

(1) 结合材料并运用经济生活知识，说明浙江经验对推进中国式农业农村现代化建设的借鉴意义。（12分）

(2) 运用政治生活知识，结合材料说明应如何把法治建设贯穿于乡村治理的始终。（10分）

(3) 农业农村现代化离不开人才支撑，让更多青年人走进农村，是农业现代化过程中非常重要的一环。某地拟到高校招纳青年人才，请你为其设计两个主题宣传活动。（4分）

41. 阅读材料，完成下列要求。（25分）

材料一

北宋中期，全国10万人口以上的城市增至46处。开封人口达到百万以上。南宋都城临安府（杭州）到宋宁宗时已达120多万人。宋代城市打破了坊与市的界限，商店可以随意开设，不再采取集中的方式。开封城内，到处都有商铺、邸店、质坊、酒楼、食店，而且还有晚上交易的夜市。城内还有多处供居民娱乐的场所，叫做瓦肆，里面有“勾栏”（歌舞场所）、酒肆、茶楼。入元以后，许多历史悠久的城市继续保持着繁荣局面，而且随着运河的恢复和海运的开通，在运河沿线和沿海出现了一批非常活跃的城市。

——张岂之主编《中国历史十五讲》

材料二

中国古代城市完全处于封建皇权控制之下，成为封建王朝的统治基地和堡垒。

鸦片战争后，上海、天津、汉口等被辟为通商口岸，出现了畸形繁荣的商业区，发展迅速。中世纪以来许多著名的工商业城市，如佛山、松江、朱仙镇日趋衰落。运河沿岸的城市，如淮阴、临清、扬州等城市也日渐衰落，扬州到19世纪末已从繁荣的全国性大工商业城市变为上海的卫星城市和地区的工商业城市。与此同时，近代工矿企业、商业的发展，推动了唐山、无锡等城市的兴起。1907年，清政府制定并颁布《城镇地方自治章程》，规定各城镇分设议事会和董事会，兴办地方自治，并建立城镇地方自治公所，为议事会办公处所。议事会议长、副议长则由议会选举。

——摘编自何一民《中国城市史纲》

(1) 根据材料一，概括宋元城市发展的特点，并说明其成因。（13分）

(2) 根据材料二并结合所学知识，指出近代中国城市发展的新变化，并简析其影响。（12分）

42. 阅读材料，完成下列要求。（12分）

1763—1914 年的一个半世纪，欧洲获得了对世界大部分地区的霸权。……欧洲之所以能够实现这种前所未有的扩张，是因为其现代化进程一直在继续和加速。现代化进程早在此前的文艺复兴、宗教改革、技术发展、资本主义企业的建立、国家建设和海外扩张中就已经开始。这引发了一种以三大革命——科学革命、工业革命和政治革命——的形式表现出来的连锁反应，它们互相依赖，相互作用，给了欧洲以不可阻挡的推力和力量。

——摘编自斯塔夫里阿诺斯《全球通史》

根据材料拟定一个论题，并结合世界近代史相关史实予以阐述。（要求：论题明确，持论有据，论证充分，逻辑严密，表达清晰。）

43. 阅读图文材料，完成下列要求。（10分）

古尔班通古特沙漠位于新疆准噶尔盆地中央，是中国唯一冬季存在稳定积雪覆盖的沙漠。荒漠植被较其他沙漠茂密，有多年生灌木、一年生短命植物，植被覆盖率年内差异较大。短命植物每年早春萌发到夏季干热季来临前即可完成整个生命周期，秋季仅有极少量短命植物个体出现，但不能完成整个生命周期。图 10 为古尔班通古特沙漠示意图。

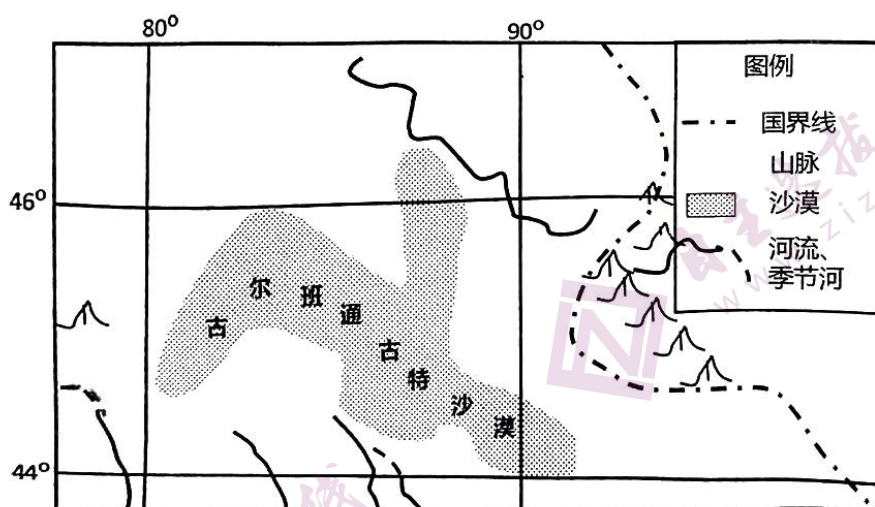


图 10

(1) 推测该地一年生短命植物的生长习性。（4分）

(2) 分析古尔班通古特沙漠植被覆盖率年内差异大的原因。（6分）

44. [历史——选修1：历史上重大改革回眸]（15分）

材料

495年，北魏孝文帝仿照汉族门阀制度在鲜卑贵族中定姓族。拓跋氏改为元氏，因为是皇室，门望最高。其余的自拓跋珪以来“勋著当世”的八家：穆、陆、贺、刘、楼、于、嵇、尉为鲜卑族姓之首，与汉族的著姓清河崔氏、范阳卢氏、太原王氏、赵郡李氏相当。此外，关中著姓以韦、裴、柳、薛、杨、杜、皇甫等族为首。门阀著姓又以父祖做官等级之大小、多少，分为甲、乙、丙、丁四等。这样，“以贵承贵，以贱袭贱”的门阀制度得以确立，从而取得了鲜卑贵族与汉人士族之间的进一步合作，保证了他们的政治经济特权。通过定鲜卑姓族，为拓跋贵族与汉族贵族通婚消除了门第障碍。但是，代北的鲜卑贵族被排斥在门阀姓族之外，成为庶族。

——据朱绍侯主编《中国古代史》

(1) 根据材料并结合所学知识，概括孝文帝定姓族的特点。（8分）

(2) 根据材料并结合所学知识，简析孝文帝定姓族的影响。（7分）

45. [历史——选修4：中外历史人物评说]（15分）

材料

严复（1854—1921年），福建侯官人，近代最著名的资产阶级启蒙思想家之一。早年毕业于福州船政局附设水师学堂，1877年留学英国，系统研究并接受了西方近代的社会科学知识。1879年回国后，长期担任天津北洋水师学堂总教习。中日战争的失败，使他对洋务运动发生怀疑。1895年，他发表了《原强》、《辟韩》等政论，把秦代以来的专制皇帝都斥为“大盗窃国者”，批判洋务运动不过是“盗西法之虚声，而沿中土之实弊”。1897年，他与朋友在天津创办了《国闻报》和旬刊《国闻汇编》，传播新知识和发表维新观点。在那些年，他还翻译出版了《天演论》等诸多西方名著，中国人第一次接触了进化论、自由贸易、社会法则、政府分权等理论。梁启超称赞严复“于中学西学皆为我国第一流人物”。

——摘编自李伟《中国近代翻译史》等

(1) 根据材料并结合所学知识，概述严复为近代中国启蒙所做的主要贡献。（8分）

(2) 根据材料并结合所学知识，说明严复成为“近代最著名的资产阶级启蒙思想家”的原因。（7分）

关于我们

自主选拔在线是致力于提供新高考生涯规划、强基计划、综合评价、三位一体、学科竞赛等政策资讯的升学服务平台。总部坐落于北京，旗下拥有网站（[网址: www.zizzs.com](http://www.zizzs.com)）和微信公众平台等媒体矩阵，用户群体涵盖全国90%以上的重点中学师生及家长，在全国新高考、自主选拔领域首屈一指。

如需第一时间获取相关资讯及备考指南，请关注**自主选拔在线**官方微信号：**zizzsw**。



微信搜一搜

自主选拔在线