

机密★启用前(全国卷)

华大新高考联盟 2022 届高三 3 月教学质量测评

文科综合能力测试

本试题卷共 12 页。全卷满分 300 分,考试用时 150 分钟。

★祝考试顺利★

注意事项:

1. 答题前,考生务必将自己的姓名、准考证号写在答题卡和试卷上。
2. 回答选择题时,选出每小题答案后,用铅笔把答题卡上对应题目的答案标号框涂黑。如需改动,用橡皮擦干净后,再选涂其他答案标号。回答非选择题时,将答案写在答题卡上。写在本试卷上无效。
3. 考试结束后,将本试卷和答题卡一并交回。

一、选择题:本题共 35 小题,每小题 4 分,共 140 分。在每小题给出的四个选项中,只有一项是符合题目要求的。

甘肃省张掖市临泽县地处河西走廊中部,如图 1 所示,该地在优越的自然条件下生产的玉米种子籽粒饱满、发芽率高、水分含量低、商品性好,是农业部认定的国家级杂交玉米种子生产基地。但近些年也出现了明显的育种“瓶颈”。据此完成 1~3 题。

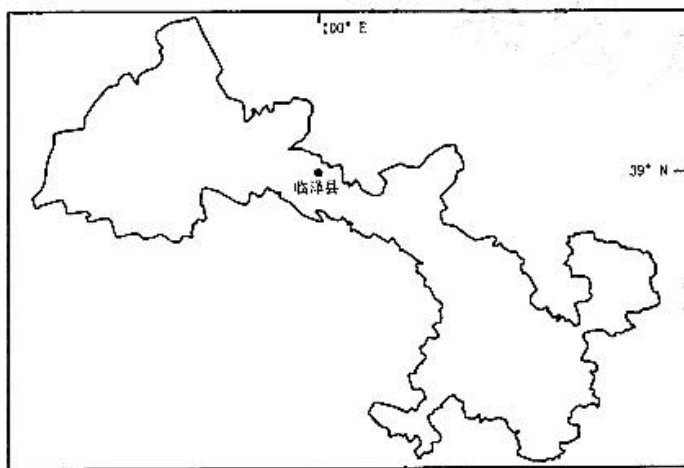


图 1

1. 与东北春播玉米制种区相比,临泽县玉米制种区的主要优势自然条件是
 - A. 地势平坦开阔,土壤肥沃
 - B. 夏季雨水较多,温度适宜
 - C. 灌溉水源丰富,日照充足
 - D. 光照资源丰富,昼夜温差大
2. 当前临泽县玉米制种产业面临的“瓶颈”主要是
 - A. 灌溉水源不足
 - B. 育种创新能力弱
 - C. 机械化水平低
 - D. 集约化水平较低

文科综合能力测试试题(全国卷) 第 1 页(共 12 页)

3. 实现临泽县玉米制种产业可持续发展的措施有

- ①广泛收集优良种质资源 ②重点研发非杂交种质资源
③加快优良品种培育进程 ④构建玉米商业化育种模式
- A. ①②③ B. ①②④ C. ①③④ D. ②③④

非洲大陆南端的德班东部海域有时会受温带气旋的影响而出现大风大浪,对过往船只造成较大影响。研究表明,该海域大风的出现与其西侧易于东移的南大西洋副热带高压和东侧相对稳定的南印度洋副热带高压有关。图2为该海域某时刻等压线图。据此完成4~6题。

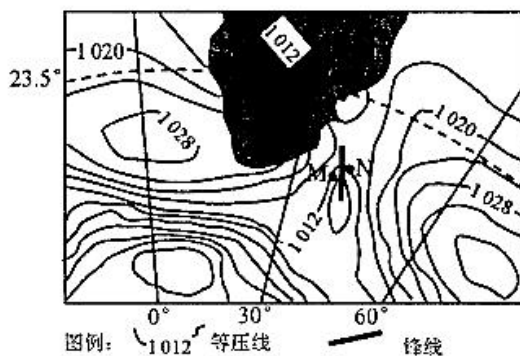
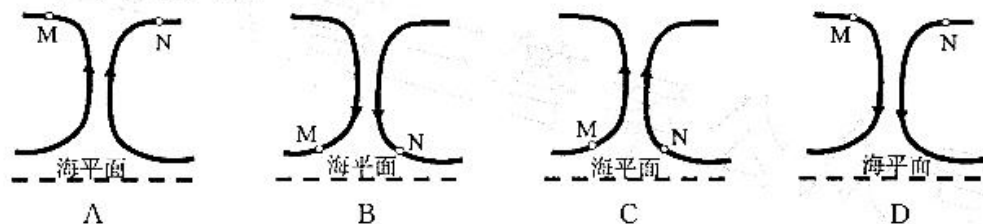


图2

4. 此时一艘船正从M海域向北行驶,则此船

- A. 顺风逆水 B. 逆风逆水 C. 逆风顺水 D. 顺风顺水


5. 此时,M、N两地气流运动方向为



6. 此温带气旋对船只航行的主要影响因素有

- ①风力 ②波浪 ③降雨 ④气温
- A. ①②③ B. ①②④ C. ①③④ D. ②③④

在后疫情时代背景下,为应对人员流动限制、人们出行不便的问题,某地加强了公园等基础设施建设,选取本地土生植物与易生植物搭配,对应四季布景,形成“春华、夏景、秋实、冬梅”的景观格局,以帮助人们保持积极的心理状态。图3为该地某公园设计图。据此完成7~9题。



- ①春华:以早樱和碧桃为主景,多色彩搭配种植玉兰、紫丁香、薰衣草等,令人赏心悦目。
- ②夏景:种植有常绿树种油松、落叶树种国槐等。油松叶子细长、尖锐;国槐叶片呈圆形、平滑。两者搭配,形成鲜明视觉对比。
- ③秋实:以苹果树和低矮的枣树为主,秋季果实成熟的气息可以刺激味觉神经,有益健康。
- ④冬梅:以松柏和腊梅为主。在冬季素净中欣赏一抹红色,令人心情愉悦。

图3

7. 该设计图反映的城市最可能是
A. 湖北武汉 B. 新疆乌鲁木齐 C. 河北秦皇岛 D. 黑龙江哈尔滨
8. 油松和国槐均能适应当地环境,其叶片形态或生长特征对植物存活的主要作用是
A. 夏季增强光合作用 B. 夏季增强蒸腾作用
C. 冬季减弱光合作用 D. 冬季减弱蒸腾作用
9. 此类公园最可能布局于
A. 居民生活区 B. 繁华商业区 C. 优美风景区 D. 美丽乡村地区

陶寺古观象台遗址在今山西省襄汾县陶寺镇(35.8°N,111.5°E)境内,它由13根夯土柱组成,呈半圆形,从观测点通过土柱狭缝观测日出方位,确定季节、节气,安排农耕。考古队在原址复制模型进行模拟实测,从第2个狭缝看到日出为冬至日,从第12个狭缝看到日出为夏至日。图4为陶寺古观象台位置及复原示意图。据此完成10~11题。

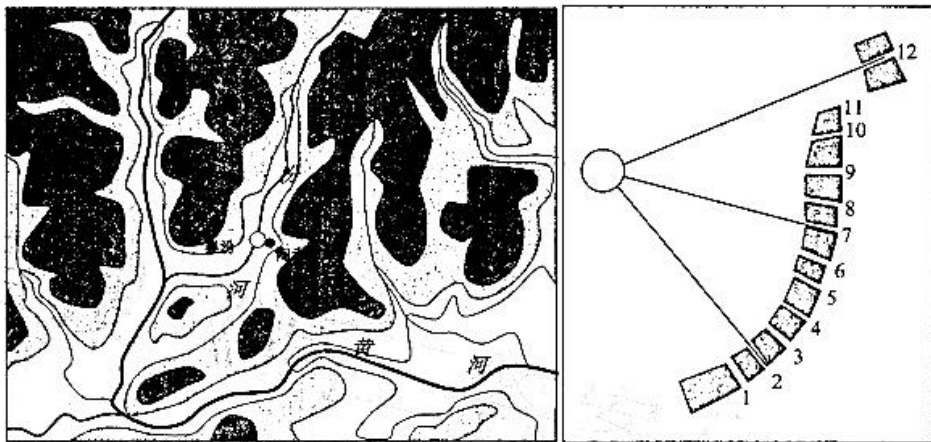


图4

10. 下列关于利用狭缝观测日出方位的说法,正确的是
A. 每个狭缝均可观测日出
B. 1~12号狭缝每年均可使用两次
C. 仅2~12号狭缝可观测
D. 1~12号狭缝日出时节对应24节气
11. 当工作人员在7号狭缝观测到日出时,下列说法可信的是
A. 此时北京时间为6:00 B. 此日日出方位东偏南
C. 此时北京时间为6:34 D. 此日日出方位东偏北
12. 农业是关乎百姓饭碗和亿万农民生计的民生产业,2021年我国农业生产保持稳中有进,全年粮食产量连续七年稳定在1.3万亿斤以上。要继续守牢国家粮食安全底线,加强种源等核心技术攻关,提升农业科技水平,为推进农业农村现代化奠定“硬核力量”。重视粮食安全是因为
①我国粮食供求将长期处于紧平衡状态
②种源等核心技术决定农业现代化的进程
③稳定粮食种植面积,能够增加粮食产量
④粮食是关系国计民生的重要战略物资
A. ①③ B. ①④ C. ②③ D. ②④

13. 2021年11月24日,北京市人大常委会对《北京市住房租赁条例(草案)》进行首次审议。条例对黑中介、甲醛房、哄抬租金等热点问题予以规范,并特别提出,房租显著上涨时,市政府可以采取价格干预措施稳定租金水平,拒不执行的,将由市场监督管理部门依法处理。该条例有利于
- ①改善民生,构建和谐的房屋租赁关系
 - ②政府运用市场机制促进资源合理配置
 - ③通过宏观调控维护消费者的合法权益
 - ④降低房价,营造健康有序的市场环境
- A. ①② B. ①③ C. ②④ D. ③④
14. 《区域全面经济伙伴关系协定》(RCEP)不仅涉及传统货物贸易、原产地规则等,还纳入了知识产权、电子商务、竞争政策、政府采购等新议题。2022年1月1日,RCEP正式生效。RCEP实施后,中国自贸伙伴国数量增加到26个,自贸覆盖率提高至35%。关于RCEP实施带来的影响,下列推导正确的是
- ①优化贸易结构→进口高质量产品→增加我国的社会总需求
 - ②发挥成员国比较优势→灵活采购生产原料→构建稳定的供应链体系
 - ③制定统一的经贸规则→减少贸易壁垒→提高世界经济一体化水平
 - ④促进贸易自由化便利化→充分利用两个市场、两种资源→提高我国的对外开放水平
- A. ①③ B. ①④ C. ②③ D. ②④
15. 国家邮政局数据显示,2021年前7个月,全国快递服务企业业务量累计完成583.3亿件,其中农村地区超200亿件,农村快递业务量上半年增速比城市高10个百分点。线上农副产品订单量仍保持较快增长,农村电商促进产供销精准对接,成为农民增收的新途径。由此可见
- ①电商经济正在成为我国农村最主要的产业
 - ②小农户与大市场的有效衔接助力乡村振兴
 - ③农村居民消费水平超过城市居民消费水平
 - ④农村电商的发展拓宽了农产品销售渠道,激活了农民致富潜能
- A. ①③ B. ①④ C. ②③ D. ②④
16. 针对群众反映的道路弯多路窄、出行难、隐患多的情况,某县纪委监委进行实地调查,严查党员干部违规参与工程建设、农村道路养护运营不到位等问题。该县纪委监委的举措
- ①是推动反腐倡廉建设的必然要求
 - ②是贯彻群众路线工作方法的体现
 - ③发挥了行政系统内部监督的作用
 - ④保证了党的纯洁性,巩固了党的执政基础
- A. ①② B. ①③ C. ②④ D. ③④
17. 以习近平法治思想为指引,2021年12月24日,全国政协围绕“促进未成年人权益的司法保护”召开双周协商座谈会,80多位政协委员积极发表意见,全面贯彻落实党中央关于加强未成年人保护工作的决策部署。材料体现了
- ①法律是治国之重器,良法是善治之前提
 - ②党的领导为未成年人权益的司法保护提供根本保证
 - ③为保障未成年人权益,司法机关要公正司法、严格执法
 - ④政协参政议政,为未成年人司法保护建言献策
- A. ①③ B. ①④ C. ②③ D. ②④

18. 立陶宛批准台湾当局设立所谓的“驻立陶宛台湾代表处”，公然制造“一中一台”，损害中国的主权和领土完整。中方表示，“台独”是死路一条，在全体中国人民捍卫国家主权和领土完整的坚强决心、坚定意志、强大能力面前，任何谋“独”挑衅的企图都不会得逞。我国的态度和立场表明
- ①主权对外至高无上，是一个国家的生命和灵魂
 - ②我国的国家利益与人民利益在根本上是一致的
 - ③倡导国际关系民主化符合各国的共同利益
 - ④独立自主是我国外交政策的基本立场
- A. ①③ B. ①④ C. ②③ D. ②④
19. 近年来，某市将“戏曲进校园”活动与学校美育教育、学校校本课程相结合，选派戏曲专家进行云授课，组织学生走进剧场开展互动和体验，多渠道传播戏曲风尚，让学生在实践中感受戏曲艺术的博大精深。这说明
- ①传播戏曲风尚是“戏曲进校园”活动的目的和归宿
 - ②借助现代技术有利于推动戏曲艺术创新性发展
 - ③“戏曲进校园”活动的创新必须植根于传统文化
 - ④戏曲文化内容和形式的创新能够增强其活力
- A. ①② B. ①③ C. ②④ D. ③④
20. 作为新百年征程的首部献礼片，红色主旋律电影《浴血大别山》还原了英雄血战到底的场面，歌颂了先烈百折不挠的革命精神。影片好评如潮，让观众深受震撼与感动，获赞“真实历史再现，英雄忠魂不朽”。这表明
- ①优秀文化能够增强人的精神力量
 - ②文化是培养健全人格的重要途径
 - ③文化激励人民创造美好幸福生活
 - ④文化对人的影响具有潜移默化的特点
- A. ①② B. ①④ C. ②③ D. ③④
21. 2022年1月，国际学术期刊《自然》在线发表一篇流行病学研究论文。根据新冠病毒变异毒株奥密克戎在南非的检出和传播动力学显示，该文认为免疫逃逸或许是被观察到的奥密克戎具有快速传播能力的一个主要原因，因此有必要对奥密克戎在南非以外国家的传播进行密切监测，以便更好地理解奥密克戎的传播性。上述材料表明
- ①世界是可知的，思维和存在具有同一性
 - ②实践的需要推动人们进行新的探索和研究
 - ③经过循环往复获得的认识具有真理性
 - ④理论基础上的实践创新推动社会发展
- A. ①② B. ①④ C. ②③ D. ③④
22. 海军航空大学某基地舰载机飞行教官群体担负着培养舰载机飞行人才的艰巨任务，他们始终牢记党和人民的期望重托，以战领训、为战育人，探索出一条具有我军特色的舰载机飞行人才培养新路。2021年12月28日，中共中央宣传部决定授予该群体“时代楷模”称号。这体现了
- ①砥砺自我是实现人生价值的根本途径
 - ②人生价值是社会价值和自我价值的统一
 - ③社会提供的客观条件是实现人生价值的前提
 - ④只有投身为人民服务的实践才能梦想成真
- A. ①② B. ①③ C. ②④ D. ③④

23. 右图漫画《你吃到的那个苦果,其实是你在早年种下的》(图5)给我们的启示是



图5

- ①坚持用发展的观点看问题,把握发展的前进性和曲折性
- ②联系是普遍的,不要忽视前后相继的因果联系
- ③事物发展是量变和质变的统一,要重视量的积累
- ④坚持系统优化的方法,运用综合思维方式认识事物

- A. ①③ B. ①④ C. ②③ D. ②④

24. 《礼记》规定,卿大夫无权祭祀先祖,“一庙无二祭主”。至春秋时期,鲁国仲孙氏、叔孙氏、季孙氏三家皆立桓公庙,支庶独立祭祀时有发生,祭祖范围更无定数。这反映出

- A. 宗法血缘关系不存 B. 礼乐等级制度瓦解
C. 贵族统治格局失序 D. 诸侯兼并战争频繁

25. 秦汉时期,社会普遍认为仿效“天”的构造、模拟“天”的运行、遵循“天”的规则,就可以获得思想与行为的合理性。董仲舒据此提出君主要“法天而治”,探知天意以便更好地践行天道。据此可知,董仲舒的主张

- A. 顺应了社会文化心理发展 B. 背离了儒学民本思想传统
C. 从根本上杜绝了君主专制 D. 被统治者确立为行政规范

26. 北宋末年,东京城里的百姓戴番式毡笠子,穿番式战袍,系番式腰带,渐成风气。宣和元年(1119年)正月初五,宋廷下诏:“先王之法坏,胡乱中华,遂服胡服,习尚既久,人不知耻。”这反映出当时

- A. 商品经济发展冲击等级秩序
B. 区域间的民族文化交流频繁
C. 统一的多民族国家日益巩固
D. 政府积极维护传统道德规范

27. 清王朝抽去“大一统”理论中“华夷之辨”的内容,改造为四海之内共尊一君的君主专制“大一统”观念,形成以推崇“大一统”政权为核心、以政权承绪关系为主线的正统论。这一举措旨在

- A. 重构天下秩序 B. 分化地方的权力
C. 促进民族交融 D. 构建统治合法性

28. 轮船招商局创办后,其与英国的怡和、太古公司三方签有联营合同,按比例分配收益。同时,清廷授予招商局运输漕粮的特权,与传统海运业按四六比分运漕粮,以供京师之用。这可以反映出,轮船招商局的设立

- A. 垄断了清王朝的漕运 B. 改变了传统航运格局
C. 保障了京师粮食供应 D. 带有中体西用的特征

29. 某部晚清小说中这样写道:“忽见一个卖报的走过,遂叫住了,买了一张《中外日报》。只见满纸满幅都是商家的广告,其中有一半是药房的,所有的药,不是强种就是益智;再有一半就是书局所有的书,不是教科就是小说;余者就是各种行商,却大半总带些挽回权利、抵制洋货的话头……”这在一定程度上反映出

- A. 农村商业活动活跃 B. 救亡图存的历史潮流
C. 大众传媒行业繁荣 D. 广告营销方式的创新

30. 1922年7月,中共二大在上海召开,通过了第一部《中国共产党章程》。会议要求党的一切活动都必须深入广大的群众里面去,领导和团结各界人民奋斗;第一次比较完整地对工人运动、妇女运动和青少年运动提出了要求。这表明中国共产党

- A. 确立了扶助农工的政策
B. 推动了马克思主义中国化
C. 明确了民主革命的任务
D. 坚持密切联系群众的原则

31. 下图(图 6)是画家王角创作于 1955 年的年画《我们都有选举权和被选举权》。这一作品可用于说明新中国



图 6

- A. 爱国统一战线的巩固发展
B. 新型政党合作制度的形成
C. 人民民主原则的贯彻实施
D. 民族区域自治制度的确立
32. 雅典和斯巴达等城邦通过引导和组织公民从童年到青年时期进行系统化、规范化的体育训练,同时在绝对平等规则的保障下,推崇通过个人能力在集体性的竞赛中获取属于自己的荣耀。城邦对体育的重视旨在
- A. 提升公民的政治地位
B. 塑造集体荣誉的意识
C. 弘扬人文主义的精神
D. 营造公平竞争的氛围
33. 1521 年,审判马丁·路德的沃尔姆斯会议召开,路德到会表明立场后便中途逃跑,而德意志民众普遍以为他已经被秘密处死,将会议比作耶稣受审事件;教皇如同犹太教祭司,马丁·路德则是耶稣基督。这反映出宗教改革
- A. 主张建立民族教会
B. 神化了路德的权力
C. 群众基础较为广泛
D. 否定了基督教信仰
34. 1950—1953 年,美国财政拨款逾 3 亿美元,重点向落后国家和地区的农业、工业、教育、卫生、社会福利领域提供技术和资金援助。最终印尼、泰国等国成为美国产品的销售市场,中东石油开采额中美资占到 65% 以上。这些援助
- A. 促进了受援国的可持续发展
B. 增强了美国支配世界的能力
C. 遏止了共产主义的经济渗透
D. 适应了战后殖民扩张的需要
35. 不结盟运动成立时,拉美国家与不结盟运动基本处于相对隔离的状态;20 世纪 70 年代,拉美国家开始纷纷加入不结盟运动,两者关系越来越密切;至冷战结束时大多数拉美国家已加入不结盟运动。这一变化体现了
- A. 拉美国家实现民族独立
B. 雅尔塔体系走向崩溃
C. 世界多极化趋势的发展
D. 美国放松对拉美控制

二、非选择题:共 160 分。第 36~42 题为必考题,每个试题考生都必须作答。第 43~47 题为选考题,考生根据要求作答。

(一)必考题:共 135 分。

36. 阅读图文材料,完成下列要求。(22 分)

伴随着对大功率风电机组的需求的不断提升,叶片长度也不断发展,从32米(塔高65米以上)向90米(塔高150m以上)超长尺寸发展。图7为内蒙古自治区局部地区年降水量示意图。图示A地区地形平坦,我国将在该地区采用大功率风电机组,建设500兆瓦风能光伏发电制氢项目和一个500兆瓦风能发电项目,预计2023年竣工。

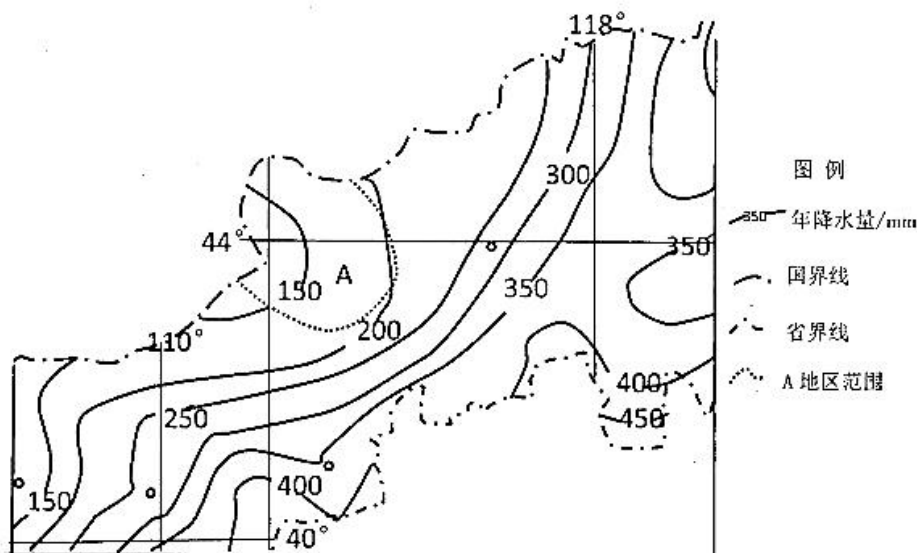


图7

- (1)分析A地区地形平坦的主要自然原因。(8分)
- (2)从风能利用的角度,简析A地风力发电机组大型化、规模化的主要原因。(8分)
- (3)说出A地建设光伏发电制氢项目对内蒙古自治区的主要经济意义。(6分)

37. 阅读图文材料,完成下列要求。(24分)

我国西藏东北某区域的古河道处在阶地上(图8)。甲地堆积体比古河道高约10m,多棱角状碎石,物质成分与乙地相同。乙所在山地的山顶有冰川。研究发现,丙地流水的沉积物有明显的分层现象(图9),且砾石的磨圆度高。甲地堆积体形成时间晚于A层,早于B层。甲地堆积体形成之后,上游数次洪涝又为丙地带来众多沉积物。沉积物颗粒径与流速有关,流速越慢,颗粒径越小。图10为丙地气候资料统计图。

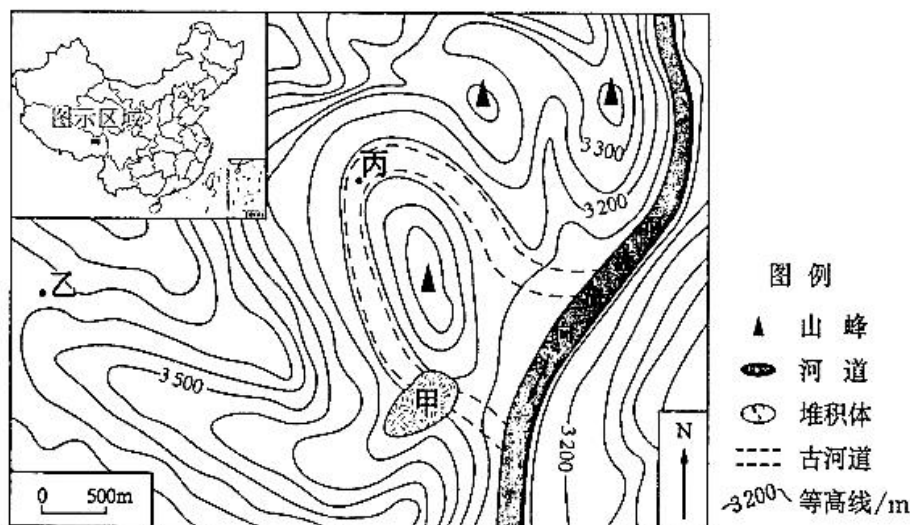


图8

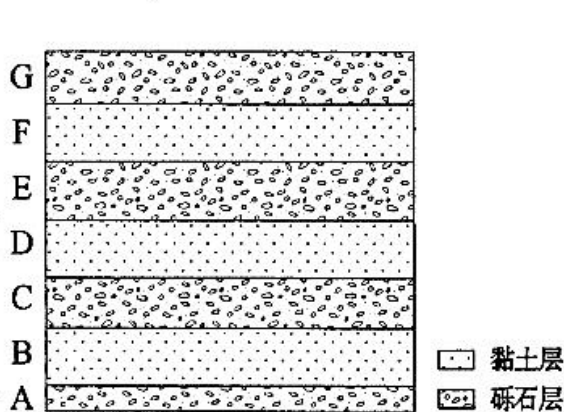


图9

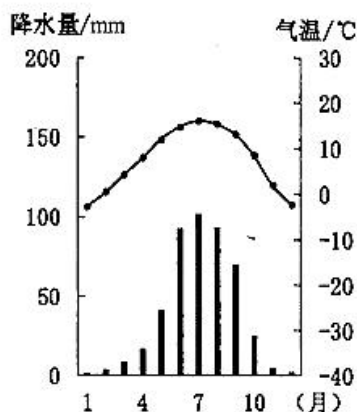


图10

- (1)说明图示河段流域面积小的原因。(6分)
- (2)与正常年份相比,推测甲地堆积体形成时的气温和降水特征。(6分)
- (3)分析甲地堆积体形成之后,该河流上游地区发生洪涝的次数。(6分)
- (4)说明废弃古河道的主要形成过程。(6分)

38. 阅读材料,完成下列要求。(14分)

材料一

2021年新冠肺炎疫情起伏反复、大宗商品价格暴涨、拉闸限电等不确定风险出现,给中小微企业的发展带来原材料和工业品价格高、订单不足、融资难、回款慢、物流成本高等挑战。针对近期中小企业发展遇到的突出问题,11月下旬,国务院办公厅出台了《关于进一步加大对中小企业纾困帮扶力度的通知》,提出了包括加大纾困资金支持力度,进一步推进减税降费,灵活精准运用多种金融政策工具,推动缓解成本上涨压力,加强用电保障,支持企业稳岗扩岗,保障中小企业款项支付,着力扩大市场需求,全面压实责任等9条具体措施。

材料二

中小企业贡献了我国70%以上的技术创新成果,创造了80%以上的新产品,但对于中小型科技企业而言,银行等间接融资体系能够提供的融资支持相对有限,中小型科技企业急需资本市场直接融资支持。2021年11月15日,北交所(即北京证券交易所,它是资本市场为适应国家经济发展战略转型而设立的)开市,这是中国多层次资本市场体系服务中小企业创新发展能力的再提升,让中小企业主更加坚定发展信心。

- (1)结合材料一,运用我国基本经济制度的有关知识,分析说明国务院加大对中小企业扶持力度的原因。(6分)
- (2)北交所开市体现了我国金融体系对中小型科技企业的支持力度在不断加大,对中小型科技企业的发展具有重要意义。结合材料二,运用经济生活知识对此加以说明。(8分)

39. 阅读材料,完成下列要求。(12分)

党的十九届六中全会审议通过《中共中央关于党的百年奋斗重大成就和历史经验的决议》(以下简称《决议》),《决议》中提到“敢于斗争、敢于胜利,是党和人民不可战胜的强大精神力量”。在迈进新征程、建功新时代的奋斗中,继承和发扬敢于斗争的历史经验具有重大现实意义。习近平总书记指出,我们讲的斗争,不是为了斗争而斗争,也不是为了一己私利而斗争,而是为了实现人民对美好生活的向往、实现中华民族伟大复兴知重负重、苦干实干、攻坚克难。

新时代坚持敢于斗争必须弘扬伟大建党精神,坚持真理、坚守理想,践行初心、担当使命,不怕牺牲、英勇斗争,对党忠诚、不负人民;新时代坚持敢于斗争必须践行为中国人民谋幸福、为中华民族谋复兴的初心和使命。

命；新时代坚持敢于斗争必须把全面从严治党不断引向深入；新时代坚持敢于斗争必须服务于实现中华民族伟大复兴的目标。

结合材料并运用政治生活知识，分析说明新时代中国共产党为什么要坚持敢于斗争。

40. 阅读材料，完成下列要求。(26分)

2021年7月8日，红色舞剧《地雷战》在烟台莱山胶东剧院首演。该剧以家喻户晓的海阳地雷战故事为主线，大量运用了海阳大秧歌作为主要艺术表达手段，交织运用双人舞、三人舞、群舞等多种舞蹈表现形式；在舞蹈配乐上，将具有海阳特色的民间小调、秧歌剧调以及具有音乐性的民间方言赋予民族摇滚乐的音乐风格和精神内涵，形成了融合电子、民族、电声、大管弦乐在内的包容性音乐气质。

《地雷战》舞剧创作团队多次深入海阳考察采风，并大量收集与之相关的历史资料、民间故事和舞蹈素材，将地雷战近距离呈现在大家面前，生动地展现了胶东人民在面对外强侵略时的民族大义与骁勇善战，深情讴歌了齐鲁儿女在中国共产党领导下的不屈斗志与家国情怀，将海阳人民骨子里的精神品质精准地刻画出来，让人们在身临其境中感悟人民战争的伟大力量，在与历史的对话中传承红色精神。

(1)结合材料，运用文化遗产与创新的相关知识，谈谈红色舞剧《地雷战》是如何做到在与历史的对话中传承红色精神的。(10分)

(2)结合材料，运用意识的能动作用原理，分析传承红色精神的重要意义。(12分)

(3)某校组织开展“传承红色精神在行动”活动，请你就活动的具体形式拟写两点建议。(4分)

41. 阅读材料，完成下列要求。(25分)

材料一

1789年法国资产阶级革命是近代世界“民族主义”的开端。法国大革命第一次提出“自由”“平等”“博爱”三大口号，并发表了《人权宣言》。法国大革命后，民族自治、民族统一、民族个性等公民观念在欧洲得到传播和强化，以公民权和人权的理念取代了传统封建王国的效忠、等级观念，建立了“民主”的“民族—国家”。由此，“民族主义”在欧洲乃至世界范围内扩散、嬗变，形成后来几百年的民族主义浪潮，建立了许多“民族—国家”，推动了世界历史进程。

——摘编自珠玑《近代“民族主义”理论与实践探析》

材料二

晚清以来一百多年间，中国始终呈乱象，似乎没有什么思想观念可以一以贯之。各种思想呈现出一种“你方唱罢我登场”的流动局面，可谓名副其实的“思潮”：潮过即落。但若仔细剖析各类思潮，仍能看出背后一条线，虽不十分明显，却不绝如缕贯穿其间。这条线正是民族主义。如果将晚清以来各种激进与保守、改良与革命的思潮条分缕析，都可以发现其所包含的民族主义关怀，故都可视为民族主义的不同表现形式。

——摘编自罗厚立《从思想史视角看近代中国民族主义》

(1)根据材料一并结合所学知识，概括近代西方“民族主义”的内容并举例说明其在不同地区的影响。(14分)

(2)根据材料二并结合所学知识，归纳近代中国民族主义发展的历史条件及其特点。(11分)

42. 阅读材料，完成下列要求。(12分)

材料

中国哲学的存在与发展既和全人类哲学的整体发展相关联，更与中华民族和中国社会发展的特殊形态相适应。中国古代哲学的脱胎和演进，在先秦时期即完成了两次重大转变，从而奠定中国社会2000多年发展的思想路径。中国传统哲学可具体划分为七个不同的发展阶段，即先秦子学、两汉经学、魏晋玄学、隋唐佛

学、宋明理学、明清实学、乾嘉朴学,每个发展阶段各有不同的思想特征。经世致用思想是中国传统哲学的核心思想;一方面,它既关注精神境界和价值追求的“道”的层面;另一方面,更加强调制度建设、方针政策等具体的治理之“术”的层面。经世致用思想中所包含的重实用、重实践的理念,家国天下情怀和入世担当的精神,即便是在今天依然难能可贵,具有高度的现实指导意义。

——摘编自王杰《中国哲学十八讲》

综合材料信息,自拟一个具体的论题,运用唯物史观并结合所学对所拟论题进行阐述。(要求:论题明确,史实准确,史观正确。)

(二)选考题:共25分。请考生从2道地理题、3道历史题中每科任选一题作答。如果多做,则每科按所做的第一题计分。

43.【地理——选修3:旅游地理】(10分)

崇礼境内80%为山地,海拔多在1500m至2000m之间,其地貌特征是“山连山,连绵不断;沟套沟,难以计数”。崇礼成为2022年北京冬奥会滑雪比赛的主场地。图11示意崇礼周边气候环境。

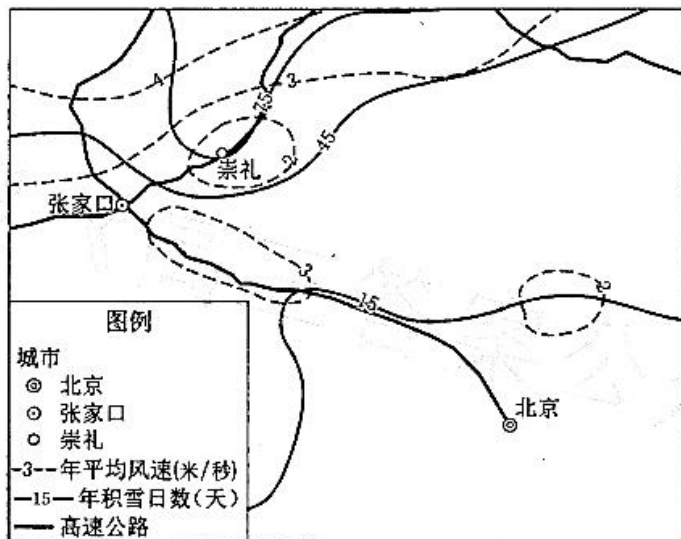


图11

简析崇礼发展滑雪旅游业的有利条件。

44.【地理——选修6:环境保护】(10分)

温性荒漠草原是天然草地中广泛分布的植被类型之一。近年来因气候变暖和牧民不合理放牧,草原退化加剧,每年面积减少近万亩。围封禁牧被认为是保护草地生态资源的重要方式,但也有研究表明,长期围封会对温性荒漠草原植被群落带来负面影响。图12为某研究团队关于围封禁牧和适度放牧对典型温性荒漠草原区植被群落特征影响的研究成果。

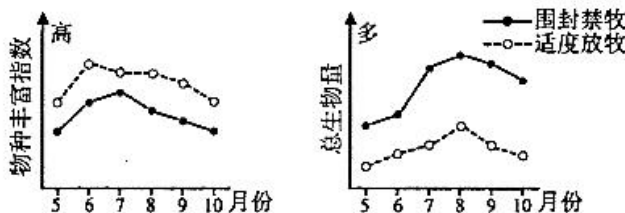


图12

与围封禁牧相比,说明适度放牧对该地草原植被群落特征的影响,并分析原因。

45.【历史——选修1:历史上重大改革回眸】阅读材料,完成下列要求。(15分)

材料

战国秦汉之际,华夏范围内东西之间存在巨大的文化差异。汉初建立了刘氏皇族与功臣集团“共治天下”的权力布局。刘邦在位晚期曾罢废东郡,将其地益封梁国。汉惠帝在位7年后突然病逝,吕后携幼孙登位,面对的政治局势十分不利。吕后称制之初,将刘邦罢废之东郡收归中央。吕后时代,东郡成为中央推行一系列地缘控制政策的战略基点:通过控制东郡,既阻断关东王国合纵的地理基础,又对齐、赵、梁等国构成军事压制,实现了对关东刘氏诸国的扼控,扭转了称制之初的不利局面;更以东郡为基础,通过分封诸吕、吕后孙,使血缘与地缘紧密结合,实现了对刘邦构建封建体系的改造,以适应吕氏执政需要。利用东郡控御王国和改组封建体系的做法,被文帝继承,成为吕后留下的重要政治遗产。

——摘编自马孟龙《东郡之置与汉初关东控御政策》

(1)根据材料并结合所学知识,说明吕后重置东郡的历史背景。(9分)

(2)根据材料并结合所学知识,简析吕后重置东郡的影响。(6分)

46.【历史——选修3:20世纪的战争与和平】阅读材料,完成下列要求。(15分)

材料

1963年,联合国非殖民化特别委员会把香港、澳门列入《关于给予殖民地国家和人民独立的宣言》(后简称《宣言》)适用的非自治领土名单内,置于该特委会的监督之下。若按《宣言》指导的方向,香港和澳门在结束殖民统治后就有了宣布“独立”的可能性。1964年底,联合国非殖民化特别委员会讨论香港和澳门问题。对此,中国政府采取了在特委会会外对重点国家表态,针对不同成员国的情况采取不同的应对策略,以争取其支持我国立场。阐述的重点是香港、澳门被英、葡侵占的历史并说明我国反对联合国过问的道理。这次会议为以后特别委员会历次会议关于港澳问题的处理奠定了基调,今后特别委员会历次会议只提供关于香港和澳门的基本信息,推迟审议直到1972年港澳从殖民地名单中删除。

——摘编自胡荣荣《中国政府应对联合国非殖民化特委会讨论港澳问题的历史考察》

(1)根据材料并结合所学知识,说明联合国非殖民化特委会讨论港澳问题的背景。(6分)

(2)根据材料并结合所学知识,评析中国政府的应对策略。(9分)

47.【历史——选修4:中外历史人物评说】阅读材料,完成下列要求。(15分)

材料

赵占魁(1896—1973),山西定襄县人,从小受尽欺凌和压榨,12岁时起就当雇工和壮工,并学会了打铁。抗战时期流亡到延安,成为陕甘宁边区农具厂的看炉工。他真心实意为抗日战争出力。在高温炉旁作业,又无隔热石棉衣防护,终日汗流浃背,从不叫苦叫累。在担任翻砂股长以后,他处处以身作则,上工最早,收工最晚,尤其在开炉时,往往连续工作十二三个小时。他努力钻研技术,改进工艺,不断提高产品数量和质量,并时时注意节约原材料。他关心爱护青年工人,常把自己节约的钱交给合作社兴办集体福利事业,或借给附近农民发展农业生产,深受职工群众爱戴。1942年,中共中央将其确立为典型,以建立新的劳动态度、提高生产效率为内容的“赵占魁运动”,在陕甘宁边区和各敌后抗日根据地普遍开展起来。

——摘编自孙应平《赵占魁与“赵占魁运动”》

(1)根据材料并结合所学知识,简析赵占魁被确立为典型的原因。(8分)

(2)根据材料并结合所学知识,概括“赵占魁运动”的意义。(7分)

机密★启用前(全国卷)

新高考联盟 2022 届高三 3 月教学质量测评

文科综合能力测试参考答案和评分标准

地 理

【命题意图】本题以甘肃省张掖市临泽县的国家级玉米育种基地为背景,考查农业区位因素及可持续发展,考查区域认知、综合思维和人地协调观。

1. **【答案】**D

【解析】东北春播玉米制种区,地势平坦开阔,土质肥沃,夏季雨水较多,温度适宜,基本为雨热同期,日照充足,有利于玉米制种,是我国传统的玉米制种区。而甘肃河西走廊的玉米制种基地相较于东北,降水少,晴天多,光热资源更加丰富,昼夜温差大,品质更佳。故选 D。

2. **【答案】**B

【解析】甘肃玉米新品种的选育、推广应用在农民增产增收中起到了重要作用,但是由于种质资源创新能力不足、育种技术和方法落后等问题,甘肃玉米育种跟不上本省玉米生产的发展步伐。临泽县地处河西走廊中部,多绿洲,灌溉水源充足。机械化水平低和集约化水平低是玉米种植中面临的问题,不是制种产业面临的问题。故选 B。

3. **【答案】**C

【解析】针对玉米育种的现状和存在的问题,需充分调研国内外玉米种子需求趋势,确定进行商业化育种的主要方向;广泛收集优良种质资源,积极研发抗旱性、丰产性的种质;全面系统地整理、筛选和改良地方种质资源中的杂交种优势群,以研发出更具优势的品种。故选 C。

【命题意图】本题以非洲大陆南端的德班东部海域某时刻等压线图为背景,考查等压线近地面风向判断、锋面气旋与天气状况、洋流分布规律及洋流对航运的影响。

4. **【答案】**A

【解析】风向由高压指向低压,南半球的风受地转偏向力影响向左偏,据此确定 M 地风向为西南风,故船只向北行驶为顺风;此处洋流为南半球中低纬环流中位于大洋西岸的自北向南流的暖流,故船只向北行驶为逆水。故选 A。

5. **【答案】**C

【解析】读图可知,图中东部和西部为高压,中部的气压偏低;东部高压较西部稳定,西部高压向东移动,挤压使中部形成低压槽,在低压槽附近不同性质气团相遇,形成锋面。该等压线图表示的是海平面气压状况,故 M、N 位于近地面气旋控制之下,水平方向相向运动,垂直方向上升运动,C 正确。

6. **【答案】**A

【解析】据材料可知,该海域有时会受温带气旋的影响而出现大风大浪,对过往船只造成较大影响,故①②正确;温带气旋还常常带来降水,阴雨天气使能见度下降,故③正确;该海域所处纬度位置在温带气旋影响之下,不足以产生令船员冻伤的低温,故④错误。故选 A。

7. **【答案】**C

【命题意图】本题通过对城市公园常见植被类型的判别,考查区域认知。

【解析】根据苹果树和枣树在该公园中培植,且秋季果实能够成熟,推测为当地物种,该地为暖温带地区,A、D 排除。公园中植被类型多样,冬季还有腊梅红花,应为风力较小的湿润地区,排除 B。故选 C。

8.【答案】D

【命题意图】不同植被类型通过差异化的方式适应共同的环境特征,考查自然地理环境的整体性原理应用。

【解析】根据第7题可知,该地为暖温带的华北地区,属于温带季风气候,夏季高温多雨,植被生长条件优越,冬季低温干燥,植被存活需要一定的适应能力,因此答案在C、D中选择。冬季国槐通过落叶休眠的方式越冬,油松针叶细小,蒸腾作用弱,所以两者都以不同的方式实现了减弱蒸腾作用能量消耗的目的。故选D。

9.【答案】A

【命题意图】本题通过文本阅读辅助,考查基础设施布局的区位因素。

【解析】根据文本信息,该公园为应对“人员流动限制、人们出行不便的问题”而设计,因此可以排除人流量大的繁华商业区,而优美风景区或美丽乡村地区不需要重建花园,最可能分布于居民生活区,故选A。

【命题意图】以陶寺古观象台为背景,考查区域认知、综合思维和地理实践力。

10.【答案】C

【解析】由题意及图示可知,2号缝观测日出时为冬至,日出方位东南,12号缝观测日出时为夏至,日出方位东北,可以推测春分时7号缝日出,然后直射点向北移动,日出方位向偏北移动,夏至时到12号缝,之后南移,秋分时日出方位回到7号缝,继续南移,冬至时日出方位在2号缝,之后北移,来年春分回到7号缝,一年之内日出方位在2~12号之间来回移动,2、12号缝可观测一次日出,其余缝可观测两次,共可观测20次,故选C。

11.【答案】C

【解析】7号狭缝观测日出时正值春秋分,全球昼夜等长,陶寺镇(111.5°E)地方时6:00,与北京时间(120°E)经度差8.5°,地方时相差34分钟,120°E时间=6:00+0:34=6:34,故选C。

36.【参考答案】(1)A地区靠近冬季风源地,风力大,大风天数多,风蚀作用强;(3分)冬季气候寒冷,植被稀少,摩擦力小,风力侵蚀作用强;(2分)该地降水量少,地表径流侵蚀作用弱。(3分)

(2)高度高,风速更大,更能充分利用风能资源;(3分)叶片长度长,风机能利用更多的风能;(2分)该地地势平坦开阔,风能资源丰富,可以大规模利用。(3分)

(3)一是可以充分将太阳能资源优势转变成经济优势;二是制氢项目的建设,可以克服风能资源不稳定的缺点,有利于进一步提高经济效益;三是可以促进相关产业的发展,提供就业机会。(每点2分,共6分)

【命题意图】本题提供内蒙古局部地区降水等值线图,以此为区域载体,通过外力角度设问地形特征的成因,考查学生的区域认知和要素综合思维;从风能利用角度设问该地发电机组特征,考查学生的要素综合思维和人类因地制宜对自然地理环境特征加以利用的人地关系思想;从经济效益角度考查光伏发电制氢项目的意义,通过对新兴产业和传统产业的比较,考查学生的综合思维能力和概括总结能力。

【解析】(1)地形平坦和地表沟壑纵横,从外力作用的角度,分别对应风力和流水作用。本题要求分析A地地形平坦,意在既要说明风力作用强,还要说明流水作用弱,全面考虑问题。

(2)A地风力发电机组大型化、规模化的原因,从两个角度作答,一是必要性,二是可行性。必要性需要建立风力发电机组大型化和规模化两个特征与风能利用率高之间的关联,可行性即这两个特征需要的客观条件,从当地可利用土地资源多和风能普遍丰富两个视角进行分析。

(3)经济效益,即要获得产出,光伏发电制氢项目是新能源产业,也是资源型的产业。利用太阳能发电有利于资源优势转化为经济优势;制氢,即在发电的基础上获得新能源氢气,是一种稳定使用的清洁能源,进一步提高经济效益。在以上两个过程中带动相关配件制造业和服务业的发展,提供就业机会。

37.【参考答案】(1)年降水量较少;(2分)山区面积广,谷地面积小;(2分)地势起伏大。(2分)

(2)降水量增大;(2分)降水强度更大;(2分)气温升高。(2分)

(3)3次。(2分)洪涝径流量大,流速快,搬运能力强;(2分)带来的沉积物颗粒径大,形成砾石层(图9中A层以上有3层砾石层)。(2分)

(4)泥石流堵塞甲地河道,形成堰塞湖;(2分)湖水位升高,地势较低处湖水外泄,形成新的河道;(2分)内力抬升作用使新河道流速快,流水下切侵蚀,古河道形成阶地。(2分)

【命题意图】本题以西藏地区的河道变迁为主题,通过考查流域面积、泥石流、流水沉积、影响河道变迁的地质作用等内容,凸显区域认知、综合思维。

【解析】(1)流域面积与当地自然环境相关。降水量大,地表径流多,容易汇入到河流当中,从而扩大河流的流域范围。同时其地形开阔、平坦,这都有利于地表、地下径流补给到河流中。由图8和图10可知,当地地势起伏大,山区面积广,谷地面积小,降水较少,流域面积小。

(2)根据材料,甲地堆积体地势高出河道10米,多棱角状碎石,物质成分与乙地相同,说明堆积体不是由原河道流水沉积而来,应是来自乙地。甲、乙间有谷地,且两地距离远,能携带乙地物质至甲地沉积的最有可能是泥石流。当地夏季降水集中,有冰雪融水,在某些年份降水较常年多,降水强度更大,同时气温回升更高,冰雪融水增多,而当地植被覆盖率不高,地表多松散碎屑物质,从而产生泥石流。

(3)甲地堆积体形成之后,古河道成为堰塞湖。湖水位升高,与上游落差减小,入湖水流速度减慢,沉积物颗粒径小。上游产生洪涝之后,河流径流量大,流速快,携带大量砂石入堰塞湖,砾石层由此产生。另外,根据材料,甲地堆积体是在A层之后形成,A层以上有3层砾石层,表明有3次洪涝灾害。

(4)通过第(3)小题可明确古河道因泥石流成为堰塞湖,河流被阻断。上游来水不断,湖水位升高,在地势相对较低处湖水外溢,形成新的河道。新河道处河水流向下流,本身流速快,有下切侵蚀作用,又根据古河道现为阶地,说明期间有内力抬升,加快新河道的流速,河床变低,古河道河水减少,最终废弃。

- 13.【参考答案】崇礼海拔较高,冬季积雪时间长;平均风速较小;地形坡度适中,沟谷众多,滑雪道长,适宜滑雪;临近京津地区,客源市场距离近;基础设施完善,交通便利;冬奥会比赛场地,市场知名度高。(任选五点得10分)

【命题意图】本题以北京冬奥会崇礼赛区为情境,结合区域的自然和人文条件分析滑雪旅游业发展的有利条件,考查学生读图获取地理信息的能力和综合思维。

【解析】读图可知,崇礼相比周边区域,积雪时间长,风速较小,满足滑雪需要的气候条件;高速公路与周边大城市相通,距离较近,便于吸引周边游客。从材料可知,该地以山地为主,滑雪道适合依山而建;是冬奥会赛场之一,市场知名度高。

- 14.【参考答案】影响:提高了物种丰富指数,(2分)降低了总生物量(2分)。原因:在适度放牧情况下,牲畜啃食抑制优势物种数量,减少其养分消耗;降低植被高度,为下层低矮植物发展提供阳光与空间;牲畜践踏,使植物种子进入土壤,提高其成活率;牲畜排泄,增加了土壤肥力,物种丰富指数提高。(任选两点得4分)优势物种数量大幅度下降,总生物量下降。(2分)

【命题意图】本题通过人类围封禁牧和适度放牧对温性荒漠草原植被群落特征的差异影响,考查人地关系和要素综合思维。

【解析】通过读图可知适度放牧提高了物种丰富指数,降低了总生物量。本题关键在于理解为什么在适度放牧情况下,物种丰富程度指数较高,但总生物量偏低。牧草的多样性受制于光照、热量、水分、土壤、生长空间等要素。优势牧草物种是牲畜的主要食物来源。围封禁牧情况下,优势牧草物种生长较快,数量增多,无牲畜啃食,其植株高度进一步提高,总生物量增加;快速增长的优势牧草物种抢夺了更多的生长要素,弱勢种群生存受限,物种丰富指数下降。在适度放牧情况下,优势牧草物种数量、高度下降明显,牲畜生长消耗大量群落能量,总生物量下降;优势牧草物种的削弱为低矮及弱勢种群的生长提供了光热、养分和空间,且排泄活动补充了土壤肥力,践踏使种子进入土壤,提高了成活率,物种丰富指数上升。

政 治

12.【答案】B

【命题意图】本题以农业生产中的粮食产量为素材,考查学生对农业现代化、粮食安全重要性的理解,引导学生关注我国经济发展的现实问题。

【解析】重视粮食安全的重要之一就是生产足够的粮食,满足广大人民群众生存需求。当前粮食供求将长期处于紧平衡状态,意味着粮食生产量不足以满足广大人民群众不断增长的粮食需求,这会威胁粮食安全,①从现实角度解读了原因,符合题意;②夸大了核心技术的作用,且重视核心技术是重视粮食安全的要求而非原因;稳定粮食种植面积和增加粮食产量没有必然联系,③错误;④强调了粮食的重要性,说法正确且符合题意。

13.【答案】B

【命题意图】本题以北京市房屋租赁条例的审议为素材,考查政府和市场、维护消费者合法权益的有关知识,考查学生的理解和判断能力。

【解析】政府可以采取价格干预措施稳定租金水平,有利于改善民生,构建和谐的房屋租赁关系,①符合题意;材料主要体现的是政府运用宏观调控来引导资源合理配置,而非市场机制,②不符合题意;该条例有利于政府综合运用宏观调控手段维护消费者的合法权益,③符合题意;材料中提到“稳定租金”,而不是降低房价,④不符合题意。

14.【答案】D

【命题意图】本题以《区域全面经济伙伴关系协定》为素材,考查经济全球化、对外开放的有关知识,考查学生的逻辑推导能力,以及对易混知识的理解能力。

【解析】进口高质量产品,增加的是社会总供给,①错误;RCEP不涉及全世界范围,应是提高了区域经济一体化水平,③不符合题意;RCEP的成员发挥各自的比较优势,通过优势互补,灵活采购生产原料,能够为彼此提供稳定的供应链,②符合题意;RCEP的签订增加了我国自由贸易伙伴国数量,为我国赢得了更广阔的市场,有利于提高我国对外开放水平,④符合题意。

15.【答案】D

【命题意图】本题以农村快递业务量增长和电商发展为素材,考查乡村振兴的有关知识,考查学生透过现象认识本质的能力。

【解析】农村要以农业为主,电商属于第三产业,①错误;农村电商的发展加速城乡商品等要素流动,促进农民增收,推动乡村振兴,②符合题意;农村快递业务量的增速高于城市,并不能推出农村居民消费水平高于城市,④不符合题意;农村电商促进产供销精准对接,成为农民增收的新途径,③符合题意。

16.【答案】A

【命题意图】本题以纪委监委的监督为素材,考查纪委监委、政府和党的有关知识,考查学生对不同主体的性质及其关系的辨识和理解能力。

【解析】纪委监委严查党员干部的违纪违法行为,是其职责所在,有利于反腐倡廉,贯彻“从群众中来,到群众中去”的工作方法,①②符合题意;纪委监委的举措属于行政系统外部监督,③错误;纪委监委的举措有利于保持党的纯洁性,巩固党的执政基础,“保证”一词表述太过绝对,④错误。

17.【答案】D

【命题意图】本题以全国政协召开座谈会讨论重要议题为素材,考查依法治国、党的领导和政协的有关知识,考查学生对素材的理解能力,引导学生增强法治意识。

【解析】材料涉及的是对未成年人的司法保护问题,并不涉及法律对国家治理的作用,未体现良法是善治的前提,①不符合题意;座谈会坚持以习近平法治思想为指引,落实党中央的决策部署,体现了党的领导为未成年人权益的司法保护提供根本保证,②符合题意;材料讲要加强对未成年人的保护,没有具体涉及

公正司法、严格执法问题,③不符合题意;政协召开座谈会,政协委员积极发表意见,履行参政议政的职能,①符合题意。

18.【答案】D

【命题意图】本题以立陶宛支持“台独”势力为素材,考查国家利益、国际关系的有关知识,引导学生关心国家大事,坚定一个中国的原则和立场,坚定不移地捍卫国家主权独立和领土完整。

【解析】主权对内表现为至高无上性,对外表现为独立自主性,①说法错误;我国是人民民主专政的社会主义国家,反对“台独”既符合我国的国家利益,又符合人民的利益,②符合题意;中国的表态和立场并不涉及国际关系民主化(世界各国平等协商解决国际事务,共同治理国际问题),且③说法错误;材料强调我国坚决捍卫国家主权和领土完整,体现独立自主是我国外交政策的基本立场,①符合题意。

19.【答案】C

【命题意图】本题以“戏曲进校园”为素材,考查文化的继承和发展的有关知识,考查学生的辨识与判断能力,培育公共参与精神。

【解析】文化创新的目的是指导实践,“戏曲进校园”活动的目的是让学生在实践中传承戏曲艺术,①错误;对传统文化的批判性继承是文化创新的根基,文化创新必须植根于优秀传统文化,③不选;选派戏曲专家进行云授课,借助现代技术有利于推动戏曲艺术创新性发展,②正确;“戏曲进校园”活动思路、内容和形式的创新能够增强其活力,④正确。

20.【答案】B

【命题意图】本题以红色主旋律电影为素材,考查文化对人的影响的有关知识,考查学生的辨识与判断能力,培育政治认同。

【解析】《浴血大别山》还原了英雄血战到底的场面,歌颂了先烈百折不挠的革命精神,影片好评如潮,让观众深受震撼与感动,说明优秀文化能够增强人的精神力量,文化对人的影响具有潜移默化的特点,①④正确;积极参与健康有益的文化活动,不断丰富自身的精神境界,是培养健全人格的重要途径,②错误;文化有优秀与落后之分,优秀文化激励人民创造美好幸福的生活,故③不选。

21.【答案】A

【命题意图】本题以流行病学研究论文为素材,考查认识论的有关知识,考查学生的辨识与判断能力。

【解析】国际学术期刊《自然》发表论文,揭示出免疫逃逸或许是被观察到的奥密克戎具有快速传播能力的一个主要原因,说明世界是可知的,思维和存在具有同一性,①入选;论文作者认为,有必要对奥密克戎在南非以外国家的传播进行密切监测,以便更好地理解奥密克戎的传播性,说明实践是认识发展的动力,实践的需要推动人们进行新的探索和研究,②入选;经过循环往复获得的认识不一定具有真理性,实践才是检验真理的唯一标准,③排除;实践基础上的理论创新推动社会发展,④错误。

22.【答案】C

【命题意图】本题以海军航空大学某基地舰载机飞行教官群体培养舰载机飞行人才为素材,考查人生价值的相关知识,考查学生的辨识与判断能力。

【解析】积极投身于为人民服务的实践,是实现人生价值的根本途径,①不选;材料强调群体的努力,而非社会提供的客观条件,③不选;海军航空大学某基地舰载机飞行教官群体培养舰载机飞行人才体现的是社会价值,中共中央宣传部授予该群体“时代楷模”称号体现的是自我价值,表明人生价值是社会价值和自我价值的统一,②入选;海军航空大学某基地舰载机飞行教官群体矢志投身舰载机飞行人才培养事业,以战领训、为战育人,体现了努力奋斗才能梦想成真,④入选。

23.【答案】C

【命题意图】本题以漫画为素材,考查联系观和发展观的有关知识,考查学生的辨识与判断能力。

【解析】“你吃到的那个苦果,其实是你在早年种下的”表明过去的原因与现在的结果之间存在因果关系,启示我们联系是普遍的,不要忽视前后相继的因果联系,同时体现了事物的量变达到一定程度必然会引起质变,说明事物发展是量变和质变的统一,要重视量的积累,故②③符合题意;材料并未体现发展的途

径和趋势,①不选;材料未涉及坚持系统优化的方法,④不选。

38. (1)【答案】①非公有制经济是我国社会主义市场经济的重要组成部分,是我国经济社会发展的重要基础。中小企业面临成本增加、市场需求不足、资金匮乏、效益降低等困境,迫切需要政府的扶持。加大对中小企业的扶持力度有利于发挥其支撑经济增长、促进创新、扩大就业、增加税收的重要作用。(3分)

②科学的宏观调控是社会主义市场经济体制优势的内在要求,政府通过实施减税降费等经济手段,能够为中小企业的发展营造良好的营商环境,减轻企业负担,激发中小企业的活力和竞争力。(3分)

【命题意图】本题以疫情期间国家扶持中小企业发展为素材,考查我国基本经济制度的有关知识,引导学生关注我国经济社会现实,增强理论联系实际的能力。

【解析】学生要掌握我国基本经济制度的最新内容,包括所有制结构、收入分配制度和社会主义市场经济体制,准确调用理论知识,提取材料中的有效信息,进行归纳概括。本题属于原因类题目,可以围绕现实原因、理论原因等分别阐述。首先,从所有制角度,阐述非公有制经济的地位、意义,结合材料从现实原因角度,归纳材料一中小企业面临的困境,并分析加大对中小企业扶持力度的意义;其次,从社会主义市场经济体制的角度,结合材料,分析说明宏观调控政策的实施有利于优化中小企业营商环境,激发活力和竞争力。(注意:若从分配制度的角度,答出“我国坚持按劳分配为主体、多种分配方式并存的分配制度。政府通过实施减税降费,合理让利,减轻中小企业负担,增强其盈利能力,调动中小企业创新创造积极性,促进效率提高”意思相近的要点,酌情给分)

(2)【答案】有利于进一步健全多层次资本市场,优化资本投资结构,完善中小企业金融支持体系;(2分)有利于拓宽中小企业融资渠道,解决融资难、融资贵问题,助力其成长壮大;(2分)有利于推动中小企业转型升级,提升中小企业自主创新能力;(2分)有利于培育新经济、新模式、新动能,更好地服务实体经济的发展。(2分)

【命题意图】本题以北交所开市为素材,考查北交所开市对促进中小型科技企业发展的意义,引导学生关注时政热点,培养其多角度探究问题的能力。

【解析】学生要从多角度阐述北交所开市对促进中小型科技企业发展的意义,同时挖掘材料信息并进行提炼。从资本角度,阐述“有利于完善金融体系,健全多层次资本市场,优化资本投资结构,有利于拓宽中小企业融资渠道,解决融资难、融资贵问题,助力其成长壮大”;从中小企业创新发展角度,阐述“有利于贯彻创新发展理念或创新驱动发展战略,推动企业转型升级,提升中小企业自主创新能力”;从金融服务实体经济角度,阐述“有利于培育新模式、新动能,服务实体经济发展”。

39. 【答案】新时代坚持敢于斗争是总结党的奋斗实践得出的重要历史经验,是党和人民不可战胜的强大精神力量;(3分)是坚持以人民为中心的根本立场,全心全意为人民服务的宗旨的要求,有利于践行为人民谋幸福的使命;(3分)是勇于自我革命,全面从严治党,永葆先进性和纯洁性的要求,有利于提高执政能力和水平;(3分)是带领和团结人民群众实现中华民族伟大复兴的要求,有利于中国共产党坚定理想信念,不忘初心,牢记使命。(3分)

【命题意图】本题以党的十九届六中全会的决议为时政素材,考查学生对中国共产党在新时代要坚持敢于斗争的原因的理解,引导学生拥护中国共产党的领导,坚持中国特色社会主义道路,增强实现中华民族伟大复兴的信心。

【解析】解答本题的关键在于挖掘材料有效信息,进行提炼整合。从第一段材料中提炼出“敢于斗争是总结党的奋斗实践得出的重要历史经验,是党和人民不可战胜的强大精神力量”;从第一、二段材料中提炼出“敢于斗争是坚持以人民为中心的根本立场,全心全意为人民服务的宗旨的要求”;从第二段材料中提炼出“敢于斗争是勇于自我革命,全面从严治党,永葆先进性和纯洁性的要求,有利于提高执政能力和水平”;从第三段材料中提炼出“敢于斗争是实现中华民族伟大复兴的要求,有利于坚定理想信念,不忘初心,牢记使命”。

40. 【答案】(1)①立足社会实践是文化创作的基本要求。舞剧创作团队立足社会实践,多次深入海阳考察采风并收集相关素材,将海阳人民骨子里的精神品质精准地刻画出来。(4分)



②大量运用了海阳大秧歌作为主要艺术表达手段,在舞蹈配乐上形成了包容性音乐气质,实现了文化在继承中发展,在发展中继承。(3分)

③人民群众是文化创造的主体。《地雷战》舞剧生动地展现了胶东人民在面对外强侵略时的民族大义与骁勇善战,让人们感悟到人民战争的伟大力量。(3分)

(2)①意识对改造客观世界具有指导作用,正确的意识促进客观事物发展,我们要树立正确的意识,重视精神的力量。(4分)传承红色精神有利于人民投身于全面建设社会主义现代化国家新征程,为实现中华民族伟大复兴而奋斗。(3分)

②意识对人体生理活动具有调节和控制作用。(2分)传承红色精神有利于用红色基因滋养人的心灵,提升人的境界,让人们从红色精神中汲取力量。(3分)

(3)组织开展学党史演讲活动;召开传承红色精神主题班会;参观当地的红色建筑、红色基地、红色文物等。(每点2分,写出2点即可,其他答案言之有理亦可给分)

【命题意图】本题以《地雷战》舞剧为时政素材,考查文化传承与创新、意识的能动作用等相关知识,考查学生分析与综合、探究与建构的能力,培养政治认同。

【解析】(1)本题是措施类主观题。学生可以运用文化传承与创新的相关知识,结合材料进行分层分析。结合“《地雷战》舞剧创作团队多次深入海阳考察采风”,可以从“立足社会实践是文化创作的基本要求”角度分析;结合“该剧以家喻户晓的海阳地雷战故事为主线,大量运用了海阳大秧歌作为主要艺术表达手段……在舞蹈配乐上,形成了包容性音乐气质”,可以从“文化在继承中发展,在发展中继承”角度分析;结合《地雷战》舞剧源于胶东人民的抗战实践,可以从“人民群众是文化创造的主体”角度分析。

(2)本题考查意识的能动作用,首先要明确意识能动作用的原理和方法论,其次结合材料进行分层分析。从“意识对改造客观世界具有指导作用,正确的意识促进客观事物发展”角度分析对国家和民族的意义;从“意识对人体生理活动具有调节和控制作用”角度分析对人的意义。

(3)本题是开放型题型,考查学生解决问题的能力,围绕传承红色精神的具体形式作答即可。

历史

24.【答案】C

【命题意图】本题通过设置春秋时期诸侯支庶祭祀的问题情境,旨在考查获取和解读信息、调用知识解决问题的能力。

【解析】本题考查春秋战国时期的阶段特征。根据《礼记》,祭祀先祖是诸侯特权,卿大夫作为支庶是无权祭祀的。但至春秋时期,鲁国三家大夫皆立家庙祭祀先祖,支庶独立祭祀的现象较为普遍,这反映出原有的等级森严的贵族秩序受到冲击,故C项正确。祭祀先祖反映出对宗法血缘关系的重视,A项错误;春秋时期礼乐制度遭到破坏但还未瓦解,B项错误;材料中未提供诸侯间征战的信息,D项错误。

25.【答案】A

【命题意图】本题通过设置秦汉社会文化心理的问题情境,旨在考查获取和解读信息、调用知识解决问题的能力。

【解析】本题考查秦汉时期的思想概况。秦汉时期将思想行为与上天联系来构造其合理性,这一社会潮流影响了董仲舒的思想,故A项正确。董仲舒的思想并未从根本上背离民本思想,材料中也未体现,B项错误;君主权力不受制度的约束就不可能杜绝专制,C项错误;材料并未体现统治者对董仲舒思想的态度,D项错误。

26.【答案】B

【命题意图】本题通过设置北宋胡风胡服流行的问题情境,旨在考查获取和解读信息、调用知识解决问题的能力。

【解析】本题考查宋代的民族交往与文化交融。澶渊之盟后,北宋与北方少数民族之间的文化交流不断增加,胡风胡服影响了中原百姓的风俗和衣着,故宋廷下诏禁止,故B项正确。材料中未提供商品经济发展的信息,A项错误;这一时期是分裂对峙的政治格局,C项错误;政府维护的是传统的华夷秩序,而不是道德规范,D项错误。

27.【答案】D

【命题意图】本题通过设置清代重塑“大一统”观念的问题情境,旨在考查获取和解读信息、调用知识解决问题的能力。

【解析】本题考查清代的统治观念。清王朝统治者通过抽离大一统观念中不符合自身利益的“华夷之辨”内容,强调政权承绪的正统性,这为异族入主中原的统治构建了合法性,故D项正确。重构天下秩序与材料主旨不符,A项错误;维护国家统一不是根本目的,B项与材料主旨无关;促进民族交融不是主观目的,C项错误。

28.【答案】B

【命题意图】本题通过设置轮船招商局冲击航运格局的问题情境,旨在考查获取和解读信息、调用知识解决问题的能力。

【解析】本题考查洋务运动的影响。轮船招商局设立后,与外资航运企业协商分配航运市场份额,又获得了朝廷特权,打破了传统海运格局,故B项正确。材料提供的信息可以排除A项;轮船招商局负责的漕运只占40%,C项表述夸大了其作用;材料中未涉及企业性质,且表述与史实不符,D项错误。

29.【答案】B

【命题意图】本题通过设置晚清小说中媒介广告的问题情境,旨在考查获取和解读信息、调用知识解决问题的能力。

【解析】本题考查近代中国物质生活的变迁。在近代民族危机不断加深的背景下,挽回权利、抵制洋货、提升国人素质成为社会的潮流,药品、书籍广告正是这一潮流的体现,故B正确。当时报纸发行和商业繁荣的景象主要是城市而不是农村,A错误;由一则广告无法得出大众传媒行业繁荣的结论,C错误。刊登

广告推销商品的方式早已有之,创新的说法不对,D错误。

30.【答案】D

【命题意图】本题通过设置中共二大通过了《中国共产党章程》的问题情境,旨在考查获取和解读信息、调用知识解决问题的能力。

【解析】本题考查中国共产党党史。中共二大提出党的活动要深入群众,领导工人运动、妇女运动和青年运动等,说明中共认识到密切联系群众的重要性,故D项正确。扶助农工的政策是国民党一大确立的,A项错误;材料中未体现将马克思主义同中国革命实际相结合,B项错误;材料中未体现反帝反封建的民主革命任务,C项错误。

31.【答案】C

【命题意图】本题通过设置新中国民主政治发展的问题情境,旨在考查获取和解读信息、调用知识解决问题的能力。

【解析】本题考查新中国的民主政治建设。结合年画创作时间和内容主题可知,这幅画作创作的背景是人民代表大会制度建立,各族人民拥有了选举和被选举的民主权利,故C项正确。1981年6月,党的十一届六中全会通过的《关于建国以来党的若干历史问题的决议》提出了“爱国统一战线”的主张,取代了“革命统一战线”,A项错误;中国共产党领导的多党合作与政治协商制度在1949年新中国成立时就已经形成,B项错误;民族区域自治制度早在1941年即已建立,1949年《中国人民政治协商会议共同纲领》确定实行民族的区域自治,D项错误。

32.【答案】B

【命题意图】本题通过设置古希腊城邦重视体育的问题情境,旨在考查获取和解读信息、调用知识解决问题的能力。

【解析】本题考查古希腊的城邦政治。古希腊城邦林立,各城邦间征伐不断,各城邦通过组织体育训练提升公民素质,鼓励通过竞争获取属于自己的荣耀,服务于城邦集体荣誉和利益的需要,故B项正确。公民的政治地位无法通过体育提升,A项错误;C项不是城邦重视体育的根本目的;通过竞争获得荣耀属于重视体育的手段而非目的,D项错误。

33.【答案】C

【命题意图】本题通过设置审判马丁·路德后民众反应的问题情境,旨在考查获取和解读信息、调用知识解决问题的能力。

【解析】本题考查宗教改革。审判马丁·路德的消息传到民间,民众通过神化路德的形象,将之与耶稣受审类比,说明民众对于路德改革的尊崇,故C项正确。材料中未提供民族教会的信息,A项错误;宗教改革强调因信称义,路德的权力没有提升,B项错误;宗教改革是要否定教会权力和教皇权威,而不是否定基督教信仰,D项错误。

34.【答案】B

【命题意图】本题通过设置战后美国援助落后国家和地区的问题情境,旨在考查获取和解读信息、调用知识解决问题的能力。

【解析】本题考查战后国际政治经济秩序。二战后,美国在欧洲推行马歇尔计划的同时,推出援助亚非拉的“第四点计划”,通过技术和资金援助使这些国家和地区沦为美国的原料产地、商品市场和落后产业转移基地,进一步巩固战后经济霸主的地位,增强了其支配世界的能力,故B项正确。美国对受援国的掠夺不利于可持续发展,A项错误;“遏止了共产主义的经济渗透”的表述过于绝对,C项错误;战后殖民体系逐渐瓦解,D项错误。

35.【答案】C

【命题意图】本题通过设置拉美国家与不结盟运动关系的问题情境,旨在考查获取和解读信息、调用知识解决问题的能力。

【解析】本题考查多极化趋势的发展。拉美国家与不结盟运动关系的发展受到国际局势的影响,随着美国



实力相对衰落、拉美国家自身实力的发展,拉美国家与不结盟运动的关系越来越密切,故C项正确。拉美国家早在19世纪末20世纪初就纷纷实现了民族独立,A项错误;冷战结束时大多数拉美国家已加入不结盟运动,雅尔塔体系崩溃是在冷战结束后,B项错误;促成变化的主要原因是拉美国家自身发展的结果,而不是美国放松控制,D项错误。

11.【答案】

(1)内容:反对封建主义;追求自由民主和平等;争取民族独立,建立民族国家;建立现代国际关系。(8分)影响:在欧洲,以反对外敌入侵、建立民族国家为主的运动兴起,如拿破仑时期法兰西民族反对“反法联盟”的战争和德国、意大利的统一运动。在亚非拉地区,以反对殖民侵略和封建主义为主要内容的运动广泛兴起,如中国相继发生了太平天国运动、义和团运动以及辛亥革命等。总之,民族主义的传播与实践,推动了世界历史进程。(言之有理可酌情给分)(6分)

(2)条件:民族危机的不断加深;西方启蒙思想的传入与传播;封建保守势力的阻挠;中国传统民族主义的影响;民族资本主义的发展和资产阶级力量的壮大。(6分)特点:反对帝国主义与封建主义的双重压迫;始终与民主主义相结合;体现出爱国主义。(5分)

【命题意图】通过设置近代西方与中国民族主义的问题情境,旨在考查获取和解读信息、调用知识论证和探讨问题的能力。

【解析】本题第一问有两小问:“内容”需要结合材料和所学,从民族主义产生的时代背景入手分析得出反封建、追求自由平等、争取民族独立和建立国际关系等要点;“影响”则要从民族主义在欧洲、亚非拉地区所产生的不同影响,列举具体事实作答即可。本题第二问的历史条件,需要结合近代中国发展的相关史实,从政治、经济、阶级、思想文化、传统因素等角度分析作答即可。特点需要从中国近代民主革命的双重任务和近代历史特征等角度分析归纳。

12.【答案】

示例一

论题:春秋战国时期是中国哲学形成的关键时期。

阐述:春秋战国时期,政治上诸侯争霸、礼崩乐坏,经济上小农经济产生、土地私有制确立,文化上私学兴盛、士阶层崛起,思想界异常活跃,各种思想学说、学术流派纷纷登场,涌现出了孔子、孟子、荀子、老子、庄子、孙子、墨子、韩非子等一大批思想家,形成了道家、儒家、墨家、法家、名家、兵家、阴阳家、纵横家、杂家、农家、小说家等众多思想流派,其中最具有影响的当属儒家、道家、墨家、兵家和法家。各家各派纷纷亮出自己的学说和主张,为当时“礼坏乐崩”的社会开出“药方”,大大丰富了中国早期哲学的内容。

综上所述,一定时期的思想文化是一定时期政治经济的综合反映,先秦哲学奠定了中国哲学发展的基础。

示例二

论题:经世致用思想是中国传统哲学的核心思想。

阐述:春秋战国时期,诸子百家争鸣,积极鼓吹各自的治国理政思想,道家学派主张顺应自然,无为而治;墨家学派主张兼爱非攻、尚贤节葬;法家学派主张严刑峻法、重视农战等,纷纷为实现社会稳定开出自己的“药方”,集中地体现了经世致用思想。明清之际的思想家顾炎武、黄宗羲、王夫之等人在总结明朝灭亡的教训时,批判空疏玄虚之风的危害,大力弘扬经世致用、崇实黜虚的实学,强调要把学术研究同现实政治、社会实践的需要结合起来,倡导重视国计民生,开启了影响深远的实学之风。

综上所述,经世致用是中华优秀传统文化的重要思想理念,我们要继承其合理内核,努力做到知行合一,将个人的价值追求与家国责任统一。

【命题意图】通过设置中国哲学发展的问题情境,旨在考查获取和解读信息、发现和提出问题、调用知识论证和探讨问题的能力。培养学生对中华优秀传统文化的认同。

【解析】本题属于开放性试题,需要在准确理解材料信息的基础上拟定明确的论题,再结合中国古代思想文化的知识说明。材料提供了中国哲学的形成背景、发展阶段、核心思想等信息,从中选取一个角度,拟定论题再进行阐述。注意题目中要求运用唯物史观进行阐述,学生须熟练运用唯物史观的方法论。

45.【答案】

(1)背景:东西地域间巨大的文化差异;惠帝去世后,功臣集团势力崛起;郡国体制下王国势力坐大;吕后称制后巩固权力的需要。(9分)

(2)影响:打破了关东地区王国原有势力均衡;加强了中央集权,削弱了王国势力,巩固了自身统治;为继位者留下了政治遗产。(6分)

【命题意图】通过设置西汉吕后重新设置东郡的问题情境,旨在考查获取和解读信息、调用知识解决问题的能力。

【解析】本题第一问的背景,结合材料和所学从东西文化差异、权势力量对比、政治体制弊端和现实政治需要等方面分析即可。第二问的影响,结合材料和所学从对实力对比、巩固统治和后世影响方面入手即可。

46.【答案】

(1)背景:二战后民族解放运动的高涨;美苏将联合国作为争霸对抗的场所;中国尚未恢复在联合国的合法席位;英国、葡萄牙仍对香港、澳门实施殖民统治。(6分)

(2)评析:中国政府奉行反帝反殖反霸的外交方针,采取双边外交方式,针对不同国家制定不同策略;阐明了中国政府对于港澳问题的立场,认为港澳问题是历史遗留问题,不是独立国或无主地;为国际社会处理港澳问题奠定了基调;是中国外交史上的一次重要尝试。(9分)

【命题意图】通过设置中国政府应对联合国非殖民化特委会讨论港澳问题的问题情境,旨在考查获取和解读信息、调用知识解决问题的能力。

【解析】本题第一问的背景,从二战后世界政治格局、联合国的地位、中美苏三国关系发展等角度分析作答即可。第二问的评析,从中国政府的外交政策、应对方式、影响等角度作答即可。

47.【答案】

(1)原因:热爱劳动的主人翁精神;爱护革命财产,关心群众利益;以身作则,遵守劳动纪律;团结职工,热心公益事业;提高生产效率,发展大生产的需要。(8分)

(2)意义:发扬了艰苦奋斗、自力更生的精神;提高了民众的思想觉悟,增强了主人翁的责任感;推动了生产发展,有力地保证了抗日战争敌后战场的物资供应。(7分)

【命题意图】通过设置抗战时期赵占魁被确立为劳动典型和“赵占魁运动”的问题情境,旨在考查获取和解读信息、调用知识解决问题的能力。

【解析】本题第一问的原因,从赵占魁身上所体现的优秀品质、时代精神及当时的现实需要分析作答即可。第二问的意义,从这个运动对当时生产发展、社会动员、精神鼓励等角度分析作答即可。

关于我们

自主选拔在线是致力于提供新高考生涯规划、强基计划、综合评价、三位一体、学科竞赛等政策资讯的升学服务平台。总部坐落于北京，旗下拥有网站（[网址：www.zizzs.com](http://www.zizzs.com)）和微信公众平台等媒体矩阵，用户群体涵盖如需第一时间获取相关资讯及备考指南，请关注**自主选拔在线**官方微信号：**zizzsw**。



 微信搜一搜

 自主选拔在线

