

# 2023 届炎德英才长郡十八校联盟高三第二次联考(全国卷)

## 文科综合能力测试

审校、制作:湖南炎德文化实业有限公司

江西九江一中;江西南昌二中;江西师大附中;江西吉安一中;江西新余一中;江西宜春中学;  
由 江西高安中学;江西浮梁一中;河南实验中学;广西柳州高级中学;江西宜春一中;湖南名校 联合命题

命题学校:湖南名校 审题学校:湖南名校

本试卷分第 I 卷(选择题)和第 II 卷(非选择题)两部分 1 至 42 题为必考题,43 至 47 题为选考题,共 14 页。考试结束后,将本试卷和答题卡一并交回。时量 150 分钟,满分 300 分。

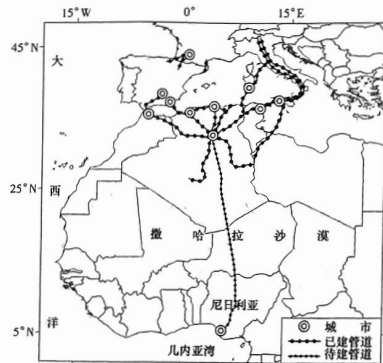
### 第 I 卷(选择题 共 140 分)

本卷共 35 小题,每小题 4 分,共计 140 分。在每小题给出的四个选项中,只有一项是符合题目要求的。

近年来,随着我国农业及技术人员与国际交流的频繁,部分农民企业家纷纷走出国门到国外租赁土地种植农作物。2020 年安徽赵师傅远赴俄罗斯远东地区发展蔬菜种植,种植的蔬菜产量远高于当地产量。2022 年底赵师傅克服重重困难实现了四季蔬菜种植,并获得较高的经济效益。据此完成 1~3 题。

- 俄罗斯远东地区适宜种植蔬菜的有利条件是
  - 气温较高
  - 水源充足
  - 地租较低
  - 临近港口
- 与俄罗斯当地农户相比,安徽赵师傅种植的蔬菜产量较高得益于
  - 土壤肥力较高
  - 田间管理精细
  - 收获机械较多
  - 农业政策优惠
- 安徽赵师傅实现四季蔬菜种植克服的主要困难是
  - 春季缺水
  - 夏季冰雹
  - 秋季弱光
  - 冬季低温

2022 年 7 月底,非洲能源大国阿尔及利亚、尼日利亚和尼日尔签署谅解备忘录,计划修建一条 4000 千米的跨越撒哈拉沙漠的天然气管道,将天然气先从西非的尼日利亚运出,向北经尼日尔,最后运至阿尔及利亚,再由阿尔及利亚利用现有管道输至欧洲,该工程项目需要总投资 130 亿美元。该计划早在 40 多年前就已经提出,但至今仍未动工。下图示意撒哈拉沙漠天然气管道规划路线(待建)。据此完成 4~6 题。



文科综合试题 第 1 页(共 14 页)

4. 推测撒哈拉沙漠天然气管道计划 40 多年仍未动工的主要原因有  
①工程项目融资量大 ②途经高风险地区多 ③沿途炎热干旱缺水 ④施工技术尚未过关

- ①②
- ②③
- ③④
- ①④


5. 在阿尔及利亚利用现有管道输至欧洲,可以

- 缩短线路长度
- 扩大输送气量
- 提高能源价格
- 降低建设成本

6. 撒哈拉沙漠天然气管道建成后,对欧洲能源安全产生的有利影响主要是

- 维护各国社会稳定
- 拓宽能源进口渠道
- 稳定能源生产总量
- 增加社会就业机会

小明是一位地理迷,经常利用节假日外出研学考察,并捡回来许多具有研究和收藏价值的岩石,2023 年元旦时小明与同学在他家附近的一个旅游景区游览。下图示意小明家附近的分层设色地形图。据此完成 7~9 题。



7. 推测图中该地区的典型地貌最可能是

- 褶皱地貌
- 断层地貌
- 火山地貌
- 盆地地貌

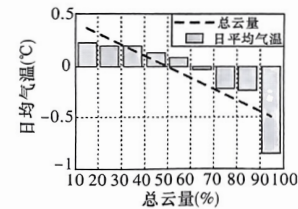
8. 该地区形成这一典型地貌的地质作用主要是

- 地壳抬升
- 冰川侵蚀
- 流水堆积
- 岩浆喷发

9. 小明在该典型地貌区旅游发现最多的岩石是

- 石灰岩
- 玄武岩
- 花岗岩
- 大理岩

云是大气中的水蒸气遇冷液化成的小水滴或凝华成的小冰晶,所混合组成的漂浮在空中的可见聚合物。它是大气中的重要组成部分,与气温高低、降水多少息息相关。下图示意我国多年来日平均气温随总云量变化的关系。据此完成 10~11 题。



10. 我国多年来日平均气温与总云量的变化关系呈

- 正相关
- 负相关
- 先正相关,后负相关
- 先负相关,后正相关

文科综合试题 第 2 页(共 14 页)

学 校 班 级 姓 名 学 号

题 答 要 点 封 线

我国东部地区日平均气温普遍随着总云量增多而显著下降,可能是由于云量增加导致

- A. 地面蒸发显著消耗了太阳直接辐射和地面辐射
- B. 大气吸收了大量太阳辐射并削弱了大气逆辐射
- C. 降水显著增多并吸收了大量的地面辐射总能量
- D. 地面直接吸收的太阳总辐射和地表净辐射减少

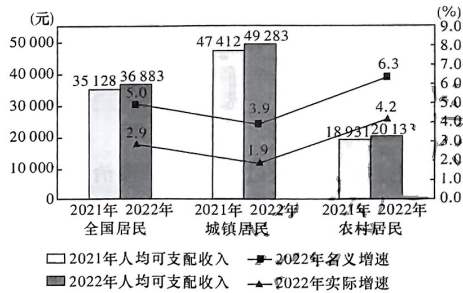
从外观炫酷的新能源汽车,到暗藏玄机的电子减盐餐具,在第五届中国国际进口博览会的展馆内,人们几乎随处可见围绕“碳达峰、碳中和”而萌生的大产业和小巧思。这说明

- ①新发展理念促进高质量发展
  - ②收入水平提高促进消费结构优化
  - ③应树立正确消费观,绿色消费
  - ④低碳生活观念决定消费的对象
- A. ①②      B. ①③      C. ②④      D. ③④

《促进个体工商户发展条例》完善了促进个体经济发展及保护权益的制度措施,实施首月,全国新登记个体工商户 204.03 万户,环比增长 14.9%。截至 2023 年 1 月,全国登记在册个体工商户达 1.14 亿户,约占市场主体总量三分之二,带动近 3 亿人就业和 GDP 增长。这说明我国

- ①企业经营风险降低,经济收益快速增长
  - ②减税降费措施促进了生产力的发展
  - ③营商环境改善促进了大众创业万众创新
  - ④个体经济适应了社会化大生产的要求
- A. ①②      B. ②③      C. ①④      D. ③④

2021—2022 年全国及城乡居民人均可支配收入与增速如下图:



上图可以推断出我国

- ①城乡居民收入提高,收入结构日益趋同
  - ②城乡居民的恩格尔系数下降,食品支出减少
  - ③乡村振兴稳步推进,农村居民消费潜力增大
  - ④城乡居民收入相对差距缩小,分配结构正在优化
- A. ①②      B. ①③      C. ②④      D. ③④

2023 年是共建“一带一路”倡议提出 10 周年。从 2013—2022 年,中国与“一带一路”沿线国家货物贸易额从 1.04 万亿美元扩大到 2.07 万亿美元,年均增长 8%。截至 2022 年底,中国企业在沿线国家建设的境外经贸合作区累计投资达 571.3 亿美元,为当地创造了 42.1 万个就业岗位,让近 4000 万人摆脱贫困。这表明“一带一路”建设

- ①有利于推动中国与沿线国家共同繁荣
- ②提高了利用外资的总体效益
- ③促进了生产要素的国际流动与配置
- ④推动了跨国企业劳动生产率的提高

- A. ①②      B. ①③      C. ②④      D. ③④

16. 某村打造党建服务品牌,建立“有事好商量”协商议事制度,成立老书记工作室、百姓议事庭、吃讲茶等议事平台,民主议事由“做群众工作”向“由群众做工作”转变,弘扬公序良俗,制定村规民约,成立社区法律工作室,有效解决群众的急难愁盼。这体现了该村

- ①扩大基层公民民主权利,化解分歧和凝聚共识
- ②坚持自治法治德治相结合,提升基层治理水平
- ③创新了基层自治的组织形式,巩固了基层政权
- ④搭建对话协商平台,促进基层治理共建共治共享

- A. ①②      B. ③④      C. ①③      D. ②④

17. 新疆维吾尔自治区人大常委会 2023 年工作要点确定:今年将制定自治区标准化条例、自治区地方金融监督管理条例等 14 部地方性法规,将修改自治区安全生产条例、自治区实施就业促进法办法等 8 部地方性法规。新疆维吾尔自治区人大常委会的立法

- ①规定了少数民族当家作主的权利
- ②协调了少数民族的特殊利益与国家整体利益
- ③保障了少数民族在国家政治生活中的特殊地位
- ④要依据中华人民共和国宪法、立法法和民族区域自治法

- A. ①③      B. ②③      C. ①④      D. ②④

18. 2023 年 3 月 10 日上午 9 时许,2900 多名全国人大代表按下表决器,十四届全国人大一次会议表决通过了关于国务院机构改革方案的决定,批准了这个方案。其实,国务院机构改革方案制订和落实经历了一个过程,按照程序先后排序正确的是

- ①第十四届全国人大一次会议审议通过国务院机构改革方案
- ②党的二十大对深化党和国家机构改革作出部署
- ③国务院发布关于机构设置的通知
- ④党的二十届二中全会审议通过《党和国家机构改革方案》
- ⑤全国政协十四届一次会议讨论国务院机构改革方案

- A. ②→⑤→①→④→③      B. ④→②→⑤→①→③  
C. ②→④→⑤→①→③      D. ②→④→③→⑤→①

19. 2023 年 3 月 4 日晚,《感动中国 2022 年度人物颁奖盛典》如期而至。钱七虎、邓小岚、杨宁、沈忠芳、徐淙祥、“银发知播”群体、徐梦桃、陈清泉、陆鸿、林占熺,在极不平凡的 2022 年,他们或在危难中逆行,或在逆境中坚守,以凡人之力,书写中国人的年度精神史诗,感动了国人。《感动中国》评选和颁奖活动旨在

- ①增强人的精神力量
- ②提高人民科学文化素养
- ③发挥大众传媒在文化传播中的重要作用
- ④促进人们树立正确的世界观、人生观、价值观

- A. ①②      B. ②③      C. ①④      D. ③④

20. 随着《长城、大运河、长征国家文化公园建设方案》等相继出台,国家文化公园建设在全国快速推进。这三大国家文化公园计划到 2023 年底基本完成。这

- ①是通过文化搭台,以实现经济唱戏的主要目的
- ②将推动中华优秀传统文化创



造性转化、创新性发展 ③是对某些文化产品经济价值的否定和社会价值的肯定  
④是建设文化强国、构建公共文化服务体系的积极举措

A. ①② B. ①③ C. ②④ D. ③④

21. 马克思在《关于费尔巴哈的提纲》中指出：“哲学家们只是用不同方式解释世界，而问题在于改变世界。”这表明

①改造世界的目的在于认识世界 ②实践的观点是马克思主义哲学的核心观点  
③马克思主义哲学是科学的世界观和方法论 ④马克思主义哲学是无产阶级认识和改造世界的工具

A. ①③ B. ①④ C. ②③ D. ②④

22. 北宋沈括在《梦溪笔谈》中说：“天地之变，寒暑风雨，水旱螟蝗，率皆有法。”下列选项中与此诗文蕴含的哲学寓意相同的是

①草木本无意，荣枯自有时 ②天有常道矣，地有常数矣 ③野旷天低树，江清月近人 ④问君何能尔，心远地自偏

A. ①② B. ①④ C. ②③ D. ③④

23. 2023年3月10日上午，十四届全国人大一次会议上，习近平全票当选为国家主席、中央军委主席。面向近3000名全国人大代表，习近平宣读誓词：“忠于中华人民共和国宪法，维护宪法权威，履行法定职责，忠于祖国、忠于人民……”“忠于人民”是基于

①人民群众是财富的创造者和社会变革的决定力量 ②人民群众创造历史的活动受到社会条件的制约  
③人民群众是创造历史的社会主体和真正的英雄 ④人民群众决定社会历史的性质

A. ①③ B. ①④ C. ②③ D. ②④

24. 战国时期韩非子指出：“是故乱国之俗：其学者，则称先王之道以籍仁义，盛容服而饰辩说，以疑当世之法，而贰人主之心。其言古者，为设诈称，借于外力，以成其私，而遗社稷之利。”韩非子此论

A. 反映出与道家学派的对立 B. 体现出新兴势力的价值追求  
C. 标志着儒法斗争全面升级 D. 说明变革思想得到广泛认同

25. 下图为南朝刘宋开国皇帝刘裕义熙改革的部分举措。这些措施

\* 恢复汉代推举孝廉的制度，“申明旧制，依旧策试”  
\* 重视官员的品行和能力，按照九品中正制初置时唯才是举的原则选拔人才  
\* 对将军和士兵们论功行赏，“自元帅以下至于将士，并宜论赏”

A. 旨在推动文化教育的发展 B. 促进了寒门庶族地位的上升  
C. 造成取士不问家世的局面 D. 结束了世家大族的权力垄断

26. 1283年，元朝开通海上漕运航道，发展迅速，至1309年，通过海运输入大都的粮食达到246万石。此后，海运发展过程中虽然不时有低潮出现，但整体上仍呈持续发展之势。延续至元末，岁运粮数一般持续维持在300万石以上。这

A. 反映出造船航海技术领先于世界 B. 有利于北方地区的社会稳定  
C. 说明南北之间经济差距持续扩大 D. 推动了商品经济的迅速发展

27. 清朝在少部分爵位世袭罔替的同时,创立了普通爵位降等承袭的规制。即逢子孙袭爵时,每代要递降一个等级来承袭,例如由和硕亲王递降至奉恩镇国公,多罗郡王递降至奉恩辅国公,多罗贝勒递降至不入八分镇国公等。这一规制
- A. 有利于强化君主的集权统治  
B. 意在削弱满洲贵族的政治权力  
C. 体现了因地制宜的治理艺术  
D. 大大缓解了文武官员间的矛盾
28. 下表是关于太平天国运动的部分史料。据此可知,太平天国

史料	来源
他们(太平军)占领了生丝的主要产区浙江湖州,长期以来运到上海的生丝大部分来自他们的占领区;绿茶产区杭州和安徽太平也有相同的情况。……,农作情况要比清政府统治时期好	1862年英国《中国邮报》
从宁波到五河口(应在上海附近——译注),老百姓都蓄长发,看来很满足而快乐。这一带农村都是一片繁荣景象,田里庄稼丰收在望	1863年宁波赫德商行欧籍雇员《旅行日记》
太平天国占领区的经济,无论是商业或农业部门,租税负担一般都比旧政权时要轻。太平天国的商业税不像无处不施行的厘金税那样泛滥成灾,而且显得条文比较合理,施行中的弊端也少一些	《剑桥中国晚清史》

- A. 出口贸易繁荣  
B. 经济秩序良好  
C. 对外关系融洽  
D. 生丝质优价廉
29. 1911年11月9日,湖北军政府会议审议后颁布了由宋教仁起草的《中华民国鄂州临时约法草案》,列有七章共六十条,规定了人民的权利与义务,规定了政府、议会、司法的组成与职责,基本体现了“主权在民”的精神和“三权分立”的原则。这表明湖北军政府
- A. 进行了民主共和建政的尝试  
B. 保障了武昌起义的成功进行  
C. 落实了三民主义的基本要求  
D. 开启了引进西方政体的进程
30. 五四运动后的先进分子,对马克思主义和社会主义的认识犹如“隔着纱窗看晓雾”,无法分清科学社会主义与其他社会主义流派的界限。1919年到1923年,马克思主义与实验主义、社会改良主义和无政府主义进行了三次论战,在很大程度上澄清了人们的认识。据此可知,这三次论战
- A. 结束了思想界的迷茫混乱  
B. 促进了思想认识的统一  
C. 推动了中国共产党的诞生  
D. 加速了中国人民的觉醒
31. 1980年,美国可口可乐公司进入中国,引发争论。有人说,讲起可口可乐就想起新中国成立前上海租界霓虹灯上耀眼的可口可乐广告,想到帝国主义的侵略行径,个别人甚至把可口可乐当作帝国主义的象征,对在中国人民站起来后仍让它进入中国感到闷闷不乐。上述情境,给我们的启发是
- A. 需要鼓励公平的市场竞争  
B. 改革开放必须改变旧观念  
C. 党的领导是改革开放保证  
D. 勇敢大胆地利用资本主义

32. 有学者指出,公元前4世纪的雅典城邦,大多数人秉承人文主义理念,“把国家设想为一种持续不断的经营活动,贫穷的公民群众能够借以谋得舒适生活”的结构,把城邦的财政盈余投放到以戏剧为主的娱乐活动,而不肯用于军事目的,这导致雅典人最终无法赢得与马其顿的战争。该学者意在揭示雅典
- A. 人文主义的局限性  
B. 公民活动的随意性  
C. 政府机构的软弱性  
D. 强敌环伺的危险性
33. 1541年,加尔文颁布了《教会法令》与《限制奢侈法令》,限制人们使用和佩戴奢侈品,并禁止偶像崇拜和圣物崇拜,这一政策直接让瑞士的首饰行业一蹶不振。而与此同时,新建的新教教堂却需要钟表来报时,钟表业迅速发展。这反映了宗教改革
- A. 违背了新兴资产阶级的愿望  
B. 影响了近代经济和社会生活  
C. 把人从宗教束缚中解放出来  
D. 强化了普通民众的宗教信仰
34. 有学者指出,在君主立宪制下,英国国王虽然只是虚君,但超越党派政治代表国家权威,使民众对国家的认同感可以落到实处。执政的首相只有权力,没有权威,国家一旦发生政治危机,也只是权力危机,国家的权威不会动摇。该观点意在强调英国政治体制
- A. 限制了国王权力  
B. 体现了民众意愿  
C. 维护了国家稳定  
D. 避免了公权失控
35. 美苏争霸后期,美国将竞争核心从造核弹转移到发展高科技方面。美国从开始研制火箭,到设计、发射人造卫星,虽然每一步都稍慢于苏联,但最终在“载人登月”上,美国弯道超车,从此将苏联甩在身后。这表明
- A. 美苏争夺的重点转向太空领域  
B. 冷战客观上促进美苏科技进步  
C. 美苏国家安全受到威胁  
D. 两强相争影响国际格局

## 第II卷(非选择题 共160分)

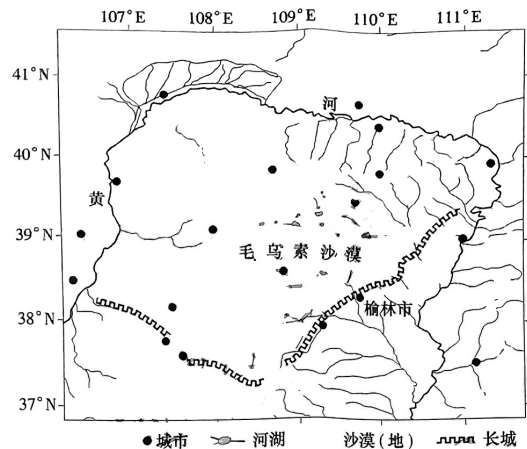
本卷包括必考题和选考题两部分,第36~42题为必考题,每个试题考生都必须作答。第43~47题为选考题,考生根据要求作答。

### (一)必考题

36. 阅读图文材料,完成下列要求。(24分)

毛乌素沙漠位于陕西省榆林市长城以北到内蒙古自治区鄂尔多斯市之间。地表第四纪沙性沉积物深厚,面积达4.22万 $\text{km}^2$ ,5世纪前这里曾是良好的牧场。榆林市地处横山与驼峰山间榆溪河两岸,历史上被称为驼城,意为沙漠之城。5世纪后在自然和人为因素综合作用下形成了我国的第四大沙漠。自1959年以来,毛乌素沙漠经过60多年的沙漠治理工程,毛乌素沙漠即将消失成为沙地。下图示意毛乌素沙漠位置。





1)分析5世纪前毛乌素地区牧场良好的自然原因。(6分)

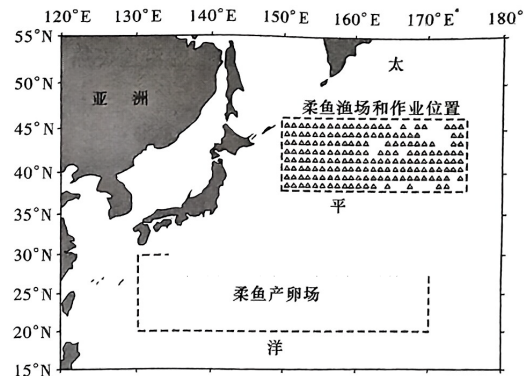
2)说明在5世纪后毛乌素沙漠的历史形成过程。(6分)

3)推测陕西省榆林市历史上被称为驼城的主要原因。(6分)

(4)自1959年以来,毛乌素沙漠经过60年的沙漠治理工程,毛乌素沙漠即将消失成为沙地。简述自1959年以来我国在毛乌素沙漠治理过程中可能采取的措施。(6分)

阅读图文材料,完成下列要求。(22分)

柔鱼是海洋渔业资源的重要组成部分,集中分布于西北太平洋热带和温带暖水浅海及其周边海域,常成群游弋于20米的海洋中,以磷虾、沙丁鱼、银汉鱼、小公鱼等为食。柔鱼的洄游与日本暖流、千岛寒流的流动关系密切,冬生和春生的柔鱼卵及其幼群体早期生活在35°N以南的海区,在该海区生长到稚鱼阶段后向北游,10~11月后,柔鱼到达性成熟高峰期,并随着寒流的扩展向南洄游。下图示意西北太平洋海域中国柔鱼渔船作业位置以及柔鱼冬春生群体渔场和产卵场分布。



(1)指出图中海域柔鱼渔场形成的有利自然条件。(6分)

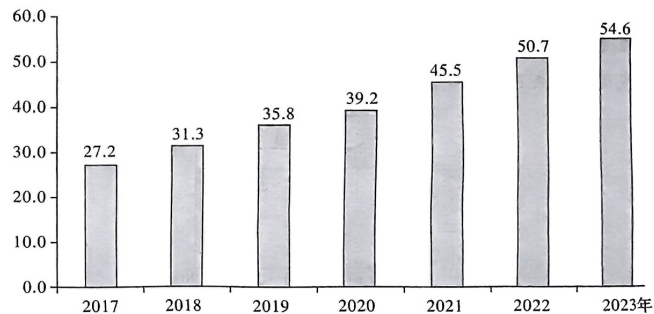
(2)推测图中海域柔鱼产卵场位置偏南的可能原因。(6分)

(3)判断西北太平洋中国柔鱼渔船捕捞的最佳季节,并说明理由。(6分)

(4)简述西北太平洋柔鱼选择每年10~11月后开始向南洄游的原因。(4分)

38. 阅读材料,完成下列要求。(14分)

2017—2023年我国数字经济发展规模(单位:万亿元;2022、2023年为预测数据)



注:2017—2021年,我国数字经济占GDP的比重分别为32.7%、34%、36.3%、38.6%、39.8%,2021年德国、英国和美国的数字经济占比GDP前三名比例均超过65%。

2023年2月,中共中央、国务院印发了《数字中国建设整体布局规划》。该规划要求支持数字企业发展壮大,推动数字技术和实体经济深度融合,引导金融资源支持数字化发展。A公司是一家生产、研发、销售特种温控设备的中型企业,虽然坐落在新规划的数字产业集群区域,但对企业数字化转型仍然在观望,担心数字化转型前期投入高,资金缺乏,数字化技术方面的人才不足。我国数字经济发展规模图(含注)反映了什么经济信息?请你运用经济生活知识,结合材料为A公司的发展提出合理化建议。

39. 阅读材料,完成下列要求。(12分)

2021年9月,为破解发展难题,习近平主席在联合国大会首次提出全球发展倡议;2022年4月,面对国际安全局势持续复杂变化,习近平主席在博鳌亚洲论坛首次提出全球安全倡议。这两大倡议一经提出就受到国际社会广泛欢迎:目前,已有100多个国家和国际组织支持全球发展倡议,近70个国家加入“全球发展倡议之友小组”;已有80多个国家和地区组织表示赞赏支持全球安全倡议,2023年3月10日,中国、沙特、伊朗三方签署并发表联合声明,宣布沙伊双方同意恢复外交关系,更是成为践行全球安全倡议的一次成功实践。

2023年3月15日,在中国共产党与世界政党高层对话会上,习近平总书记向世界首次提出全球文明倡议,倡议尊重世界文明多样性、弘扬全人类共同价值、重视文明传承和创新、加强国际人文交流合作。为推动文明交流互鉴、促进人类文明进步提供中国方案,得到与会外国政党领导人的积极支持和响应。

结合材料,运用所学当代国际社会知识,说明习近平主席提出全球发展倡议、安全倡议、文明倡议的依据。

40. 阅读材料,完成下列要求。(26分)

中国共产党早期,毛泽东用大量时间深入工人、农民、红军战士中进行调查,写出的《中国社会各阶级的分析》《湖南农民运动考察报告》等,影响深远。

新时代,调查研究仍然是共产党人做好工作的基本功。以党的二十大报告诞生为例,3万余字的二十大报告是深入调查研究的结果。二十大报告起草之初,按照党中央部署,54个单位承担重点课题调研任务,围绕26个专题开展调研,形成80份调研报告,共计132.7万字。在三个月连续深入调研中,64个课题组到各省区市实地调研179批次;25个课题组对465个单位进行书面调研;10个课题组委托252个单位进行专题调研。各课题组共召开1501场座谈会、18场视频座谈会,参会19022人次,还开展网络征求意见活动。习近平总书记先后在成都、沈阳、北



京主持召开五场党的二十大报告起草征求意见座谈会,听取修改意见和建议。

2023年3月,中共中央办公厅印发了《关于在全党大兴调查研究的工作方案》。某大学组织学生党员到基层调查时发现:某矿曾见证新中国有色金属工业70载辉煌,因资源枯竭而闲置,近年认定为国家工业遗产后,市政府准备把矿区(包括厂房)规划为影视基地,成为旅游和影视、工业文化教育实践应用场景,使国家级工业遗迹在利用中得到保护和传承。但因资金问题,建设尚未启动。

(1)结合材料并运用认识论原理,分析在全党大兴调查研究的原因。(12分)

(2)结合材料并运用文化生活知识,说明对工业遗产进行保护利用的重要意义。(10分)

(3)就“全党大兴调查研究”写两条宣传标语。要求:紧扣主题,朗朗上口,每条在20个字以内。(4分)

41. 阅读材料,完成下列要求。(25分)

材料一 中国古代的乡里组织,是王朝国家权力向基层社会的延伸,以达到直接或间接控制基层社会的目的,是“下县的皇权”。广泛存在于基层社会的宗族组织(族权)与地方势力(绅权),以及各类民间社会组织,填补了传统国家因受政治资源限制而留下的权力空白,在构建地方秩序方面发挥着重要作用。在乡村社会权力网络实际运作中,政权、族权、绅权相互联结、互相交融、彼此配合,使得中国古代社会具有不断自我修复、自我完善的机制,国家治理体系更加稳固而难以瓦解。

来源:高三答案公众号——摘编自杨国安《古代基层社会如何治理》

材料二 民国时期县下设区进行管理,区逐渐成为县下常设的政区,区不设置的类型不一的组织则类似于以前的保甲管理制度。乡族与近代社团等社会力量并存,华南地区的农民协会、上海的工会以及各地的商会(团)、城镇的自治会(社),使多数人参与协调和解决纠纷、矛盾和冲突,在基层社会治理中发挥了重要作用。民国时期各种类型的法律更加细化,基层社会治理方面也开始出现配套的法律。

——摘编自温建钦《近代基层社会治理出现转型》

材料三 新中国成立后至改革开放前,在基层治理上继承了传统中国自上而下的行政和自下而上的自治相结合的“双轨政治”,并创造出群众路线,形成全新的现代治理经验。群众路线既是全新的治理理念与方法,又是对治理传统的继承,既是群众工作方法,又要在行政体系内实践,是基层治理全过程民主的具体体现。通过发

动群众,新中国实现了比传统社会更高的动员组织程度,依靠农村自身资源完成了现代农村建设,如沿用至今的完善的水利体系、简易公路交通系统等,并推进一系列乡村公益事业,如扫盲运动、学校教育、卫生运动等。

——摘编自吕德文《中西基层治理有何差异?》

(1)根据材料一并结合所学知识,概括中国古代基层社会治理的特点。(8分)

(2)根据材料一、二并结合所学知识,指出与中国古代相比,民国时期基层治理的不同之处,并分析其原因。(10分)

(3)根据材料三并结合所学知识,简析新中国成立后至改革开放前基层治理的历史经验。(7分)

42. 阅读材料,完成下列要求。(12分)

材料 解读史料,获得历史认识,探寻史料表象背后的意蕴,是历史学的魅力所在。下表是美国电影中英雄形象的嬗变。

时间	代表形象	特征
19世纪	西部牛仔	头戴宽檐帽,身穿牛仔裤,腰插双枪;他们富于正义感,“枪法超群,骑术精湛,以除暴安良的侠举和独来独往的个人英雄主义精神奠定着一种‘社会秩序与个人自由相并存’的美国式神话”
1939年	超人	具有强大的社会责任感,除恶惩奸,并拥有所有人梦寐以求的超能力。超人身上集聚了所有伟大战士的优点,充当着人类的超级警察和救世主
20世纪中期	战争英雄	宛如一面旗帜,激励、引领着人民谱写民族精神、爱国主义和英雄主义的赞歌
20世纪末以来	普通人的英雄主义	英雄与凡人一样,有高尚的一面也有平凡的一面。其“高尚的英雄品质令人肃然起敬”,而平凡的一面乃至缺点和弱点又使人倍感亲切

——摘编自强云、许俊农《美国电影中“反英雄”形象的解构与重构》

阐述从上述材料中发现的历史现象,并得出一个结论。(要求:现象源自材料,结论明确,史论结合,表述清晰)

(二)选考题(请考生从2道地理选考题、3道历史选考题中每科任选一题作答。如果多做,则每学科按所做的第一题计分。)

43. [地理——选修3:旅游地理]阅读材料,回答问题。(10分)

生态旅游资源是指能满足旅游者求知、鉴赏、体验、提高环境保护意识,具有生态化物质的自然旅游资源 and 人文旅游资源,是从生态旅游的新视角去认识旅游资源而形成的一种新类型。我国生态旅游资源的认识、研究、规划和开发起步于二十世纪初,缺乏统一的开发机制,规模化投入较少,发展速度较慢,良莠不齐,景点小而单调,缺乏特色,多为个体自主经营,生态环境问题突出等。

说明我国生态旅游资源开发利用中存在的问题及对策。

44. [地理——选修6:环境保护]阅读材料,回答问题。(10分)

土地是绿色生命的伟大母亲,是支撑我们食物来源的重要母质。为保护好我们现有的土地资源,全国人大代表、西北大学城市与环境学院教授朱晓丽,在2023年全国两会上接受采访时表示:“农田土壤修复不只是治理污染,还要在治理后提升土壤的生产能力,让它成为老百姓的‘饭碗田’。”

简述我国农田土壤污染治理修复的重要性,并对治理后提升土壤生产能力提出合理建议。

45. [历史——选修1:历史上重大改革回眸]阅读材料,完成下列要求。(15分)

材料 汉文帝时,鉴于当时继续沿用黥、劓、斩左趾等肉刑,不利于政权的稳固,开始考虑改革肉刑。文帝开始刑罚改革的直接起因是在文帝十三年,齐太仓令获罪当施黥刑,其小女缇萦上书请求将自己没官为奴,替父赎罪,并指出肉刑制度断绝犯人自新之路的严重问题。文帝为之所动,下令废除肉刑。把黥刑(墨刑)改为髡、钳、城、旦、舂(去发颈部系铁圈服苦役五年);劓刑改为笞三百;斩左趾(砍左脚)改为笞五百。景帝继位后,在文帝基础上对肉刑制度作进一步改革。他主持重定律令,将文帝时劓刑笞三百,改为笞二百;斩左趾笞五百,改为笞三百。景帝又颁布《垂(音)令》,规定笞杖尺寸,以竹板制成,削平竹节,以及行刑不得换人等,使得刑制改革向前迈了一大步。

——摘编自武树臣《中国传统法律文化》

(1)根据材料并结合所学知识,指出文景时期废除肉刑、减轻刑罚的背景。(7分)

(2)根据材料并结合所学知识,简评文景时期废除肉刑、减轻刑罚的相关措施。(8分)

46. [历史——选修3:20世纪的战争与和平]阅读材料,完成下列要求。(15分)

材料 对印度的精英群体而言,一战是一个巨大的机遇。印度的精英们希望由于印度人为战争作出巨大牺牲,“战后英国会让印度自治”。甘地当时就宣称:“为祖国和大英帝国,故愿意效力。”国大党把支持英国战争同印度自治相提并论。当时的印度总督说,一战爆发后印度人已经“不为殖民政府添麻烦”。一战期间在欧洲参战的印军上尉阿玛·辛格在日记中写道,参战对他来说不仅是责任,也是宣示其个人的荣誉和民族感。他认为,由于印度的参战,印度的地位在战后相应地会得到提高。

尽管印度人为一战付出了巨大的牺牲,战争结束后,英国不仅没有让印度自治,反而变本加厉。在1919年3月通过“罗拉特法案”,对印度实行高压和残杀政策。一战后的印度人为此失望,以致他们不再同英国统治者合作,转而走向非暴力不合作运动。印度国大党一战后成为英帝国的死敌,开始为印度独立而奋斗。甘地在一战后成为印度独立运动的领袖。他在一战结束后意识到,英国对印度的殖民统治是不可名状的“不道德,不公正和自高自大。它用一个谎言来代替另一个谎言,用暴力执政。如果人民对此宽容而不抗争,我们将永远不会进步”。

——摘编自徐国琦《第一次世界大战与亚洲“共有的历史”》

(1)根据材料和所学知识,指出一战时期印度精英阶层是如何看待战争的,并分析原因。(7分)

(2)根据材料和所学知识,指出一战后英国对印度的殖民政策,并说明第一次世界大战对印度民族解放运动的影响。(8分)

47. [历史——选修4:中外历史人物评说]阅读材料,完成下列要求。(15分)

材料 徐达(1332—1385),明朝开国军事统帅。元末参加了朱元璋领导的起义军,先后大败陈友谅、消灭张士诚地方割据势力。1367年任征虜大将军,与副将军常遇春一起挥师北伐中原,次年攻入大都,推翻了元朝的统治,后又连年出兵打击元朝残余势力。官至右丞相,封魏国公。他为人谨慎,善于治军,戎马一生,建立了不朽的功勋,为明朝开国第一功臣,死后大明帝国开国皇帝明太祖朱元璋追封其为中山王。徐达一生骁勇有谋,战功及筑边皆功劳显赫,被朱元璋誉为“万里长城”。他话语较少而思虑精深,在军中,军令一旦发出便不改变。各位将领遵奉其令都凛然畏惧,而在太祖面前则恭敬谨慎像不敢讲话一样。善于安抚将士,与下级同甘共苦,将士无不感激他的恩德愿意报效尽力,因此,兵锋所向无不克敌制胜。他更能严格约束部队,所攻克的大都会、省会、府城县城等,均市井安然,百姓不受战乱之苦。

——摘编自陈梧桐《明朝第一开国功臣徐达》

(1)根据材料并结合所学知识,概括徐达的主要功绩。(8分)

(2)根据材料并结合所学知识,简析徐达能够建功立业的原因。(7分)