

# 2023届南宁市第二中学考前模拟大演练

## 文科综合

考试时间：150分钟

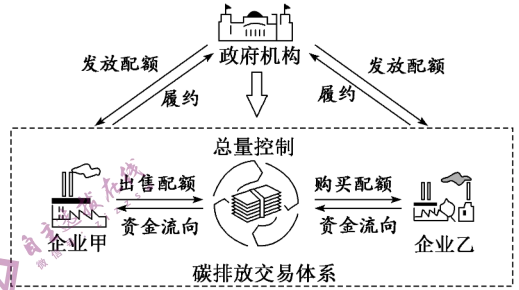
注意事项：

1. 本试卷分第 I 卷（选择题）和第 II 卷（非选择题）两部分。答题前，考生务必将自己的姓名、考生号填写在答题卡上。
2. 回答第 I 卷时，每小题选出答案后，用铅笔把答题卡上对应题目的答案标号涂黑，如需改动，用橡皮擦干净后，将答案涂在答题卡上，写在试卷上无效。
3. 回答第 II 卷时，将答案写在答题卡上，写在试卷上无效。
4. 考试结束，将答题卡交回。

### 第 I 卷

本卷共 35 小题。每小题 4 分，共 140 分。在每个小题给出的四个选项中，只有一项是符合题目要求的。

碳排放权交易指把二氧化碳排放权视为商品，企业间通过市场手段进行排放交换，从而达到控制排放总量的目的。我国《碳排放权交易管理办法（试行）》于 2021 年 2 月 1 日起实施。图为碳排放交易原理示意图。读图 1，回答下列小题。



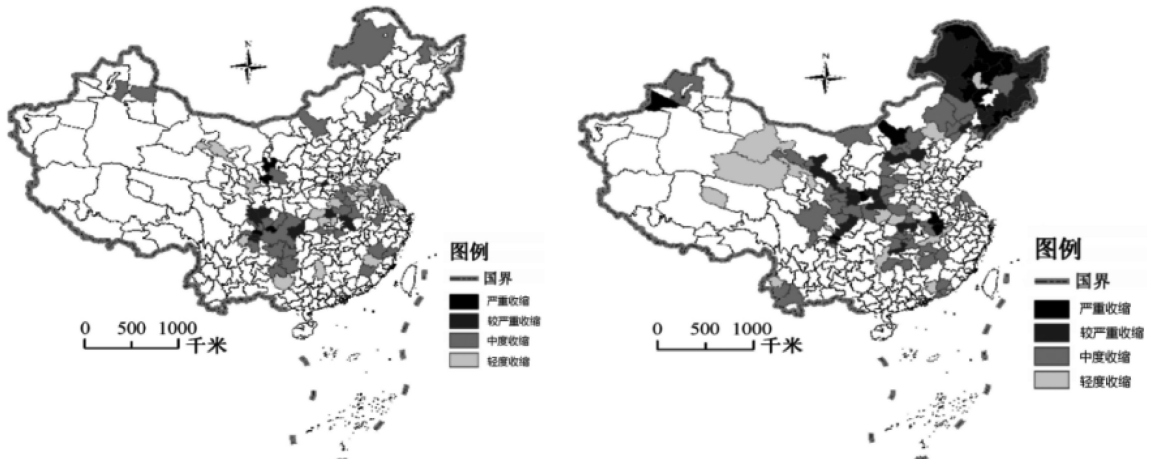
1. 若图中甲、乙两企业均为钢铁厂，且获得等量碳排放配额，以下推断最可能正确的是（ ）

- A. 企业甲能源使用效率高
- B. 企业乙占地面积更小
- C. 企业甲碳排放总量更大
- D. 企业乙交通运输量更少

2. 该办法的实施可促进我国（ ）

- A. 轻工业企业生产规模下降
- B. 高科技企业空间集聚增强
- C. 重工业技术研发投入增加
- D. 企业之间的生产联系减弱

人口流失是城市收缩的重要体现，也是识别城市收缩的重要标准。因人口流失，收缩型城市内部人口年龄结构呈“倒三角”型，不利于人口与经济的长期发展。“六普”、“七普”期间我国城市人口收缩程度如图 2 所示。



(a) “六普”城市人口收缩程度分布图

图 2

(b) “七普”城市人口收缩程度分布图

3. 与“六普”相比，下列有关“七普”期间城市收缩趋势的叙述正确的是（ ）

- A. 严重收缩城市的分布呈现出集中趋势
- B. 严重收缩和较严重收缩的城市数量减少
- C. 收缩的重点城市主要分布在安徽、甘肃、内蒙古
- D. 收缩型城市的分布重心向东北移动

4. “六普”到“七普”期间，收缩城市人口问题对当地造成的影响是（ ）

- A. 经济增长速度加快
- B. 人口合理容量增加
- C. 抚养比进一步增大
- D. 城市化水平升高

5. 应对城市收缩带来的问题，可采取的措施有（ ）

- ①立足当地特色资源，实现产业转型升级
- ②闲置土地投放市场，加大公共服务投入
- ③完善社会保障制度，改进养老服务体系
- ④区域性都市圈拉动，加大区域发展差异

- A. ②③
- B. ①④
- C. ②④
- D. ①③

积雪是具有低热导率、高反照率和在相态转换中伴随大量潜热变化的特殊物质，其具有显著的保温作用。全球气候变化与积雪厚度是影响阿尔泰山的冻土厚度的主要因素，研究人员基于阿尔泰山南坡库威积雪站 2011-2018 年的积雪和冻土观测数据，评估了阿尔泰山南坡积雪对季节冻土的影响。读该地积雪表层—底层温差与积雪深度的关系图（图 3），回答下列各题：

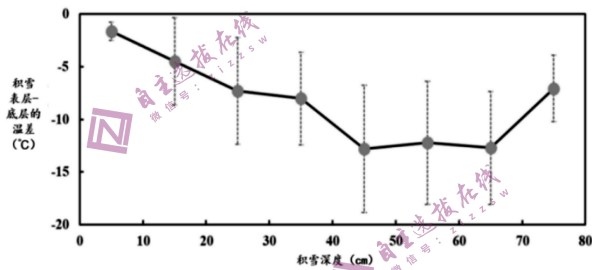


图3 积雪表层—底层温差与积雪深度的关系图

6. 研究表明，近五十年来阿尔泰山南坡冻土厚度呈现退化趋势，其主要原因可能是（ ）

- A. 气温升高
- B. 年降水量减少
- C. 风速增大
- D. 植被覆盖增加

7. 根据材料判断下列说法正确的是（ ）

- ①积雪的保温效果随深度先增后减的变化趋势
- ②积雪的深度介于 70 ~ 80 cm 保温效果最显著
- ③积雪表层与底层的温差表明积雪起到了提高地表温度的作用
- ④积雪表层与底层的温差表明积雪起到了降低地表温度的作用

- A. ①②
- B. ①③
- C. ①④
- D. ②④

8. 关于积雪隔热保温作用，下列说法正确的是（ ）

- A. 积雪的深度较小时反照率越高，不利于土壤冻结
- B. 积雪的深度较小时热绝缘作用弱，有利于土壤冻结
- C. 积雪的深度越大反照率越高，不利于土壤冻结
- D. 积雪的深度越大热绝缘作用越强，有利于土壤冻结

在气候暖湿化背景下，青藏高原的湖泊总体呈快速扩张趋势，部分湖泊发生水系重组（邻近湖泊因湖水溢出而形成上下游汇流关系）。图 4 左图示意青藏高原某内流区重组后的水系，右图示意该内流区水系重组前后甲、乙、丙湖的湖泊水位变化（与 2000 年的水位差）。据此完成下面小题。

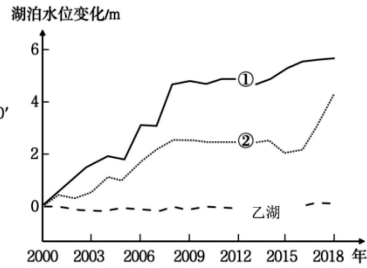
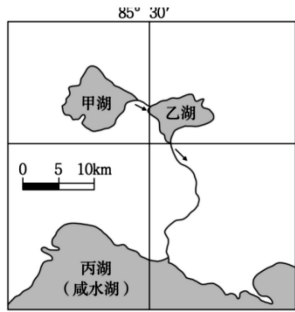


图4

9.根据上图的信息，下列判断正确的是（ ）

- A. ①是甲湖的水位变化，发生水系重组在 2017 年
- B. ②是甲湖的水位变化，发生水系重组在 2017 年
- C. ①是丙湖的水位变化，发生水系重组在 2012 年
- D. ②是丙湖的水位变化，发生水系重组在 2012 年

10.关于水系重组前后甲乙丙三湖的说法，正确的是（ ）

- A. 重组前甲湖湖水汇入乙湖
- B. 重组前乙湖湖水汇入丙湖
- C. 重组后甲湖流域面积扩大
- D. 重组后乙湖湖盆容积缩小

11.随着气候暖湿化，该区域湖泊盐度明显降低的是（ ）

- A. 甲湖、丙湖
- B. 甲湖、乙湖
- C. 乙湖、丙湖
- D. 甲湖、乙湖、丙湖

12.2023年中央一号文件强调要深入实施种业振兴行动，做优种子“芯片”。彩色油菜是我国培育研发的一种装了“中国芯”的新油菜品种，它不仅花期长，有观赏价值，还可以做成化妆品、饼干、芽苗菜、盆栽花、柳油等，从而给“花经济”带来了更多收益。这表明（ ）

- ①种子“芯片”的价值在农作物种植过程中形成并实现
  - ②种子“芯片”可提高农产品的使用价值和市场竞争力
  - ③种子“芯片”通过提高农产品价值量而获得更多收益
  - ④种子“芯片”提升农产品的功效而使其价值更易实现
- A. ①②
  - B. ①③
  - C. ②④
  - D. ③④

13.“千呼万唤始出来”，在政府和企业养老之外，个人养老金制度终于出炉。个人养老金又被称为养老第三支柱，与基本养老保险、企业（职业）年金共同组成我国养老保障体系的“三大支柱”。2022年4月21日，国务院办公厅发布《关于推动个人养老金发展的意见》（如图5）。以下关于个人养老金制度落地的影响路径，推导合理的是（ ）



**个人养老金制度**

个人养老金是属于政府政策支持、个人自愿参加、市场化运营的补充养老保险制度；个人养老金实行个人账户制度，缴费完全由参加人个人承担，实行完全积累，不得提前支取；

个人养老金资金账户资金用于购买符合规定的银行理财、储蓄存款、商业养老保险、公募基金等金融产品，参加人可自主选择。

图5

- A. 拓宽养老渠道→健全再分配调节机制→满足人民多层次多样化养老保险需求
- B. 引导居民稳健投资→实现养老金保值增值→提升人民群众的幸福感和安全感
- C. 帮助个人理性规划养老资金→增加转移性收入→让老年生活更有保障和质量
- D. 补齐养老保险短板→优化养老保险结构→健全多层次多支柱的社会保障体系

- 14.某村依托乡村种植业与非集体资本合作，进行混合所有制改革，以土地、厂房等集体资产入股占比55%，引进某智农实业有限公司，以技术、人才入股占比45%，有效破解了当前农村基层组织缺乏收入、治理能力弱、农民增收慢等问题，使新农村建设焕发出勃勃生机。对此解读正确的是（ ）
- ①土地等生产要素入股，促进了新型农村集体经济发展  
②完善农村生产关系，为非公有制经济发展注入新动能  
③流转集体土地的所有权，充分发挥适度规模经营优势  
④“混改”集聚农村优势资源要素，创新了农村经营方式
- A. ①②                      B. ①④                      C. ②③                      D. ③④
- 15.全域经营是以消费者为中心，以用户数字化为抓手，以智能化和智慧化运营为手段的一种全新经营模式，其目的是构建一个品牌自有、线上线下一体化、全渠道公域私域联通、数字化可控的全域阵地。全域经营产生的积极影响是（ ）
- ①改变了企业经营目的，增强持续发展动力    ②实现精细化运营，为企业发展提供新思路  
③改进消费体验，更好地满足消费者的需求    ④优化企业组织结构，提高企业的盈利能力
- A. ①③                      B. ①④                      C. ②③                      D. ②④
- 16.2022年10月30日，全国人大常委会表决通过黄河保护法，明确规定黄河流域生态保护和高质量发展，要坚持中国共产党的领导，贯彻生态优先、绿色发展，量水而行、节水为重，因地制宜、分类施策，统筹谋划、协同推进的原则。这反映出（ ）
- ①制定法律是为了把党的主张上升为国家意志  
②我国用法治的力量推动黄河流域的生态保护  
③中国共产党是推进黄河保护的组织和执行者  
④全国人大常委会行使立法权让黄河保护有法可依
- A. ①③                      B. ①④                      C. ②③                      D. ②④
- 17.2023年两会期间，环境资源界别首次亮相全国政协大会，这是全国政协自1993年增设经济界别以来，首次增加新的界别。这将为新一届全国政协注入新的动力，凝聚新的力量，为推进生态文明建设、实现中国式现代化贡献智慧。环境资源界别的设立（ ）
- ①凝聚专业人士之智，助力美丽中国建设    ②开辟多党合作的新路径，践行协商民主  
③彰显中国制度的优越性，推动民生改善    ④扩展政协委员履职方式，提升议政效率
- A. ①②                      B. ①③                      C. ②④                      D. ③④
- 18.2023年3月10日，在中国的倡议和斡旋下，沙伊两国达成北京协议，中沙伊三方签署并发表联合声明宣布沙伊双方同意恢复外交关系，开展各领域合作。该协议对促进地区稳定繁荣，推动世界和平具有重要意义。这表明我国（ ）
- ①以共同利益为对外活动出发点开展国际合作，凝聚共识  
②顺应时代发展趋势，助力中东地区实现和平稳定与安全  
③坚持独立自主和平外交政策，倡导多边主义与合作共赢  
④是国际热点地区安全稳定的促进者、发展繁荣的主导者
- A. ①②                      B. ①④                      C. ②③                      D. ③④
- 19.根据真实历史改编的谍战主题原创音乐剧《速记员》，以现代的视角和年轻态的音乐审美去解读“甘当无名英雄，生死置之度外”的革命精神，首轮商业演出即斩获上座率高达85%的傲人战绩，被称为“2022年度最好听的音乐剧”“年轻人心中最爱的红剧”。这启示我们（ ）
- ①学会“讲故事”，让主旋律文艺作品“叫好又叫座”  
②大力发展文化产业，以保障人民群众基本文化权益

- ③文艺创作必须紧跟时代发展步伐，坚持与时俱进
- ④优秀文艺作品要弘扬科学精神，提高国民文化素养

A. ①②                      B. ①③                      C. ②④                      D. ③④

20.2023年清明节前夕，第82集团军某旅来到华北军区革命烈士陵园，缅怀革命英烈。官兵们纷纷表示要追寻先辈足迹，为祖国国防事业奉献青春和热血。这一活动（ ）

- ①有利于把爱国主义精神融入工作实践    ②有利于推动爱国主义由抽象转为具体
- ③表明了中华文化薪火相传、源远流长    ④有利于激发人们砥砺前行的精神力量

A. ②③                      B. ①④                      C. ①③                      D. ②④

21.为了维护河湖健康生命，建设人水和谐共生的美丽中国，云南省依托物联网、人工智能、大数据等技术打造“智慧水利”大数据建设平台，为九大高原湖泊配备200个“电子湖长”，进行全天候在岗实时监督，与各河湖管理单位监控数据共享，并通过“全景+固定”、智能图像识别等技术，构建全天候信息采集自动化、传输网络化、分析智能化的视频监控体系，实现“治水”变成“智水”和河湖智慧化管理。该省实现河湖智慧化管理佐证了（ ）

- ①正确发挥主观能动性就能消除客观条件的制约
- ②把握事物联系的多样性有利于价值的创造性实现
- ③事物联系的多样性决定于人类实践活动的多样性
- ④成功的实践基于对事物的本质和规律的把握

A. ②④                      B. ①③                      C. ①②                      D. ③④

22.2022年12月，中共中央、国务院印发的《扩大内需战略规划纲要（2022-2035年）》指出，我国扩大内需机遇和挑战都有新的发展变化，总体上机遇大于挑战。必须牢牢把握扩大内需这个战略基点，充分发挥内需拉动作用，推动我国经济平稳健康可持续发展。材料反映的辩证法道理有（ ）

- ①坚持两点论和重点论相结合的方法                      ②坚持一切从实际出发、实事求是
- ③主次矛盾、矛盾的主次方面是辩证统一的                      ④矛盾同一性和斗争性相互联结又相互分离

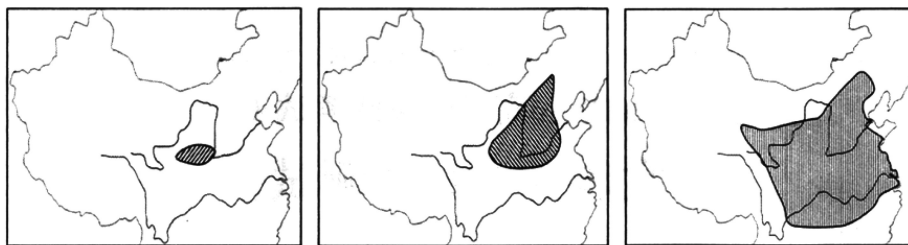
A. ①②                      B. ①③                      C. ②④                      D. ③④

23.自四家村镇银行事件爆发后，农村金融机构改革、重组话题热度增加。中共中央、国务院印发《关于做好2023年全面推进乡村振兴重点工作的意见》，其中提及加快农村信用社改革化险，推动村镇银行结构性重组。该措施的依据是（ ）

- ①社会发展总是在社会基本矛盾的解决中实现的
- ②源于社会存在的社会意识能够推动事物的发展
- ③改革是推动我国社会主义社会发展的强大动力
- ④对上层建筑的调整能够促进社会生产力的发展

A. ①③                      B. ①④                      C. ②③                      D. ②④

24.下图是先秦不同时期文献记载的大禹治水区域范围变化情况。据图6可知，先秦时期（ ）



《诗经·大雅》(西周)                      《墨子·兼爱》(战国初期)                      《孟子·滕文公》(战国中期)

图6

- A. 大禹治水的传说不断丰富  
B. 华夏文明的影响不断扩大  
C. 国家统一的趋势已经出现  
D. 儒墨两家的思想趋于融合
25. 西汉初年“大侯不过万户，上者五六百家”。到文景时代，“流民既归，户口亦息，列侯大者至三四万户，小国自倍，富厚如之。”这一现象说明西汉初期（ ）  
A. 经济政策适应了现实需要  
B. 人地矛盾开始出现  
C. 大一统思想促进社会稳定  
D. 中央集权面临挑战
26. 虽然唐代文人可以通过科举、门荫、军功等多种方式为官，但只有科举成为文人为官的最体面方式，且愈来愈受到社会的重视。这实质上反映出唐代（ ）  
A. 地方割据势力走向没落  
B. 士族势力难以影响国家政治  
C. 专制主义中央集权加强  
D. 文人社会地位逐渐超过武将
27. 下图为明代典籍中所载的《收割图》。图7可以用来说明当时（ ）




图7

- A. 个体农户的劳作状态  
B. 精耕细作农业的发展  
C. 租佃经济的生产情形  
D. 地主田庄的收获场景
28. 1873年7月，李鸿章委托唐廷枢为轮船招商局重订“局规”。“局规”规定：股票及取息手折均需编号，填写持股者姓名籍贯，“以杜洋人借名”；股东出让股票，必须到局注册，“不准让与洋人”。项规定（ ）  
A. 有利于招商局的独立性  
B. 体现了实业救国的特点  
C. 解决了军事企业的困难  
D. 阻止了列强的经济侵略
29. 1921年，中国共产党的第一个决议规定党的基本任务是组织产业工会，提出要在一切工业部门成立工人补习学校，并且“一切书籍、日报、标语和传单的出版工作，均应受中央执行委员会或临时执行委员会的监督”。中共的上述举措意在（ ）  
A. 建立革命统一战线  
B. 提高工人教育程度  
C. 提高党组织战斗力  
D. 完善党的组织机构
30. 1941年陕甘宁边区进行了第二次普选，此次普选参选率是80%，某些县则达到了95%。参与选举的不仅有贫农、中农，还有工人、地主、富农、商人等。这说明（ ）  
A. 中国革命借鉴了俄国革命经验  
B. 边区政权建设服务于现实战争需要  
C. 边区政权性质是工农民主政权  
D. 根据地农民土改后在政治上翻了身
31. 1980年，政府工作报告指出：“1979年，全国在城镇安置了903万人就业，开始提升40%职工的工资级别，调整了部分地区的工资类别，发给了职工副食品价格补贴，企业普遍实行了奖励制

度。”报告所述情况主要得益于（ ）

- A. 经济政策适时调整
- B. 城市改革普遍展开
- C. 乡镇企业广泛建立
- D. 市场经济逐步推行

32. 公元前6世纪末以来，罗马平民比过去拥有了较多的发言空间，一个新的呼声也就跟着出现——让拥有少量财产的人也享有法律上的地位。而这一诉求最终将古罗马社会送入一个新的时代。这里的“新”突出表现为（ ）

- A. 罗马成文法基础奠定
- B. 公民权限制有所放宽
- C. 平民取得立法主导权
- D. 财产等级制全面推行

33. 图8是威尼斯画派的集大成者提香在1515年创作的油画《莎乐美》。莎乐美形象出自《圣经·新约》，提香笔下的莎乐美丰腴、洁白、清纯而又无辜，从左下角的仆人痴痴地凝望莎乐美的眼神中能感觉到莎乐美身上散发的魅力。这一作品反映了（ ）



图8

- A. 浪漫主义的兴起
- B. 人文主义的审美
- C. 宗教改革的开始
- D. 理性主义的滥觞

34. 尽管法国主流文化不认可巴黎公社时代社会主义，但是对巴黎公社还是有很多正面的评价。他们痛恨第二帝国在1870年秋天的失败与新政府的妥协，为自己的国家有这样的理想斗士而自豪。据此判断，法国人正面评价巴黎公社是因为（ ）

- A. 其对民主政治的推动
- B. 其对国际工运的支持
- C. 其改造旧世界的理想
- D. 其表现出的民族精神

35. 如表是1991—1996年世界部分地区吸收外国直接投资额的变化表（单位：亿美元）。据此判断正确的是（ ）

| 时间地区      | 1991年 | 1992年 | 1993年 | 1994年 | 1995年 | 1996年 |
|-----------|-------|-------|-------|-------|-------|-------|
| 东亚及太平洋地区  | 102   | 127   | 209   | 381   | 441   | 518   |
| 南亚        | 5     | 5     | 6     | 8     | 12    | 18    |
| 欧洲及中亚     | 21    | 22    | 63    | 84    | 81    | 172   |
| 拉美及加勒比海地区 | 81    | 125   | 127   | 141   | 242   | 229   |
| 南部非洲      | 9     | 16    | 8     | 16    | 31    | 22    |

- A. 经济全球化趋势加强
- B. 区域经济集团化水平提升
- C. 发达国家间竞争激烈
- D. 世界经济重心实现了转移

## 第II卷

本卷包括必考题和选考题两部分，共160分。第36题—42题为必考题，每个试题考生都必须作答。第43—47题为选考题，考生根据需求作答。

36. 阅读材料，完成下列题目。(22分)

材料一 大都市规模庞大、经济发达、具有强大辐射带动功能，是城镇化发展到高级阶段的城镇空间组织形式。上海大都市的发展目标是建成具有全球影响力的科技创新中心和国际经济、金融、贸易、航运中心。

材料二 1843年，上海正式对外开港，随着社会经济的发展，其主港区不断变化。图9为“上海港空间’演变示意图”

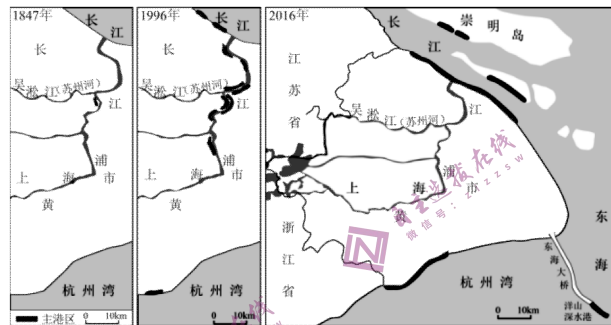


图9

- (1) 简述上海港主港区位置变化特点。(6分)
- (2) 分析上海港主港区位置变化的原因。(8分)
- (3) 说明上海港发展对上海成为大都市的促进作用。(8分)

37. 阅读材料，完成下列题目(24分)

我国三沙市西沙群岛永乐环礁的永乐龙洞是世界已知最深的海洋蓝洞，该蓝洞发育在碳酸盐岩台地之上，且台地内部受重力失衡多有裂缝，在地下水溶蚀作用下形成地下洞穴。后由海平面上升海水涌入，形成的巨大海洋“深洞”永乐龙洞形态呈上中下三段式结构，上段：洞口以下16米深是由珊瑚礁组成的斜坡；中段：16—158米深段是由石灰岩构成的近似竖直的宽阔洞体，在斜坡处发现滑塌沉积物；下段：158米至洞底是由石灰岩构成的向下倾斜收窄的洞体。图10永乐龙洞剖面示意图(左)与永乐龙洞发育初期示意图(右)。

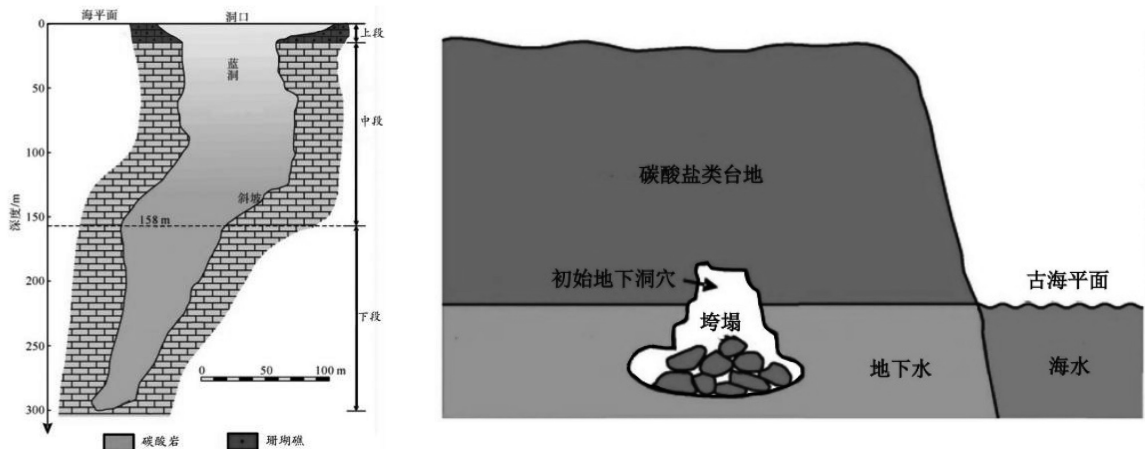


图10



- (1) 简述永乐龙洞上段珊瑚礁发育的有利条件(4分)
- (2) 指出右图中地下洞穴形成的是永乐龙洞的哪一段,并说明判断理由(8分)
- (3) 分析永乐龙洞下段洞体形成的地质作用过程(6分)
- (4) 海洋学家认为永乐龙洞形成顺序依次为中段-下段-上段,推测其判断依据是(6分)

38.阅读材料,完成下列要求。(14分)

2022年中央经济工作会议强调,要更大力度推动外贸稳规模、优结构,更大力度促进外资稳存量、扩增量,培育国际经贸合作新增长点。随着疫情防控措施不断优化和一系列稳外贸举措落地,“组团出海”抢订单拓市场成为近期经济发展一大亮点。

截至2023年1月11日,全国已有深圳,苏州、东莞、宁波、广州、厦门、成都、杭州、无锡、南京、佛山、金华,吴江等城市“出海抢单”付诸行动。

此番“出海抢单”,很大程度上源于政府的主动作为。浙江省启动“千团万企拓市场抢订单行动”,由浙江省商务厅牵头,全省各地商务部门带队,带领各地外贸企业出海找市场、抢订单。政府通过正确引导,隆重出台了各项贴心、人性化的举措,给企业牵线搭桥,打消企业家顾虑。在包机出海抢单行动中,多地政府瞄准外贸企业面临的发展难题——外需走弱,订单不足等,有针对性地提供多种便利,比如协调航班、缩短办证时间、给予配套资助等,助力外贸企业迎难而上,乘风破浪。

结合材料,运用经济生活的知识,分析政府带头“组团出海”抢订单拓市场的动因。

39.阅读材料,完成下列要求。(12分)

当前,我国经济社会进入高质量发展阶段,科技创新的战略性支撑作用日益凸显。同时,国际科技竞争日趋激烈,外部势力对我国高科技遏制打压形势日益严峻。面对发展新阶段新形势,以习近平同志为核心的党中央坚持以深化改革激发创新活力。

2023年3月,中共中央、国务院印发了《党和国家机构改革方案》,组建中央科技委员会,统筹推进国家创新体系建设和科技体制改革,深化政府机构改革,重新组建科学技术部,具体承担中央科技委员会办事机构职责。重组后的科学技术部,划转部分管理职责到其它国务院部委,集中精力聚焦国家重大战略需求,强化科技发展战略规划、体制改革、资源统筹、综合协调等宏观管理职责,更好把政府、市场、社会有机结合起来协同攻关。

结合材料和所学政治生活知识,分析说明我国组建中央科技委员会和重组科学技术部这一战略决策的依据。(12分)

40.阅读材料,完成下列要求。(26分)

党的二十大报告指出,拥有马克思主义科学理论指导是我们党坚定信仰信念、把握历史主动的根本所在。在党的百年奋斗历程中,党始终领导人民解放思想、实事求是,锐意进取、百折不挠,推动中华民族迎来了从站起来、富起来到强起来的伟大飞跃,使中华民族伟大复兴进入了不可逆转的历史进程。

十八大以来,国内外形势新变化和实践中新发展,迫切需要中国共产党人从理论和实践的結合上深入回答关系党和国家事业发展、党治国理政的一系列重大时代课题。党勇于进行理论探索和创新,以全新的视野深化对共产党执政规律、社会主义建设规律、人类社会发展规律的认识,用马克思主义之“矢”去射新时代中国之“的”,及时科学回答中国之问、世界之问、人民之问、时

代之问，取得重大理论创新成果，集中体现为新时代中国特色社会主义思想，开辟了马克思主义中国化时代化的新境界。

“习近平新时代中国特色社会主义思想充盈着浓郁的中国味、深厚的中华情，具有强大的历史穿透力、文化感染力。”一位党的二十大代表说。“坚持以人民为中心的发展思想”，蕴含“治国常有，利民为本”的深意；“促进人与自然和谐共生”，浸润“天人合一”的智慧；“尊重世界文明多样性”，展现“协和万邦”的博大胸怀……不断谱写马克思主义中国化时代化新篇章，是当代中国共产党人的庄严历史责任。

(1) 结合材料，运用“文化遗产与文化创新”的知识，说明中国共产党人应如何担当庄严历史责任，不断谱写马克思主义中国化时代化新篇章。(10分)

(2) 中国共产党的百年奋斗，展示了马克思主义的强大生命力，是对马克思主义科学性、真理性的最好检验与证明。结合材料，运用认识论的知识加以阐释。(12分)

(3) 中国共产党成立以来，坚持马克思主义基本原理同中国具体实际相结合，在不同的历史时期，探索出符合中国国情的中国革命和建设的正确道路，取得一个又一个伟大胜利。根据所学知识，以“马克思主义真理之光照亮中国前行之路”为主题撰写一篇短评。

要求：①围绕主题，观点明确；②论证充分，逻辑清晰；③学科术语使用规范；④150字左右。

41. (25分) 阅读材料，完成下列要求。

材料一 《资治通鉴》在探讨历史盛衰上体现出史学求通的思想，由于时代的特点，司马光总结历史盛衰经验，除关心秦何以亡，汉何以兴，隋何以亡，唐何以兴这些问题外，侧重探讨如何用封建纲常礼教维护封建统治秩序。司马光关于历史过程的正道、霸道的观点是保守的、倒退的历史运动观。《资治通鉴》选择史料的标准：一是求实，这是考异法要解决的问题；二是鉴盛衰，法善戒恶，这是政治、伦理道德的标准。司马光考史是为修史服务的，《通鉴》有很高的史料价值和历史文学价值。《通鉴》在史学史上有深远的影响。

——摘编自吴怀祺《〈资治通鉴〉的价值和司马光的历史观》

材料二 九一八事变后，政府为唤醒国民爱国精神，通令各大学开设中国通史课程。傅斯年等提出了“书生何以报国？”的问题。钱穆为了讲好通史课，先后编写了几种讲义，又编选了一部《参考资料》，后编成《国史读本》，此外，尚有“通史随笔”五六册，汇集备课时所需史料，到西南后又续有补充，为《国史大纲》之祖本。《国史大纲》成书后，钱穆写成《引论》一篇，在昆明《中央日报》上发表，正面阐述了钱氏“新史学”的基本内涵，批评了当时流行的各种史学观念。他强调，一国历史与文化实是民族赖以存在之基础，“国史”应成为一种国家和国民的教育。

——摘编自冯峰《钱穆研究三题》

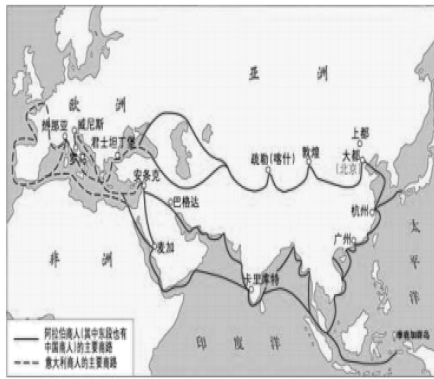
(1) 根据材料一并结合所学知识，分析《资治通鉴》的史学特点。(8分)

(2) 根据材料二并结合所学知识，分析钱穆撰写《国史大纲》的历史背景及意义。(13分)

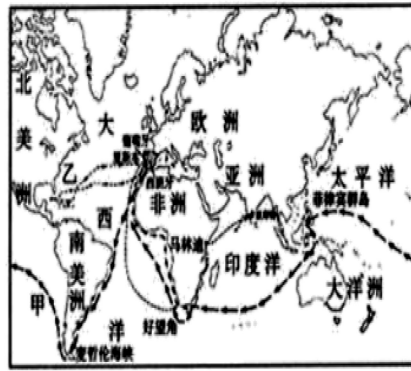
(3) 根据材料并结合所学知识，概括优秀史学著作的共性价值。(4分)

42. (12分) 经济全球化是人类社会发展的必然趋势，国际贸易是其重要表现之一。图11是14世纪以来的四幅国际贸易示意图，请任选其中相邻的两幅，谈谈有何变化，并对其作出简要说明。

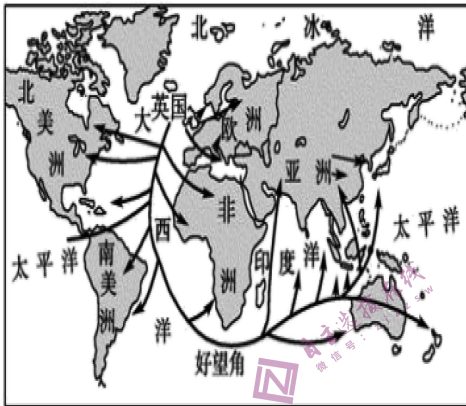
(要求：围绕所选图片和所学知识展开，逻辑清晰，表述成文)



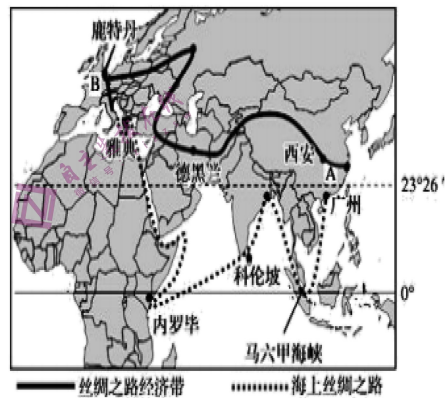
(a) 14世纪欧亚大陆贸易示意图



(b) 新航路开辟示意图



(c) 19世界中后期世界贸易示意图



(d) 一带一路贸易示意图

图11

选考题：共 25 分。考生从 2 道地理题、3 道历史题中每科任选一题作答。如果多做，则每科按所做的第一题计分。

#### 43. 旅游地理 (10分)

数据显示，“反向旅游”正在成为年轻一代消费者的心头好。或是随意“迷走”在小城的街头巷尾，在一碗本地人热爱的美食里咂摸生活的滋味；或是单纯“躺平”在酒店……从本质上说，旅游对于很多人的意义发生变化，当有的人抱怨，即使到大城市周边来场郊区游也要堵车两三个小时，花费堪比出境游时，另一些人已经转身离开，与拥挤的人潮背道而驰，反向奔赴“非主流”旅游目的地，拥抱心中的“世外桃源”。

分析“反向旅游”兴起的原因及“冷门地”想增加热度可采取的措施。

#### 44. 环境保护 (10分)

平陆运河是西部陆海新通道的重要组成部分，是珠江—西江流域连接北部湾港口水运交通大动脉，较目前经梧州由广州出海可以缩短航程约 560 公里。中国在 2030 年要实现“碳达峰”，2060 年要实现“碳中和”，所以广西将以“河畅、水清、鱼翔、岸绿、景美、低碳”为目标，构建“绿色和生态平陆运河”。如图 12 所示。

请列举将平陆运河打造成为生态运河和低碳运河的可行措施。(10分)



图12

45. (15分)【历史——选修1：历史上重大改革回眸】阅读材料，回答问题。

材料 康有为在1898年1月向光绪帝呈递了《上清帝第六书》、《俄罗斯彼得变政记并序》，希望皇帝能以俄国为师，进行欧化改革。首先，在欧洲强国雄霸各大洲之际，俄国能“秣兵欧土”，就是能征打全球任何地方了。其次，“俄国其君权最尊，体制崇严，与中国同”。再次，俄国比中国更大，也更落后，它仿效西方改革成功是劝勉中国欧化改革的最佳典范。第四，维新运动的巨大推动力是对日战争耻辱的刺激，康有为发现俄国亦因落后而败给比它小得多的国家。……彼得(1672-1725年)访欧回来，带回八百多人的改革建设大军，坚定不移地“诛乱党，分别褫黜”后，提出改国政时，“大臣无一敢阻之者”……欧化为俄国图强捷径，中国如何能错过？光绪帝在接到康有为上书约4个月后，发动了“百日维新”。可惜，光绪帝并没有机会如彼得大帝般带领中国“仿俄欧化”。

——摘编自鲍绍霖《帝术纵横：析论康有为“彼得大帝心法”之义》

(1) 据材料，概括康有为向光绪帝上书主张“以俄为师”的理由。(8分)

(2) 据材料并结合所学知识，分析影响彼得大帝改革和百日维新成败的因素。(7分)

46. (15分)【历史——选修3：20世纪的战争与和平】阅读材料，回答问题。

材料 太平洋战争爆发后，英美等国同时执行“先欧后亚”战略。日本乘势南下，占领了泰国、马来西亚、新加坡等地，并积极策划控制缅甸，已达到完全封锁中国的目的。为缓解滇北紧张形势，英国要求蒋介石派兵入缅作战。1941年12月3日，中英签订了《共同防御滇缅路协定》。1942年2月中旬，中国远征军以“支援英军确保缅甸国际补给线”为目的，赴缅作战。1943年10月，中国驻印军和中美混合部队从印度率先反攻，揭开了滇西、缅北反攻战的序幕。中国远征军1944年5月正式发动反攻，强渡怒江，直到1945年1月，把日军完全赶出国土，3年的滇缅抗战以胜利宣告结束。

——摘编自王学明《跨越国境线的抗日战争》

(1) 根据材料并结合所学知识，概括中国远征军入缅作战的原因。(6分)

(2) 根据材料并结合所学知识，简析中国远征军入缅作战的意义。(9分)

47. (15分)【历史——选修4：中外历史人物评说】阅读材料，回答问题。

材料 建设工业强国，是中国共产党人在七届二中全会上作为建国方略提出的。1954年，周恩来在第一届全国人大政府工作报告中明确指出：“如果我们不建设强大的现代化的工业、现代化的农业、现代化的交通运输业和现代化的国防，我们就不能摆脱落后和贫困。”这是周恩来代表党中央第一次提出关于“四个现代化”的构想。1957年，毛泽东将科学文化现代化和国防现代化列入了实现中国现代化的整体构想中，周恩来说明工业现代化“包括交通运输在内”，因而“交通运输现代化”不再被单独作为一个现代化概念。1960年，周恩来将“科学文化现代化”改为“科学技术现代化”，这样“四个现代化”的基本内容便被完整提了出来。根据毛泽东的建议，1964年12月周恩来在三届全国人大一次会议《政府工作报告》中代表中国共产党中央委员会、国务院首次确定了“四个现代化”目标的规范表述，即“把我国建设成为一个具有现代农业、现代工业、现代国防和现代科学技术的社会主义强国”。“四个现代化”的口号就在全中国范围内广泛传播开来。

——据中共中央文献研究室《中国共产党历史》

(1) 根据材料并结合所学知识，概括毛泽东、周恩来等领导人探索“四个现代化”的特点。(7分)

(2) 根据材料并结合所学知识，说明毛泽东、周恩来等领导人提出“四个现代化”的意义。(8分)