



西城区高三统一测试

文科综合

2017.4

本试卷共 15 页，共 300 分。考试时长 150 分钟。考生务必将答案答在答题卡上，在试卷上作答无效。考试结束后，将本试卷和答题卡一并交回。

第一部分（选择题 共 140 分）

本部分共 35 小题，每小题 4 分，共计 140 分。在每小题列出的四个选项中，选出最符合题目要求的一项。

“突然觉出‘凉爽’的一刹那，我怔了一怔。一瞬之间，不可思议，永远汗流浃背的身体干了……久久的苦热居然真能结束……”（引自作家张承志描写北京市某一节气的散文）。据此，回答第 1、2 题。

- 该节气，我国北方
 - 柳絮纷飞
 - 秋高气爽
 - 漫山红叶
 - 鸿雁北归
- 在下一个节气到来之前，北京
 - 日出时间提前
 - 正午太阳高度变大
 - 昼夜温差变大
 - 降水明显增多

2017 年 2 月 20-22 日中央气象台发布寒潮蓝色预警。图 1 是我国四个城市此次寒潮过程中降温、降水的统计数据。读图，回答第 3、4 题。

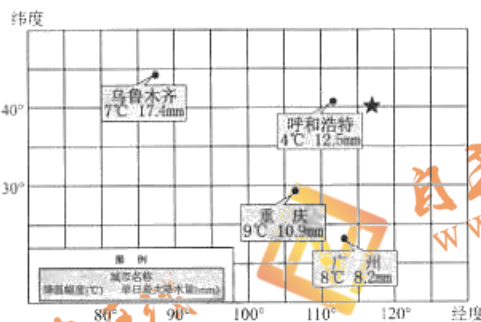


图 1

- 此次寒潮
 - 源地位于新疆的山地冰川
 - 西北地区降温的幅度大于南方
 - 移动路径总体自西北向东南
 - 冷气团饱含水汽，北方降水多
- 寒潮过境后
 - 新疆北部山区融雪侵蚀严重
 - 重庆市统计冻害造成的农业损失
 - 内蒙古高原上河流出现春汛
 - 广州市清理结冰路面，保证交通



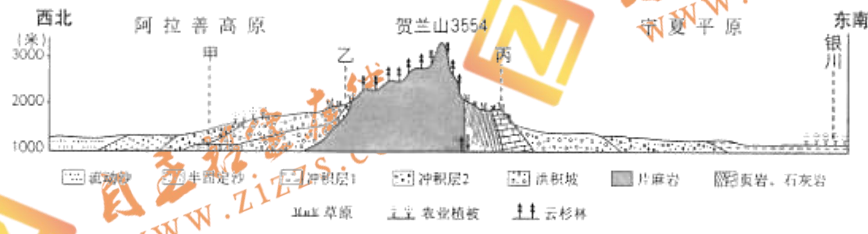
图2是2009-2011年我国东部某城市各风向霾出现次数统计图(单位:次)。读图,回答第5题。

5. 该城市

- A. 西南部的空气质量最差
- B. 各风向出现霾均少于50次
- C. 污染源集中在东南、东北部
- D. 西北风势力弱,扩散效果好



图3为贺兰山及附近自然景观示意图。读图,回答第6、7题。



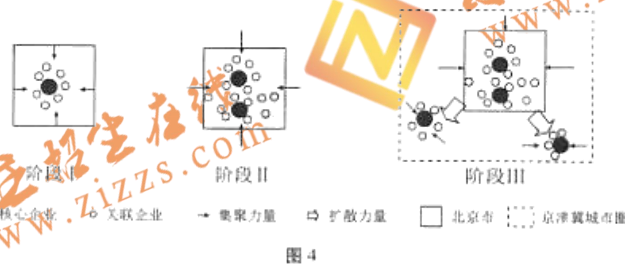
6. 图中

- A. 甲地是由风力沉积作用形成
- B. 乙地比丙地的冬季更加温暖
- C. 丙地会出现典型喀斯特地貌
- D. 冲积层1形成晚于冲积层2

7. 图示地区

- A. 从干旱区向半干旱区过渡
- B. 平原形成过程仅与外力作用有关
- C. 农业靠冰川融水提供水源
- D. 山地植被丰富,发展木材加工业

图4为京津冀地区某汽车制造企业空间集聚与扩散示意图。读图,回答第8、9题。



8. 该汽车制造企业

- A. 需要较强的配套生产
- B. 集中布局的效益最高
- C. 对劳动力素质要求高
- D. 布局主要受原料影响



9. 随着京津冀城市圈的建设, 该汽车制造企业
- 将吸引大量劳动力向北京市城区聚集
 - 发展会拉大区域内城市化水平的差距
 - 分散布局的趋势得益于交通条件改善
 - 主要利用天津港整车海运到南方市场

读图 5, 回答第 10、11 题。

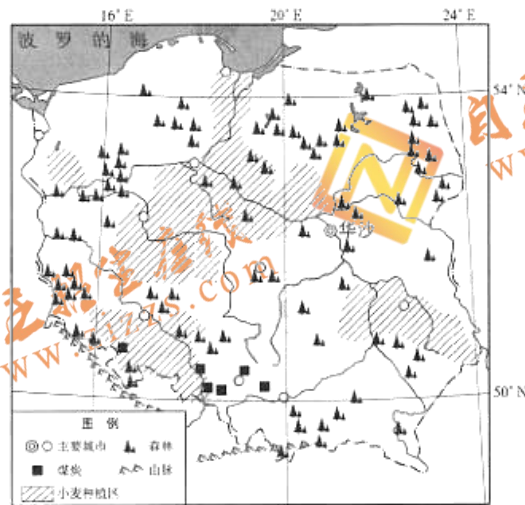


图 5

10. 波兰
- 地势南高北低, 以外流河为主
 - 位于大陆性气候区, 降水稀少
 - 北部沿海地区的人口密度较大
 - 城市全部依靠水运兴起和发展
11. 该国农业生产中
- 小麦种植区靠近河流为方便运输
 - 重点防治土地盐碱化问题
 - 北部城市周边发展大牧场放牧业
 - 糖料作物以种植甜菜为主
12. 春秋战国时期的“百家争鸣”奠定了中国传统文化体系的基础, 下列可支持此观点的有
- ①儒家思想孕育政治理想和道德准则
 - ②墨家学说开启“重农抑商”的先河
 - ③道家学说构成传统哲学的重要基础
 - ④法家思想成为变法的主要理论依据
- A. ①②③ B. ①②④ C. ①③④ D. ②③④



13. 图6为北京地区古代地方行政长官称谓演变示意图，反映了行政建制的变革。

1和2可填写的分别是

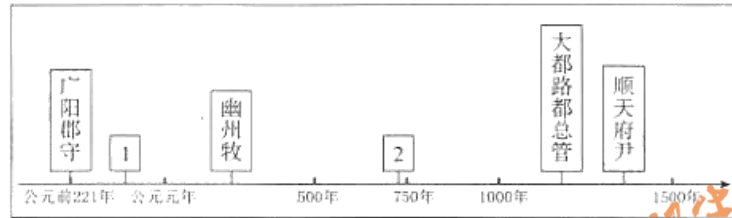


图6

- A. 广阳王 范阳节度使
B. 涿郡太守 北平布政使
C. 燕王 中都路都总管
D. 北平知府 南顺道留守

14. 图7《雨中耕作图》(局部)截取自甘肃敦煌的唐朝壁画，它可以佐证

- A. 中国古代耕犁技术的萌芽
B. 辽东地区曲辕犁的结构变化
C. 西北地区已经使用耕犁技术
D. 传统农业自给自足的特点



图7

15. 北宋神宗时期，王安石回击对新法的质疑：“举先王之政，以兴利除弊，不为生事；为天下理财，不为征利。”下列属于他针对时弊并采取的相应“理财”措施是

- A. 私田出现——均田制
B. 商贾囤积——市易法
C. 边防危机——将兵法
D. 土地兼并——免役法

16. 中国同盟会成立后，三年内入会且身份可考者379人，其中国内和留学国外的学生354人，官吏和有功名的知识分子10人，教员、医生8人，资本家、商人5人，贫农1人。上述成员身份构成可看出

- A. 同盟会的主张得到比较广泛的认同
B. 同盟会是中国第一个资产阶级政党
C. 西方政党政治的观念已经深入人心
D. 广大知识分子是辛亥革命的主力军

17. 1896至1911年，中国铁路建设有了一定的发展，新建铁路总里程约为此前的22倍，图8为当时铁路投资构成示意图。下列说法正确的是

- ①京张铁路修通是这一时期的典型成就
②近代铁路网的基本格局在此阶段奠定
③多方筹款修路表明政府重视修筑铁路
④清政府完全掌握了中国铁路的筑修权

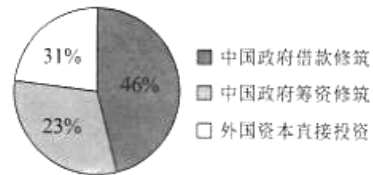


图8

- A. ①②③
B. ①②④
C. ①③④
D. ②③④



18. 晚清至民国，中国在外抗强权和内求变革的过程中遇到重重阻力。先进中国人针对“传统文化的习惯势力”和“在这种制度和文化统治下的民众的种种弱点”提出了
- A. “师夷长技以制夷” B. “中学为体，西学为用”
C. “民族、民权、民生” D. “民主”“科学”
19. 在东亚地区“率先改变资本主义国家与社会主义国家敌对的冷战结构”的事件是
- A. 1950年，朝鲜战争爆发 B. “和平共处五项原则”的提出
C. 日本在美国扶植下崛起 D. 尼克松总统访华，中美关系缓和
20. 1831年英国辉格党领袖格雷出任首相后，提出了议会选举改革方案，但遭到下院否决。格雷获国王批准解散下院，并在新一轮大选中获胜。第二年议会通过改革方案，工业资产阶级获得了更多议席。这表明此时英国
- A. 工业革命刚开始，贵族仍然拥有较强实力
B. 工业资产阶级通过和平方式扩大政治权利
C. 首相名义上对议会负责，实际对国王负责
D. 议会、内阁和国王形成“三权分立”构架
21. 1903年，有国人周游欧洲，记下某国见闻：“虽工业不闻于世界，而已骏骏（迅疾）乎商业时代矣”。朝廷“欲使人迷信宗教……而不复生行政改良之思想”，对“足开启蒙民智”的小说“禁之甚严”。符合此特征的国家是
- A. 英国 B. 法国 C. 俄国 D. 德国
22. 20世纪，世界霸权的转移发生在英国和美国之间。其主要原因包括
- ①英美存在共同文化和血缘纽带
②英国衰落，其殖民地纷纷独立
③美国成为经济霸主，军力强大
④两极格局下英国需要联美抗苏
- A. ①② B. ①③ C. ②③ D. ③④
23. “文章合为时而著，歌诗合为事而作。”下列诗作反映的内容与史实相一致的是

	作者	诗作	史实
A	梭伦	我拿着一只大盾，保护两方	古代雅典民主政治走上顶峰
B	唐太宗	车轨同八表，书文混四方	完善科举制，提高进士科地位
C	彼特拉克	(罗马教廷是)万端诡计的熔炉	欧洲宗教改革拉开序幕
D	毛泽东	钟山风雨起苍黄，百万雄师过大江	人民解放军占领南京



24. “大英博物馆 100 件文物中的世界史”展览在中国国家博物馆展出，用百件展品共同讲述 200 万年来人类文明的历程，如“0 号展品”是一套古埃及木棺，制作它的全部材料分别来自黎巴嫩、努比亚、阿富汗和两河流域。按照该展惯例，每至一个国家，都将吸纳一件（组）该国文物作为第 101 号一起展出，此前澳大利亚站选取的是“全球第一个 wifi 设备”，中国北京站选取的第 101 号文物是“宣布中国加入世贸组织的木槌和中国重返世贸组织的签字笔”。由所选展品推断，最符合该展主旨的是
- A. 各大洲文明具有独特性和差异性
B. 创新是文化富有生机和活力的重要保证
C. 文化具有继承性，没有文化的继承就没有文化的积累
D. 资源、技术、思想文化的传播和共享塑造了人类文明
25. 从“中国汉字听写大会”“中国诗词大会”，到“朗读者”“见字如面”，一个个有时代创意又有传统底蕴的电视综艺节目，触动了观众对“诗和远方”的美好遐想以及心中深藏的传统情结。关于“中国味儿”文化类节目的走红，下列说法正确的是
- ①文化的魅力来自于时间，诗词歌赋、文牋书信，越古老的文化就越有生命力
②物质文明不断发展，人们会更关注精神的富足，这类节目的走红有其必然性
③优秀传统文化是国人的精神家园，文化类节目可从传统文化中汲取养分
④文化的力量不在于本身价值的大小，而是取决于是否被传播以及被传播的广度和深度
- A. ①③ B. ①④ C. ②③ D. ②④
26. 聚焦国务院的政府工作报告，可以清晰感受到时代脉动。以下这 20 个新词新语分别摘自本届政府四年来的工作报告：

2014: 改革是最大的红利→2015: 新常态→2016: 供给侧结构性改革→2017: 数字经济
2014: 权力清单→2015: 自我革命→2016: 互联网+政务服务→2017: 清单管理制度
2014: 基本公共文化服务→2015: 学习型社会→2016: 中国特色新型智库→2017: 推动中国文化走出去
2014: 民生底线→2015: 民生保障网→2016: 补齐基本民生保障的短板→2017: 民生是为政之要
2014: 向污染宣战→2015: 环境治理攻坚战→2016: 环境保护督察→2017: 蓝天保卫战

- 对此分析合理的是
- ①新词新语具有鲜明的年代特征，说明社会意识具有一定的独立性
②从重视改革红利到关注数字经济，矛盾的普遍性通过不同阶段的特殊性表现出来
③2014 年到 2017 年，经济、政治、文化、社会、生态五大领域实现了发展的质变
④政府关注经济、政治、文化、社会、生态五位一体全面发展，符合整体论的思想
- A. ①② B. ①③ C. ②④ D. ③④



27. 读图 9，人们发现，面对母语或自己非常熟悉的语言，大脑往往能自动纠错，把英语中的字母顺序打乱也会得到类似的效果。大脑的自动纠错
- 是人脑自然而然的无条件反射
 - 是基于对事物间联系的把握
 - 说明要素之间的关系优于整体
 - 关注到了矛盾双方的区别和对立

研究表明，汉字的序顺并不一定影响阅读，比如当你看完这句话后，才发现这里的字全是都乱的。

图 9

28. 颜色是物品的一种属性，却被赋予了各种文化含义，会引起人们强烈的情感反应。红色很受国人欢迎，代表着吉祥和好运。也有很多人喜欢蓝色，认为这是一个平静又引人幻想的词语，让人联想到天空、大海、爱情、忧伤、无限。人们对颜色的“情感反应”
- 意味着颜色是独立于人的意识之外的，具有客观性
 - 是主体对于客体的能动的反映，具有自觉选择性
 - 是客观事物对于主体的积极意义，具有主动创造性
 - 包含着人对自身和外部世界关系的理解，具有差异性

- ①③
 - ①④
 - ②③
 - ②④
29. “快递小哥跳槽了”，小明发现，最近的快递有点不守时。一打听才知道，送餐的工作时间主要在用餐时段，相对轻松，挣得也不比送快递少，好多“快递小哥”转行做了送餐的“外卖骑手”，快递企业出现了人手短缺。对这一现象解释正确的是



图 10

- 劳动力市场的供给不足是快递小哥跳槽的重要原因
 - 快递小哥跳槽是市场优化配置劳动力资源的结果
 - 快递业和外卖业在劳动力市场中存在互补关系，竞争比较激烈
 - 如果快递企业薄利多销、降低成本，会增加对劳动者的吸引力
30. 话剧爱好者李先生每个月都会去看话剧，他发现话剧院的演出票对大学生是 6 折优惠，比对一般观众的折扣力度大多了。下列分析中，正确的是
- 话剧院对不同观众收取不同票价，属于价格歧视，与公平交易原则不符
 - 因为大学生通常都比较穷，其需求弹性会低于一般观众的需求弹性
 - 如果大学生很想看话剧《李白》，则他们的需求量对价格变动的反应程度会增加
- ①正确
 - ②正确
 - ③正确
 - 都不正确
31. 目前，我国针对影响环境的重点污染源大气、水、固体、噪声等四类污染物征收排污费。新颁布的《中华人民共和国环境保护税法》正式实施后，排污费将转换为环保税，税收收入将全部作为地方的财政收入使用。这一变化
- 会增加地方政府的 GDP，实现财政盈余的目标
 - 凸显了行政手段的作用，督促企业履行环保责任
 - 属于分配关系的调整，体现了效率优先的分配原则
 - 使环境执法刚性增强，倒逼高污染、高能耗企业转型升级



32. J女士原来住在北京东六环，在西南二环上班。后因丈夫工作变动，把家搬到了河北沧州。J女士想和家人在一起，又不舍得放弃自己在北京的工作，便决定每天从河北到北京跨省上班。J女士说每天需在路上往返花约5小时，比原来多1

J女士的路程（单程）	费用
6: 50 从沧州家中乘出租前往高铁站	14元
7: 23 乘坐高铁到北京南站	94.5元
8: 21 到达南站后转乘地铁	4元
9: 15 到达北京西南二环的公司	

小时，每天花费225元，每月交通费大约5000元，是可以承受的。从经济学角度看

- ①J女士权衡利弊做出的选择符合理性经济人假设
- ②J女士跨省上班的成本高于她放弃北京职位的成本
- ③如果高铁的票价下调，则对J女士的选择具有正向激励作用
- ④如果沧州的工资水平大幅提高，并不会影响到J女士的选择

A. ①③ B. ②③ C. ①④ D. ②④

邻避效应

“Not In My Back Yard”，直译为“不要建在我家后院”，指当地居民因担心建设项目（比如垃圾焚烧厂、核电厂等设施）对身体健康、环境质量等带来负面影响，以至于采取强烈的集体反对甚至抗争行为。

33. 发展核电是我国调整能源结构、推进能源供给侧改革的战略选择，对确保能源安全、推动绿色发展有重要作用。但核电“邻避效应”日益凸显，公众的担忧和恐惧成为了制约因素，核电的选址和建设困难重重。走出核电“邻避效应”的困局，下列做法适合的是

- ①项目决策阶段听取专家意见，在项目开建时向民众公示
- ②主动公开环境信息，搞好常态化的科普宣传，加强监管
- ③如果当地居民强烈反对，应该尊重民意将选址改到他处
- ④设计合理的补偿机制，让利益相关方共享核电发展成果

A. ①② B. ①③ C. ②④ D. ③④

34. 根据全国人大常委会《关于建立预算审查前听取人大代表和社会各界意见建议的机制的意见》，全国人大财经委员会在对预算草案的初步方案进行初步审查时，应邀请人大代表参加，代表建议应作为财经委员会提出初步审查意见的重要参考。此举有利于

- ①尊重代表主体作用，增强预算审查的有效性
- ②财经委员会海纳建议，审慎行使预算审批权
- ③提高预算编制质量，为人大批准预算奠定基础
- ④拓宽代表提案的渠道，激发代表履职的积极性

A. ①③ B. ①④ C. ②③ D. ②④



35. 国家的每一分努力和进步，都能激发起人们内心深处深沉的民族自豪感。小明了解到我国在多个领域的成就，认为应该为以下内容点赞，其中点赞的内容和分析不一致的是

内容	政治学分析
A. 为中国蓝盔点赞——中国派出 19 批维和部队，勘察修复道路 7500 公里，架设维修桥梁 69 座，运送各类物资 93 万吨，接收诊治患者 5 万余例	中国践行联合国宗旨和原则，积极参加联合国有利于世界和平与发展的工作
B. 为中国责任点赞——中国护照关键时刻带我们回家。新西兰发生 7.5 级强震，中国领事馆在第一时间包下直升机，将受困的中国游客从震区接走	我国坚持独立自主的和平外交政策，主动承担国际责任
C. 为中国航天点赞——天宫二号和神舟十一号载人飞行任务圆满成功，我国载人航天工程取得了新的重大进展	我国的科技实力不断增长，国际竞争力提高
D. 为中国扶贫点赞——中国政府实施精准扶贫战略，2016 年农村贫困人口减少 1240 万，易地扶贫搬迁人口超过 240 万，减贫成就赢得国际赞誉	以人为本，保障公民基本权利，贯彻共享发展理念



第二部分（非选择题 共160分）

36. (36分) 读图11，回答下列问题。

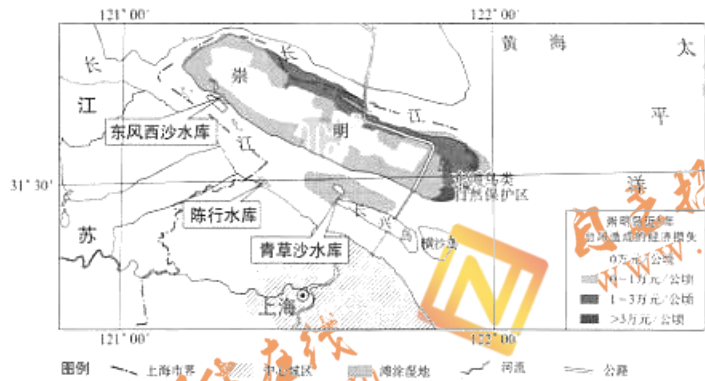


图 11

崇明岛被称为“上海市的后花园”。

(1) 简述崇明岛成为上海市民夏季周末度假胜地的优势条件。(8分)

(2) 指出崇明岛规划建设沿海防护林的重点区域，并说明其作用。(10分)

长江枯水季节海水容易倒灌进入河道，造成水质无法达到饮用水标准，上海市供水告急。东风西沙水库是上海市在滩涂湿地上新建的蓄淡避咸水库。

(3) 分析上海市新建东风西沙水库及其选址的原因。(10分)

长兴岛被定位为现代船舶制造业基地，是上海市重点培育的产业基地之一。

(4) 阐述长兴岛发展现代船舶制造业的有利因素。(8分)



37. (36分) 历史事实·历史记载·历史解释

材料一 司马迁撰述《史记》时，“网罗天下放失旧闻，考之行事”，对纷杂无凭的说法则依据传说与文献相对应，“择其言尤雅者”成编。《史记》叙事情节曲折，人物形象栩栩如生。其编著目的在于“究天人之际，通古今之变”“稽（考证）其成败兴坏之理”。

古希腊史学家修昔底德认为他的责任是对所列各种事件的每一细枝末节进行精心审核。叙述时不能为引人入胜而虚构。历史编著是为了让那些希望清晰地了解业已发生的事件以及希望知道将在某一天以同样或相似的方式再次发生类似事件的人从中获益。

(1) 依据材料一，概括司马迁和修昔底德关于史书编著的相同主张。(6分)

材料二 关于美洲的发现与欧洲崛起的关系，有观点认为：没有那个新世界，“西欧仍将是欧亚大陆中一块很小和落后的地区，仍将依赖东方输入技术、文化，并输进财富”，或许根本就不会有“欧洲奇迹”；另有观点认为：美洲发现的真正意义在于为欧洲提供了一处“政治文明实验场”。

(2) ①概述美洲发现的历史背景。(8分)

②你对材料二中的观点持怎样的看法？运用相关重要史实加以论述。(10分)

要求：观点明确，史实充分，史论结合，逻辑清晰。

材料三 20世纪20~40年代，中国和日本部分教科书关于中日历史上某些事件的叙述如下：

<p>日本教科书淡化了唐朝的影响，侧重于日本“始终以对等姿态与彼交往”。中国教科书则指出日本“不论政治制度，以及饮食、居处等等，没有一样不仿唐朝”。</p>	<p>关于元朝时中国与日本的战争，日本教科书这样描述：“敌人是堪称世界最强的元”“大日本是神之国”“神风骤起，敌舰大都沉没，溺死者无数”。中国教科书则对进攻日本一事略去或淡淡叙述。</p>	<p>日本教科书基本不提明代倭寇。中国教科书不仅详记倭寇为祸之事，且着重宣扬戚家军“愿替国家牺牲”的精神。</p>
--	--	---

(3) 阅读材料三，概括20世纪20~40年代中日教科书在编写上的相同做法，结合近代以来中、日两国的历史发展状况，对此进行分析。(12分)



38. (36分) 古语云，大道至简，“简单生活”不简单。

材料一 很多人家里东西多、衣柜太满而烦恼，可还是忍不住地会“买买买”。我们真的需要这么多吗？某知名演员在社交网站上发布了一条消息“尝试简单生活，决定一年不买新衣服，谁和我一起？”跟帖如下：

☑ 网友A：我没有你那么多的衣服……我我我还是放弃吧。

☑ 网友B：我呀，我和你一起。

☑ 网友C：认真考虑中……我发现自己兴致冲冲买下的好多衣服，其实没穿过几次。

☑ 网友D：在过去一年里，我发现自己买了10双鞋，8个包，5条连衣裙，3条裤子，5件毛衣，3件羽绒服，5件外套……接下来的十二个月，争取将衣物控制在3双鞋子、1个包、1件外套、1件上衣和1条连衣裙之内。没办法想象自己一年不买衣服，先从减法做起吧。

(1) 运用经济知识推断，哪些消费者更可能加入“一年不买新衣服”这一活动？简述理由。(6分)

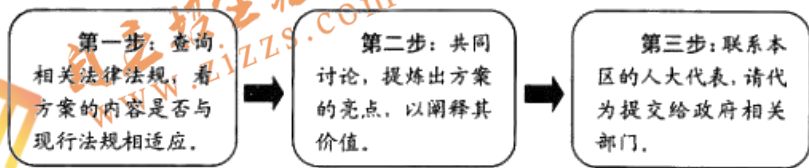
材料二 据统计，全世界每年大约卖出800亿件衣服，其中快消时尚品占据着较大份额。所谓快消时尚品指的是“用最快的速度将全世界最前沿的潮流趋势转化成平价时装”，其主要特点是时尚、平价、产品更新快。

(2) 如果“简单生活”理念得到广泛认可，请探讨这一变化对快消时尚品企业的影响。(8分)

材料三 “买买买”伴随着的是“扔扔扔”。每年国人扔掉的旧衣服有2600万吨，绝大多数是按普通垃圾处理，填埋或焚烧了事，极少部分是捐到贫困地区，但消毒运输成本高，衣服也不一定适用。某校学生以“旧衣物的二次利用”为探究课题，提出了以下方案，准备提交给政府相关部门。

关于推广“旧衣物的二次利用”的方案：建议政府与社会企业、公益组织合作，在写字楼、小区、大学校园等地区设置“旧衣回收箱”，募集的旧衣由专人进行整理、分类，在打工者群体集中的地区设立公益商店，低价销售，如牛仔裤6元，夹克8元，羽绒服30元左右，人工成本由销售所得承担，剩余所得用于支持打工者群体的文化教育公益事业。

为提交该方案，同学们确定了如下行动步骤：



(3) 运用《政治生活》知识，分别说明第一步和第三步的合理性，并帮助他们提炼出该“旧衣物的二次利用”方案的亮点。(10分)



材料四 践行“简单生活”，最基本的进入方式是对物欲做减法，但做减法比人们想象中要难很多。“对于一个人来讲，当你不得不留下或者放弃一些物品的时候，也是对自己的存在和需求的再次评估”，人们批判物欲横流的社会，但同时又忍不住投入更多时间和精力去消费更多的物品。

(4) 有哲人说“对占有欲的偏执，使人无法自由自在、堂堂正正地生活。”请运用哲学观点回答，如何不被物欲所困？(12分)

39. (10分)

小明的乡村发现

寒假期间，小明随同父母回到了农村老家，感受到了很多的不一样。

老家在长城脚下个宁静的村庄，抬头可以望见远处高高的烽火台。和想象中的不同，村子十分整洁干净，空气清新，山间有大片的果园，交通工具大多是摩托，偶尔也有私家车往来。

小明跟着父母到各位长辈家串门，发现村子里的人基本上都能连上亲戚。舅奶奶喜欢剪纸，几张红纸在手里，“福字团花”“连年有余”“凤穿牡丹”等吉祥图案一会儿就出来了，小明饶有兴趣地看了半天。舅爷爷说，平时村子里人少，冷清得很，过年是村子里最热闹的时候了，在外打工的年轻人都回来了，家家户户剪纸、贴窗花、包饺子、祭祖。

在村里住了几天之后，小明有点无聊了，觉得没有什么事情可做，时间不好打发，带的书早就看完了，附近连个像样的篮球场都没有，去镇子里看个电影也要走很远。串亲戚吃过饭之后，就是玩牌、打麻将。小明开始觉得，老家的村子，少了一些东西……

阅读材料，运用《文化生活》知识回答：

这个村子在文化发展方面有哪些优势与不足？就促进当地的文化发展提出建议。

优势：

建议：

不足：

建议：



40. (18分) 新疆是中国领土不可分割的组成部分。

清朝，新疆以捕捞野生资源为主的渔业生产空前发展，文献记载当时“新疆有水之处，大半有鱼。鱼之大小，视水之大小也”，图12是“清朝新疆渔业生产分布示意图”。读图，回答第(1)、(2)题。

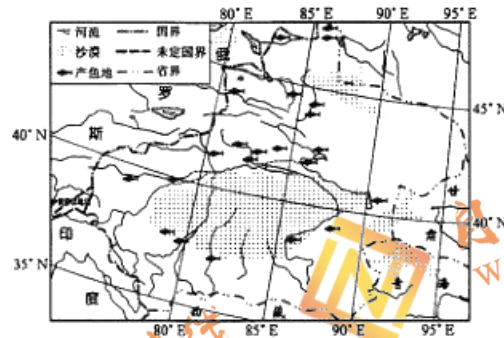


图12

(1) 说明清朝新疆渔业生产的分布特点。(6分)

(2) 与现代相比，分析清朝新疆渔业繁荣的原因。(4分)

1865年，浩罕汗国军官阿古柏带兵侵入新疆。1875年，清政府任命左宗棠为钦差大臣，率军西征。为了就近补给武器，左宗棠从上海江南制造局等地招募技术工人，购买机器，建立了西北地区最早的近代兵工厂——西安机器局，后迁入兰州。该局生产的武器在抗击侵略中发挥了很大作用。最终清军收复了除沙俄所占伊犁地区之外的全部新疆领土。

(3) 指出材料反映的重大事件，依据材料分别简述其意义。(8分)



41. (24分) 2017年1月，中国国家主席习近平访问瑞士，出席世界经济论坛达沃斯年会。

瑞士被称为“创新之国”。瑞士联邦主席指出：国土资源的匮乏，使挖掘人的智慧成为我们经济社会发展的基础。读图13，回答第(1)题。

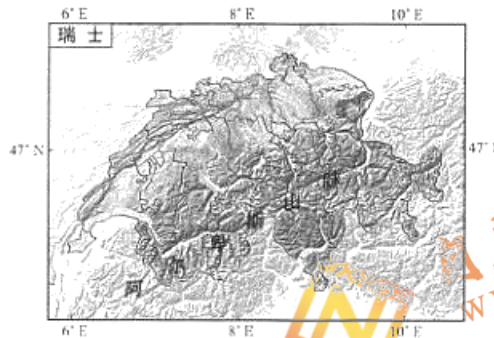


图13

(1) 分析瑞士选择创新发展道路的原因。(10分)

“关税与贸易总协定”和“世界贸易组织”的总部都设在瑞士日内瓦。1947年，美国、中国等23个国家签署《关税与贸易总协定》，其宗旨是降低关税，减少贸易壁垒，实现国际贸易自由化。1995年世界贸易组织成立，取代关贸总协定。关贸总协定以“临时适用的多边贸易协定”形式存在，而世界贸易组织是常设国际组织。前者只处理货物贸易问题，解决争端缺乏法律性的强制措施；后者还处理服务贸易及与贸易有关的知识产权问题，其裁决具有自动执行的效力和明确时间表。

(2) 依据材料，结合所学，概述关贸总协定签署的背景；与关贸总协定相比，说明世界贸易组织发展的表现。(8分)

当前，全球经济复苏乏力，为了短期提振经济，排外和保护主义抬头，一些国家滥用反倾销和反补贴工具，甚至提出“封锁边境”“管好自己”。此时，世界将目光转向中国，期待着中国声音。

在达沃斯论坛上，国家主席习近平发表了题为《共担时代责任 共促全球发展》的主旨演讲，强调要坚定不移地推进经济全球化，牢固树立人类命运共同体意识，共同担当，同舟共济，共促全球发展。

(3) “中国的发展是世界的机遇，中国是经济全球化的受益者，更是贡献者。”结合材料说明，中国可以为推动经济全球化做出哪些贡献。(6分)

(考生务必将答案答在答题卡上，在试卷上作答无效)

西城区高三统一测试
文科综合参考答案及评分标准

2017.4

第一部分共 35 小题，每小题 4 分，共 140 分。

1	2	3	4	5	6	7	8	9	10
B	C	C	B	C	D	A	A	C	A
11	12	13	14	15	16	17	18	19	20
D	C	A	C	B	A	A	D	D	B
21	22	23	24	25	26	27	28	29	30
C	C	D	D	C	C	B	D	B	D
31	32	33	34	35					
D	A	C	A	B					

第二部分共 6 小题，共 160 分。

36. (36 分)

- (1) 崇明岛四面环水，夏季气温低于中心城区；岛上空气清新、环境优美；距离上海市区近；有公路相连，交通便利。(8 分)
- (2) 崇明岛的东岸和北岸。(2 分) 沿海防护林可以起到防风的作用；减少海浪对岸线的侵蚀；为候鸟提供栖息地；形成旅游景观。(8 分)
- (3) 保证上海市供水稳定、安全；新建水库靠近上游方向，水质较好；受海水倒灌影响小；湿地可以起到净化水质的作用；利用滩涂，占地成本低。(10 分)
- (4) 沿江（沿海）；空闲土地面积大，地价低；临近钢铁产区；政策支持。(8 分)

37. (36 分)

- (1) 相同主张：对史料的收集要广泛、细致；对历史事件记述要言之有据；编写史书的目的是总结经验教训、以供后人借鉴。(6 分，言之成理，酌情给分)
- (2) 历史背景：资本主义（或商品经济）的发展；航海技术的进步；地圆学说等自然科学知识的影响；文艺复兴和宗教改革解放了思想；新航路的开辟。(8 分)

论述：

示例一：赞同美洲的发现为欧洲的崛起提供重要经济条件的观点。

15 世纪以来，美洲的发现为欧洲提供了丰富的金银矿产、劳动力、原材料和市场，殖民掠夺和三角贸易的兴起为欧洲提供了巨额利润（或资本原始积累），这一切促进了欧洲工场手工业的发展和工业革命的出现。正是在工业革命的基础上，欧洲成为最发达的地区，形成以英国为主导的资本主义世界市场，对世界产生重大影响，出现了所谓的“欧洲奇迹”。(10 分)



示例二：赞同美洲的发现为欧洲的崛起提供了政治试验场的观点。

15 世纪以来，欧洲先后出现了文艺复兴、宗教改革、启蒙运动和政治革命。在此期间，新教伴随着欧洲殖民传入美洲；平等、民主、自由和分权制衡等观念也被带入美洲；议会等先进的政治形式在北美殖民地得以效仿；契约精神得到认可。这一切推动了北美独立，为北美的民主与法制建设奠定基础。美国等地区建立了新型共和政体，初步实现了法制化，所以说美洲是欧洲的政治试验场。（10 分）

（注：赞同两种观点均合理的，须结合上述两部分进行说明论证）

(3) 相同做法：避讳本国历史不光彩部分，树立本民族的辉煌（正面）形象；突出对方国的负面形象。（4 分）

分析：近代以来，中日两国均遭列强打开国门，国际地位下降，民族利益受损；希望通过讴歌本国（或民族）的光荣历史以振奋民族精神。日本明治维新后走上对外扩张道路，尤其是 20 世纪三、四十年代发动对中国、美国的侵略战争，需要借助历史树立不败形象；中国正在进行民族抗战和反法西斯战争，需要借助历史鼓舞斗志。（8 分）

38. (36 分)

(1) 人的消费行为受消费心理的影响，加入活动的消费者可能包括：注重节约资源，崇尚绿色消费的消费者；收入水平较高、消费结构升级换代，更关注精神需求的理性消费者；由于知名演员的做法对大众心理有一定的示范作用，受从众心理影响大的消费者可能加入。（6 分）（其他合理答案酌情给分）

(2) 一方面会导致快消时尚品企业的需求萎缩，市场规模缩小，企业的竞争压力增加，优胜劣汰加剧；另一方面会促使快消时尚品企业针对需求侧的变化调整生产经营，调整产品结构，如转而生产品质优良、样式经典的产品或是符合环保理念的产品；调整生产方式，低碳、绿色生产，赢得消费者的支持。（8 分）（其他合理答案酌情给分）

(3) 第一步：公民应树立法治意识，依法参与政治生活；第三步：人大代表是国家权力机关的组成人员，应密切联系群众，公民将自己的意见、建议反映给人大代表，有利于推动方案的实施（4 分）

方案的亮点：

政府与社会协同，发挥合力，利用市场激励机制，推动旧衣物的二次利用，创新社会管理。可以节约资源、保护环境，符合绿色发展的理念，建设生态文明。降低了打工者的生活成本，支持保障打工者群体的文化权益，有利于社会和谐。（6 分）



(4) (12分)

等级	等级描述
水平4 (10-12分)	能准确把握情境任务，从正确看待物欲、坚持正确的价值观引领、把握人生真谛等方面综合作答，哲学观点运用准确、表述清晰、前后逻辑一致，论证有力。
水平3 (6-9分)	能较好把握情境任务，能较为准确地运用哲学观点，但内容不完整、术语不准确或逻辑不够清晰。
水平2 (3-5分)	能大体把握信息，运用哲学观点分析材料，但不准确；不能按要求作答，堆砌不相关的知识。
水平1 (0-2分)	应答与试题无关；重复试题内容；没有应答。

39. (10分)

优点：毗邻长城这一历史文化遗产，民间工艺世代相传，传统习俗保留较为完整。(2分)

建议：如加强对长城历史文化遗产以及民间工艺的保护，开展民俗文化游或长城风情游的旅游项目，推动当地旅游文化产业的发展。(3分)

不足：文化基础设施落后，公共文化服务水平较低，难以满足多方面的文化需求。(2分)

建议：应发展公益性文化事业，建设乡村图书馆、篮球场等基础文化设施，保障村民的基本文化权益，开展精神文明创建活动，用社会主义核心价值观引领当地的文化发展。(3分)

40. (18分)

(1) 产鱼地数量多，分布广；集中在天山、阿尔泰山山麓地带和塔里木盆地边缘的河流、湖泊。(6分)

(2) 河流多，河流水量丰沛；渔业资源丰富。(4分)

(3) ①收复新疆：维护领土主权的完整；

②洋务运动：从沿海向内地引进了近代军事技术；填补西北地区工业的空白；在抵抗外来侵略中发挥重要作用。(8分)

41. (24分)

(1) 地处内陆；地形以高原、山地为主；资源贫乏；国民素质高；政策支持。(10分)

(2) 背景：贸易保护主义的危害；战后世界经济恢复和发展的需要。(4分)

表现：以常设国际组织取代多边协定；管理和处理的范围更广泛；运作更加规范化和法制化。(任答两点，给4分)

(3) 不断提高对外开放水平，以自身的经济增长促进和带动全球的经济。坚持世贸组织的基本原则，反对贸易保护主义，促进贸易投资便利化。加强国际合作，互利共赢，共同防范经济风险。(6分)



自主招生
ZZZS.COM



WWW.ZZZS.COM

扫描二维码，关注自主招生在线官方微信！

查看更多自主招生相关资讯！

