

“皖南八校”2022 届高三第三次联考

文科综合能力测试

“皖八”理事会(18校) 审定: 含山中学(汪海华 牛家从 杜 斌)
广德中学(高红梅 钱 进 卢 燕) 2022.4

考生注意:

1. 本试卷满分 300 分,考试时间 150 分钟。
2. 考生作答时,请将答案答在答题卡上。选择题每小题选出答案后,用 2B 铅笔把答题卡上对应题目的答案标号涂黑;非选择题请用直径 0.5 毫米黑色墨水签字笔在答题卡上各题的答题区域内作答,超出答题区域书写的答案无效,在试题卷、草稿纸上作答无效。
3. 做选考题时,考生须按照题目要求作答,并用 2B 铅笔在答题卡上把所选题目的题号涂黑。

一、选择题:本题共 35 小题,每小题 4 分,共 140 分。在每小题给出的四个选项中,只有一项是符合题目要求的。

反向飞地,是“飞地经济”的一种,但与传统飞地恰好相反,它是欠发达地区主动到发达地区设立“飞地”,变传统“飞入地”为“飞出地”。2021 年,浙江西部衢州市在杭州市的未来科技城建反向“创新飞地”,首创了“研发孵化在杭州、产业转化在衢州,工作生活在杭州,创业贡献为衢州”的异地聚才模式。据此完成 1~3 题。

1. 传统飞地“飞入地”的优势有

- ①劳动力丰富 ②用地指标多 ③技术水平高 ④资金充足

- A. ①② B. ①③ C. ②③ D. ③④

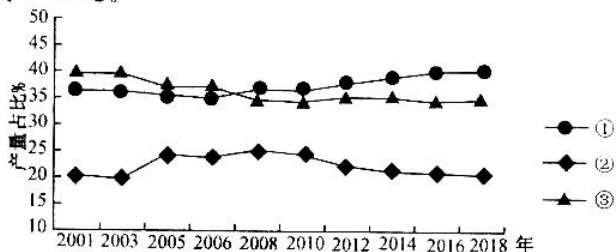
2. 反向飞地经济发展模式,主要体现了

- A. 城乡统筹发展创新 B. 区域协调发展创新
C. 农业发展创新 D. 科技发展创新

3. 衢州市在杭州市建反向“创新飞地”主要目的是为了

- A. 培养人才 B. 开拓市场 C. 保护环境 D. 培育产业

云南省是我国蔬菜主产区之一,70%以上的“云菜”销往全国各地。“云菜”主要有冬春蔬菜、夏秋蔬菜和常年蔬菜三种类型。下图示意云南省 2001~2018 年三种蔬菜产量占全省蔬菜产量比例。据此完成 4~5 题。



【第 26 届“皖八”高三 3 联·文综 第 1 页(共 12 页)】

HD-221003C

座位号

考场号

准考证号

姓名

班级

学校

答题区域内不要密封

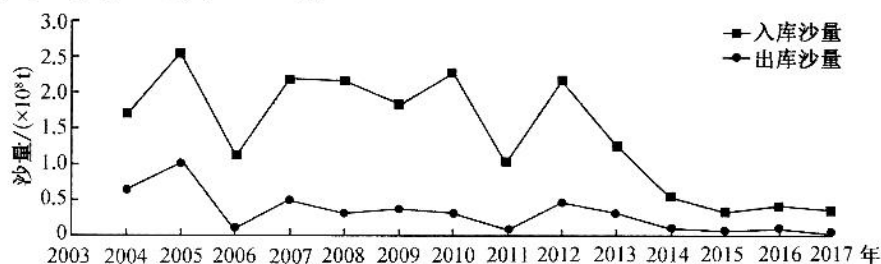
4. 2001~2018年云南省冬春蔬菜、夏秋蔬菜和常年蔬菜产量占全省蔬菜产量比例分别对应曲线

- A. ①②③ B. ①③② C. ②①③ D. ②③①

5. 造成云南省三种蔬菜产量比例变化的主要区位因素是

- A. 劳动力 B. 科技 C. 市场 D. 交通

三峡工程是全球最大的综合性水利枢纽工程,其运行后水沙和河床形态变化备受科研人员关注。三峡水库2003年开始运行,采用蓄清排浑调度方式。下图示意三峡水库运行后入库和出库泥沙的变化。据此完成6~8题。



6. 三峡水库运行后,三峡水库库区总体

- A. 以侵蚀为主,河床变深 B. 以堆积为主,河床变深
C. 以侵蚀为主,河床变浅 D. 以堆积为主,河床变浅

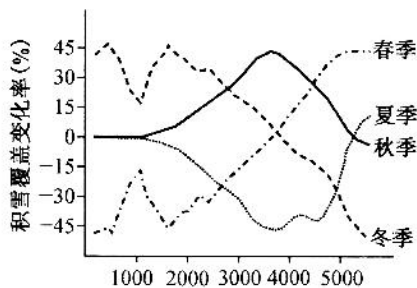
7. 与三峡水库运行前相比,三峡水库运行后水库下游河段

- ①洪水期流量减小 ②洪水期流量增加 ③枯水期含沙量增加 ④枯水期含沙量减小
A. ①③ B. ①④ C. ②③ D. ②④

8. 三峡水库运行后,三峡水库下游河床变化总体趋势是

- A. 拓宽变深 B. 拓宽变浅
C. 缩窄变深 D. 缩窄变浅

积雪覆盖率是指积雪面积除以区域面积。积雪覆盖变化率是指各个季节相对前一个季节积雪覆盖率的变化,大于0相对上一季节积雪增加(积累),反之积雪消融。下图示意天山山区不同季节年内积雪覆盖变化率与海拔的关系。据此完成9~11题。



9. 天山山区积雪随季节和海拔的变化表现为

- A. 春季低海拔消融 B. 夏季低海拔积累
C. 秋季高海拔消融 D. 冬季高海拔积累

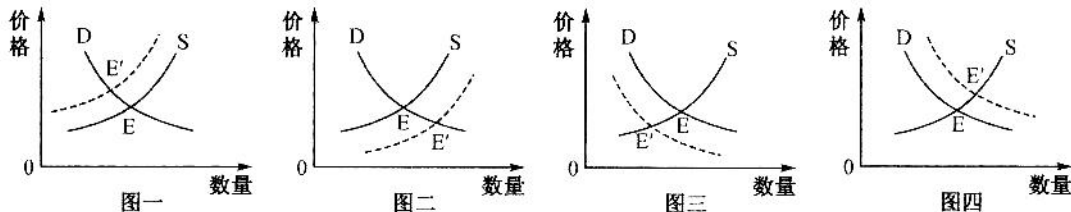
10. 导致秋季天山山区低海拔地区的积雪覆盖变化率几乎不变的原因是

- A. 夏季积雪量大、秋季积雪量小 B. 夏季积雪量小、秋季积雪量大
C. 夏季积雪量大、秋季积雪量大 D. 夏季积雪量小、秋季积雪量小

11. 造成天山山顶附近夏季积雪覆盖变化率为正值的最主要原因是

- A. 风蚀较强 B. 坡度较大 C. 气温较低 D. 降水较少

12. 需求曲线(D)与供给曲线(S)相交于E点(平衡点)。在其他条件不变的情况下,当某种条件发生变化时,会引起E点向E'点移动。下列经济现象能与这种移动变化相符合的是



- ①为做好碳达峰碳中和工作,钢铁行业压减粗钢产能,符合图一变化
②电商开展春节线上打折促销活动,年货市场火爆,符合图二变化
③地方政府增加公共充电桩数量,新能源汽车市场旺盛,符合图三变化
④冬奥会全民掀起冰雪运动热潮,冰雪装备市场的需求,符合图四变化

- A. ①③ B. ②③ C. ①④ D. ③④

13. 碳排放权交易,是指政府部门把一定时间内的碳排放总量目标免费分配给需要减排的企业,企业将“二氧化碳的排放额度”在市场上交易的行为。2021年7月16日,我国碳排放权交易市场启动上线交易。碳排放权交易

- ①将二氧化碳排放权转化为一种有偿使用的生产要素
②让企业通过市场价格机制不断获得更多碳排放配额
③在实现碳达峰碳中和的进程中降低了企业生产成本
④能引导企业通过改进技术管理等手段实现节能减排

- A. ①③ B. ②③ C. ①④ D. ②④

14. 党的十九届六中全会审议通过的《中共中央关于党的百年奋斗重大成就和历史经验的决议》强调,中国特色社会主义新时代是全国各族人民团结奋斗、不断创造美好生活、逐步实现全体人民共同富裕的时代。实现共同富裕要求

- ①调节收入差距,扩大中等收入群体,依法取缔过高收入
②先富带动共富,使全体人民朝着同步富裕的目标扎实迈进
③完善分配制度,协调好初次分配、再分配、第三次分配的关系
④坚持以人民为中心的发展思想,在高质量发展中促进共同富裕

- A. ①③ B. ②④ C. ③④ D. ①④

15. 调整金融机构存款准备金率是国家宏观调控的一个重要经济杠杆。2021年12月15日,中国人民银行下调金融机构存款准备金率0.5个百分点,释放长期资金1.2万亿元。这一举措对经济发展产生的积极影响有

- ①优化金融机构资金结构→提升金融服务能力→更好支持实体经济
②增加商业银行信贷资金→助力小微企业发展→促进经济平稳运行
③有序增加市场流动性→加快货币流通速度→缓解企业融资贵问题
④保持货币流动性合理充裕→刺激总供给增长→推动经济持续向好

- A. ①② B. ①③ C. ②④ D. ①④

16. 某村开展“完善村规民约、树立文明新风”协商议事活动,政协委员、村民代表、党员代表、监委会代表、乡贤代表等汇聚一堂,对话协商修订村规民约。开展村级协商议事活动
- ①拓宽了村民参与本村公共事务管理的有效途径
 - ②彰显了众人的事情由众人商量的人民民主真谛
 - ③旨在打造多元主体协同共治的基层社会治理体系
 - ④是创新基层民主自治组织形式的积极有益探索
- A. ①② B. ①④ C. ②③ D. ③④
17. 习近平总书记在庆祝中国共产党成立 100 周年大会上发表重要讲话,强调“发展全过程人民民主”。人民民主实则是一种全过程的民主,深刻体现了我国民主最真实、最广泛和最管用。在中国,人民有广泛参与国家治理的权利,体现在民主选举、民主协商、民主决策、民主管理、民主监督的各个环节。全过程民主的提出
- ①丰富和发展了社会主义民主政治理论
 - ②健全社会民主制度,丰富民主实现形式
 - ③为发展社会主义民主政治提供了遵循
 - ④彰显中国特色社会主义最本质的特征
- A. ②④ B. ①③ C. ②③ D. ①④
18. 西藏和平解放 70 年来,这片古老而神奇的雪域高原,实现了社会制度的根本转变、各项事业的全面发展进步,创造了“短短几十年、跨越上千年”的人间奇迹,发生了翻天覆地的巨大变化。西藏的历史巨变得益于
- ①社会主义制度的建立,实现了人民当家做主
 - ②坚持民族平等、民族团结、各民族共同繁荣
 - ③在少数民族地区坚持和完善民族区域自治制度
 - ④多元一体的民族格局日益形成并不断得到巩固
- A. ①③ B. ①② C. ②④ D. ③④
19. 第十四届全运会于 2021 年 9 月 15 日在千年古都西安开幕。开幕式上文体展演《奋斗新时代 奋进新征程》精彩纷呈,整个演出由序曲“迎宾鼓阵”和“民族根”“延安魂”“中国梦”三个篇章组成,借助多媒体技术和声光手段展现了黄帝陵、秦兵马俑、延安宝塔等中华文明、中国革命、中华地理的精神标识和自然标识。开幕式文体展演表明
- ①文化与科技融合能够赋予传统文化新的基本内涵
 - ②现代高科技手段已成为推动文化创新的根本动力
 - ③在继承基础上的创新为传统文化注入了新的活力
 - ④借助科技有利于以新的方式展示源远流长的中华文明
- A. ①② B. ①④ C. ②③ D. ③④
20. 《典籍里的中国》是由中央广播电视总台推出的大型文化节目。该节目聚焦《尚书》《天工开物》《史记》等享誉中外、流传千古的中华优秀传统文化典籍,通过时空对话的创新形式,以“戏剧+影视化”的表现方法,讲述典籍在历史长河中源起、流转的传承故事,展现其中蕴含的中国智慧、中国精神和中国价值。该文化节目
- ①是中华文化一脉相承的重要见证
 - ②与时俱进,创造了中华文化新的辉煌
 - ③展示了中华文化独树一帜,独领风骚
 - ④使古老的典籍焕发新生,彰显时代价值
- A. ①② B. ①③ C. ②④ D. ③④

21. 2022年北京冬奥会会徽将中国传统文化和奥林匹克元素巧妙结合,以汉字“冬”为灵感来源,运用中国书法的艺术形态,将厚重的东方文化底蕴与国际化的现代风格融为一体,呈现出新时代的中国新形象、新梦想,传递出新时代中国为办好北京冬奥会,圆冬奥之梦,实现“三亿人参与冰雪运动”目标,圆体育强国之梦。由冬奥会会徽的设计可见

- ①意识活动在艺术创作中具有独特的主动创造性
- ②意识的表现形式先于客观世界的变化而变化
- ③有什么样的意识内容就有什么样的反映对象
- ④优秀的艺术作品要反映时代要求和实践需要

A. ①② B. ①④ C. ②③ D. ③④

22. 2022年2月6日,中国女足在亚洲杯决赛上凭借永不服输的拼搏精神和无与伦比的战术安排,依靠团队协作精神,发挥集体的凝聚力,托举起个人的爆发力,将不可能变成可能,以3比2战胜韩国女足,时隔16年再次捧起了亚洲杯冠军奖杯。从中可以看出

- ①发挥主观能动性就能将不可能变成可能
- ②整体的功能及其状态对部分有重要影响
- ③要重视部分,用局部发展推动整体发展
- ④事物的整体功能总是大于部分功能之和

A. ①② B. ①④ C. ②③ D. ③④

23. 漫画《我先走,你断后》(作者:尹正义)讽刺了某些人

- ①违背实事求是的官僚主义
- ②主观认识脱离了客观实际
- ③没有充分发挥主观能动性
- ④否认了运动和静止的统一

A. ①② B. ①③
C. ③④ D. ②④



24. 《国语》载,“同姓则同德,同德则同心,同心则同志”,“同志”的基础是

A. 王位世袭制 B. 世官制 C. 宗法制 D. 嫡长子继承制

25. 建安十五年(公元210年)春,曹操下令曰:“若必廉士而后可用,则齐桓其何以霸世!今天下得无有被褐怀玉而钓于渭滨者乎?又得无盗嫂受金而未遇无知者乎?二三子其佐我明扬仄陋,唯才是举,吾得而用之。”这反映了曹操

- A. 沿用察举制,以传统“廉士”标准选拔人才
- B. 废除察举制,不以儒家道德规范选拔人才
- C. 品评人才,唯才是举,在民间寻得能人异士
- D. 不拘一格,求贤若渴,重视人才谋求国家统一

26. 明朝军队的基层组织分为卫、所两级,大致五千六百人为一卫,一卫辖有五个千户所,每千户所设千户一名。卫隶属于都指挥使司,都指挥使司隶属于五军都督府,并听命于兵部。这种军事制度设置的目的在于

- A. 进行武举选拔军事人才
- B. 改编红军为八路军、新四军
- C. 组织团练,创立湘军、淮军
- D. 废丞相,兵部直接对皇帝负责

【第26届“皖八”高三3联·文综 第5页(共12页)】 HD—221003C

27. 古代长江中下游地区的一种水利田称作“圩田”，即在沿河湖的低洼之地筑堤围田，并设水渠、闸门、水车等设备，旱时灌溉，涝时排水。唐末五代兴起，宋时大盛，明清延续。长江中下游地区圩田兴起发展的主要原因是
- A. 使用曲辕犁和牛耕、运用耕耙技术
B. 资源优越便于开发，经济地位凸显
C. 封建统治者兴修水利，鼓励种植水稻
D. 社会秩序相对稳定，利于围垦造田
28. 斯塔夫里阿诺斯在《全球通史》中谈到：欧洲的扩张在某种程度上可用基督教的扩张主义来解释。……基督教浸透了普济主义、改变异端信仰的热情和好战精神。……基督教首领在执行“到世界各地去，将福音传播给每一个人”的命令时，时常采用种种强有力的方法。不能体现这种情况的是
- A. 开辟新航路
B. 黑奴贸易
C. 第二次鸦片战争
D. 义和团运动
29. 1924年8月到10月，因广州商团反对孙中山组织的广州革命政府而引发了一场流血冲突事件。商团先进行罢市，后发动叛乱，占领广州。孙中山和广州革命政府依靠黄埔学生军、部分革命军和工农力量，平定了商团的叛乱。通过此次事件
- A. 孙中山发生伟大转变，成为无产阶级革命领袖
B. 中国革命形势发生巨变，国民大革命进入高潮
C. 国共两党和则两利，推动中国社会发展进步
D. 广东革命根据地得到巩固，反动势力一蹶不振
30. 下表是中国1956年和1966年部分工业品产量及其增长情况。

产品名称	1956年产量	1966年产量	增长(%)
钢(万吨)	447	1532	343
机床(万台)	2.59	5.49	112
汽车(万辆)	0.17	5.59	3188
棉纱(万吨)	95.2	156.5	64

据此表可知，当时中国

- A. 计划经济体制下的工业化建设水平提高
B. 优先发展重工业前提下建立完整工业体系
C. 产业结构调整情况下工业品技术性能改善
D. 工业布局改善情况下工业生产效益提高
31. 雅斯贝尔斯在《历史的起源与目标》中说，公元前800至公元前300年间是人类文明的“轴心时代”。当时分别处于东西方文明中心的中国和希腊都呈现出思想文化繁荣的局面。这一“轴心时代”所体现的思想文化特征不包括
- A. 都出现了伟大的精神导师
B. 都塑造了不同的文化传统
C. 都蕴含了人文关怀的精神
D. 都从多神信仰转向一神教

32. 公元 111—113 年间担任罗马一个行省总督的小普林尼致皇帝图拉真书信以请示如何审理处置基督徒。皇帝复信：“若彼被控于你，且罪证确凿，则理应受罚。但若彼否认为基督徒，……亦将因其悔悟之意而获赦。然匿名之册不应用之于指控，……不合吾朝精神耳。”对此有关认识正确的是
- A. 没有皇帝的旨意，小普林尼不能审判基督徒
B. 被指控的基督徒，按罗马法精神就一定被审理受罚
C. 被匿名指控的基督徒，按罗马法精神不一定被审理
D. 基督徒中若有罗马公民，按万民法标准审判
33. 在英国圈地运动中产生的新贵族，强行占据了农民的大片土地，而在资产阶级革命中他们却得到了农民的大力支持。对这一现象的认识，不正确的是
- A. 资本主义和封建主义的矛盾是当时社会的主要矛盾
B. 反映了英国从传统社会向近代社会转型的基本特征
C. 是新贵族和农民反对共同敌人形成同盟的有力证据
D. 新贵族和农民是新生产力代表推动政治民主化发展
34. 20 世纪 30 年代英国经济学家凯恩斯主张通过国家干预使社会的总供给与总需求保持平衡，对世界经济发展产生了重要影响。凯恩斯主义的影响是
- A. 直接指导了罗斯福新政，放弃了自由放任主义
B. 使二战后西方国家经济繁荣，解决了经济问题
C. 强调国家干预经济，实现了总供给与总需求的平衡
D. 经济理论的巨大革命，发挥了在全球化时代的作用
35. 愈来愈多的口述史学者认识到：“口述研究的主要意义并不在于它是什么真实的历史或作为社会团体政治意图的表达手段，而在于证明人们的历史意识是怎样形成的。”对这句话理解正确的是
- A. 口述史料体现民间的“历史声音”，不是真实历史
B. 口述史书写历史背后的“历史”，是一种创新过程
C. 口述史研究民众的“历史意识”，不是客观的历史
D. 口述史记录被访者的“历史记忆”，表达政治意图

二、非选择题：共 160 分。第 36~42 题为必考题，每个试题考生都必须作答。第 43~47 题为选考题，考生根据要求作答。

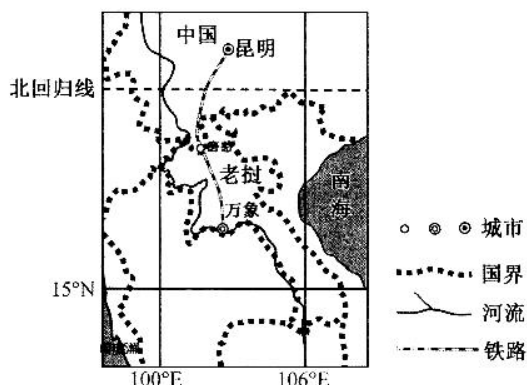
(一)必考题：共 135 分。

36. (22 分)阅读图文材料，完成下列要求。

老挝位于中南半岛北部，以农业为主，工业和服务业基础薄弱，其境内多被森林覆盖，旅游和矿产资源丰富。2021 年 12 月 3 日，主要由中国投资、中老共同运营、全线采用中国标准连接昆明和万象的双向电气化铁路中老铁路全线开通运营，其中老挝段设计时速最高为

【第 26 届“皖八”高三 3 联·文综 第 7 页(共 12 页)】 HD—221003C

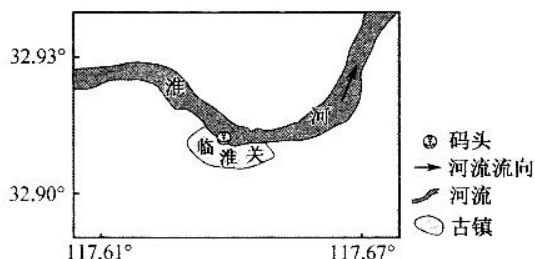
160 公里/小时,老挝从“陆锁国”变为“陆联国”。



- (1)指出中老铁路建设过程中需要克服的自然条件。(8分)
- (2)说明中老铁路老挝段设计时速最高只有 160 公里/小时的主要原因。(6分)
- (3)从对外联系的角度分析中老铁路开通老挝从“陆锁国”变为“陆联国”的原因。(4分)
- (4)推测中老铁路开通短期内给老挝带来明显经济效益的产业类型。(4分)

37. (24分) 阅读图文材料,完成下列要求。

安徽省千年古镇临淮关地处淮河中游,与外地交通主要依赖水运,历史上是豫东、皖北土货外运和江南棉纺织品、绸缎等北上的中转站。虽屡遭水患,明清时期临淮关成为淮河流域重要的商品集散地和水路交通中心,码头众多,街市沿河分布,长约数里。21世纪以后,临淮关发展缓慢,开始衰落。



- (1)分析临淮关建码头有利的地形条件。(6分)
- (2)从气候和地形的角度说明临淮关屡遭水患的自然原因。(6分)
- (3)推测临淮关 21 世纪以后衰落的主要原因。(6分)
- (4)为根治水患重建文明古镇,请你为临淮关城镇建设提出可行性工程措施。(6分)

38. (14分) 阅读材料,完成下列要求。

首届中国国际消费品博览会(以下简称“消博会”)于 2021 年 5 月 10 日在中国海南闭幕。来自 70 个国家和地区(含中国)的 1 505 家企业、2 628 个消费精品品牌参展,吸引了 24 万人次参观,消博会已经成为一场名副其实的全球消费盛宴。本届消博会汇聚全球头部品牌,荟萃全国消费精品,汇合国内外重要采购商,消博会是为满足中国人民对美好生活向往而打造的新平台,也为经济发展提供更多助力。

作为中国首个以消费精品为主题的国家级展会,消博会已与广交会、服贸会和进博会一道,成为中国主动与世界分享发展机遇的国家级“会展矩阵”,成为中国对外开放的重要公共服务平台,成为更好造福世界各国人民的实际行动和生动范例。

结合材料,运用经济生活知识,说明举办消博会对我国经济和世界经济的积极影响。

39. (12分) 阅读材料,完成下列要求。

中国天宫空间站包括天和核心舱、梦天实验舱、问天实验舱、神舟载人飞船和天舟货运飞船五个模块。各飞行器既具备独立的飞行能力,又可以与核心舱组合成多种形态的空间组合体,在核心舱统一调度下协同工作,完成空间站承担的各项任务。

2021年4月29日,中国空间站的天和核心舱发射升空,准确进入预定轨道。其发射成功标志着我国空间站的建造进入全面实施阶段,为后续任务奠定了坚实基础。

2021年6月17日,神舟十二号载人飞船入轨,并采用自主快速交会对接模式,成功地与天和核心舱对接。这是天和核心舱发射入轨后,首次与载人飞船进行的交会对接。

2021年10月16日0时23分,神舟十三号载人飞船在酒泉卫星发射中心发射升空,翟志刚、王亚平、叶光富3名航天员进驻天和核心舱。神舟十三号载人飞船将实现多个首次,即首次与三舱组合体自主快速径向交会对接,首次长期在轨停靠6个月,实现4个载人航天器形成组合体长期在轨飞行,首次具备天地结合多重保证的应急救援能力。建造空间站,是中国航天事业的重要里程碑,将为人类和平利用太空作出开拓性贡献。

结合材料,运用政治生活知识,分析中国自主研发天宫空间站的时代价值。

40. (26分) 阅读材料,完成下列要求。

材料一 在庆祝中国共产党成立100周年大会上,习近平总书记发表重要讲话,首次提出“坚持真理、坚守理想,践行初心、担当使命,不怕牺牲、英勇斗争,对党忠诚、不负人民”的伟大建党精神,并号召全党永远把伟大建党精神继承下去,赓续红色血脉。

材料二 中国共产党强大生命力的密码,就在于把马克思主义基本原理同中国实际相结合,走自己的道路;就在于对实现中华民族伟大复兴充满必胜信念,不畏艰难,勇往直前;就在于持之以恒发扬党的光荣传统和优良作风,坚定信念、凝聚力量;就在于以实际行动解决人民群众实际难题,始终牢记党的初心使命。学史明理、学史增信、学史崇德、学史力行,赓续共产党人精神血脉,以昂扬斗志开拓新局。

(1) 结合材料一,运用价值观的有关知识,分析我国大力弘扬伟大建党精神的意义。(12分)

(2) 结合材料二并运用文化生活知识,说明青年学生应如何学习党史以赓续共产党人精神血脉。(10分)

(3) 请你为校园“赓续红色基因,传承伟大建党精神”提两条合理化建议。(4分)

41. (25分) 阅读材料, 完成下列要求。

材料一 (西人) 治乱之源, 富强之本, 不尽在船坚炮利, 而在议院上下同心, 教养得法。兴学校, 广书院, 重技艺, 别考课, 使人尽其才。讲农学, 利水道, 化瘠土为良田, 使地尽其利。造铁路, 设电线, 薄税敛, 保商务, 使物畅其流。……西人立国具有本末, 虽礼乐教化远逊中华, 然其驯致富强亦具有体用。育才于学堂, 论政于议院, 君民一体, 上下同心, 务实而戒虚, 谋定而后动, 此其体也。轮船火炮, 洋枪水雷, 铁路电线, 此其用也。中国遗其体而求其用, 无论踟蹰趋步, 常不相及。就令铁舰成行, 铁路四通, 果足恃歟!

——郑观应:《盛世危言》

材料二 如果我们耐心考察一下英国政体的组成部分, 就会发现他们是……两种暴政的残余。第一, 由国王所体现的君主政体暴政的残余。第二, 由上议院所体现的贵族政治暴政的残余。第三, 由下议院所体现的新的共和政体的成分; 而英国的自由便是以下议院的效能为基础的。

——引自《潘恩选集》

材料三 在这个国家(注: 英国)里, 真正的贵族目前还尽可能地在人民意识较为充分发达的条件下维护着自身地盘, 因此, 在大陆上人为地恢复起来的并艰难地支撑着的立法权的三位一体, 在这个国家里却不折不扣的存在着。

——引自《马克思恩格斯全集》第1卷

- (1) 根据材料一并结合所学知识, 概述郑观应的基本观点, 谈谈当时中国人对西方认识的变化。(10分)
- (2) 结合所学知识, 归纳材料二的观点, 材料三中的“三位一体”指的是什么?(7分)
- (3) 根据上述材料并结合所学知识, 以19世纪中期以前的英国为例, 评析被郑观应称之为“体”的发展演变特征。这对中国民主化进程有何启示。(8分)

42. (12分) 阅读材料, 完成下列要求。

材料 二十年来, 我们党在领导改革开放和社会主义现代化建设中积累了丰富的经验, 认真总结并结合实践的发展充分运用这些经验, 对于把我们的事业继续推向前进具有重大的意义。二十年来的主要历史经验, 可以概括为十一个方面。

(一) 必须坚持党的马克思主义的思想路线。(二) 必须全面、正确、积极地贯彻执行党在社会主义初级阶段的基本路线。(三) 必须把集中力量发展社会生产力摆在首要地位。(四) 必须坚定不移地推进改革开放。(五) 必须建立和完善适应生产力发展要求的经济制度和经济体制。(六) 必须坚持建设有中国特色社会主义民主政治。(七) 必须坚持物质文明与精神文明的共同进步。(八) 必须维护和保持安定团结的社会政治局面。(九) 必须为我国改革开放和社会主义现代化建设争取一个长期的和平国际环境。(十) 必须把实现和维护最广大人民群众的利益作为改革和建设的根本出发点。(十一) 必须坚持、加强和改善党的领导。

二十年的历史经验归结到一点, 就是把马克思主义的基本原理同中国的具体实际相结合, 走自己的路, 建设有中国特色社会主义。

——江泽民:《在中共十一届三中全会20周年纪念大会上的讲话》

根据材料并结合所学知识, 就材料整体、局部或其中任意一点拟定一个论题, 并运用中华人民共和国具体史实予以正反论述。(要求: 论题明确, 持论有据, 论证充分, 表达清晰。)

【第26届“皖八”高三3联·文综 第10页(共12页)】 HD—221003C

(二) 选考题:共 25 分。请考生从 2 道地理题、3 道历史题中每科任选一题作答。如果多做,则每科按所做的第一题计分。

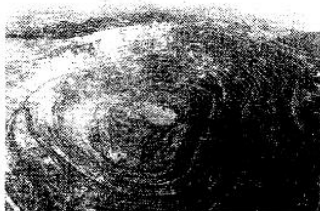
43. [地理——选修 3:旅游地理](10 分)

黑色旅游指人们到死亡、灾难、痛苦、恐怖事件或悲剧发生地旅游的一种现象。黑色旅游是近年来国外,特别是北美地区旅游学界新兴的热点研究领域,也是一个颇具争议的领域。我国某学者提议利用四川省汶川地震遗址发展“黑色旅游”,关于是否利用汶川地震遗址发展“黑色旅游”的争议也随此提议迅速升温。

你是否赞同利用汶川地震遗址发展“黑色旅游”,请表明你的态度并说明理由。

44. [地理——选修 6:环境保护](10 分)

安徽省马鞍山市向山镇南山矿区凹山采场是华东地区最大的露天铁矿矿场,2017 年闭矿,闭矿后,当地政府采取土壤修复、边坡治理、矿坑回填蓄水和林木种植等主要生态修复措施恢复当地的生态环境,构筑“环境宜居宜业、矿区生态修复、产业融合发展”的乡镇生态文明新格局。下图为凹山采场景观图。



指出当地政府对凹山采场采取的主要生态修复措施的生态意义。

45. [历史——选修 1:历史上重大改革回眸](15 分)

材料一 今海宇承平已久,户口日繁,若按见(现)在人丁加征钱粮,实有不可。人丁虽增,地亩并未加广。应令直省督抚,将见(现)今钱粮册内有名丁数,勿增勿减,永为定额。其自后所生人丁,不必征收钱粮。

——《清圣祖仁皇帝实录》卷二四九

材料二 丁口之输赋也,其来旧矣。至我朝雍正间,因各疆吏奏请,以次摊入地亩。于是输纳征解,通谓之地丁,或曰丁随地起。……惟均之于田,能够无额外之多取,而催科易集。其派丁多者,必其田多者也;其派丁少者,亦必有田者也。保甲无减匿,里户不逃亡,贫穷免敲扑,一举而数善备焉。所不使者,独家止数丁而亩连阡陌者耳。

王庆云:《熙朝纪政》

(1) 根据材料,指出清前期的赋税改革措施,并概括其特点。(8 分)

(2) 根据材料并结合所学知识,分析清前期赋税制度改革的影响。(7 分)

46. [历史——选修3:20世纪的战争与和平](15分)

材料一 以下为1919年6月28日,协约国集团签订的对德《凡尔赛条约》的部分内容:

第八十条 德国应照将来奥国与协约国及参战各国所订之条约中规定之疆界,承认并确切尊重奥国之独立;复承认奥国之独立如非经国际联盟行政院之许可,不得变易。

第八十一条 德国承认捷克斯洛伐克之完全独立,一如协约国及参战各国所已为者,该国包括喀尔巴阡山脉以南的罗塞尼亚自治领土……

第八十七条 德国承认波兰完全独立,一如协约国及参战各国所已为者……

——齐世荣:《世界通史资料选辑·现代部分》第1分册

材料二 以下为1937年11月19日希特勒与英国枢密院长哈利法克斯谈话的部分内容:

所有其余一切问题,归纳起来可以说是关系于大概迟早定发生的欧洲秩序变更的问题。这些问题也就是指但泽、奥地利和捷克斯洛伐克而言。

齐世荣:《世界通史资料选辑·现代部分》第1分册

(1)根据材料并结合所学知识,指出凡尔赛体系所倡导的国际关系原则是什么?以此原则是如何处置战败国德国的?(6分)

(2)根据材料并结合所学知识,分析凡尔赛体系在民族问题上的历史影响。(9分)

47. [历史——选修4:中外历史人物评说](15分)

材料 曾有人说,蔡锷很“善变”。

比如他对袁世凯。1912年1月12日,蔡锷在给黎元洪的电文中赞扬袁世凯“宏才伟略,群望所归”,但两周之后,因为袁世凯试图召开“国民会议”商讨有无君主体制可能的时侯,蔡锷又称他为“袁贼”,准备兴兵讨伐。但等到袁世凯逼退清帝,承认中华民国,蔡锷又发电祝贺他“群望所归”。当然,更不要说他之后的反袁了。

还有对革命党人。蔡锷一直拒绝加入同盟会,但在辛亥革命期间,坚决支持同盟会,并且自己投身革命,促成云南独立。然而,在袁世凯被怀疑暗杀宋教仁之后,蔡锷却又坚决阻止革命党人对袁世凯用兵,认为应该遵守《临时约法》,由参议院弹劾,而不是动不动就用武力解决。更不要说孙中山发起“二次革命”,蔡锷其实是持反对意见的,认为这样只会导致国家支离破碎,生灵涂炭。所以在江西、广东各省宣布独立后,云南都督蔡锷反而宣布中立。

——摘编自张玮:《历史的温度》

(1)根据材料并结合所学知识,概括蔡锷对袁世凯和革命党人的态度立场。(6分)

(2)根据材料并结合所学知识,评价蔡锷所谓的“善变”。(9分)

关于我们

自主选拔在线是致力于提供新高考生涯规划、强基计划、综合评价、三位一体、学科竞赛等政策资讯的升学服务平台。总部坐落于北京，旗下拥有网站（[网址: www.zizzs.com](http://www.zizzs.com)）和微信公众平台等媒体矩阵，用户群体涵盖全国90%以上的重点中学师生及家长，在全国新高考、自主选拔领域首屈一指。

如需第一时间获取相关资讯及备考指南，请关注**自主选拔在线**官方微信号：**zizzsw**。



微信搜一搜

自主选拔在线