

高三文科综合能力测试

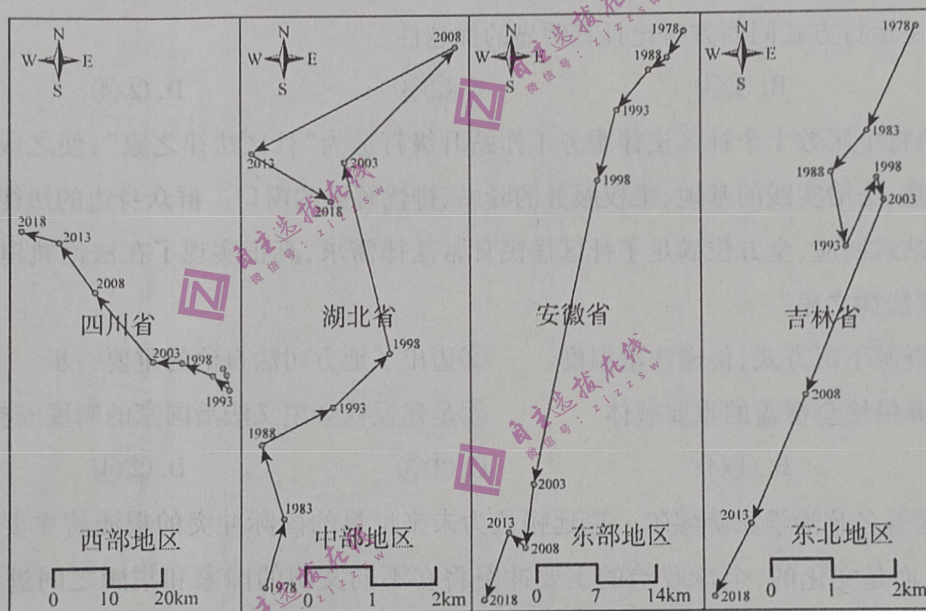
满分:300分 考试时间:150分钟

注意事项:

1. 答题前,考生先将自己的姓名、准考证号码填写清楚,将条形码准确粘贴在条形码区域内。
2. 选择题必须使用2B铅笔填涂;非选择题必须使用0.5毫米黑色签字笔书写,字体工整、笔迹清晰。
3. 请按题号顺序在各题答题区域内作答,超出答题区域书写的答案无效;在草稿纸、试题卷上答题无效。
4. 保持答题卡卡面清洁,不要折叠,不要弄破、弄皱,不准使用涂改液、修正带、刮纸刀。
5. 考试结束后,将本试卷和答题卡一并交回。

一、选择题:本题共35小题,每小题4分,共140分。在每小题给出的四个选项中,只有一项符合题目要求。

改革开放以来,中国人口形势中最引人注目的特点之一就是人口空间分布的剧烈变动。下图示意1978—2018年中国四大地区人口重心迁移轨迹。据此完成1~2题。



1. 与其他地区相比,东部地区人口重心移动

- | | |
|--------------|--------------|
| A. 距离最大,方向偏南 | B. 距离最小,方向偏南 |
| C. 距离最大,方向偏北 | D. 距离最小,方向偏北 |

2. 2008—2013年东部地区人口重心移动方向发生变化的主要原因是

- | | |
|------------------|------------------|
| A. 珠三角高技术产业的快速崛起 | B. 北京奥运会产业链的刺激带动 |
| C. 长三角城市群经济的高速增长 | D. 海南自贸港开放政策效应凸显 |

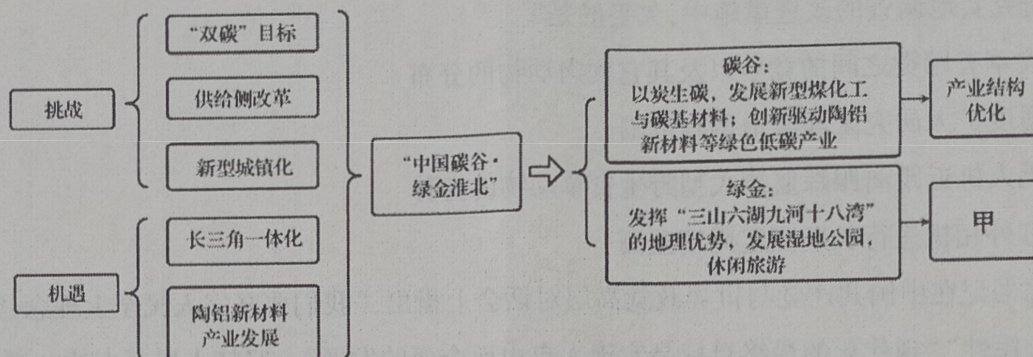
通川区位于川东,海拔多700~1000米左右,耕地以坡地和梯田为主。在高标准农田建设中,通川区打破原有的地块、沟渠、道路之间界限,没有过分追求将田块变大变方正。近两年建成的高标准农田,各季节间作物套作轮作,无一块地闲置。据此完成3~5题。

3. 在实施高标准农田建设过程中,该地未过分追求将田块变大变方正的主要自然原因是
- | | | | |
|---------|----------|---------|----------|
| A. 土层浅薄 | B. 滑坡威胁大 | C. 水源短缺 | D. 暴雨频次高 |
|---------|----------|---------|----------|
4. 高标准农田建设最先影响当地农业的
- | | | | |
|--------|--------|---------|---------|
| A. 商品率 | B. 机械化 | C. 生产规模 | D. 种植结构 |
|--------|--------|---------|---------|

5. 最有可能成为当地秋播秋种的主要粮食作物是

- A. 早稻 B. 春小麦 C. 马铃薯 D. 晚稻

安徽省淮北市1960年因煤设市,经长期大规模开采后,2009年被认定为国家第二批资源枯竭型城市。2016年,淮北市正式确立了“中国碳谷·绿金淮北”的发展战略(见下图)。据此完成6~8题。



6. 与长三角相比,淮北建设“中国碳谷”的主要优势在于

- A. 煤炭资源丰富 B. 土地价格低
C. 工业基础雄厚 D. 劳动力丰富

7. 陶铝新材料技术源自上海,而产业化落在淮北。这一现象突出体现

- ①区域集聚性 ②区域差异性 ③区域生产性 ④区域关联性
A. ①② B. ①③ C. ②④ D. ③④

8. 图中甲为

- A. 生态环境改善 B. 升级服务设施
C. 产业结构多元 D. 缓解就业问题

为了研究不同等级道路对黄河源区藏野驴和藏原羚两种有蹄类动物栖息地适宜性影响,科研人员将研究区内道路网络分成高等级公路和低等级公路,并设定两种情景进行模拟和实地调查验证。下表示意两种情景下藏野驴和藏原羚的适宜栖息地变化。据此完成9~11题。

项目	情景 I		情景 II	
	藏野驴	藏原羚	藏野驴	藏原羚
适宜栖息地面积	4918.22	4041.96	3997.69	2958.98
占黄河源区的面积比例	25.9	21.2	21.0	15.6
栖息地丧失的面积	79.98	333.03	1000.51	1416.01
栖息地丧失的比例	1.6	7.6	20.0	32.4

情景 I:道路变量中只含高等级公路;情景 II:道路变量中只含低等级公路

9. 推测导致不同等级道路对上述动物栖息地适应性影响产生差异的主要因素是

- A. 路线延伸方向 B. 路网密度
C. 交通运输方式 D. 噪音级别

10. 该区生态保护应更加关注

- ①藏野驴
②二者栖息地空间非重叠区域
③藏原羚
④二者栖息地高度破碎化区域
- A. ①② B. ②③ C. ①④ D. ③④

11. 针对该研究实地调查的改进措施中,欠妥的是

- A. 考虑食草有蹄类之间的竞争以及其它食肉动物的分布
B. 考虑适度扩大研究区和实地调查范围
C. 利用无人机近距离跟踪监测大型野生食草动物的迁移
D. 利用红外相机进行长期固定周期监测

12. 习近平总书记在中国共产党与世界政党高层对话会上指出,“我们要坚守人民至上理念,突出现代化方向的人民性”“现代化的最终目标是实现人自由而全面的发展”。坚持人民至上这一观点

- A. 是实现中国式现代化的必由之路 B. 体现了中国式现代化的价值取向
C. 是构建人类命运共同体的重要内容 D. 为各国开辟现代化道路提供基本遵循

13. 习近平总书记在中央党校建校 90 周年庆祝大会上指出党校是党的意识形态工作的重要前沿阵地,国内外都高度关注党校发出的声音,这块重要阵地必须掌握在忠于党、忠于马克思主义的人手里。面对当前复杂多变的国内外形势,党要牢牢把握意识形态的领导权,这要求

- ①党要发扬敢于斗争的精神,把握斗争主动权
②全体党员不忘初心使命,和人民同呼吸共命运
③必须加强党的集中统一领导,推动伟大事业建设
④发挥好党校平台优势,用党的意识形态引导社会思潮

- A. ①② B. ①④ C. ②③ D. ③④

14. 2月13日,《中共中央 国务院关于做好 2023 年全面推进乡村振兴重点工作的意见》(2023 年中央一号文件)发布。这是新世纪以来,中央连续出台的第 20 个指导三农工作的一号文件,发出重农强农的强烈信号。下列对中央一号文件解读正确的是

- ①实现农业现代化是国家当前工作的中心任务
②建设宜居宜业和美丽乡村是农业强国的应有之义
③发展新型农村集体经济,完善农村基本经济制度
④强化政策保障,让广大农民共享改革发展成果

- A. ①③ B. ①④ C. ②③ D. ②④

15. 数字见证不凡历程,彰显民生温度。2022 年,城镇新增就业 1206 万人,新增减税降费超过 1 万亿元,脱贫人口务工规模超过 3200 万人;过去五年,新增劳动力平均受教育年限从 13.5 年提高到 14 年,基本养老保险参保人数增加 1.4 亿、覆盖 10.5 亿人,全国财政支出 70% 以上用于民生。这些数据说明

- ①社会保险是保障基本民生,维护社会稳定的兜底性制度安排
- ②补齐民生短板,增进民生福祉是实现社会公平正义的重要措施
- ③我国坚持开放发展理念,切实解决好发展不平衡不充分的问题
- ④我国发展以人为本,把促进人的全面发展作为出发点和落脚点

A. ①③ B. ①④ C. ②③ D. ②④

16. 有人说西方政党政治是“打橄榄球”,一方只想压倒另一方;我国新型政党政治是“合奏”,中国共产党是“指挥”,各民主党派、无党派人士是不可或缺的参政议政者,在“指挥”的统一引领下,共同奏响中国风格、中国气派、和而不同、美美与共的“交响乐”。这说明

- ①我国在朝党和在野党有着共同的政治思想基础
- ②西方民主政治极化容易给民主运行带来撕裂和对抗
- ③我国民主党派拥有政治协商,参政议政等国家职能
- ④我国的民主运行方式同西方对比具有明显的优越性

A. ①③ B. ①④ C. ②③ D. ②④

17. 近年来,某地将全区数十个社区法律服务工作站升级打造为“社区法律之家”,使之成为社区居民法治宣传的课堂、法治实践的基地、维权服务的驿站、排忧解难的窗口。群众身边的法律难题在这里都可以得到一站式回应,全方位满足了社区居民日常法律需求,真正实现了在法治轨道上为群众遮风挡雨。“社区法律之家”

- ①创新法律资源下沉方式,传递法治温度
- ②迈出了地方司法自治的重要一步
- ③是法律服务供给全覆盖的重要载体
- ④是建设社会主义法治国家的制度安排

A. ①③ B. ①④ C. ②③ D. ②④

18. 1996年,美国著名政治学家萨缪尔·亨廷顿认为未来世界的国际冲突的根源将主要不是意识形态的和经济的,而是文化的,全球政治的主要冲突将在不同文明的国家和集团之间进行,“文明的冲突”将主宰全球政治,文明间的(在地缘上的)断裂带将成为未来的战线。“文明的冲突”理论

- A. 揭示了文明差异的必然性与合理性
- B. 否认了西方文明具有普世的价值性
- C. 说明了不同国家间冲突的根本原因
- D. 忽视了多种文明间交流互鉴的价值

19. 漫画“只顾一头”反映的哲理是



①联系具有多样性,要把握事物存在和发展的条件

②愿望和效果的同一需要主观符合客观要求

③客观的物质条件是实现人生价值的根本途径

④发挥主观能动性是取得成功的关键

A. ①②

B. ①③

C. ②④

D. ③④

20. 2023 年第一季度,我国与东盟贸易总值 1.5 万亿,占我国外贸总值的 15.8%,东盟连续三年成为我国第一大贸易伙伴;我国与欧美日等发达国家贸易总额却出现不同程度降低。同期,我国对“一带一路”沿线国家合计进出口 2.12 万亿元,增长 10.1%。下列对这一现象产生的原因解释正确的是

A. 一些国家强推“脱钩断链”,人为制造全球经济政治一体化障碍

B. 我国对外发展的基点适时调整为新兴市场和“一带一路”沿线国家

C. 中国与“一带一路”沿线国家贸易往来密切,贸易畅通不断深化

D. 中国与东盟贸易在中国对外贸易中发挥着重要支撑作用

21. 在中方支持下,沙特阿拉伯和伊朗于 3 月 6 日至 10 日在北京举行对话。10 日,沙伊两国达成北京协议,中沙伊三方签署并发表联合声明,宣布沙伊双方同意恢复外交关系,开展各领域合作。沙伊复交

①证明了时代主题转变为和平与团结 ②壮大了维护世界和平,促进发展的力量

③展现了中国作为负责任大国的国际形象 ④反映了双方独立自主的和平外交政策

A. ①②

B. ①③

C. ②③

D. ③④

22. 李某和王某系夫妻关系,2014 年,双方购买了一套价值 80 万的房产。2022 年,李某单独与赵某签订房屋买卖合同,将该房产以 100 万元的价格卖给被告赵某,并办理了产权过户登记手续。案涉房屋经司法鉴定,市场价值为 149.56 万元。下列说法正确的是

①李某单独处理夫妻共有财产,属于有权处分

②双方交易价格明显不合理,不构成善意取得

③李某和赵某的交交易违反法律规定,合同无效

④赵某已经通过买卖合同方式取得房屋所有权

A. ①②

B. ①③

C. ②③

D. ③④

23. 某地博物馆一名窃贼盗走数幅名画,警方抓住三个嫌疑犯分别是甲、乙、丙。经过审讯,三人的供词如下:

甲:乙没有偷盗;

乙:甲说的是真的;

丙:甲在说谎。

事实是,三个人有人说谎,但是偷盗者说的是实话。请问,是谁盗走了名画

A. 甲

B. 乙


C. 丙

D. 无法确定

24. 《孟子》记载：舜从田作之中被起用，商代傅说从筑墙劳作中被起用，西周胶鬲从商贩被起用，春秋时管仲被从狱中救出并受到任用，孙叔敖从海滨隐居之地被起用，百里奚被从奴隶赎身和起用。材料说明当时

- A. 治国能臣都出身于社会底层
- B. 社会变迁利于社会阶层的流动
- C. 诸侯纷争导致各国争夺人才
- D. 用人政策调整使贵族政治瓦解

25. 北宋学者朱长文在评价唐朝的一位书法家作品时说：“其发于笔翰，则刚毅雄特，体严法备，如忠臣义士，正色立朝，临大节而不可夺也。”下列符合这一评价的书法作品是



26. 宋元时期，沿海许多地方出现了区域性海神。其中闽南地方海神妈祖于 1123 年被北宋政府敕封“灵应夫人”，开历代帝王封赐之先河。南宋先后 13 次敕封妈祖，将其从“夫人”升格为“妃”。元朝从 1278 年开始对妈祖不间断地敕封，并赐予“天妃”封号。宋元政府重视并敕封海神妈祖本质上反映了当时

- A. 朝廷借助海神神化专制皇权
- B. 多元宗教信仰趋于统一
- C. 对外贸易的发展和地位上升
- D. 官方扶持地方民俗文化

27. 明朝的《兵录》、《西法神机》和《火攻挈要》等军事书籍中，都从射击学的角度，列举了一些射角与射程关系的数据，以及改变俯仰角与射程变化的关系，并对弹丸射出后的弹道抛物线作了定性研究。材料说明，明朝

- A. 军事科技理论研究有所发展
- B. 重视学习欧洲先进军事技术
- C. 强调数学知识与科技的结合
- D. 火器制造与战法均领先世界

28. 左宗棠创办洋务企业时，都要与所聘洋匠签订“条约”，规定洋匠在服务期限内，教会中国员匠“自能监造、驾驶”，“方为教有成效”并获奖励，否则无奖。据此推知，左宗棠与洋匠签约的主要意图是

- A. 调动所聘洋匠的工作积极性
- B. 严格对企业的生产管理
- C. 摆脱企业对洋匠的技术依赖
- D. 防止洋匠操控洋务企业

29. 下表内容主要表明, 中华苏维埃共和国临时中央政府

时间和名称		1931年《中华苏维埃婚姻条例》
科目	总则	婚姻自由原则, 一夫一妻
	离婚自由	双方同意或一方提出可离
	离后居处	男子给女方一半
	离后财产	土地在男方, 男需为女代耕, 债务男偿
	离后孩子抚养	一般归父抚养; 母抚养田随孩走父需付 2/3 费用到 16 岁

- A. 重视立法保护妇女的基本权益
B. 使苏区妇女从封建束缚中解放出来
C. 依法破除约束妇女的婚姻陋习
D. 将革命事业与妇女的解放紧密联系

30. 抗日战争时期的延安, 有抗日军政大学、延安大学、鲁迅艺术学院、马列学院、中央党校、泽东青年干部学校。经常有学员毕业后调到华北、华中各抗日根据地去战斗。敌后的干部, 也不断调回延安学习。据此判断, 这些学校

- A. 为全国抗战培养了各类实用人才
B. 发展了学生的个性特长
C. 有利于提高抗日民众的斗争水平
D. 服务于抗战的实际需要

31. 新中国在 50 年代初进行了农村合作医疗的尝试。1960 年农村合作医疗覆盖率达到 40%, 到 1980 年达到 90%, 保障了农村的基本医疗需求, 长期为人称道, 曾获世界卫生组织赞誉。这说明我国农村合作医疗制度

- A. 满足了农民对医疗卫生的需求
B. 适应了特定时期经济社会发展需要
C. 促进了医疗卫生技术的现代化
D. 引领了世界医疗卫生发展的新方向

32. 下表有关希腊文明的论述, 表明希腊文明的重要特点是

在希腊文化中, 几乎没有什么文化因子不能追溯到外族源头的。	(美) 拉尔夫·林顿 《文化树》
如果没有东方文化精华的渊源, 希腊的科学或者不能建立, 而在这意义下, 我们也就不能说希腊的奇迹了。	(法) 莱昂·罗斑 《希腊思想和科学精神的起源》
东方世界是希腊世界的基础。	(德) 黑格尔《历史哲学》
如果没有埃及和美索不达米亚的成就, 古希腊不可能在科学和思想文化上如此辉煌。	(美) 莫西斯·哈达斯 《希腊戏剧》

- A. 重视科学研究
B. 善于吸纳融合
C. 民族特色鲜明
D. 居于领先地位

33. 下图漫画《对照》反映了 1792 年英法两国的社会状况(漫画中单词 contrast 和 liberty 分别意为对照、自由之意)。据此可知,该漫画

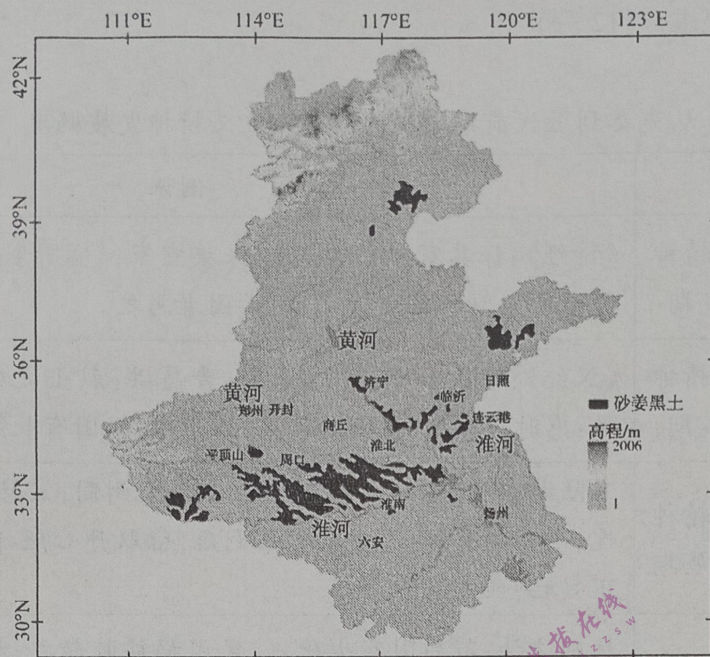


- A. 比较了英法两国不同的社会制度
 B. 赞赏工业革命后英国成为世界工厂
 C. 讽喻英法两国长期争夺海上霸权
 D. 不满法国以激进手段实现革命目标
34. 1815 年,第一个和平协会在纽约成立,不久,伦敦、巴黎也成立了类似的协会。1889 年,在巴黎召开了第一届世界和平大会,1895 年诺贝尔在将其遗产设立奖项时,列上了和平奖。据统计,到一战爆发前,欧美国家约有 100 万人参加过各类和平活动。这反映出
- A. 拿破仑战争促进欧美国家民族意识觉醒 B. 反战人士对世界和平的追求
 C. 欧美国家和民间力量合作推进世界和平 D. 威斯特伐利亚体系影响深远
35. 二战后,日本、欧盟及第三世界国家经济得到较快发展,而美国经济发展平缓,贸易逆差愈加严重,各国向美国兑换美元,美元大量外流,美元危机频发。1971 年 8 月,尼克松政府宣布实行“新经济政策”,停止了美元与黄金的兑换义务。这意味着
- A. 布雷顿森林体系已难以为继
 B. 国际货币基金组织无所作为
 C. 美国学习苏俄调整经济政策
 D. 各国努力摆脱美国金融控制

二、非选择题:本题共 10 题,共 160 分。

36. 阅读图文材料,完成下列要求。(30 分)

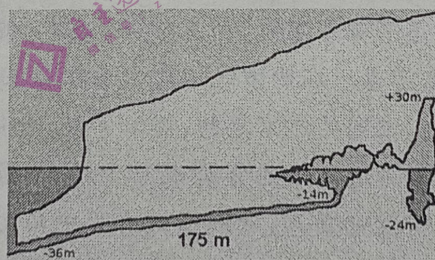
砂姜黑土是我国典型的中低产田土壤类型之一,分布面积高达 400 万公顷。砂姜黑土黏粒含量高且富含膨胀性黏土矿物,湿时膨胀黏闭、干时龟裂僵硬。砂姜黑土分布区易旱易涝。改良砂姜黑土,提高耕地质量,对保障我国粮食安全具有重要意义。秸秆腐解需要在合适的水分和温度条件下进行,所以在利用玉米秸秆改良砂姜黑土的过程中,需趁秸秆青绿时及时粉碎还田。下图示意我国砂姜黑土分布。



- (1) 根据材料,指出砂姜黑土的分布特点。(8分)
- (2) 分析砂姜黑土分布区易旱易涝的自然原因。(8分)
- (3) 试对“需趁秸秆青绿时及时粉碎还田”的合理性作出解释。(8分)
- (4) 从保障我国粮食安全的角度,简述砂姜黑土改良的必要性。(6分)

37. 阅读材料,回答下列问题。(26分)

科斯克洞穴位于法国南部地中海沿岸,以发现者科斯克的名字命名。洞穴唯一入口位于现海平面以下36米,洞内有各种各样的史前壁画,其中能够认出的动物有马、海豹、各种鱼类,大部分是海洋生物,且很多壁画已严重受损。经研究人员测定,动物壁画约为2万年前的古人类遗迹。下图示意科斯克洞穴纵剖面(图示175米为入口至洞穴的距离,其余标注为海拔)。



- (1) 说出该洞穴所在地2万年前的自然地理环境特点。(8分)
- (2) 从气候与海平面的关系角度,简述距今2万年以来洞穴入口的位置变化。(6分)
- (3) 根据材料,说出现今进入该洞穴面临的困难。(6分)
- (4) 说明导致洞穴内很多壁画受损严重的地质原因。(6分)

38. 阅读材料,完成下列要求。(10分)

中国产生了共产党,这是开天辟地的大事变。我们党团结带领人民于“漏舟之中”走向站起来,于“濒临崩溃边缘”走向富起来,于“滚石上山”走向强起来,深刻改变了近代以后中华民族发展的方向和进程,深刻改变了中国人民和中华民族的前途和命运,深刻改变了世界发展的趋势和格局。历史雄辩的证明:人民选择了中国共产党,中国共产党也没有辜负人民的选择!

根据中国共产党的有关知识,你是如何理解“人民选择了中国共产党,中国共产党也没有辜负人民的选择”这句话的。

39. 阅读材料,完成下列要求。(10分)

“调查研究是谋事之基、成事之道”。做好调查研究工作,更要带着问题下基层。近日,中共中央办公厅印发了《关于在全党大兴调查研究的工作方案》,并发出通知,要求各地区各部门结合实际认真贯彻落实。如何解决好人民群众关心的衣食住行、教育就业、医疗养老、文化体育等问题?心里不装着问题,到基层也只能是一无所获,找不到解决问题的办法。要“带着问题下基层”,变“无的放矢”为“精准调研”靶向发力。带着我们在工作中遇到的困难和问题,平心静气地坐下来,听听基层干部怎么说,看看一线群众怎么干,就能收获更多解决问题的“金点子”,用心、用情、用力为群众办实事,才能做好群众的“知心人”“贴心人”。

根据材料,运用认识社会和价值选择知识分析我党此时号召在全党大兴调查研究的哲学依据。

40. 阅读材料,完成下列要求。(10分)

近年来,西方国家经常拿着所谓的“修昔底德陷阱”炒作“中国威胁论”,其实质就是想要借此恫吓、威胁中国,对中国的崛起进行打压。所谓“修昔底德陷阱”是指一个迅速崛起的大国与处于主要统治地位大国之间存在的危险态势,其源于欧洲历史学家修昔底德所描写的古希腊城邦之间的现象,后来被引用、延伸为迅速崛起的中国有可能取代美国的地位。

假如你是外交部发言人,请你利用当代国际政治与经济的有关知识对所谓“修昔底德陷阱”进行批驳。

41. 阅读材料,完成下列要求。(12分)

老张夫妇有两个儿子,夫妇俩婚后买了一套房子,登记在老张名下,老伴去世后老张和小儿子一起住在这套房子。老张因担心自己过世后分割财产出现纠纷,特意留下书面遗嘱写明该套住房归小儿子所有。不久老张过世后,老张两个儿子对房子所有权产生纠纷。老张大儿子将小儿子告上法庭。

(1) 该起案件属于什么性质,该由谁负责提供证据。(6分)

(2) 老张小儿子是否能按照遗嘱继承该套房产,为什么?(6分)

42. 阅读材料,完成下列要求。(10分)

我国夜经济蓬勃发展让一众城市迅速“出圈”。但随之而来的盲目跟风、一哄而上、照抄照搬也是层出不穷。

某地推动夜经济与饮食文化、民俗文化、节庆会展文化等深度融合,不断提升夜经济的文化含量,形成具有地方文化特色的夜经济模式,满足市民和游客更高层次的需求,提升消费体验,增强城市竞争力和影响力。在越来越多城市与夜经济“双向奔赴”的趋势下,让火起来的夜经济持续火下去,不仅要“出圈”,更要在文化上做足文章,让夜经济“破圈”。

运用《逻辑与思维》中辩证的否定观的知识,请你谈谈该如何让火起来的夜经济顺利的“破圈”。

43. 阅读材料,完成下列要求。(25分)

材料一 苏联现代化是在国有化、集体化、工业化和指令性计划经济基础上,由国家控制和组织的赶超资本主义的模式。国有化和指令经济是苏联现代化模式形成和运转的基础,也是区别于西方模式的本质特征。苏联的现代化,是以赶超资本主义国家和增强军事实力为主要目标的。为了赶超,优先发展重工业。苏联模式生存近一个世纪,它的主要生命力是,在短时间内利用国家力量,发展国家急于发展的项目,尤其是军事类项目,具有实效性。但作为一种长远的现代化运作模式,因其存在诸多弊端而难以适用。

——摘编自雷丽平《俄罗斯的历史传统与苏联现代化》

材料二 自1840年以来中国现代化先后经历了以洋务运动、戊戌变法、辛亥革命、新文化运动等为代表的一系列现代化变革,但是仅仅在器物、制度或思想等单一向度上进行现代化改良,无法改变旧中国内忧外患的悲惨命运。新中国成立以来,中国共产党领导人民不断探索现代化道路,逐步从以物质层面的工业、农业、国防和科学技术“四个现代化”为战略重点过渡到物质和精神“两个文明”一起抓,再拓展到物质、政治和精神“三个文明”建设,再上升到经济、政治、文化和社会建设四位一体布局,进而升级为今天的经济、政治、文化、社会和生态文明“五位一体”总体布局。中国式现代化在横向上统筹兼顾各个方面的协调发展,在纵向上综合平衡各个方面的发展差距,努力实现全方位的平衡协调、健康持续发展。

——摘编自刘雷《中国式现代化破解人类发展八大难题》

- (1) 根据材料一并结合所学知识,指出苏联现代化所取得的实效并简析其主要弊端。(12分)
- (2) 根据材料二并结合所学知识,说明中国近代一系列现代化变革无法改变国家命运的主要原因,概括中国式现代化的主要特点。(13分)

44. 阅读材料,完成下列要求。(12分)

材料

从先秦到近代前期中华民族爱国主义精神发展概况

阶段	特征	例证
先秦	爱国主义精神初步形成期	《诗经》:保其家邦;《左传》:保族宜家;《孟子》:以安社稷为悦;《晏子春秋》:利于国者爱之,害于国者恶之。
汉至唐	爱国主义精神确定形成期	《汉纪》:亲民如子,爱国如家;晋葛洪:烈士之爱国也如家;唐陈子昂:感时思报国,拔剑起蒿莱;唐李白:报国有长策,成功羞执珪。
宋至清前期	爱国主义精神成熟和发展期	宋陆游:死时元知万事空,但悲不见九州同;宋范仲淹:先天下之忧而忧;元初文天祥:人生自古谁无死,留取丹心照汗青;清初顾炎武:天下兴亡,匹夫有责。
近代前期	爱国主义精神发扬和升华期	林则徐诗:苟利国家生死以,岂因祸福避趋之;秋瑾:拼将十万头颅血,须把乾坤力挽回;兴中会誓词:驱除鞑虏,恢复中国,创立合众政府;保国会宗旨:保全国地、国民、国教;五四运动:外争国权,内惩国贼。

——摘编自陈来《论中华民族爱国主义的精神》

从整体或某一阶段的角度提炼表中相关信息,结合所学知识确定一个主题,自拟论题予以阐释。(要求:主题突出,论题明确,史论结合,逻辑清晰)

45. 阅读材料,完成下列要求。(15分)

材料 中华文化在欧洲经过一百多年的传播、发酵,到18世纪,在欧洲出现了学习中华文化的热潮。伏尔泰、莱布尼茨、狄德罗等欧洲思想家都在学习、研究中华文化。他们发现,没有所谓神的启示,中国人竟然也可以理性、强盛而富足地生活着。在西方统治者主要依靠宗教权威来统治之时,中国的君主却在运用理性的道德权威来治理国家。中国的道家思想、儒家学说、世俗皇权都崇尚理性、自然和道德,科举制度远比西方的贵族骑士世袭制度先进。政府官员来源于社会,政民一体,以民为本。这些发现,在欧洲社会引起了轩然大波。仅十八世纪的前期,欧洲出版有关中华文化、思想、政治、风物的著作近600部。伏尔泰赞美孔子只诉诸道德、不宣传神力、不要暴力和迷信的思想,他把孔子的“己所不欲,勿施于人”作为自己的座右铭。欧洲的思想家以东方思想为武器,对基督教宗教神权发起冲击和挑战,启蒙运动在欧洲各国如火如荼地迅速展开。

——摘编自叶廷芳《十八世纪欧洲文化中的中国风》

- (1) 根据材料并结合所学知识,归纳中华优秀传统文化的基本内涵。(6分)
- (2) 根据材料并结合所学知识,简析欧洲思想家重视学习和研究中华文化的原因。(9分)