

# 文科综合

## 考生注意：

1. 答题前,考生务必将自己的姓名、考生号填写在试卷和答题卡上,并将考生号条形码粘贴在答题卡上的指定位置。
2. 回答选择题时,选出每小题答案后,用铅笔把答题卡对应题目的答案标号涂黑。如需改动,用橡皮擦干净后,再选涂其他答案标号。回答非选择题时,将答案写在答题卡上。写在本试卷上无效。
3. 考试结束后,将本试卷和答题卡一并交回。

一、选择题:本题共 35 小题,每小题 4 分,共 140 分。在每小题给出的四个选项中,只有一项是符合题目要求的。

创鲜智慧农业示范园是广州市增城区建立 5G 智慧农业示范园区的试点之一,园区以种植番石榴为主,拥有较为完善的农业产业链及良性循环模式(图 1)。示范园建成后,通过旅游、电商等项目带动了农产品的销售,销售额达 1 400 万元。据此完成 1~3 题。

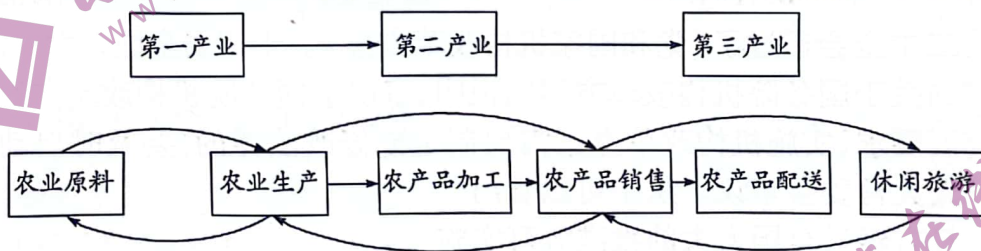


图 1

1. 下列属于第一产业循环模式的是  
A. 通过鲜果销售,对接农产品冷链配送  
B. 分析番石榴的生长状况,反向促进品种优化  
C. 分析销售数据,制定合理的生产计划  
D. 根据消费者的反馈,规划旅游,推动农产品销售
2. 智慧农业生产方式在该园区农业产业链中的作用有  
①优化农作物的生长环境 ②增加农田生态系统中的物种多样性 ③减轻生产风险和市場风险 ④满足消费者对农产品数量的需求  
A. ①②  
B. ①③  
C. ②③  
D. ②④
3. 目前该园区还引进了家禽及其他动物养殖,其主要目的是打造  
A. 营销方式多样的商品农业  
B. 产品附加值高的品牌农业  
C. 利于生态保护的循环农业  
D. 不施农药化肥的绿色农业

梅雨是东亚春末夏初特有的天气现象,其形成与中高纬冷空气南下和暖湿空气输送关系密切。2019年浙江省梅雨期降水偏多,气温偏低,出现了少有的“冷黄梅”现象。图2示意2019年及2011—2019年500百帕等压面沿110°E~140°E平均位势高度(单位:位势米)逐日变化情况(等压面位势高度越高,同一海拔高度气压值越高)。图中虚线为副热带高压西段脊线,当其稳定维持在18°N~23°N时,浙江省处于梅雨期。据此完成4~6题。

4. 与多年平均情况相比,2019年浙江省

- A. 入梅时间较早
- B. 出梅时间较早
- C. 梅雨期较短
- D. 暴雨次数较多



5. 2019年浙江省出现“冷黄梅”现象的主要原因是

- A. 副高偏南偏强,暖湿气流输送异常偏多
- B. 副高偏南偏弱,暖湿气流输送时间延长
- C. 副高偏北偏强,南下冷空气异常偏多
- D. 副高偏北偏弱,南下冷空气滞留时间延长



图2

6. 研究显示,印度洋和西太平洋的海温变化会引起两大洋间纬向大气环流的异常变化。2019年浙江省梅雨期期间

- A. 印度洋和西太平洋海温均偏高
- B. 印度洋和西太平洋海温均偏低
- C. 印度洋海温偏高,西太平洋海温偏低
- D. 印度洋海温偏低,西太平洋海温偏高

栎树为落叶或常绿乔木,少数为灌木。秦岭山区栎类树种资源丰富,属山地落叶阔叶林。重要值是衡量物种在群落中地位和作用的重要指标,常采用相对密度、相对频度和相对显著度来衡量。图3示意秦岭主峰太白山南、北坡不同栎类树种重要值随海拔的变化情况,据此完成7~9题。

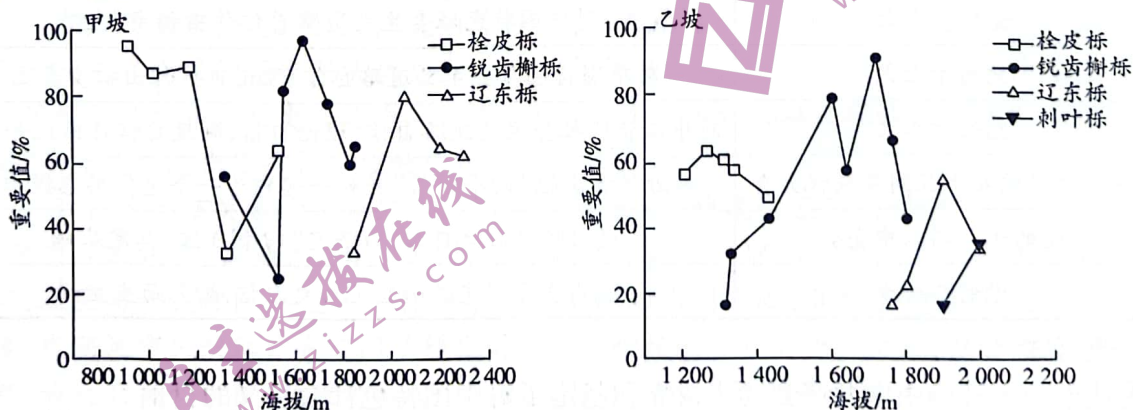


图3

7. 随海拔升高,太白山南、北坡栎类树种的垂直分布格局是

- A. 栓皮栎—辽东栎—锐齿槲栎
- B. 栓皮栎—辽东栎—刺叶栎
- C. 栓皮栎—锐齿槲栎—辽东栎
- D. 锐齿槲栎—辽东栎—刺叶栎

8. 下列对太白山坡向的判断及其依据,正确的是
- A. 甲坡为北坡,栎树起始海拔较低  
B. 甲坡为南坡,栎树分布海拔跨度较大  
C. 乙坡为北坡,栎类树种类型较多  
D. 乙坡为南坡,栎类树种重要值高
9. 太白山南、北坡栎类树种重要值的高低主要取决于
- A. 风速大小  
B. 人类活动多少  
C. 海拔高低  
D. 伴生树种多少

雄安新区是党中央、国务院于2017年决定设立的国家级新区,其功能定位是北京非首都功能集中承载地,是一个新理念、新产业发展的地方,而不是一个经济型的新区。2010—2020年雄安新区人口年均增速1.35%,高于全国(0.53%)和河北省(0.38%)同期人口增速,但与深圳经济特区、上海浦东新区设立之初相比,人口增速略慢。据此完成10~11题。

10. 雄安新区设立之初人口增速较深圳经济特区和上海浦东新区设立之初慢的主要原因是
- A. 功能定位不同  
B. 占地面积较小  
C. 户籍限制较大  
D. 经济基础较差
11. 雄安新区发展过程中
- A. 家庭结构向多世代化转变  
B. 人口老龄化趋势加重  
C. 第一产业就业人口增加最明显  
D. 高学历人口增加明显
12. 法国经济学家圣西门(1760~1825年)看到当时法国劳苦大众所遭受的苦难,立志做“工人阶级的代言人”。他的理想是依靠说服的办法,建立一种由实业家和学者领导的“实业制度”。为此,他把赚来的钱用于科学研究、结识教授虚心求教以及四处游历,但终以失败告终。圣西门失败的原因有
- ①没有揭露资本主义的弊端和资本剥削的秘密  
②仅从理性和正义角度设计未来社会的美好蓝图  
③没有找到建立新社会的依靠力量和正确途径  
④仅仅揭示了当时资本主义社会运行的特殊规律
- A. ①③  
B. ①④  
C. ②③  
D. ②④
13. 中国共产党“四个自信”理论的形成和发展是一个过程。

表1

党的十六大	对中国特色社会主义道路自信作出初步表述
党的十七大	对中国特色社会主义道路自信、理论自信作出初步表述
党的十八大	对中国特色社会主义道路自信、理论自信、制度自信作出最早表述
中国共产党九十五周年庆祝大会	习近平首次把“四个自信”并列一起作为一个整体思想提出来
党的十九届六中全会	提出坚定历史自信,为坚定“四个自信”奠定基础
党的二十大	提出全党同志务必坚定历史自信,增强历史主动

由此可知

- ①从十六大开始中国共产党逐步树立和坚定了对中国特色社会主义的自信  
②习近平新时代中国特色社会主义思想在几代共产党人接续奋斗中形成、完善  
③改革开放、中国特色社会主义新时代历史性成就是“四个自信”最坚实的基础  
④党的历史自信、历史主动精神在中国特色社会主义伟大实践的锻造中形成
- A. ①②  
B. ②③  
C. ①④  
D. ③④

14. 随着北京、上海、深圳等全国多个城市陆续出台政策支持“外摆位”、支持打造“夜市经济”，并配套一系列执法管理的要求，人们普遍为烟火气的回归欢欣鼓舞。近期爆火的淄博，凭借“小火炉、小饼、蘸料”的烧烤三件套及其背后浓浓的人间烟火气出乎意料地“出圈”，成为当前夜间经济繁荣发展的代表。各地夜市充满活力

- ①成为畅通国内大循环的重要引擎
  - ②对稳定就业起到了积极促进作用
  - ③释放了消费市场强劲复苏的信号
  - ④表明经济发展方式转变成效显著
- A. ①②                      B. ①④                      C. ②③                      D. ③④

15. 阅读 2023 年前 5 月我国汽车产销变化情况(见图 4)。不考虑其他情况,可推知我国

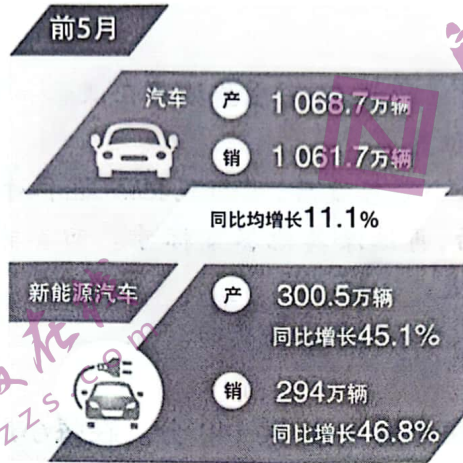


图 4

- ①汽车供销两旺,汽车市场持续向好发展
  - ②推动产业融合,构建新型汽车产业生态
  - ③坚持绿色发展,汽车产业结构不断优化
  - ④打造一流品牌,提升汽车产品供给质量
- A. ①③                      B. ①④                      C. ②③                      D. ②④

16. 党的二十届二中全会通过了《党和国家机构改革方案》。十四届全国人大一次会议听取了国务院所作的关于国务院机构改革方案的说明,审议了国务院机构改革方案,决定批准这个方案。会议要求,实施机构改革方案需要制定或修改法律的,要及时启动相关程序,依法提请全国人大常委会审议。从中可以看出

- ①党的决策只有经过全国人大的批准方可实施
- ②党的领导、人民当家作主和依法治国的有机统一
- ③人民代表大会制度在我国政治制度体系中居于核心地位
- ④人民代表大会制度保证了国家机关协调高效运转

- A. ①③                      B. ①④                      C. ②③                      D. ②④

17. 近日,某区检察院在对社区矫正工作进行巡回检察时,特别邀请了人民监督员(群众代表)全程参与,并听取意见建议,以实际行动回答了“谁来监督监督者”的问题。检察院邀请人民监督员参与巡回检察

- ①有利于提升检察工作的司法公信力
- ②从根本上确保检察权依法独立行使
- ③是落实全过程人民民主的重要举措
- ④筑牢维护公平正义的最后一道防线

- A. ①②                      B. ①③                      C. ②④                      D. ③④

18. “你们在信中说,走进乡土中国深处,才深刻理解什么是实事求是、怎么去联系群众,青年人就要‘自找苦吃’,说得很好。”不久前,习近平总书记给中国农业大学科技小院的同学回信,充分肯定同学们走进乡土中国深处“自找苦吃”的精神,强调“新时代中国青年就应该有这股精气神”。总书记之所以点赞“自找苦吃”的精神,是因为

- ①社会提供的客观条件是人们创造价值的前提
- ②越是在艰苦的环境下,越能实现人生价值
- ③正确的价值观会引导人们走美好的人生道路
- ④青年要在艰难困苦中磨炼意志、增长才干

A. ①②                      B. ①④                      C. ②③                      D. ③④

19. 作为我国重要的传统节日之一,端午节承载着厚重的传统文化。不仅是赛龙舟,从包粽子到佩香囊,从插艾草到挂菖蒲,端午节有形式多样的传统习俗(如图5所示);龙舟节、天中节、端阳节、浴兰节、诗人节……端午节还有众多的别名。从材料可以看出



图5

- ①经过岁月的沉淀,端午节被赋予了多重意义
- ②端午文化塑造文化认同,具有重要的当代价值
- ③端午文化源远流长,因交流交融而丰富多彩
- ④端午习俗赋予生活仪式感,端午文化根植人心

A. ①③                      B. ①④                      C. ②③                      D. ②④

20. 2023年4月15日落幕的第三届中国国际消费品博览会,共有来自65个国家和地区的超过3300个消费品牌参展,参展品牌数较上届增加19%,进场观众超过32万人次。同日,第133届中国进出口商品交易会恢复线下举办,作为联通中国与世界的贸易桥梁,广交会服务国际贸易、促进内外连通、推动经济发展的作用更加凸显。上述“两会”举办

- ①彰显中国同世界共享机遇、共创未来的开放胸怀和大国担当
- ②旨在通过拓展对外贸易,把发展主动权牢牢掌握在自己手中
- ③推动我国放宽市场准入,促使更多优质企业更好地“走进来”
- ④表明中国积极顺应经济全球化进程,不断提高对外开放水平

A. ①③                      B. ①④                      C. ②③                      D. ②④

21. 2023年是上合组织走过的第二十二个年头。二十二载砥砺前行、同舟共济,无论国际风云如何变幻,“上合大家庭”以上合组织宪章和成员国长期睦邻友好合作条约的思想基石和行动指南,秉持“上海精神”一路前行,朋友圈越来越大。上合组织发展壮大

- ①体现了相互尊重、公平正义、合作共赢的新型国际关系
- ②彰显了开放包容、合作共赢的“上海精神”超越地域的生命力
- ③使其成长为亚洲最令人瞩目的综合性区域组织
- ④顺应当今时代潮流、契合人类进步方向,利于世界和平与发展

A. ①②                      B. ①④                      C. ②③                      D. ③④

22. 2013年2月4日,某区人民法院就刘某诉周某明离婚纠纷作出民事调解书,确认刘某与周某明离婚,名下夫妻共有房产均自愿赠与婚生女周某所有,剩余房贷由周某偿还。2021年4月20日,周某还清房贷后办理了房屋产权变更登记。该房产归周某所有的生效时间为

- A. 法院离婚调解书生效时
- B. 周某还清房屋贷款解除抵押后
- C. 周某第一次开始还贷时
- D. 周某办理房屋产权变更登记后

23. 习近平在中国—中亚峰会上的主旨讲话中指出,中国陕西有句农谚,“只要功夫深,土里出黄金”。中亚谚语也说,“付出就有回报,播种就能收获”。由上述谚语可推断
- ①只要有收获,就一定有播种                      ②没有付出,所以一定没有回报  
③没有收获,就一定没有播种                      ④没有回报,所以一定没有付出
- A. ①②                      B. ①④                      C. ②③                      D. ③④
24. 根据碳—14 法测定,浙江上山遗址约距今 11400—8600 年。该遗址发现了居址、墓葬、环壕等遗迹,出土了大量石球、石磨盘以及陶器残片若干,还有一些红烧土残块,土块内掺杂了大量的碳化稻壳。这些发现证实
- A. 农耕生产已经取代采集渔猎活动                      B. 稻谷是古代先民的主要食物来源  
C. 人类征服和利用自然的能力提高                      D. 社会上贫富分化现象进一步加剧

25.

表 2

史料内容	来源
晋侯观于军府,见钟仪。问之曰:“南冠而縶者,谁也?”有司对曰:“郑人所献楚囚也。”使税之,召而吊之。再拜稽首。问其族,对曰:“泠人也。”公曰:“能乐乎?”对曰:“先人之职官也,敢有二事?”使与之琴,操南音	《左传·成公九年》
夫齐之水道(道)躁而复,故其民贪粗而好勇;楚之水淖弱而清,故其民轻果而贼;越之水浊重而洧,故其民愚疾而垢。……宋之水轻劲而清,故其民闲易而好正	《管子·水地篇》

表 2 中的两则史料反映出春秋战国时期

- A. 民族交融程度日益加深                      B. 文化的多样性受到关注  
C. 地域间的文化交流频繁                      D. 治国理政突出民本理念
26. 511 年,梁武帝下诏:“其有能通一经、始末无倦者,策实之后,选可量加叙录。虽复牛监羊肆,寒品后门,并随才试吏,勿有遗隔。”这一措施的实施
- A. 源于门阀士族的诉求                      B. 有助于社会习俗改良  
C. 制约了儒家文化认同                      D. 扩大了政权社会基础
27. 宋朝,泉州人王元懋滞留占城十年;在高丽,有“明州杜道济、祝延祚随商船到本国,不还”,“盖缘濒海豪户利在窝赃,巡尉、水军与为表里,洎其败获,狱吏又阴与为市”。这说明当时
- A. 国家对社会控制松弛                      B. 社会阶级矛盾尖锐  
C. 国家财富转移的频繁                      D. 民众道德修养低下
28. 洋务运动时期,具有商洽性特色的照会文种在外事交涉过程中使用最为频繁;条约文种数量较 1861 年之前大幅减少;多呈现合作性质的章程文种数量逐渐高过条约文种,成为这一时期缔约类文种的主导。这反映出晚清政府
- A. 对外交往的艰难抗争                      B. 抛弃了闭关锁国政策  
C. 维护与列强平等关系                      D. 逐渐接受了国际惯例
29. 20 世纪初,《安徽俗话报》认为“一国的矿产若落在外国手里,那一国的死命,便也握在外人掌中。……那时全国的人,只有供他奔走,仰他鼻息了。万世子孙,那有翻身的日子呢。”所以在《安徽俗话报》看来,中国失去了矿产的利权,便是一种已经灭亡的现象了。这一认识
- A. 反映出民族意识的萌发                      B. 深受实业救国思潮影响  
C. 推动了保路运动的兴起                      D. 揭示出社会矛盾的变化

30. 1940年,晋察冀边区行政委员会颁布《二十年内典当地收回法令》规定:“典当地出典后未出二十年者,典物均得回赎,如典权人强将典物取得者,出典人均得以原典价回赎;如出典人缺乏现金无力回赎者,应将典物从典权人手中收回,照原典价与典权人订立借贷典约,按年利率一分行息。”这一规定意在

- A. 健全根据地财政体系
- B. 激发农民生产积极性
- C. 废除地主土地所有制
- D. 推动政治民主化建设

31. 1998年,哈尔滨松花江水位达到历史最高的120.89米,张滨创作的新闻漫画《洪水滔滔见真情》(部分)(图6)刊于《黑龙江日报》。这反映出



图6

- A. 民众抗洪的真实场景
  - B. 市场经济趋利现象明显
  - C. 社会主旋律得到弘扬
  - D. 干群关系得到社会认可
32. 据《帕勒摩石碑》的铭刻,古埃及每年都有关于尼罗河洪水泛滥高度的记载,如第一王朝(约公元前3100—前2890年)就有“王T,第一年,六肘”“第三年,四肘一掌”“第五年,五肘五掌一指”“第六年,五肘一掌”的记录。这一做法
- A. 推动了古代埃及文明的发展
  - B. 说明法老严格地控制国家经济
  - C. 决定了农业丰歉和社会兴衰
  - D. 表明国家实现了高度集权统一
33. 据记载,阿拉伯帝国境内有众多的繁华城市,如巴格达城内国内外商品应有尽有,分为果市、布市、食品市、羊市、钱市等。奴隶作为特殊商品其买卖十分兴盛。936年,一个波斯商人用40艘船从非洲运来12000名黑奴。这反映出,阿拉伯帝国
- A. 是文明交流融合的使者
  - B. 阻断了东西商业通道
  - C. 对外扩张战争极其残酷
  - D. 国内外商业贸易兴旺

34. 表3

国家	事件
希腊	1821年起义,从土耳其手中获得独立
比利时	1830年摆脱荷兰统治而独立
意大利	经历了1820年、1830年、1848年无效起义之后,在1859—1871年间建立了一个独立的、统一的国家
德国	在普鲁士领导下,于1866年击败奥地利,于1870—1871年击败法国,建立德意志帝国

表3中的事件

A. 刺激欧洲走上一体化道路

B. 动摇了世界殖民体系基础

C. 促使资产阶级代议制确立

D. 加速了维也纳体系的崩溃

35. 2014年,首批意向创始成员国的财长和授权代表在北京签署了筹建亚洲基础设施投资银行备忘录,决定成立亚投行,当时签署的成员国主要是发展中国家。因美国施压,直到2015年4月第四次谈判代表会议时,德国、意大利、法国、澳大利亚等众多发达国家才加入。这表明

A. 发达国家与发展中国家的二元对立加剧

B. 发达国家阻挠经济全球化的进程

C. 合理的世界经济秩序符合各国共同利益

D. 资本主义阵营出现了瓦解的趋势

二、非选择题:本题共9小题,共160分。

36. 阅读图文材料,完成下列要求。(28分)

索菲亚科技园(见图7)位于法国东南部的著名旅游胜地,20世纪60年代由私人创建,1977年转让给政府,目前已发展成为以高新技术产业与高端服务业为主的世界知名园区,在欧洲科技园区中具有重要地位。园区在成长过程中经历了由“外部驱动”向“内部驱动”转型的过程:20世纪90年代之前,园区通过国内外宣传、基础设施建设等吸引了美日等国的跨国公司办事处和研发机构入驻,实现了快速的量变增长,但是这些机构主要与其总部联系,对外封闭性高;90年代之后,跨国企业的分支部门相对减少,本土化创新企业和学术研究机构大量衍生并迅速成长,成为推动园区发展的关键力量。



图7

(1) 指出原有旅游业为索菲亚科技园的建立创造的优越条件。(6分)

(2) 1977年索菲亚科技园转让给政府,说明政府在此阶段发挥的重要作用。(6分)

(3) 说明索菲亚科技园由“外部驱动”向“内部驱动”转型的原因。(10分)

(4) 阐述索菲亚科技园的发展历程对我国高科技园区建设的启示。(6分)



37. 阅读图文材料,完成下列要求。(28分)

白杨河位于新疆中部,属于季节性河流,在洪水期经常出现阵发性洪水。从出山口流出后沉积形成白杨河冲积扇,在扇面上主要形成四个单元(见图8):下切河谷洪流带,处于扇顶区域;片流带,在扇顶至扇中过渡区形成片状的水流;辫流带,在扇中;径流带,在扇缘,而后进入扇体之外的冲积平原。

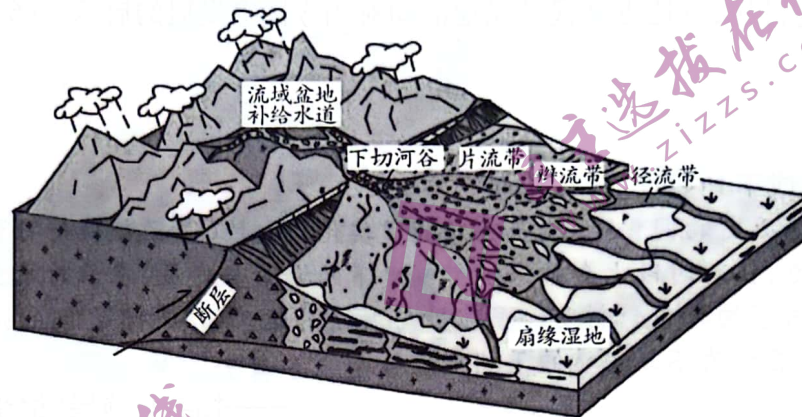


图8

(1)说明白杨河流域阵发性洪水的水文特征。(6分)

(2)简析冲积扇扇顶处下切河谷的形成原因。(4分)

(3)简述片流带沉积物的特征。(6分)

(4)简述自扇顶至扇缘白杨河水系形态由片流逐渐转化为径流的过程。(6分)

(5)阵发性洪水过后冲积扇上片流将会消失,推断其转化形式并解释原因。(6分)

38. 阅读材料,完成下列要求。(12分)

2023年6月14日,国新办就优化营商环境重点领域改革举行例行吹风会。吹风会强调,要加快完成与《优化营商环境条例》要求不一致的法规政策文件修订废止工作,积极推进反不正当竞争法修订;出台网络交易监管、互联网广告、严重违法失信名

单管理等领域规章,防止“任性执法、类案不同罚、过度处罚”等;根据企业信用状况,采取差异化的监管措施;严禁未经法定程序要求普遍停产停业,杜绝“一刀切”“运动式”执法。提速税费智能办理,今年再对13项涉税费资料实行容缺办理,再对6项税务证明事项实行告知承诺制,减少资料报送。强化智慧监管,建立全量电子营业执照库,积极拓展应用场景。

结合材料并运用《政治与法治》相关知识,说明我国应如何通过建设法治政府来深化营商环境重点领域改革。

39. 阅读材料,完成下列要求。(10分)

当前,世界百年未有之大变局加速演变,美国单边霸权因其自身内在坍塌原因陷入难以逆转的衰落。由于美国滥用“长臂管辖”动作,对国际关系、国际法基本权威构成危害。全球体系因美国系列单边做法面临分裂,各国间对抗、摩擦增多。美国也不断对华滥施单边制裁,并在中国周边拼凑各类对华遏制的经济、军事集团,危及中国核心利益及中企、中国公民基本权益。

这一背景下,为了发展对外关系,维护国家的主权、安全、发展利益,维护和发展人民利益,促进世界和平与发展,推动构建人类命运共同体,2023年6月28日,十四届全国人大常委会第三次会议表决通过了《中华人民共和国对外关系法》,自2023年7月1日起施行。假如你是此次立法的新闻发言人,请拟一份发言提纲,简要阐明制定《中华人民共和国对外关系法》集中体现的中国特色大国外交智慧。

40. 阅读材料,完成下列要求。(20分)

在广西南宁,一直流传着“先有亭子渡,后有南宁城”的说法。作为一个古老渡口,位于南宁市江南区的亭子码头历史上一直是邕江重要交通枢纽和转运中心,附近还由此形成了繁荣的圩市。历史车轮滚滚向前,随着各类跨江桥梁以及现代交通运输业的快速发展,亭子渡口退出了舟楫穿梭的历史舞台。

江南区委有关负责人介绍,城区按照“体育+”的发展思路,积极培育“体育+旅游”“体育+文化”等新业态、新模式,推动形成体育产业的联动效应。依托亭子渡的文化内涵,城区与相关部门一起在此打造亭子水上运动休闲中心,并配套建设了文旅商贸综合体,在满足市民滨江体育空间多样化需求的同时促进文旅消费。比如,引进两家专业俱乐部,为大众提供游艇、尾波冲浪、摩托艇、浆板、皮划艇、帆船等运动体验,每年举办各类水上运动赛事、水上安全教育培训、青少年防溺水安全培训等活动,年游客量达1.5万人次;除了水上专业运动,亭子码头也是许多市民进行全民健身的重要场所,南宁市五人制足球黄金联赛等一批群众体育活动在此举行。

如今,“体育+”让这个古老的渡口焕发活力,变身为城市休闲运动的“新名片”。

(1) 结合材料,运用“唯物辩证法的总特征”的知识,分析老渡口是如何蝶变为“新名片”的。(10分)

(2) 谈谈“体育+”的发展思路体现了发散思维检核表法中的哪些方法。(10分)(两条即可)

41. 阅读材料,完成下列要求。(10分)

齐某与某文化公司签订《培训协议》,约定由某文化公司对齐某进行泰拳培训,除非公司存在故意或者重大过失,否则在培训中受伤的后果应由齐某自行承担。课程开始前,某文化公司临时将原泰拳教练更换为散打教练为齐某授课;课程即将结束时,教练安排齐某与另一名泰拳学员郝某进行摔跤对练,且没有按照规定在旁进行指导保护。齐某在正常对练中倒地受伤,起诉请求某文化公司及郝某共同赔偿其医疗费等损失。

运用《法律与生活》的相关知识,分析审理法院应作出怎样的判决,并列举该案例的两条典型意义。

42. 阅读材料,完成下列要求。(25分)

材料一 19世纪初的拉丁美洲革命,打开了独立的大门,也打开了通向现代化的大门。拉美独立后,白人、黑人和印第安人的种族融合加速,开始形成拉美各国的新的民族。由于欧洲启蒙思想影响广泛,共和主义深入人心,一些国家发生的君主制复辟活动,无不以彻底失败而告终。土生白人精英不仅提出“自由贸易”和“自由经济”,而且认为国家要繁荣富强,必须要建立工业。欧洲一些著名科学家纷纷前来考察,一些科研机构陆续建立起来。

——摘编自林被甸《独立革命:拉美国家现代化进程的起点——试析独立革命与拉美国家现代化的关系》

材料二 二战期间,英美签署《大西洋宪章》,其主要内容是,尊重各民族自由选择其政府形式的权利,各民族中的主权和自治权有遭剥夺者,两国将努力设法予以恢复。大批殖民地人民走出国门,走上战场,开拓了眼界,改变了思想,提高了民族的自尊、自信,他们意识到了一个民族统治另一个民族的非正义性。在亚洲,日军在很短时间内连夺香港、马来亚,击沉英国皇家海军的著名战舰威尔士亲王号和反击号,打破了英军不可战胜的神话。第二次世界大战后,英属各殖民地的离心力显著增强。

——摘编自王建《二战后英属各殖民地分离倾向探因》

(1) 根据材料一并结合所学知识,说明拉美独立战争为拉美现代化提供的支持。(9分)

(2)根据材料二并结合所学知识,简析英属殖民地离心力增强的原因。(10分)

(3)根据上述材料,阐述近现代殖民地活动对当今国家发展的启示。(6分)

43. 阅读材料,完成下列要求。(12分)

材料 制度是历史的固化呈现,是理想的现实化,同时又是欲望获得可预期性的条件。个体欲望的合力,在短时段上会带来现行制度下的繁荣与发展,在长时段上则会在未来引发混乱乃至新秩序的再现。制度的保守性与激情的运动性,两者之间的张力推动着历史的演化,在中国呈现为不断更迭的王朝史。

——摘编自施展《枢纽:3000年的中国》

选择一个制度,根据材料并结合所学中国古代史知识,从一个或多个角度对该制度予以阐述。(要求:选择的制度与史实须相互吻合,表述清晰,观点正确。)

44. 阅读材料,完成下列要求。(15分)

材料 从魏源的《海国图志》、徐继畲的《瀛寰志略》开始,整个社会的知识系统发生了一定变化。一方面具有了比较详备的世界地理知识,同时,在政治的想象中,中国只是世界上许多“国”中的一个,一种新的关系“世界”的观念开始形成。严复、梁启超、孙中山等都在思考一个共同问题——什么是真正意义上的“国民”。梁启超在《新民说》中说:“公德之大目的,既在利群,而万千条理即由是生焉。”其所说的“新民”,可以理解为今天的“新的公民”。陈天华大声疾呼:“若不讲公德,只讲自私,不要他人来灭,恐怕自己也要灭的。”严复指出:“所急者,乃国群自由,非小己之自由。”梁启超指出:“吾中国所以不成为独立国者,以国民乏独立之德而已。……先言道德上之独立,乃能言形势上之独立”,“欲使吾国之国权与他国之国权平等,必先使吾国中人人固有之权皆平等,必先使吾国民在我国所享之权利,与他国民在彼国所享之权利相平等。”孙中山也认为自由并不能用于个人,而只能用于国家。

——摘编自孙强《晚清至五四的国民性话语》

(1)根据材料并结合所学知识,简析国民性话语出现的背景。(8分)

(2)根据材料并结合所学知识,说明晚清社会知识系统出现新变化的意义。(7分)

## 文科综合·政治答案

12~23 小题,每小题 4 分,共 48 分。

12. C    13. B    14. C    15. A    16. C    17. B    18. D    19. B    20. B    21. B  
22. A    23. D

38. 坚持“立改废释”并举,加强重点领域政府立法,完善行政法规体系和行政制度体系;(3分)把政府工作全面纳入法治化轨道,让政府用法治思维和法治方式履行职责,保证行政权力在法治框架内运行;(3分)完善行政执法程序,创新行政执法方式,坚持严格规范公正文明执法;(3分)简化行政手续,降低行政成本,提高行政效率,推动建设智能高效廉洁政府。(3分)
39. 制定《中华人民共和国对外关系法》,捍卫了以《联合国宪章》为中心的国际法体系,体现了中方维护世界和平、促进共同发展的外交政策宗旨;(3分)反映了中方对和平发展合作共赢的强烈期待,彰显了中方推动构建人类命运共同体,推动构建新型国际关系,弘扬全人类共同价值的坚定信念,(4分)同时也充分展现了中方坚决维护国家主权安全和发展利益,反对贸易保护主义、集团政治和霸权霸道霸凌行径,维护国际公平正义的决心和担当。(3分)
40. (1)世界是普遍联系的,事物的联系是多种多样的,人们在认识和改造世界的过程中,要善于分析和把握事物存在和发展的各种条件。(2分)江南区依托亭子渡的文化内涵这一客观有利条件,打造亭子水上运动休闲中心,并配套建设了文旅商贸综合体,坚持了一切以时间、地点和条件为转移;(3分)辩证否定的实质是扬弃,通过克服旧事物中过时的内容,保留其中积极合理的因素,实现自我发展。(2分)亭子渡口退出了舟楫穿梭的历史舞台,江南区在原有的基础设施上,积极培育“体育+旅游”“体育+文化”等新业态、新模式,让古老的渡口焕发活力。(3分)
- (2)他用,是指挖掘现有事物的其他用途,或者稍加改变后作他用。(2分)利用渡口的水域开展尾波冲浪、摩托艇、浆板、皮划艇、帆船等水上运动项目。(3分)改变,改变现有事物的形状、颜色、意义、式样等,产生不同结果。(2分)在码头打造亭子水上运动休闲中心,配套建设了文旅商贸综合体。(3分)(从发散思维检核表中其他方法角度阐述,言之有理即可给分)
41. 《培训协议》的免责条款违反相关法律、行政法规的强制性规定,应当认定为无效;(1分)某文化公司没有遵守原先签订的《培训协议》,私自更换教练进行授课,属于违约行为;(1分)某文化公司在组织学员对练时,没有尽到对学员的专业指导、安全保障等义务,导致齐某受伤;(1分)现有证据不能认定齐某受伤由齐某、郝某故意或者重大过失所致,二人均不承担责任。(2分)故审理法院判决某文化公司赔偿齐某医疗费等损失。(1分)
- 意义:当事双方应根据国家的法律法规,依法签订有效合同;维护了体育培训学员的合法权益;提升体育培训机构的教學服务质量,促使其依法依规开展培训活动,引导体育培训行业良性发展。(答出任意两点即可,每点2分,共4分)

## 文科综合·历史答案

24~35 小题,每小题 4 分,共 48 分。

24. C      25. B      26. D      27. A      28. A      29. B      30. B      31. C      32. A      33. D  
34. D      35. C

42. (1) 支持:拉美民族获得独立;民族国家建立的加速;资产阶级共和国的确立;实业强国思潮出现;科研机构建立。(9 分,任答 3 点,言之成理即可)

(2) 原因:《大西洋宪章》的影响;两次世界大战促进殖民地人民觉醒;英军在亚洲的败退;战时英国对殖民地控制的放松;英国自身实力的相对衰落。(10 分,言之成理即可)

(3) 启示:坚决维护国家主权独立;切实增强民族认同感;促进国家政治民主;注重国际交流;提升经济发展水平。(6 分,任答 3 点,言之成理即可)

43. 示例 1:

制度:科举制(1 分)

阐述:随着庶族和士族力量对比的变化,以门第为标准的九品中正制已不能适应新的社会条件,隋唐统治者为加强中央集权,采取了科举制,这是“个体欲望的合力”导致科举制的产生。科举制以考试选拔人才的方式,相对公平公正,这一制度的实行改善了用人制度;扩大了封建统治的基础,加强了中央集权;促进了教育事业的发展,使社会上读书风气盛行,也促进了文学艺术的发展,它“在短时段上会带来现行制度下的繁荣与发展”。然而,它“在长时段上则会在未来引发混乱乃至新秩序的再现”,到封建社会晚期,科举制日益走向僵化,大大限制了人才的出路,不利于人才的培养,因此,科举制最终被废除,学堂选官和留学毕业生选官出现。(9 分,言之成理即可)

综上所述,科举制度是中国历史上的一个重要制度,它是中国古代文化的重要组成部分,在中国历史上存在了一千多年,推动着历史向前发展,对中国历史和文化产生了深远的影响和启示。(2 分)

示例 2:

制度:行省制(1 分)

阐述:元朝统一中国后,疆域辽阔,统治者为加强中央对全国的有效管辖和统治,确立了行省制,这是“个体欲望的合力”导致地方行政体制出现一个显著变化,行省制可以使中央政权有效地控制地方政府;加强地方之间以及地方与中央之间的联系;有利于维护地方社会稳定和政治统一等。因此,行省制不仅加强了元朝的中央集权统治,巩固了多民族国家的统一,也极大地促进了各族人民在政治、经济、文化上的交流。(9 分,言之成理即可)

总之,这一制度的创设,对我国的地方行政制度的建设是一个新的探索,并为后来明清两代、民国和新中国省级行政体制机制的运行与发展开启了历史的序幕。(2 分)

示例 3:

制度:户籍制度(1 分)

阐述:户籍制度是一项基本的国家行政制度。中国古代的户籍制度是与土地直接联系的,以家庭为本位的人口管理方式,即通过各级权力机构对其所辖范围内的户口进行调查、登记、申报,并按一定原则进行立户、分

类、划等和编制。可见,中国古代的户籍制度是统治者“个体欲望的合力”的产物。它承担着稽查户口、征收赋税、调派徭役、维护统治秩序的职能。它不仅是统治工具,而且在一定程度上能有效地遏制地方分裂势力,减少封建割据战争的发生,为封建社会经济的发展提供了比较安定的政治环境,在客观上促进了社会经济的发展,即“在短时段上会带来现行制度下的繁荣与发展”。(9分,言之成理即可)

总之,古代户籍制度所体现出来的科学管理和法制建设,为当代基层治理提供了有益的思路和方法。(2分)  
 (“示例”仅作参考,不作为唯一标准答案。如选择“赋税制度”“基层治理制度”“监察制度”“官僚制度”等制度,阐述有理有据、史论结合、表述清晰,亦可酌情给分)

44. (1) 背景:中华民族危机不断加深;社会上保守陈旧的封建思想存在;西方思想文化的传入;有识之士开展救国救民的探索。(8分,言之成理即可)

(2) 意义:推动了向西方学习的深入;促进了中国国民的思想解放(或促进了中国民族主义意识的觉醒);为近代中国的改革与革命(或救亡图存的政治运动)提供了思想指导。(7分,言之成理即可)



## 文科综合·地理答案

1~11 小题,每小题 4 分,共 44 分。

1. B      2. B      3. C      4. D      5. A      6. C      7. C      8. A      9. D      10. A  
11. D

36. (1)秀丽的自然风光,优美的环境;良好的住房、交通通信等基础设施;多元化和包容性的文化传统。(每点 2 分,共 6 分。其他答案合理可酌情给分)

(2)政府接手后加大资金投入,完善了基础设施;提升园区的层次和规模,使其向国际化科技园区发展;给予大量优惠政策,强化国际营销策略,吸引外国公司入驻。(每点 2 分,共 6 分。其他答案合理可酌情给分)

(3)早期园区内的跨国公司与其总部联系密切,但彼此间缺乏互动(2 分),且与当地企业联系少,不利于提升园区整体的科技水平和创新能力(2 分);之后本土化创新企业和学术研究机构的大量建立,有利于园区内的厂商合作发展,形成产业集群(2 分);厂商和科研机构联系紧密,促进产学研一体化(2 分);园区内创新气氛浓厚,促使新兴企业加大研发投入(2 分)。(其他答案合理可酌情给分)

(4)不仅要重视招商引资和土地开发,还要建立厂商之间以及厂商与研究机构、大学间的联系,加强交流;促进企业间彼此开放,形成创新氛围,产学研充分结合,形成产业集群;鼓励扶持中小企业创新发展。(每点 2 分,共 6 分。其他答案合理可酌情给分)

37. (1)受冰雪融水和山地降水的影响,阵发性洪水流量大,流速快;挟沙量大,挟带泥沙粒径较大;具有突发性,持续时间较短。(每点 2 分,共 6 分。其他答案合理可酌情给分)

(2)扇顶区域落差较大;阵发性洪水水动力较强,下切侵蚀作用强,形成河谷。(每点 2 分,共 4 分。其他答案合理可酌情给分)

(3)片状水流在搬运过程中,沉积物堆积形成层理结构;沉积物以砂砾石为主,粒径较大;横向连续分布,分布面积较大。(每点 2 分,共 6 分。其他答案合理可酌情给分)

(4)在扇顶至扇中过渡区,阵发性洪水流由于不再受河谷的限制而转化为片状水流;在扇中,水流在扇面上扩散,片流分汊转化为辫流,开始出现辫状河道(辫状沟槽);在扇缘,水流扩散宽度更大,辫流完全分离转化为径流。(每点 2 分,共 6 分。其他答案合理可酌情给分)

(5)片流转化为辫流。(2 分)

原因:阵发性洪水过后,河流流量和水动力均减小;当水流出下切河谷后,河道展宽分汊,在原片流带侵蚀形成辫状沟槽,未形成片流而形成辫流。(每点 2 分,共 4 分。其他答案合理可酌情给分)