

文科综合

全卷满分 300 分,考试时间 150 分钟。

注意事项:

1. 答卷前,考生务必将自己的姓名、准考证号填写在答题卡上,并将条形码粘贴在答题卡上的指定位置。
 2. 回答选择题时,选出每小题答案后,用铅笔把答题卡上对应题目的答案标号涂黑。如需改动,用橡皮擦干净后,再选涂其他答案标号。回答非选择题时,将答案写在答题卡上。写在本试卷上无效。
 3. 考试结束后,将本试卷和答题卡一并收回。
1. 本卷主要考查内容:高考范围。

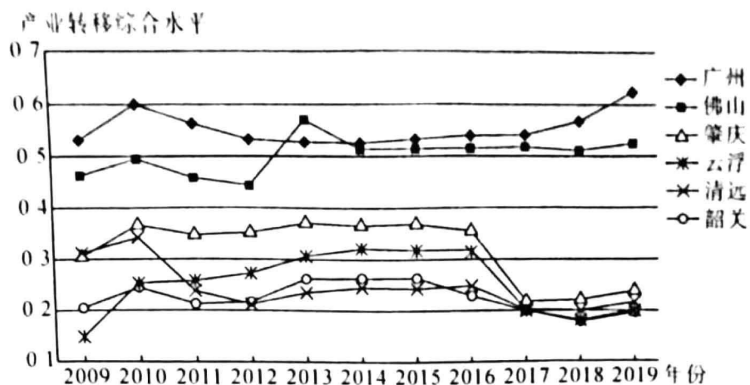
一、选择题:本题共 35 小题,每小题 4 分,共 140 分。在每小题给出的四个选项中,只有一项是符合题目要求的。

北京市汽车工业发展历史悠久,也是国内最早生产新能源汽车的地区之一。亦庄新城位于北京市东部五环与六环之间,是北京东部发展带的重要节点。2020 年 9 月,亦庄新城成为全球首个高级别自动驾驶示范区,无人操控的汽车常态化测试超过 400 万公里。2021 年,亦庄新城打造新能源及高端汽车产业发展核心承载地,设立了资金支持政策,同年某公司的新能源智能汽车工厂落户亦庄新城。据此完成 1~3 题。

1. 亦庄新城成为全球首个高级别自动驾驶示范区的主要优势条件是
A. 人口密度大,市场广阔
B. 研发技术水平高
C. 交通设施标准化程度高
D. 对外开放水平高
2. 某公司新能源智能汽车工厂落户亦庄新城主要是因为该地
①交通通达度高
②政策支持力度较大
③市场需求量大
④利于验证车辆功能
A. ①②
B. ②④
C. ①③
D. ②③
3. 北京市积极发展新能源智能汽车相关产业的主要目的是
A. 促进第三产业发展
B. 加强相关人才流动
C. 缓解北京城市拥堵
D. 促进汽车产业升级

一个地区的产业转移综合水平反映了其投资环境、经济增长、产业发展等整体状况。下图为广州都市圈各城市产业转移(多发生在该城市圈内)综合水平统计图,数值越高代表产业转出比重越大。读图,完成 4~6 题。

【高三文综 第 1 页(共 12 页)】



4. 图中六城市的产业转移综合水平及其变化趋势表明

- A. 广州转出比重一直居首位
- B. 都市圈区域协调性加强
- C. 产业转移差距呈缩小趋势
- D. 广州、佛山空心化明显

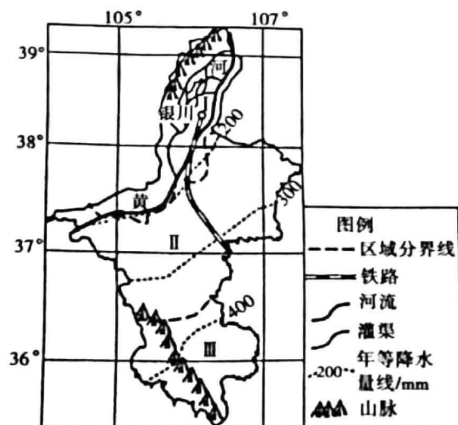
5. 在区域经济一体化过程中,广州都市圈各城市间产业转移规模较大的是

- A. 广州向清远
- B. 清远向韶关
- C. 肇庆向佛山
- D. 广州向佛山

6. 2016年以来部分城市产业转移综合水平明显下降,表明其

- A. 生产成本提高
- B. 人口迁入减少
- C. 产业结构优化
- D. 失业率会上升

宁夏回族自治区地势南高北低,南部为被山地穿过的黄土高原,冬春大风日数多,降水主要集中在7、8月份。该自治区荒漠化范围约占土地总面积的60%左右,但南北荒漠化类型不同。银西铁路(银川—西安)宁夏段为保证运行通畅,选育了合适的护坡植被类型。下图示意宁夏分区及银西铁路宁夏段位置。读图,完成7~8题。



7. 推测宁夏 I、II、III 区域的荒漠化主体类型分别是

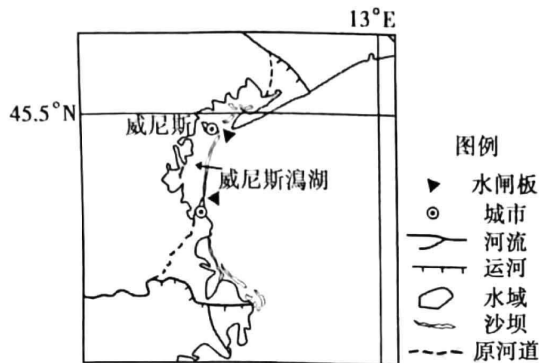
- A. 冻融荒漠化、风蚀荒漠化、盐碱荒漠化
- B. 盐碱荒漠化、风蚀荒漠化、水蚀荒漠化
- C. 冻融荒漠化、风蚀荒漠化、水蚀荒漠化
- D. 水蚀荒漠化、风蚀荒漠化、盐碱荒漠化

8. 银西铁路宁夏段的理想护坡植被类型,应具备的基本特点是

- A. 植株高大,挡风沙能力强
- B. 叶片细密,蒸腾作用强,耐严寒酷热
- C. 有较长花期,观赏价值高
- D. 根系发达,能蔓延生长,再生能力强

【高三文综 第2页(共12页)】

威尼斯城始建于5世纪,是在潟湖(被沙坝等分割而与外海相分离的局部海域)中的沙岛上建成的水上城市,与外海有狭窄水道相通。贯通威尼斯全城的街道都是由河道构成的,历史上曾多次出现严重洪水和街道全部干涸的现象,为此,当地政府在潟湖与外海之间修建了多个水闸,以控制威尼斯城水位。读图,完成9~11题。



9. 14~17世纪,意大利先后修建人工运河,将注入威尼斯潟湖的几条河流改道,其主要目的是
- A. 减少潮水涌入 B. 减少潟湖淤积
C. 降低潟湖盐度 D. 改善河流航运
10. 威尼斯城内街道出现突然干涸的现象,其原因最可能是
- A. 降水异常 B. 全球变暖 C. 潮汐异常 D. 用水过度
11. 环境保护组织反对水闸建设,推测其理由是建闸后湖水
- A. 水质变差 B. 盐度变高 C. 水量减少 D. 水温升高
12. 青年强,则国家强。当代中国青年生逢其时,施展才干的舞台无比广阔,实现梦想的前景无比光明。广大青年要坚定不移听党话、跟党走,怀抱梦想又脚踏实地,敢想敢为又善作善成,立志做有理想、敢担当、能吃苦、肯奋斗的新时代好青年。这启示广大青年
- ① 坚定理想信念,把人生理想融入国家梦想 ② 积蓄强大能量,以自我革命引领社会革命
③ 提高斗争本领,投身于党的建设伟大工程 ④ 立足伟大实践,在奋斗与奉献中成就人生
- A. ①② B. ①④ C. ②③ D. ③④
13. 马克思在《共产党宣言》序言中写道:“由于最近25年来大工业有了巨大发展而工人阶级政党组织也发展起来,由于先有了二月革命的实际经验而后有了无产阶级第一次掌握政权达两月之久的巴黎公社的实际经验,所以这个纲领现在有些地方已经过时。”恩格斯还特别提醒,“结论若本身固定不变,若不再成为继续发展的前提,就比无用更糟糕”。这说明
- ① 时代的变化反映理论的变化 ② 时代的发问推动理论的发展
③ 真理的生命力在于与时俱进 ④ 真理的局限性在于无法确定
- A. ①③ B. ①④ C. ②③ D. ②④
14. 中国人民银行于2023年3月27日降低金融机构存款准备金率0.25个百分点。本次下调后,金融机构加权平均存款准备金率约为7.6%。此次降准旨在打好宏观政策组合拳,提高服务实体经济水平,推动经济稳定增长。若不考虑其他因素,此政策的影响路径是
- ① 提高生产效率 ② 保就业保民生 ③ 激发市场活力
④ 扩大信贷投放 ⑤ 经济回稳向上 ⑥ 满足消费需求
- A. ①→⑥→③→② B. ①→⑤→②→⑥
C. ④→①→⑤→③ D. ④→③→⑤→②

【高三文综 第3页(共12页)】

15. 区域全面经济伙伴关系协定(RCEP)生效实施以来,不仅带动越来越多东盟国家农产品更加便利地进入中国市场,而且带动其农产品生产方式发生转变。马来西亚经营榴莲种植园的某经理说,以往他们种植榴莲,何时浇水、施肥完全凭经验,自从他的榴莲园引进阿里云“榴莲云平台”后,通过智能检测和数据分析,可以更有效地管理榴莲园和榴莲种植。这种生产方式的转变能够

- ①紧跟市场,稳定价格
②依靠科技,降低成本
③线上销售,扩大市场
④精准种植,提高效益
- A. ①②
B. ①③
C. ②④
D. ③④

16. 中国共产党如何跳出历史的周期率?习近平指出,毛泽东同志在延安窑洞里给出了第一答案,这就是“让人民来监督政府”。经过百年奋斗特别是党的十八大以来新的实践,党又提出了第二个答案,这就是自我革命。勇于自我革命和接受人民监督两个答案一脉相承、内在一致,这表现在

- ①勇于自我革命是中国共产党区别于其他政党的标志
②中国共产党的先进性和纯洁性源于人民的监督
③都源自于中国共产党为人民谋幸福的初心使命
④从人民和党自身双重角度形成完整的权力监督
- A. ①②
B. ①④
C. ②③
D. ③④

17. 犯罪记录是国家司法机关对犯罪人员曾经犯罪情况的书面记载。近十年来,人民法院判处的刑事案件中,84.6%的案件都是三年以下有期徒刑的轻刑案件。这些轻罪罪犯因为“有前科”“有案底”,终身都要承受由此带来的种种不利后果。有法律专家建议修改刑法或制定刑法修正案(十二),建立有限的“窄口径”犯罪记录消除制度。该建议有利于

- ①实现司法程序公正,尊重和保障人权
②彰显宽容人道理念,构建和谐社会
③顺应时代发展要求,立良善之法
④健全公众沟通机制,规范执法程序
- A. ①③
B. ①④
C. ②③
D. ②④

右图漫画“人人都夸天好大,见了青天又害怕,跳出井口担风险,

不如仍坐井底下”,讽刺某些人

- ①不敢直面矛盾,缺乏斗争精神
②眼光短浅,只见树木不见森林
③安于现状,不能勇于担当作为
④没有创新思维,不懂斗争艺术

- A. ①③
B. ①④
C. ②③
D. ②④



19. 五一劳动节之际,习近平总书记强调,要大力弘扬劳模精神、劳动精神、工匠精神,适应当今世界科技革命和产业变革的需要,勤学苦练、深入钻研,勇于创新、敢为人先,不断提高技术技能水平,为推动高质量发展、实施制造强国战略、全面建设社会主义现代化国家贡献智慧和力量。从唯物史观看,尊重劳动讴歌劳动者,是因为

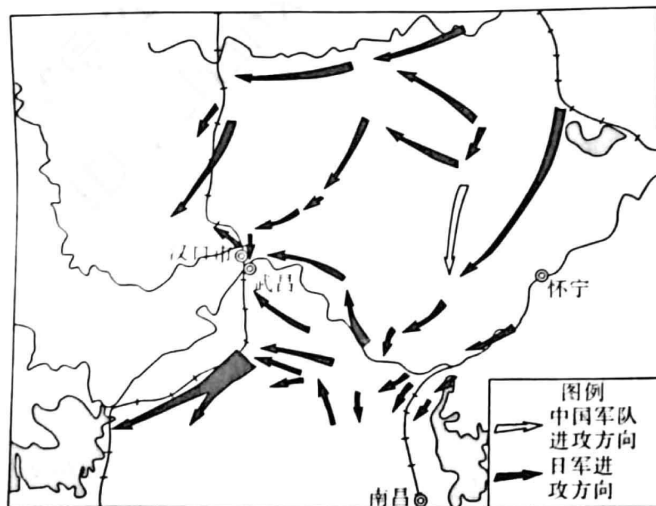
- ①劳动是人的存在方式和社会发展的基础
②劳动者是创造历史的社会主体和真正英雄
③劳动关系决定了生产力的发展和社会进步
④劳动人民是创造社会财富的源泉和动力
- A. ①②
B. ①④
C. ②③
D. ③④

【高三文综 第4页(共12页)】

20. 2022年11月16日,英国以所谓“国家安全”为由,要求中国企业的某全资子公司出售被其收购的英国某厂至少86%的股份,据曝光英国是承受了来自美国政府的压力。中国外交部发言人强调,英方在没有任何确凿证据的条件下,以莫须有的风险为借口的做法,严重损害中国企业的正当利益,严重冲击中英合作的互信基础。据此,下列说法正确的是
- ①经济全球化带来的不稳定性促使英国维护国家安全
②跨国公司要增强应对国际政治经济领域风险的能力
③美国政府的施压体现了全球投融资活动都受其监管
④中国坚持正确义利观坚定维护中国企业的正当利益
- A. ①③ B. ①④ C. ②③ D. ②④
21. 2022年11月15日,二十国集团领导人第十七次峰会在印度尼西亚巴厘岛举行。国家主席习近平出席并发表题为《共迎时代挑战 共建美好未来》的重要讲话。习近平强调要实现世界和平,《联合国宪章》宗旨和原则必须遵守,各国合理安全关切必须重视。中方愿同联合国加强合作,共同推进全球发展倡议、全球安全倡议取得实实在在的成果。材料表明
- ①中国是以《联合国宪章》宗旨和原则为核心的国际秩序和国际体系的坚定支持者
②中国坚持多边主义,支持符合《联合国宪章》宗旨和原则的工作
③中国积极推动合作,通过主场外交彰显中国魅力
④二十国集团代表性强,是全球治理新的推动力量
- A. ①② B. ①③ C. ②④ D. ③④
22. 某地执法人员依法到当事人经营场所进行检查,在货架上发现有待售背包14个,背包正面标示有“冰墩墩”奥林匹克标志。当事人无法提供该背包“冰墩墩”奥林匹克标志授权证明材料。《奥林匹克标志保护条例》第四条“奥林匹克标志权利人依照本条例对奥林匹克标志享有专有权”,“未经奥林匹克标志权利人许可,任何人不得为商业目的使用奥林匹克标志”。关于此案例,下列说法正确的是
- ①当事人行为构成侵权,需承担赔偿责任、支付违约金等责任
②当事人涉嫌销售侵犯“冰墩墩”奥林匹克标志专用权的商品
③执法人员没收涉嫌侵权的14个背包具有依法执法的正当性
④严格保护奥林匹克知识产权有利于维护公民的合法人身权利
- A. ①③ B. ①④ C. ②③ D. ②④
23. 在党的二十大报告中,习近平总书记谆谆告诫全党同志:“我们必须增强忧患意识,坚持底线思维,做到居安思危、未雨绸缪,准备经受风高浪急甚至惊涛骇浪的重大考验。”字字千钧,既体现了中国共产党人一以贯之的忧患意识,更彰显了对所处时代环境的深远洞察和应对复杂斗争的远见卓识。这说明我们认识问题要
- ①运用辩证思维,动态把握事物的发展 ②运用超前思维,预测事物的发展走向
③运用逆向思维,不按规律地反向思考 ④运用聚合思维,从多方朝着一个点想
- A. ①② B. ①④ C. ②③ D. ③④
24. 秦惠王十三年,秦朝攻占巴蜀地区,“以张若为秦国守,移民万家实之”;秦始皇三十三年,“取高阙、阳山、北假中,筑亭障以逐戎人,徙谪,实之初县”;三十六年“徙北河榆中三万家”。秦朝这一时期的大规模移民活动
- A. 旨在促进区域经济均衡发展 B. 有利于统一多民族国家的发展
C. 消除了地方割据势力的基础 D. 激化了社会矛盾导致秦朝灭亡


【高三文综 第5页(共12页)】

25. 唐代的科举制度使得从学校到社会都重视读书、习文、作诗赋和钻研儒家经典,“五尺童子耻于不闻文墨”,这对于结束魏晋以来的清谈学风与玄虚思想具有重要作用。这反映出唐代科举制
- A. 彻底扭转了门第观念
B. 选拔了实用人才
C. 带动了社会尚学风气
D. 改变了官场风气
26. 宋代以前为了宣扬功业或宗教追求,画家创作了大量为政治宣传和道德说教服务的涉及神话、宗教题材的绘画。宋代的文人画家逐渐走出传统,将目光转向民间生活,注重刻画民众日常活动或精神品质。绘画艺术在宋代的这一转变主要是因为
- A. 王朝内忧外患加剧
B. 士大夫政治地位提升
C. 理学思想影响扩大
D. 画学理论的与时俱进
27. 明初赋税仍按照传统的田赋、丁税和徭役三大类名目征收,农户需要分别上缴钱、粮并服役。万历初年,张居正颁布“一条鞭法”,不论地域差异,将民众所负诸税合并,核算后一律征银。民众为缴纳税款,不得不将钱物折换成白银。由此推之,一条鞭法的推行
- A. 促进了商品经济的发展
B. 确立了白银本位币的地位
C. 减轻了工商业者的负担
D. 避免了地方摊派苛捐杂税
28. 参与《南京条约》谈判的清方人员中,上至钦差大臣下至交涉之人均不懂英文,这成为了谈判过程中的巨大障碍。因此,在谈判过程中,英方用英文提出具体要求并以文字形式呈现,再由译员将这些内容翻译成中文,中英双方据此展开谈判。这反映当时
- A. 清政府“天朝上国”思想盛行
B. 人才稀缺影响对外交往
C. 英国设置障碍掌握谈判主动
D. 清廷缺少近代外交观念
29. 下图是近代史上某次战役的示意图,据此可知,该战役



- A. 使抗战进入到相持阶段
B. 成为国共合作抗战典范
C. 提升了敌后战场的威望
D. 中国军队获得重大胜利
30. 塔庙是古代两河流域一种在多层塔状平台上建有神庙的建筑(如下图所示),塔庙通常供奉该城市的主神,一般由烧制或未烧制的泥砖建成,建造一座塔庙通常需要多达七百万块砖,仅制造砖块这一工作就需要数千劳动力。塔庙反映出古代两河流域

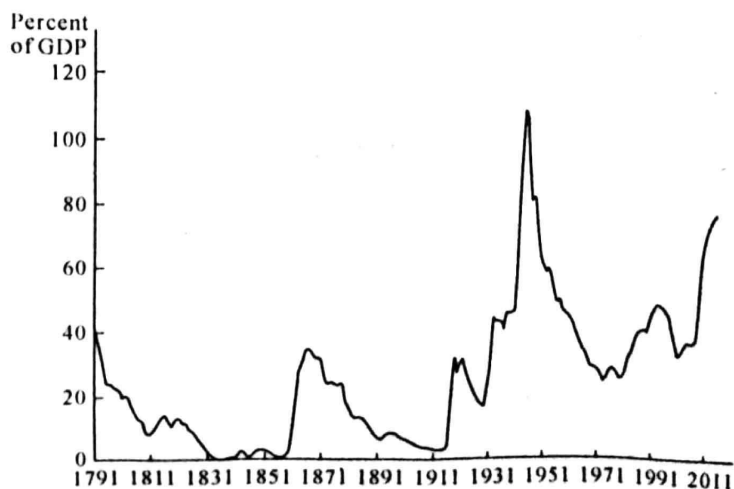
【高三文综 第6页(共12页)】



- A. 对外文明交流密切
B. 社会管理组织能力较强
C. 民居充满地域特色
D. 土地由王室和神庙占有
31. 日耳曼人在南迁过程中, 不仅原有的血缘氏族瓦解了, 以地域为基础的农村公社——马尔克也趋于解体。灭亡西罗马帝国后, 日耳曼统治者则将没收来的土地分封给自己的亲兵、廷臣和主教。据此可知, 日耳曼人的迁徙
- A. 推动了区域文化认同
B. 阻碍了欧洲农耕文明进程
C. 促进了西欧的封建化
D. 摧毁了古罗马帝国的文化
32. 据下表可知, 英国

年份	年均进口值	年均出口值	年均贸易总值
1784—1786	22.8	17.2	40
1794—1796	37.9	32.3	70.2
1804—1806	55.6	51	106.6
1814—1816	71.8	65.7	137.5
1824—1826	66.4	49.5	115.9
1834—1836	70.3	56.4	126.7
1844—1846	82.0	69.2	151.2

- A. 长期保持着贸易顺差地位
B. 工业化提升国内消费能力
C. 对外贸易的规模持续增长
D. 逐渐发展为世界工业中心
33. 债务—GDP 比率是政府财政状况的一个标志, 在收筹集税能力相对稳定的状况下, 债务比率越高, 财政状况越不理想。下图为 1790—2012 年美国联邦政府债务占 GDP 的百分比, 对此理解正确的是



【高三文综 第 7 页(共 12 页)】

- A. 独立战争结束后的邦联体制无力应对财政恶化
 B. 南北战争时期美国政府筹集税收的能力有所下降
 C. 两次世界大战使美国政府遭遇严重的财政危机
 D. 2008 年金融危机使美国政府的财政状况遭受重创
34. 巴基斯坦第一任总督真纳(1947—1948 年在任)曾言:“克什米尔就像是巴基斯坦头上的一顶帽子。如果我们允许印度取走头上的这顶帽子,那就会永远受印度的摆布。”这顶“帽子”是
- A. 殖民主义埋下的祸根
 B. 源于社会制度的对立
 C. 南亚民族运动的成果
 D. 两极格局对抗的产物
35. 法国法律明文规定:国内市场所播放影视作品的 40% 必须是法语,还通过“单独配额”要求电视台在黄金时段播放法国人制作的节目作品。同样的,1991 年重新修订的《加拿大广播法》也规定,加拿大本国节目须占电视常规播出时间的 60%。法国和加拿大的做法
- A. 有利于形成和谐多元的文化局面
 B. 积极顺应了文化全球化的潮流
 C. 是以经济手段推行文化保护主义
 D. 促进了本民族文化认同的构建

二、非选择题:共 160 分。

36. 阅读图文材料,完成下列要求。(28 分)

西藏措美县哲古镇分散式风电项目,位于喜马拉雅山北麓,平均海拔 5 100 米,是迄今为止世界海拔最高的风电场。针对当地的环境特点,该工程对风电机组进行了一系列技术创新和针对性优化,解决了风机基座混凝土浇筑因过快冷却导致强度上升慢和机舱内散热冷却困难等问题,从而保证机组持续稳定运行。下图示意该项目的位置。

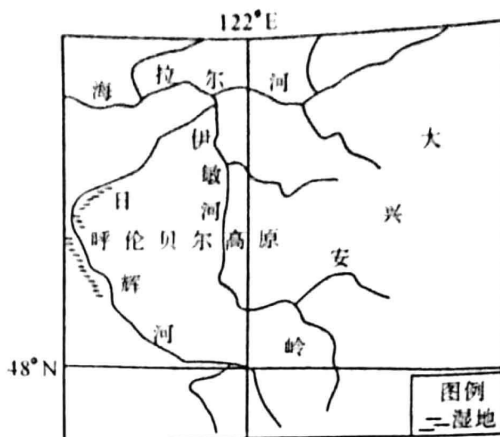


- (1) 推测该项目建设过程中遇到的困难。(8 分)
- (2) 分别指出该地风电基座混凝土强度上升慢和机舱内散热冷却困难的主要气候原因。(6 分)
- (3) 说明该地区太阳能资源丰富,却仍然要发展风电项目的主要原因。(6 分)
- (4) 简述该风电场运行后对当地经济发展的有利影响。(8 分)

37. 阅读图文材料,完成下列要求。(28 分)

海拉尔河流域地处我国东北多年冻土区南界附近,径流量年内分配不均,4~5 月和 7~8 月都有洪水过程,但成因和特征不同,主汛期 7~8 月径流量约占全年径流量的 32%~42%。近 30 年来,海拉尔河流域气候呈现暖干变化趋势,径流量减少,对河漫滩湿地的影响显著。下图示意海拉尔河流域。

【高三文综 第 8 页(共 12 页)】



- (1) 简述该流域湿地较多的原因。(8分)
- (2) 比较海拉尔河 1~5 月与 7~8 月洪水的差异。(8分)
- (3) 说明近 30 年来海拉尔河流域气候变化导致河流径流量减少的原理。(6分)
- (4) 简述海拉尔河径流量减少对沿河河漫滩湿地的影响。(6分)

38. 阅读材料,完成下列要求。(10分)

2023 年是习近平总书记考察湖南并作出“守护好一江碧水”重要指示 5 周年。

2023 年 4 月,沿着习近平总书记考察足迹,湖南省政协主席毛万春带领团队实地了解了长江生态环境保护和洞庭湖水文情况,并主持召开座谈会,就全省政协开展改善生态环境专项民主监督工作进行部署动员。他强调,要不负习近平总书记殷殷嘱托,沿着习近平生态文明思想指引的方向,牢固树立和践行“绿水青山就是金山银山”的理念;要紧紧围绕省委、省政府的工作部署,充分发挥委员主体作用和界别特色,聚焦生态环保这一最普惠的民生福祉,有力有效开展改善生态环境专项民主监督,大力倡导气代柴薪、秸秆禁烧综合利用,持续改善空气质量、河湖水质等主要环境指标,以实实在在的政协履职实效助推湖南天更蓝、水更清、地更净。

结合材料,运用《政治与法治》相关知识,说明湖南省政协在“守护好一江碧水”中是如何履职的。

39. 阅读材料,完成下列要求。(12分)

习近平总书记在二十大报告中强调,中国共产党为什么能,中国特色社会主义为什么好,归根到底是马克思主义行,是中国化时代化的马克思主义行。

马克思主义创造性地揭示了人类社会发展的—般规律,是人们认识世界、改造世界的科学真理。

在民族危难之际,马克思列宁主义为中国人民点亮了前进的灯塔。然而,在中国特殊国

【高三文综 第 9 页(共 12 页)】

请上取得革命胜利,进而建设社会主义,是前无古人的艰巨事业,不可能从马克思主义的“文本”上找到现成答案。这就决定了中国共产党人必须在马克思主义指导下,立足中国具体国情,着眼时代和实践发展,立足解决不同阶段面临的问题,探索符合中国实际的正确道路。

辉煌灿烂的中华文化蕴藏着中华民族生生不息的精神密码。中华优秀传统文化中有“大道之行也,天下为公”的大同理想,“民惟邦本”的民本思想,“天行健,君子以自强不息”的奋斗观念等等。这些思想观念、价值追求,与马克思主义理论具有内在契合性。中国共产党自创立之日起,就是中华优秀传统文化的自觉继承者,坚定弘扬者和创新发展者。结合材料,运用矛盾问题精髓的知识,说明中国共产党是如何推动马克思主义中国化时代化的。

10. 阅读材料,完成下列要求。(10分)

2023年4月15日,第133届广交会全面恢复线下办展,同时开始全年常态化运营线上平台。

本届广交会是历史上规模最大的一届,展览总面积增至150万平方米,展位数量增至近7万个,线下参展企业增至约3.5万家,新参展企业超过9000家。作为中国目前历史最长、规模最大的综合性国际贸易盛会,广交会集聚了行业内的优秀供应商,包括行业头部企业和拥有专精特新“小巨人”、制造业单项冠军、国家级高新技术企业等称号的优质企业。本届广交会对境内采购商全面开放,可更好发挥广交会联通内外的平台作用,推动内外贸一体化。

当前世界经济复苏动力不足,广交会全面恢复线下办展,来自220多个国家和地区的数十万采购商参加广交会线下展或者线上展,为境内外企业搭建高效的沟通交流和贸易对接平台;本届广交会进口展规模进一步扩大,首次在3个展期均设进口展,达到3万平方米,来自40个国家和地区的508家企业在12个专业展区参展。

结合材料,运用《当代国际政治与经济》知识,分析举办本届广交会对我国经济发展和世界经济积极意义。

11. 阅读材料,完成下列要求。(8分)

英雄烈士是民族的脊梁、时代的先锋,英雄烈士的事迹和精神是中华民族的共同历史记忆和社会主义核心价值观的重要体现。

某信息公司通过其自媒体账号在某网络平台上发布了时长1分09秒的短视频。该视频的内容将叶挺烈士在皖南事变后于1942年在狱中创作的《囚歌》中“为人进出的门紧锁着,为狗爬出的洞敞开着,一个声音高叫着,爬出来吧,给你自由!”进行篡改,并在网络上传播,引起公众关注和网络热议,造成不良社会影响。叶挺烈士近亲属遂提起本案诉讼,人民法院判决该信息公司在三家国家级媒体上公开发布赔礼道歉公告,向原告赔礼道歉、消除影响;向原告支付精神抚慰金10万元。

【高二·立绘 第10面(共12面)】

结合材料,运用《法律与生活》的相关知识,说明该案件人民法院判决的合理性。

12. 阅读材料,完成下列要求。(12分)

西方学者一直有一种担心:“国强必霸”是普世的历史逻辑,中国不会成为唯一的例外,崛起的中国将是世界的最大威胁。他们列出的史实是:16世纪,西班牙、葡萄牙建立了海洋霸权,瓜分了世界;17世纪,海上马车夫——荷兰取而代之,成为新的世界霸主,17世纪被称为“荷兰的世纪”;18、19世纪是英、法两国争夺世界霸权的世纪;19世纪末、20世纪初,德国和日本相继崛起,试图通过战争建立新的世界霸权、瓜分世界;20世纪初美国崛起,20世纪中叶苏联崛起,20世纪下半叶成为美苏争霸的世纪,也是美国完胜的世纪;21世纪头十几年,国际格局仍然是美国“一超主导”。

结合材料,运用《逻辑与思维》有关知识,谈谈“‘国强必霸’是普世的历史逻辑,中国不会成为唯一的例外,崛起的中国将是世界的最大威胁”这个观点的荒谬之处。

43. 阅读材料,完成下列要求。(25分)

材料一 中国历代以来的农民暴动,虽然一个跟着一个失败,没有改变中国封建社会的经济基础和政治制度,但每一次大暴动都或多或少推动了中国封建社会的发展。因为在每一次大暴动之后,新的封建统治者,为了恢复封建秩序,必须对农民作某种程度的让步,这就是说必须或多或少减轻对农民的剥削和压迫,这样就减轻了封建生产关系对生产力的拘束,使得封建社会的生产力又有继续发展的可能,这样就推动了中国历史的前进,因而中国历史上的每一个农民暴动或农民战争,可以说,都是中国封建社会向前发展的里程碑。

——摘编自翦伯赞《中国古代的农民战争》

材料二 19世纪后期,恩格斯指出农村居民包括小农、中农、大农、大土地占有者以及农村无产者等,工人阶级“应当成为农村中的一股力量”。接受了马克思主义的毛泽东,在《湖南农民运动考察报告》中认为中国革命“主要力量在于贫农,没有贫农,便没有革命”。但深受封建社会荼毒的小农,养成了狭隘、散漫的性格,三纲五常、三从四德成为农民文化生活的主要内容,因此改造小农意识,是建党建军的重要任务。从三湾改编到古田会议,从“三大纪律八项注意”的制定到延安整风运动,从“严重的问题是教育农民”的警示到农业社会主义改造,对传统小农意识的批判从未淡化。

——摘编自陈俊《新民主主义革命时期毛泽东农民改造思想研究》

- (1)根据材料一并结合所学知识,指出封建统治者的“让步政策”的内容。(6分)
- (2)根据材料一并结合所学知识,分析封建统治者的“让步政策”的历史影响。(6分)
- (3)根据材料二并结合所学知识,分析毛泽东农民改造思想的特点及其意义。(13分)

44. 阅读材料,完成下列要求。(12分)

材料 贝克特在他的著作《棉花帝国》中,选取了棉花产业作为研究和立论的原点。贯穿《棉花帝国》全书的是三个关键词:棉花、资本主义和全球化。其中的每一个词都可以写成一部历史,《棉花帝国》也的确讲述了这三种历史,但它不是一种简单的拼装或叠加,而是一部将三种历史交融为一体的、具有自身逻辑的新历史。本书从小处着手,立论却极为高远。作者将棉花产业置于全球史的框架中,试图解决一个宏大的问题,即现代世界是如何起源的。

——摘编自《棉花帝国——一部资本主义全球史》序言

结合材料与所学的中外历史相关知识,模仿贝克特的《棉花帝国》,选取某个具体物品,自行拟定一个具体的书名,并就所拟书名进行简要阐述。(要求:明确写出物品与研究的历史问题,阐述须有史实依据)

45. 阅读材料,完成下列要求。(15分)

材料 19世纪中前期,出于洲际贸易和连接殖民地的需要,远洋邮轮在英国应运而生。1857年下水的大东方号是当时世界上最大的船只,她不仅有五根烟囱,还保留风帆以借风提速。由于运营成本过高,且大东方号“未到位的服务水准使乘客们无法在船上体验到除巨大以外的任何优点”,她几经转手,最后主要负责海底电缆铺设。19世纪后期,风帆基本从邮轮上绝迹。这一时期远洋邮轮的代表是英国白星航运的海洋级邮轮。类似同时代大多数邮轮,海洋级的客舱分为面向高收入人群的豪华舱(头等舱)与面向低收入人群的统舱。海洋级提供的食物往往是烤制或烟熏的。19世纪末,邮轮上出现了一种全新的等舱——二等舱。

20世纪初为抗衡冠达航运的卢西塔尼亚号等船,白星董事长伊斯梅与美国商业巨亨J. P. 摩根商议,决定推出3艘奥林匹克级邮轮:奥林匹克号、泰坦尼克号、不列颠尼克号。白星为打造更奢华的邮轮体验,不仅为泰坦尼克号头等舱设计十余种奢华装潢的套房,还推出冷鲜肉、鲜鱼、新鲜蔬果等菜品。奥林匹克三姊妹中,泰坦尼克号于1912年首航沉没,引发对航海安全的反思。欧战开始后,奥林匹克号、不列颠尼克号分别被改为运兵船和医院船,积极协助协约国作战。卢西塔尼亚号在1915年被德国潜艇击沉,一度令美、德两国接近战事边缘。二战期间多次载着丘吉尔横渡大西洋的玛丽皇后号,后被卖给美国,现停泊在长滩作为豪华商场酒店对外开放。

——摘编自《深入英国史:大东方号》《从白星海洋级看早期的跨洋邮轮旅行》等

(1)根据材料并结合所学知识,指出19世纪末20世纪初远洋邮轮的转型及其原因。(9分)

(2)根据材料并结合所学知识,分析远洋邮轮发展带来的积极影响。(6分)

关于我们

自主选拔在线是致力于提供新高考生涯规划、强基计划、综合评价、三位一体、学科竞赛等政策资讯的升学服务平台。总部坐落于北京，旗下拥有网站（[网址：www.zizzs.com](http://www.zizzs.com)）和微信公众平台等媒体矩阵，用户群体涵盖全国 90% 以上的重点中学师生及家长，在全国新高考、自主选拔领域首屈一指。

如需第一时间获取相关资讯及备考指南，请关注**自主选拔在线**官方微信号：**zizzsw**。



 微信搜一搜

 自主选拔在线

