

2023 届普通高等学校招生全国统一考试
青桐鸣大联考(高三)
文科综合能力测试

全卷满分 300 分,考试时间 150 分钟。

注意事项:

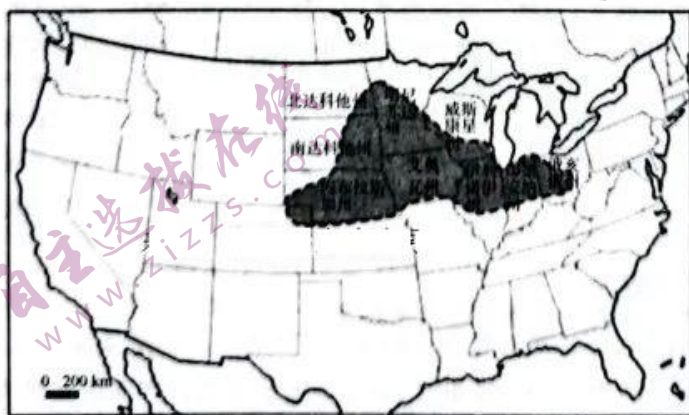
1. 答卷前,考生务必将自己的姓名、班级、考场号、座位号、考生号填写在答题卡上。
2. 回答选择题时,选出每小题答案后,用铅笔把答题卡上对应题目的答案标号涂黑。如需改动,用橡皮擦干净后,再选涂其他答案标号。回答非选择题时,将答案写在答题卡上。写在本试卷上无效。
3. 考试结束后,将本试卷和答题卡一并交回。

一、选择题:本题共 35 小题,每小题 4 分,共 140 分。在每小题给出的四个选项中,只有一项是符合题目要求的。

日本东京都市圈是全球最发达的都市圈之一,总面积 1.3 万平方千米,占全国面积的 3.5%,人口则多达 3600 多万人,占全国人口的 27%,GDP 更是占到日本全国的三分之一。东京城区汽车平均时速达到 18km/h,是世界最不拥堵的超级大城市,PM_{2.5} 年均值不到 20。日本政府计划从 2023 财年开始,为搬离首都圈的每个家庭提供最高达 300 万日元的补贴,为未成年人每人另外提供 100 万日元的补助,以鼓励更多家庭搬出东京都市圈,进而推动地方经济发展。据此完成 1~2 题。

1. 日本政府鼓励有孩子的家庭搬出东京都市圈,主要是为了 ()
A. 疏解非首都功能
B. 降低大气污染
C. 缓解交通压力
D. 增加地方城镇活力
2. 为了稳定搬出东京都市圈家庭的定居,日本政府的配套工作还可能有 ()
①普及远程办公 ②教育倾斜 ③普及航空交通 ④加强环保工作
A. ①②
B. ①③
C. ②④
D. ③④

青贮玉米是指在适宜收获期内把包括果穗在内的地上全部绿色植株切碎、加工,并用压缩包装、密闭发酵的方法来制作青贮饲料以饲喂牛、羊等牲畜的玉米,可以保存 1~3 年。美国是玉米产量最高的国家。下图示意美国玉米带。据此完成 3~4 题。



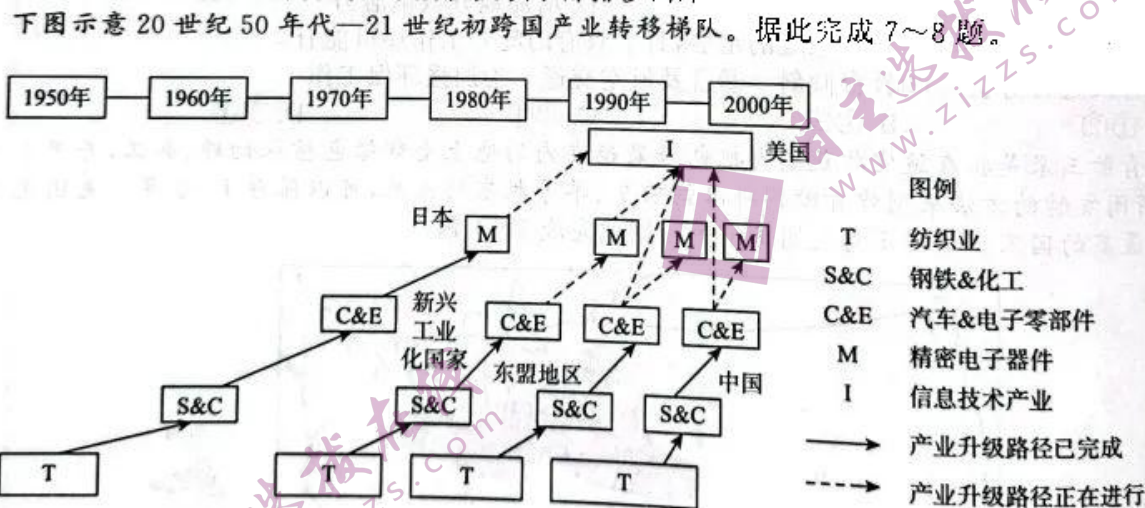
文综试题 第 1 页(共 12 页)

3. 相对于普通的玉米秸秆,青贮玉米秸秆的主要优势有 ①占地面积小 ②保存期长 ③生长周期长 ④单产高 ⑤技术要求低
A. ①②③ B. ①②④ C. ②④⑤ D. ③④⑤
4. 美国青贮玉米与中国相比,单产高,成本低,主要原因有 ①专门化程度高 ②机械化程度高 ③能源用量少 ④劳动力投入少
A. ①②③ B. ①②④ C. ①③④ D. ②③④

调水调沙,就是通过“人造洪水”,形成连续的泄流冲力,把淤积在河道及水库中的泥沙尽可能多地送入大海。从2001年到2022年,小浪底水利枢纽工程调水调沙运行了22个周期,下游主河道实现了全线冲刷,最小流量由 $2000\text{m}^3/\text{s}$ 提高到 $5000\text{m}^3/\text{s}$,河床的高程平均下降了 3.1m 。下图分别示意黄河万家寨、三门峡、小浪底水利枢纽及水库异重流。据此完成5~6题。



5. 现今的黄河下游地区
A. 洪水漫滩概率增加,三角洲湿地面积增加
B. 洪水漫滩概率降低,三角洲湿地面积增加
C. 洪水漫滩概率增加,三角洲湿地面积减少
D. 洪水漫滩概率降低,三角洲湿地面积减少
6. 在调水调沙过程中,河道中的挟沙水流进入小浪底清水库区后,一般会
A. 浮在库区清水上部向前流动,最后从大坝上部排沙出库
B. 潜入库区清水底部向前流动,最后从大坝下部排沙出库
C. 与库区清水混合后向前流动,最后从大坝上部排沙出库
D. 与库区清水混合后向前流动,最后从大坝下部排沙出库



7. 影响跨国产业转移的主要因素是 ①土地成本 ②运输成本 ③人工成本 ④技术成本
A. ①② B. ①③ C. ②④ D. ③④
8. 到2022年,已转移到中国的纺织业、钢铁&化工、汽车&电子零部件产业依然没有发生新的大规模跨国产业转移,主要原因是中国制造业产业

A. 结构合理, 供应链完善
B. 劳动力丰富, 成本低
C. 政府支持力度大, 补贴多
D. 科技领先, 市场广阔

热带气旋外围大风受到自身强度、结构、地形以及与天气系统相互作用等众多因素的影响, 往往以台风眼为中心呈显著的非对称性。研究小组利用中央气象台提供的西北太平洋和中国南海热带气旋的风圈半径分 4 个象限的实况资料, 对各风级风圈最大半径的非对称性特征进行统计分析。下表示意西北太平洋和中国南海热带气旋的 7、10、12 级风圈最大半径象限分布统计情况。据此完成 9~11 题。

风级	对称分布热带气旋(个)	非对称分布热带气旋(个)											总数(个)
		单一象限分布热带气旋	多象限分布热带气旋										
			NE、SE	NE、NW	SE、SW	SE、NW	SW、NW	NE、SW	NE、SE、SW	NE、SE、NW	NE、SW、NW	SE、SW、NW	
7 级	5	81	20	25	5	4	1	1	5	1	2	0	150
10 级	40	20	14	12	5	2	2	0	3	1	0	1	100
12 级	49	5	3	12	0	0	0	0	1	0	0	0	70

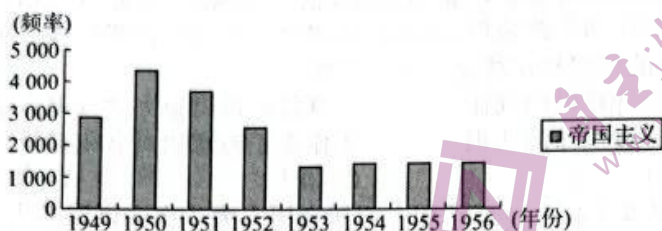
9. 表格所示热带气旋风圈 ()
- A. 10 级和 12 级风圈中, 以对称分布为主
B. 非对称分布中, 单一象限分布占比最高
C. 多象限分布中, 总占比最高的象限偏北
D. 综合统计状况表明, 东南象限占比最低
10. 热带气旋 ()
- A. 眼区风雨强度最大
B. 近地面风圈非对称性强于高空
C. 登陆后主要因植被增多而强度减弱
D. 影响范围不会到达华北地区
11. 影响南海热带气旋季节变化的主要因素有 ()
- ①西太平洋副高
②西南气流
③海陆风
④海陆轮廊
- A. ①②
B. ②③
C. ③④
D. ①④
12. 2023 年 4 月 7 日, 中国人民银行发行世界文化和自然遗产——黄山普通纪念币、世界文化和自然遗产——峨眉山—乐山大佛普通纪念币各一枚。这两枚纪念币面额均为 5 元, 与现行流通人民币职能相同, 与同面额人民币等值流通。此类纪念币 ()
- ①是国家发行的法定货币
②其商品价值是由市场供求状况决定的
③具有收藏、投资价值和升值空间
④其发行可以提高货币流通速度
- A. ①②
B. ①③
C. ②④
D. ③④
13. 据《2022—2023 年中国露营行业研究及标杆企业分析报告》显示, 2022 年, 我国露营经济核心市场规模已达 1134.7 亿元, 而今年则有望再创新高。对此, 下列分析正确的有 ()
- ①露营者消费观念转变→享受资料消费比重持续增加→户外装备产品消费升级
②露营消费持续走热→露营产品需求量增大→露营企业扩大生产规模
③露营走向大众视野→露营周边消费开发加快→“露营+”新业态不断涌现
④露营场景形式多样化→吸引更多露营消费→提高露营企业全要素生产效率
- A. ①②
B. ①④
C. ②③
D. ③④
14. 财政政策是宏观调控的重要手段, 2023 年积极的财政政策要加力提效, 更直接更有效发挥积极财政政策的作用。下列举措符合这一要求的有 ()
- ①优化支出结构, 保障重点领域支出
②扩大赤字规模, 提高政府负债率
③减税降费, 降低企业制度性交易成本
④降低存款准备金率, 保持流动性合理充裕
- A. ①②
B. ①③
C. ②④
D. ③④
15. 改革开放以来的实践证明, 外商投资企业促进了我国经济的发展。目前, 全球面临粮食危机、能源危机等多重挑战, 一些发达国家持续加息, 保护主义抬头, 各国在吸引外资方面竞争加剧,

- 我国更大力度吸引和利用外资的必要性增强。下列有利于积极有效利用外资的举措有 ()
- ①扩大市场准入,加大现代服务业领域开放力度
②主动对照国际相关规则标准,稳步扩大制度型开放
③落实好外资企业超国民待遇,优化外商投资环境
④加大我国出口退税力度,推动我国进出口稳中提质
- A. ①② B. ①③ C. ②④ D. ③④
16. 云塘社区在党群服务中心建立了“开放空间”议事平台,在社区党组织的领导下,由社区居委会组织开发商、物业公司、党员代表、志愿者协会成员、居民代表等,共同商议解决社区的大小事,实现有事大家说、过程大家议、事情大家办、好坏大家评。这一议事平台的建立 ()
- ①提高了基层政权干部队伍的工作水平
②落实党务公开制度,建好群众监督平台
③发挥了基层党支部的战斗堡垒作用
④成为当地基层协商民主的有效载体
- A. ①② B. ①③ C. ②④ D. ③④
17. 国务院总理李强指出,各级政府部门和公务人员,都要有服务意识、发展意识,特别是在履行审批、管理职能时,不能光踩刹车、不踩油门;不能尽设路障、不设路标;凡事要多作“应不应该办”的价值判断,不能简单地只作“可不可以办”的技术判断。这要求政府部门 ()
- ①加强自身建设,进一步转变职能、提升效能
②坚持行政便民,丰富公民向政府求助的途径
③坚持对人民负责的原则,切实解决人民群众问题
④坚持依法行政,运用法治思维解决实际问题
- A. ①② B. ①③ C. ②④ D. ③④
18. 目前,新疆维吾尔自治区人大常委会启动五年立法规划编制工作。今年2月底,自治区人大常委会法工委组织开展疆内外立法调研,听取各方意见,3月下旬组织召开专家论证会,开展立项评估。在这一过程中 ()
- ①自治区域内少数民族行使立法自治权,完善当地法律体系
②可发挥立法咨询专家作用,提升立法决策的科学化水平
③要发挥基层立法联系点作用,努力使立法反映全民的意愿
④应该发挥好人大代表特别是有专业特长代表的重要作用
- A. ①② B. ①③ C. ②④ D. ③④
19. 精巧细致的夜灯、传承古法的彩妆、惊喜连连的“考古”盲盒……近年来,文创产品销量持续攀升,各地博物馆乘着网络东风,再次凭借各种文创产品打开破圈之路。开发优秀文创产品 ()
- ①促进了优秀传统文化的继承发展 ②丰富了优秀传统文化的基本内涵
③完善了国家公共文化服务体系 ④承载和展现着地域文化的内容
- A. ①② B. ①④ C. ②③ D. ③④
20. 2023年3月30日,庆祝中国与西班牙建交50周年主题活动“中西文化之旅”正式启动。本次活动通过纪录片的镜头全面回溯中西交往历程,用影像编织50年间两国的发展脉络和深厚情谊;以新媒体技术,打造中西美术作品的跨时空对话,向海内外受众介绍两国的独特魅力与互鉴成果。此举 ()
- ①有利于促进两国间的文化交流借鉴与融合
②发挥了大众传媒文化传递、沟通、共享的强大功能
③意在表明各民族文化都是世界文化中不可缺少的色彩
④表明文化多样性是人类文明进步的根本动力
- A. ①② B. ①③ C. ②④ D. ③④
21. 2023年3月,经国际矿物学学会新矿物命名与分类专业委员会审查、投票,西北大学地质学系、大陆动力学国家重点实验室刘鹏副教授与中国地质大学(北京)李国武教授团队申请的两种新矿物

- 均通过认定,中文名为毓川碳钽矿和文兰钽钇矿。中国科学家发现两种新矿物印证了 ()
- ①世界是可知的,思维与存在具有同一性 ②人类能够能动地去认识世界
③科学实验是实践的最基本形式 ④科学理论对认识世界具有指导作用
- A. ①② B. ①③ C. ②④ D. ③④
22. 习近平经济思想坚持以辩证唯物主义和历史唯物主义科学世界观方法论认识世界、改造世界,系统阐述了新时代我国经济发展的根本保证、根本立场、历史方位、指导原则、路径选择、鲜明主题等一系列重大理论和实践命题,深入提炼和总结我国经济发展实践的规律性成果,构建起科学完备、逻辑严密的思想理论体系。这一思想 ()
- ①改造并发展中国经济建设的规律 ②日益展现出强大的真理力量
③是对万事万物最一般规律的认识 ④作为正确意识具有积极指导意义
- A. ①② B. ①③ C. ②④ D. ③④
23. 2023年3月5日,习近平总书记在参加十四届全国人大一次会议江苏代表团审议时强调,高质量发展是全面建设社会主义现代化国家的首要任务。必须以满足人民日益增长的美好生活需要为出发点和落脚点,把发展成果不断转化为生活品质,不断增强人民群众的获得感、幸福感、安全感。这需要相关部门 ()
- A. 坚持辩证否定观,树立创新意识 B. 推动生产力和生产关系相互适应
C. 一切以人民的意愿为工作的出发点 D. 站在最广大人民群众立场上进行价值选择
24. 周代,礼乐制度将德和礼紧密联系起来,每个人都被一套复杂的礼仪体系控制在文化系统之内,各安其位,做自己的事情,周天子则成为精神上的统治者。这说明,周代礼乐制度 ()
- A. 奠定了分封制的基础 B. 加强了周天子的君主集权统治
C. 促进了周文化的传播 D. 增强了天下一家的文化认同感
25. 公元前191年,汉惠帝废除秦朝严禁民间藏书的“挟书律”。此后,汉文帝进一步废除诽谤妖言之罪,大收典籍,广开献书之门,各家学说在社会上并立。汉初这些举措体现了 ()
- A. 社会治理环境的宽松 B. 先秦文化格局的恢复
C. 儒学主导地位的弱化 D. 文化教育的日益普及
26. 宋代门下省按照言谏、审驳的职能分别设立谏院和门下后省两个独立的部门。谏院的长官是谏议大夫。当时,言谏官的选用权直接归皇帝掌握,即使是执政官的亲戚也不得作为言谏官。宋代的规定 ()
- A. 削弱了中央监察机制 B. 有效防范了官员专权
C. 加强了皇帝专制权力 D. 简化了中央行政层级
27. 明清时期一份地权可能分成田骨权和田皮权,有的地方称其为田底权和田面权。乾隆年间,两江总督那苏图的奏折中提到,农户租田时“有送上首佃户顶首钱(佃户向业主交付的押金)名色”,业主打算更换佃户时,佃户“必索取他佃之顶首钱”,“如不遂欲,即霸占不容耕种”。这表明当时 ()
- A. 土地经营权相对独立 B. 地主加强了对佃农的控制
C. 土地资源利用率降低 D. 佃农人群的经济负担加重
28. 晚清时期,《万国公报》发表了《缠足论》《卫足说有感》《劝释缠脚说》《戒缠足丛说跋》《戒缠足录跋》等文章抨击女性缠足的陋习。《申报》也曾专门针对女子接受教育的话题展开激烈讨论,积极为女子接受教育建言献策。这表明 ()
- A. 政府的舆论政策较为宽松 B. 近代媒体助推女性的解放
C. 社会对女性认知彻底改变 D. 女性的政治地位得到提升
29. 1920年9月,陈独秀在《谈政治》一文中指出:“我承认用革命的手段建设劳动阶级(即生产阶级)的国家,创造那禁止对内外一切掠夺的政治法律,为现代社会第一需要。”这说明,陈独秀 ()
- A. 已接受了马克思主义的理论 B. 开始探索中国革命新途径
C. 认清了资产阶级革命的缺陷 D. 主张以改良方式实现救亡
30. 1941年4月19日,毛泽东撰文指出:“一切抗日的地主资本家都有和工人农民一样的人身权利、政治权利和财产权利,但又防止他们可能的反革命行动的两重性的政策” ()

义经济得着发展的机会,用以反对日本帝国主义和半封建制度。”该论断意在 ()
 A. 维护统一战线的健康发展 B. 践行人民民主专政的理念
 C. 巩固和扩大工农联盟基础 D. 适应土地革命形势的需要

31. 下图为 1949—1956 年《人民日报》中“帝国主义”一词的使用频率柱状图。该词使用频率的减少反映出 ()



A. 中西意识形态领域矛盾缓和 B. 新中国的外交环境有所改善
 C. 和平共处五项原则成为共识 D. 中国逐渐摒弃“一边倒”方针

32. 罗马共和国文化象征的西塞罗,曾经去希腊斯多葛学派开创者芝诺的学校学习;斯多葛派哲学家塞涅卡,也曾做过罗马皇帝尼禄的老师和高参;罗马著名的皇帝哈德良和马可·奥勒留,都一度在斯多葛派哲学家爱比克泰德创办的学校学习。这表明古罗马文化 ()

A. 具有明显的功利色彩 B. 呈现出多元一体特征
 C. 深受希腊文明的影响 D. 影响了欧洲历史进程

33. 在中世纪,人们对胡椒的喜爱到了偏执的程度,胡椒成为财富的象征。16 世纪以来,胡椒由“神药”回归调料本位,进入普通人家。1627 年,荷兰静物画家彼得·卡兹创作的《火鸡派和万历果盘》中可以看到牡蛎、橄榄、鹦鹉螺杯,旁边的锡盘上撒着盐和胡椒面。这一变化反映了当时 ()

A. 欧洲崇尚东方的生活方式 B. 百姓生活状况有极大改善
 C. 东西方商品贸易快速发展 D. 胡椒充当了等价物的角色

34. 1911 年,列宁在论述巴黎公社时说到,“巴黎的隆隆炮声惊醒了无产阶级中还在酣睡的最落后的阶层,到处推动了革命的社会主义宣传的开展”“公社教会了欧洲无产阶级具体地提出社会主义革命的任务”。列宁的论述意在 ()

A. 强调在欧洲全面发动革命
 B. 探索俄国无产阶级革命的道路
 C. 总结巴黎公社的经验教训
 D. 提升布尔什维克的社会影响力

35. 1995 年美国对墨西哥的货物出口占其总出口的 8%,2018 年上升到 16%;1995 年美国货物进口中来自墨西哥的占 8%,2018 年上升到 13%。投资方面,1995—2006 年美国对外直接投资存量增长 3.5 倍,其中对墨西哥的直接投资增长 4.9 倍。这表明《北美自由贸易协定》的签署 ()

A. 打破了美墨之间的经济隔绝状态 B. 优化了墨西哥的经济产业结构
 C. 强化了美国在两极格局中的作用 D. 带动了北美区域经济贸易发展

二、非选择题:共 160 分。第 36~42 题为必考题,每个试题考生都必须作答。第 43~47 题为选考题,考生根据要求作答。

(一)必考题:共 135 分。

36. 阅读图文材料,完成下列要求。(24 分)

宁夏回族自治区的中卫地区种植硒砂瓜已有 200 多年的历史。在平缓山坡疏草地的表面,铺上 10 到 15 厘米的砂石,之后在 4 月份种植西瓜,7、8 月份收获,生长期需要灌溉 3~4 次,每个西瓜基本都在 10kg 以上,又脆又甜,饱满多汁,亩产可达 3000 到 5000 斤,因砂石中含有丰富的矿物质,特别是含硒量较多,故称为硒砂瓜。在自然环境下,

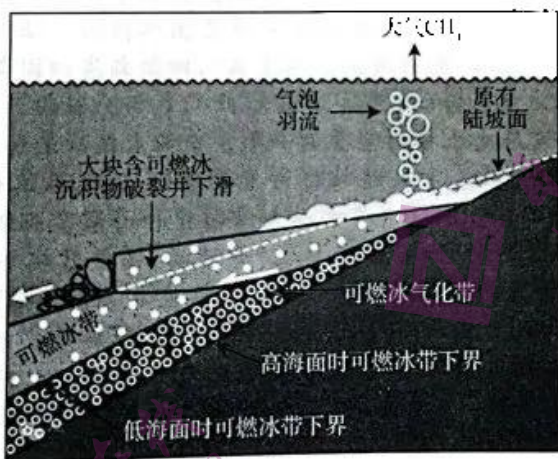
天。为了持续高产稳产，瓜农们隔几年就要开垦新的“压砂地”。2002年，中卫市开始规模化种植晒砂瓜，面积达6万亩，2019年，晒砂瓜的种植面积突破90万亩，为瓜农创造了25亿元收益，被称为戈壁荒漠里的“绿黄金”。2021年3月份，宁夏吴忠市政府发出通告，在红寺堡区禁止种植晒砂瓜。下图示意晒砂瓜生长环境。



- (1)说明地表铺上10到15厘米砂石的作用。(4分)
- (2)简述晒砂瓜被称为戈壁荒漠里“绿黄金”的原因。(6分)
- (3)指出近年来晒砂瓜的无序扩张对环境危害的过程。(8分)
- (4)请为中卫地区守住晒砂瓜种植产业出谋划策。(6分)

37. 阅读图文材料，完成下列要求。(22分)

海底可燃冰是白色的固态天然气水合物，往往产生在水深1000米以上的海底以下数十米到数百米的海底淤泥中。甲烷古菌群落在低氧环境中降解了海底沉积物最上层的有机物，经过一系列的生化反应，产生固态且多孔的甲烷水合物——可燃冰。下图示意海平面升降及海底滑坡对可燃冰层的影响。



- (1)简述海底可燃冰的形成过程。(6分)
- (2)指出海平面升降导致可燃冰带位置的变化。(6分)
- (3)在可燃冰分布的海域，海平面下降可能会导致海底滑坡，试分析原因。(6分)
- (4)说明可燃冰气化溢出对大气产生的影响。(4分)

38. 阅读材料,完成下列要求。(14分)

材料一



材料二 数字经济具有高创新性、强渗透性、广覆盖性,是构筑国家竞争新优势的重要引擎,也是实现中国式现代化的强劲动能。人口规模巨大是中国的重大国情,意味着城乡之间、地区之间、行业之间存在着不平衡发展的矛盾,数字经济是实现经济发展质量变革、效率变革、动力变革的强劲动能,是解决发展不平衡不充分问题的有效路径;数字经济是缩小差距的重要途径,以数字经济为载体“做大蛋糕”“分好蛋糕”,创造更多充分发挥人民首创精神的机会,有利于构建更加公平正义的社会环境,鼓励共同奋斗创造美好生活;数字技术赋能生态文明建设,将对绿色发展和生态保护起到促进作用,加强生态环境数据共享和利用,推进生态环境智慧治理,是促进人与自然和谐共生的必由之路。

- (1) 解读材料一所蕴含的经济信息。(4分)
- (2) 结合材料二,运用所学新发展理念和建设现代化经济体系的知识,说明数字经济是如何推动中国经济高质量发展的。(10分)

39. 阅读材料,完成下列要求。(12分)

2022年是党和国家发展史上极为重要的一年。中国人民政治协商会议全国委员会常务委员会坚持把学习宣传贯彻中共二十大精神作为重大政治任务,认真做好思想引导、汇聚力量、议政建言、服务大局各项工作。围绕中共十八大以来党和国家事业取得的历史性成就、发生的历史性变革精心组织“奋进新时代,百名委员说”等活动;围绕落实“十四五”规划重点任务,举办重要协商活动17次,组织视察考察调研75项,召开重点关切问题情况通报会11场,举办重大专项工作委员宣讲11场,为保持平稳健康的经济环境、国泰民安的社会环境、风清气正的政治环境作出积极努力。全国政协常委会深入学习贯彻中共二十大精神,引导参加人民政协的各党派团体和各族各界人士,自觉把拥护“两个确立”、做到“两个维护”落实到具体行动上、体现到全部工作中。

结合材料,运用《政治生活》的知识,分析说明人民政协在国家治理体系中所发挥的重要作用。

40. 阅读材料,完成下列要求。(26分)

为深入贯彻落实全国革命文物工作会议精神,开创河南省革命文物工作新局面,近日,河南省印发《河南省新时代革命文物保护管理利用三年行动计划(2023—2025年)》(以下简称《计划》)。

《计划》以习近平新时代中国特色社会主义思想为指导,深入贯彻落实习近平总书记关于革命文物工作重要论述精神,坚持“保护第一、加强管理、挖掘价值、有效利用、让文物活起来”的新时代文物工作方针,抓重点、补短板、强弱项,进一步改善河南省革命文物保护状况,发挥革命文物资源优势,提高革命文物展示利用水平,全面增强保护管理传承能力,形成特色鲜明、具有全国影响力的革命文物保护利用传承体系,更好地传承红色基因、赓续红色血脉、增强精神力量。《计划》强调创新革命文物活化利用途径。如加强革命旧址分类合理利用,提升革命旧址开放水平,进一步发挥综合服务功能;运用市场机制开发更多文化创意产品,促进文化消费;促进红色旅游与乡村旅游、生态旅游等业态融合,助力乡村振兴和革命老区振兴发展;支持全国红色基因传承平台建设,丰富网络空间革命文化的内容;充分利用革命文物资源,主动服务“四史”学习教育,支持教育部门利用革命文物资源开展学校思想政治工作。

- (1)结合材料,运用《文化生活》知识,分析“创新革命文物活化途径”的时代价值。(10分)
- (2)结合材料,运用矛盾的普遍性和特殊性的辩证关系原理,分析河南省是如何落实中央精神,开展革命文物保护和利用工作的。(12分)
- (3)请你就如何“保护革命文物,弘扬革命精神”向有关部门提两条建议。(4分)

41. 阅读材料,完成下列要求。(25分)

材料一 永乐建立内阁之初,阁臣品秩甚低,职务不重,权位远不如尚书,仅备皇帝顾问咨询而已。到仁宣时期,阁臣的品秩与地位不断获得提高,其参政权力亦不断增大;由于实现了“内阁票拟”,因而体现内阁权力的手段便得到完善和稳固。此时的阁权已重于部权。史载:“仁宗而后,诸大学士历晋尚书、保、傅,品位尊崇,地居近密。而纶言批答,裁决机宜,悉由票拟。阁权之重,俨然汉唐宰辅,特不居丞相名耳”“迨仁宣朝,大学士以太子经师恩,累加至三孤(少师、少保、少傅),望益尊。而宣宗内柄无大小,悉下大学士杨士奇等参可否……自是内阁权日重”。

摘编自单长桂《明代内阁首辅制度研究》

材料二 内阁本是一个君主御用处理政务的机构,君主作为内阁会议的召集者和主持人从而实现对内阁牢牢控制。但到斯图亚特王朝后期,种种主客观因素导致君主对内阁控制力开始减弱。……根据英国的宪政惯例,“国王不可能犯错误”,也不会承担责任,这样一来,一旦内阁决策出现失误,责任的追究必然落到内阁大臣身上,这就造成“王权的每一次行使皆由某位大臣为之负责”。内阁大臣负责任的思想此时开始萌芽,议会下院要求内阁大臣承担责任的呼声不断高涨。内阁大臣的责任制思想逐渐传播,开始影响到一些内阁大臣的行为,如1701年财政大臣戈多尔芬因威廉拒绝其解散议会的提议而辞职。

——摘编自刘金源《论近代英国内阁制的形成》

- (1)根据材料一,指出明代内阁职权的变化,并结合所学知识说明导致变化的原因。(9分)
- (2)根据材料二,概括近代英国内阁制形成过程中的特点,并结合所学知识简析此特点产生的影响。(10分)
- (3)结合上述材料和所学知识,说明影响一个国家政治体制形成的主要因素。(6分)

42. 阅读材料,完成下列要求。(12分)

材料 北美独立战争前后和美国建国后不同时期的漫画



图 1

标题:联合或死亡
作者:(美)本杰明·富兰克林
时间:1754年




图 2

标题:美国响尾蛇
作者:(美)詹姆斯·吉尔雷
时间:1782年



图 3

标题:女战士
作者:(美)佚名
时间:1776年



图 4

标题:索吻言和
作者:(英)托马斯·科利
时间:1782年



图 5

标题:选举,难道没有此人?
作者:(美)托马斯·纳斯特
时间:1865年

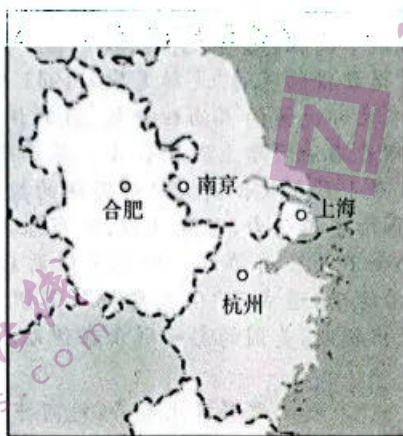
漫画说明:图1取材于一个古老的印第安神话传说,根据这个传说,被肢解的蛇如果能在日落之前被重新组合起来,那么它就能获得重生。图2是独立战争后期的漫画,描绘了一条巨蟒将英军围困的场景。图3出现于独立战争初期,右边的印第安少女代表北美殖民地,左边的妇女代表英国。两人处于争执之中,代表英国的妇女表示:“我必须迫使你服从,你这个荡妇。”而印第安少女则不甘示弱地回击:“母亲,只要我活着,我就要自由,永恒的自由。”图4出现于独立战争末期,“不列颠娜”被迫拥抱她的“北美女儿”。图5中哥伦比亚女士发出质疑,认为政府应该保障黑人士兵的选举权。

从上述漫画中任选两幅或多幅,提取相关信息,并结合世界近代史的相关知识,提出一个观点,并对所提观点加以阐述。

(二)选择题:共25分。请考生从2道地理题、3道历史题中每科任选一题作答。如果多做,则每科按所做的第一题计分。

43.【地理:选修3——旅游地理】(10分)

长江三角洲地区包括上海市、江苏省、浙江省、安徽省,共41个城市,以3.7%的国土面积集中了全国近20%的5A级旅游景区,23%的3A级以上旅游景区。下图示意长江三角洲地区。



说明长江三角洲地区旅游景区多的原因。

44.【地理:选修6——环境保护】(10分)

2023年3月22日,中央气象台发布沙尘暴黄色预警称,受冷空气大风影响,内蒙古东南部、北京、天津北部、河北中北部等地的部分地区有沙尘暴,局地有强沙尘暴。3月22日一早,北京市天空变成灰黄色,能见度明显降低,空气弥漫沙尘味道。7时,全市平均PM₁₀浓度为1630微克/立方米,空气质量达到6级严重污染水平。到22日中午,大部分地区最低能见度小于1000m。北京市气象台发布沙尘暴黄色预警信号,提醒市民注意防范沙尘天气。请为在北京骑车上下学的高中学生列出此次强沙尘暴的防御措施。

45.【历史——选修1:历史上重大改革回眸】(15分)

材料 以1949年10月1日新中国宣告诞生为标志,新中国财政随之建立起来。在组建从中央到地方的财政管理机构并建立统一的财政制度的同时,面对当时饱经战火摧残、几乎处于崩溃边缘的国民经济,财政主要担负了两个方面的任务:筹集并支付巨额的军政费用,以消灭残余敌对势力、接收旧政权的人员和维持新政权的运转;治理通货膨胀和整顿生产生活秩序,尽快促进国民经济的恢复和发展,改善人民生活水平。在短短的3年时间内,中央政府通过推出统一财经工作、平衡财政收支、稳定物价等一系列政策措施为国民经济的恢复、政权的巩固以及各方面的治理工作提供了有力的保证,从而实现了国民经济的全面恢复和国家财政状况的根本好转。中共中央的财税改革在新中国成立初期发挥了重大作用。

——摘编自高培勇《新中国财税体制的演进历程》

文综试题 第11页(共12页)

- (1)根据材料并结合所学知识,概括新中国初期财税改革的条件。(8分)
(2)根据材料并结合所学知识,说明新中国初期财税改革的意义。(7分)

46.【历史——选修3:20世纪的战争与和平】(15分)

材料 为建立向苏联运送租借物资的“波斯走廊”,1941年8月苏联和英国军队攻占伊朗。1944年9月苏联向伊朗要求北部地区的石油租让权,遭到伊朗拒绝。苏联随即在其占领区策划“自治运动”,以此逼迫伊朗在石油问题上做出让步。苏军限制和阻拦伊朗宪兵、警察和军队维持治安,伊朗政府于1946年1月向联合国提起对苏联的控诉案。苏联的做法也引起美英的强烈不满,面对美英干预和国际舆论压力,苏联让步,宣布撤军日期。伊朗政府也做出让步,按照苏联的条件签署了苏伊联合石油公司协议。但苏军撤离后不久,伊朗右翼反苏势力日渐强大,镇压了南阿塞拜疆的自治运动,造成了“伊朗危机”,苏伊石油协议也被议会否决。伊朗危机的结果是苏联的势力被赶出伊朗,美国的影响则正在伊朗扩大,美国和西方彻底改变了对苏联的战略认知。

——摘编自沈志华《走向冲突:石油租让与苏联在伊朗的目标——关于美苏冷战起源的经济因素》

- (1)根据材料并结合所学知识,指出“伊朗危机”发生的原因。(8分)
(2)根据材料并结合所学知识,分析“伊朗危机”的影响。(7分)

47.【历史——选修4:中外历史人物评说】(15分)

材料 李冶(1192—1279),元真定府栾城(今河北省栾城)人,我国杰出的数学家、文学家。李冶自幼聪敏,喜爱读书,对数学和文学都很感兴趣。父亲的正直为人及好学精神也对李冶产生了重要影响。在李冶之前,天元术还是比较幼稚的,记号混乱、复杂,演算烦琐。李冶在前代数学的基础上总结并完善了天元术,使之成为中国独特的半符号代数。这种半符号代数的产生,要比欧洲早三百年左右。他的《测圆海镜》是天元术的代表作,而《益古演段》则是普及天元术的著作。李冶在乡人的提议和帮助下修建“封龙书院”,讲授数学、儒经、文学、历史等知识,培育了大批人才。1257年,李冶被忽必烈请至开城问政。李冶提出“立法度,正纲纪”“辨奸邪”“止征伐”和任人唯贤等建议,对日后元代治国理政产生了一定影响。李冶著述颇丰,著有《敬斋文集》40卷与《壁书丛削》12卷,涉及数学、文学、历史、天文、哲学、医学等领域。随着元朝的统一,李冶的著作在全国流传开来,《测圆海镜》对后世数学的发展与应用产生了重大影响。

——摘编自张振山《潜心精研天元术的数学家——李冶》

- (1)根据材料,概括元代数学家、文学家李冶的贡献。(8分)
(2)根据材料并结合所学知识,分析李冶取得杰出贡献的原因。(7分)

关于我们

自主选拔在线是致力于提供新高考生涯规划、强基计划、综合评价、三位一体、学科竞赛等政策资讯的升学服务平台。总部坐落于北京，旗下拥有网站（[网址: www.zizzs.com](http://www.zizzs.com)）和微信公众平台等媒体矩阵，用户群体涵盖全国90%以上的重点中学师生及家长，在全国新高考、自主选拔领域首屈一指。

如需第一时间获取相关资讯及备考指南，请关注**自主选拔在线**官方微信号：[zizzsw](https://www.zizzs.com)。



微信搜一搜

自主选拔在线