

绝密★考试结束前

高三历史学科 试题

考生须知:

1. 本试题卷共 6 页, 满分 100 分, 考试时间 90 分钟。
2. 答题前, 在答题卷指定区域填写班级、姓名、考场号、座位号及准考证号。
3. 所有答案必须写在答题卷上, 写在试卷上无效。
4. 考试结束后, 只需上交答题卷。

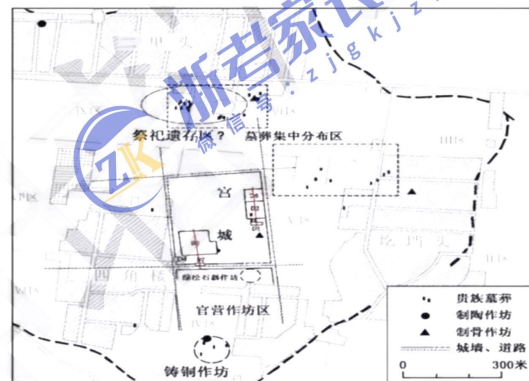
选择题部分

一、选择题 I (本大题共 17 小题, 每小题 2 分, 共 34 分。每小题列出的四个备选项中只有一个是符合题目要求的, 不选、多选、错选均不得分)

1. 二里头遗址是中华文明探源工程首批重点六大都邑之一。根据所学并结合右图判断, 下列有关二里头遗址的说法正确的有

- ①出土了用骨头、石头做成的仿制贝
- ②位于河南洛阳偃师
- ③是商朝晚期的文化遗址
- ④注重城市布局的规划

- A. ①②
- B. ③④
- C. ①②④
- D. ②③④



第 1 题图

2. 汉朝把调节粮价, 解决粮食问题上到了维护社会稳定和政权稳定的高度。为此, 汉政府
 - A. 实行里甲制
 - B. 创设义田
 - C. 设立养济院
 - D. 建立常平仓
3. 有学者认为北魏孝文帝通过改革“将胡汉统治阶级因民族不同而引起的内部矛盾, 获得解决, 迅速糅合成一个统治集团了”。下列改革举措最能体现这一观点的是
 - A. 迁都洛阳
 - B. 通婚姻
 - C. 建立县制
 - D. 实行均田制
4. 《大明律·户律》“私茶”条规定: 凡犯私茶者, 要受到杖一百并服三年徒刑的处罚。洪武三十年 (1397), 驸马欧阳伦私贩茶叶案发, 朱元璋为了警示其他皇亲国戚, 将欧阳伦处死。这体现了明朝
 - A. 立法禁止民间贸易
 - B. 监察法规完善
 - C. 执法遵循礼法结合
 - D. 皇权高于法权
5. 右图为清代绘画《卖白薯图》, 描绘了时人在街头买卖白薯的情形。由此可知, 当时
 - A. 粮食安全问题解决
 - B. 饮食结构渐趋合理
 - C. 长途贩运贸易活跃
 - D. 外来物种得到推广



第 5 题图

高三历史学科试题 第 1 页 共 6 页

6.1894—1897年,湖南学政江标重视时务与算学,取士颇能“通达权变”。湖南士子“乃相率尽弃俗学,虚其心以勉为精实,冀投学政之所好”,“遂取广学会译著各书,视为枕中鸿宝”。这说明,当时

- A. 戊戌变法深受士子欢迎
B. 学习西方成为社会共识
C. 取士变革促进西学东渐
D. 儒家伦理遭到士子摒弃

7.右图是1930年南京国民政府卫生部颁发给浙江省杭州市自来水厂的“第一号自来水许可证”。



第7题图

这一史料可用于探究近代中国

- ①城市基础设施的进步
②官僚资本压制民族企业
③公共卫生事业的发展
④政府重视监管食品安全

- A. ①④
B. ②③
C. ①③④
D. ②③④

8.1933年1月,中共发表宣言提出:“在下列条件之下,中国工农红军准备与任何武装部队订立作战协定,来反对日本帝国主义的侵略”。

(一)立即停止进攻苏维埃区域
(二)立即保证民众的民主权利
(三)立即武装民众创立武装的义勇军,以保卫中国及争取中国的独立统一与领土完整。

中国共产党的上述主张

- A. 适应了当时社会矛盾的变化
B. 确立了全面抗战路线
C. 导致第五次反“围剿”失利
D. 推动了工农红军改编

9.自1953年起,我国开展了三次增产节约运动,在大规模发动群众的基础上,采取实行经济核算和财务监督、对职工进行思想政治教育,提倡自力更生、艰苦奋斗等措施。该运动

- A. 推动国民经济的恢复
B. 增强了企业经营自主权
C. 加速了土地改革进程
D. 为工业化建设积累资金

10.中共十五届五中全会深入分析了世纪之交我国改革开放和现代化建设面临的国际和国内形势,认为从新世纪开始,我国将进入全面建设小康社会,加快推进现代化的新的发展阶段。这次会议

- A. 决定实施“走出去”战略
B. 提出经济体制改革的目标
C. 提出社会主义初级阶段理论
D. 决定开放14个沿海港口城市

11.苏美尔人是于公元前5000年左右迁徙到西亚两河流域南部地区居住的一支古老民族。他们为世界文化的发展作出了不可磨灭的贡献。苏美尔人

- ①较早建立了一系列城市国家
②制定了世界上第一部太阳历
③把代数学发展为独立学科
④发明了60进制

- A. ①②
B. ①④
C. ②③
D. ②④

12.15世纪时,某个帝国将巴尔干半岛视为其“征服欧洲的桥头堡”。1459年,它灭亡了塞尔维亚;1460年,占领了希腊,到15世纪后半期,整个巴尔干半岛几乎都被侵占。该帝国

- ①实行“特辖领地制”
②控制了连接欧亚的商路
③最高统治者称哈里发
④首都15—16世纪成为东西方文化交流中心

- A. ①②
B. ①③
C. ②④
D. ③④

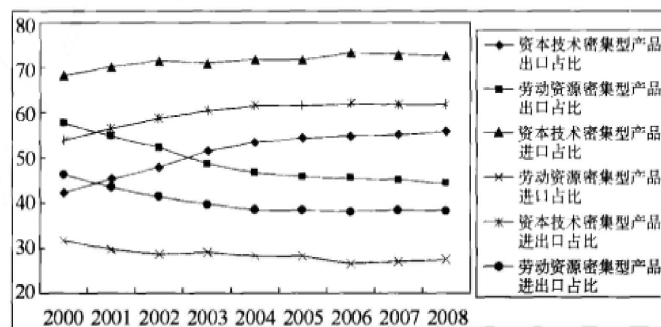
13.11世纪的英国已形成以王权为中心的中央集权制,国王派出法官在全国巡回审判。这一做法

有利于

- A. 民法系的形成 B. 封君封臣制的确立 C. 内阁制的确立 D. 普通法系的形成
14. “这场新教与天主教诸侯之间的德意志内战，实质上，是希望建立帝国中央集权的皇帝与尽力维持地方独立地位的新教诸侯之间因权力的争端而引起”。这场大战之后签署了
- A. 《威斯特伐利亚和约》 B. 《维也纳和约》
C. 《凡尔赛和约》 D. 《非战公约》
15. 18 世纪一批法国思想家认为“君主、廷臣以及若干个别人士”对人民的压榨，就像人们为采摘果子而把树从根底砍倒一样，封建专制统治下的所谓自由无非是一些可以“自由地向左或向右吐痰，向左或向右躺着睡觉……如此琐碎无聊的权力而已”。这些法国思想家的代表有
- ①伏尔泰 ②孟德斯鸠 ③休谟 ④康德
- A. ①② B. ①②③ C. ①③④ D. ②③④
16. 二战期间，苏联援助美国白金及其它稀有金属用于制造关键军用零部件，英国及其属地援美约 67 亿多美元，其它国家援美物资 11 亿多美元。由此可知，二战期间
- A. 反法西斯国家协力合作 B. 美国确立了国际事务主导地位
C. 欧洲成为美军作战主战场 D. 北美大陆饱受大战战火的蹂躏
17. 1950 年，南斯拉夫联邦国民议会规定将生产资料的国家所有制改为社会所有制，实行工人自治，几乎取消了国家对经济的干预。由此可知，南斯拉夫的改革
- A. 使其摆脱了苏联的影响 B. 迷失了社会主义方向
C. 走向“福利国家”道路 D. 调整了社会生产关系

二、选择题 II（本大题共 5 小题，每小题 3 分，共 15 分。每小题列出的四个备选项中只有一个是符合题目要求的，不选、多选、错选均不得分）

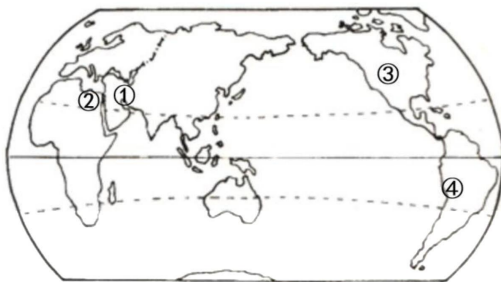
18. 贞观后期，自唐武德以来尚书左右仆射为首席宰相的惯例被打破，以后首席宰相一般改由中书令担任，如高宗武后时的李义府、许敬宗、裴炎、李昭德等都是以中书令职务当权执政的。据此材料，无法得出的结论是
- ①三省完成了一体化 ②尚书省已不再是执行机构
③中枢权力结构调整 ④宰相丧失对政务的决策权
- A. ①② B. ③④ C. ①②④ D. ②③④
19. 下表为 2000—2008 年我国劳动资源密集型产品和资本技术密集型产品对外贸易及占工业制成品比重。这反映了我国



第 19 题图

- A. 形成了完整的工业体系 B. 引领新科技革命潮流
C. 基础设施建设走在世界前列 D. 国际竞争力不断增强

20. 畜牧业的起源具有地域性，骆马被人类驯化始于下图中的



第 20 题图

- A. ① B. ② C. ③ D. ④
21. 1961 年，苏联实现首次载人宇宙航行后，肯尼迪政府计划美国在 10 年内实现登月，并为载人航天计划补充拨款 5 亿美元。在此后的 10 多年间催生了液体燃料火箭、微波雷达、无线电制导等一大批高新科技产业群体，并衍生出了数千项应用技术成果。这说明，当时
- A. 冷战对抗推动了科技进步 B. 美苏主导重构世界秩序
C. 美国成为新科技革命中心 D. 军事技术民用化水平高
22. 第一次世界大战是人类进入 20 世纪后发生的第一件大事，它既是世界历史发展的结果，是资本主义发展到帝国主义阶段世界各种经济政治矛盾极端尖锐的产物，又深刻影响世界历史的发展进程，引起世界经济和政治的巨大变动。同时，一战发生在十月革命前，结束于十月革命后，它与十月革命有着不可分割的内在联系，这场战争几乎涉及世界所有国家，因为它与战后东西方爆发的世界革命高潮有着直接的联系。由此可见，研究世界近现代史上的重大事件
- A. 应从全球角度辩证分析其影响 B. 应考察历史纵向与横向的发展
C. 首先须梳理事件发展的全过程 D. 探讨生产力与生产关系的演变

非选择题部分

三、非选择题（本大题共 3 小题，其中第 23 题 18 分，第 24 题 17 分，第 25 题 16 分，共 51 分）

23. 中华文化在吸收外来文化的过程中不断更新发展。阅读材料，完成下列要求。（18 分）

材料一 禅宗直截简明，颇与武士的性格相合，它提供武士信佛即可得救的观点。宋明理学号称正宗，实际上和禅宗是一脉相通的。幕府为了组织一个军事专制的帝国，就需要在相应的经济关系之上，另有一种统治的力量，这就是适应封建社会要求的武力和文化。当时享受特权的武士贵族代表着武力，而朱子学则是维护这种封建身份制度的文化力量。德川初期，幕府提倡朱子学，它成了正统官学。至于古学派和朱子学派的论争，则是代表地主阶级主张王政复古与代表拥护幕府思想间的斗争。从朱熹的哲学思想出发，日本朱子学有走向理一元论的唯心主义派，如海南朱子学派和水户学派，也有走向气一元论接近唯物主义派如京都朱子学派、海西朱子学派和大阪朱子学派。

——摘编自李魁平《试论宋明理学在日本的传播及其演变》

材料二 清朝统治者以“天朝上国，无所不有”的专制主义态度排斥一切外来文化，视汉语之外的外国语言文字为“夷语”，而学习“夷语”即“非王之道”，显示出很强的鄙夷色彩及排外心理。清末鸦片战争以后，惨遭战争之痛的中国面临“三千年未有之变局”。19 世纪 60 年代，在与西方列强的频繁交涉中，清政府苦于“语言不通，文字难辨”，不得不痛下决心仿照清初俄罗斯文馆教习之例开设外语学校。

——宁建花等《从“西语”到“西学”》

材料三 传统中华文化共同体近代以来的深刻裂变,是在近代西方文明的强烈冲击下开始的。在作为《青年杂志》发刊词的《敬告青年》中,陈独秀高调揭示新文化六大纲领:自主的而非奴隶的;进步的而非保守的;进取的而非退隐的;世界的而非锁国的;实利的而非虚文的;科学的而非想象的。这六大纲领,无一不是以近代西方为坐标;无一不是将近代西方伴随资本主义的发展、市场经济的泛滥、工业文明的确立而产生的部分观念与制度,视为中国必须原封不动照样复制的目标模式。

——姜义华《中华文化共同体的百年裂变与重建》

- (1) 根据材料一,指出朱熹学说在日本传播的特点,并结合所学分析其在日本能够广泛传播的原因。(6分)
- (2) 根据材料二并结合所学知识,概括19世纪60年代清政府开设外语学校的思想文化背景,列举当时开设的一所外语学校。(6分)
- (3) 根据材料三,指出“中华文化共同体”在近代裂变的特点,并结合所学概述近代中华文化的潮流。指出新文化运动时期中华文化追求的价值目标。(6分)

24. 人口迁徙改变了区域人文地理形态。阅读材料,完成下列要求。(17分)

材料一 北方人民大规模的南下计有永嘉之乱、苏峻和祖约之乱、后赵败亡、淝水之战、刘裕北伐、魏太武帝拓跋焘南下瓜步、宋失淮北四州及豫州淮西之地这七次,总数约有90万人左右。简言之,在此期间,北方平均8个人中有一个南渡,南方平均6个人中有一个北来侨民。其流徙方向大体是北方东部的人民流向南方东部,北方西部的人民流向南方西部。北方人民到达南方,大都举目无亲,出路之一便是依附早先来到南方的士族或地方豪强,成为被隐匿的人口。

——蒋福亚《魏晋南北朝社会经济史》

材料二 在1661—1812年这150年间,福建人口增加了9倍,耕地仅增加32%,人均耕地数从7.11亩降至0.9亩。道光年间“几乎年年有灾,灾区遍及全国”,维持生活“颇费踌躇,于是乎奔走外洋”。中国人移殖澳洲,“殆始于1840年到1859年之间”。随着中外一系列条约的签订,洋布“把土布消灭了百分之九十九”,“无业贫民乘北风附洋舶往国外图生计”。太平天国运动失败后,清政府加强了对起义造反者的镇压,大量农民出洋避祸。如“广东新会平南王黄德滋,率部渡南中国海,最后抵达澳洲北部达尔文港,成为淘金工人”。

——张秋生《略论早期华工移居澳大利亚的社会历史条件》

材料三 根据联合国的相关数据显示,截至2019年12月,按照国籍划分,国际流离失所者居世界前十位的难民来源国及数量分别是:叙利亚660万人,委内瑞拉440万人,阿富汗300万人,南苏丹220万人,缅甸110万人,索马里90万人,刚果(金)80万人,苏丹70万人,伊拉克60万人,中非共和国60万人。

——陈冰《全球难民治理的出路在哪里?》

- (1) 根据材料一,概括“北方人民大规模南下”的特点,并结合所学分析其对南方的影响。(6分)
- (2) 根据材料二并结合所学,概括近代华工赴澳的国内原因。(6分)
- (3) 根据材料三,指出当代世界难民的主要来源区域。结合所学,分析二战以来联合国为保护难民基本人权做出的努力。(5分)

25. 阅读材料，完成下列要求。(16分)

材料一



第 25 题图

材料二 17 世纪的荷兰几乎成为了欧洲的贸易中心，由于得天独厚的临海地理环境，阿姆斯特丹迅速累积资本，成为 17 世纪欧洲历史上最重要的港口之一。公元 1607 年后，阿姆斯特丹进行了一轮大规模城市规划，阿姆斯特丹进一步开拓已有的运河体系，由内向外增加三条主要的水路运河，三条新开凿的运河与已有河道形成新的环路体系，运河之间由放射性的水路连接，城市内部形成半圆形环状放射状的运河网络体系，城市空间依运河的环状放射网格向外铺开。

——陈京京等《论运河与阿姆斯特丹古城的演变与保护》

材料三 所谓国内“三角贸易”，即美国国内的一个呈“三角形”的商品循环系统，大致可把大西洋沿岸、五大湖和密西西比河看作这个贸易三角的各边，而把纽约、新奥尔良和芝加哥看作三角的顶点。它实际上是美国的一个“区际贸易”系统，在内战前这个国家的区域关系中，曾起过重要的历史作用。但这个“三角贸易”系统是逐步形成的，最终形成的标志便是 1825 年伊利运河的开放。

——何顺果《比较开发史》

- (1) 根据材料一，概括罗马帝国道路建设的特点，并结合所学，指出影响罗马帝国道路建设的因素。(6分)
- (2) 参考材料一二三，自选一个角度，运用 19 世纪以前的相关史实，围绕“交通与社会变迁”主题，写一则历史短文，题目自拟。(要求：观点明确，史实准确，条理清晰，表述成文)(10分)

关于我们

自主选拔在线是致力于提供新高考生涯规划、强基计划、综合评价、三位一体、学科竞赛等政策资讯的升学服务平台。总部坐落于北京，旗下拥有网站（网址：www.zizs.com）和微信公众平台等媒体矩阵，用户群体涵盖全国 90% 以上的重点中学师生及家长，在全国新高考、自主选拔领域首屈一指。

如需第一时间获取相关资讯及备考指南，请关注**自主选拔在线**官方微信号：**zizzsw**。



微信搜一搜

浙考家长帮

