

天一大联考

2022—2023 学年高三考前定位考试

文科综合

一、选择题:本题共 35 小题,每小题 4 分,共 140 分。在每小题给出的四个选项中,只有一项是符合题目要求的。

京沪高铁于 2008 年 4 月开工建设、2011 年 6 月全线通车。京沪高铁沿线高铁站通常设在城市边缘或远郊,如德州高铁站距离德州市区约 20 千米。枣庄市是山东段唯一设置两站的地级市,市区薛城区和下辖市滕州各设一站。滕州市距离枣庄市区约 50 千米,是全国著名的百强县,人口、GDP 均占整个枣庄市的一半左右。图 1 示意京沪高铁山东段及德州高铁站 5 千米范围内主要用地类型重心迁移(不考虑比例尺)。据此完成 1~3 题。

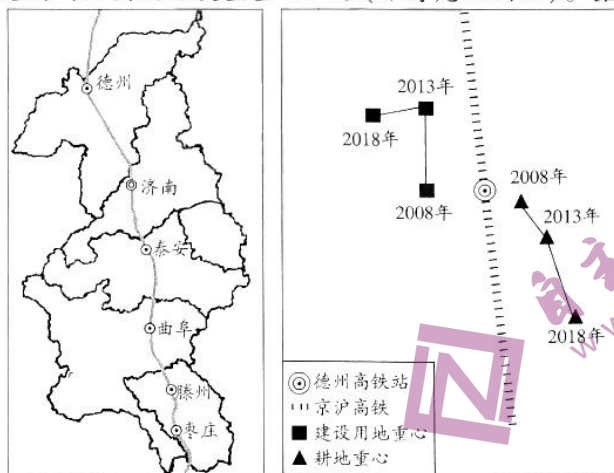


图 1

- 京沪高铁设置滕州站的地理原因主要是
 - 促进薛城区的发展
 - 滕州客运需求量大
 - 均衡枣庄市经济发展
 - 缓解曲阜、枣庄站通行压力
- 德州市区相对于德州高铁站的方位大致是
 - 西北
 - 东北
 - 西南
 - 东南
- 京沪高铁通车前后,德州高铁站 5 千米范围内的变化表现为
 - 出现工业集聚区
 - 与德州市之间的联系强度基本没变
 - 建设用地重心和耕地重心移动的趋势类似
 - 建设用地面积扩大导致建设用地重心外移

大冶市地处湖北省东南部、长江中游南岸,已发现矿产 65 种,是中国矿冶名城,2008 年被列入全国首批资源枯竭城市和经济转型试点城市名单,2012 年进入全国县域经济百强行列。图 2 示意大冶市主要工业行业产值占比结构及产业多样化演变趋势。据此完成 4~5 题。

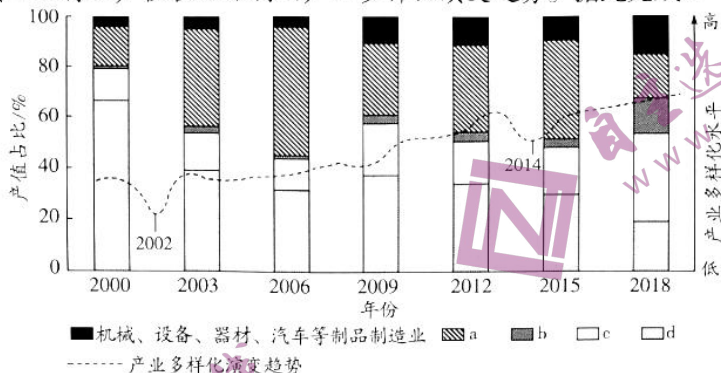


图 2

4. 大冶市产业多样化水平在 2002 年和 2014 年出现较大波动的主要原因是
- A. 相关资源枯竭
B. 政策性产业结构调整
C. 自然灾害破坏
D. 开发可再生能源
5. 大冶市 b 类产业所包含的工业行业可能有
- A. 矿物制品业、金属冶炼业
B. 食品、纺织等制造业
C. 矿物采选和洗选业
D. 化学、医药等制造业

我国某地纬度较高,沙尘暴多发。2022 年 11 月 24 日,某地理小组到该地区进行考察,后来某成员在日记中写道:“向北翻过前面阻隔的大山,进入大山以北地势相对平坦的一处地形区,迎风前行 3 千米,风势渐大,气温渐低,远处天边出现黄色的移动沙墙,能见度显著降低。”据此完成 6~7 题。

6. 该地理小组遇到的大风的形成是由于
- A. 暖锋过境
B. 冷锋过境
C. 准静止锋过境
D. 气旋过境
7. 该地沙尘暴多发的自然原因是
- A. 暖锋频繁,风力大
B. 畜牧业发展快
C. 气候干旱,多大风
D. 地势起伏较大

研究人员于 2016 年 8 月在陕西省不同地区的刺槐人工林采集枯落物,研究发现:枯落物 C 含量与年平均降水量、年平均温度表现出显著的正相关性。图 3 示意陕西省植被带、采样点分布以及枯落物样品 C 含量比较。据此完成 8~9 题。

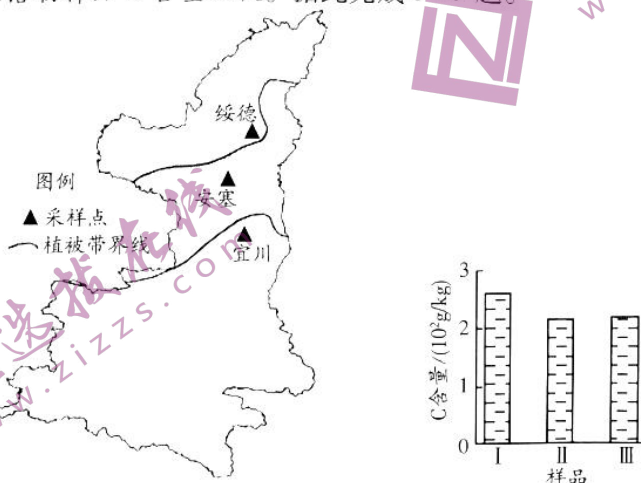


图 3

8. 图示采样点中,生物多样性最不丰富的是
A. 绥德 B. 安塞 C. 宜川 D. 无法比较
9. C 含量柱状图中,样品 I 对应的采样点是
A. 绥德 B. 安塞 C. 宜川 D. 无法判断

田湾河是大渡河中游的一级支流(见图4),从巴王海至河口河道全长48千米,天然落差2120米。田湾河流域梯级水电站是将田湾河干流的水引入支流环河,在环河仁宗海湖口建坝形成水库集中调节,从上至下串联布置仁宗海、金窝和大发3个水电站。这3个水电站按照“清水不下河”的原则进行设计,即上一级发电站的泄水直接进入下一级电站发电。“一库三级”梯级水电站实行统一调度管理,在同一节点接入四川省电网。据此完成10~11题。

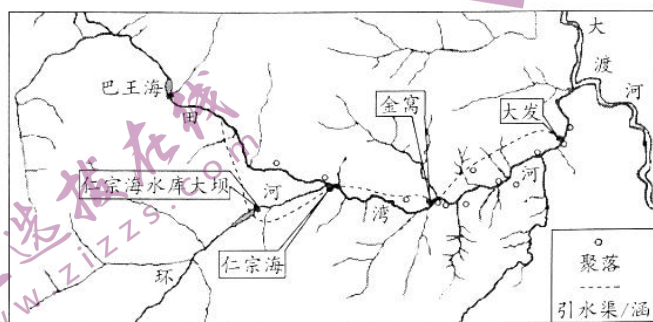
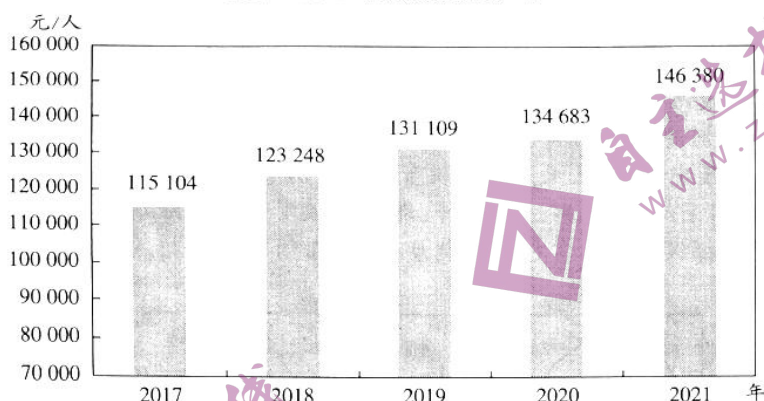


图4

10. 对田湾河流域梯级水电站运行起到龙头调节作用的是
A. 仁宗海水电站 B. 金窝水电站
C. 大发水电站 D. 仁宗海水库
11. 田湾河流域“一库三级”梯级水电站统一调度管理的突出意义是
A. 改善航运条件 B. 提升防洪、灌溉能力
C. 避免弃水浪费 D. 稳定并增加发电量
12. 伴随着我国经济的腾飞及国民文化素养的进步,电影已经逐渐融入大众生活,过年看场电影成为重要的文化娱乐活动。2022年春节,全国电影票房60.35亿元,位居历史同期第二,影片《长津湖之水门桥》《这个杀手不太冷静》等深受观众好评,很多一、二线城市的电影院出现一票难求的情况。春节档电影市场火爆的原因有
①电影院进行票价打折促销,吸引大量观众
②电影题材丰富,满足了不同市民观影需求
③过年看电影成为“新年俗”,呈流行趋势
④消费观念从重物质消费向重精神消费转变
A. ①② B. ②③ C. ①④ D. ③④
13. 中国人民银行宣布,决定自2022年10月1日起,下调首套个人住房公积金贷款利率0.15个百分点,5年以下(含5年)和5年以上利率分别调整为2.6%和3.1%。第二套个人住房公积金贷款利率政策保持不变。该政策
①有利于房地产市场可持续发展
②可促进居民投资购房需求不断释放
③能够更好地满足刚性住房需求
④有效降低了居民购买商品房的成本
A. ①③ B. ①④ C. ②③ D. ②④

14. 图5反映了我国2017—2021年全员劳动生产率变化情况。这一变化主要得益于2017—2021年全员劳动生产率



注:全员劳动生产率为国内生产总值(按2020年价格计算)与全部就业人员的比率,根据第七次全国人口普查结果对历史数据进行了修订。

图5

- ①国家实施就业优先政策,失业率稳步下降
②贯彻科教兴国战略,劳动者素质普遍提高
③产业加速转型升级,带动就业结构的优化
④资源型投入持续增加,生产规模日益扩大
- A. ①② B. ①④ C. ②③ D. ③④
15. 据中国商务部统计,2022年,我国实际使用外资金额12 326.8亿元人民币,按可比口径同比增长6.3%(下同),折合1 891.3亿美元,增长8%。其中韩国、德国、英国实际对华投资同比分别增长64.2%、52.9%和40.7%,欧盟总体对华投资更是同比增长92.2%。外资看好中国的原因在于
- ①我国实行高水平的贸易和投资自由化便利化政策
②良好的投资环境有利于保障外商投资的合法权益
③外汇管理门槛的逐年降低吸引了外资来中国投资
④人民币汇率的下降成为外资投资中国的重要原因
- A. ①② B. ②③ C. ①④ D. ③④
16. 面对复杂的实际情况,某地以居民需求和乡村治理需求为导向,以“1核、2机构、N主体”打造“党建引领物业进村共建共治‘1+2+N’模式”。具体来讲,即由社区党委牵头,联合政府、股份公司、村“两委”、物业和相关社会组织成立村共建共治理事会,取得了良好的效果。“1+2+N”模式
- ①充分发挥了基层群众的自治作用
②调动了不同主体参与基层治理的积极性
③是村民参与民主管理的主要途径
④为人民直接行使民主权利提供制度保障
- A. ①② B. ①④ C. ②③ D. ③④
17. 2023年,某市不断扩展政务公开形式,充实公开内容,立足为民便民及时回应公众关切,着力推动政务公开工作向纵深发展,取得实效。目前,全市33个市政府部门均明确了责任人负责本部门政务公开工作。深入推进政务公开工作

- ①能强化舆论监督作用
②可引导人民群众有序政治参与
③有助于打造阳光政府
④是区别政府有无权威的标志
- A. ①③ B. ②③ C. ①④ D. ②④
18. 作为一名全国人大代表,王怀军扎根乡村,时刻牵挂着与老百姓息息相关的民生问题。经过调研走访,她梳理了上万字的走访笔记,形成了《关于加快山区农村河道治理建设的建议》的提案并提交给十三届全国人大二次会议。很快,水利部回复了这一建议,后与财政部联合印发《关于开展水系连通及农村水系综合整治试点工作的通知》,并启动实施农村水系综合整治试点县建设。从中可以看出
- ①人大代表听取反映群众意见,帮助政府推进工作
②加强农村河道治理是人大和政府部门的共同职责
③行政机关受人大的监督,要对人大代表负责
④人民代表大会制度保证了国家机关协调高效运转
- A. ①② B. ①④ C. ②③ D. ③④
19. 每年9月27日前后,全球孔子学院和孔子课堂都会举办丰富多彩的活动,让所在国中文学习爱好者和民众感受中文的魅力、中华文化的精彩。开展这一活动
- ①能增强所在国人民对中华文化的认同
②塑造了中华文化的民族性和世界性品格
③有利于进一步推动中华文化走向世界
④充分展现了中华文化的特有价值和风采
- A. ①② B. ②③ C. ①④ D. ③④
20. 从陆游的“位卑未敢忘忧国”的深沉情愫、顾炎武的“国家兴亡,匹夫有责”的崇高责任、林则徐的“苟利国家生死以,岂因祸福避趋之”的决绝担当,到杨靖宇、张自忠、吉鸿昌等无数抗日英雄的不畏牺牲、以身报国,再到今天“神圣国土守护者”卓嘎和央宗、时代戍边英雄陈祥榕、抗击疫情中的最美“逆行者”,他们深刻诠释了爱国主义精神。可见,爱国主义精神
- ①是中华民族生生不息的精神基因
②维系着华夏大地上各民族的团结统一
③是民族精神丰富发展的不竭动力
④在不同历史时期,有不同的具体内涵
- A. ①② B. ②③ C. ①④ D. ③④
21. 2022年12月4日,在太空旅行了100多天的农作物种子,跟随神舟十四号载人飞船返回舱成功着陆。空间站内没有阳光、重力微小,种子如何发芽生长呢?原来,科学家们在问天实验舱内为植物提供了一个人造环境——“生命生态实验柜”。实验柜里有人工光源,为植物提供充足的光照,还可以浇水、进行气体控制,满足植物生长发育需求。这说明
- ①人类可根据需要改造规律 ②意识活动具有直接现实性
③人们能够认识和利用规律 ④人的实践活动具有能动性
- A. ①② B. ②④ C. ①③ D. ③④
22. 保持屋内一尘不染、吃完饭之后马上刷牙,每天洗多次澡等,一直被很多人认为是非常好的生活习惯。然而,随着研究的逐步深入,人们发现这些看起来很好的习惯,实际上都是错误的,不仅不会对健康有益,还会带来一定的健康隐患。这种认识上的变化主要体现了

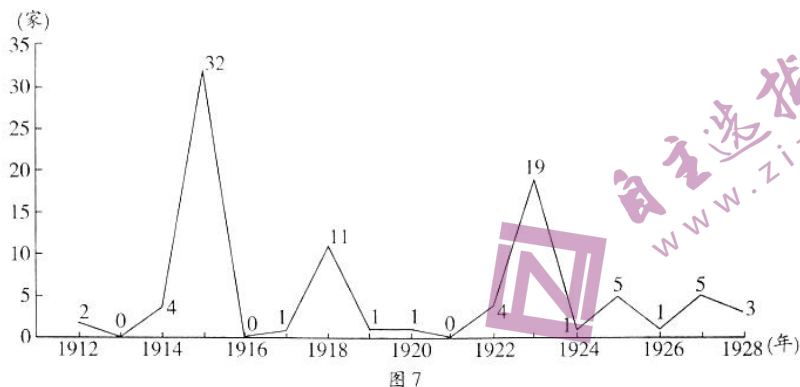
- ①实践是认识发展的动力
②真理是具体的有条件的
③认识的反复性和无限性
④人类认识的主体差异性
- A. ①③ B. ②③ C. ①④ D. ②④
23. 毛泽东曾形象地指出,对于人,伤其十指不如断其一指;对于敌,击溃其十个师不如歼灭其一个师。在敌强我弱的条件下,歼灭敌人和夺取地方这两个目标,一般不可能同时达到。延安保卫战,党中央毅然撤出延安,在大规模歼灭国民党军有生力量的同时实现了“存人失地,人地皆存”的战略构想。材料蕴含的辩证法道理有
- ①解决好主要矛盾可以推动次要矛盾的解决
②为了解决主要矛盾有时需要优先解决次要矛盾
③要抓住主要矛盾,集中力量解决主要矛盾
④只有积极创造条件才能实现主次矛盾相互转化
- A. ①② B. ②④ C. ①③ D. ③④
24. 春秋战国时期,以陶朱公范蠡、儒商鼻祖子贡、慧眼识人的吕不韦等为代表的富商巨贾走到历史前台,带动了中国商业发展史上的第一次飞跃。据此可推知,当时中国
- A. 商人成长为独立的社会阶层 B. 商业经营方式发生重大变化
C. 地域性的商人团体商帮形成 D. 儒学兴起带动了商业的繁荣
25. 有学者提出:“秦在水利、交通、机械等技术层次的优越,使秦人在兼并战争中取得优势,并赢得最终胜利。”这种观点意在说明,秦国
- A. 素有重视农耕文明的传统 B. 科学技术领先东方六国
C. 讲求实用最终完成国家统一 D. 商鞅变法历史意义非凡
26. 图6为宋代官帽,左右两边长长的翅子足有一米长,据传是宋太祖发明的,用以防止官员上朝时交头接耳。这种长翅官帽



图6

- A. 体现出崇文抑武治国理政方针 B. 有效防止朝廷内部动乱
C. 标志着因循保守政治风气形成 D. 服务于专制皇权的需求
27. 2001年,美国《华尔街日报》统计了1000年来世界上最富有的50人,其中一人就是“十三行”行商伍秉鉴(1769—1843年)。据伍家自己估计,1834年他们的财产总值已达2600万银元,大约占到当时清政府年财政收入的一半。这笔巨额“财富”的获得是由于伍秉鉴
- A. 适应了近代商贸发展变化 B. 扩展了传统商业的领域
C. 创新了商业金融经营形式 D. 拥有垄断对外贸易特权
28. 福建船政学堂创办于1866年,是中国第一所近代海军学校,在第一届驾驶班毕业留影中,彪炳青史的民族英雄邓世昌、林永升赫然在列。这幅毕业留影可用来印证当时
- A. 晚清政府实施了自救运动 B. 甲午海战中英烈的精神风貌
C. 清末新政推行了教育改革 D. 道光帝勇于变革社会的决心

29. 图 7 是 1912—1928 年天津机械制造业新设工厂数示意图。这说明当时天津



- 图 7
- A. 重工业有了一定的增长
B. 洋务企业发展环境良好
C. 形成了完整的工业体系
D. 受到了英美国家的控制
30. 朱德指出：“任何人如果轻视解放区战场对于中国人民解放事业和反法西斯同盟国共同事业所具有的巨大意义及其所已获得伟大成就，如果轻视解放区九千余万英勇战斗人民的重要性，必将犯很大的错误，那是一定的。”朱德赞扬的是
- A. 北伐军将士的历史功绩
B. 敌后抗战的国内外意义
C. 解放军取得的巨大胜利
D. 抗美援朝战争国际影响
31. 1990 年，中国大陆第一家麦当劳开业，屋顶上的麦当劳叔叔，成为深圳的经典地标。这可用来说明当时
- A. 中国更深层次地参与全球化进程
B. 深圳发展成对外开放的窗口
C. 海峡两岸的经济关系迈上新台阶
D. 中国的对外开放进一步发展
32. 图 8 为意大利人乔托(1266—1336 年)传世名画《哀悼基督》，画中悲伤的圣母将基督尸身挽在自己的右手臂弯，左手仿佛还在试探儿子的气息。该作品



图 8

- A. 反映出基督教对人精神生活的控制
B. 蕴含着浓郁的人文主义气息
C. 体现出宗教改革对绘画艺术的影响
D. 说明乔托深受启蒙思想影响
33. 英国作为老牌的资本主义国家，“君主”在权力层级中虽无实际效用，但成为维系民族力量的精神纽带，君主立宪制限制了君主的权力，是君主专制时期英国各派别为稳定国内局势互相妥协的政治结果。这种国家制度设计
- A. 显示出英国制度普世性
B. 代表了近代历史发展趋势
C. 根植于本国的历史传统
D. 立足于特定时期主观因素
34. 1942 年建立的“美国之音”在二战后成为美国政府向苏联民众宣传的主要工具，不仅推广美国生活方式，更宣扬“自由世界”原则。从 1949 年开始，“美国之音”在乌克兰、立

陶宛等地用当地语言广播。由此可见,“美国之音”

- A. 建立初衷服务于美国冷战战略
B. 主导了“自由世界”宣传工作
C. 推动了俄乌冲突不断升级发展
D. 逐渐发展成为一柄“冷战利器”

35. 图9中农业宣传海报上的外文意思是“玉米,适合于每一头小牛”。该海报反映了



图9

- A. 新经济政策激发了农民生产积极性
B. 苏俄农民建设农业强国的坚定信念
C. 苏联党和政府解决粮食问题的方略
D. 苏联领导人推进农业集体化的决心

二、非选择题:本题包括必考题和选考题两部分。第36~42题为必考题,每个试题考生都必须作答。第43~47题为选考题,考生根据要求作答。

(一)必考题:共135分。

36. 阅读图文材料,完成下列要求。(24分)

中华白海豚为沿岸河口定居性小型齿鲸类,较喜欢在水深20米左右的水域活动,听觉灵敏,游速迅捷,主要以鱼类为食。伶仃洋位于珠江口外,南达香港、澳门,自西向东海水从浑浊的黄色变成碧色最终转为湛蓝色。伶仃洋是中华白海豚的主要分布海域之一,也是我国四大渔场之一,但随着捕捞方式的升级,渔业资源逐年减少,捕捞压力持续增大。伶仃洋从1963年开始围海,再加上沿岸改造和港口建设等,水域面积减少了约1/10。伴随着海域的变化,中华白海豚的分布范围和核心栖息地也出现了变化,其中核心栖息地的空间分布呈现向主航道和无人海岛附近水域收缩的格局。图10示意伶仃洋水域、白海豚分布范围及主航道分布。

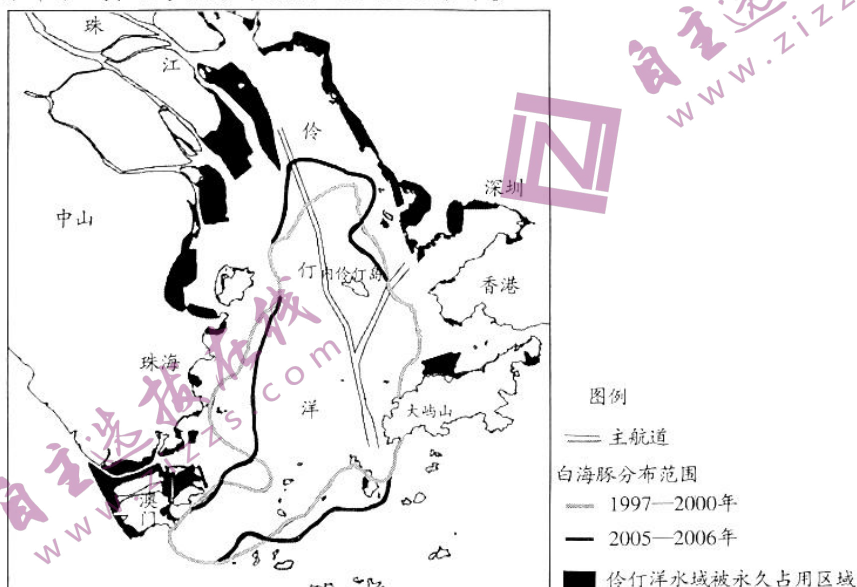


图10

- (1)分析伶仃洋西部海域海水浑黄的原因。(4分)
- (2)简析伶仃洋部分水域被永久占用对沿岸地下水的影响。(6分)
- (3)描述伶仃洋中华白海豚分布区的年际演变特点,并推测原因。(8分)
- (4)解释伶仃洋中华白海豚核心栖息地向主航道附近水域收缩的原因。(6分)

37. 阅读图文材料,完成下列要求。(22分)

农业水土资源,即农业生产利用的水资源(包括灌溉用水和降雨)和耕地资源,是农业生产的基础条件。垦殖率、农业灌溉率、农业水资源利用率及单位耕地面积农业产值是农业水土资源承载力的主要影响因素。哈萨克斯坦农业水土资源承载力较小且空间分布不均,但谷物及面粉等制品出口一直具有极强的竞争力,稳居全球第六大小麦出口国的地位,对其社会经济发展起到了非常重要的促进作用。哈萨克斯坦是中亚五国中面积、经济总量最大的国家,与俄罗斯是关税同盟关系,同时也是我国主要的农产品贸易伙伴之一。哈萨克斯坦从我国进口的农产品绝大多数为蔬菜和水果,且在进口量呈增长趋势的同时,还发展起转口贸易。图11示意哈萨克斯坦地理要素分布。

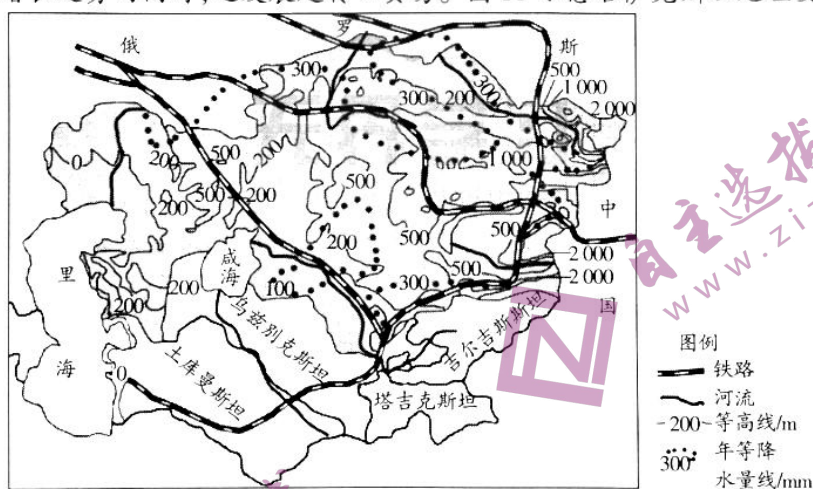


图11

- (1)推测哈萨克斯坦农业水土资源承载力空间分布的大致特征,并说出判断依据。(8分)
- (2)分析哈萨克斯坦谷物出口竞争力极强的地理优势。(4分)

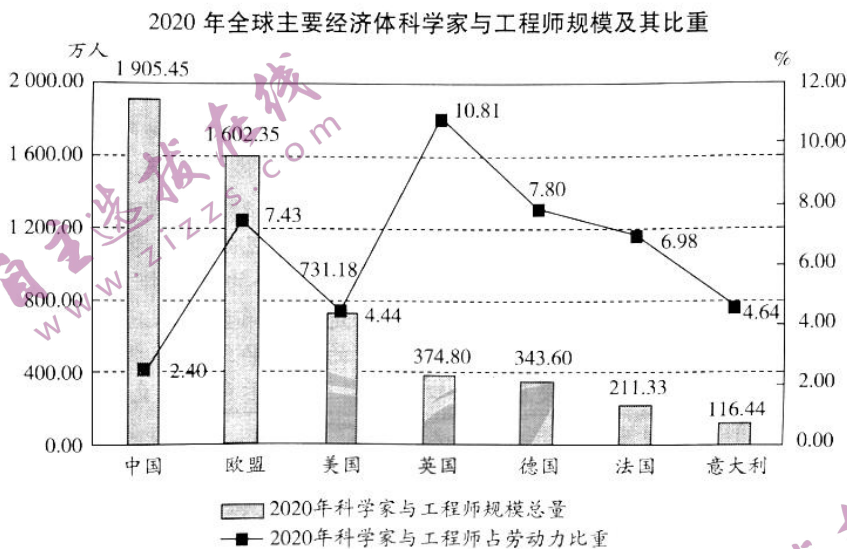
(3)指出哈萨克斯坦谷物和面粉制品出口对其社会经济发展的促进意义。(4分)

(4)简析哈萨克斯坦从中国进口蔬菜、水果份额较大的原因。(6分)

38. 阅读材料,完成下列要求。(14分)

党的二十大报告指出,“加快建设国家战略人才力量,努力培养造就更多大师、战略科学家、一流科技领军人才和创新团队、青年科技人才、卓越工程师、大国工匠、高技能人才”,“卓越工程师”被置于国家战略人才力量的重要位置。

材料一



材料二 客观来看,要实现打造新时代全球人才集聚高地的宏伟目标,中国依然面临着人才平台、人才政策、人才服务等多方面短板。在传统发展模式下人才引进、培养、评价、使用、激励等体制机制不能满足推动原始性创新、对标世界一流的要求,部分领域亟待出台突破性和创新性政策和进行改革;具有国际影响力的高精尖人才数量偏少,顶尖人才、领军人才和创新人才的数量、质量与发达国家相比还具有显著差距;产业骨干适用人才供给不足,工程科技人才培养与使用相脱节,科技发展还存在“卡脖子”问题等。

(1)概括材料一反映的经济信息。(6分)

(2)结合材料,运用经济生活知识说明我国应如何实现打造新时代全球人才集聚高地的宏伟目标。(8分)

39. 阅读材料,完成下列要求。(12分)

2023年中国国际消费品博览会,于4月11日至15日在海南省海口市举办,主题是“引领全球新消费 共享美好新生活”,吸引了全球目光。

“大道之行,天下为公。”消博会的巨大魅力在于共享共赢,以实际行动向世界兑现了中国坚持开放、不搞封闭,坚持互联互通、不搞零和博弈的承诺,与世界多国携手并肩、迎难而上,共同把全球市场的蛋糕做大、把全球共享的机制做实、把全球合作的方式做活,不断为全球经济治理探索互利共赢的新路径。不仅展现了大国风采,更是在促进全球经济恢复上贡献了中国智慧力量,以开放的中国市场,携手世界各国走好互利共赢的康庄大道。

结合材料,运用“当代国际社会”的知识说明消博会的成功举办给全球治理带来了哪些启示。

40. 阅读材料,完成下列要求。(26分)

勤俭节约是中华民族的传统美德,是践行社会主义核心价值观的生动体现。从“光盘行动”遏制“舌尖上的浪费”,到制止“天价月饼”“天价烟酒”,再到婚事新办、丧事简办……“浪费可耻、节约为荣”的节俭观念成为社会风尚,中华美德在精神文明建设中续写新篇章。

米粒虽小,尤见礼义廉耻;节约事微,可助兴国安邦。一粒粮食,折射传统美德的熠熠光辉,更反映着现代文明的基本诉求。一粥一饭,当思来之不易;半丝半缕,恒念物力维艰。节约无小事,应从点滴、从你我做起。打好厉行节约这场“持久战”,反对“舌尖上的浪费”尤为重要。

培养反对浪费、崇尚节约理念,需从提高全民的节俭意识开始。从认知到认同,从跟随到习惯。如今,厉行节约的文明观念吹向乡土大地。倡导简约适度、绿色低碳的生活方式,反对奢侈浪费和不合理消费的观念已经融入人们的生活。

(1)结合材料,运用社会存在与社会意识辩证关系原理,分析培育勤俭节约社会风尚的原因。(10分)

(2)践行社会主义核心价值观需要弘扬勤俭节约传统美德。结合材料,运用文化生活知识加以说明。(10分)

(3)结合材料,为弘扬勤俭节约传统美德提出三条方法论建议。(6分)

41. 阅读材料,完成下列要求。(25分)

材料一 雅典城外阿波罗神庙墙上,铭刻着古希腊哲人的一句名言:人啊,认识你自己!体育就是人类认识自我的一种方式。雅典在公元前8世纪形成奴隶制城邦,公元前594年梭伦改革推进社会发展。古希腊苏格拉底、柏拉图、亚里士多德的体育思想影响了2000多年来的人类生活。

表1 古希腊体育思想

苏格拉底	提醒雅典人要不地提高身体素质，“体育教育……让他们从小就开始接受。而且，体育训练应该十分小心，并且要终其一生”。
柏拉图	提倡进行简单而朴素的身体锻炼，认为青年人，无论是男人还是女人，都应该严格地受到音乐与体育的教育，借以成为优秀的卫戍者。
亚里士多德	认为“体育锻炼有助于培养人的勇敢”，“显然预先应把儿童交给体育教师和角力教师，这些人分别能造就儿童的体质和教给他们身体方面的本领”。

——摘编自谭华、刘春燕主编《体育史》等

材料二 孔子在“六艺”教育中，重视体育活动教化作用。“射”“御”及“乐”中的“舞”，都是通过一定规范的身体活动来培养学生的“礼”，即通过体育的形式培养学生尊重理法的习惯和精神。孔子体育思想是为理念服务的，这种理念是以“礼”为外壳，“仁”为内核的思想。在中国古代体育历史长河中，孔子体育思想起到了各家诸子都无法比拟的后世影响力。后世儒家在继承基础上不断地创新和发展，使之更为成熟与完善。人们遵循孔子的体育思想，积极从事实用性体育运动，强身健体。

——摘编自王烈《基于“六艺”教育下孔子体育思想的阐释》

(1) 根据材料一并结合所学知识，概括雅典的体育思想，并简析其兴盛原因。(12分)

(2) 根据材料一、二并结合所学知识，说明与古代雅典相比，我国古代体育思想展现出的特质，并简析孔子体育思想的意义。(13分)

42. 阅读材料，完成下列要求。(12分)

材料 新中国外交，是中国政府和人民捍卫国家独立主权和民族尊严的历史，是中国政府和人民致力于维护世界和平、促进经济发展、推动社会进步的历史，是中国政府和人民努力改善周边环境、创造有利的国际条件的历史。新中国外交是一项开创性的事业，在实践中，探索并形成了一整套博大精深的理论、深谋远虑的战略和策略，以及历史唯物主义和辩证唯物主义的思想方法。

——摘编自曲星著《中国外交50年》

根据材料并结合所学知识，就材料整体或其中任意一点拟定一个论题，并予以阐述。(要求：论题明确，持论有据，论证充分，表述清晰。)

(二) 选考题:共 25 分。请考生从 2 道地理选考题、3 道历史选考题中每科任选一题作答。
如果多做,则每科按所做的第一题计分。

43. [地理——选修 3:旅游地理](10 分)

“慢城”是一种新的城市发展模式,强调在现代化的城市中,寻求一种将现代化技术与传统生活方式相结合的方式。全州市韩屋村是韩国唯一在城市中完好保存韩屋(韩国传统样式的房屋)的村落,是韩国的代表性旅游地,古建筑、传统饮食、传统工艺、传统音乐舞蹈等文化遗产丰富,富有朝鲜民族特色。韩屋村 2010 年入选国际“慢城”后,更加注重慢旅游的发展。

简述入选国际“慢城”对韩屋村旅游业发展的好处。

44. [地理——选修 6:环境保护](10 分)

蒲河是黄河水系泾河的一级支流,蒲河流域庆阳市段地处黄土高原中部,约占流域总面积的 61.87%,生物多样性丰富度较低。表 2 示意蒲河流域庆阳市段生境类型组成。

表 2

土地利用类型	面积/km ²	占比/%
旱地	1 983.17	42.37
林地	253.42	5.41
高覆盖度(>50%)草地	30.98	0.66
中覆盖度(20%~50%)草地	1 970.70	42.11
低覆盖度(<20%)草地	266.05	5.68
河渠、湖(库)、滩地	69.92	1.50
城镇、农村居民点和其他建设用地	105.89	2.26

简析蒲河流域庆阳市段生物多样性丰富度较低的原因。

45. [历史——选修 1:历史上重大改革回眸](15 分)

材料 安史之乱后,随着均田制和租庸调制的崩溃,地税和户税成为唐王朝的重要税收。建中元年(780 年),唐德宗以户税和地税来代替租庸调制,主要内容是:

- “租庸杂徭悉省”,只有保留户税和地税。
- “量出以制入”,政府先预算开支,而后确定赋税总额。实际上中央是以大历十四年的各项税收总额为准,分摊到全国各州征收。
- “户无主客,以见居为簿;人无丁中,以贫富为差”,即不分主户、客户,一律在现居地立户籍纳税;不以丁男、中男作为征税依据,而是以资产多少定成等级,为纳税依据。
- 户税以资产多少,定出户等纳税。地税以田亩多少,按亩征税,不定居的商贾于所地三十税一(后改为十税一)。
- 无论地税、户税,每年分夏秋两季交纳,夏税不过六月,秋税不过十一月。

——摘编自吕克勤、徐耀耀、徐高祉、袁坤主编《中国古代史》

(1) 根据材料并结合所学知识,说明唐建中年间赋税改革的背景。(7分)

(2) 根据材料并结合所学知识,简析唐建中年间赋税改革的积极作用。(8分)

46. [历史——选修3:20世纪的战争与和平](15分)

材料 德国帝国主义在政治上的代表人物是德皇威廉二世。人们往往把1890—1918年的德国称为“威廉时代”,因为这个时代贯彻一种“威廉主义”的方针政策。威廉二世执掌国政后不久便开始执行一条“新路线”,即“世界政策”。“世界政策”的主要点就是殖民主义和海军主义政策。威廉二世得意地解释他的“世界政策”就是向海外扩展殖民地,掌握制海权,争霸世界:“德国的未来在海上”,“定叫海神手中的三叉戟(即制海权)掌握在我们手中”。德国从“大陆政策”转变为“世界政策”的背景,是由于德国工业的起飞加剧了帝国主义国家间经济发展的不平衡,德国要求重新瓜分世界市场和殖民地。19世纪末20世纪初,德国帝国主义向外扩张的矛头主要指向北非、亚洲(中国)、巴尔干和土耳其。

——摘编自丁建弘《德国通史》

(1) 根据材料并结合所学知识,简析德皇威廉二世积极推行“世界政策”的背景。(8分)

(2) 根据材料并结合所学知识,说明德国推行“世界政策”的影响。(7分)

47. [历史——选修4:中外历史人物评说](15分)

材料 乌兰夫(1906—1988年),蒙古族。1925年9月入党。九一八事变之后,内蒙古东部盟旗相继沦陷,西部盟旗危在旦夕。中共西蒙工委密切关注局势,1936年2月,由乌兰夫领导,发起了百灵庙暴动。百灵庙暴动被毛泽东盛赞为“草原抗日第一枪”。抗日战争胜利后,经过深入、细致的工作,内蒙古东西部统一于乌兰夫为主席的自治运动联合会之下。1947年5月1日,乌兰夫宣布成立内蒙古自治政府,中国第一个少数民族自治政权诞生。其后几年,乌兰夫在党中央的领导和关怀下,持续不断地、创造性地探索民族区域自治经验,被中央誉为民族区域自治的“良好榜样”,内蒙古的经验在全国推行,起到了很好的示范作用。

——摘编自吴向廷《乌兰夫:民族团结统一的典范》

(1) 根据材料并结合所学知识,概括乌兰夫的历史贡献。(7分)

(2) 根据材料并结合所学知识,简析乌兰夫能够作出历史贡献的原因。(8分)

2022—2023 学年高三考前定位考试

文科综合·政治答案

12~23 小题,每小题 4 分,共 48 分。

12. 答案 B

命题透析 本题以春节期间电影市场行情火爆为情境,考查消费的有关知识,考查考生调动和运用知识的能力,考查科学精神学科素养。

思路点拨 人们的消费行为受消费心理的影响,过年看电影成为“新年俗”,激发了人们的观影热情,③正确。电影本身的质量也是影响票房的重要因素,②正确。很多一、二线城市的电影院出现一票难求的情况,①与题意不符。④说法片面。

13. 答案 A

命题透析 本题以央行下调首套个人住房公积金贷款利率为情境,考查货币政策的有关知识,考查考生获取和解读信息的能力,考查政治认同学科素养。

思路点拨 首套个人住房公积金贷款利率下调,会进一步降低居民购买首套房的成本,释放更多住房公积金贷款,更好满足居民刚性住房需求,推动房地产市场健康、可持续发展,①③符合题意。我国坚持“房住不炒”政策,该政策不会促进居民投资购房需求,②不选。该政策不会降低居民购买二套及以上商品房成本,④说法片面。

14. 答案 C

命题透析 本题以 2017—2021 年我国全员劳动生产率的变化为情境,考查大力发展生产力、转变经济发展方式等知识,考查考生获取和解读信息、调动和运用知识的能力,考查科学精神学科素养。

思路点拨 全员劳动生产率是一个相对值,单纯从就业总量分析,不能作为全员劳动生产率提高的原因,排除①;劳动者素质提高可以促进生产效率提升,②正确;相对来说,传统产业的效益不高,通过转型升级,可以提升单位劳动力创造的价值,③正确;依靠资源投入取得的的增长是粗放型增长,并不能带来全员劳动生产率的提高,④错误。

15. 答案 A

命题透析 本题以我国实际使用外资情况为情境,考查发展对外经济的有关知识,考查考生调动和运用知识的能力,考查政治认同学科素养。

思路点拨 外资之所以看好中国,原因在于我国实行高水平的投资自由化便利化政策,有效保障了外商投资的合法权益,①②正确。③④说法错误。

16. 答案 A

命题透析 本题以某地创新基层治理模式为情境,考查民主管理的相关知识,考查考生获取和解读信息的能力,考查公共参与学科素养。

思路点拨 以“1 核 2 机构、N 主体”打造党建引领物业进村共建共治的“1+2+N”模式。显然能够调动不同主体参与基层治理的积极性,发挥基层群众的自治作用,①②正确。自己选举当家人是村民参与民主管理的主要途径,③不选。④“制度保障”说法错误。

17. 答案 B

命题透析 本题以某市政府部门公开政府信息为情境,考查政务公开的有关知识,考查考生调动和运用知识的能力,考查政治认同学科素养。

思路点拨 某市不断扩展政务公开形式,充实公开内容,立足为民便民及时回应公众关切……,能更好地保障公民的知情权等权利,有利于引导人民群众有序政治参与,打造阳光政府,②③正确。①与题意无关。政府的管理和服务是否被人民认可和接受,是区别政府有无权威的标志,④不选。

18. 答案 B

命题透析 本题以全国人大代表的具体履职事例为情境,考查我国的根本政治制度的有关知识,考查考生获取和解读信息的能力,考查政治认同学科素养。

思路点拨 依题意,人大代表深入调研形成提案,提交给十三届全国人大二次会议,相关政府部门采纳建议并开展试点,体现了①的观点。议案提交给十三届全国人大二次会议后,很快得到水利部回复,并协同财政部联合落实,体现了我国人民代表大会制度的优越性,保证了国家机关协调高效运转,④正确。农村河道治理是政府的职责,②说法不准确。行政机关要对人民负责,③说法错误。

19. 答案 D

命题透析 本题以全球孔子学院举办文化活动为情境,考查文化交流与传播的知识,考查考生获取和解读信息的能力,考查科学精神学科素养。

思路点拨 让所在国中文学习爱好者和民众感受中文的魅力,进一步推动了中华文化走向世界,能够充分展现中华文化的特有价值和风采,③④正确。①“认同”说法错误。文化既有民族性,也有世界性,不是这一活动塑造的,②错误。

20. 答案 C

命题透析 本题以爱国主义精神为情境,考查中华民族精神的知识,考查考生调动和运用知识的能力,考查科学精神学科素养。

思路点拨 材料列举了我国不同历史时期爱国主义的典型人物,说明了爱国主义已融入中华民族的血液之中,在不同历史时期,有不同的具体内涵,①④符合题意。社会实践是民族精神丰富发展的不竭动力,③说法欠妥。②材料没有体现。

21. 答案 D

命题透析 本题以太空育种为情境,考查规律、实践的有关知识,考查考生调动和运用知识的能力,考查科学精神学科素养。

思路点拨 科学家们在问天实验舱内为植物提供了一个人造环境——“生命生态实验柜”,给种子光照和水分,体现了人们能够在实践中认识和利用规律,以满足人们的需求,同时也说明实践具有能动性,③④正确。①中“改造规律”说法违背了规律的客观性,错误。实践具有直接现实性,②错误。

22. 答案 A

命题透析 本题以生活现象为情境,考查认识论等知识,考查考生获取和解读信息的能力,考查科学精神学科素养。

思路点拨 随着研究的逐步深入,原有认识被认为是错误的,说明实践是认识发展的动力,人类认识具有反复性和无限性,①③正确。②与题目主旨不符。④材料没有体现。

23. 答案 C

命题透析 本题以毛泽东的论断为情境,考查矛盾观的知识,考查考生获取和解读信息的能力,考查科学精神

学科素养。

思路点拨 伤其十指不如断其一指,击溃其十个师不如歼灭其一个师,这都是在强调要集中力量解决主要矛盾,③可选;“存人失地,人地皆存”,这说明①可选。②④表述都是正确的,但均与题意不符。

38. **命题透析** 本题以党的二十大报告关于加快建设国家战略人才力量以及我国人才发展现状为情境,综合考查经济生活的有关知识,考查考生解读信息、运用所学知识描述和解决问题的能力,考查政治认同等学科素养。

答案要点 (1)2020年我国科学家和工程师规模总量位居全球前列,(2分)但从占劳动力比重来看,仍有较大增长空间,(2分)这在一定程度上制约了我国产业结构的升级与优化。(2分)

(2)以党的二十大报告精神为引领,构建符合新时代发展要求的人才强国战略支撑体系和人才工作体系;(2分)坚持尊重劳动、尊重知识、尊重人才、尊重创造,持续营造尊重工程技术人才的社会氛围;(2分)瞄准人才吸引、评价、使用、激励、保障等发展关键环节,促进人才体制机制改革,进一步拓展工程技术人才职业发展空间;(2分)创新顶尖人才引进、青年人才支持、基础学科拔尖人才培养等方面的工作思路,提升人才国际竞争吸引力,把各方面优秀人才集聚到党和人民事业中来。(2分)(其他答案言之有理,可酌情给分)

39. **命题透析** 本题以2023年中国国际消费品博览会为情境,综合考查当代国际社会的知识,考查考生解读信息、运用所学知识描述、阐释和探究问题的能力,考查政治认同等学科素养。

答案要点 寻求国家间的共同利益,在维护自身利益的同时,兼顾他国合理关切,在谋求本国发展中促进各国共同发展;(3分)坚持和平与发展的时代主题,反对霸权主义和强权政治,不搞零和博弈,建立有利于世界和平与发展的国际新秩序;(3分)推动国际关系民主化,共同参与全球事务,共同享受发展成果,倡导共商共建共享的全球治理观;(3分)正视人类面临的共同挑战,各国人民应齐心协力,坚持对话协商、共建共享、合作共赢、交流互鉴,积极构建人类命运共同体。(3分)

40. **命题透析** 本题以勤俭节约传统美德为情境,考查社会主义核心价值观及哲学的有关知识,考查考生获取和解读信息、运用所学知识论证和探究问题的能力,考查科学精神等学科素养。

答案要点 (1)社会存在决定社会意识。(2分)“舌尖上的浪费”“天价月饼”、婚事丧事大操大办等社会不良现象,要求我们弘扬勤俭节约的优良作风,大力破除奢靡之风,营造崇尚节俭的社会氛围。(3分)社会意识具有相对独立性,先进的社会意识对社会发展起积极的推动作用。(2分)培养反对浪费、崇尚节约理念,可大大减少社会资源浪费、减轻环境承载压力,促进经济社会发展。(3分)

(2)社会主义核心价值观是社会主义核心价值体系的内核,与中华优秀传统文化相承接。(3分)勤俭节约是中华优秀传统文化的重要组成部分,弘扬勤俭节约传统美德是社会主义核心价值观的内在要求和题中之义。(4分)有利于在全社会形成节约光荣、浪费可耻的社会风气,弘扬和践行社会主义核心价值观。(3分)

(3)重视量的积累,从点滴、从你我做起。(2分)树立正确的价值观,反对错误的价值观。(2分)发挥人民群众的主体作用,走群众路线。(2分)(其他答案言之有理,可酌情给分)



2022—2023 学年高三考前定位考试

文科综合·历史答案

24~35 小题,每小题 4 分,共 48 分。

24. 答案 B

命题透析 本题以春秋战国时期商业繁荣发展为背景材料,旨在考查考生获取和解读信息、调动和运用知识的能力,同时体现了对唯物史观、时空观念、历史解释、家国情怀学科素养的考查。

思路点拨 根据材料并联系所学知识可知,春秋战国时期,“工商食官”制度瓦解,商业经营方式发生了重大变化,以陶朱公范蠡、儒商鼻祖子贡、慧眼识人的吕不韦等为代表的富商巨贾走到历史前台,B 项正确。商朝已出现了专门从事商品交易的商人,商人开始成为一个独立的社会阶层,地域性的商人群体——商帮形成于明清时期,A、C 两项错误;春秋战国时期的商业繁荣并非是由儒学兴起带动的,排除 D 项。

25. 答案 C

命题透析 本题以学者有关秦国赢得最终胜利表述为背景材料,旨在考查考生获取和解读信息、调动和运用知识的能力,同时体现了对唯物史观、历史解释、家国情怀学科素养的考查。

思路点拨 秦的统一符合战国中晚期的历史前进方向,秦国在水利经营、交通建设、机械发明等方面,优于东方各国,由此可见,秦的统一某种程度上是其讲求实用的文化性格与特点的结果,C 项正确。战国七雄都属于“农耕文明”,A 项错误;材料中列举的“水利、交通、机械等技术”仅是“科学技术”的一部分,B 项仅凭材料信息无法说明,排除;材料缺乏“商鞅变法”的信息,排除 D 项。

26. 答案 D

命题透析 本题以宋太祖发明长翅官帽为背景材料,旨在考查考生获取和解读信息、调动和运用知识、描述和阐释事物的能力,同时体现了对时空观念、历史解释学科素养的考查。

思路点拨 由材料可知,“长翅官帽”是宋太祖为“防止官员上朝时交头接耳”而发明的,这种做法服务于专制皇权的需求,有利于树立君主权威,D 项正确。宋代长翅官帽与“崇文抑武”无关,排除 A 项;B 项中“有效防止”的说法有违史实,排除;C 项材料体现不出,排除。

27. 答案 D

命题透析 本题以清朝商业巨头伍秉鉴为背景材料,旨在考查考生获取和解读信息、调动和运用知识的能力,同时体现了对时空观念、历史解释学科素养的考查。

思路点拨 清朝前期实行的海禁政策规定,由政府特许的广州“十三行”统一经营对外贸易,凭借垄断海外贸易的特权,造就了一批豪商巨贾,伍秉鉴就是其中的佼佼者,D 项正确。A 项中“近代商贸”与材料中伍秉鉴生活在 1769—1843 年不符,排除;仅凭材料无法说明“扩展了传统商业的领域”和“商业金融”,排除 B、C 两项。

28. 答案 A

命题透析 本题以福州船政学堂第一届驾驶班毕业留影为背景材料,旨在考查考生获取和解读信息、调动和运用知识的能力,同时体现了对时空观念、历史解释、史料实证、家国情怀学科素养的考查。

思路点拨 致力于“自强”“求富”的洋务运动,是晚清统治者的自救运动,福州船政学堂是洋务运动中创办的新式学校,彪炳青史的民族英雄邓世昌、林永升都是该校第一届驾驶班学员,A 项正确。B、C、D 三项与材料主旨不符,排除。

29. 答案 A

命题透析 本题以 1912—1928 年天津机械制造业新设工厂为背景材料,旨在考查考生获取和解读信息、调动和运用知识的能力,同时体现了对时空观念、历史解释、家国情怀学科素养的考查。

思路点拨 由表中1912—1928年天津每年新设机械厂的数量可知,这一时期天津机械制造业呈现出曲折发展的态势,而机械制造业属于重工业,这说明当时天津重工业有了一定增长,A项正确。洋务运动早在甲午中日战争后就已结束,排除B项;近代中国没有形成完整工业体系,C项错误;材料并未涉及天津受英美国家控制信息,排除D项。

30. 答案 B

命题透析 本题以朱德的讲话为背景材料,旨在考查考生获取和解读信息、调动和运用知识的能力,同时体现了对唯物史观、时空观念、历史解释、家国情怀学科素养的考查。

思路点拨 由材料中“解放区战场”“反法西斯同盟国”等信息并联系所学知识可知,朱德的讲话发生在抗日战争时期,他是在赞扬敌后战场抗战的国内外意义,B项正确,排除A、C、D三项。

31. 答案 D

命题透析 本题以1990年中国大陆第一家麦当劳开业为背景材料,旨在考查考生获取和解读信息、调动和运用知识、描述和阐释事物的能力,同时体现了对时空观念、历史解释、家国情怀学科素养的考查。

思路点拨 麦当劳是美国的一家著名跨国公司,1990年中国大陆第一家麦当劳在深圳开业,反映了中国对外开放进一步发展,D项正确,排除C项;A、B两项材料信息无法体现,均排除。

32. 答案 B

命题透析 本题以乔托的传世名画《哀悼基督》为背景材料,旨在考查考生获取和解读信息、调动和运用知识、描述和阐释事物的能力,同时体现了对唯物史观、时空观念、历史解释学科素养的考查。

思路点拨 联系所学知识可知,文艺复兴时期的意大利艺术家们重新认识人性、人的存在与价值,该时期诞生了以乔托等人为代表的佛罗伦萨画派,《哀悼基督》是一幅充满人文主义气息的绘画作品,B项正确。

33. 答案 C

命题透析 本题以英国国家制度设计为背景材料,旨在考查考生获取和解读信息、调动和运用知识的能力,同时体现了对唯物史观、时空观念、历史解释学科素养的考查。

思路点拨 由于历史文化传统、社会经济发展水平的差异,西方国家的制度依据其本国实际而设计,英国作为老牌的资本主义国家,其君主立宪制同样根植于本国的历史传统,C项正确。世界上不存在“普世性”的国家制度设计,A项错误;与民主共和制相比,君主立宪制无法代表“近代历史发展趋势”,排除B项;一种政治制度的选择绝不仅仅依靠某种主观因素,而是要基于历史和国情的平衡,排除D项。

34. 答案 D

命题透析 本题以“美国之音”在东欧推广为背景材料,旨在考查考生获取和解读信息、调动和运用知识的能力,同时体现了对唯物史观、时空观念、历史解释学科素养的考查。

思路点拨 材料中“推广美国生活方式”“宣扬‘自由世界’原则”等信息表明,二战后,“美国之音”逐渐发展成为一柄“冷战利器”,D项正确。“美国之音”成立于1942年,冷战尚未开始,A项错误;材料缺乏比较信息,B项中“主导”无从谈起;材料信息无法反映“俄乌冲突”,排除C项。

35. 答案 C

命题透析 本题以赫鲁晓夫改革时期的农业宣传海报为背景材料,旨在考查考生获取和解读信息、调动和运用知识的能力,同时体现了对时空观念、历史解释学科素养的考查。

思路点拨 20世纪五六十年代,苏联处于赫鲁晓夫改革时期,赫鲁晓夫认为,通过大规模种植玉米,发展畜牧业,能够解决苏联的粮食问题,在此背景下,苏联开展了广泛种植玉米的活动,图中“农业宣传海报”即反映了这段历史,C项正确。“新经济政策”和“推进农业集体化”分别发生在列宁和斯大林统治时期,A、D两项与材料中时间不符,均排除;1922年,苏俄发展成为苏联,排除B项。

41. **命题透析** 本题以古代东西方体育思想为背景材料,旨在考查考生获取和解读信息、调动和运用知识、描述阐释事物的能力,同时体现了对唯物史观、时空观念、历史解释、家国情怀学科素养的考查。

答案要点 (1)体育思想:终身体育思想;平等的体育意识;适度有规律的体育教育思想;体育优先思想。

(6分,任答3点,言之成理即可)

原因:人文主义思想萌发;民主政治高度繁荣;奴隶制经济发展;思想家的努力。(6分,任答3点,言之成理即可)

(2)特质:凸显体育教育的实用性;注重自省内修;与“仁”学教育融为一体;与美学教育相辅相成;与德育教育紧密结合。(6分,任答3点,言之成理即可)

意义:在中国古代体育思想发展史上占据重要地位;成为中华民族传统体育文化思想的重要代表;彰显着中华民族传统体育思想的灿烂光辉;为后世体育思想的创新与发展提供了借鉴。(7分,任答3点,言之成理即可)

42. **命题透析** 本题以新中国外交为背景材料,旨在考查考生获取和解读信息、调动和运用知识、描述阐释事物、论证和探讨问题的能力,同时体现了对唯物史观、时空观念、历史解释、史料实证、家国情怀学科素养的考查。

答案要点 示例:

论题:新中国初期外交捍卫了国家主权。(2分)

阐述:新中国成立后,捍卫国家主权成了中国外交的首要任务。新中国奉行独立自主的和平外交方针,采取“打扫干净屋子再请客”“另起炉灶”和“一边倒”,积极开展外交活动,冲破美国的外交孤立,同苏联等国家正式建立外交关系;提出和平共处五项原则,积极同邻近国家和新兴民族独立国家发展友好关系;步入世界外交舞台,参与日内瓦会议和万隆会议。(9分,言之成理即可)

综上所述,在中国共产党的领导下,新中国成立初期的外交取得了辉煌成就,有力捍卫了国家主权和民族尊严,大大提高了中国的国际地位。(1分)

(“示例”仅为阅卷参考,其他答案言之成理亦可)

45. **命题透析** 本题以唐朝“建中改革”为背景材料,旨在考查考生获取和解读信息、调动和运用知识、描述阐释事物的能力,同时体现了对唯物史观、时空观念、历史解释、家国情怀学科素养的考查。

答案要点 (1)背景:均田制无法推行;租庸调制无法维持;政府财政困难;藩镇割据;唐德宗支持。(7分,任答3点,言之成理即可)

(2)积极作用:简化了税收名目;扩大了收税对象;保证了国家的财政收入;改变了战国以来以人丁为主的赋税制度;减轻了政府对农民的人身控制;有助于商品经济发展。(8分,任答4点,言之成理即可)

46. **命题透析** 本题以德皇威廉二世积极推行“世界政策”为背景材料,旨在考查考生获取和解读信息、调动和运用知识、描述阐释事物的能力,同时体现了对唯物史观、时空观念、历史解释、家国情怀学科素养的考查。

答案要点 (1)背景:德意志统一完成;“威廉主义”政策出现;第二次工业革命在德国迅猛发展;德国步入帝国主义阶段;德国经济实力超过英法;英法等老牌资本主义国家建立起庞大殖民帝国;帝国主义各国经济政治发展的不平衡加剧。(8分,任答4点,言之成理即可)

(2)影响:强化了德国军国主义发展;推动了德国的对外扩张;与老牌资本主义强国矛盾加剧;引发国际局势日益紧张。(7分,任答3点,言之成理即可)

47. **命题透析** 本题以“民族团结统一的典范”乌兰夫为背景材料,旨在考查考生获取和解读信息、调动和运用知识、描述阐释事物的能力,同时体现了对唯物史观、时空观念、历史解释、家国情怀学科素养的考查。

答案要点 (1)历史贡献:发动百灵庙暴动,打响了“草原抗日第一枪”;推动内蒙古东西部统一;成立内蒙古自治区政府,树立了我国少数民族自治的榜样;探索民族区域自治经验,被中央誉为民族区域自治的“良好榜样”。(7分,任答3点,言之成理即可)

(2)原因:坚决服从中国共产党领导;具有强烈的爱国情怀;坚定民族团结、民族自治的信念;顺应国家统一的历史发展趋势;团结和依靠广大内蒙古人民。(8分,任答4点,言之成理即可)

2022—2023 学年高三考前定位考试

文科综合·地理答案

1~11 小题,每小题 4 分,共 44 分。

1. 答案 B

命题透析 本题以京沪高铁相关材料为情景,考查交通站点的选择和建设,旨在考查考生获取和解读地理信息、调动和运用地理知识的能力,综合思维的学科核心素养。

思路点拨 滕州是一个县级市,人口、GDP 均占整个枣庄市的一半左右,自身客运需求量大,但又距离薛城区较远,转薛城区出行非常不便,还造成巨大的地方通行压力,故单独设站;枣庄站的客流因设滕州站而被分流,不利于市区薛城区的发展。

2. 答案 A

命题透析 本题以京沪高铁相关材料为情景,考查交通建设对区域发展的影响,旨在考查考生获取和解读地理信息、调动和运用地理知识的能力,综合思维、地理实践力的学科核心素养。

思路点拨 德州高铁站 5 千米范围内建设用地重心位于高铁站西北方向,且向西北方向移动,说明德州高铁站受到来自西北方向的辐射带动作用强,即德州市区位于德州高铁站的西北方向。

3. 答案 D

命题透析 本题以京沪高铁相关材料为情景,考查交通建设对区域发展的影响,旨在考查考生获取和解读地理信息、调动和运用地理知识的能力,综合思维的学科核心素养。

思路点拨 京沪高铁建成后,对客运影响较大,对货运影响较小,附近不会出现工业集聚区;高铁站周边尤其是西北部建设用地面积明显增加,再加上老城区发展,德州市与高铁站之间的联系强度逐渐增大;读图可知,5 千米范围内建设用地重心和耕地重心移动的趋势并不一致;高铁站 5 千米范围内建设用地面积扩大导致建设用地重心外移。

4. 答案 B

命题透析 本题以大冶市产业发展为情景,考查区域产业结构变化,旨在考查考生获取和解读地理信息、调动和运用地理知识的能力,区域认知、综合思维的学科核心素养。

思路点拨 大冶市产业多样化水平在 2002 年和 2014 年出现较大跌落,说明大冶市产业结构发生了重大调整,政策性地关闭了大量相对落后的产业,导致产业多样化水平暂时降低。大冶市 2008 年已经资源枯竭了,但 2014 年依然出现产业多样化水平大跌落,故 A 项错误;自然灾害可能会对产业造成破坏,但不会造成产业多样化水平大跌落;可再生能源的开发会提高产业多样化水平。

5. 答案 D

命题透析 本题以大冶市产业发展为情景,考查区域产业结构变化,旨在考查考生获取和解读地理信息、调动和运用地理知识的能力,区域认知、综合思维的学科核心素养。

思路点拨 大冶市曾是资源型城市,但 b 类产业一直占比较低,直到 2018 年才突然大幅度增加,故 A、C 两项错误;大冶市 2012 年进入全国县域经济百强行列,说明经济发展水平较高,而按照产业结构梯级优化的一般规律,b 类产业应该是级别较高的化学、医药等工业类型。

6. 答案 B

命题透析 本题以天气状况为情景,考查常见天气系统,旨在考查考生获取和解读地理信息、调动和运用地理知识的能力,综合思维、地理实践力的学科核心素养。

思路点拨 该地理小组考察的时间为冬半年,且该天气系统过境时有大风、降温天气,故为冷锋过境。

7. 答案 C

命题透析 本题以天气状况为情景,考查生态脆弱区相关知识,旨在考查考生获取和解读地理信息、调动和运用地理知识的能力,区域认知、综合思维的学科核心素养。

思路点拨 气候干旱、降水少、地表物质疏松,为沙尘暴的形成提供物质来源,大风天气为沙尘暴的形成提供动力;沙尘暴多由冷锋引起,暖锋风力较小;地势起伏大会削减风力,不是产生沙尘暴的必要条件;畜牧业发展快属于人为原因。

8. 答案 A

命题透析 本题以刺槐林枯落物 C 含量比较为情景,考查生物多样性分布,旨在考查考生获取和解读地理信息、调动和运用地理知识的能力,区域认知、综合思维的学科核心素养。

思路点拨 陕西中南部为亚热带常绿林和温带落叶阔叶林,陕西北部为草原带,故 I 对应森林带,II 对应森林草原带,III 对应草原带。宜川水热条件较好,安塞为生态交错带,两者的物种数日及一些物种的密度较大,故地处草原带的绥德生物多样性最不丰富。

9. 答案 C

命题透析 本题以刺槐林枯落物 C 含量比较为情景,考查水热资源分布,旨在考查考生获取和解读地理信息、调动和运用地理知识的能力,区域认知、综合思维的学科核心素养。

思路点拨 枯落物 C 含量与年平均降水量、年平均温度表现出显著的正相关性,宜川水热资源最丰富,故生物量最大,枯落物 C 含量最高,对应样品 I。

10. 答案 D

命题透析 本题以田湾河流域梯级水电站为情景,考查流域综合开发,旨在考查考生获取和解读地理信息、调动和运用地理知识的能力,综合思维的学科核心素养。

思路点拨 金窝、大发水电站发电量的多少受仁宗海水电站下泄水量的制约,而仁宗海水电站的发电量取决于仁宗海水库的水量,故仁宗海水库起到龙头调节作用。

11. 答案 D

命题透析 本题以田湾河流域梯级水电站为情景,考查流域综合开发,旨在考查考生获取和解读地理信息、调动和运用地理知识的能力,综合思维、地理实践力的学科核心素养。

思路点拨 “一库三级”水电站的主要作用是引水发电,对田湾河径流流速、流量等影响很小,即对航运、防洪和灌溉基本没有影响;可减少弃水浪费,但难以避免弃水浪费;“一库三级”水电站的运行,保证了以最小的水量产生最大的电量,提高了水电站的总效率,也增加了枯水期发电量,减小了发电量的季节波动。

36. **命题透析** 本题以伶仃洋中华白海豚为情景,考查地球上的水、生物多样性保护等知识,旨在考查考生获取和解读地理信息、调动和运用地理知识、论证和探讨地理问题的能力,综合思维、区域认知、地理实践力的学科核心素养。

答案要点 (1)地处季风气候区,降水量大,汇入海洋的水量大;伶仃洋西部水域受珠江冲淡水影响,泥沙含量大,故海水浑黄。(每点 2 分,共 4 分。其他答案合理可酌情给分)

(2)大规模填海后,原滨海区及部分填海区地下水不断淡化,地下水与海水的咸淡水界面面向海移动;原海岸

线与填海区界线附近地下水可能溢出;填海后地下水通过填海区向海排泄阻力增大,更多的地下水转向未填海的海岸带。(每点2分,共6分。其他答案合理可酌情给分)

(3)特点:以东西方向上收窄为主,西部变化更大。(2分。其他答案合理可酌情给分)

原因:伶仃洋海域东西窄、南北长,人为占用海域主要是东西两侧海域;受人类活动影响,中华白海豚远离岸线,活动空间受到挤压;西部岸线人类活动更频繁且水质较差、水深较浅。(每点2分,共6分。其他答案合理可酌情给分)

(4)主航道水深较深,是底层鱼类由外海进入河口内湾的主要通道,附近水域鱼类资源较为丰富;伶仃洋渔业资源逐年减少,而主航道附近频繁的船只往来限制了捕捞业发展,渔业资源相对丰富;主航道附近水质较好,且中华白海豚行动灵敏,能够冒险在主航道附近水域觅食。(每点2分,共6分。其他答案合理可酌情给分)

37. **命题透析** 本题以哈萨克斯坦相关材料为情景,考查农业区位条件、农业贸易等知识,旨在考查考生获取和解读地理信息、调动和运用地理知识、论证和探讨地理问题的能力,综合思维、区域认知的学科核心素养。

答案要点 (1)分布特征:北部、东部较大,西部、南部较小。(2分)

依据:北部地形比较平坦,降水量相对较多,水土条件相对优越,耕作方便,垦殖率较高;北部开发历史较久,灌溉、交通等基础设施较好,农业灌溉率、水资源利用率较高,单位面积农业产值高;东部为山地,受地形影响,降水量较大,利于耕作;西部和南部干旱、盐碱化等都制约了农业发展,农业水土资源承载力较小。(任答其中3点,每点2分,共6分。其他答案合理可酌情给分)

(2)地广人稀,谷物种植面积大,产量和商品率高;属温带大陆性气候,昼夜温差大,谷物生长周期长,品质高。(每点2分,共4分。其他答案合理可酌情给分)

(3)为经济增长贡献产值,拉动经济增长;增加外汇收入;提供就业岗位。(任答其中2点,每点2分,共4分。其他答案合理可酌情给分)

(4)哈萨克斯坦蔬菜、水果生产基础薄弱,且缺乏传统种植经验和现代农业技术,产量小;随着人民生活质量提高,对蔬菜、水果需求量增加;周边国家虽然也有从中国进口的需求,但交通制约明显,而哈萨克斯坦与周边国家有铁路等交通线连接,运输便利;与部分国家之间有关税同盟关系,方便发展转口贸易。(任答其中3点,每点2分,共6分。其他答案合理可酌情给分)

43. **命题透析** 本题以韩屋村旅游发展为情景,考查旅游开发相关知识,旨在考查考生获取和解读地理信息、调动和运用地理知识、论证和探讨地理问题的能力,综合思维、地理实践力的学科核心素养。

答案要点 有利于提升知名度,扩大客源市场;有利于获得政府的支持,加强开发与保护;有利于坚持地方特色,彰显乡土文化;有利于丰富旅游方式和内容,增加旅游收入;有利于改善基础设施,提升接待能力。(每点2分,共10分。其他答案合理可酌情给分)

44. **命题透析** 本题以蒲河流域庆阳市段生境类型组成为情景,考查生物多样性保护,旨在考查考生获取和解读地理信息、调动和运用地理知识、论证和探讨地理问题的能力,综合思维、区域认知的学科核心素养。

答案要点 土地利用类型以旱地和草地为主,类型比较单一且质量较差(3分);耕地占比高,受人类活动干扰强度大、时间长,动植物的生存繁衍活动受影响(3分);林地、水面等高质量的生境面积小,破碎化程度高(2分);地处干旱内陆地区,生态系统脆弱(2分)。(其他答案合理可酌情给分)

关于我们

自主选拔在线是致力于提供新高考生涯规划、强基计划、综合评价、三位一体、学科竞赛等政策资讯的升学服务平台。总部坐落于北京，旗下拥有网站（[网址: www.zizzs.com](http://www.zizzs.com)）和微信公众平台等媒体矩阵，用户群体涵盖全国90%以上的重点中学师生及家长，在全国新高考、自主选拔领域首屈一指。

如需第一时间获取相关资讯及备考指南，请关注**自主选拔在线**官方微信号：**zizzsw**。



微信搜一搜

自主选拔在线