



高三联合考试 文科综合

考生注意：

1. 本试卷分第Ⅰ卷(选择题)和第Ⅱ卷(非选择题)两部分,共300分。考试时间150分钟。
2. 请将各题答案填写在答题卡上。
3. 本试卷主要考试内容:高考全部内容。

第Ⅰ卷 (选择题 共140分)

本卷共35小题,每小题4分,共140分。在每小题给出的四个选项中,只有一项是符合题目要求的。

《日本经济新闻》报道称,中国政府为摆脱对煤炭、石墨、聚氯乙烯等的依赖,改善大气环境,出台多项规定,该环保规定给日本企业带来大量订单。日本化工企业负责人表示,近年来在东南亚,基础原料烧碱的订单正在增加。据此完成1~3题。

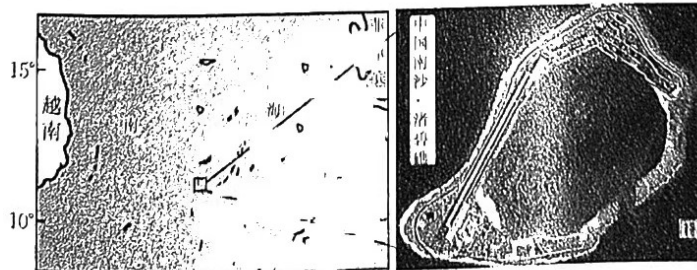
1. 中国自起征环保税后,从日本进口量剧增的工业产品是

A. 初级矿产品	B. 机械制造产品
C. 高技术产品	D. 基础原料产品
2. 我国从日本进口量剧增的工业产品在日本生产的优势是

A. 环保标准低	B. 环境容量大
C. 技术水平高	D. 原料来源广
3. 据东南亚烧碱订单增加大致推测出

A. 日本烧碱产品市场份额缩小	B. 东南亚工业水平提高
C. 中国烧碱企业转移至东南亚	D. 东南亚劳动力成本低

我国南海渚碧礁由灰质岩体构成,经吹填形成了一个人工岛,并在岛北修建了生态农场,农场内有小鱼塘、养殖场,种植与养殖相辅相成。南海气候适宜,渚碧礁每两个月出一茬菜,瓜果、蔬菜、禽畜供岛上人员食用。下图示意渚碧礁位置。据此完成4~6题。



4. 吹填渚碧礁是为了

A. 开发国土资源	B. 保证航线畅通
C. 保障国家权益	D. 发展海洋经济

5. 渚碧礁生态农场出菜率高是因为其

A. 降水丰富

B. 土壤肥沃

C. 技术先进

D. 光热充足

6. 渚碧礁生态农场产品的特点是

A. 新鲜度高

B. 商品率高

C. 附加值高

D. 含糖量高

山地上部和山腰水汽充足,过度饱和时就会出现“山戴帽”和“山腰带”现象。下图分别为世界某两地“山戴帽”和“山腰带”景观照片。据此完成7~9题。



7. 与海拔相同的高空相比,“山戴帽”的山顶

①气温低 ②水汽充足 ③大气水平运动弱 ④太阳辐射强

A. ①③

B. ②③

C. ②④

D. ③④

8. “山戴帽”和“山腰带”的形成主要是由于山区大气盛行

A. 上升运动

B. 下沉运动

C. 水平运动

D. 闭合环流

9. “山戴帽”与“山腰带”的差异在于

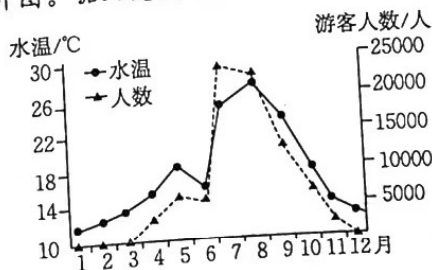
A. 前者气流水汽含量少

B. 前者气流上升更剧烈

C. 后者气流上升更剧烈

D. 后者气流下沉更剧烈

我国有漫长的海岸线,开发海滨浴场的条件优越。下图为我国某小型海滨浴场年内月平均水温变化与接待游客人数统计图。据此完成10~11题。



10. 该海滨浴场位于

A. 海南北部

B. 江浙地区

C. 辽宁南部

D. 山东境内

11. 推测该浴场游客最多的月份

A. 水质最好

B. 水温最高

C. 天气干热

D. 风级偏高

12. 2022年国庆期间,不少年轻人在社交平台上晒出自己的“反向旅游”行程。与传统的旅游人群不同,他们中的不少人通过选择冷门目的地、打卡非旅游城市,让自己的假期更加舒适。黑龙江鹤岗、陕西汉中等多个非传统旅游城市在国庆期间都迎来了旅游订单的显著增长。“反向旅游”

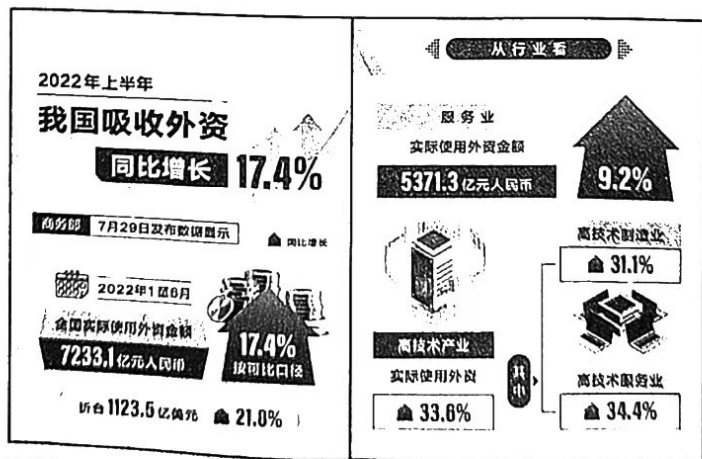
①有利于盘活闲置的旅游资源,促进旅游资源的有效利用

②体现了人们的旅游选择更加多元化,消费方式发生变化

【高三文科综合 第2页(共12页)】

· 23 - 214C ·

- ③反映年轻人受求异心理的影响,消费观念渐趋理性务实
④可以倒逼热门旅游景区进一步提升服务水平和运营能力
- A. ①③ B. ①④ C. ②③ D. ②④
13. 截至目前,全球共有 114 家“灯塔工厂”,其中 42 家位于中国,中国是目前拥有“灯塔工厂”数量最多的国家。这些“灯塔工厂”利用人工智能、3D 打印和大数据分析等第四次工业革命技术,大规模提升效率和竞争力,转变商业模式以推动经济增长,增强劳动力能力并保护环境,推动各地区、各行业的制造商参与学习。由此可见
- ①人工智能和大数据是我国经济发展的着力点
②数据要素资源是改造提升传统制造业的支撑
③数字经济已经构筑起我国经济竞争的新优势
④技术革新能实现更高质量、更可持续的发展
- A. ①③ B. ①④ C. ②③ D. ②④
14. 2022 年,党中央、国务院高效统筹疫情防控和经济社会发展,针对市场主体需求不断完善财政宏观调控,实施新的组合式税费支持政策等,不断加大减负纾困力度,推动经济平稳健康发展。下列关于国家财政宏观调控的影响路径传导正确的是
- ①实施减税退税政策→助力企业纾困→增强市场主体信心→增添经济发展内生动力
②合理安排政府专项债券→扩大有效投资→刺激社会总需求→促进经济社会发展
③扩大融资担保奖补范围→提高担保费率→助力企业复工复产→推动经济平稳运行
④降低存款准备金率→保持流动性合理充裕→缓解企业融资难题→推动经济发展
- A. ①② B. ①③ C. ②④ D. ③④
15. 下图反映的是 2022 年上半年我国吸收外资的相关数据。据此可知,我国



- ①不断增强发展的整体性 ②奉行互利共赢的开放战略
③吸引外资结构进一步优化 ④现代化建设资金缺口巨大
- A. ①② B. ①④ C. ②③ D. ③④
16. 某镇构建了“党委领导,政府负责、综治办牵头、公众参与”的主体职责结构。党政干部、民兵队伍、“两代表一委员”、村“两委”班子成员、网格长、联户长等人嵌入治理网格,人格人员成

为政策法规“宣讲员”、村情民意“收集员”、矛盾纠纷“化解员”和帮办实事“勤务员”，推动问题在一线解决。可见，该镇

- ①构建多元治理新格局，提高基层治理的精细化水平
- ②重视发挥法规的教化作用，有效化解基层社会矛盾
- ③扩大基层自治组织的规模，畅通社情民意反映渠道
- ④坚持党的领导、人民当家作主和依法治国有机统一

A. ①③

B. ①④

C. ②③

D. ②④

17. 2022年9月，西藏自治区山南、昌都两地党委政府在给湖北省委、省政府的感谢信中写道：“通过手术治疗，大骨节病患者被病痛折磨的日子一去不复返了，痛苦不堪的状态得以彻底扭转，从此开启了自信、阳光、积极向上的新生活。”这得益于湖北省卫生健康委员会等单位联合在藏开展的“治疗大骨节病，助力乡村振兴”公益项目。该公益项目的开展

- ①是国家集中统一领导与民族区域自治的有机结合
- ②能促进民族团结，铸牢中华民族共同体意识
- ③旨在推动民族平等，让民族群众共享发展成果
- ④生动诠释了中华民族守望相助的优良传统

A. ①②

B. ①③

C. ②④

D. ③④

18. 2022年是联合国成立77周年。联合国的诞生彰显了国际社会在第二次世界大战后超越冲突、走向全球合作的希望和决心。然而，当今世界正处在一个充满挑战的时代：新冠肺炎疫情延宕反复，国际安全局势动荡不安，经济复苏道路曲折坎坷，各种风险与危机此起彼伏，联合国正经受前所未有的考验。为此，需要

- ①联合国坚持单边行动与集体行动相结合
- ②维护并落实《联合国宪章》的宗旨和原则
- ③加强国际合作，支持联合国的全部工作
- ④支持联合国在国际事务中发挥核心作用

A. ①②

B. ①③

C. ②④

D. ③④

19. “仰观宇宙之大，俯察品类之盛，所以游目骋怀，足以极视听之娱，信可乐也。”我国东晋时期书法家王羲之所作的《兰亭集序》中的名句曾引无数后来者临摹记诵。2022年10月，意大利某宇航员在国际空间站掠过北京上空时，将心绪诉诸这一千年名句，并附上意大利语与英语翻译发布在个人社交媒体上，引发国内外网友热议。这进一步佐证了

- ①厚重的历史积淀是文化创新的宝贵资源
- ②文明交流互鉴是人类文明进步的重要动力
- ③中华文化经典具有穿越时空的永恒魅力
- ④中华文化绵延隽永，具有共通的价值追求

A. ①②

B. ①③

C. ②④

D. ③④

20. 城市的文化气质，远看是风景，近看是生活。北京建设“书香北京”，从书香氤氲的社区书店，到特色鲜明的文艺小店；从紧接地气的社区文化中心，到多姿多彩的群众艺术场馆，一个个

【高三文科综合 第4页(共12页)】

· 23 - 214C ·

环
封
线
内
不
要
答
题

文化空间可触可及,大家都能“开门见文化”,“见缝插针”与文化相遇,邂逅温暖。“开门见文化”

- ①能增进人们对城市的认同感
- ③能丰富城市文化的基本内涵

- ②有利于丰富人们的精神世界
- ④能为经济建设提供方向保证

A. ①②

B. ①③

C. ②④

D. ③④

21. G省低海拔区气候温暖,高海拔区气候凉爽,中海拔区冬无严寒、夏无酷暑。该省农科院蔬菜科研团队根据当地山地自然条件和天然气候特点,研究出冬春、春夏、夏秋、秋冬错季蔬菜栽培技术“四部曲”,瞄准蔬菜淡季市场,既增加了菜农的收益,又保证了蔬菜淡季的市场供应。这得益于

- ①坚持发挥主观能动性与尊重客观规律相结合
- ②从先进的科学技术出发,增加蔬菜的附加值
- ③改变了自然规律发生作用的条件和具体形式
- ④正确发挥意识活动的自觉选择性和能动创造性

A. ①②

B. ①④

C. ②③

D. ③④

22. 2022年10月,科学家利用“中国天眼”FAST对致密星系群“斯蒂芬五重星系”及周围天区的氢原子气体进行了成像观测,发现了1个尺度大约为200万光年的巨大原子气体系统(比银河系大20倍)。这是迄今为止在宇宙中探测到的最大的原子气体系统,为研究宇宙中天体的起源打开了一个崭新的窗口。这表明

- ①人们对天体的了解是从认识到实践再到新认识的过程
- ②认识每前进一步都是对无限发展着的物质世界的接近
- ③宇宙探索活动将不断刷新人们对世界本质的固有认知
- ④天体探测设备技术的进步推动人类对宇宙认识的深化

A. ①②

B. ①③

C. ②④

D. ③④

23. 马克思在《德意志意识形态》中写道:“如果在全部意识形态中,人们和他们的关系就像在照相机中一样是倒立成像的,那么这种现象也是从人们生活的历史过程中产生的,正如物体在视网膜上的倒影是直接从人们生活的生理过程中产生的一样。”这一观点

- ①认为社会意识是相对独立于社会存在之外的
- ②强调上层建筑是一定的经济基础的产物
- ③认为社会意识的背后有其物质原因
- ④认为社会意识需要依赖于一定的社会生活基础

A. ①②

B. ①③

C. ②④

D. ③④

24. 据考证,尧舜时期,开展的“五典之教”主张治理社会要以真情打动民心、赢得民心;殷商时期,社会强调人对宗教的虔诚、对天地祖先的敬畏,注重培育人的宗教情感;西周时期,社会尤重情感的规约与导引,主张“温柔敦厚诗教”。这表明先秦时期

- A. 道德评判具有法律效能
- C. 政治统治注重情感教育

- B. 宗教与血缘伦理相结合
- D. 国家治理依赖民众忠诚

25. 下表

皇
文
星
行

26.

27.

25. 下表为西汉皇帝下罪己诏情况的统计情况(单位:次)。据表可知,西汉时期

皇帝	次数	下诏原因	史料来源
文帝	2	日食、匈奴入侵	《史记·孝文帝本纪》《汉书·文帝纪》
武帝	1	总结失政	《汉书·西域传下》
宣帝	2	地震、总结失政	《汉书·宣帝纪》
元帝	5	地震、日食、总结失政	《汉书·元帝纪》
成帝	4	地震、日食、总结失政	《汉书·成帝纪》
哀帝	1	日食	《汉书·哀帝纪》

- A. 政治自省意识强化
B. 君权受到极大制约
C. 自然灾害相当频繁
D. 天人感应思想萌发

26. 据统计,宋代府、州级的大中城市约有 350 个,人口在 50 万以上的城市约有 40 个,城镇总人口达千万人以上,户数有数百万户,超过当时总人口的 10%。其中,南方地区城镇人口所占比例已超过总人口的 20%。这一现象可以解释宋代

- A. 社会结构的根本变革
B. 娱乐产业发展的原因
C. 重农抑商政策的废除
D. 市镇贸易网络的形成

27. 清代《吏部·处分例》记载的除包括六部在内的共 231 类 3000 余条行政处分案例外,还包括涉及罚俸的 2754 条、降级留任的 1108 条、降级调用的 1974 条、革职留任的 68 条、革职的 1161 条、革职永不叙用的 9 条等。据此可得出的结论是,清代

- A. 司法实践务实高效
B. 中央集权存在着危机
C. 官僚体系十分混乱
D. 行政惩罚制度较完善

28. 甲午中日战争失败后,严复评论道:以前“北洋延募德酋数十人,泊条约既成,无所用之,乃分遣各营,以为教习。……(北洋水师学堂)既设之后,虽学生年有出入,尚未闻培成何才,更不闻如何器使,此则北洋练兵练将,不用西法之明证”。在严复看来,甲午战争的失败是因为清政府

- A. 不善于效仿西方先进技术
B. 人才培养机制的缺失
C. 未建立专门人才培养机构
D. 军事实力远逊于日本

29. 下表所示为新文化运动时期部分翻译家汉译作品翻译情况统计。据表可知,这些翻译家

翻译家	语言	翻译作品
陈独秀	法译汉	《妇人观》《社会主义思潮及运动》《殖民地与半殖民地职工运动问题之题要》
	英译汉	
	德译汉	
刘文典	英译汉	《近世思想之科学精神》《美国人之自由精神》《进化与人生》《进化论讲话》
	日译汉	
蒋光慈	俄译汉	《新梦》《列宁主义之民族问题的原理》《民族与殖民地问题》《苏联政治经济概况》

- A. 积极宣传社会主义思想
B. 以欧美启蒙作品为翻译来源
C. 注重塑造现代价值观念
D. 对民主革命方式有了新认识

【高三文科综合 第 6 页(共 12 页)】

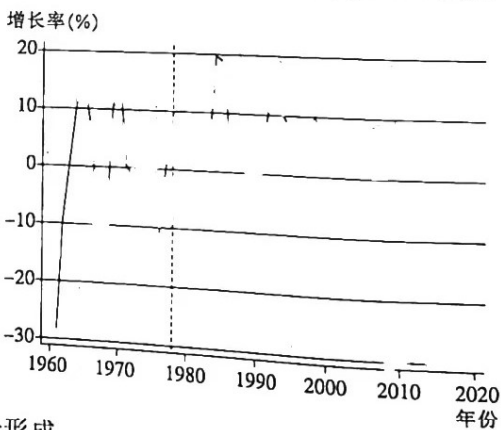
· 23 - 214C ·

30. 下表为抗战后期国统区重要工业概况表。这反映出当时在国统区

项目	厂数(家)		资本(万元)		平均动力(马力/家)	
	国营	民营	国营	民营	国营	民营
冶炼工业	16	46	55 524	10 685	565.2	92.8
机器制造业	22	390	20 596	28 636	87.6	17.6
电器工业	11	74	5 124	8 153	59.9	18.4
酒精工业	40	164	8 362	17 069	25.4	18.8
炼油工业	21	73	9 932	8 727	27.2	1.4
造纸工业	5	13	2 508	3 495	436.2	81.2
水泥工业	3	5	1 300	3 430	380	499.2
面粉工业	2	45	2 140	12 494	80	88.2
棉纺工业	18	29	9 530	7 745	239.1	277.8

- A. 政府政策影响了工业发展
B. 工业内迁已全面完成
C. 民营工业发展的潜力巨大
D. 工业形成了完整体系

31. 下图是1960年至2020年中国经济增长率示意图(单位:%)。这一现象反映出此时期我国



- A. 市场经济体制尚未形成
B. 经济发展受时代影响
C. 经济发展趋势持续稳定
D. 经济增长率领先全球
32. 古希腊诸多悲剧作家认为,宙斯尽管是最高统治神,但最终也无法逃离被人推翻的命运;普罗米修斯尽管具有预见未来的能力,但也只能听凭宙斯惩罚。人能否超越神、战胜命运一直是古希腊人思索和探寻的主题。据此可知,古希腊
- A. 人文精神内涵深厚
B. 戏剧文学发展较快
C. 命运抗争意识萌发
D. 悲观思想迅速弥漫
33. 与其他画派相比,该画派画家绘画“忽视形体、外轮廓线,笔触奔放,有快意之感”,户外写生使他们更注重描绘现实生活环境,以减少艺术家的主观想象。他们“用色兼具冷暖、对比,舍弃一成不变的暗部”。据此推断,与该画派风格相同的作品是
- A. 《拾穗者》
B. 《日出·印象》
C. 《格尔尼卡》
D. 《自由引导人民》

【高三文科综合 第7页(共12页)】

. 23 - 214C .

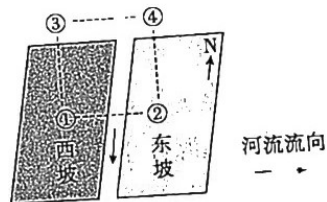
34. 1832年,美国联邦党人马歇尔在给斯托里大法官的信件中,痛心地写道:“我渐渐很不情愿地形成一种确信,我们的宪法是无法持续的……(南部各州)的观念与一个统一的政府无法兼容。这个联合体能走到现在已经是个奇迹了。”马歇尔的信可以说明,当时美国
- A. 联邦体制尚未开始实行
B. 维护国家统一迫在眉睫
C. 邦联体制存在分裂危险
D. 各州离心倾向日益明显
35. 1996年,美国《芝加哥论坛报》在一篇题为《经济革命的痛苦代价》的文章中说,全球化“可能的结果是较穷的国家富起来,富国将变得较穷”;此后,英国《金融时报》也报道称,一些英联邦成员国把失业率居高不下、收入差别增大等问题都归因于全球化。这表明当时世界
- A. 逆全球化成为主流
B. 冷战局势愈演愈烈
C. 经济联系遇到阻碍
D. 贫富差距日益拉大

第 II 卷 (非选择题 共 160 分)

本卷包括必考题和选考题两部分。第 36 题~第 42 题为必考题,每个试题考生都必须作答。第 43 题~第 47 题为选考题,考生根据要求作答。

36. 阅读图文材料,完成下列要求。(22 分)

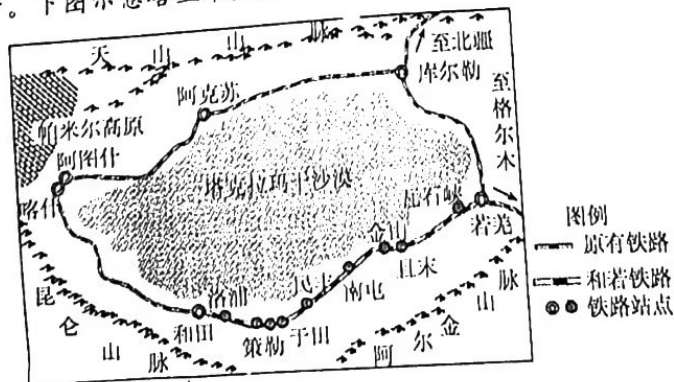
某山地一南北向河谷,东坡受花岗岩风化影响,坡面颜色偏浅(浅黄色);西坡受火山岩风化影响,坡面颜色偏深(黑色)。当地人长期观察发现,山谷内白天和夜晚风向不同,并绘制了一幅白天地面与高空的大气热力环流示意图(如右图),①②表示近地面,③④表示高空。



- (1) 在白天大气环流示意图上用箭头补充热力环流。(4 分)
- (2) 阐释山谷白昼大气热力环流的形成原理。(12 分)
- (3) 推测山谷夜间大气热力环流的特点。(6 分)

37. 阅读图文材料,完成下列要求。(24 分)

2022 年 6 月,新疆和田至若羌铁路(和若铁路)正式开通,标志着世界首个沙漠铁路环线形成。和若铁路长约 825 km,为国家 I 级单线铁路。塔克拉玛干沙漠几乎终年无雨,全年 1/3 为风沙日,沙尘暴的年平均发生日数为 60 天,大风风速达 30 m/s。塔克拉玛干沙漠风向、风速变化无常,流动沙丘面积占沙漠总面积的 85%。和若铁路沿线建设有近 300 km 的绿色防风固沙带。下图示意塔里木盆地铁路环线。



【高三文科综合 第 8 页(共 12 页)】

· 23-214C ·

瞭
望
线
内
不
要
答
题

考号

姓名

班级

考号

考号

考号

考号

考号

考号

考号

- (1)说明塔克拉玛干沙漠的自然条件对建设和若铁路的不利影响。(6分)
(2)指出和若铁路建成运营给当地居民带来的效益。(6分)
(3)推测沿线采取的防风固沙措施。(6分)
(4)概述环塔里木盆地铁路通车的意义。(6分)

38. 阅读材料,完成下列要求。(14分)

贵州省遵义市打造辣椒特色小镇,建设中国辣椒城、辣椒加工园、辣椒物流园和辣椒智慧产业园“一城三园”,小辣椒成就大产业。

遵义市的辣椒智慧产业园,集辣椒“产学研”为一体,已有国内外品种608个。在田间筛选和室内分析的基础上,辣椒智慧产业园评选优秀及潜力品种,并按照“统一品种、统一育苗、统一供苗、统一管理、统一移栽”的标准在全市进行推广种植。辣椒加工园内,入驻了17家辣椒深加工企业,糊辣椒、糟辣椒、油辣椒、泡辣椒……不管是人们想得到的还是想不到的辣椒制品,在这里都能见到,一批企业还因此获得了“全国辣椒最具影响力品牌”称号。辣椒物流园分为零散交易和大众贸易交易,普通仓库、冷链仓库能达到56万吨的周转量,一颗颗辣椒正是从这里起航、通江达海。2022年8月,世界辣椒联盟(WCA)授予遵义市虾子镇“世界辣椒特色小镇”称号。

结合材料,运用经济生活知识,说明遵义市的小辣椒是如何成就大产业的。

39. 阅读材料,完成下列要求。(12分)

2022年,国务院“稳增长稳市场主体保就业专项督查组”赴全国12个省份进行督查。

督查组深入了解地方经济运行中带有普遍性、苗头性、倾向性的问题,完善配套政策,推动中央和地方出台的政策措施落地见效;与各地方主要领导分析研判经济运行走势,共同研究提出对策建议。督查组“找省里谈、到市里看、到企业去了解”,采取座谈交流、实地察看、线索核查、督帮一体等方式开展工作;对企业和群众通过国务院“互联网+督查”平台反映的问题线索开展实地抽查核查。各地政府对督查发现的问题,即知即改、立行立改,举一反三、长效整治,推动中央稳增长一揽子政策尽快落实,加快推进有效投资和重大项目落地见效,全力帮助市场主体纾困解难、健康发展,千方百计稳就业、保民生、促稳定。

结合材料,运用政治生活知识,分析国务院专项督查组是如何开展督查工作的。

40. 阅读材料,完成下列要求。(26分)

2022年10月,党的二十大胜利召开。

材料一

1949年,毛泽东同志在党的七届二中全会上提出,务必使同志们继续地保持谦虚、谨慎、不骄、不躁的作风,务必使同志们继续地保持艰苦奋斗的作风。会议结束后,中国共产党从西柏坡出发“进京赶考”,开启了建设新中国的历史征程。党的二十大报告提出,全党同志务必不忘初心、牢记使命,务必谦虚谨慎、艰苦奋斗,务必敢于斗争、善于斗争,坚定历史自信,增强历史主动,谱写新时代中国特色社会主义更加绚丽的华章。在成功实现全面建成小康社会第一个百年奋斗目标基础上,迈上全面建设社会主义现代化国家新的“赶考”之路,在历史的关键时刻再次发出动员令,以“三个务必”告诫全党。

【高三文科综合 第9页(共12页)】

23-214C

材料二

中华优秀传统文化的精髓包括和谐、善治、立德修身、家国一体、追求中和、崇尚整体、实事求是、守正创新等,已经成为当代中国治国理政、安邦济世的思想资源。中国共产党真正做到将“天下”变成老百姓的“天下”,使“天下为公”的传统文化精髓得到最好诠释。“天下为公”关联大同理想,儒家所勾勒的大同、小康等理想为共产主义远大理想提供了源头活水……党的二十大报告指出,坚持和发展马克思主义,必须同中华优秀传统文化相结合。

(1)“三个务必”是对“两个务必”的继承、发展与创新。结合材料一并运用辩证否定观的相关知识对此加以说明。(12分)

(2)结合材料二,运用文化生活知识,说明坚持和发展马克思主义为什么必须同中华优秀传统文化相结合。(10分)

(3)请你就青年学生学习“三个务必”拟定两条宣传标语,要求主题鲜明、朗朗上口,每条限20个字以内。(4分)

41. 阅读材料,完成下列要求。(25分)

材料一

唐宋时期是一个商品经济发展引起各种原有社会要素流动组合的时期,同时也是一个经济关系和社会关系日益呈现市场化趋势的时期。从商品经济的视角看待社会要素的变动和经济关系与社会关系的市场化趋势:这既是一个资源配置的过程,又是一个优胜劣汰的竞争过程,还是一个各种关系分化组合的过程。多种过程的交织,赋予唐宋社会开放和流动的特征。由于商品经济是一种富于分化的经济形式,唐宋社会商品经济的迅速发展,必然引起财富的两极分化,而这种分化则直接导致财富力量的崛起。传统的价值观念强调“贵义贱利”,而商品经济则是一种以市场为导向的经济形式。唐宋时期,随着商品经济的发展,言利的思想主张日益抬头,一批思想家对传统的价值观念进行了猛烈的批判。从中唐历北宋至南宋,言利思想与传统价值观的斗争一直贯穿始终,成为社会思想观念发展变化的一条重要线索。价值观念的变化和发展,最终导致功利主义学派兴起。

——摘编自林文勋《商品经济:唐宋社会变革的根本力量》

材料二

16~17世纪初期的安特卫普时期是西欧商人资本大规模流动的开始时期,这一时期商人资本大部分表现为商品资本,只有一小部分商人资本充当货币资本。然而,美洲白银继续流入安特卫普之后,南德意志的富格尔、韦尔塞等商业家族转入向西欧各国王室放债的投机中,生息资本(货币资本)的重要作用日益显露出来。荷兰在17世纪垄断着世界航运贸易,虽然荷兰兴旺的商业贸易促进了产业发展,但是在产业革命到来之前,商业资本在荷兰乃至整个欧洲经济生活中仍处于支配地位。18世纪,英国资本积累是建立在积极参与组织生产过程,并进行合理化改革的资本主义企业基础上的。也就是说,虽然以往商人资本也投资生产行业,但对当时社会经济的发展影响不大,而英国商人资本投资生产行业,在西欧转型前夕对社会经济的发展具有重要的意义。

——摘编自罗翠芳《浅析西欧近代转型时期商人资本职能的转变》

【高三文科综合 第10页(共12页)】

· 23 - 214C ·

- (1)根据材料一并结合所学知识,分析唐宋时期商品经济发展的影响。(10分)
- (2)根据材料二,概括近代西方商人资本职能的转变,并结合所学知识分析商人资本职能转变的原因。(12分)
- (3)根据材料一、二并结合所学知识,谈谈你对唐宋时期商品经济发展和近代西方商人资本发展本质的认识。(3分)

42. 阅读材料,完成下列要求。(12分)

材料

具体来说,中国近代思想给我们留下了三个方面的重要遗产。一是近代中国的思想家重估传统,批判旧学,对本民族的历史文化给予深刻反省。他们或以“中体西用”的模式保存中学,或以“国粹”的样态保守国学,或以“国故”的方式处理固有的学术文化。二是近代中国的基本趋向是走向世界,向西方学习。从魏源提出“师夷长技以制夷”到洋务运动致力于“自强求富”,从维新运动实施新政到辛亥革命以推翻君主专制、追求美国式的共和政体为目标。三是近代中国充满了对未来世界的憧憬和想象,产生了像康有为的《大同书》、孙中山的三民主义、毛泽东的新民主主义这样对新社会的理论建构和宏伟构想,尤其是马克思主义的中国化为时代的进步勾画出了一幅幅新的蓝图。

——摘编自欧阳哲生《中国近代思想史研究的再出发》

上述材料是某学者关于中国近代思想三个方面的重要遗产的论述。根据材料信息并结合所学相关知识,任选一个或多个角度,自拟论题,并加以阐述。(要求:论题明确,紧扣材料,史论结合,阐述充分,逻辑严密,结论恰当。)

请考生从2道地理选考题、3道历史选考题中每科任选一题作答。如果多做,则每科按所做的第一题计分。

43. [地理——选修3:旅游地理](10分)

包价旅游是指旅游者在旅游活动开始前将全部或部分旅游费用预付给旅行社,由旅行社根据同旅游者签订的合同,相应地为旅游者全方位安排旅游途中的吃、住、行、游、购、娱等活动。2020年以来,包价旅游大幅减少,个体游、小型团体出游增加,传统旅行社的业绩受到较大影响。

分析2020年以来包价旅游大幅减少的原因,并为传统旅行社包价旅游经营转型提出建议。

44. [地理——选修6:环境保护](10分)

我国干旱区某地风沙天气较多,土壤板结。某环保小组在该地修建集水坑种植耐旱树种,板结的土壤给工程初期带来了积极影响,但不利于后期树木生长。该小组在集水坑底部堆放草秆。

简述板结土壤对工程初期的有利影响,并分析在集水坑底部堆放草秆的作用。

45. [历史——选修1:历史上重大改革回眸](15分)

材料

晚清后期是中国财政预算制度现代化转型的一个重要时期。1908年,度支部的奏呈中

历史
选修
3:20
世纪
的
战
争
与
和
平

明确指出“编订新章,调查出入确数,为全国预算、决算之预备”,当时“言理财者,莫不仿行西法”。此后,清政府开始编制《财政说明书》,将有关财政问题的分析作为指导今后财政预算工作的依据。然而,1910年,广东奉命编成的《广东财政说明书》,虽然详细记载了1908年和1909年的财政收支情况,但1911年编制的新式预算却只有预算而无决算,1912年的财政预算编制工作也非常困难。

——摘编自赵云旗《论中国近代财政预算制度现代化》

- (1)根据材料,概括20世纪初清政府财政预算制度转型的特点。(9分)
- (2)根据材料并结合所学知识,简析20世纪初清政府财政预算制度转型的积极影响。(6分)

[历史——选修3:20世纪的战争与和平](15分)

材料

1921年至1922年,在美国的倡议下,英、日、法、意等国齐聚华盛顿,就巴黎和会未曾涉及的海军问题进行谈判。美国海军部提出了美英海军实力对等的原则,五国就海军问题达成一致。1921年2月,五国共同签署了《五国海军公约》,作出了英美两国主力舰总吨位不超过52.5万吨等规定。在追求美英海军实力对等的同时,美国海权主义者认为必须要有足够的武装力量以威慑日本,在谈判中坚持要求两国主力舰吨位比例为10:6,认为美国海军实力必须超过日本的40%。美国还力争将“门户开放”原则制度化和国际化,并成功瓦解了英日同盟,遏制了日本的发展,解除了英日两国联手在两大洋扩张对美国造成的威胁。

——摘编自刘自强等《冲突与协调:美国海权崛起与华盛顿体系的形成》

- (1)根据材料并结合所学知识,简析美国在华盛顿会议上谋求海权的原因。(7分)
- (2)根据材料并结合所学知识,概括美国在华盛顿会议上谋求海权的主张。(8分)

47. [历史——选修4:中外历史人物评说](15分)

材料

战国时期,虽然孟子的王道思想与管子的霸道思想有着本质的差别,但孟子的王道思想中仍可窥见诸多管子思想的痕迹。孟子提出的民本思想成为其王道思想的重要内容,是孟子仁政学说的基石,而早在孟子之前,《管子·五辅》就载有国君对“人不可不务也”等语,刘向也指出:“凡管子书,务富国安民。”孟子主张“贤者在位,能者在职”,“尊贤使能,俊杰在位,则天下之士皆悦而愿立于其朝矣”,管子也曾指出:“争天下者,必先争人。”孟子认为“易其田畴,薄其税敛,民可使富也”,《管子·权修》中亦有“取于民有度,用之有止,国虽小必安;取于民无度,用之不止,国虽大必危”等语。

——摘编自任怀国、赵瑞军《论孟子王道思想对管子思想的汲取》

- (1)根据材料并结合所学知识,指出孟子对管子思想汲取的表现。(6分)
- (2)根据材料并结合所学知识,简要评价孟子王道思想与管子霸道思想的历史价值。(9分)

关于我们

自主选拔在线是致力于提供新高考生涯规划、强基计划、综合评价、三位一体、学科竞赛等政策资讯的升学服务平台。总部坐落于北京，旗下拥有网站（[网址: www.zizzs.com](http://www.zizzs.com)）和微信公众平台等媒体矩阵，用户群体涵盖全国90%以上的重点中学师生及家长，在全国新高考、自主选拔领域首屈一指。

如需第一时间获取相关资讯及备考指南，请关注**自主选拔在线**官方微信号：**zizzsw**。



 微信搜一搜

 自主选拔在线