

绝密★启用前

2023年普通高等学校招生全国统一考试
(第二次模拟考试)

文科综合能力测试

注意事项:

- 考生答卷前,务必将自己的姓名、座位号写在答题卡上。将条形码粘贴在规定区域。本试卷满分300分,考试时间150分钟。
- 做选择题时,选出每小题答案后,用铅笔把答题卡上对应题目的答案标号涂黑。如需改动,用橡皮擦干净后,再选涂其他答案标号。写在本试卷上无效。
- 回答非选择题时,将答案写在答题卡的规定区域内,写在本试卷上无效。
- 考试结束后,将答题卡交回。

一、选择题:本题共35小题,每小题4分,共140分。在每小题给出的四个选项中,只有一项是符合题目要求的。

目前陕西省西安市的地铁建设正在如火如荼地进行。西安计划修建6条轨道交通线,形成三主三辅,大放射、小方格的轨道交通线网。这对西安市多层次交通体系的形成乃至城市的健康发展具有重要意义。据此完成1~2题。

- 与公共汽车相比,地铁的优点是
 - 运量较大、速度较快
 - 受天气干扰较少、准时率较高
 - 占地较小,造价较低
 - 主要使用电能,不会污染环境

A. ①② B. ②③ C. ①③ D. ②④
 - 西安地铁站选址时,应该
 - 将乘降点尽量建在地面上,方便市民出行
 - 尽可能多设站点,服务沿线地区更多民众
 - 站点间距离要尽量相等,以确保准时到站
 - 站点设在客流量较大区域,方便大家出行
- 当地时间2022年7月24日20时05分,日本九州地区鹿儿岛县的樱岛火山喷发,喷发烟雾最高达到2200米,受西风的影响,烟雾迅速扩散,岩浆流出2.5公里远。政府迅速对距火山口半径约3公里范围内的33户,共计51位居民发出避难疏散指示。据此完成3~5题。
- 该次火山喷发所形成的存在于地表的岩石主要是
 - 花岗岩
 - 石灰岩
 - 玄武岩
 - 大理岩
 - 如果要尽量避开火山灰带来的大气污染影响,位于火山口附近东南方向的居民紧急避难撤离的最佳方向是
 - 东南
 - 西南
 - 东北
 - 西北

- 当晚,火山灰对该地的大气受热过程产生的影响主要是
 - 削弱了太阳辐射
 - 削弱了大气的吸收作用
 - 增强了大气逆辐射
 - 增强了大气的反射作用

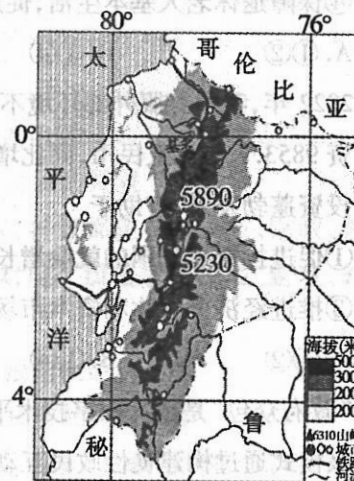
寒潮是来自较高纬度地区的寒冷空气,在特定的天气形势下迅速加强并向中低纬度地区侵入,造成沿途地区大范围剧烈降温、大风和雨雪天气。下表为我国1951~2020年寒潮次数逐月分布情况。据此完成6~8题。

季节	秋季			冬季		春季			
月份	9	10	11	12	1	2	3	4	5
寒潮次数	0	19	38	31	20	20	28	31	9

- 寒潮出现频率最高的季节是
 - 春末夏初
 - 夏末秋初
 - 秋末冬初
 - 冬末春初
- 侵入我国的寒潮主要来自
 - 热力高压
 - 动力高压
 - 暖性高压
 - 极地高压
- 下列地区的种植业,受冬季寒潮天气影响最小的是
 - 东北平原
 - 长江三角洲
 - 江汉平原
 - 珠江三角洲

厄瓜多尔的玫瑰,堪称玫瑰中的极品,其品种丰富而又多样,玫瑰农场主要分布于中部山地。其玫瑰花以花茎长、花蕾硕大、花色艳、花期长、保鲜期长而闻名于世,主要出口于美国、欧盟、中国等地。图1为厄瓜多尔区域图。据此完成9~11题。

- 形成厄瓜多尔玫瑰品种丰富而又多样的主要自然因素是
 - 纬度位置、水源
 - 海陆位置、盛行风
 - 纬度位置、地形
 - 水源、地形、地势
- 与世界其他地区相比,该国种植的玫瑰“花色艳、花期长”的主要自然原因分别是
 - 光照较强 日均温低
 - 降水充足 光照较强
 - 昼夜温差大 土壤肥沃
 - 土壤肥沃 纬度较低



- 该国出口到美国、欧盟、中国等地的玫瑰花所采用的运输方式,最突出的特点是
 - 灵活性强
 - 连续性强
 - 安全快捷
 - 运费较低

12. 2023年3月17日,中国人民银行宣布,降低金融机构存款准备金率0.25个百分点(不含已执行5%存款准备金率的金融机构)。本次下调后,金融机构加权平均存款准备金率约为7.6%。本次降准政策的作用过程及目标是
- A. 降低准备金率——流通中货币量增加——物价下降——推动经济高质量发展
 B. 降低准备金率——流通中货币量减少——促进消费——抑制通货膨胀
 C. 降低准备金率——投资规模扩大——商品供给增加——抑制通货膨胀
 D. 降低准备金率——保持流动性充裕——支持重点领域——推动经济高质量发展
13. 免费坐高铁是指用户开通12306铁路购票平台的会员之后同时激活相应的铁路会员积分系统,这样之后每次买票就可以累积积分,累积的积分可以直接用来购买有“兑换”标志的车票。出台上述政策用意在于
- ①增加高铁供给,提高其市场占有率 ②运用价格机制,提高高铁运营效率
 ③提升旅客体验,满足旅客多样化交通需求 ④提升服务品质,降低旅客的铁路交通成本
- A. ①② B. ①③ C. ②④ D. ③④
14. 内蒙古自治区人社厅、财政厅印发《关于2022年调整退休人员基本养老金的通知》,从2022年1月1日起调整全区退休人员基本养老金,总体调整水平为4%,惠及全区2021年底前退休的319万人。这一措施有利于
- ①充分发挥再分配调节作用,助力社会公平
 ②不断推动按生产要素分配的体制和机制完善
 ③进一步提高劳动报酬在初次分配中的比重
 ④保障退休老人基本生活,促进社会和谐稳定
- A. ①② B. ①④ C. ②③ D. ③④
15. 2022年,我国克服外部环境不利影响,对外投资平稳发展,稳中有进。全行业对外直接投资9853.7亿元人民币,同比增长5.2%(折合1465亿美元,同比增长0.9%)。中国对外投资蓬勃发展,有助于
- ①促进投资对象国的就业增长和经济发展 ②降低中国外汇储备规模,规避汇率风险
 ③推进经济全球化和资本市场一体化发展 ④推动中国企业“走出去”,提高国际化水平
- A. ①② B. ①④ C. ②③ D. ③④
16. “政府众包”是依托数字技术平台凝聚公众智慧和力量以解决社会治理问题的创新模式。该模式通过构建良性政民互动关系,吸纳最广泛的公众参与社会治理,推动“建设人人有责、人人尽责、人人享有的社会治理共同体”,是顺应时代的必然选择。推进“政府众包”
- ①是对公民政治参与权利的尊重 ②是提高政府执政效能的重要举措
 ③是履行政府法定职责的必然要求 ④利于凝聚社会共识,形成改革合力
- A. ①③ B. ①④ C. ②③ D. ②④

17. 2023年3月10日上午9时许,2900多名全国人大代表按下表决器,十四届全国人大一次会议表决通过了关于国务院机构改革方案的决定,批准了这个方案。该方案获得批准
- ①彰显了党中央坚定不移全面深化改革的坚强意志
 ②将为全面建设社会主义现代化国家提供有力保障
 ③体现了与时俱进地限制国家机构行政职能的做法
 ④展现了我国建设高效务实的管理型政府的坚定决心
- A. ①② B. ①③ C. ②④ D. ③④
18. 在中方支持下,沙特阿拉伯和伊朗于2023年3月6日至10日在北京举行对话。10日,沙伊两国达成北京协议,中沙伊三方签署并发表联合声明,宣布沙伊双方同意恢复外交关系,开展各领域合作。促成沙特、伊朗复交
- ①彰显了中国作为世界和平与发展主导者的角色
 ②展现了中国为促进中东安全稳定贡献中国智慧
 ③表明中国维护各国共同利益,积极协调国际关系
 ④说明要和平、促发展已成为世界各国的共同愿望
- A. ①② B. ①④ C. ②③ D. ③④
19. 党的二十大报告指出,“深化文明交流互鉴,推动中华文化更好走向世界”“以海纳百川的宽阔胸襟借鉴吸收人类一切优秀文明成果,推动建设更加美好的世界”。这告诉我们
- ①应消除文明差异以加深对不同文明的理解和欣赏
 ②优秀传统文化是支撑中华民族前行的重要力量
 ③深化交流互相借鉴是推动人类文明进步的动力
 ④中华文明重视吸收优秀文明成果、崇尚和合共生
- A. ①② B. ①③ C. ②④ D. ③④
20. 习近平新时代中国特色社会主义思想主题教育工作会议于2023年4月3日在北京召开。习近平强调,我们要以这次主题教育为契机,加强党的创新理论武装,不断提高党员、干部马克思主义水平,不断提高党的执政能力和领导水平,为奋进新征程凝心聚力,踔厉奋发、勇毅前行,为全面建设社会主义现代化国家、全面推进中华民族伟大复兴而团结奋斗。开展这次主题教育活动是为了
- ①将新时代中国特色社会主义思想转化为推动工作的强大力量
 ②不断提升对党的创新理论的理论自信,推动中国式现代化发展
 ③进一步提高创新能力,丰富广大人民群众的精神文化生活需要
 ④完成学习新时代中国特色社会主义思想这一新时代党的中心任务
- A. ①② B. ①④ C. ②③ D. ③④

21. 受多年干旱少雨、开垦采石等因素影响,敕勒川草原生态环境不断恶化。2012年以来,当地政府投入大量人力物力,根据当地气候、地形条件,进行生态修复。现在敕勒川草原生态已具备自我恢复能力,生态旅游产业发展越来越好,2020年成为首批国家草原自然公园试点建设单位之一。上述材料折射出当地政府

- ①秉承绿色生态理念,充分发挥主观能动性
- ②把握事物发展规律,预见生态变化的趋势
- ③保护生态环境的活动受到客观条件的制约
- ④在尊重客观规律基础上努力改造生态环境

A. ①② B. ①④ C. ②③ D. ③④

22. 中国科学院研究人员发现:茶花花蜜中含有微量的茶多酚,通过茶多酚的干扰之后,蜜蜂对报警信息素成分的EAG反应的浓度阈值降低了,即蜜蜂对报警信号的敏感性提高了。采集花蜜能提高蜜蜂感知外界危险的水平,说明蜜蜂可以更快地接收报警信号,进而采取相应的防御行为。“采蜜传粉有回报”,这表明

- ①人们对确定对象的认识受到主观条件的制约
- ②把握联系的多样性对于改造世界具有重要意义
- ③人类能够利用事物固有的联系建立新的联系
- ④认识具有无限性上升性,追求真理是一个过程

A. ①② B. ①③ C. ②④ D. ③④

23. 治国常有常,利民为本。习近平总书记在第十四届全国人民代表大会第一次会议上讲话时强调:“我们要始终坚持人民至上。全面建成社会主义现代化强国,人民是决定性力量。”上述观点体现的哲理是

- ①把人民群众的意愿作为理想追求的根本出发点
- ②社会的发展进步始终以人的正确思想认识为前提
- ③要在正确价值判断的基础上作出正确价值选择
- ④坚持群众观点和群众路线、全心全意为人民服务

A. ①② B. ①③ C. ②④ D. ③④

24. 齐家文化是中国最早的青铜时代文化,其出土的铜器在造型、器类和装饰纹样上带有明显的哈萨克斯坦安德罗诺沃文化因素。晚商时期,不少源自中原文化因素的牙璋、有领钺出现于东南亚的青铜器物上。这可以用于研究,我国青铜时代

- A. 统治区域的扩大
- B. 中外文明的交流
- C. 冶炼技术的推广
- D. 民族文化的认同

25. 秦律《内史杂》规定,有事请示必须用书面的文书请示,不得口头请示,也不能委托他人代为请示。《论衡·别通篇》云:“汉所以能治九州者,文书之力也。(汉)以文书御天下。”这表明秦汉时期

- A. 官僚政治统治的完善
- B. 专制主义中央集权体制的确立
- C. 皇权独尊的思想意识
- D. 文书在制度运行中起重要作用

26. 图2是唐贞观年间阎立本绘制的《职贡图》,展现出南洋的婆利、罗刹、与林邑国等前来中国朝贡的使者们喜气洋洋,持各种宝物及珍禽异兽争相朝贡的情景。该作品体现了



图2《职贡图》局部

- A. 社会风貌和艺术价值的统一
- B. 儒家思想与艺术作品的融合
- C. 南洋风情和中原文化的交汇
- D. 生动写实与意境气韵的杂糅

27. 顺治初年,耶稣会士汤若望将整理的历书呈给清政府,并获准发行,称为《时宪历》。康熙年间,学者梅毂成主编的《数理精蕴》将17世纪以来传入的西方几何、算术等方面的内容,全面而又深入地展现给中国知识界。这反映了当时

- A. 思想变革推动社会转型
- B. 中西文化双向交流
- C. 统治者宽容的文化心态
- D. 耶稣会士自由传教

28. 鸦片战争后,姚莹编撰《康輶纪行》提出要警惕英国对西藏的侵略。张穆撰写《蒙古游牧记》记录了蒙古各部的地理位置,强调中央对边疆的统属关系,认为中国北部与沙俄接壤,应该有专门著作加以考究。由此可见

- A. 清王朝打破了闭关锁国政策
- B. 忧患意识成为时代的主题
- C. 抵抗派寻求强国御侮的策略
- D. 士人务实爱国的意识增强

29. 王韬在《弢园文录外编·原学》中云:“中国,天下之宗邦也,不独为文字之始祖,即礼乐制度天算器艺,无不由中国而流传及外。”认为中华不仅是“西学之源”,亦是“天下之学之源”。这一主张旨在

- A. 维护传统的意识形态
- B. 减少学习西方的阻力
- C. 为维新变法提供指导
- D. 推进洋务运动的开展

30. 抗日战争时期,晋察冀边区加强基层治理,从边区到村各级都建立起民政、财政、教育、实业、司法五个部门,其中村公所除了村长、副村长外,对应上级设置了民政、财政、教育、生产、调解五个委员会。这一调整

- A. 壮大抗日民族统一战线力量
- B. 推动抗日根据地经济发展
- C. 易于边区政府政令贯彻落实
- D. 促进边区社会结构的调整

31. 1982年,作为个体户的“傻子瓜子”,其个人所得、雇工工资、上缴国家税分别占总收入的44.6%、12.1%、43.3%,工人的收入比国企职工的收入要高得多,带动当地涌现出近60家瓜子企业,芜湖成为全国有名的“瓜子城”。这说明

- A. 经济体制改革成效显著
- B. 市场经济已成为社会共识
- C. 民营企业营商环境改善
- D. 企业所有制形式趋向多样

32. 梭伦改革前后,在瓶画等艺术作品上,酒神迪奥尼索斯形象大量出现。他代表自身与众神的融合,并致力于调节神与神之间的矛盾。这反映了当时雅典
- A. 高度发达的农业经济 B. 繁荣的民主政治
C. 建立社会秩序的需要 D. 平等的人神关系
33. 15、16 世纪的德国大学,新增了大量文学课程并派遣留学生到意大利留学,留学生学成归国后在大学任教并成立各种文学会,其成员间互相通信,交流学术成果。这一现象
- A. 推动自然科学的形成与发展 B. 加强了欧洲各地经济联系
C. 反映了市民阶层队伍的壮大 D. 促进了人文主义广泛传播

34. 表 1 19 世纪中期英国的贸易政策

1841 年	减少和取消国内贸易的消费税,对一些制成品,原材料和消费品降低关税,撤销丝织品进口的禁令。
1846 年	废除了对外国进口谷物征收高关税的“谷物法”
1849 年	联合王国的沿海贸易,对其它国家全部开放,进口商品限制进一步放宽。
1860 年	同法国签订商约,规定法国取消一切禁止性关税,同时降低对英国工业品的进口税。

据表 1,可知英国

- A. 逐步确立自由贸易的政策 B. 深入推行重商主义政策
C. 形成本国主导的世界市场 D. 拥有广阔的海外殖民地
35. 列宁指出,“民族解放运动由旧式的农民战争跨进了资产阶级民族民主革命时期的‘亚洲觉醒’,以及欧洲先进无产阶级夺取政权斗争的开始,标志着 20 世纪初所开创的全世界历史的一个新阶段”。这一新阶段指
- A. 国际政治格局发生改变 B. 资产阶级革命向无产阶级革命过渡
C. 世界殖民体系最终瓦解 D. 自由资本主义向垄断资本主义发展

二、非选择题:共 160 分。第 36~42 题为必考题,每个试题考生都必须作答。第 43~47 题为选考题,考生根据要求作答。

(一)必考题:共 135 分。

36. 阅读图文材料,完成下列要求。(22 分)

河西走廊被誉为“西北粮仓”,是我国西北内陆著名的灌溉农业区,也是我国西北地区最主要的商品粮基地和经济作物集中产区。种子是农业“芯片”,为种业创新提供技术支持,这对保障我国粮食安全尤为关键,河西走廊是我国重要的育种基地之一。图 3 为我国河西走廊育种基地分布图。

文科综合能力测试试卷 第 7 页(共 12 页)

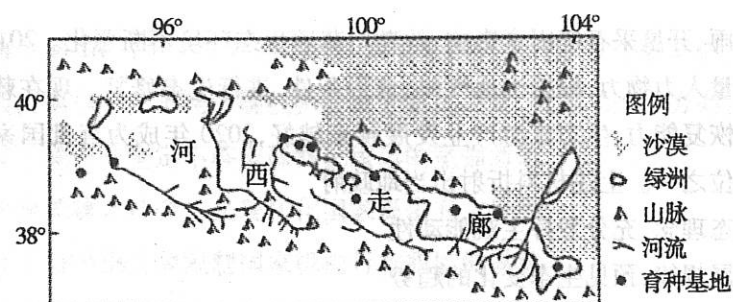


图 3

- (1) 据图推测育种基地的水源。(6 分)
(2) 分析河西走廊成为“西北粮仓”的优势自然条件。(8 分)
(3) 请从我国粮食安全的角度提出育种基地粮食作物育种的努力方向。(8 分)

37. 阅读图文材料,完成下列要求。(24 分)

阿根廷潘帕斯草原地形平坦、水草丰美,拥有天然的大地牧场与肥沃的土地,土壤为黑土(在温带草甸草原植被条件下形成),且为表面红色下面黑色的红化黑土。该地区是著名的农牧业区,被誉为“世界粮仓与肉库”,畜牧业占到总产值 40%。畜牧业以肉牛为主,纯生态牧场放养,且生长周期长,牲畜品种及畜牧水平在世界上均占领先地位。近年来,该农牧业区进一步扩大土地开垦,大面积改畜牧业为耕作业,大豆种植面积增长幅度大,成为阿根廷大豆的头号产区。图 4 示意阿根廷的黑土分布区。



图 4

- (1) 简述潘帕斯草原土壤发育形成的条件。(6 分)
(2) 据图文材料,分析阿根廷牛肉国际市场竞争力的强的原因。(6 分)
(3) 分析该地大面积发展耕作业的优势自然区位条件。(6 分)
(4) 分析阿根廷大面积改畜牧业为耕作业可能带来的生态环境问题。(6 分)
38. 阅读材料,完成下列要求。(14 分)

作为农业大省,河北近年来始终把产业振兴作为乡村振兴的重中之重,打造中国式现代化河北“三农”场景,为建设农业强国作出了更大贡献。

河北省强化现代农业科技支撑,构建梯次分明、分工协作、适度竞争的农业科技创新体系。建立健全农业高质量发展标准体系,完善农产品质量安全保障体系。加强绿色食品、有机农产品、地理标志农产品认证和管理,支持培育品质优良、特色鲜明的区域公用品牌,建立完善的品牌培育、发展和保护体系。

河北加强农产品销售流通体系建设,打造农产品储藏、清洗、分拣、烘干、保鲜、包装产业链体系和现代冷链物流体系,形成从产地到餐桌的绿色、便捷、安全的农产品物流通道,推进了农产品流通企业与新型农业经营主体精准对接,构建了长期稳定的农商关系。

文科综合能力测试试卷 第 8 页(共 12 页)

河北依托田园风光、绿水青山、村落建筑、乡土文化、民俗风情等资源优势,积极发展田园养生、农耕体验、民宿康养等休闲农业新业态。发展各具特色的现代乡村富民产业,通过分红、劳务报酬、收益分配等形式,让农民更多分享产业增值收益。

河北省的做法对我国乡村振兴有何启示,请运用经济知识予以说明。

39. 阅读材料,完成下列要求。(12分)

习近平总书记指出:“党的领导是中国特色社会主义法治之魂,是我们的法治同西方资本主义国家的法治最大的区别。”党的领导是中国特色社会主义最本质的特征,是社会主义法治最根本的保证。

法治的根基在人民。坚持法治为了人民、依靠人民,把体现人民利益、反映人民愿望、维护人民权益、增进人民福祉作为法治建设的最高目标,法治建设才能始终焕发出旺盛的生命力。推进法治建设,必须从我国实际出发,同推进国家治理体系和治理能力现代化相适应,既不能罔顾国情、超越阶段,也不能因循守旧、墨守成规。长期以来,我们坚持推进马克思主义法治理论中国化,指导党和国家法治建设取得丰硕成果。立足新发展阶段,我们必须深入学习贯彻习近平法治思想这一马克思主义法治理论中国化的最新成果,坚持和发展中国特色社会主义法治理论,为法治中国建设提供强大的理论支撑。

结合材料,运用政治生活知识分析我国法治建设取得长足进步的原因。

40. 阅读材料,完成下列要求。(26分)

材料一

学习、理解和把握好世界观和方法论,是学深悟透习近平新时代中国特色社会主义思想的一把钥匙。习近平总书记强调:“要学习掌握事物矛盾运动的基本原理,不断强化问题意识,积极面对和化解前进中遇到的矛盾。”他说:“问题是事物矛盾的表现形式,我们强调增强问题意识、坚持问题导向,就是要善于把认识和化解矛盾作为打开工作局面的突破口。”

材料二

中华儿女虽然生活地域不同,语言、生活习惯存在差异,但独特的文化理念和道德规范,始终都是连接炎黄子孙的心灵纽带和情感纽带。包括港澳台同胞在内的56个民族携手弘扬中华优秀传统文化,不断促进心灵契合,当我们在文化传承上走到一起时,中国的软实力自然会更加强大。当今世界,各国前途命运紧密相连,世界发展困难重重、国际关系纷繁复杂——中华优秀传统文化所蕴含的民为邦本、天人合一、讲信修睦、亲仁善邻和“以和邦国”“四海之内皆兄弟”“远亲不如近邻”“己所不欲,勿施于人”“国虽大,好战必亡”等思想理念必将为中国和世界的繁荣稳定提供更多有益支撑。

(1)结合材料一,运用矛盾的观点,谈谈如何在树立“问题意识”的基础上“打开工作局面”。(12分)

(2)结合材料二,运用文化生活知识阐述继承弘扬中华优秀传统文化的当代价值。(10分)

(3)继承弘扬中华优秀传统文化,青年一辈,责无旁贷!请你就如何继承弘扬中华优秀传统文化提出合理化建议。(4分)

41. 阅读材料,完成下列要求。(25分)

材料一

文艺复兴时期,在欧洲富裕的市民阶层中出现私人收藏热潮,这一时期欧洲各地出现的私人陈列馆,就是在收购私人藏品的基础上建立起来的。新的科学团体的出现,加强了博物馆的科学研究功能,欧洲随之出现了一批科学博物馆。1683年,英国贵族阿什莫林将藏品捐献给牛津大学,建立起世界上最早的公共博物馆。1759年,英国不列颠博物馆正式对公众开放,藏品来自世界各地。法国大革命后,博物馆社会化的进程加快,博物馆的参观者不再局限于精英阶层。

——摘编自陈红京等主编《博物馆学概论》

材料二

1868年,法国神甫创办的徐家汇博物院是中国第一家近代博物馆。1874年,英国人创办了免费向公众开放的亚洲文会博物院,希望游人将所见珍稀物种告知院方,以便广泛搜集。20世纪初,张謇在多次上书无果的情况下独立创办了南通博物院。1912年,蔡元培主持筹建国立历史博物馆,其宗旨为“搜集历代文物,增进社会教育。”1933年起,南京国民政府筹备中央博物院,后因抗日战争中断,直到1950年定名南京博物院。

——摘编自张娟娟《近代中国博物馆源起探析》

材料三

新中国成立后,党中央在中央人民政府设立文化管理局,并明确新中国的博物馆要为广大人民服务,为科学研究服务,在对旧型博物馆进行改造的同时建立起一批新型博物馆。各地方以当地的自然资源、历史发展和社会主义建设为陈列内容建立地方博物馆。改革开放以后,一些知名高校相继建立博物馆学专业,为文博单位输送人才。1996年,十四届六中全会将博物馆确定为公益性事业单位,由各级政府提供经费保证。

——摘编自陈卓《中国博物馆事业的发展与实践》

- (1)根据材料一并结合所学知识,概括近代西方博物馆发展历程的特点。(10分)
- (2)根据材料二、三并结合所学知识,说明晚清到现代,中国博物馆事业的发展状况。(8分)
- (3)根据材料并结合所学知识,简析影响博物馆事业发展的主要因素。(7分)

42. 阅读材料,完成下列要求。(12分)

材料

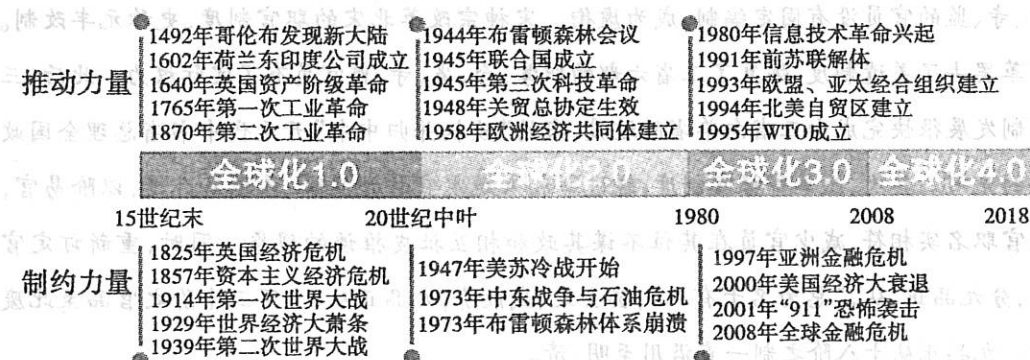


图5 世界经济全球化发展的历程

——资料来源《长江证券研究所》

根据材料中的内容选择一个角度,结合世界史的知识自拟一个主题进行阐述。(要求:主题明确,持论有据,符合逻辑。)

43.【地理—选修3:旅游地理】(10分)

保加利亚作为美丽的巴尔干国家,非常善于将农业与旅游业相结合。乡村旅游产品的开发都非常注重融入浓郁的地域文化元素,设计特色鲜明的旅游主题,巧妙地将特色农业与旅游业结合起来。他们将农业特色化、主题化,开发出诸如“玫瑰节”“薰衣草节”“樱桃节”和“酸奶节”等主题旅游项目,巧妙地将特色农业与旅游业结合起来,水乳交融、相得益彰,使保加利亚旅游收入每年以11%至17%的增长速度发展。观玫瑰、游花海、买精油,玫瑰节不仅成为保加利亚最亮丽的名片,也成为该国以农业种植促进乡村振兴最成功的范例。

说明“主题旅游项目”的举办对当地乡村旅游业发展的的好处。

44.【地理—选修6:环境保护】(10分)

西安自汉代起就有“八水绕长安”的美称。近年来,随着一批重点水利项目的实施,西安市生态水环境日益改善,累计建成生态水面4.5万亩,人均4平方米,正在着力打造城在水中、水在城中的“八水润西安”的新胜景,形成“东有灞灞广运潭,西有泔河昆明池,南有唐城曲江湖,北有未央汉城湖,中有明清护城河”的城市水系新格局。以河流水系为骨架,以湖池湿地为重点,以水源建设和污水处理再生水利用为保障,在走出一条符合西安水资源条件和城乡发展需要的生态之路,让水生态环境的改善惠及全体市民。

指出“八水润西安”对西安城市建设的好处。

45.【历史—选修1:历史上重大改革回眸】(15分)

材料

唐末至北宋初期官制新旧杂糅,名实脱离,原来的官成了爵位,差遣成了新的官职,三省、寺、监的官员没有固定编制,成为虚衔。宋神宗改革北宋的职官制度,史称元丰改制。改革罢去了差遣制度,恢复了三省六部的职掌,台、省、寺、监官员有了实际权力。此后,三省制发展很快完成由三省向单省的过渡,宋的“政柄并归中书”开元代中书省总理全国政务的先河。其次,改革寄禄官制度,绕过宰相来规定官员的品阶、俸禄及升迁,以阶易官,使官职名实相符,减少官员在其位不谋其政和相互扯皮推诿的现象。同时,重新订定官品,分九品正、从,“总为名十有八”,罢去文、武散阶,九品正从、上下三十阶之官品至此废除。九品正从十八阶之制一直沿用至明、清。

——摘编自葛桂莲《元丰改制在中国古代官职发展变化中的作用》

(1)根据材料并结合所学知识,概括元丰改制的主要内容。(6分)

(2)根据材料并结合所学知识,说明元丰改制的作用。(9分)

46.【历史—选修3:20世纪的战争与和平】(15分)

材料

二战时期,英国首相丘吉尔首先对殖民地发出了允许自治的信号。“自由法国”领导人戴高乐也对殖民地制度进行了初步改革,主张尊重土著政权机构,重视发挥土著的作用。在美国看来,摧毁欧洲的殖民主义制度是谋求世界霸权的前提。苏联也主张所有的殖民地实现完全的民族独立和自决,支持被压迫民族争取民族自决和民族平等的运动。殖民地人民经过战火的洗礼,政治觉悟和民族觉悟日渐提高,成长为一支庞大的反殖大军。在此背景下,联合国在借鉴一战后国际联盟处理殖民地问题经验的基础上,大力推行非殖民化方针。在这一方针的指引下,联合国在全球不遗余力地推进非殖民化的进程。截至21世纪初,全球政治独立的非殖民化目标已基本完成。

——摘编自王文《联合国关于非殖民化的机制与实践》

(1)根据材料并结合所学知识,概括联合国能够大力推行非殖民化方针的原因。(8分)

(2)根据材料并结合所学知识,说明联合国大力推行非殖民化方针的历史意义。(7分)

47.【历史—选修4:中外历史人物评说】(15分)

材料

苏秉琦,中国现代考古学家。他怀抱一颗“兴史育人,教育救国”的赤子之心,选择考古为终生志业。上世纪30年代,他参与陕西斗鸡台的发掘研究,针对商周国家与民族起源的问题,以实证性探索民族和文明的源头,并揭示其演变过程、发展规律及特征。70岁前后,他创造性地用考古发现的具体材料,将早期中国划分为六个不同的地域特点和文化区系。他的区系类型理论,被认为是考古学“中国学派”诞生的标志。80岁左右,他连续发表了一系列关于中国早期文明起源的文章,完成了对古史体系的颠覆与重建。针对中国历史发展脉络,他说:“超百万年的文化根系,上万年的文明起步,五千年的古国,两千年的中华一统实体,这是我国的基本国情。”苏秉琦先生再次实现了学术生命的新跨越。

——摘编自曹兵武《探索考古学的中国化之路》

(1)根据材料并结合所学知识,简述苏秉琦的考古学贡献。(8分)

(2)根据材料并结合所学知识,说明苏秉琦取得考古学成就的原因。(7分)

2023年普通高等学校招生全国统一考试
(第二次模拟考试)
文科综合答题卡

试卷类型 [A][B]

贴条形码区

姓名 _____

座位号

考生号

- 注意事项**
1. 答题前，考生将试卷类型(A或B)、姓名、座位号和考生号涂写在答题卡相应位置，并在答题卡背面左上角填写姓名和座位号，认真核对条形码上的姓名、座位号、考生号和文理科类别，贴在规定位置上。
 2. 答选择题时，必须使用2B铅笔将对应题目的答案标号涂黑，修改时用橡皮擦干净，再选涂其他答案。
 3. 答非选择题时，必须使用0.5毫米的黑色字迹中性笔书写，要求字体工整，笔迹清晰，严格按题号所指示的答题区域作答，超出答题区域书写的答案无效；在试题卷、草稿纸上答题无效。
 4. 保持答题卡清洁、完整，严禁折叠，严禁在答题卡上做任何标记，严禁使用涂改液、胶带纸、修正带。

此栏考生禁填 缺考标记 缺考考生由监考员贴条形码，并用2B铅笔填涂左边的缺考标记。

选择题
(须用2B铅笔填涂)

填涂样例 正确填涂 错误填涂

- | | | | |
|-----------------|-----------------|-----------------|-----------------|
| 1 [A][B][C][D] | 6 [A][B][C][D] | 11 [A][B][C][D] | 16 [A][B][C][D] |
| 2 [A][B][C][D] | 7 [A][B][C][D] | 12 [A][B][C][D] | 17 [A][B][C][D] |
| 3 [A][B][C][D] | 8 [A][B][C][D] | 13 [A][B][C][D] | 18 [A][B][C][D] |
| 4 [A][B][C][D] | 9 [A][B][C][D] | 14 [A][B][C][D] | 19 [A][B][C][D] |
| 5 [A][B][C][D] | 10 [A][B][C][D] | 15 [A][B][C][D] | 20 [A][B][C][D] |
| 21 [A][B][C][D] | 26 [A][B][C][D] | 31 [A][B][C][D] | |
| 22 [A][B][C][D] | 27 [A][B][C][D] | 32 [A][B][C][D] | |
| 23 [A][B][C][D] | 28 [A][B][C][D] | 33 [A][B][C][D] | |
| 24 [A][B][C][D] | 29 [A][B][C][D] | 34 [A][B][C][D] | |
| 25 [A][B][C][D] | 30 [A][B][C][D] | 35 [A][B][C][D] | |

非选择题【必考部分】(须用0.5毫米的黑色字迹中性笔书写)

36. (1)

36. (2)

请在各题规定的矩形区域内答题，超出该区域的答案无效！

请在各题规定的矩形区域内答题，超出该区域的答案无效！

36. (3)

37. (1)

37. (2)

37. (3)

37. (4)

请在各题规定的矩形区域内答题，超出该区域的答案无效！

请在各题规定的矩形区域内答题，超出该区域的答案无效！

38.

39.

请在各题规定的矩形区域内答题，超出该区域的答案无效！

考生姓名 座位号 考生务必将姓名、座位号用0.5毫米的黑色字迹中性笔认真填写在书写框内。座位号的每个书写框只能填写一个阿拉伯数字。

请在各题规定的矩形区域内答题，超出该区域的答案无效！

40. (1)

40. (2)

40. (3)

请在各题规定的矩形区域内答题，超出该区域的答案无效！

请在各题规定的矩形区域内答题，超出该区域的答案无效！

41. (1)

41. (2)

41. (3)

42.

请在各题规定的矩形区域内答题，超出该区域的答案无效！

请在各题规定的矩形区域内答题，超出该区域的答案无效！

非选择题【选考部分】 以下为选考题，每个答题区只允许选答一题，答题前，请考生务必将所选题号用2B铅笔涂黑。

地理选考题

[43] [44]

请考生从43、44两题中任选一题作答，并用2B铅笔将所选题号涂黑，多涂、错涂、漏涂均不给分，如果多做，则按所做的第一题计分。

历史选考题

[45] [46] [47]

请考生从45、46、47三题中任选一题作答，并用2B铅笔将所选题号涂黑，多涂、错涂、漏涂均不给分，如果多做，则按所做的第一题计分。

请在各题规定的矩形区域内答题，超出该区域的答案无效！