

秘密★启用前

2023 届“3+3+3” 高考备考诊断性联考卷（一） 文科综合

注意事项：

1. 答题前，考生务必将自己的姓名、考场号、座位号填写在答题卡上。
2. 每小题选出答案后，用 2B 铅笔把答题卡上对应题目的答案标号涂黑。如需改动，用橡皮擦干净后，再选涂其他答案标号。在试题卷上作答无效。
3. 考试结束后，请将本试卷和答题卡一并交回。满分 300 分，考试用时 150 分钟。

一、选择题（本大题共 35 小题，每小题 4 分，共 140 分。在每小题给出的四个选项中，只有一项是符合题目要求的）

距小麦成熟仅剩 20 多天，河南、山东等地部分农民将麦苗提前收割，粉碎后卖给养殖企业作青储饲料。据此完成 1~3 题。

1. 这种提前收割麦苗的现象可能发生在
A. 三月下旬 B. 五月上旬 C. 八月下旬 D. 十月上旬
2. 部分农民提前收割麦苗的直接目的是
A. 获取更高利润 B. 实现多种经营 C. 提高土地肥力 D. 发展混合农业
3. 为了避免农民提前收割麦苗，下列措施可行性的是
①调整粮食作物种植结构 ②大幅提高农民种粮补贴
③加强国家粮食安全教育 ④健全种粮收益保障机制
A. ①② B. ②④ C. ①③ D. ③④

图 1 示意贵州省第五次和第七次人口普查常住人口年龄结构图，表 1 为贵州省第五次和第七次人口普查情况统计表。据此完成 4~6 题。

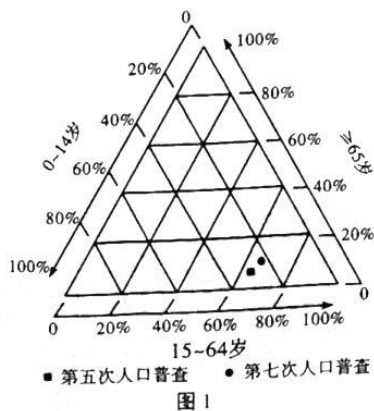


表 1

指标	第七次普查	第五次普查
常住人口(万人)	3856.21	3524.77
城镇人口(万人)	2049.59	844.55
城镇化率	53.15%	23.96%
家庭户数(万)	1269.66	923.94
家庭人口(万人)	3571.95	3459.18
户规模(人/户)	2.81	3.74

4. 第七次人口普查结果显示
- A. 少儿比重明显下降
B. 老龄化现象有所缓解
C. 少儿人口总数增加
D. 劳动力数量基本不变
5. 根据贵州省目前的人口现状, 可以预测
- A. 少儿培训机构剧增
B. 社会养老负担减轻
C. 城市化的水平下降
D. 人口红利逐渐减少
6. 贵州省目前家庭户的变化, 可能使
- A. 城市落户政策逐步放宽
B. 家庭代际结构更为复杂
C. 小户型住宅受市场欢迎
D. 宽带网络销售空间受限

位于江汉平原的云梦泽古代湖泊群(图2), 魏晋南北朝时期的面积较先秦时萎缩了一半, “火烧赤壁”发生在其附近。《三国志·曹操传》记载:“十二月……公自江陵征备……”《三国志·周瑜传》中记载:“时曹公军众……引次江北。瑜等在南岸。……盖放诸船, 同时发火。时风盛猛, 悉延烧岸上营落。”据此完成7~9题。

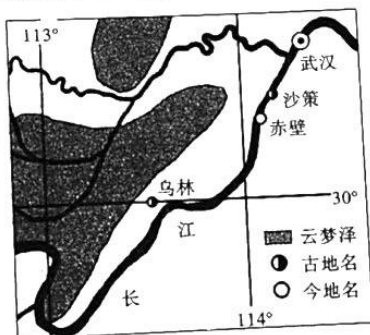


图2

7. 推测导致云梦泽湖泊群萎缩的主要原因是
- A. 地壳抬升, 湖水外泄
B. 气候变暖, 湖水蒸发
C. 泥沙沉积, 围湖造田
D. 资源富集, 围湖采矿
8. “时风盛猛, 悉延烧岸上营落”中“风”最有可能是
- A. 西北季风
B. 东南季风
C. 盛行西风
D. 局地东风
9. 该季节, 形成这种“风”的主导因素是
- A. 海陆热力性质差异
B. 湖陆热力性质差异
C. 盛行风带季节移动
D. 盛行风带长期控制

文科综合·第2页(共16页)

家住贵阳市（约 27°N ， 107°E ）的小明同学，在自己房间测得某晴日太阳最高时的光线（图3），当日落地窗被太阳照射的时长为5小时10分钟。据此完成10~11题。

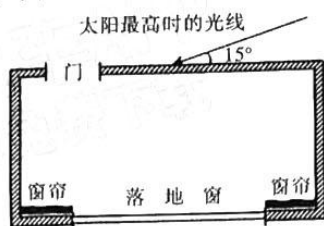


图3

10. 为了避免房间西晒，小明应及时拉上窗帘的时间为
- A. 12: 07
B. 13: 52
C. 15: 16
D. 16: 44
11. 该地当日的夜长为
- A. 11 小时 40 分
B. 11 小时 50 分
C. 12 小时 10 分
D. 12 小时 20 分
12. 中新网 2022 年 9 月 17 日电：继 9 月 15 日离岸人民币兑美元跌破 7.0 关口后，9 月 16 日，在岸人民币兑美元亦“破 7”，报收 7.0129，为 2020 年 7 月以来首次。下列对人民币“破 7”的影响，说法正确的是
- ①人民币贬值，将进一步降低部分出口占比较高行业的价格竞争优势
②人民币贬值或将进一步增厚出口导向型企业的利润
③人民币贬值后，中国居民到美国旅游、购物的意愿会有所增强
④人民币贬值后，出口业务的海外收入也有望受益于汇兑收益
- A. ①③ B. ②④ C. ①④ D. ②③
13. 国家发改委通报，近日生猪价格出现一定幅度回落。据监测，10 月 24 日至 28 日当周，全国平均猪粮比价为 9.66 : 1，仍高于猪肉储备合理区间上限；猪肉价格同比涨幅超过 40%，仍处于过度上涨一级预警区间。为进一步做好市场保供稳价工作，促进生猪价格尽快回归，近日国家将投放今年第七批中央猪肉储备。国家向市场投放中央猪肉储备体现了
- ①生猪作为生活必需品，其价格的大幅波动会影响居民的收入水平
②市场调节具有自身不可克服的缺陷，需要加强国家的宏观调控
③社会主义市场经济的健康发展，需要发挥市场在资源配置中的决定性作用
④商品价格的变化会受到供求关系的影响，保证市场供给可以有效稳定物价
- A. ①④ B. ②③ C. ①③ D. ②④

文科综合·第 3 页（共 16 页）

14. 据教育部网站显示, 2023 届高校毕业生规模预计将达到 1158 万人, 同比增加 82 万人。面对逐年走高的毕业生人数, 教育部印发通知, 部署做好 2023 届全国普通高校毕业生就业创业工作。通知要求, 各地各高校既要开拓市场化社会化就业渠道, 也要发挥政策性岗位吸纳作用。做好 2023 届全国普通高校毕业生就业创业工作
- ①高校毕业生要转变观念、提高素质和技能, 必须通过自己创业实现就业
 - ②政府有关部门要落实灵活就业及社会保障等政策, 为高校毕业生提供支持
 - ③组织开展“企业进校园招聘周”系列活动, 充分发挥市场的决定性作用
 - ④优化升级国家大学生就业服务平台功能和服务, 统筹吸纳高校毕业生就业
- A. ①③ B. ②④ C. ②③ D. ①④
15. 中国国际进口博览会, 简称进博会, 是迄今为止世界上第一个以进口为主题的国家级展会。11 月 10 日, 2022 年第五届中国国际进口博览会在上海国家会展中心落下帷幕。本届进博会参展国别范围更广、展示内容更加丰富、展商产品质量更优、各类活动精彩纷呈。举办国际进口博览会
- ①表达开放、多边的自由贸易理念, 发展更高层次的开放型经济体系
 - ②加强横向联系、交流合作互利共赢, 助力国内产业升级和消费升级
 - ③展现中国经济成就, 推销中国产品, 主导世界经济健康有序发展
 - ④发挥世界最大多边贸易组织的作用, 为推动我国自由贸易搭建平台
- A. ①② B. ③④ C. ①④ D. ②③
16. 立法法是规范国家立法制度和立法活动、维护社会主义法治统一的重要法律。10 月 27 日, 全国人大常委会审议立法法修正草案, 拟将“坚持和发展全过程人民民主”写入法律, 明确立法坚持以人民为中心, 坚持和发展全过程人民民主。这一修改
- ①体现了全过程人民民主是社会主义民主政治的本质属性
 - ②为立法为了人民、依靠人民、造福人民提供政治保障
 - ③拓展了人民有序参与立法、表达意愿的途径和形式
 - ④进一步保障了人民参与立法这一基本政治权利
- A. ①② B. ③④ C. ①③ D. ②④
17. 今年以来, 在习近平总书记关于加强和改进民族工作的重要思想指导下, 三都水族自治县大力推动全县民族工作发展。其中, 三都县民族友谊社区党支部和居委会以促进各民族交往交流交融为抓手, 通过体验式、参与式活动将民族团结理念与各族群众的文化发展、生产生活、工作学习相结合, 增进全社区各民族人民的深厚友谊, 营造了和谐的民族大团结氛围。对此理解正确的是
- ①这一活动有利于巩固和发展社会主义新型民族关系
 - ②社区居委会在推进民族工作中发挥了民族区域自治的主体作用
 - ③推进民族工作必须坚持中国共产党的领导
 - ④民族团结是处理民族关系的前提和基础
- A. ①② B. ③④ C. ①③ D. ②④

18. 2022年11月14日,国家主席习近平在巴厘岛同美国总统拜登举行会晤时指出,当前中美关系面临的局面不符合两国和两国人民根本利益,也不符合国际社会期待。中美双方需要本着对历史、对世界、对人民负责的态度,探讨新时期两国正确相处之道,找到两国关系发展的正确方向,推动中美关系重回健康稳定发展轨道,造福两国,惠及世界。对此理解正确的是
- A. 中美两国应从两国共同利益出发,找到中美两国关系发展的正确方向
B. 中美两国应在维护本国利益的同时充分考虑对方的合理关切,促进关系正常稳定
C. 中美两国应本着对历史、世界、人民负责的态度,共同推动国际新秩序的建立
D. 中美两国应顺应和平与民主的时代主题,为世界稳定作出更大贡献
19. 现如今,越来越多的人对基于中华优秀传统文化的数字文化产品、数字文化服务热情高涨,这背后体现着人们文化身份认同的共同需求、文化归宿的共同探寻。伴随着日益完善的数字技术发展,更多优秀传统文化通过基于虚拟现实技术的新媒体呈现在人们面前,有助于中华优秀传统文化的传承和弘扬。这说明
- ①传统文化是维系民族生存和发展的精神纽带
②依托数字技术是继承传统文化的价值追求
③科技是影响文化发展的重要因素
④大众传媒能够超越时空局限,正在取代传统传播手段
- A. ①② B. ③④ C. ①③ D. ②④
20. 9月6日,2022年“海外中国旅游文化周”活动启动。本次活动通过讲述中华优秀传统文化保护传承、文化和旅游助力脱贫攻坚和乡村振兴、当代中国创新发展的生动故事,充分展示新时代中国特色社会主义建设的伟大成就,让其中蕴涵的中国经验、中国方案、中国智慧更好走向全世界、造福全人类。材料蕴含的文化生活道理是
- ①文化和经济相互影响、相互促进
②文化既是民族的,又是世界的
③发展中国特色社会主义文化要以我为主、为我所用
④发展中国特色社会主义文化要立足中国、面向世界
- A. ①② B. ③④ C. ①③ D. ②④
21. 2022年9月9日,中秋佳节前夕,中国科学家宣布在月球样品中发现新矿物——“嫦娥石”,并成功解译其晶体结构。“嫦娥石”是一种磷酸盐矿物,呈柱状晶体,存在于月球玄武岩颗粒中,是科学家利用X射线衍射等一系列高新技术手段,在14万个月球样品颗粒中分离出的一颗单晶颗粒,粒径约10微米。我国因此成为世界上第3个发现月球新矿物的国家。这一发现反映了
- ①发现月球新矿物是科学家研究的最终目的 ②科学家对新矿物的发现反映了客观存在
③X射线衍射仪作为工具是人类器官的延伸 ④科学发现来源于认识的不断深化与积累
- A. ①② B. ①④ C. ②③ D. ③④

文科综合·第5页(共16页)

22. 习近平总书记指出, 做好统筹疫情防控和经济社会发展工作, 要紧紧依靠人民。这次疫情给我国经济社会发展造成了较大冲击和影响, 但我国经济稳中向好、长期向好的基本面没有改变。这次疫情是一场危机, 但某种程度上也孕育了新的契机。要积极主动作为, 在推进重大项目建设、支持市场主体发展、加快产业结构调整、提升基层治理能力等方面推出一些管用举措, 有针对性地部署对高质量发展、高效能治理具有牵引性的重大规划、重大改革、重大政策, 在应对危机中掌握工作主动权、打好发展主动仗。以上论述蕴含的辩证法道理是
- ①事物发展的总趋势是前进性和曲折性的统一
②矛盾的同—性推动事物的运动、变化和发展
③发挥主观能动性, 坚持两点论与重点论的统一
④矛盾双方相互渗透, 在一定条件下可以相互转化
- A. ①③ B. ②④ C. ①② D. ③④
23. 2021年11月18日, 贵州首次整列发出中欧班列。一年时间, 贵州中欧班列数量从每月2列临时计划到图定每月4列; 开行线路由单一运输线路覆盖莫斯科所有站点, 逐步延伸到欧洲腹地马拉、汉堡及布达佩斯; 从单一中欧通道发展到中老班列、黔粤班列交织成网, 高效连接; 货物运输品类日趋多元化, 越来越多“黔货”通过中欧班列走向世界。中欧班列开通运行
- ①改变了事物存在和发展的条件, 建立了新的具体联系
②拓展了贵州向中欧开放新空间, 助力“黔货”出口
③说明人类可以根据自身的需要来建立新的具体联系
④人的意识能将自在事物的联系变为人为事物的联系
- A. ①② B. ①④ C. ②③ D. ③④
24. 《大武》以诗歌乐舞来表现武王克商的丰功伟业, 作为周代的礼制, 往往用于祭祀、庆典等活动。孔子对《大武》的艺术表现形式给予高度赞扬, 但对其歌颂战争功绩的内容却有所不满, 称其“尽美矣, 未尽善也”。这主要表明, 孔子
- A. 肯定商周鼎革的进步意义
B. 推行仁为核心的政治实践
C. 要求恢复周制的政治理想
D. 重视发挥礼乐的教化功能
25. 西汉时, 御史大夫主持庞大的中央水利机构对全国水利事务进行总揽, 各地的水官多由中央派出, 强制推动地方水利工程建设。东汉建立以后, 中央水利机构逐渐省并, 将水利官员改为由郡一级管辖, 并将治水权直接下放给了地方。两汉时期水利管理的变动表明当时
- A. 郡的行政职能得到丰富
B. 水利建设的专业性逐渐加强
C. 选官任人制度发生变革
D. 国家水利治理缺少领导核心

26. 宋代政府每年预先确定所缴茶税，然后均摊给各地茶叶种植、制作的茶农，茶农完税后便可与茶商自由交易；另外，对非专卖商品的价格政府不再进行限价，商人可根据交易行情自由定价。由此可知，宋代
- A. 专卖制度日益趋向解体
B. 商业发展突破体制的束缚
C. 商人主导市场交易活动
D. 政府重视经济手段的运用
27. 壁画是佛教艺术的重要表现形式之一，在宣扬教义的同时也是佛寺中重要的装饰艺术品。表 2 是山东地区现存明清佛寺壁画情况统计。据表 2 可知，山东地区

表 2

佛寺名称	年代	内容
光化寺	明清	西游记故事题材
唐李庵	清代	三国演义故事题材
灵岩寺	清代	罗汉题材
大圣寺	清代	西游记故事、花鸟、建筑

- A. 市民文化冲击宗教信仰
B. 佛教传播的世俗化趋势
C. 社会生活的地域特点
D. 三教并行的政策影响
28. 鸦片战争后，广东、福建地区的农家手工织布已经基本上采用进口洋纱，以至于“觅一纺纱器具而不可得”。但据上海、江苏、广西地方志记载，当地“纱线均手车所纺”“乡人尚未行用机纱”“布料多为土货”。这些现象说明，近代中国
- A. 沿海地区经济结构变动更加迅速
B. 区域经济发展呈现不平衡性
C. 开埠通商促使自然经济逐渐解体
D. 长江流域发展模式相对滞后
29. 1890 年起，张之洞为兴建汉阳铁厂，先后向英、德等国借贷，后又以大冶矿山作抵，向日本资本借贷；1897 年，清政府与比利时签订《卢汉铁路比国借款续订详细合同》，借款 450 万英镑修建卢汉铁路。这些做法
- A. 阻碍了民族资本主义的发展
B. 导致中国经济主权开始丧失
C. 体现了洋务运动的求富思想
D. 引发西方列强对华资本输出
30. 1912 年 3 月，北京某报发表时评“电报与共和”，称“自去年八月十九日以至于今……谋独立以电报，举都督以电报，以至停战以电报，议和又以电报。主张君主以电报，主张共和又以电报”，“说者谓中国之革命为电报之革命，其信然欤”。这一时评
- A. 折射出武昌起义后政治形势的复杂
B. 有利于促进近代中国确立共和政体
C. 揭示出立宪派和革命派的激烈斗争
D. 强调了近代通讯对革命的决定意义

文科综合·第 7 页 (共 16 页)

31. 图 4 是中国共产党主持下的《浙南周报·画刊》刊登的一幅政治漫画。漫画中的字样为“求和 美记国民党戏台 三十八年元旦开演”。该漫画采用金字塔形构图，一上一下的蒋介石判若两人，表面上他高站在戏台架上，深深地鞠躬求和，帷幕里他在台下磨刀霍霍，杀机重重。这幅漫画



图 4

- A. 重在抨击国民党右派消极抗日积极反共的做法
B. 有力控诉美国利用蒋介石推行霸权政策的野心
C. 旨在揭露抗战以后蒋介石假和平真内战的阴谋
D. 描绘了国民党反动派假民主假和平的虚假面目
32. 在举办公共节日时，由雅典执政官们指定的赞助人为赢得在民众中的荣誉和声望，往往不惜花费巨资，这一举动也会让他们日后万一走上法庭时，也能以“公益捐助”当作对城邦贡献的有力证据，从而获得雅典人的宽容和支持。这反映出，雅典
- A. 城邦民主制存在弊端
B. 重视公民公共道德塑造
C. 缺少严格的司法程序
D. 人文精神影响政治生活
33. 18 世纪中期的法国，许多贵族为了让他们的儿子在手工技艺方面得到训练，纷纷在家中设置了手工作坊，枯燥的技术类书籍也被他们的家庭藏书室当作标志性的收藏品，甚至在他们举办的沙龙中，也往往醉心于谈论牛顿的才华和讨论“燃素”的性质。这表明
- A. 人文主义传播广泛
B. 资本主义迅猛发展
C. 启蒙运动影响巨大
D. 等级制度逐步瓦解
34. 19 世纪中期，远东地区茶叶的国际运输几乎都被美国垄断，“盖茶叶以新鲜为贵……英商宁愿以七角五分美元的运费请美商代运茶叶到伦敦，也不愿意以二角五分美元的运费给本国商船”。这反映出，当时
- A. 美国掌控远东贸易的主导权
B. 技术革新影响国际贸易
C. 资本主义世界市场初步形成
D. 英国奉行自由放任政策
35. 19 世纪末 20 世纪初，在西方国家组织的博览会中，既有包含展现本国工业与现代化文明的展馆，又有源于各自殖民地的殖民展——主要包括来自殖民地的手工艺品、建筑物等，策展人尽量还原土著人的生活环境和文化特色并将其展现给本国公众。西方国家推动博览会主要是为
- A. 彰显国家实力，寻求国人认同
B. 宣传文明成果，促进技术进步
C. 塑造国家形象，争夺殖民霸权
D. 弘扬民族文化，推动世界交流

二、非选择题（共 160 分，第 36~42 题为必考题，每个试题考生都必须作答。第 43~47 题为选考题，考生根据要求作答。把答案填写在答题卡上相应的位置，在试题卷上作答无效）

（一）必考题（共 7 小题，共 135 分）

36.（24 分）阅读图文材料，完成下列要求。

鄂毕河流经的西西伯利亚平原（图 5）广泛分布着冻土、湖沼和泰加林。泰加林树叶缩小呈针状，是对生长季和水分环境的生理性适应。近年来，人们通过遥感手段观测到该地泰加林、苔原、越年积雪、洼地中的湿地等土地覆被发生了明显的变化。随着气候变化，不少地面上的耕地也演变成了草地。



图 5

（1）简述鄂毕河的水文特征及其对该地区湖沼形成的影响。（8 分）

（2）根据图文材料信息，概括当地的气候特征。（6 分）

（3）推测近年来该地区土地覆被的变化。（6 分）

（4）分析近年来地面上的耕地演变为草地的自然原因。（4 分）

37. (22分) 阅读图文材料, 完成下列要求。

德国是欧洲最大的经济体, 且非常注重环境保护, 煤炭资源储量丰富, 但天然气储量仅能满足国内生产和生活需求量的四分之一。2020年, 德国天然气进口主要来自俄罗斯(55.2%)、挪威(30.6%)和荷兰(12.7%), 仅有不到1.6%的天然气来自其他国家。“北溪二号”输气管道(图6)的铺设旨在由俄罗斯经波罗的海海底输送天然气到德国, 再通过德国干线管道输送到其他欧洲国家, 投入运营后德国从俄罗斯进口的天然气可能翻倍。



图6

- (1) 分析德国对进口天然气依赖程度高的原因。(4分)
- (2) 与轮船运输液化天然气相比, 简要分析管道输送天然气的优势。(6分)
- (3) 简要评价在波罗的海建设输气管道过程中的自然地理条件。(6分)
- (4) 简述“北溪二号”输气管道投入运营后对俄罗斯带来的社会经济意义。(6分)

38. (14分) 阅读材料, 完成下列要求。

材料一 表3为2022年4月~10月我国工业生产增长速度:

表3

序号	统计时间	规模以上工业增加值 月度同比增长 (%)	国有及国有控股企业 月度同比增长 (%)	股份制企业月度 同比增长 (%)
1	2022年4月	-2.9	-2.9	0.5
2	2022年5月	0.7	0.7	2.3
3	2022年6月	3.9	3.1	4.0
4	2022年7月	3.8	5.4	4.4
5	2022年8月	4.2	5.6	4.1
6	2022年9月	6.3	4.9	6.6
7	2022年10月	5.0	4.4	5.9

材料二 方向决定道路, 道路决定命运。党的二十大报告擘画了以中国式现代化全面推进中华民族伟大复兴的宏伟蓝图, 明确提出中国式现代化的本质要求。其中, 在“五位一体”总体布局上, 提出要统筹推进“五位一体”总体布局和协调推进“四个全面”战略布局, 立足新发展阶段, 贯彻新发展理念, 构建新发展格局, 推动高质量发展。

“市场主体是国民经济的根基所在。”中国社科院副院长高培勇说, 高质量发展必须更加关注市场主体, 紧盯市场主体精准实施各项政策。进一步延长制造业缓税补缴期限; 对制造业新增增值税留抵税额即申即退; 实施支持企业创新的阶段性减税政策……便利企业享受政策红利。

(1) 简要说明材料一反映的经济信息。(4分)

(2) 结合材料二, 说明“市场主体是国民经济的根基所在”的经济学理由。假如你是企业的管理者, 如何在新发展阶段中实现企业的腾飞, 为我国经济高质量发展贡献力量。(10分)

39. (12分) 阅读材料, 完成下列要求。

学习宣传贯彻党的二十大精神

2022年10月25日, 二十届中共中央政治局召开会议, 研究部署学习宣传贯彻党的二十大精神。学习宣传贯彻党的二十大精神是当前和今后一个时期全党全国的首要政治任务, 要引导广大干部群众原原本本学习研读党的二十大报告和党章, 认真领悟党的二十大精神提出的新思想新论断、作出的新部署新要求。要紧密联系党的百年奋斗历程特别是党的十八大以来新时代十年的伟大变革, 深刻领悟“两个确立”的决定性意义, 加深对习近平新时代中国特色社会主义思想、马克思主义中国化时代化、中国式现代化等重大问题的认识, 深刻党中央精神上上来。

文科综合·第11页(共16页)

结合材料，运用“中国特色社会主义最本质特征”的知识，说明学习宣传贯彻党的二十大精神是当前和今后一个时期全党全国的首要政治任务。（12分）

40. (26分) 阅读材料，完成下列要求。

材料一 一个国家实现现代化的具体道路不能照抄照搬他国，必须基于自身历史和现实进行自主探索。早在改革开放初期，邓小平就明确指出，“我们搞的现代化，是中国式的现代化”。习近平总书记指出，在新中国成立特别是改革开放以来长期探索和实践基础上，经过十八大以来在理论和实践上的创新突破，我们党成功推进和拓展了中国式现代化。中国式现代化，既有各国现代化的共同特征，更有基于自己国情的中国特色。

世界上既不存在定于一尊的现代化模式，也不存在放之四海而皆准的现代化标准。我们党把现代化理论构建和顶层设计与亿万人民的实践探索紧密结合，坚持“先试点、后推广”的改革模式，在先行先试形成集成制度创新、改革示范效应后再全面铺开，党带领人民开创中国式现代化新道路的过程也是中国式现代化科学范式形成的过程。实践证明，中国式现代化是符合中国国情、依靠人民创造的正确道路，是一条面向未来、立足当下、蹄疾步稳的现代化新道路，也为人类社会实现现代化提供了新选择。

材料二 习近平总书记指出：“西方很多人习惯于把中国看作西方现代化理论视野中的近现代民族国家，没有从五千多年文明史的角度来看中国，这样就难以真正理解中国的过去、现在、未来。”新中国成立特别是改革开放以来，我们党团结带领人民探索中华民族复兴之路和中国发展的现代化道路，从中华文明传统中寻找现代化的文化根基和源头活水，是推动中国式现代化的基本经验。同时，我们也注重借鉴世界各国现代化的有益经验。中国式现代化体现了中华文明传统和全人类共同价值的融通融合，是21世纪人类社会现代化的康庄大道。

(1) 中国式现代化，为人类社会实现现代化提供了新选择。结合材料一，运用“矛盾的普遍性和特殊性辩证关系”原理加以说明。（12分）

(2) 结合材料二，运用“文化创新”的知识，说明我们党是如何成功推进和拓展了中国式现代化的。（10分）

(3) 实践证明，中国式现代化是符合中国国情、依靠人民创造的正确道路。就我们党怎样“推进中国式现代化”提两条方法论建议。（4分）

41. (25分) 阅读材料, 完成下列要求。

材料一 汉唐时期因“关中三面距险……雍州山原皆从西北来, 西北最多, 羌虏据之”, “边陲之戍, 用保封疆”, 故而西北边疆历来是国家治理的重心。公元前60年, 西汉设西域都护。唐代以各民族、部落的分布范围作为羁縻府州行政区划的基础, 以西北边疆地区民族首领为都督、刺史, 完善了边疆治理体系; 为解决戍边部队的军资粮秣, “凡边防镇守, 转运不给, 则设屯田, 以益军储”。虽然汉唐时期对边疆“其地不可耕而食, 其民不可臣而畜”看法具有广泛的代表性, 但汲取边疆资源以补国用的传统促使中原王朝与西北诸族广开互市, 带动了西北边疆地区经济发展, 史载当地“禾菽弥望”, “众庶富乐, 编户安业”。

——节编自黎镜明《汉唐西北边疆治理刍议》

材料二 1871年俄国占领伊犁并意图进一步吞并新疆。左宗棠在1877年《遵旨统筹全局折》中, 一方面强调新疆为防卫蒙古诸部以及陕、甘地区的战略重要性, 另一方面也注重欧洲的国际形势, “虑俄之蚕食其地, 于英有所不利, 俄方争土耳其, 与英相持, 我收复旧疆, 兵以义动, 彼将何以难之?” 1879年之后, 中俄在新疆问题上主要通过外交途径进行交涉。1884年新疆设立行省, 从根本上改变了藩属体系下“分而治之”的行政体制, 更便于清廷直接参与新疆地方事务管理。1901年清末新政之后, 满洲大臣提出“化除满汉畛域、各族混成一体”, 西北边疆逐渐形成与内地行省的“一体化”发展格局。

——节编自李阿慧《“西北藩属”与“东方问题”》

材料三 新中国确定了民族区域自治制度为我国的根本政治制度之一, 为实现政治安边奠定了根本政治前提。建国之初组建了“劳武结合”的新疆生产建设兵团, 赓续了汉唐治理西北边疆注重实用、认可多元、与时俱进的传统。兵团成立初期, 新疆经济以农牧业为主体, 时至今日, 随着丝绸之路经济带战略的提出, 新疆作为“一带一路”核心区的地位逐步明晰, 新疆在对外开放格局中由“末梢”转为“前沿”。

——黎镜明《汉唐西北边疆治理刍议》

(1) 根据材料一、二并结合所学知识, 概括汉唐到晚清时期政府对西北边疆治理的主要认识, 并说明这一时期西北边疆治理的历史意义。(16分)

(2) 根据材料三并结合所学知识, 简要说明新中国成立后西北边疆治理的变化。(9分)

42. (12分) 在赓续百年的辛亥革命纪念中, 中国共产党人基于政治生存环境和自身政治实力的考量, 围绕党和国家在不同阶段的工作重心孕育和打造出了独特的纪念话语框架。中国共产党人认识和评价辛亥革命的历程大致可以分为表4中的三个阶段, 据此完成下列要求。
材料

表4

主要阶段	中共对辛亥革命的主要认识和评价
中共诞生到改革开放前 (1921~1978年)	肯定辛亥革命是一场比较完全意义上的资产阶级革命, 高度评价辛亥革命对近代中国社会进步起到的积极作用, 同时指出由于阶级和时代的局限性, 中国资产阶级领导的辛亥革命不可能成功, 资产阶级共和国的方案不能救中国。
改革开放至中共十八大召开前 (1978~2012年)	把辛亥革命置于近代以来民族复兴运动的历史进程中加以审视, 充分肯定辛亥革命对民族复兴事业的积极意义, 把继承辛亥革命精神和当前斗争任务紧密结合起来, 申明中国共产党人是孙中山革命事业的支持者、合作者和继承者, 中国共产党为之奋斗的事业是辛亥革命的继续和发展。
中国特色社会主义新时代 (2012年后)	指出辛亥革命受历史条件和社会进程的制约, 没有找到解决中国前途命运问题的正确道路和领导力量, 但仍然是近代以来中华民族伟大复兴征程中一次伟大而艰苦的探索, 是中华民族伟大复兴征程中一座里程碑。

——节编自杜家丞《百年来中国共产党认识和评价辛亥革命的逻辑转换》

围绕中国共产党人对辛亥革命的认识评价, 自拟论题并运用中国近现代史相关知识进行说明。(要求: 围绕材料整体或选取其中一部分; 论题明确; 史论结合; 表达清晰) (12分)

(二) 选考题 (共5小题, 共25分)

请考生在第43、44两道地理题中任选一题作答; 在第45、46、47三道历史题中任选一题作答。如果多做, 则按所做的第一题计分。作答时用2B铅笔在答题卡上把所选题目的题号涂黑。

43. (10分) 【地理——选修3: 旅游地理】

近年来, 位于贵阳市清镇红枫湖镇的右二村, 围绕“保湖、富民”主题, 以黄、红、蓝为主色, 为民居植入“蒙德里安”艺术元素, 成功打造了蒙德里安艺术小镇。五彩斑斓的房屋与湖光山色交相辉映 (图7), 仿若童话世界, 吸引游客前来拍照, 成为“网红打卡地”, 但外地游客较少。




图7

分析右二村对外地游客吸引力低的原因，并提出改进措施。(10分)

44. (10分) 【地理——选修6：环境保护】

2022年9月15日施行的《贵阳市城镇生活垃圾分类管理条例》规定，垃圾分类投放将纳入贵阳市居民公约和村规民约。单位、家庭和个人应当按照可回收物、有害垃圾、厨余垃圾、其他垃圾分类投放垃圾。图8示意可回收物处理过程。

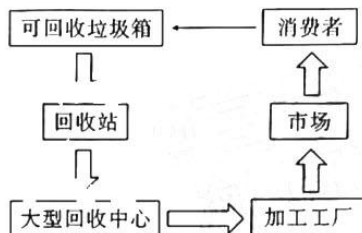


图8

简述城镇生活垃圾分类的意义，并指出可回收物处理过程中要注意的问题。(10分)

45. (15分) 【历史——选修1：历史上重大改革回眸】

材料 大萧条期间，作为农业区的南部遭到重创，“除非对美国农民采取行动，否则12个月内，农村将爆发革命。”1933年5月，罗斯福签署《农业调整法》，主要内容包括对自愿减少棉花等所谓“基本农产品”生产的农民给予补贴，与农产品加工者签订销售合同并规定销售定额和出口补贴等。1938年，国会再次通过《农业调整法》。1938年法案的核心手段是农产品的价格支持。其主要内容是：当美国国内农产品价格低于“支持水平”时，农民得以农产品为抵押向农业部下属的农产品信贷公司贷款，农产品信贷公司将之作为政府的“供应储备”收储；而当农产品价格上涨时，公司或者在国内抛售储备，或者向国外出口；如果在出口中获得超额利润，还会返还一部分给农民。到1940年，约有600万农民参与这一计划，不仅增加了农民收入；由此储备下来的大量农产品在二战期间有力支持了同盟国的战争需求，对世界反法西斯战争胜利有很大贡献。

——节选自《论罗斯福新政对美国南部“三农”问题的影响》

(1) 根据材料并结合所学知识，简析罗斯福新政实行农业改革的出发点。(9分)

(2) 根据材料并结合所学知识，归纳罗斯福农业改革措施的特点。(6分)

46. (15分)【历史——选修3：20世纪的战争与和平】
材料 在科索沃战争中，北约在不断加大对南联盟军事打击力度的同时，还采取多种措施打压传媒设施，限制舆论报道，力图实现新闻封锁。同时，还将运输机专门设计和改装成“空中广播站”，抢占南联盟电台频道，干扰南联盟电台的广播。战争期间，北约通过欧洲卫星通信组织，停止为转播塞尔维亚节目的电台和电视台提供卫星服务，封锁信息。北约下达空袭命令后，西方主要报纸每天至少用两三个整版报道第二次世界大战结束以来首次发生在旧大陆的这场北约参与的战争。各报报道的重点并不是每天的战况而是从各个角度阐述这场战争的必要性。而南联盟则控诉北约轰炸给南造成灾难，鼓舞人民抗敌的士气，坚定胜利的信心，分化和瓦解敌人。尽管双方都在有效地管制着传统媒介，但谁都无法控制互联网这个新领域。北约利用技术优势，通过在国际互联网上开设主页和常设链接等方式，对南联盟进行了规模空前的在线宣传，大量发布反南联盟政府的材料。面对这种局面，南联盟开设一个新的网址，并立即成为提供科索沃战争信息最权威、最全面，也是最及时的因特网网址。
——节编自应吉庆《现代战争中的舆论宣传战》

(1) 根据材料并结合所学知识，简析科索沃战争中双方实施舆论战的主要意图。(9分)

(2) 根据材料并结合所学知识，概括科索沃战争中舆论战的主要方式。(6分)

47. (15分)【历史——选修4：中外历史人物评说】

材料 塞缪尔·贝克特，爱尔兰著名剧作家、诗人、小说家，荒诞派戏剧的奠基者。1906年出生于爱尔兰首都都柏林。1928年到巴黎高等师范学院和巴黎大学任教，德国占领法国期间，他曾因参加抵抗运动，受法西斯的追捕，被迫隐居乡下当农业工人。1945年，曾短期回爱尔兰参加红十字会工作，第二次世界大战结束后不久返回巴黎，成为职业作家。他的作品以惊人的诙谐和幽默表现了人生的荒诞、无意义和难以捉摸，1953年上演的《等待戈多》，获得巨大成功。1969年瑞典皇家学院说到授予他诺贝尔文学奖的原因时称“他的具有新奇形式的小说和戏剧使现代人从贫困境地中得到振奋”，并将他的荒诞戏剧与希腊悲剧相提并论，称它们“具有希腊悲剧的净化作用”。

——节编自《塞缪尔·贝克特》等

(1) 根据材料并结合所学知识，简述贝克特文学创作的历史背景。(9分)

(2) 根据材料并结合所学知识，分析贝克特获得诺贝尔文学奖的原因。(6分)

关于我们

自主选拔在线是致力于提供新高考生涯规划、强基计划、综合评价、三位一体、学科竞赛等政策资讯的升学服务平台。总部坐落于北京，旗下拥有网站（[网址: www.zizzs.com](http://www.zizzs.com)）和微信公众平台等媒体矩阵，用户群体涵盖全国90%以上的重点中学师生及家长，在全国新高考、自主选拔领域首屈一指。

如需第一时间获取相关资讯及备考指南，请关注**自主选拔在线**官方微信号：**zizzsw**。



自主选拔在线
微信号: zizzsw



自主选拔在线
微信号: zizzsw



自主选拔在线
微信号: zizzsw