

试卷类型: A

高三历史

2021.11

注意事项:

1. 答题前, 考生先将自己的学校、姓名、班级、座号、考号填涂在相应位置。
2. 选择题答案必须使用2B铅笔(按填涂样例)正确填涂; 非选择题答案必须使用0.5毫米黑色签字笔书写, 绘图时, 可用2B铅笔作答, 字体工整、笔迹清楚。
3. 请按题号在各题目的答题区域内作答, 超出答题区域书写的答案无效; 在草稿纸、试题卷上答题无效。保持卡面清洁, 不折叠、不破损。

一、选择题: 本大题共15小题, 每小题3分, 共45分。在每小题列出的四个选项中, 只有一项是符合题目要求的。

1. 《礼记》记载: “致人尊神, 率民以事神。……周人尊礼尚施, 敬鬼神而远之。”战国时期, 孟子强调“天视自我民视, 天听自我民听”, 荀子以“列星随旋, 日月递照, 四时代御”等自然之象释天。上述变化表明
A. 商周倚重神权维护统治
B. 治国理念不断更新
C. 儒家民本思想初步形成
D. 人文意识逐渐增强
2. 《史记》记载: 大秦灭六国, 楚最无罪。自怀王入秦不反, 楚人怜之至今, 故楚南公曰“楚虽三户, 亡秦必楚”也。这表明当时秦朝
A. 郡县制受到挑战
B. 分封制有一定社会基础
C. 存在着统治危机
D. 不施仁德是灭亡的主因
3. “如果没有一个成熟的有力量有影响的社会阶层即士族的存在, 如果没有一个丧失了权威但尚余一定号召力的皇统存在, 如果没有民族矛盾十分尖锐的这样一个外部条件, 都不会有江左百年的门阀政治局面。”材料旨在揭示
A. 门阀政治存在的社会基础
B. 士族势力一定程度上抑制了皇权
C. 九品中正制出现的合理性
D. 门阀政治阻碍了民族交融的进程
4. 唐代应试举子在参加省试之前, 将自己作品写成卷轴, 送给政要或名流, 以求其赏识, 称之为“行卷”。主考官请有地位、声望且与自己关系密切的人来决定录取名单, 即谓“通榜”。“通榜”者提出的名单主要是依据“行卷”来定夺。这种现象
A. 体现取士公平
B. 容易助生肌党
C. 丰富录取形式
D. 加速阶层流动

高三历史 第1页(共8页)

5. 隆庆元年,月港开禁,商人出海贸易必须向政府提出申请,申请书上注明商人的姓名、年貌、户籍、住址、贩运货物的种类、数量、船只大小以及将要前往的国家和回销日期等,核对备案无误之后,商人交纳引税,由官员发给商引。这一制度
- A. 规范了民间外贸行为
B. 强化了传统抑商观念
C. 冲击了朝贡贸易体系
D. 提高了中外贸易效率
6. 衡量白银重量的标准叫“平”,近代中国平砵并不统一,常见的有库平、关平、漕平、京公砵平等。其相对数大体为:关平 100 两 = 库平 100.9986 两 = 漕平 102.8180 两 = 京公砵平 104.6517 两。这一状况
- A. 不利于统一市场的发育
B. 加剧了分裂割据的隐患
C. 破坏了交易秩序的稳定
D. 导致了经济结构的失衡
7. 1874 年清政府商议海防建设,前江苏巡抚丁日昌主张“御今日之侮”须“效彼之长”,对此,大理寺卿王家璧主张“勿以事非己出轻改前人,勿以能屈夷情不顾国是”。王家璧这一观点
- A. 认为学习西方是以夷变夏
B. 激发国人救亡图存意识
C. 是对中体西用主张的突破
D. 体现了经世致用的思想
8. 图 1 为某一时期开辟的国际运输线,该航线是当时国际上最繁忙的航线。该航线的开辟

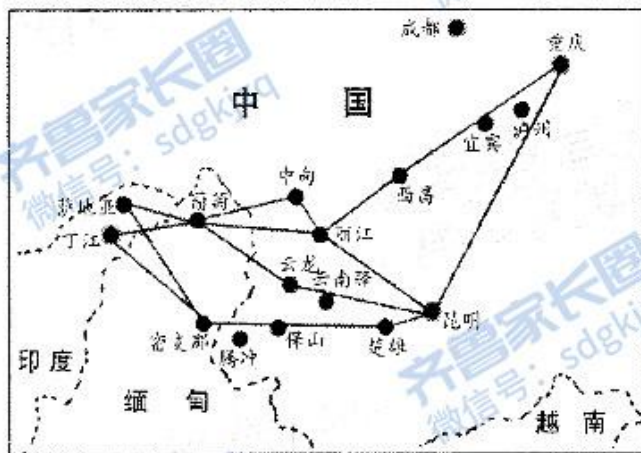


图 1

- A. 推动了世界反法西斯同盟的建立
B. 落实了“求同存异”的方针政策
C. 有利于保障抗日战争物资的供应
D. 践行了新中国和平共处五项原则

9. 1934年春,毛泽东发表讲话指出:“一切工作,如果仅仅提出任务而不注意实行时候的工作方法,不反对官僚主义的工作方法而采取实际的具体的工作方法,不抛弃命令主义的工作方法而采取耐心说服的工作方法,那末,什么任务也是不能实现的。”这一讲话意在
- A. 动员群众参加土地革命
B. 开辟工农武装割据道路
C. 与国民党联合打倒军阀
D. 建立抗日民族统一战线
10. 图2是第三套人民币壹元券,图中人物原型为新中国第一位女拖拉机手、全国劳模梁军。这



图2

- A. 说明了农业机械化在全国已经普及
B. 反映了农业社会主义改造顺利完成
C. 体现了崇尚劳动的社会主义新风尚
D. 适应了社会主义建设总路线的需要
11. 雅典城邦戏剧开演前,为国牺牲公民的子女被请上舞台,城邦事务发言人会当众宣布他们可以在成年以前得到城邦抚恤金,然后这些遗孤又被请到剧场里的荣誉座席。有时雅典公民还能看到在舞台中央展示的同盟各邦上缴的贡赋。这些做法旨在
- A. 保障各个阶层的权利
B. 促进人文思想的传播
C. 培养公民的参政意识
D. 增强城邦内部凝聚力

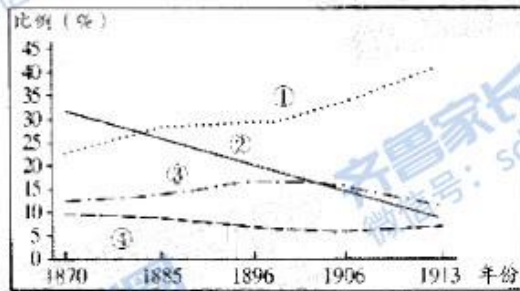
高三历史 第3页(共8页)

12. 图3为13世纪阿拉伯手抄本插图,插图描绘了希腊哲学家亚里士多德向学生传授星盘知识的场景。这体现了



图3

- A. 东西方文化的碰撞冲突
B. 民间交往是文明交流的主要途径
C. 阿拉伯文化的兼容并蓄
D. 古希腊天文知识在民间得到普及
13. “麦哲伦的环球航行不仅以无可辩驳的事实证明了地圆学说的科学性,而且还直接驳斥了教会有关地球的各种谬论,使教会思想体系在数十年内一直处于混乱之中。”这说明麦哲伦环球航行
- A. 直接催生了近代自然科学
B. 冲击了教会神学统治基础
C. 使人们开始关注现实世界
D. 动摇了欧洲人的宗教信仰
14. 1701年,英国议会通过《王位继承法》,其中规定:法官在正当执行职务期间,有权获得确定的薪金和报酬,法官任职终身制,只有在上、下议院同时在法律规定的情况下才能撤销其职务。这一规定说明英国
- A. 议会可以借助立法干预司法
B. 权力中心开始向议会转移
C. 司法审判注重维护程序正义
D. 以法律手段完善司法独立
15. 图4为1870年—1913年英、美、法、德四国在世界工业生产中所占比例的曲线图。其中代表德国的是



——据英[B.R. 索切尔《世界历史统计》

图4

- A. ①
B. ②
C. ③
D. ④

二、非选择题：本大题共4小题，第16题12分，第17题15分，第18题14分，第19题14分，共55分。

16. (12分) 阅读材料，回答问题。

材料一 卫所是明朝主要的军事制度，明朝建国之初，在军队编制上，自京师至地方皆立卫、所。……卫军寓兵于农，屯屯结合，军户世袭。明中期以后，国家承平渐久，卫所屯政日弛，其屯田多为内监军官占夺，法尽坏。……顺治初年，清朝统治者对明代卫所制度进行了改造和调整，顺治、康熙与雍正之后，屯卫之兵，屡经裁汰，卫所亦多归并于州县。与此同时，卫官大量裁汰，屯丁改为民籍，屯田按民地起科。……宣统三年，天下卫所始尽裁矣。至此，卫所制度彻底消失，化作历史陈迹。

——摘编自杨展宇《清代卫所裁并总论》

材料二 “凡直省形胜要地，以次分遣八旗兵驻守，其绿旗官兵复随都邑之大小远近，列汛分营”，同时在相当长的时间里，基本上没有边患，整个国家的军事战略中心呈内向型，其兵力布置亦是偏重于内地，所以不再“寄（卫所）以防守之责”。

——摘编自朱海冬《清朝文苑述考》

依据材料并结合所学知识，指出明清卫所演变的趋势并分析原因。(12分)

17. (15分) 鸦片战争前，中国对外茶叶贸易长期处于优势地位；鸦片战争后，中国对外茶叶贸易日渐衰落。某历史研究小组要探讨“近代中国茶叶对外贸易衰落的原因”这一问题，搜集了以下材料。阅读材料，回答问题。

材料一 1866—1893年中国和印度对英国茶叶出口总量示意图(单位：万磅)

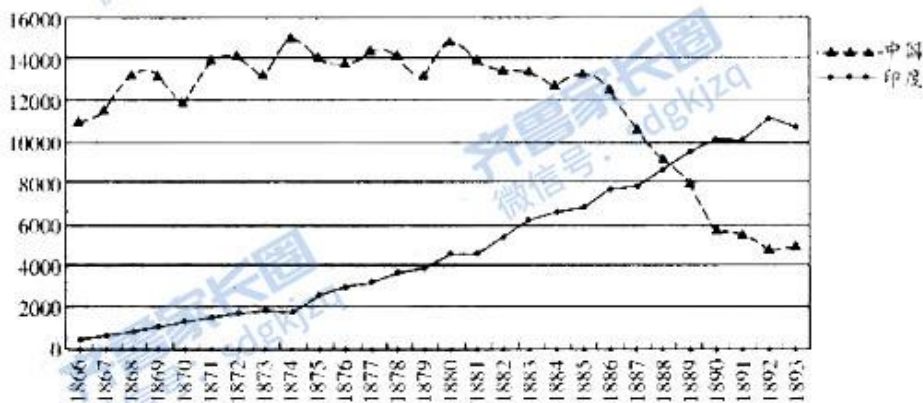


图5

材料二 至于武夷北苑，夙著茶名，饥不可食，寒不可衣，末业所存，易荒本务。自各国通商之初，番舶云集，商民偶沾其利，遂至争相摹效，满山遍野，愈种愈多……邇近年以来，外洋印度等处产茶日多，行销日滞，富商大贾，历次亏折，裹足不前。在山茶有经年未曾开采者，而乡僻愚民，犹复割壤搜崖，种植不已，等良田于硗确，置耕织为缓图，逆料数年后，工本徒抛，衣食无出，势将坐困……现在种茶之区，市疲山败，民心颇知改悔，乘势利导，董劝并施，尤属刻不容缓。

——摘编自卡宝第（晚清官员）《抚福建藩司廷建邵道》

材料三 中国茶叶完全以手工制造，数百年后，茶叶精制方法传至爪哇、印度、锡兰等地，中国之制造方法，即为各该处最先采用者。但西方人与墨守旧法之中国人之素性不同，故最初由中国传入之手揉、锅炒等方法已改为今日用萎凋机、揉捻机、解块机、水门汀发酵地板、玻璃发酵台、烘茶机、切茶机、拣选机、筛分机及装箱机之现代化茶厂矣。

——摘编自〔英〕威廉·乌克斯《茶叶全书》

(1) 材料一对于研究这一问题有何价值？(2分)

(2) 材料二、三从哪些方面深化了对该问题的认识？(6分)

(3) 要研究这一问题还需要从哪些角度补充材料？(5分)

(4) 综上所述，近代中国茶叶贸易兴衰带来哪些启示？(2分)

18. (14分) 邮票作为“国家名片”，在方寸之间展示着一个国家、一个时代的形象、风貌和精神。阅读材料，回答问题。

材料 为庆祝中国共产党成立100周年，中国邮政于2021年7月1日发行《中国共产党成立100周年》纪念邮票1套20枚。每一枚邮票都有一个主题以及若干表现元素，20枚邮票浓缩了百年来党的重大历史事件以及伟大成就。



图6

根据材料并结合所学知识，从中任选一枚邮票，解说建党百年纪念邮票的设计理念。(14分)

(要求：表述成文，史论结合，阐明各元素与主题之间的逻辑关系。)

19. (14分) 阅读材料, 回答问题。

材料 政治、法律、哲学、宗教、文学、艺术等等的发展是以经济发展为基础的, 但是, 它们又都互相作用并对经济基础发生作用……在这些现实关系中, 经济关系不管受到其他关系——政治的和意识形态的——多大影响, 归根到底还是具有决定意义的, 它构成一条贯穿始终的、唯一有助于理解的红线。

——摘编自《马克思恩格斯选集》第四卷

提取材料中的观点, 并结合世界近代史的相关史实举例说明。(14分)

齐鲁家长圈
微信号: sdgkjzq

齐鲁家长圈
微信号: sdgkjzq

齐鲁家长圈
微信号: sdgkjzq

齐鲁家长圈
微信号: sdgkjzq

齐鲁家长圈
微信号: sdgkjzq

高三历史参考答案及评分说明

2021.11

一、选择题：本大题共 15 小题，每小题 3 分，共 45 分。在每小题列出的四个选项中，只有一项是符合题目要求的。

1. D 2. C 3. A 4. B 5. A 6. A 7. A 8. C 9. A
10. C 11. D 12. C 13. B 14. D 15. C

二、非选择题：本大题共 4 小题，第 16 题 12 分，第 17 题 15 分，第 18 题 14 分，第 19 题 14 分，共 55 分。

16. (12 分)

趋势：卫所不断裁撤并入州县，数量不断减少；卫所功能逐渐去军事化。(4 分)

原因：清朝设立八旗，绿营取代了卫所的军事功能；国家统一，疆域扩展，边患减少；经济发展，社会稳定，国家战略的调整；卫所制度的弊端。(8 分)

17. (15 分)

(1) 中国对英国的茶叶贸易受到印度茶叶冲击，中英茶叶贸易呈下降趋势。(2 分)

(2) 清政府的地方官员仍持重农抑商观念；茶农盲目扩大生产，不利于茶叶产业发展；鸦片战争后，中国被卷入资本主义世界市场，沦为列强原料产地和商品市场；中国加工工艺落后；外国茶叶生产采用先进技术。(6 分)

(3) 进出口税率对国际茶叶贸易的影响；政府的政策；交通运输、通讯的影响；英国对国际茶叶市场的操控；政局状况的影响；其他国家茶叶生产及贸易情况等相关角度。(5 分)

(4) 民族独立是产业良性发展的前提；改变不合理的国际贸易秩序；利用先进技术促进产业升级；国家政策的支持。(2 分)

18. (14 分)

示例 1 选择第 1 枚 开天辟地 (2 分)

第 1 枚邮票主要展示了中国共产党成立的重大历史事件。1919 年爆发的五四运动是一场彻底的反帝反封建的爱国运动，促进了马克思主义在中国的传播，促进了马克思主义同工人运动的结合，为中国共产党成立作了思想上和干部上的准备。

随着马克思主义在中国的广泛传播，中国工人运动蓬勃开展，各地相继建立了共产党的早期组织，1921 年中共一大在上海召开。由于法租界巡捕突然搜查，会议转移到浙江嘉兴南湖的游船上进行。中国共产党的成立是一个开天辟地的大事变，像一轮红日从东方冉冉升起，给灾难深重的中国人民带来了光明和希望，从此中国革命的面貌焕然一新了。(12 分)

高三历史答案 第 1 页 (共 2 页)

示例2 选择第9枚 改革春潮 (2分)

第9枚邮票主要展示了改革的历史巨变。1977年国家恢复高考,为日后改革开放和现代化建设培养了人才。1978年11月小岗村18户农户在分田到户的责任状上按下红手印,拉开了中国农村改革的序幕。小岗村“大包干”催生了家庭联产承包责任制,并最终上升为我国农村的基本经营制度,彻底打破“一大二公”的人民公社体制,解放了农村生产力。1978年12月中共十一届三中全会召开,决定停止使用“以阶级斗争为纲”的错误口号,作出把全党工作重点转移到社会主义现代化建设上来,实行改革开放的历史性决策。全会重新确立了党的思想路线、政治路线和组织路线,恢复了党的民主集中制的优良传统。中共十一届三中全会实现了新中国成立以来党和国家历史上具有深远意义的伟大转折,开启了改革开放和社会主义现代化建设新时期。(12分)

19. (14分)

观点:恩格斯认为,经济基础对上层建筑起决定作用,上层建筑对经济基础具有反作用,政治制度、法律、哲学、艺术等上层建筑相互影响。(4分)

说明:西欧中世纪晚期资本主义生产关系的萌芽是文艺复兴产生的根本原因。随着资本主义经济的进一步发展,资产阶级力量逐步壮大,先后掀起了宗教改革和启蒙运动,资本主义政治制度逐渐确立。这说明了经济基础对上层建筑的决定作用。

随着欧洲思想解放运动的推进,人文主义、理性主义等思想不断发展,资本主义制度不断完善,又有力推动了资本主义经济的发展。这说明了上层建筑对经济基础的反作用。

思想解放的深入,也促进了欧洲近代科学兴起;启蒙运动为资本主义制度的建立做了理论准备和舆论宣传,直接推动了美国独立战争和法国大革命,也成为殖民地半殖民地人民争取民族独立的精神武器。这说明了上层建筑之间相互影响。(10分)

评分说明:考生答案不必拘泥于参考答案的文字表述,只要言之有理即可得分,得分不能超过该题赋分。

关于我们

齐鲁家长圈系业内权威、行业领先的自主选拔在线旗下子平台，集聚高考领域权威专家，运营团队均有多年高考特招研究经验，熟知山东新高考及特招政策，专为山东学子服务！聚焦山东新高考，提供新高考资讯、新高考政策解读、志愿填报、综合评价、强基计划、专项计划、双高艺体、选科、生涯规划等政策资讯服务，致力于做您的山东高考百科全书。

第一时间获取山东高考升学资讯，关注**齐鲁家长圈**微信号：**sdgkjzq**。



微信搜一搜

齐鲁家长圈

打开“微信 / 发现 / 搜一搜”搜索