

2023年普通高等学校招生全国统一考试

文科综合能力测试试题卷

(银川一中第二次模拟考试)

注意事项:

1. 答卷前,考生务必将自己的姓名、准考证号填写在答题卡上。
2. 作答时,务必将答案写在答题卡上。写在本试卷及草稿纸上无效。
3. 考试结束后,将本试卷和答题卡一并交回。

一、选择题:本题共35个小题,每小题4分,共140分。在每小题给出的四个选项中,只有一项是符合题目要求的。

随着我国经济发展水平的提高,人口迁移与流动开始增加对非经济因素的关注。地区气温环境可能逐渐成为影响劳动力流入的重要因素之一。据此完成1~2题。

1. 与第二、三产业相比,第一产业的从业人员更多关注气温环境,主要由于
A. 产业收入偏低 B. 户外作业时间长
C. 劳动风险更大 D. 收益依赖自然
2. 迁入一线城市的劳动力对气温关注较小,除去经济因素的影响外,主要是因为
A. 公共服务好 B. 举家迁移为主 C. 总体气候适宜 D. 政策支持

内蒙古巴丹吉林沙漠的东南缘分布着众多湖泊,图1为其中某湖泊一段时间内的水位变化图。据此完成3~4题。

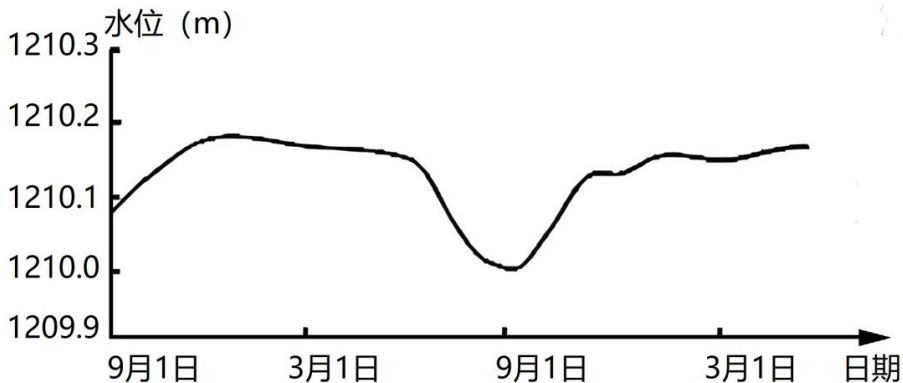


图1

3. 影响图示湖泊水位涨落的主要因素有

- ①降水量 ②冰川融水量 ③蒸发量 ④地下水补给量
 A. ①② B. ②③ C. ③④ D. ①④

4. 该湖泊附近秋季的夜间和清晨露水较多，主要原因有

- ①白天增温快，湖水蒸发旺盛 ②夜晚降温快，地面辐射较弱
 ③白天气温高，水汽上升冷却 ④夜晚气温低，大气逆辐射强
 A. ①② B. ②③ C. ③④ D. ①④

虚拟电厂并不是真实存在的电厂，是指利用软件系统参与电网的运行和调度的智能电网技术。虚拟电厂平台可直接调度分散分布的发电装置、储能系统、电动车充电站等的电能，使电力资源再分配，实现削峰填谷。图2示意中国东部某城市“冬、夏季风电与光伏发电量日变化预测”。据此完成5~6题。

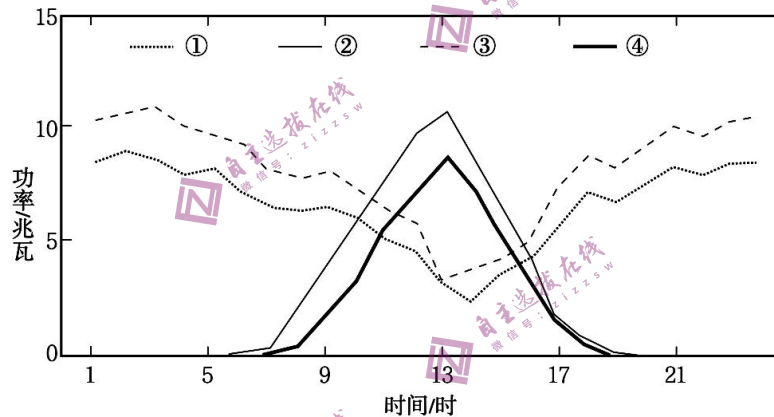


图2

5. 图中的曲线②代表

- A. 夏季日风电 B. 夏季日光伏
 C. 冬季日风电 D. 冬季日光伏

6. 下列地点在夏季用电高峰期参与虚拟电厂调度响应合理的是

- A. 地铁适当调低空调的温度
 B. 汽车充电站提高其充电功率
 C. 机械厂开足马力全力运行
 D. 企业储能设备放电返充电网

图3中甲为某市制造业、服务业空间分布模式图，图乙为2000年、2020年该市制造业就业人口密度与服务业就业人口密度比值(R值)的空间分布图。据此完成7~8题。

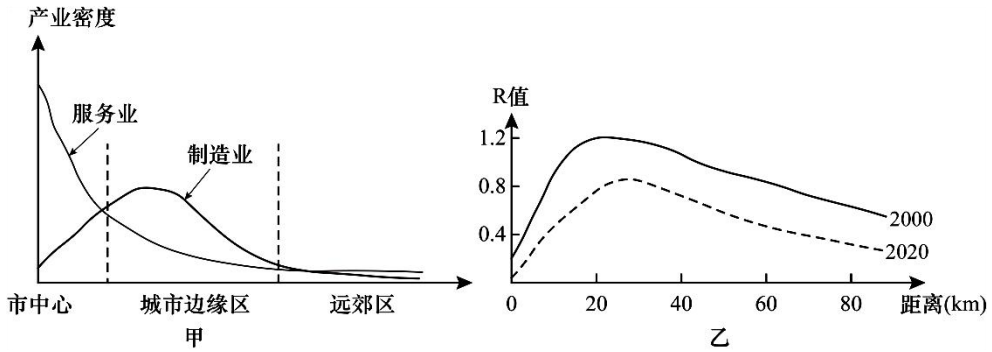


图 3

7. 在城市边缘区制造业密度明显大于服务业，原因是制造业
- ①用地规模大 ②环境污染重 ③交通运量大 ④距原料地近
- A. ①②③ B. ②③④ C. ①②④ D. ①③④
8. 从 2000 年到 2020 年 R 值的变化表明该市
- A. 城市规模稳定 B. 制造业在衰落 C. 产业结构优化 D. 就业结构失衡

树木死亡后遗留下的枯立木、倒木、根桩等统称为粗木质残体，其通过涵养水源、释放养分，在森林生态系统中发挥着不可替代的生态作用。老秃顶子山为辽宁省最高峰，发育第四纪冰期冻融形成的石海、石河等冰缘地貌，土壤覆盖率较低。图 4 示意老秃顶子山不同海拔自然带粗木质残体的吸水速率随浸泡时间的变化。据此完成 9~11 题。

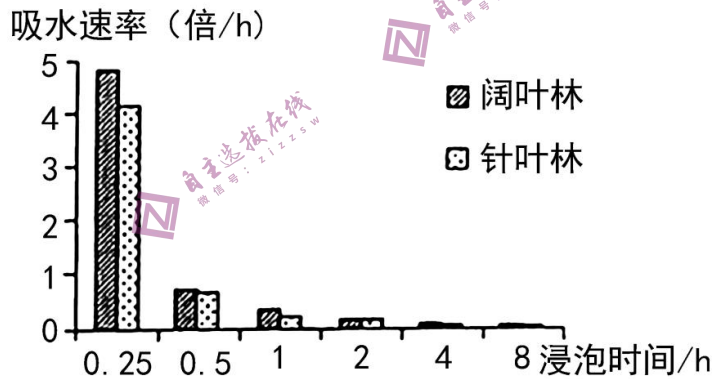


图 4

9. 与针叶树相比，阔叶树粗木质残体
- A. 缝隙较少 B. 木质呼吸较慢
- C. 木质较软 D. 残体分解较慢
10. 对老秃顶子山当地植物生长影响最大的是粗木质残体能够较好吸收
- A. 春季积雪融水 B. 夏季暴雨
- C. 秋季坡面径流 D. 冬季地下水

11. 老秃顶子山高海拔地区粗木质残体水文生态价值较高，可能是由于高海拔地区
- A. 粗木质残体吸水速率快 B. 植被覆盖率较高
C. 粗木质残体吸水时间长 D. 水源涵养需求较大
12. 2022 年底中央经济工作会议指出民营经济在扩大就业、改善民生、促进创业创新方面承担着重要角色，是促进经济增长，实现经济稳定运行的重要力量。国家促进民营经济高质量发展是基于
- ①民营经济在国民经济中的地位得到不断提升
②非公有制经济是我国社会主义市场经济的重要组成部分
③民营经济是中国特色社会主义的重要物质基础
④民营经济是推动我国经济社会发展的重要力量
- A. ①② B. ①③ C. ②④ D. ③④
13. 国务院 2023 年《政府工作报告》指出，政府投资和政策激励要有效带动全社会投资，今年拟安排地方政府专项债券 3.8 万亿元，加快实施“十四五”重大工程，实施城市更新行动……鼓励和吸引更多民间资本参与国家重大工程和补短板项目建设。上述举措意在
- ①促进财政收支平衡 ②扩大资本市场规模
③推动经济平稳发展 ④着力扩大国内需求
- A. ①② B. ①④ C. ②③ D. ③④
14. 针对人口老龄化现象，某市采取政策支持、资金扶持、服务加持等一系列措施，计划在 2023 年培育“品质养老”社区 383 个、村（屯）453 个；政府购买居家养老服务扩大到 500 个社区；打造老年人助餐点 300 个……这些做法
- ①综合运用计划和市场手段，有利于完善高品质养老服务体系
②需要以当地经济实力做为基础，以社会主义本质要求为方向
③顺应了人民群众对美好生活的向往，不断完善养老保险事业
④贯彻了共享发展理念，进一步提高了社会保障体系的覆盖面
- A. ①② B. ①③ C. ②④ D. ③④

15. 2022 年我国部分进出口商品总额如下表(数据来自海关总署)。

表 1

商品名称	进口		出口	
	金额(亿元)	同比增速(%)	金额(亿元)	同比增速(%)
农产品	15746	10.8	6560	20.4
机电产品	69660	-5.4	136973	7.0
高新技术产品	50864	-6.0	63391	0.3
电动载人汽车	510	3.1	16,36	133.2

注：2022 年全年货物进出口总额 420678 亿元，比上年增长 7.7%。其中，出口 239654 亿元，进口 181024 亿元。

材料表明我国

- ①对外货物贸易中顺差不断扩大，对外贸易的韧性增强
- ②开放型经济水平不断提高，商品的竞争力和受欢迎程度不断增强
- ③外贸发展势头良好，“引进来”和“走出去”相结合战略得到落实
- ④工业制成品出口总额在出口总额中占绝对优势，对外出口贸易结构不断优化

A. ①③ B. ①④ C. ②③ D. ②④

16. 某市加快“数字政府”工程建设，在政府公共服务场所设立政务公开专区，专门提供政府信息查询、信息公开申请、办事咨询答复、政策文件解读等服务；增添了政务服务“好差评”功能，并与 12345 热线对接，形成评价、整改、反馈、监督全流程衔接的政务服务评价体系。上述举措

- ①能增强政府工作人员的责任意识 ②促进了政府简政放权切实落到实处
- ③完善了政府决策的智力支持系统 ④坚持政府主导与社会参与有机结合

A. ①③ B. ①④ C. ②③ D. ②④

17. 中共二十届二中全会审议通过了《党和国家机构改革方案》，会后举行民主协商会，就该方案向各民主党派中央、全国工商联和无党派人士代表通报情况，听取意见，并把《党和国家机构改革方案》的部分内容按照法定程序提交十四届全国人大一次会议审议。2023 年 3 月 10 日，十四届全国人大一次会议审议通过国务院机构改革方案。这表明

- ①中国共产党坚持民主执政，将反映人民利益的主张通过法定程序转化为国家意志

- ②全国人大是最高国家权力机关，通过代议的方式对国家重大事务行使最高决定权
- ③全国政协充分发挥政治协商和参政议政的职能，就机构改革方案充分发表意见
- ④民主集中制是我国政治制度的核心机制，是将民主与集中有机统一的有效形式

A. ①② B. ①③ C. ②④ D. ③④

18. 近年来，国际社会对调解的需求增加，但缺乏专门进行调解的政府间国际组织。2023年2月，国际调解院筹备办公室在香港举行成立仪式。国际调解院是由中国发起牵头、多个友好国家参与，在平等相处的基础上成立的一个国家间调解矛盾、避免冲突的新组织。成立国际调解院

- ①回应了国际社会对和平安全、公平正义、合作共赢的强烈诉求
- ②体现了中国始终做世界和平的建设者和国际秩序的维护者
- ③是基于国际组织能以更中立的方式解决争端，得到各国普遍认同
- ④彰显了中国文化软实力随经济、政治影响力的增强而不断增强

A. ①② B. ①④ C. ②③ D. ③④

19. 2023年是毛泽东等老一辈革命家为雷锋同志题词60周年。雷锋的一生一直践行着“要把有限的生命投入到无限的为人民服务之中去……”的精神追求，他用年轻的生命回答了“怎样做人，为谁活着”的人生之问。无论时代如何变迁，雷锋精神之所以永不过时是因为雷锋精神

- ①集中体现了中华民族的精神特征和共同的价值追求
- ②涵养着中华民族共同的价值观，是中华优秀传统文化
- ③同中华民族长期形成的特质禀赋和文化基因一脉相承
- ④所代表的德性实践可以成为时代性、群体性的心灵依托

A. ①② B. ①③ C. ②④ D. ③④

20. 2022年11月29日，“中国传统制茶技艺及其相关习俗”列入联合国教科文组织人类非物质文化遗产代表作名录，此次申遗有关茶园管理、茶叶采摘、茶的手工制作以及茶的饮用和分享的知识、技艺、实践等，涵盖绿茶、红茶、乌龙茶、白茶、黑茶、黄茶、再加工茶等传统制茶技艺，堪称我国历次人类非遗申报项目中的“体量之最”，有助于更多的人以茶会友，架起各国沟通交流的桥梁，在世界各地掀起中国文化的热潮。这说明

- ①茶文化是中华民族历史文化的长期积淀
- ②茶文化彰显中华文化独特的魅力和价值
- ③人们在社会实践中创造与享用文化
- ④通过交流互鉴促进各国对茶文化的认同

A. ①② B. ①④ C. ②③ D. ③④

21. ChatGPT 是美国某公司研发的智能聊天机器人程序，它能够根据聊天的上下文进行互动对话，甚至能代写教授级论文。有专家指出，获得这些功能主要是依靠对聊天机器人算法模型(NLP)的训练，通过不断给它喂数据并在训练过程中不断地修正 NLP 的参数，让它成长起来，变得更加智能。对此认识正确的是

- ①成功研发智能聊天机器人说明意识将理想的存在变为现实的存在
- ②人机互动对话表明人工智能能够对人的意识活动进行模拟和“学习”
- ③人工智能代写论文说明其执行指令的同时探求任务本身的内在逻辑
- ④给人工智能喂数据并修正参数表明具有“人化”特点的联系是客观的

A. ①② B. ①③ C. ②④ D. ③④

22. 2022 年 8 月，国家语言文字工作委员会重点项目《现代汉语规范词典》完成新一轮修订，“共享经济”“弯道超车”“顶层设计”“申遗”“碳达峰”“碳中和”……这些近年来常见的词语，被收入新修订的《现代汉语规范词典》，记录着时代的发展。这表明

- ①社会意识与社会存在总是同步变化
- ②社会意识的内容都来源于社会存在
- ③社会意识推动着社会存在的发展
- ④任何社会意识都是对社会存在的反映

A. ①② B. ①③ C. ②④ D. ③④

23. 漫画（图 5）给我们的哲学启示有

- ①要坚持两点论与重点论相结合
- ②成功与失败相互依赖、相互贯通
- ③量的积累必然导致事物质的发生
- ④要承认矛盾，正确认识失败的两面性

A. ①② B. ①③ C. ②④ D. ③④



《失败是成功的阶梯》

图 5

24. 孔子曾说，“鸟兽不可与同群，吾非斯人之徒与而谁与”；孟子也说，“士穷不失义，达不离道”；明清之际顾炎武提出，“保国者，其君其臣，肉食者谋之；保天下者，匹夫之贱与有责焉耳矣。”以上儒家学者的言论

- A. 强调个人对社会的责任意识
- B. 意在要求统治阶级实行“仁政”
- C. 是对程朱理学的继承和发展
- D. 反映了社会转型期的民众诉求

30. 中国传统木版画基本手法是线描，根据地民间画家吴劳创作于 1942 年的《民兵》（图 6）就是单线条木版画，简单勾画了四个走在田间的民兵，远处有大部队在前进。



图 6

该作品反映了

- A. 人民群众成长为抗战主力
B. 中国传统绘画世俗化趋势
C. 艺术创作根植于社会生活
D. 艺术之美服务于统一战线
31. “投机倒把罪”原意指看准时机行情，转手倒卖，以攫取暴利的非法活动。现代中国史上的投机倒把，针对小商小贩，甚至一般私营工商业。在建国初兴起，罪名一度加重，随着改革开放逐步退出历史舞台。比如改革之初，关于“长途贩运”，经济学家薛暮桥就质问：“让山货土产烂在山上是‘社会主义’，把它们运出来满足城市人民需要倒是‘资本主义’，哪有这样的道理？”该罪名
- A. 在中国当代史上长期推动经济进步
B. 初期针对新民主主义革命打击对象
C. 被否定是改革城市经济体制的需要
D. 兴衰历程反映了我国经济体制变迁
32. 在举办公共节日时，由雅典执政官们指定的赞助人为赢得在民众中的荣誉和声望，往往不惜花费巨资，这一举动也会让他们日后万一走上法庭时，也能以“公益捐助”当作对城邦贡献的有力证据，从而获得雅典人的宽容和支持。这反映出，雅典
- A. 城邦民主制存在弊端
B. 重视公民公共道德塑造
C. 缺少严格的司法程序
D. 人文精神影响政治生活
33. 1549 年 6 月，都铎王朝中期的凯特起义是英国历史上规模和影响最大的农民起义之一。起义的贫苦阶层提出：“拆毁栅栏，填平沟渠，让每个人都有使用公社牧场的机会，希望自由、平等和同样使用一切物品。”这表明凯特起义
- A. 反对圈地运动掠夺
B. 深受启蒙思想启迪
C. 要求争取议会权利
D. 具有社会主义性质

34. “制度因有均衡而存在，也会因打破均衡而消亡”，欧美国家的政体自诩为“均衡政治”，但英国首相被认为是“首相民主”，美国总统被称为“皇帝般的总统”。据此可知

- A. 欧美代议制渐趋衰落
- B. “首相民主”反映民选首相的机制
- C. 行政权已超越立法权
- D. 西方民主运行机制在发展中调整

35. 表 2

	1950 年	1971 年	1972 年
资本主义世界	100%	100%	100%
美国	31.20%	9.70%	7.60%
日本	3.20%	12.40%	12.30%
西欧共同体各国	26.50%	30.00%	29.60%

表 2 为 1950—1972 各国黄金储备比重变化表。这一变化

- A. 提升了欧元的货币地位
- B. 加速了原有货币体系的解体
- C. 缓和了美欧的贸易竞争
- D. 导致了美国霸权地位的丧失

二、非选择题：共 160 分。第 36~42 题为必考题，每个试题考生都必须作答。第 43~47 题为选考题，考生根据要求作答。

(一) 必考题：共 135 分。

36. 阅读图文资料，完成下列要求。(22 分)

石嘴山市位于宁夏最北端，该城因煤而建、依煤而兴，是宁夏第二大城市，也是宁夏工业的摇篮，煤炭工业是其主导产业，曾产出过宁夏的第一吨煤、第一度电，涉煤产业比重一度高达 90%。随着煤炭资源的逐渐枯竭，该市经济增长乏力，下岗职工大量增加。图 7 为资源型城市生命周期示意图。

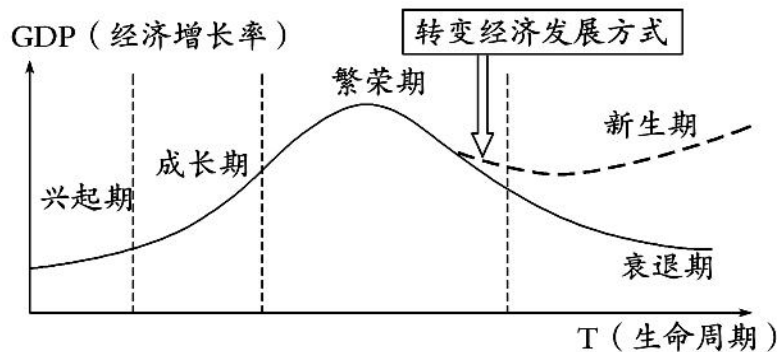


图 7

作为资源型城市，石嘴山市曾经采用过以资源消耗为代价的发展模式，造成地表塌陷、

污水横流、经济效益低下的结果。石嘴山市对严重污染的所有企业进行了集中整治：先后停产搬迁了180多家污染企业，坚决淘汰了一大批装备落后、能耗高的企业。

近年来，石嘴山市大武口区把凉皮确定为区域优势特色产业，大武口区将按照“小凉皮、大产业”的发展思路，提升大武口凉皮品牌核心竞争力。

- (1) 试分析石嘴山煤炭资源的开发对当地产生的影响。(8分)
- (2) 针对石嘴山煤炭资源枯竭带来的问题，请你提出该市转型发展的方向。(8分)
- (3) 请你为提升大武口凉皮产业核心竞争力建言献策。(6分)

37. 阅读图文材料，完成下列要求。(24分)

北京市房山有完整的地表与地下喀斯特地貌景观，是中国北方半干旱与半湿润气候区喀斯特地貌的典型代表。这里褶皱及断裂构造均不发育，石灰岩层中含有多层带非溶性物质，地表喀斯特地貌形态完整性好，棱角分明、壁立千仞(如图8)，与南方喀斯特景观不同。区域内地下溶洞星罗棋布，其中石花洞在地壳多次变动过程中，从地表往下形成七层洞层。石花洞附近的周口店溶洞群曾是古人类的“家”，“北京人遗址”即位于此。图9示意石花洞洞层体系，表3为周口店和石花洞溶洞群资料。



图8

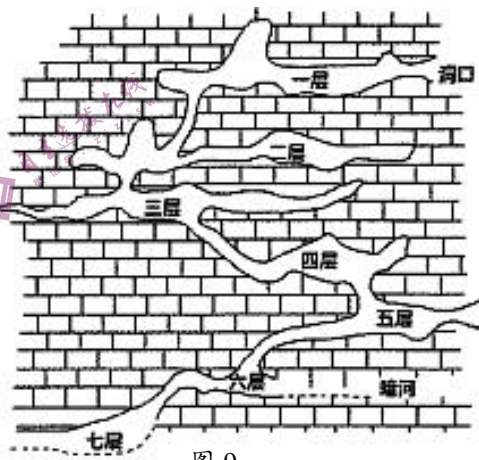


图9

表3

	洞体埋深	洞深	洞口情况	距河流和平原
周口店溶洞群	<5~10米	10~100米	洞口出露，口外开阔	<500米
石花洞溶洞群	>10米	200~5000米	洞口小而隐蔽口外狭窄	>1000米

- (1) 从地质条件与气候的角度分析房山地区地表喀斯特地貌形态的成因。(8分)
- (2) 说出石花洞多层洞层的形成过程。(10分)
- (3) 与石花洞相比，分析周口店溶洞群成为古人类居住地的主要原因。(6分)

38. 阅读材料，完成下列要求。（14分）

材料一

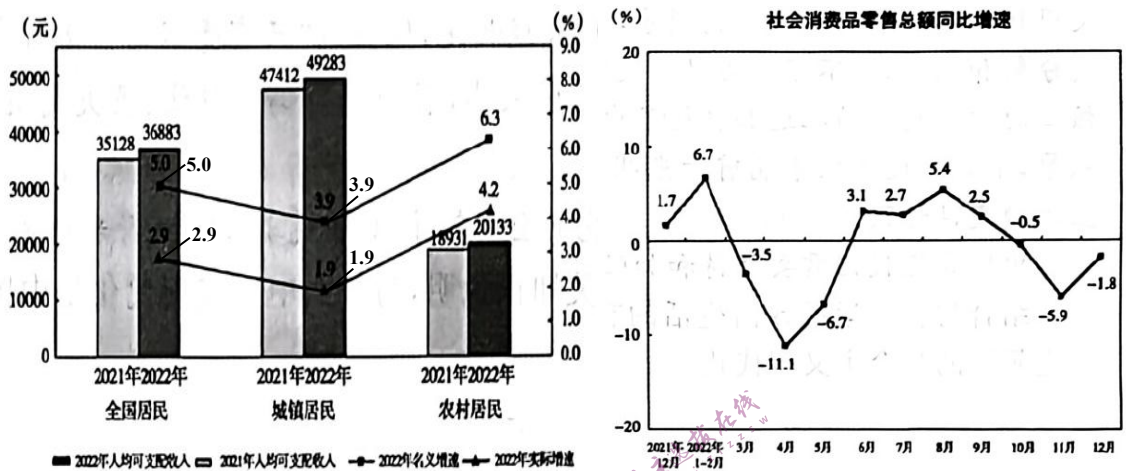


图 10 2022 年全国及城乡居民人均可支配收入与增速

图 11 社会消费品零售总额同比增速

注：实际增速是一种扣除物价因素影响之后的增长幅度。

材料二

2023 年 1 月 28 日召开的国务院常务会议提出“乘势推动消费加快恢复成为经济主拉动力”，并从多方面部署系列举措进一步促进消费回升。

我国推出稳经济一揽子政策和接续措施，突出稳经济大盘稳就业，为后续消费持续恢复提供了坚实基础。连日来，各地也频频亮出实招：新疆开展汽车消费补贴活动、汽车下乡专项行动等，上海明确实施绿色智能家电消费补贴；陕西提出积极培育运动、康养、托育等消费新热点；老字号打造新国潮，不断焕新消费体验，持续探索打造新的消费场景；实体商业加速“触网”“上云”，积极开拓线上市场，新业态不断涌现；完善县域物流基础设施，畅通农产品上行与工业品下行渠道，提高农产品流通效率……多措并举促进内需潜力释放，有效促进消费扩容提质。

(1) 结合材料一，解读图表信息。（4分）

(2) 结合材料并运用经济生活知识，说明如何乘势推动消费加快恢复成为经济主拉动力。（10分）

39. 阅读材料，完成下列要求。（12分）

乡村治理是国家治理的基石，是乡村振兴的重要内容和重要保障。近年来，某村积极创新乡村治理方式，构建了乡村治理新格局。

表 4

坚持民事民议以自治激发活力	搭建“说事议事”平台，让群众参与到环境卫生、产业发展、公共设施等的决策中来，“议”重点大事、热点难事、民生小事，“议”他们的操心事、烦心事、揪心事，激活基层社会治理“神经末梢”。在环境综合整治过程中，村两委和驻村工作队发挥“领头羊”作用，用实际行动为群众做表率
坚持民事民办以德治春风化雨	村级层面，成立新风公益基金，募集资金用于帮扶急需救助的困难群众、奖励孝老爱亲的道德先锋和亲善邻里的文明榜样，弘扬新风尚，传播正能量。广大群众见贤思齐、受益群众达 2.3 万人，发挥了新风公益基金“四两拨千斤”的作用
坚持民事民管以法治定分止争	发挥民事民管在社会治理中的预防、化解和宣教功能，以党建为统领，将党的活动阵地、网格员队伍、群众工作方法充分融合，探索推广“三个一”（建好一间调解室、选好一名调解员、用好一套工作方法）法治矛盾纠纷调解模式，筑起了维护社会和谐稳定的第一道防线

结合材料，运用政治生活知识，探寻该村构建乡村治理新格局的密码。（12分）

40. 阅读材料，完成下列要求。（26分）

兔年春节，不仅烟火气的回归，也让中国人民更加感受到了家国情怀在现代与传统的融合中体验生活之美。

材料一

从保障好群众的就医用药需求，到关心困难群众生产生活，从丰富物质和文化产品供应，到做好春运出行工作，正是国家的政策保障，为无数人的春节出行、无数家庭的春节团圆提供了最为坚实的支撑。而春节团圆之时，家风家教得以春风化雨、赓续传承，每一个家庭、每一个人的身上向好构成了国家欣欣向荣的基石。这种家国同心、家国一体的力量为新时代中国发展注入了源源不断的活力。

材料二

兔年春节期间，汉服成为年轻人延续过年“仪式感”的新选择。身着古法工艺织就的汉服，拉满新春喜乐的氛图，成为年轻人文化自信的表达。

线下过大年的同时，线上也有了游戏里的“春节档”。皮影戏、传统舞狮、木版年画刻印、戏曲表演等城乡市集中喜闻乐见的文化符号，进入了游戏的画面。挂满中华风物的传统的非造技艺也滋润着数字世界的网民，带给他们欢腾。兔年春节，传统文化让人们的生活美出新意。

(1) 家国同心、家国一体形成一种力量，为新时代的中国发展注入活力。运用整体和部分关系的知识并结合材料一，分析家国同心、家国一体是如何形成力量的。（12分）

(2) 结合材料二并运用文化传承与创新的知识，说明传统文化为什么能影响今天人们的生活。（10分）

(3) 瑞兔送福迎春，带给人们满满的祝福。请列举两种与兔有关的具体传统文化现象。（4分）

41. 阅读材料，完成下列要求。（25分）

材料一

1820年，英国工业生产总额占世界的50%，以后虽因美国、法国和德国的兴起而比重有所下降，但直到19世纪后半叶英国仍处于世界工业、贸易、金融和海运中心的地位。1825年，英国废除了机器出口禁令。1851年，英国在伦敦举办了世界上第一个工业博览会，向世界展示了大量的新产品和新技术。从此，英国向各国提供各种机器设备，承包许多国家的铁路建设，并借贷给各国政府和私人，用来购置英国的机器和工业品。1870年，英国工业制造占世界的32%，采煤量占世界的51.5%，生铁产量占世界的25%，对世界经济的发展起到了积极的推动作用。

——摘编自池元吉《世界经济概论》

材料二

党的十八大以来，党中央、国务院高度重视制造业的发展。2012年到2020年，我国制造业占全球比重由22.5%提高到近30%，是世界上工业体系最为健全的国家。500种主要工业品中，超过四成产品的产量位居世界第一；最新发布的世界500强企业榜单中，我国工业领域企业有73家入围。中国制造在全球产业链、供应链的影响力持续攀升，通信设备、工程机械、高铁等一大批高端品牌走向全球，光伏、新能源汽车、家电、智能手机、消费级无人机等重点产业跻身世界前列，制造业大国地位更加稳固。

——摘编自张辛欣《制造强国筑牢发展根基》

(1) 根据材料一并结合所学知识，概括英国制造业发展的经济因素，并说明其影响。

(12分)

(2) 根据材料并结合所学知识，分析中英两国制造业发展的共同之处。（8分）

(3) 根据材料并结合所学知识，谈谈对大国制造业的认识。（5分）

42. 阅读材料，完成下列要求。（12分）

材料

所谓大历史观，指的是从一个比较长的历史时段来认识和分析问题，包括古今中外的历史维度。马克思主义唯物史观就是这样一种大历史观。准确把握中国共产党百年奋斗历史定位和时代坐标，就要以唯物史观为指导，运用大历史观，树立正确党史观，从中国近代以来180多年斗争史、中华民族5000多年发展史、世界社会主义500多年探索史和人类社会文明史的长河中予以科学定位，从而更好地把握历史大势，掌握历史主动，增强历史自信，继续书写新时代更加绚丽的华章。

——摘编自王树荫 王君《以大历史观审视中国共产党百年奋斗历史定位》

上述材料以大历史观为指导，从四个维度审视中国共产党百年奋斗史。据此，结合所学知识，就材料中任意一个维度，拟定一个论题，并予以阐述。（要求：选出维度，明确论题，持论有据，论证充分，表达清晰。）

(二) 选考题：共 25 分。请考生从给出的 2 道地理题、3 道历史题中每科任选一题作答。

如果多做，则每科按所做的第一题计分。

43. [地理——选修 3：旅游地理] (10 分)

梵净山位于贵州省铜仁市中部，海拔 500-2570 米，是喀斯特地貌中的变质岩孤岛，武陵山脉主峰，生态环境优美。梵净山天气复杂多变，一方面可形成佛光、云瀑等奇特气象景观，另一方面又影响旅游舒适度，当出现灾害性天气时，可能会威胁游客生命安全。表 5 为 2011-2021 年梵净山各月平均舒适日数(天)。

表 5

月份	1	2	3	4	5	6	7	8	9	10	11	12
舒适日数	0	0	2.5	2.3	14	24	26	27	20	5	0.3	0

指出 2011-2021 年梵净山旅游平均舒适日数的季节分布特征，并为该景区减少灾害性天气对游客造成的威胁提出合理建议。(10 分)

44. [地理——选修 6：环境保护] (10 分)

图 12 为 2018 年中国南方某城市及北方某城市的生活垃圾成分构成表

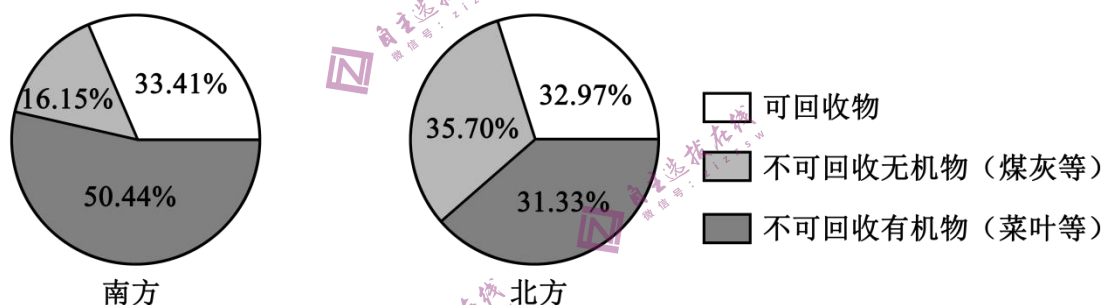


图 12

比较两城市生活垃圾的构成，并从气候角度分析其原因。(10 分)

45. [历史——选修 1：历史上重大改革回眸] (15 分)

材料

德川幕府时期，日本实行严格的世袭身份制度。为了破除陋习，使所有人都能“各遂其志”和“大展经纶”，明治政府决定废除旧的等级身份制度。1869 年，随着废藩置县的推进，废除了前藩主和旧朝廷贵族的封号，改称“华族”，原来的武士阶层改称“士族”，农工商及贱民一律称为“平民”。在随后的几年里，新政权逐步削弱华族和士族的封建特权，放开各阶层迁徙、通婚、职业选择等自由。身份制改革后，长期处于被压抑地位的平民成为新社会建设和发展的主体，日本也理论上成为一个平等国家。但是面对武士不满改革挑起叛乱、民权运动涌动等局面，明治政府仍保留华族作为“皇室藩屏”，直到二战以后，才彻底取消

了华族特权。

——据[美]詹姆斯·L·麦克莱恩《日本史（1600—2000）》等

(1) 根据材料并结合所学知识，概括近代日本身份制度改革背景。（7分）

(2) 根据材料并结合所学知识，简评近代日本身份制度改革。（8分）

46. [历史——选修3：20世纪的战争与和平]（15分）

材料

面对国民党在中国大陆的失败定局，1948年12月，美国总统杜鲁门决定，如果中国的任何地区被中国共产党控制，经济合作署应立即停止向该地区提供援助物资。他们想尽可能加剧中国共产党即将面临的经济困难。几乎同一时间，英国政府提出，英国人会留在中国，而且不拒绝与中国共产党建立事实上的关系，以便探讨继续与中国贸易的可能性。美英之间出现这一分歧毫不奇怪，英国在华商业投资比美国多，又是以对外贸易立国的国家，而他治理下的香港还是西方对华贸易的重要转运港口。再者，中国内战期间，国力渐衰的英国已经无力按照自己的好恶干涉国共斗争。英国政府对国共双方基本采取“听之任之”的“中立”态度，没有像美国那样，因为积极地扶蒋反共而深深“陷入中国事务的泥潭”无法自拔。

——摘编自郭又新《盟友间的争执——冷战初期美英在对华贸易管制上的分歧》

(1) 根据材料，分别指出美、英两国的对华政策。（4分）

(2) 根据材料并结合所学知识，分析美、英两国对华采取不同政策的原因。（11分）

47. [历史——选修4：中外历史人物评说]（15分）

材料

1918年12月底—1920年3月，梁启超到欧洲进行考察，发表了《欧游心影录》，里面记录了他的震惊：战后惨状使“我们素来认为天经地义、尽善尽美的代议政治，今日竟会从墙角上筑筑摇动起来，他的寿命，竟没有人敢替他保险”。欧洲“科学万能论的梦”的破灭：因为它使“我们人类不惟没有得着幸福，倒反带来许多灾难”，欧洲人“到如今却叫起科学破产来”。他看出：“科学愈昌，工厂愈多，社会偏枯亦愈甚，富者益富，贫者益贫”，“社会革命，恐怕是20世纪史唯一的特色”。他发现他所崇拜的泰西思想界，“正在那里横冲直撞寻觅曙光，许多先觉之士，正想把中国、印度文明输入，图个东西调和”。而“这种大业，只怕要靠我们才得完成哩”！最终“图个心物调和”。

——摘编自《陈旭麓文集（第三卷）》

(1) 根据材料并结合所学知识，概括梁启超对欧洲文明反思的时代背景。（9分）

(2) 根据材料并结合所学知识，评价梁启超对欧洲文明的态度。（6分）

