

哈尔滨市第九中学2023届高三第二次高考模拟考试

文科综合试卷

(考试时间：150 分钟 试卷满分：300 分)

本试卷分第I卷（选择题）和第II卷（非选择题），共 45 题，共10页，考试结束后，将本试卷和答题卡一并交回。

- 1.答题前，考生先将自己的姓名、准考证号填写清楚。
- 2.选择题必须使用 2B 铅笔填涂；非选择题必须使用 0.5 毫米黑色字迹的签字笔书写，字体工整，字迹清楚。
- 3.请按照题号顺序在各题目的答题区域内作答，超出答题区域书写的答案无效；在草稿纸、试题卷上答题无效。
- 4.保持卡面清洁，不得折叠，不要弄破、弄皱，不准使用涂改液、刮纸刀。

第I卷（选择题）

一、选择题：本题共 35 小题，每小题 4 分，共 140 分。在每个小题给出的四个选项中，只有一项是符合题目要求的。

飞地经济是通过跨行政区域的共同开发和管理，实现“飞入地”和“飞出地”双方资源互补、合作共赢的一种经济发展模式。传统飞地经济模式主要是发达地区到欠发达地区投资建设工业园区。近年来出现由欠发达地区反向在发达地区设立飞地的创新型反向飞地，从而实现欠发达地区的跨越式发展。图1为传统飞地和创新型反向飞地经济模式示意图。据此完成1-2题。

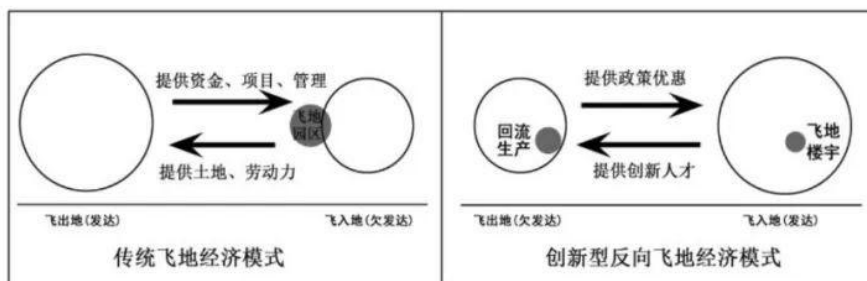


图1

1. 更适合创新型反向飞地经济模式的产业为

- A. 重化工业 B. 生物医药 C. 电子装配 D. 棉麻纺织

2. 与传统飞地相比，设立创新型反向飞地的主要目的是

- A. 扩大园区建设 B. 促进产业转移 C. 加快人才流动 D. 提升研发效率

2023春节档电影中，《满江红》深受观众们的喜爱。电影取景地位于山西太原古县城一处五进庭院（连续的五层四合院），其建筑形成与地理环境关系密切。图2为院落不同结构处的照片和风陵渡的位置。庭院经济是以农村居民庭院及周围闲置用地为空间，进行种植、园艺、养殖、手工等活动的家庭经济模式。据此完成3-5题。



图2

3. 有关该地院落结构及其最主要功能对应正确的是

- ①窄巷—通风降温 ②内坡顶—收集雨水 ③五进—凝内御外 ④布列有序—透光
- A. ①② B. ②③ C. ③④ D. ②④

4. 庭院经济不是“小农生产”，而是小庭院、大市场、新产业。关于该地发展庭院经济的说法，正确的是

- A. 发展方向为以畜牧业为主的产业结构 B. 生产经营方式简单、粗放，产品附加值高
- C. 从事生产人员仅可能为家庭成员 D. 消费对象可以是村落外人员

5. 电影结尾，孙均威胁秦桧给军队下达了“暂缓出发秋凌渡”的命令，据分析“秋凌渡”可能为今山西风陵渡黄河古渡口（渡口指的是道路越过河流以船渡方式衔接两岸交通的地点）。历史

上风陵渡曾为商旅云集的重要渡口，主要原因可能为

- ①该处河道较窄，通航里程短 ②该河段河道稳定，摆动范围小
③河道拐弯处，水速快，节省时间 ④该河段无沙洲、浅滩，河水较深

- A. ①②③ B. ①②④ C. ②③④ D. ①③④

台风是强烈的海—气相互作用现象，对过境海区产生重要影响。台风在其前进过程中，处于移动路径的左、右两侧因风速不同危险程度差别较大，一侧为可航半圆，一侧为危险半圆。图3为某超强台风移动路径及剖面位置示意图，图4示意该台风过境前和过境时剖面M-N的海水温度变化。据此完成6-8题。

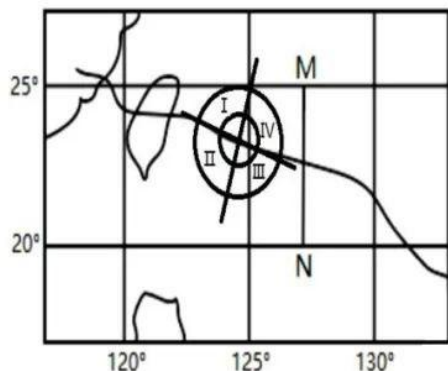


图3 某超强台风移动路径及剖面位置

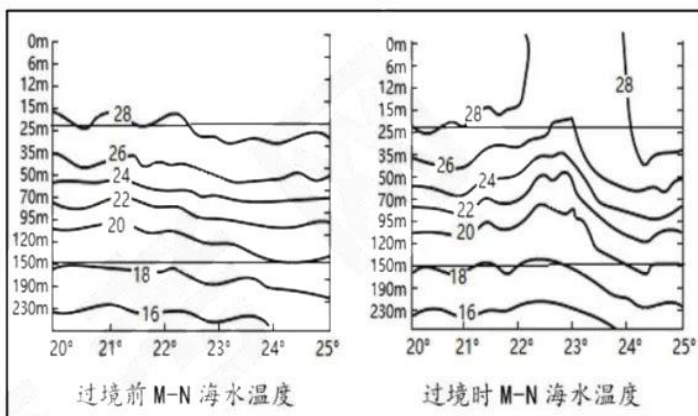


图4

6. 与台风过境前比，M-N海域台风过境时表层水温变化最明显的海区在
- A. 台风路径左侧、台风中心北侧 B. 台风路径左侧、台风中心南侧
C. 台风路径右侧、台风中心北侧 D. 台风路径右侧、台风中心南侧
7. 造成台风可航半圆与危险半圆风力差异的主要因素是
- A. 距离陆地远近 B. 台风移动路径 C. 副热带高压位置 D. 台风生成位置
8. 若船只在图3中台风移动路径附近海域行驶，最危险海域位于第几象限
- A. 第I象限 B. 第II象限 C. 第III象限 D. 第IV象限

我国某学校高三（2）班地理兴趣小组在校园内开展日照观测活动，发现从9月23日开始，

正午太阳光可透过窗户照射进本班教室（图5），10月23日之后因南侧高楼对阳光的遮挡，本班教室内的正午光照消失。一段时间后，正午太阳光重新照进本班教室……据此完成9-11题。

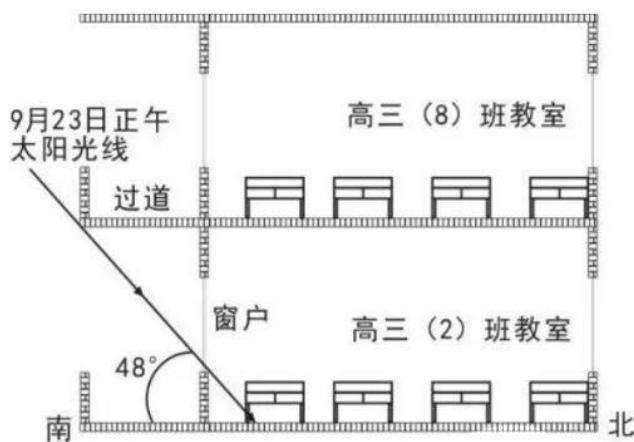


图5

9.该校可能位于

- A. 云南省 B. 吉林省 C. 福建省 D. 河南省

10.10月23日之后，正午太阳光重新照进高三（2）班教室时间约为

- A.当年11月23日 B.当年12月22日 C.次年2月21日 D.次年3月21日

11.与高三（2）班相比，夏至日到冬至日期间楼上高三（8）班教室内的正午光照

- A. 同时出现，持续时间更长 B. 同时出现，持续时间一样
C. 更早出现，持续时间更长 D. 更早出现，持续时间一样

12. 2023年3月13日，在十四届全国人大一次会议闭幕会上，国家主席习近平发表了重要讲话。坚守人民立场、坚定历史自信、彰显使命担当。“人民”再次成为关键词。“人民的信任，是我前进的最大动力，也是我肩上沉甸甸的责任”“以国家需要为使命，以人民利益为准绳”。这说明

- ①党的初心和使命，是激励共产党人前赴后继、英勇奋斗的动力
②实现伟大梦想，要发挥出党的建设新的伟大工程的决定性作用
③人民是中国梦的主体，是中国共产党所有的理论创新和实践创新的主体
④国家、民族和人民的整体利益是党和国家团结奋斗的最大公约数和最大同心圆
- A. ①② B. ①④ C. ③④ D. ②③

13. 无论是过去、现在还是将来，对马克思主义的信仰，对中国特色社会主义的信念，对实现中华民族伟大复兴中国梦的信心，都是指引和支撑中国人民站起来、富起来、强起来的强大精神力量。马克思主义之所以行，是因为

- ①马克思主义是被实践证明了的科学真理，在各国提供理论指导
- ②马克思主义理论与时俱进，总是随着实践的发展而发展
- ③马克思主义揭示了人类社会发展的规律
- ④马克思主义注重理论斗争，是一种对社会的科学预测或正确规范

A. ①② B. ①④ C. ③④ D. ②③

14. 李强总理在回答记者对于民营经济提问时强调，“两个毫不动摇”是我国基本经济制度的重要内容，是长久之策，过去没有变，以后更不会变。虽然最近社会上有一些不正确的议论，使一些民营企业家内心感到忧虑。其实在发展民营经济这个问题上，党中央的方针政策一直是非常明确的。我们之所以重视民营经济，是基于

- ①民营经济是技术创新的重要主体，社会主义市场经济的重要组成部分
- ②民营经济是稳定经济增长和改善民生的重要力量
- ③要培育更多充满活力的市场主体，提高民营经济的效率和市场竞争力
- ④民营经济是坚持按劳分配的主要领域，有利于促进社会公平

A. ①② B. ①④ C. ③④ D. ②③

15. 2023年3月5日政府工作报告指出，今年发展主要预期目标是：国内生产总值增长5%左右；城镇新增就业1200万人左右，城镇调查失业率5.5%左右；居民消费价格涨幅3%左右；居民收入增长与经济增长基本同步；进出口促稳提质，国际收支基本平衡；粮食产量保持在1.3万亿斤以上；单位国内生产总值能耗和主要污染物排放量继续下降，为了完成预期目标，需要不断激发市场活力，下列推导正确的是

- ①实施组合式税费支持政策→提高增值税起征点→缓解企业资金压力→提振企业市场信心
- ②下调金融机构存款准备金率→加大信贷投放力度→缓解企业融资难问题→降低企业投资风险

③深化要素价格市场化改革→稳定要素市场价格→优化企业要素配置→提高资源要素利用率

④健全公平竞争审查制度→强化反垄断监管→防止资本无序扩张→保护中小企业生存发展空间

- A. ①② B. ①④ C. ②③ D. ③④

16. 中共中央、国务院印发的《法治政府建设实施纲要（2021—2025年）》明确指出，健全法治政府建设科技保障体系，全面建设数字法治政府。意味着我们必须筑牢法治政府的“数字基石”，强化数字政府的“法治保障”，融合数字与法治，更好推动科学决策、民主决策、依法决策。全面提升数字法治政府建设启示我们

①政府要不断扩大职能，更好的为人民服务

②提高政府服务质效，提升人民群众获得感、幸福感和安全感

③政府要依法执政，全面提升治理能力

④培养高质量复合型数字法治人才，为数字法治政府建设提供理论支撑和人才保障

- A. ①② B. ①③ C. ②④ D. ③④

17. “两会”是落实全过程人民民主的重要制度载体，是凝聚广泛共识的过程，是汇聚民心民智的过程，是“国之大者”与“民生小事”互动的过程。我们要坚定不移发展全过程人民民主，充分调动亿万人民的积极性、主动性、创造性。坚持“全过程民主”

①体现了社会主义民主政治的本质属性

②是我国基本政治制度的重大完善和发展

③是中国式现代化的本质要求

④丰富协商民主形式，开拓多党合作的新路径

- A. ①② B. ①③ C. ②④ D. ③④

18. 一化三改是中国历史上伟大的社会变革，社会生产力有了比较迅速的提升，社会秩序更加稳定，一化三改的两个方面互相联系，互相促进，互相制约，体现了发展生产力和改革生产关系的有机统一，是一条社会主义建设和社会主义改造同时并举的路线。这体现了

①生产关系是人类社会存在和发展的基础

②社会生活的本质是实践，生产力是最革命、最活跃的因素

③生产关系推动生产力的发展，促进中国社会发展

④人类社会的历史归根结底是生产方式依次更替的历史

A. ①②

B. ①④

C. ②③

D. ②④

19. 日前德云社成立“太平剧社”，随着郭德纲和张云雷等在相声演出中演唱评剧选段，带动了一大批青年人学唱评剧，看评剧资料，听评剧原声，掀起一股评剧热。依靠德云社自身的魅力，普及评剧，普及相关的历史知识和传统文化，让评剧再度回到人民中间，为中国的戏曲注入新的活力。德云平剧社的创立使优秀传统文化

A. 推陈出“新”，符合时代特点和文化发展实践的需要

B. 历久弥“新”，在文化传承和创新中起了决定性作用

C. 返本开“新”，实现了传统文化与外来文化的融合发展

D. 革故鼎“新”，创新传统文化内涵，让文化“活”在当代中国人血脉中

20. 奇瑞控股集团党委书记、董事长尹同跃，基于对中国制造特别是中国汽车产业高质量发展的长期实践和深度调研，提出建议。尹同跃认为，目前我国汽车业主要还是以产品初加工和为国际品牌代工为主，从“汽车大国”变为“汽车强国”必须在质量安全、技术创新、体系建设等“内功”上做深做实，不断筑强产业根基；要加快数字化、全球化发展，更高水平地参与全球竞争，不断向产业价值链高端攀升。下列对我国汽车业未来可能的发展趋势推测正确的是

①创新体系不断完善，注重知识产权保护，形成一批具有国际竞争力的行业品牌

②打造新的外向型产业集群，加快“走出去”步伐，外资更多投向中西部地区

③采用数字技术，催生新的开发模式、制造模式、营销模式，提升产业链附加值

④优化外贸服务结构，主导国际行业标准的制定，由汽车制造大国变成制造强国

A. ①②

B. ①③

C. ②④

D. ③④

21. 金砖国家自诞生以来，在国际舞台上一直发挥着重要作用。3月12日，墨西哥已经正式向金砖国家组织提出请求，希望能够加入这一大集体中，这一消息被曝光后立即引发全球高度关

注。这是因为金砖国家

- ①涵盖面广、代表性强，其构成兼顾了发达国家和发展中国家以及不同地域的利益
- ②秉持开放包容、合作共赢的精神，促进了世界经济增长
- ③是新兴市场和发展中国家加强团结合作、维护共同利益的重要平台
- ④超越了发展道路和社会制度的差异，承认多样性，强调灵活性、开放性

A. ①② B. ①④ C. ②③ D. ③④

22. 仲裁是解决纠纷的一种有效途径，包括商事仲裁、劳动争议仲裁、农村承包合同纠纷仲裁等。下列有关仲裁说法正确的是

- ①商事仲裁中，当事人申请仲裁，须以订立的仲裁协议为前提
- ②商事仲裁审理一般不公开进行，裁决一经做出就发生法律效力，且一裁终局
- ③劳动争议仲裁，也是或裁或审二选一，而且也是一裁终局
- ④当事人对劳动争议仲裁不服，除特定情形外，可自收到裁决书 15 日内向人民法院提起诉讼

A. ①④ B. ①③ C. ②④ D. ②③

23. 以“有选举权的人都是年满 18 周岁的人”作为大前提，若加上小前提

- ①“老师都是年满 18 周岁的人”，可得出“老师都是有选举权的人”
- ②“人大代表都是有选举权的人”，可得出“人大代表都是年满 18 周岁的人”
- ③“初中生不是有选举权的人”，可得出“初中生不是年满 18 周岁的人”
- ④“小学生不是年满 18 周岁的人”，可得出“小学生都不是有选举权的人”

A. ①③ B. ②③ C. ①④ D. ②④

24. 平王东迁后，华夏诸国面临着北有狄族南下，西有戎族横行，南方荆楚兴起的情况，可谓“南夷与北狄交，中国不绝若线”。此后，中原地区诸侯国先后崛起，打出“尊王攘夷”旗号，抵御外族侵犯。据此可知

- A. 周天子权威得到巩固 B. 征服战争推动民族交融
- C. 兼并战争破坏分封制 D. 集权统一政治趋势增强

25. 唐朝旅游业兴盛，旅游不再是上层社会人士的特权，更多百姓也参与其中。士人漫游、宗教旅游、商务之旅、民间游娱等形式丰富多彩。这反映了唐朝

- A. 阶层流动增强
B. 户籍管理松散
C. 三教并行兴起
D. 农耕经济繁荣

26. 宋代“家训”体现为对圣贤事迹的梳理，如甄选圣贤语录、名人事迹，生动而深刻地启迪族中子弟；从礼、坐、行、立、言、揖、诵、书等八个方面教导孩童的言行举止；司马光列举祖、父、母、子、女、孙、伯叔父、兄、弟等社会关系明确亲疏礼仪。据此可知宋代

- A. 儒学的思想观念向社会基层渗透
B. 儒家思想融入法典礼法结合
C. 政府不断强化对基层组织的控制
D. 法家在国家治理中日益重要

27. 明清时期，地主将土地永远长期租给佃户的永佃制兴起，地主保留田底权，佃户拥有田面权，田面权可以世代继承，及通过各种途径进行让渡、买卖、转佃，形成多层次的复杂的租佃关系。材料反映了

- A. 土地兼并现象严重
B. 社会成员身份平等
C. 门第观念日益淡化
D. 人身依附关系松懈

28. 下表1为1860-1865年清政府地方官员统计比例表

年代	1860	1861	1862	1863	1864	1865
满汉总督比例	5: 5	5: 5	4: 6	3: 7	2: 8	1: 9
满汉巡抚比例	6: 9	4: 11	2: 13	1: 14	0: 15	0: 15

这一现象说明晚清

- A. 满汉矛盾趋于缓和
B. 权力结构的半殖民地化加深
C. 地方行政体制变动
D. 传统中央集权体制受到冲击

29. 19世纪末严复在翻译西方书籍时一般选用文言文的形式，这种译本在士人阶层广泛流行，其翻译作品在晚清风行二十年之久。这一现象本质上反映了

- A. 资产阶级的软弱妥协性
B. 民族语言助推思想解放

C. 中体西用观念深入人心

D. 救亡图存的形式多样化

30. 图6是1956年画家程十发创作的中国画《歌唱祖国的春天》，该画描绘的是在一片桃林中，工农兵大家庭欢聚一堂正在听一位老妈妈放声歌唱的欢乐景象。这一作品



图6

A. 体现了农民获得土地后的喜悦心情

B. 反映了中国社会主义工业化的实现

C. 表达了作者对农民劳动热情的赞美

D. 表现了艺术家歌颂时代精神的热情

31. 西亚的腓尼基人熟悉各国的文字，如埃及的象形文字和巴比伦的楔形文字，但这些文字构造复杂，书写不便，不适合快速传递商业信息、记录账簿。在此基础上，他们创造出一种简化的拼音符号，成为书写的有力工具，并随着商业活动开展迅速传播。据此可知

A. 商贸往来是文明交流的重要动力

B. 腓尼基文字是世界字母文字的祖先

C. 不同文明的互鉴推动了文化创新

D. 文字的不断简化发展利于文明交流

32. 中古时期欧洲的法律比较混乱，既有教会法，也有地方习惯法，同时贵族有自己的贵族法典、封建契约和领主法庭，这些司法体系互相渗透影响，各自为政。这一现象的形成源于

A. 商品经济推动城市自治

B. 封建政权建构的松散性

C. 文化信仰尚缺乏凝聚力

D. 习惯法因人设法的传统

33. 近代英国对殖民地的治理模式如下表2所示，下列选项表述正确的是

代表性殖民地	模式名称	具体表现
印度	公司模式	政府特许，殖民公司运作
北美	移民模式	由探险家、民众、公司和业主发起，得到政府支持
非洲	国家模式	英国政府全程掌握对殖民地的争夺、取得和治理

- A. 一定程度上加速西方工业文明在殖民地的扩展
- B. 三种模式均是帝国主义阶段英国殖民扩张方式
- C. 国家模式是国家垄断资本主义发展的必然结果
- D. 治理模式的差异性导致殖民地不同的发展方向

34. 19世纪晚期第二国际将历史唯物主义重新解释为机械经济决定论或经济唯物主义，对此恩格斯在致友人的信中指出：“经济状况是基础，但是对历史斗争进程发生影响并且在许多情况下主要是决定着这一斗争形式的，还有上层建筑的各种因素。”恩格斯这一观点

- A. 阐明了人类社会发展的客观规律
- B. 坚持了科学社会主义的核心理论
- C. 反映了马克思主义是不断发展的
- D. 指导了巴黎公社的革命实践活动

35. 在一些观察者眼里，1989-1991年后欧洲共产主义政权纷纷解体，预示着从此以后所有的现代社会事实上都已经走向自由民主制和自由市场经济。然而这样一种想象出的“历史的终结”决非唯一方向——新的运动纷纷出现，向全球资本主义、西方政治理论霸权、现代文化世俗主义以及美国的强权控制提出了挑战。这一变化有利于

- A. 加速全球治理体系的民主化进程
- B. 市场经济与计划经济体制相结合
- C. 社会信息化与文化多样性的发展
- D. 两极格局的瓦解和多极趋势加快

第II卷（非选择题）

二、非选择题：共 160 分。（36-37题为地理必答题；38-42题为政治必答题；43-45为历史必答题。）

36. 阅读图文资料，完成下列要求。（28分）

两三百万年来，喜马拉雅山脉、青藏高原凌空出世，对中国的气候环境和经济发展产生了深远影响。

材料一 图7为青藏高原某地7月同海拔气温的分布状况。

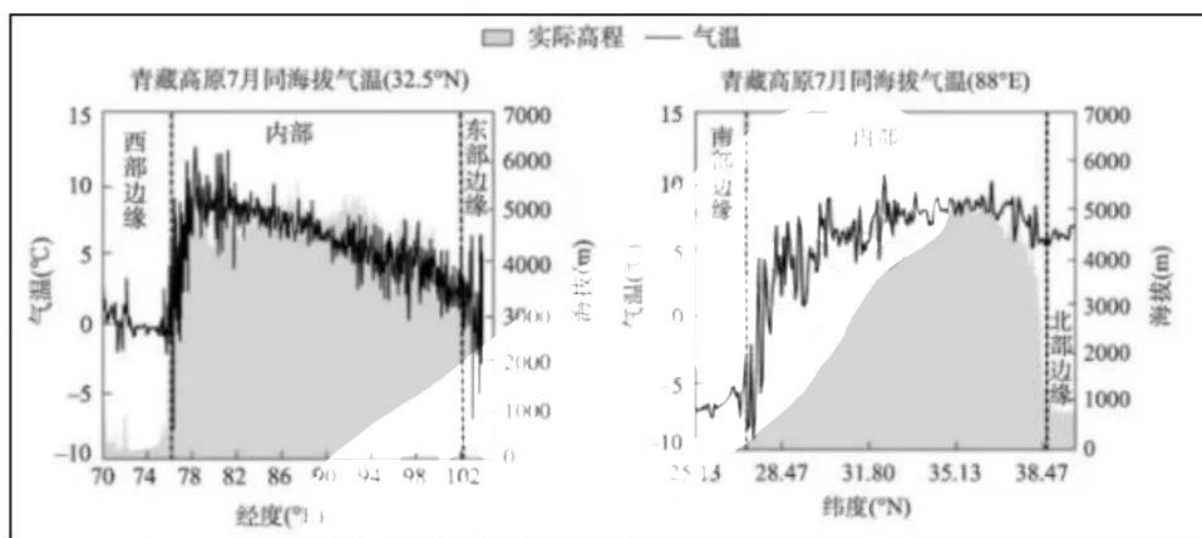


图7

材料二 色林错是西藏第一大湖泊，中国第二大咸水湖，位于青藏高原中部，湖面形状不规则（图8），北部和东部为浅水区。色林错冬半年多大风天气，以西风为主，风力因素是影响湖冰存在期的重要因素之一（指从湖泊开始冻结到完全消融这段时期）。研究表明，近年来该湖面积不断扩大，湖水浑浊度上升，湖冰存在期呈现缩短趋势。青海省黄河上游的龙羊峡水库以其得天独厚的自然条件成为中国优质三文鱼的重要产地之一。

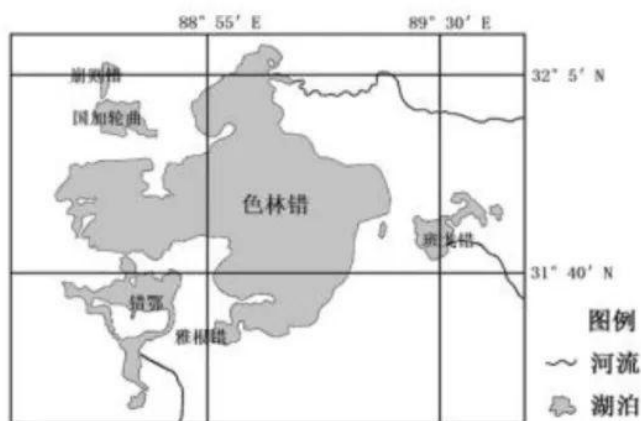
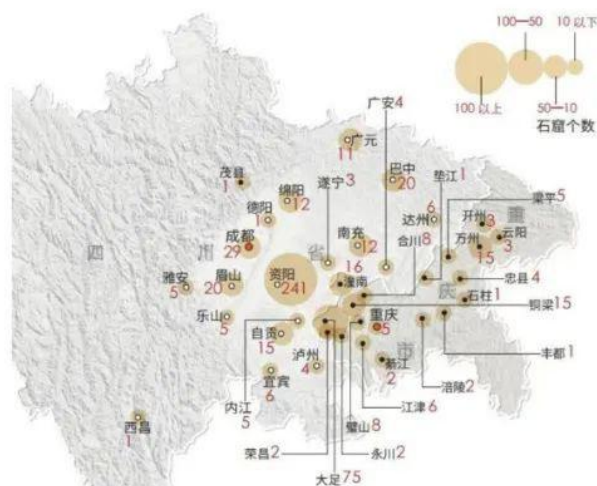


图8

- (1) 根据大气受热过程原理，简述青藏高原内部气温高于同海拔边缘气温的原因。（6分）
- (2) 解释色林错北部和东部湖岸存冰时间长的原因。（8分）
- (3) 分析近年来湖冰存在期缩短的自然原因。（6分）
- (4) 推测龙羊峡养殖三文鱼经济效益高的主要理由。（8分）

37. 阅读图文资料，完成下列要求。（28分）

石窟造像有规模地传入巴蜀地区，始于南北朝，兴盛于唐宋，从北魏到明清从未间断过。巴蜀地区的200多个县，几乎每个县都有大小不等的石窟及摩崖造像，数量接近全国数量的一半。规模宏大的石窟造像投资巨大、历时长，巴蜀石窟捐资开凿的供养人多是普通人，大多是浅龕与摩崖造像，已无中原石窟的皇家风范。佛道文化浸润巴蜀山水，石窟造像与这里乡土民俗相伴相生，巴蜀石窟造像既体现出与北方中原一脉相承的风格，又形成独具一格的地域特色。图9为巴蜀地区石窟数量及分布。



巴蜀石窟数量之多超乎人们的想象

图9

- (1) 与北方石窟相比，列举巴蜀石窟摩崖造像主要特征。（8分）
- (2) 概述巴蜀石窟摩崖造像兴盛于唐宋、从北魏到明清从未间断过的人文原因。（8分）
- (3) 推断巴蜀石窟摩崖造像多位于河流两岸的原因。（6分）
- (4) 石窟摩崖造像是中国传统文化瑰宝之一，为保护和传承这一传统文化，请你献出自己的三点建议。（6分）

38.阅读材料，完成下列要求。（10分）

2023年2月28日《人民日报》报道，在习近平总书记“江河战略”的指导下，十三届全国人大常委会先后通过长江保护法、黄河保护法两部流域专门法律。长江保护法突出共抓大保护、不搞大开发，把保护和修复长江流域生态环境放在压倒性位置；黄河保护法落实重在保护、量水而行、节水为重，以最严格制度最严密法治保护长江黄河。原来涉及长江黄河流域的法律法规，存在“法律打架”、“依法打架”等问题，长江保护法和黄河保护法既破除条块分割、各自为政、重复建设的弊端，又通过明确中央各部门及地方各级人民政府的具体职责，促进共治

发展。2022年12月28日,全国人大常委会执法检查组关于检查长江保护法实施情况的报告显示,长江流域累计清理整治违法违规项目2441个,推进河湖“清四乱(乱占、乱采、乱堆、乱建)”常态化规范化。

结合材料,运用依法治国的知识,说明如何以法治力量推动江河战略,护航一江清水、保卫大河安澜。

39. 阅读材料,完成下列要求。(10分)

2023年2月26日至28日,中国共产党第二十届中央委员会第二次全体会议在北京举行。

全会指出,党的二十大对深化机构改革作出重要部署,对于全面建设社会主义现代化国家、全面推进中华民族伟大复兴意义重大而深远。必须以习近平新时代中国特色社会主义思想为指导,以推进国家治理体系和治理能力现代化为导向,适应统筹推进“五位一体”总体布局、协调推进“四个全面”战略布局的要求,适应推动高质量发展的需要,统筹党中央机构、全国人大机构、国务院机构、全国政协机构,统筹中央和地方,深化重点领域机构改革,推动党对社会主义现代化建设的领导在机构设置上更加科学、在运行管理上更加高效。全会强调,各地区各部门要站在党和国家事业发展全局高度,充分认识党和国家机构改革的重要性和紧迫性,自觉把思想和行动统一到党中央决策部署上来,坚定改革信心和决心,不折不扣把机构改革任务落到实处。

结合材料,运用价值判断与价值选择的知识,谈谈对党的二十大深化机构改革作出重要部署的理解。

40. 阅读材料，完成下列要求。（10分）

2022年11月4日，国家主席习近平以视频方式出席第五届中国国际进口博览会开幕式并致辞。习近平主席指出，举办进博会，就是要扩大开放，让中国大市场成为世界大机遇。

中国将推动各国各方共享中国大市场机遇：加快建设强大国内市场，推动贸易结构优化升级，促进自由贸易区建设，扩大优质产品进口，推动贸易创新发展；推进高质量共建“一带一路”，通过基础设施建设促进投资增长，创造就业机会，增加沿线国家财政收入，为发展中国家的经济发展提供新动力，为世界经济增长提供新动能；中国深化国际合作，全面深入参与世界贸易组织改革谈判，促进国际宏观经济政策协调，坚定支持和帮助广大发展中国家加快发展。

当前，世界经济复苏动力不足，我们要以开放推动经济全球化不断向前，让发展成果更多更公平惠及各国人民。

结合材料，运用经济全球化的知识，分析我国是如何同世界分享中国机遇，推动构建开放型世界经济的。

41. 阅读材料，完成下列要求。（12分）

2023年2月3日，全国首例非法投放外来物种民事公益诉讼案件，江苏省南京市人民检察院诉徐某、刘某污染环境责任纠纷案件一审开庭宣判。

案情简介：为了给家人祈福，2020年12月，徐某和刘某连续三天在长荡湖放生了2.5万斤鲢鱼。湖面陆续出现大量死亡鲢鱼，渔政部门打捞出死亡鲢鱼2万多斤，而未打捞出岸的4792斤“革胡子鲢”具有较强的入侵能力。2022年3月29日，南京市检察院向金坛区检察院

提出要求围绕生态环境损害、生物多样性损害等方面进行证据补强。9月8日，金坛区检察院提交专家评估意见，认定已死亡的2万多斤革胡子鲶由于打捞及时，水环境指标在放生前后没有明显变化；未打捞上岸的4792斤革胡子鲶将威胁长荡湖的本土鱼类生物多样性，导致长荡湖水生生物系统及生态环境服务功能受损。

判决：被告徐某承担因其非法投放外来物种革胡子鲶所造成的生态资源损失3万元、服务功能损失5000元、事务性费用1.8万元、惩罚性赔偿5000元；被告刘某对被告徐某应当支付的上述款项承担连带赔偿责任。

(1) 运用《法律与生活》的知识，说明徐某和刘某承担的侵权责任适用于过错原则、过错推定原则还是无过错责任原则？为什么？

(2) 结合材料，运用《法律与生活》的知识，说明法院作出上述判决的原因。

42. 阅读材料，完成下列要求。（10分）

图书馆是国家文化发展水平的重要标志，是滋养民族心灵、培育文化自信的重要场所。

随着数字化时代来临，以智慧图书馆建设为代表的现代图书馆的发展不断拓宽着图书馆的服务内涵。相比于传统的图书馆，智慧图书馆是图书馆适应科学技术发展与用户需求变化的一次巨大变革，是在重新审视图书馆功能及服务的基础上，制订的一整套完整用户信息服务方案。

智慧图书馆实现了传统阅读学习方式的革新，能够提供更加智能化、数字化和便捷化的服务：国家图书馆积极营造数字阅读空间，配置数字触摸屏、朗读亭等互动阅读体验设备；首都图书馆通过APP、微信、微博、抖音等平台将首图的服务、资源、活动从线下拓展到线上；上图东馆的建成开放，打造了一座大阅读时代智慧复合型图书馆。

智慧图书馆不仅保存着浩如烟海的文化典籍，而且进一步借助现代化信息技术，增强了公

共文化内容的供给能力，提升信息资源使用率和图书馆服务效能，推动全民阅读，更好地满足人民精神文化需要。

结合材料，运用不作简单肯定或否定的相关知识，分析智慧图书馆是如何实现变革与创新的。

43. 阅读材料，完成下列要求。（25分）

司马迁的《史记》与司马光的《资治通鉴》并列为中国史学的不朽巨著，所谓“史学两司马”，对后世史学有深远影响。

材料一：《史记》由西汉史学家司马迁（约前145~？）所著，全书以编年叙事的帝王“本纪”为纲，以人物“列传”为主体，被称为“纪传体”，成为后历代官修史书的正宗。司马迁以儒家的历史观为宗旨，在前代深厚的历史学积淀基础上，坚持“原始察终、见盛观衰”的著史原则，常常表达自己对于历史现象的认识甚至疑惑。《史记》充分利用各类先秦文献、汉朝政事档案等，客观、如实地叙述史实，并佐以司马迁的游历见闻及民间传说，力求“通古今之变，成一家之言”。

——摘编自瞿林东《中国史学史纲》

材料二：《资治通鉴》在探讨历史盛衰上体现出史学求通的思想，由于时代的特点，司马光总结历史盛衰经验，除关心秦何以亡，汉何以兴，隋何以亡，唐何以兴这些问题外，侧重探讨如何用封建纲常礼教维护封建统治秩序。

——摘编自吴怀祺《〈资治通鉴〉的价值和司马光的历史观》

材料三：九一八事变后，政府为唤醒国民爱国精神，通令各大学开设中国通史课程。傅斯年等提出了“书生何以报国？”的问题。钱穆为了讲好通史课，先后编写了几种讲义……《国史大纲》成书后，钱穆写成《引论》一篇，在昆明《中央日报》上发表，正面阐述了钱氏“新

史学”的基本内涵，批评了当时流行的各种史学观念。他强调，一国历史与文化实是民族赖以存在之基础，“国史”应成为一种国家和国民的教育。

——摘编自冯峰《钱穆研究三题》

- (1) 根据材料一、二并结合所学知识，概括说明《史记》和《资治通鉴》的共性。(14分)
- (2) 根据材料三并结合所学知识，分析钱穆撰写《国史大纲》的意义。(7分)
- (3) 根据材料并结合所学知识，概括优秀史学著作的价值。(4分)

44. 阅读材料，完成下列要求。(12分)

材料：1694年，为应对英法战争，在威廉三世的支持下英格兰银行成立，性质是普通私人银行。它的成立，意味着金融观念完成向现代进化的第一步。18世纪的金融焦点已经从美第奇家族的意大利、掀起“郁金香狂潮”的荷兰转向西欧。英格兰银行自18世纪中叶开始逐步成为英国的准中央银行，19世纪以后全面发挥中央银行的职能。近代英格兰银行对英国金融业和经济发展产生深远影响，并成为英国与欧洲各国较量的财政后盾。随着伦敦成为世界金融中心，英格兰银行成为中央银行的样板，它的组织结构，管理模式等手段被各国效仿。在经济危机的打击中则充当商业银行的“最后贷款人”，并最终确立了“银行的银行”的地位。1946年之后，英格兰银行被收归国有，其主要任务仍然是按政府要求决定国家金融政策。

——摘编自徐瑾《货币王者：中央银行如何制造救赎金融危机》

根据材料并结合所学知识，就材料整体或其中任意一点拟定一个论题，并予以阐述。(要求：论题明确，持论有据，表达清晰。)

45. 阅读材料，完成下列要求。（15分）

全面推进中华民族伟大复兴，为把我国建设成富强民主文明和谐美丽的社会主义现代化强国不懈奋斗。

材料一：1952年4月，中央政府组织了由30多人组成的中国农民代表团访问苏联。他们回国以后，在各自所在省份的县乡做报告……中央和地方报纸对此大加报道，并配以苏联集体农庄五谷丰登、社员美满生活的照片，舆论宣传在广大农民脑海中勾勒了一幅美丽的合作社图景……在农业合作化过程中，还树立典型互助组、合作社、劳动模范，有效的动员了更多农民参与到合作化中来。

——易绵阳、罗拥华《农业合作化运动中的农民行为：基于行为经济学的研究视角》

材料二：1978年以来，中国开启了改革开放历程。从农村到城市，从试点到推广，从经济体制改革到全面深化改革，40年众志成城，40年砥砺奋进。中国人民用双手书写了国家和民族发展的壮丽史诗。中国人民坚持立足国情、放眼世界，既强调独立自主、自力更生，又注重对外开放、合作共赢。不断研究新情况，解决新问题，总结新经验。中国人民生活从短缺走向富裕，从贫困走向小康，开辟了中国特色社会主义道路。中国人民的成功实践昭示世人，通向现代化的道路不止一条，只要找准正确方向、迟而不息，条条大路通罗马。

——《人民日报》2018年4月11日

- (1) 根据材料一和所学知识，概括我国当时推动农业合作化运动开展的有利因素？（7分）
- (2) 根据材料二和所学知识，概括经济体制改革的特点，谈谈中国式现代化道路成功的启示。（8分）

关于我们

自主选拔在线是致力于提供新高考生涯规划、强基计划、综合评价、三位一体、学科竞赛等政策资讯的升学服务平台。总部坐落于北京，旗下拥有网站（[网址：www.zizzs.com](http://www.zizzs.com)）和微信公众平台等媒体矩阵，用户群体涵盖全国 90% 以上的重点中学师生及家长，在全国新高考、自主选拔领域首屈一指。

如需第一时间获取相关资讯及备考指南，请关注**自主选拔在线**官方微信号：**zizzsw**。



自主选拔在线

