

江西省五市九校协作体 2023 届第二次联考

文科综合试卷

地理：广信中学 命题人 刘毅杰 审题人 余小红
政治：鄱阳中学 命题人 何 静 审题人 徐晓清
历史：贵溪一中 命题人 陈国华 审题人 杨敏华

一、选择题：本题共 35 小题，每小题 4 分，共 140 分。在每小题给出四个选项中，只有一项符合题目要求

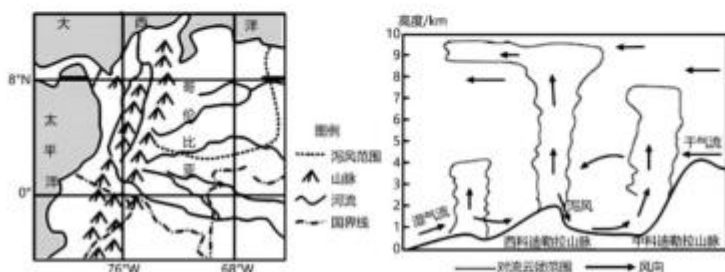
近年来，城市景观结构更加复杂化，呈现出不同程度的“破碎化”态势。城市破碎度指数(UFI)可以从速度和形态两方面反映城市扩张对景观格局的改变。与城市的其他区域相比，2012~2022 年南昌市中心附近的 UFI 数值一直最大且整体呈上升趋势。据此完成 1~3 题。

1. 南昌市中心 UFI 值的特点说明南昌市中心 ()
A. 利用率高 B. 租金高 C. 环保力度大 D. 地势平坦
2. 2012~2022 年南昌市 UFI 数值整体呈上升趋势的根本原因是 ()
A. 土地利用的无序变化 B. 生态用地得到保护
C. 城市人口规模的扩大 D. 地方政府政策支持
3. 可使南昌郊区农田景观破碎度降低的措施是 ()
①土地流转 ②开辟新水源 ③退耕还草 ④发展乡村旅游
A. ①③ B. ①④ C. ②③ D. ②④

地埂也称田埂，意为田间的埂，用来分界和蓄水。常见的有两种类型：其一是等高地埂，指在坡面上每隔一定距离，沿着等高线开沟、筑埂，把坡面分割成若干等高带状的坡段；其二是比降地埂，与等高线存在一定的纵向梯度。据此完成 4~5 题。

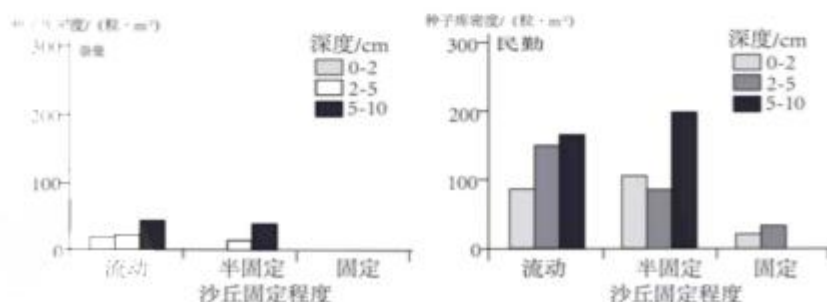
4. 与等高地埂相比，比降地埂的作用主要体现在 ()
A. 拦蓄地表径流 B. 利于补充地下水 C. 减少水土流失 D. 减少田地的清淤
5. 比降地埂可适用于 ()
A. 塔里木盆地 B. 东北黑土分布区 C. 祁连山坡地 D. 青藏高原冻土区

“泻风”是气流越过山脉快速下沉形成的。下图是哥伦比亚的泻风所在区域位置，泻风气流在沿海地区、西科迪勒拉山脉、中科迪勒拉山脉分别形成对流中心，对流云体垂直向上，右图是某时段气流及对流云团分布图。据此完成 6~8 题。



6. 泻风气流主要来自 ()
A. 大西洋 B. 太平洋 C. 南美大陆 D. 加勒比海
7. 右图所示, 西科迪勒拉山脉“泻风”出现的时间 ()
A. 冬季的上午 B. 冬季的下午 C. 夏季的上午 D. 夏季的下午
8. 中科迪勒拉山脉比西科迪勒拉山脉对流云团的高度低, 原因是 ()
①到达中科迪勒拉山脉的水汽少 ②中科迪勒拉山脉海陆风环流弱
③东侧干空气入侵 ④中科迪勒拉山脉海拔高
A. ①②③ B. ①③④ C. ①②④ D. ②③④

沙米为固沙先锋植物, 沙米的空间分布与其生物学特征及沙地环境(地形、土壤水分和降水等)密切相关, 沙米的地上种群密度与土壤种子库(存在于土壤表层凋落物和土壤中全部活性种子的总和)密度呈正相关。下图示意奈曼和民勤两地不同沙丘固定程度对应的土壤种子库密度分布。据此回答 9-11 题。



9. 根据土壤种子库密度的分布特征, 推断沙米种子的生物学特征(种子萌芽需要的条件等)可能是 ()
A. 耐旱 B. 耐贫瘠 C. 喜光 D. 厌光
10. 导致固定沙丘的种子库密度最低的原因是 ()
A. 沙米的生物学特征 B. 降水增加 C. 土壤水分减少 D. 土壤水分增加
11. 关于奈曼和民勤两地的判断正确的是 ()
①奈曼位于半干旱地区, 民勤位于干旱地区 ②民勤植被覆盖率高于奈曼
③民勤的流动沙丘比例大 ④奈曼的固定沙丘比例大
A. ①② B. ①③ C. ②③ D. ②④
12. 流感季找奥司他韦, 似乎成为流感高峰期的一项“传统”。今年2月进入流感高发期后, 我国各省、市医疗机构、医药配送企业、医保部门等频繁反映, 磷酸奥司他韦胶囊供应不足, 难以满足市场需求, 价格涨幅很大。据此, 我们可以得出的合理推论是 ()
①奥司他韦作为一种商品, 价格变动受价值规律的制约
②奥司他韦市场价格上涨, 药企利润增长
③供求失衡是奥司他韦价格走高的根本因素
④要充分发挥市场机制作用, 避免奥司他韦价格的大起大落
A. ①② B. ①④ C. ②③ D. ③④

13. “无人工厂”24小时不间断生产、“机器人同事”包揽重活累活、“透明化生产线”监测全流程作业数据,坐在办公室盯着大屏幕点击鼠标,便可指挥千里之外的工厂生产……越来越多的工业企业呈现如此场景。工业互联网正成为我国制造业从“中国制造”向“中国智造”转型的关键支撑。工业互联网赋能“中国制造”表明()

- ①智能机器将彻底取代人工,助力“强国”建设
 - ②科技与创新是塑造发展新动能新优势的关键因素
 - ③推动供给侧结构性改革,要发挥生产对经济发展的基础性作用
 - ④我国积极建设创新引领、协同发展的现代化产业体系
- A. ①② B. ②③ C. ②④ D. ③④

14. 为加快推进商业养老金融业务发展,银保监会和人民银行联合启动特定养老储蓄试点。据介绍,特定养老储蓄产品包括整存整取、零存整取和整存零取三种类型,产品期限分为5年、10年、15年和20年四档,产品利率略高于大型银行五年期定期存款的挂牌利率。特定养老储蓄试点的意义在于()

- ①创新养老保险形式,增加社会养老公共产品供给
 - ②丰富养老金融产品,满足居民多样化的养老需求
 - ③节约国家财政公共服务支出,缓解财政资金压力
 - ④调动特定居民投资积极性,为经济建设筹措资金
- A. ①② B. ①③ C. ②④ D. ③④

15. 国际消费中心城市是消费资源的集聚地,更是一国乃至全球消费市场的制高点。从世界经验看,发达经济体首位度高的城市均进入了以服务业为主导产业、以消费为引领的经济发展模式。据统计,北京在2016至2021年间,社会消费品零售总额逐年递增,2022年上半年吸引了393家国际国内品牌的旗舰店落户,数量全国领先。2025年,北京将基本建成国际消费中心城市。建设国际消费中心城市,可以()

- ①为构建国内国际双循环的新发展格局提供消费动力
 - ②推动先进制造业优先发展,促进产业结构全面升级
 - ③发挥创新第一动力的作用,提高城市居民收入水平
 - ④提高开放型经济水平,营造具有国际竞争力的消费环境
- A. ①② B. ①④ C. ②③ D. ③④

16. 十四届全国人大一次会议审议通过了《中华人民共和国立法法(修正草案)》的议案。修正草案新增了立法应当坚持以人民为中心、坚持依法治国和以德治国相结合、应当适应改革需要,引导、推动、规范、保障相关改革等多项规定。上述修改内容有利于()

- ①在立法实践中深入贯彻民主理念,保障人民群众的表决权
 - ②不断发挥法治对德治的支撑作用,推进中国式现代化建设
 - ③顺应时代要求健全立法体制机制,提高立法的质量和效能
 - ④发挥固根本、稳预期、立长远的保障作用,以良法促发展
- A. ①② B. ①③ C. ②④ D. ③④

17. 2023年2月28日,党的二十届二中全会审议通过了《党和国家机构改革方案》。全会指出,党的二十大对深化机构改革作出重要部署,对于全面建设社会主义现代化国家、全面推进中华民族伟大复兴意义重大而深远。深化党和国家机构改革()

- ①要坚持问题导向,发挥改革推动社会发展的决定性作用

自主选拔在线
zizzsw

自主选拔在线
zizzsw

自主选拔在线
微信号: zizzsw

- ②是新时代坚持和发展中国特色社会主义的必由之路
 - ③能优化职能配置，使上层建筑更好适应经济基础状况
 - ④要放在全面深化改革大盘子里谋划推进，促进国家治理体系和治理能力现代化
- A. ①③ B. ①④ C. ②③ D. ③④

18. 2月24日《中国社会科学院国际形势报告(2022)》正式发布报告指出，世界格局“东升西降”“西强东弱”态势依旧。在新冠疫情背景下，全球主要大国或国家集团之间的竞争与合作关系也处于深度调整期，各方都在积极推进或调整战略以应对新的国际局势。依据国际力量对比的变化可以推断出()

- ①国际局势总体上会朝着有利于新兴市场和新兴市场国家方向发展
- ②发展中国家是当今世界凝聚力较强的国际政治组织
- ③世界格局仍将处于深度调整变化之中
- ④发达经济体将成为促进世界和平稳定、经济发展的主导力量

A. ①② B. ①③ C. ②④ D. ③④

19. “遇见国博—5000多年中华文明在你眼前”——国家博物馆专列亮相北京地铁一号线。步入车厢，车窗、天花板、座椅靠背等乘客视线所及之处均布满了“国博元素”。承载着中华民族5000多年璀璨文明的文物精品“走”出博物馆，“四羊青铜方尊、彩绘陶兵马俑、青瓷羊形烛台”等文物形象在专列中精彩呈现，每款“文物”旁还配有俏皮可爱的配文，与乘客零距离接触，带给乘客充满文化韵味的别样体验。“国博专列——流动的博物馆”旨在()

- A. 融通不同资源，实现综合创新
- B. 发挥文化载体在提升文明素养中的决定作用
- C. 让文物说话，用科技手段促进传统文化的传承
- D. 让民众体会文化的厚度与温度，延续中华文明

20. 2022年12月31日，由中央网信办主办的2022中国正能量“五个一百”网络精品征集评选展播活动正式启动。活动以“团结奋进新征程同心奋斗创伟业”为主题，围绕“百篇网络正能量文字、百幅网络正能量图片、百部网络正能量音视频、百个网络正能量专题专栏、百项网络正能量主题活动”五个项目展开评选。开展这一活动旨在()

- ①弘扬新风正气，凝聚起踔厉奋发的强大精神力量
- ②引领社会思潮，培育和践行社会主义核心价值观
- ③聆听时代声音，弘扬以爱国主义为核心的时代精神
- ④立足社会实践，确立社会主义先进文化发展方向

A. ①② B. ①④ C. ②③ D. ③④

21. “历史是最好的教科书，一切向前走，都不能忘记走过的路；走得再远、走到再光辉的未来，也不能忘记走过的过去。”这一论断是基于()

- ①联系是普遍的、客观的，历史、现实、未来之间不可分割
- ②人类社会的发展是循环往复的，需要不断总结历史经验
- ③各国历史的多样性是通过社会发展进程的统一性体现出来的
- ④坚持系统观念才能正确把握历史发展规律，增强历史主动

A. ①② B. ①④ C. ②③ D. ③④



22. 下列诗句与漫画体现的哲理最为接近的是 ()

- A. 山重水复疑无路, 柳暗花明又一村
- B. 梅须逊雪三分白, 雪却输梅一段香
- C. 纸上得来终觉浅, 绝知此事要躬行
- D. 古人学问无遗力, 少壮工夫老始成



23. 2022年12月27日, 国家卫生健康委新闻发言人介绍, 目前我国疫情防控进入新阶段, 面临新形势、新任务, 工作重心从“防感染”转向“保健康、防重症”。新型冠状病毒感染从“乙类甲管”调整为“乙类乙管”, 是综合评估病毒变异、疫情形势和我国防控工作等基础上作出的防控策略调整, 绝不是放开不管。疫情防控策略的调整 ()

- A. 是对疫情规律的利用和改造, 有助于实现防控的预期目标
- B. 把握了防控工作的主流, 集中力量解决疫情中的主要矛盾
- C. 坚持了具体问题具体分析, 用以应变提升防控的科学性
- D. 是在价值选择基础上作出的正确判断, 有利于防控工作与时俱进

24. 《论语·阳货》中有一段对话, 宰我问: “三年之丧, 期已久矣! 君子三年不为礼, 礼必坏; 三年不为乐, 乐必崩。……”宰我出, 子曰: “予之不仁也! 子生三年, 然后免于父母之怀。夫三年之丧, 天下之通丧也, 予也有三年之爱于其父母乎!” 由此可见 ()

- A. 儒家思想成为生活规范
- B. 古代盛行厚葬守孝之风
- C. 孝悌观念背离礼乐伦理
- D. 传统礼乐制度受到挑战

25. 前145年, 汉朝实行“抑损诸侯, 减黜其官”, 改王国丞相为相, 废除其御史大夫、廷尉、宗正、博士等官, 对大夫以下的其他官吏也予以裁减, “令诸侯王不得复治国”, 这项措施表明 ()

- A. 汉朝附益法成效显著
- B. 王国成为中央直轄的地方政权
- C. 中央开始限制诸侯王
- D. 汉朝诸侯王割据局面基本结束

26. 唐朝出现了充当货币支付功能的“飞钱”, 并已形成严密的兑换制度; 宋朝在唐朝“飞钱”的基础上, 产生了纸币——交子、会子。这反映了唐宋时期 ()

- A. 大宗贸易比较频繁
- B. 财政收入结构变化
- C. 经济政策相对灵活
- D. 金融服务趋于完善

27. 洪武三十年, 明太祖命户部下三道命令: 一、令每乡各里选一年老者, 每月六次持木铎于道路曰“孝顺父母、尊敬长辈、和睦乡里、教训子孙、各安生理、毋作非为”; 二、每村置一鼓, 遇农时清晨鸣鼓集众耕田, 其怠惰者由里老人等罚之; 三、民凡遇婚葬吉凶等事, 一里之内互相赙给, 使人相亲相爱。这一做法 ()

- A. 旨在提倡尊重长者
- B. 有助于淳厚民风
- C. 利于加强专制皇权
- D. 践行了重农抑商

28. 据史料记载张之洞在筹建湖北纺纱厂的过程中就曾说“纱布各厂需用工徒甚众, 足养贫民数千人。”据此可知湖北纺纱厂的创办 ()

- A. 抵制了外国侵略
- B. 防止了白银外流
- C. 解决了贫困问题
- D. 改善了部分民生

29. 钱穆在《国史大纲》中说政制既已一切非我之故常, 其政制背后支撑之理论, 亦必随之动摇, 则一变而惧不能不变……故而文化革命之口号有“礼教吃人”“非孝”“打倒孔家店”“全盘西化”材料旨在说明 ()




- A. 新文化运动有历史虚无主义色彩
B. 向西方学习从制度转到思想
C. 辛亥革命在思想上得到延续
D. 儒家思想的统治地位被动摇

30. 中共中央在 1935 年 12 月 6 日作出了《关于改变富农策略的决定》，一改以往反对富农的策略，提出对富农采取同情甚至中立的态度，指出排斥富农（甚至一部分小地主）参加革命斗争是错误的，中共中央对富农态度的变化反映出（ ）

- A. 中共强调现阶段的革命任务
B. 农村阶级矛盾有所缓解
C. 中国社会主要矛盾悄然变化
D. 中共阶级基础明显扩大

31. 下图为 1995 年——1998 年我国财政收入情况，其变化的主要原因是（ ）



- A. 世界贸易组织的建立
B. 市场经济体制的确立
C. 浦东新区的加速开发
D. 改革开放的深入推进

32. 家 (domus, familia)，在古罗马社会中指在家父权支配下的人和物的总和。家庭一词在拉丁文中指主人和他统治的妻子、儿女和仆人。据材料可知，古罗马（ ）

- A. 公民权具有等级性
B. 法律并不保障妻子的权利
C. 家父权力至高无上
D. 家子以孝道服从家父统治

33. 17-18 世纪，由于西欧国家的生产力水平不高，仅依靠正常贸易难以满足西欧商人的贪欲，掠夺、欺诈成为其惯用手段。对金钱的贪欲，驱使西欧商人奔向世界各地，在全球建立商业活动。这表明（ ）

- A. 殖民扩张拓展了世界市场
B. 殖民者主要掠夺的是原料
C. 工业革命壮大了殖民力量
D. 各个文明地区的文化统一

34. 下表是日本各产业就业人员变化表

各产业就业人员变化（以农业、第二产业为例）（单位：千人，%）

	1947 年	1950 年	1955 年	1960 年	1965 年	1970 年
总计	33329 (100%)	35626 (100%)	39261 (100%)	43719 (100%)	47623 (100%)	52110 (100%)
农业	16622 (49.9%)	16102 (45.2%)	14090 (37.9%)	13128 (30%)	10857 (22.8%)	9334 (12.9%)
第二产业 (含制造业)	7401 (22.2%)	7812 (21.9%)	9220 (23.5%)	12762 (29%)	15242 (32%)	17706 (34%)

由此可知二战后的日本（ ）

- A. 新科技革命推动产业结构调整
B. 农业的发展推动了工业化进程
C. 第三产业成为国民经济的主导
D. 农业经济呈现不断衰退的趋势




35. 美国将中国视为比俄更重要的对手，拜登政府 2022 年 5 月针对“印太”地区展开密集外交动作，包括举行美国-东盟特别峰会，拜登出访韩日两国、正式推出“印太经济框架”等。对此合理解读是（ ）

- A. 冷战思维威胁世界和平与安全
B. 美国成为地区对抗的受益者
C. 区域化的发展改变了世界格局
D. 世界政治多极化趋势的加强

二、非选择题：共 160 分。第 36—42 题为必考题，每个试题考生必须作答。第 43—47 题为选考题，考生根据要求作答。

(一) 必考题：(135 分)

36. 党的二十大报告中明确提出发展海洋经济，保护海洋生态环境，加快建设海洋强国这一国家重大战略。现代化海洋牧场一般选在基岩海岸，海水清而不浊、透明度高，且深度适中的海域。左图示意我国建设现代化海洋牧场支撑条件综合水平空间分布差异，通过生态环境修复和人工养殖及增殖，在适宜海域构建可持续发展的生态系统。山东省潍坊昌邑市境内北部莱州湾海域率先实施“海上风电+海洋牧场”（右图）示范项目，通过海上风电底座的“鱼礁化”，实现海上风电和海洋牧场的融合，开创了“水下产出绿色产品，水上产出清洁能源”的新局面。（20 分）



- (1) 从第三产业发展角度，提出山东省现代化海洋牧场经济建设可采取的措施。（6 分）
 (2) 分析广东省发展海洋牧场支撑条件较好的自然原因。（8 分）
 (3) 说明风力发电机底座“鱼礁化”的有利影响。（6 分）

37. 区域构造运动对河流水系演化影响重大。距今的 94 万年前，受构造、地貌、气候共影响，佳依分水岭两侧河流发生溯源侵蚀，最终导致仕依分水岭被切穿，出现河流袭夺现象，现代松花江水系逐渐建立，甲图示意松辽古湖时期水系格局，乙图示意现代水系格局。（26 分）



(2) 根据材料一二, 指出与古代比近代中国边疆碰到的新问题并分析其出现的原因。(12分)

(3) 根据材料一二三, 并结合所学知识谈谈你对新时代我国边疆治理的认识。(5分)

42. 阅读材料, 回答问题。(25分)

材料 在民族关系在国际关系中仍占主导地位的今天, “全球村”处于理想与现实的碰撞之间, 处于不同国家和社会群体对其追求和反抗、利用和逃避之间, 还很难对冷战后的世界的变迁发挥统一的或强有力的制衡作用。在我们看到跨国公司正在世界事务中发挥越来越大的作用, 看到欧盟构筑“超国家”共同体时, 我们还看到了冷战后新一轮的民族主义浪潮。全球村的梦想似乎并不遥远, 但也难以实现。

——摘编自刘德斌《国际关系史——全球村的理想与现实》

根据材料并结合所学知识就材料整体或其中任意一点拟定一个论题, 并予以阐述。(要求: 论题明确, 持论有据, 论证充分, 表达清晰)(12分)

(二) 选考题: (25分)

地理选考题(10分): 学生在43、44两题中任选一题。

43. [地理——选修5: 旅游地理](10分)

乡村旅游是乡村振兴战略的重要内容, 也是新时期带动我国乡村经济发展的重要引擎。国家4A级旅游景区和“网红打卡地”望仙谷景区位于上饶市广信区望仙乡境内, 樟润村是广信区华坛山镇下辖的一个自然村, 距望仙谷景区仅3公里。华坛山镇樟润村依靠毗邻望仙谷的区位优势, 借力景区溢出效应加速乡村振兴。



请从乡村旅游与乡村振兴协调发展的角度, 给樟润村的乡村旅游发展提出建议。

40. 习近平总书记强调，甲骨文是汉字的源头和中华优秀传统文化的根脉，值得倍加珍视、更好传承发展。

殷墟甲骨文的重大发现，在中华文明乃至人类文明发展史上具有划时代的意义。百余年来，在几代学者努力下，甲骨文取得辉煌成就并已成为一门国际性学科。但毕竟甲骨文是距今 3000 多年的文字，与如今有漫长的时间跨距，人们不论是生活还是语言习惯都发生了巨大的变化，这就导致了现代人在破解甲骨文的时候会遭遇到许多的艰难。在近年新字典、辞书编纂中，又发现了 4 300 多个甲骨文字。而其中仅有 1 300 多字被破解并达成共识，另有 500 多字尚在争议中。除此之外，其他大部分尚未有人涉及。

守护中华文明根脉，弘扬中华优秀传统文化，安阳一直在路上。安阳市已建成 17 所省级甲骨文教育特色学校、37 所市级甲骨文教育特色学校，让孩子们从小接受甲骨文教育的熏陶，领略文字之美，甲骨文瑰宝日益走出“深闺”、焕发时代光彩，中华“绝学”得到更好的传承和发展。

(1) 结合材料并运用认识论的知识，分析甲骨文解读至今存在争议，仍只有较少部分被破解的原因。(12分)

(2) 结合材料并运用文化生活知识，说明开展甲骨文教育与研究的文化价值。(10分)

(3) 为推动基础学科(包括古文字学)的研究，我国高校招生实施了强基计划，某高三2班同学小明立志古文字学研究，请你为他给高校招生老师写一封自荐信。要求在 150 字以内。(4分)

41. 阅读材料，完成下列要求。(25分)

材料一 秦始皇统一全国后分天下为三十六郡，并将郡县制推行到了边疆地区，汉王朝继承了这一制度，在北疆、东北疆、西南地区以及南部边疆地区设立了众多的郡县，诸如东北边疆设立了玄菟郡、辽东郡、辽西郡等。汉王朝在统一边疆地区的时候，有一些边疆民族脱离其民族主体而迁徙到了内地，为了管理这些民族，汉王朝设立了属国，置属国都尉管理，但其内部事务仍然由该内徙民族的酋长负责。唐王朝为了巩固自己的统治，对边疆民族也采取过武力讨伐的政策，如自唐太宗开始的对高句丽的讨伐即持续了数代，但从总体上讲唐王朝的边疆民族政策是以怀柔、招抚为主。

-----摘编自马大正《中国古代的边疆政策与边疆治理》

材料二 鸦片战争导致中国国门洞开，从此陷入“三千年未有之变局”。19世纪70年代以后，西方列强扩大了对中国的侵略，中国边疆地区出现了新的危机。西北方向，英俄插手甚至侵入对新疆、西藏；东南方向，美国、日本先后企图侵占台湾；西南方向，法国的侵略战火从越南蔓延到了中国本土。从北到南从东到西，中国陷入了严重的全方位的边疆危机，面临被瓜分的威胁。

-----摘编自但兴悟《“大一统”中国的重新塑造：近代边疆危机与建省改制》

材料三 “人民至上”作为新时代治国理政的一个根本性立场和经典话语，其内涵需结合中国社会的现实治理才能予以透彻把握。长期以来，中国边疆治理相关议题，一直牵动着国人诸多难以言说的心绪，这种心绪既关乎历史，也直指当代的精神生活。

-----摘编自青觉、吴鹏《人民至上：新时代中国边疆治理的制度基础与实践逻辑》

请回答：

(1) 根据材料一，并结合所学知识总结汉唐时期的边疆政策。(8分)



尼克松总统推行战争越南化的政策。1973年，美国被迫与越南南方、北方在巴黎签订《关于在越南结束战争、恢复和平的协定》，随后两个月内，美军全部撤出越南，并承认越南的独立与主权。1976年越南全国统一，越南战争结束。

越南战争造成越南160多万人死亡和整个印度支那1000多万难民流离失所。越南战争结束了美国战后25年的经济繁荣，使美国的经济状况急转直下。越南战争是在第二次世界大战后一场大规模局部战争，对国际政治产生了深远的影响。

——摘编自《中国百科全书·军事卷》

请回答：

- (1) 根据材料并结合所学知识，概括美国撤军的原因。(6分)
- (2) 根据材料并结合所学知识，分析越南战争的影响。(9分)

17.【历史——选修4：中外历史人物评价】阅读材料，完成下列要求。(15分)

材料一 进入60年代，美国黑人民权运动进一步高涨，马丁·路德·金领导南部各州黑人采取抵制、静坐、游行等多种非暴力抗议形式和手段，冲垮了许多种族隔离藩篱。

在国际上，1955年召开的亚非会议，把加速解决人权和民族自决问题提到议事日程。从60年代起，非洲一系列国家获得了独立，彻底摧毁了帝国主义的殖民体系。另外，非洲的民族独立，大多数是采取和平斗争形式取得的，即通过宪法改革和议会选举等非暴力方式，建立起民族国家新政权。这又为金牧师推行非暴力斗争提供了充足证据，使其振振有词，信心百倍，强调只要遵循仁爱原则，就能达到以爱克敌制胜的目的。

在国内，美国从第二次世界大战结束到越南战争，是资本主义世界的霸主，拥有强大的经济实力和军事力量，政权中专政职能不断扩大，镇压手段相当残酷，黑人不具备使用暴力手段解决种族压迫的力量和条件。

——摘编自孙宝珊《马丁·路德·金黑人民权运动的理论与实践》

材料二 这些白人反对奴隶制的斗争，通常是建立在黑人争取自由的斗争基础上。黑人争取自由的斗争鼓舞了白人，并由此产生了早期的废奴主义者。

1960年，由学生非暴力协调委员会发动的黑人权力运动，最终被残酷的镇压。但是，这一运动已把民主意识关注到整个美国社会中，促使被压迫的美国人一齐起来战斗，从此美国的社会运动开展起来，成为美国政治的新潮流。

——摘编自李世安《黑人运动与美国政治》


请回答：

- (1) 根据材料一并结合所学知识，概括马丁·路德·金领导的美国黑人民权运动采取非暴力直接行动方式的背景？(6分)
- (2) 根据材料二并结合所学知识，分析黑人运动对美国政治的影响？(9分)



44. [地理——选修6：环境保护] (10分)

山美水库是闽南地区重要的水源保护区之一，近年来，由于流域周边的工业、农业以及畜牧业的影响，山美水库整体呈现富营养化趋势。为了解山美水库总氮污染特征，初步分析其污染源，相关部门在2016—2020年间对山美水库进行了总氮浓度的监测和分析。左图为山美水库进出口2016—2020总氮浓度走势图，右图为山美水库进口2016—2020总氮月度浓度走势图。



读图描述山美水库总氮污染特征，分析进口总氮在3-9月浓度较高的原因。

历史选考题 (15分)：学生在45、46、47三题中任选一题。

45. 【历史——选修1：历史上重大改革回眸】阅读材料，完成下列要求。(15分)

材料 曹丕继位后，为争取世家大族支持，巩固政权，采纳吏部尚书陈群的建议，将九品中正制作为国家选官制度。九品中正制初期既能唯才是举，又照顾世家大族利益，因此尚可做到品、状并举。直至后期品评士人，完全依据门第家世而忽略才识，加之各地大小中正官皆由士族把控，地方权力加大，中正直接干预并且左右选拔贤良，世称“台阁选举，涂塞耳目，九品访人，唯问中正”。九品中正制呈现出“上品无寒门，下品无士族”的状态。

九品中正制创立初衷是取代察举制，为封建国家选贤用能，但随着门阀政治的形成，这一制度成了世家手中垄断政治的工具，他们凭借政治特权享受着经济、法律和教育特权，这是贵族化的政府。东晋门阀权势更是达到巅峰，东晋政权偏安一隅，既要倚靠南方士族，又要优待永嘉南渡的衣冠士族，形成了“王与马，共天下”的局面。世家的滔天权势自然与皇权产生矛盾，不同的门阀士族之间也存在矛盾，加之士族和庶族间的矛盾，这是一个权力需要重新分配的时代，寒族势力逐渐崛起，门阀士族终将走向没落。

——摘编自姜雯妮《九品中正制对门阀政治的作用和影响》

请回答：

(1) 根据材料并结合所学，概括九品中正制的演变趋势。(6分)

(2) 根据材料并结合所学知识，简评九品中正制的影响。(9分)

46. 【历史——选修3：20世纪的战争与和平】阅读材料，完成下列要求(15分)

材料 1961年4月底，美国总统肯尼迪派遣特种部队进入越南南方，发动特种战争。1964年美国制造北部湾事件，扩大战争，至1968年侵越美军兵力达到54万余人。受国际国内形势的影响，1969年



关于我们

自主选拔在线是致力于提供新高考生涯规划、强基计划、综合评价、三位一体、学科竞赛等政策资讯的升学服务平台。总部坐落于北京，旗下拥有网站(网址：www.zizzs.com)和微信公众平台等媒体矩阵，用户群体涵盖全国90%以上的重点中学师生及家长，在全国新高考、自主选拔领域首屈一指。

如需第一时间获取相关资讯及备考指南，请关注**自主选拔在线**官方微信号：**zizzsw**。



 微信搜一搜

 自主选拔在线

线
Z S W

 自主选拔在线
微信号：zizzsw

 自主选拔在线
微信号：zizzsw

 自主选拔在线
微信号：zizzsw

 自主选拔在线
微信号：zizzsw