

2022~2023 下联合体高二第二次考试

历史试题

本试卷满分 100 分,考试用时 75 分钟。

注意事项:

1. 答题前,考生务必将自己的姓名、考生号、考场号、座位号填写在答题卡上。
2. 回答选择题时,选出每小题答案后,用铅笔把答题卡上对应题目的答案标号涂黑。如需改动,用橡皮擦干净后,再选涂其他答案标号。回答非选择题时,将答案写在答题卡上。写在本试卷上无效。
3. 考试结束后,将本试卷和答题卡一并交回。
4. 本试卷主要考试内容:《中外历史纲要》(上)前五单元。

一、选择题:本题共 16 小题,每小题 3 分,共 48 分。在每小题列出的四个选项中,只有一项符合题目要求。

1. 据考古发现,在龟甲的贮藏和使用方面,商周两代极为相似,且商代文字与周代文字同属一个系统。据此可知,商周时期
 - A. 社会秩序趋于稳定
 - B. 文化管理逐渐走向成熟
 - C. 甲骨文已普遍使用
 - D. 文明传承具有连续性
2. 战国时期魏国李悝变法,废除井田制,允许土地买卖,采取“尽地力之教”的政策,鼓励民众垦荒;同时把国家土地分配给农民,按照土地的贫瘠标准,制定合理的税收政策。这些措施
 - A. 确立了以农为本政策
 - B. 推动了小农经济发展
 - C. 削弱了贵族封建特权
 - D. 维护了农民根本利益
3. 秦朝在首都咸阳设立专门负责管理工商业的机构咸亭,铸造了刻有咸阳、咸亭或咸亭半两的铭文砝码(如图 1 所示),用于衡量半两的重量。据此可知,秦朝
 - A. 重视规范商业行为
 - B. 社会经济不断发展
 - C. 商业行为受到抑制
 - D. 积极发展商品经济
4. 西汉武帝时期的刺史一职主要负责监察所在州部的郡国,无固定治所。东汉光武帝时期,刺史有固定治所,实际上成为比郡高一级的行政长官,负责处理地方行政事务并可直接上奏皇帝。这一变化反映了汉代
 - A. 监察制度的完善
 - B. 行政效率的提高
 - C. 中央集权的强化
 - D. 官僚机构的膨胀




图 1

5. 图 2 所示为甘肃嘉峪关新城 5 号墓中发掘出一幅魏晋壁画, 画中男女二人分工合作, 女子左手环抱着放置种子的器皿, 右手将种子撒入地中, 男子手执铁农具紧随其后进行培土。该画可用于研究魏晋时期




图 2


- A. 农耕文明的拓展
B. 民族迁徙的规模
C. 经济重心的转移
D. 土地制度的变革
6. 唐玄宗时期, 在中央设立枢密使, 宦官刘光琦、梁守谦分别担任左、右枢密使, 成为皇帝和宰相之间的枢纽。此外, 宦官还掌握了除神策军之外其他禁军的控制权。材料可用于说明唐朝
- A. 皇帝权力受到制约
B. 三省六部制面临崩溃
C. 边防安全得以稳固
D. 君主专制的不断加强
7. 8 世纪上半叶, 唐朝出现“丁口转死, 非旧名矣; 田亩移换, 非旧额矣; 贫富升降, 非旧第矣”的现象。这表明此时
- A. 农民暴动规模有所扩大
B. 土地兼并趋势得到遏制
C. 均田制已失去实施条件
D. 战乱导致人口急速下降
8. 道家强调天人合一, 追求自然美, 在“自然”的基础上生发出“素”“朴”“淡”“拙”等几个重要的美学范畴, 这些美学范畴反映到书法审美上, 便形成了追求真朴自然和反抗雕饰、姿媚书风的精神依据。下列书法作品最能体现这种美学思想的是



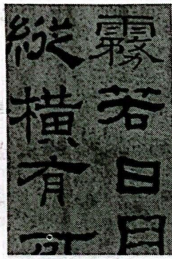
A



B



C



D

9. 宋设宗正寺、大宗正司等机构, 对宗室实行严格的属籍登记, 按太祖、太宗、秦王三大系统, 依据亲疏远近, 逐年登记宗子、宗女、宗妇、宫院的生死、官爵、赐谥等。这一措施旨在
- A. 维护皇室血统的纯正性
B. 防止宗室干政, 加强中央集权
C. 增强皇室宗亲的凝聚力
D. 吸取历史教训, 加强控制宗室
10. 918 年, 辽太祖在上京“建孔子庙, 诏皇太子春秋释奠”, 次年辽太祖又亲临孔子庙。此外, 辽太祖还在上京和中京置国子监, 在南京设立太学。这反映出当时辽朝
- A. 治理理念的儒家化
B. 民族矛盾得到缓解
C. 重视科举制度改革
D. 儒家文化实现普及

11. 在宋代,有些商人将余粮运到市场出售,史称:“两浙之地,苏、湖、秀三州号为产米去处,丰年大抵舟车四出,其豪右之家,占田广,收租多,而仓廩富实者,县邑之吏,邻里之民,固能指数其人也。”这反映出当时

- A. 大土地所有制受到抑制
B. 农产品商品化程度提高
C. 政府鼓励发展商品经济
D. 交通条件发生根本改善

12. 表 1 所示为道光十八年(1838 年)四月至道光二十年(1840 年)九月游(流)民大事记。这反映出当时

表 1

年月	原籍	流向	性质	谋生方式及生活状况	人数
1838. 4	四川、湖北、贵州、广东	云南、广西	流民	结为兄弟,抢劫、盗窃,地方官畏之	四五人一伙
1839. 10	—	云南	游民、客民	结土匪,强抢杀伤	获人犯 200 多人
1840. 7	湖广	四川	游民	聚众行劫,官莫可如何	—
1840. 7	广东、福建	江西	游民	武装贩烟	约 3 万人
1840. 9	湖北	—	流民	无衣无食	8 万多人

- A. 政府放松社会控制
B. 长途贩运贸易繁荣
C. 统治危机日益凸显
D. 西南出现边疆危机

13. 1643 年,明朝开始印行瑞士传教士邓玉函的《人身说概》和《人身图说》两部医学专著。1817 年,英国船医皮尔逊介绍牛痘接种的《种痘奇法》被译成中文,中国人邱熺随皮尔逊学习种牛痘法,并撰有《引痘略》一书。由此可知,西医学的传入

- A. 推动了中医学理论的快速发展
B. 有利于丰富我国传统医学内容
C. 奠定我国临床医学的坚实基础
D. 促进了西医在中国的广泛传播

14. 据统计,在清朝茶叶出口贸易中,广州长期占据全国大部分的茶叶出口份额,但在 1852 年被上海反超,此后上海港茶叶出口份额一直高于广州港。这一变化主要归因于

- A. 五口通商和国内政局的影响
B. 上海具有最优越的地理位置
C. 出口茶叶的产地发生了变化
D. 中国已经被纳入了世界市场

15. 1859 年,洪仁玕向洪秀全条陈《资政新篇》。对于发展资本主义的各项措施,洪秀全大都表示赞同,但一些触犯到封建特权的条款,遭到了洪秀全以及太平天国诸多将领的强烈反对,这说明

- A. 太平天国指导思想走向僵化
- B. 洪仁玕代表了资产阶级利益
- C. 太平天国内部矛盾异常尖锐
- D. 太平天国政权具有阶级局限性

16. 1900年12月,《纽约时报》上一篇有关戊戌变法的文章写道:“(改革派)非常不善于利用人们对既有体制的反对。要知道隐藏在这种反对的背后,人民的内心都憋着一股劲儿,并且人民的情感会被广泛地唤醒,而只有这种状况真正出现时,才会对改革产生推波助澜的作用。”此文意在说明,戊戌变法失败的原因在于改革派

- | | |
|-----------|-----------|
| A. 依赖既有体制 | B. 采取妥协政策 |
| C. 缺乏爱国情感 | D. 忽视群众基础 |

二、非选择题:本大题共4小题,共52分。

17. 阅读材料,完成下列要求。(14分)

材料一

魏晋南北朝时期被有些学者誉为“小百家争鸣”的历史时期,这一时期科技取得了长足的进步与发展。贾思勰认为农业科技可以为国家“开其资财之道”,因而发展农业生产对恢复经济和巩固政权具有十分重要的意义。西晋年间的《孙子算经》在序言中强调数学具有广泛的社会性与实用性,并认为“向之者富有余;背之者贫且窶(穷)”。魏晋南北朝时期总共编制了23部新历法,这一时期的历法多产与其体现各统治者的权威以及巩固其统治地位的实用与功利目的是分不开的。

——摘编自杨爱华《魏晋南北朝时期的科技价值观》

材料二

中国古代的重大科技发明印刷术及火药武器技术等,在元代西传,促进了西方国家的科技进步。各种西域药物、医法输入中国,丰富了中国的医学宝库。今存明初刻《回回药方》,即为元人所译阿拉伯医书。元代还设有回回司天台,以扎马鲁丁为提点,吸收了不少西域天文学家在其中工作。扎马鲁丁带来的一套西域仪象,包括浑仪、天球仪、地球仪等7种,对郭守敬研制天文仪器启发颇多。波斯、阿拉伯天文历法、数学、医药学、史地等各类书籍也于元时大量传入中国,仅秘书监所存即达百余部,其中包括蒙哥进行研究的欧几里得几何学著作。另外,旭烈兀西征时,曾带去不少中国炮手、天文学家、医生等,这些人后来多留居波斯。

——摘编自史仲文等《中国全史》

- (1) 根据材料一,指出魏晋南北朝时期的科技价值观,并结合所学知识分析这些价值观形成的原因。(8分)
- (2) 根据材料二并结合所学知识,概括元代中外科技交流的特征。(6分)

8. 阅读材料,完成下列要求。(12分)

材料

历史上的茶马古道,以川藏道、滇藏道与青藏道(甘青道)三条大道为主线,与众多的支线、附线构成一个庞大的交通网络。陕甘茶马古道形成于明代,从四川到西北以骆驼为主要运载工具,适应了每年百万斤以上茶叶的贩运需要。明代在元朝驿站体系的基础上,对要津、渡口的管理有所强化。明朝在雅州、碉门设茶马司,据其统计,每年(仅官方贸易)有数百万斤茶叶经川藏茶马古道入藏。明代剧作家汤显祖在《茶马》诗中这样写道:“黑茶一何美,羌马一何殊。”“羌马与黄茶,胡马求金珠。”一批批藏区商旅、贡使沿着茶马古道深入祖国内地;同时,汉、蒙、纳西等民族商人、工匠成群进入藏区,带去了先进的生产技术。尽管明朝未在藏区驻扎一兵一卒,但中央政府却始终与藏区保持密切联系,藏区各部长期归服,心向统一。

——摘编自夏克传《堪与“丝绸之路”相媲美的茶马古道》

20. |

(1)根据材料,概括明代茶马古道发展的表现及有利条件。(8分)

(2)根据材料并结合所学知识,分析明代茶马古道发展的意义。(4分)

9. 阅读材料,完成下列要求。(14分)

材料一

甲午中日战争爆发之时,清军装备了从欧洲进口和中国军工企业仿制的先进后膛枪炮,其中淮军装备最为精良,全部装备了毛瑟枪,另外还有当时最新式的速射炮和13响连发枪(重机枪的前身);清军的许多军官都接受过军校培训,弹药也很充足,一场战役打下来所消耗的子弹、炮弹往往比日本人多得多。倒是日本人往往因为弹药耗尽而撤退。清朝拥有铁甲舰5艘,日本3艘。定远、镇远两舰的排水量,都比日本最大的舰只还大一倍,日舰大口径火炮的数量也只及中国的一半。中国的主力舰平均中弹100多发还能安然返回,而日舰平均中弹十几发就被打成重伤,甚至有两艘舰船在拖回途中沉没了。英国某权威人士评论说:“亚洲现在(19世纪后半期)是在三大强国的手中——俄国、英国和中国。”

——摘编自戚其章《甲午战争史》《晚清海军兴衰史》等

材料二

甲午中日战争惨败的结局,使光绪皇帝痛感“若不变法图强,社稷难资保守”,而作为知识分子进京赶考的举人们则掀起“公车上书”运动,要求清廷拒和、练兵、迁都、变法。状元张謇则认为:“世人皆言外洋以商务立国,此皮毛之论也,不知外洋富民强国之本实在于工……(中国)但能于工艺一端,蒸蒸日上,何至有忧贫之事哉!此则养民之大经,富国之妙术,不仅为御侮计,而御侮自在其中矣。”另一方面以孙中山为首的革命运动亦展开,他在《马关条约》签订前的1895年2月领导兴中会发动广州起义,主张推翻清朝,建立共和政体。

——摘编自孙克复、关捷《甲午中日陆战史》

材料三

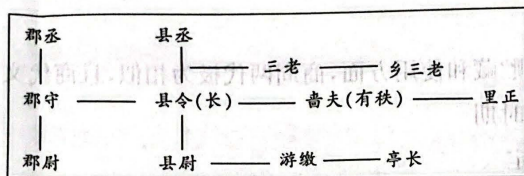
《马关条约》成为列强“进一步掠夺物资财富来发展它的帝国主义侵略中国新阶段的开始”。当时日本财政界名人井上曾说过：“在获得这个赔款以前，日本的财政官厅从未谈到过数万万元的大数字。国库收入仅达八千万日元。因此，三亿五千万日元巨款流入国内，在朝在野的人都认为是无尽的财富。国营也好，私营也好，在国外创办工厂，各方面都因此实行大大的扩张了。”

——摘编自[日]石井宽治《日本的对外战略(1853~1937年)：帝国主义思想的演变》

- (1)根据材料一并结合所学知识，指出材料中关于清朝军事力量的观点并加以评价。(4分)
(2)根据材料二、三并结合所学知识，分析《马关条约》成为“帝国主义侵略中国新阶段的开始”的表现以及其对中国社会的影响。(10分)

20. 阅读材料，完成下列要求。(12分)

材料一



秦汉地方行政架构示意图

材料二

对于中国传统王朝大一统中央集权下的地方治理状况，历来存在着两种截然相对的看法。

看法一：“中央控制论” “乡村冲突论”	<ul style="list-style-type: none"> ●传统王朝通过编户齐民的方式，将老百姓牢牢地固定在土地上，实现了对地方的有效掌控 ●地主对佃户、长工的阶级剥削，乡绅与劳动群众的阶级斗争是影响地方治理的重要因素
看法二：“地方自治论” “乡村和谐论”	<ul style="list-style-type: none"> ●地方治理更多体现为一种由当地乡绅主导的，基于家族和宗族基础之上的村规乡约的地方自治 ●地方自治是家族或宗族治理的放大，其成员形成一个其乐融融的乡村大家庭，每个人在其中皆遵循礼仪规矩、各守本分、和谐共处

——以上材料均整理自宣晓伟《中央集权与地方治理：“编户齐民”与“皇权不下县”》

围绕“大一统王朝的地方治理”，从材料二中提炼出一个具体观点(对材料中的看法赞成、反对、修改均可)，并结合材料一以及秦汉时期地方治理的史实加以阐述。(要求：观点明确，史论结合，逻辑清晰。)

关于我们

自主选拔在线是致力于提供新高考生涯规划、强基计划、综合评价、三位一体、学科竞赛等政策资讯的升学服务平台。总部坐落于北京，旗下拥有网站（[网址: www.zizzs.com](http://www.zizzs.com)）和微信公众平台等媒体矩阵，用户群体涵盖全国 90% 以上的重点中学师生及家长，在全国新高考、自主选拔领域首屈一指。

如需第一时间获取相关资讯及备考指南，请关注**自主选拔在线**官方微信号：**zizzsw**。

