

大庆实验中学实验一部 2020 级高（三）5 月份得分训练（四）

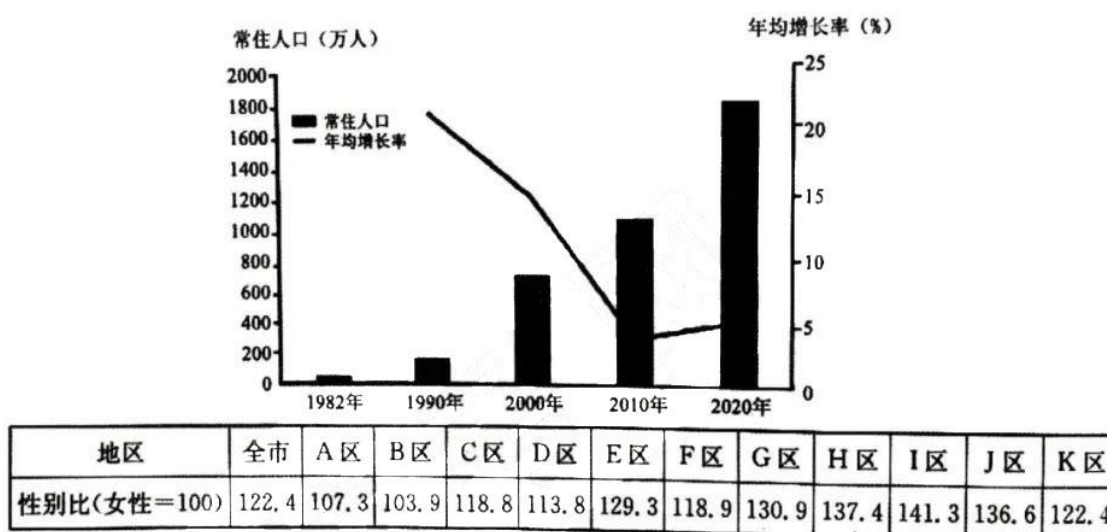
文科综合试题

说明：1. 请将答案填涂在答题卡的指定区域内。

2. 满分 300 分，考试时间 150 分钟。

一、选择题（本大题共 35 小题，每小题 4 分，共 140 分）

读某城市第七次全国人口普查公报发布的图表资料(下图和下表)，下图示意该城市历次人口普查常住人口及年均增长率。据此完成 1-3 题。



1. 该城市是

- A. 合肥 B. 深圳 C. 北京 D. 重庆

2. 该城市人口变化会导致

- A. 家庭规模减小 B. 人口素质下降
C. 城市人口承载压力减小 D. 人口红利继续保持

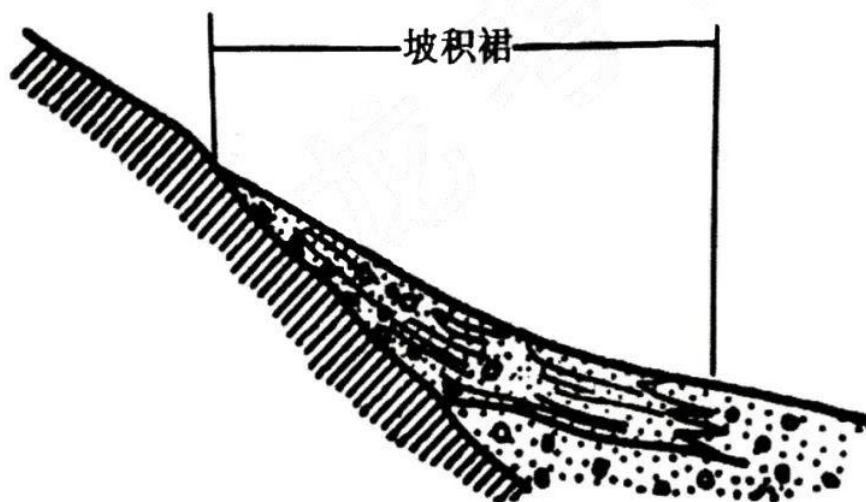
3. G、H、I、J 四区人口性别比都在 130 以上, 最有可能是因为

- A. 正处于基础设施兴建时期, 施工人员以男性为主
B. 产业结构升级, 高端新兴产业男性劳动力比重较高
C. 二孩政策落实以后, 出生人口性别比提高
D. 原材料工业及装备制造业等重工业发展迅速

随着我国实行改革开放政策，广东省某市家电产业开始被纳入全球产业分工网络，经过不断发展拥有了几千家家电相关企业和几家本土家电巨头，本土家电巨头在国际市场竞争中不落下风。但随着成本不断上升，该市家电产业发展遇到了瓶颈。据此完成 4-5 题。

- 4.本土家电巨头在国际市场竞争中不落下风主要是因为
- A.完整的配套产业链
B.低廉的劳动力成本
C.先进的机械化操作
D.便利的交通运输
- 5.该市家电产业打破瓶颈的最有效措施是
- A.组建企业集团
B.挖掘本地市场
C.加大宣传力度
D.加大智能投资

坡积裙是指水流在遇到坡度减小、磨阻加大或突然分散的情况下，不足以搬运所携带的泥沙，使泥沙沿山麓成片、连绵堆积，形成似展升的衣裙地貌。坡积裙的前缘，通常与河谷底部、山间盆地或山前平原相连接。坡积裙经过几万年的累积可厚达十多米，下图为坡积裙剖面图，据此完成 6-8 题。



6. 利于坡积裙形成的环境是
- A. 坡陡水流急 B. 山麓面积广 C. 山高岩块多 D. 植被覆盖少
7. 塑造坡积裙的主要作用是
- A. 河流侵蚀搬运 B. 沟谷水流堆积
C. 坡面水流堆积 D. 平面水流搬运

8. 与冲积扇相比, 坡积裙

- A. 位于出山口地带
B. 物质源自坡上
C. 裙上常发育河曲
D. 形成连绵大平原

图木舒克市(39.8° N, 79° E)位于塔里木盆地西北边缘、天山西段南麓, 叶尔羌河流经该市南部, 向东注入塔里木河。2021年9月15-21日, 该市某校地理兴趣小组开展了为期一周的野外实践活动。如图为图木舒克市简图。据此完成9-11题。



9. 兴趣小组利用竿影法测量太阳高度角, 竿影最短时是北京时间

- A. 9:16
B. 12:00
C. 14:00
D. 14:44

10. 17日15:00, 该地无盛行风的干扰, 兴趣小组在爱国主义教育基地观察湖陆风, 此时的风向为

- A. 东南风
B. 东北风
C. 西南风
D. 西北风

11. 下列关于叶尔羌河和永安坝水库的说法, 符合观察事实的是

- A. E处径流量较F处径流量稳定
B. E处含沙量夜晚大于白天
C. E处白天水温和气温差异显著
D. 永安坝水库盐度北部低南部高

12. 守正创新是我们党在新时代治国理政中的重要思维方法。守正才能不迷失方向、不犯颠覆性错误, 创新才能把握时代、引领时代。中国式现代化的探索就是一个在继承中发展、在守正中创新的历史过程。下列选项能体现这一历史过程的是()

- ①既坚持马克思主义的指导地位, 又不断推动党的指导思想与时俱进
②既坚持中国现代化的正确方向, 又不断变更中国式现代化的本和源
③既坚持科学社会主义基本原则, 又不断开创中国特色社会主义新局面

④既坚持中国共产党的初心使命，又不断调整人民对美好生活的向往

- A. ①② B. ①③ C. ②④ D. ③④

13. 《中共中央关于党的百年奋斗重大成就和历史经验的决议》科学阐明了习近平新时代中国特色社会主义思想的理论内涵和重大意义。我们要深刻认识领会习近平新时代中国特色社会主义思想的时代意义、理论意义、实践意义、世界意义。下列解读正确的是（ ）

- ①时代意义—深入回答时代之问，不断引领时代前进，是新时代精神的精华
- ②理论意义—揭示了人类社会发展规律，实现了马克思主义中国化新的飞跃
- ③实践意义—植根于建党百年的伟大实践，在指导实践中展现出强大的真理力量
- ④世界意义—推动构建人类命运共同体，为世界和平发展贡献中国智慧和方案

- A. ①② B. ①④ C. ②③ D. ③④

14. 某知名国有制药股份有限公司通过产权交易集团中心将 45% 股权出让给非资本战略投资者，该投资者同时具有投资与产业经营经验，并承诺在成功受让后 18 个月内，投资 2 亿元以上，完成药企的热电技改项目。对这次改制的传导路径描述正确的是（ ）

- ①国企向非资本出让股份→公有制实现形式多样化→发展壮大国有经济
- ②非资本参与技改项目→企业进行科技创新→有效降低药企的市场风险
- ③国企吸引非资本入股→改变药企的股权结构→鼓励、支持、引导非公有经济发展
- ④具有经验的非资本参与生产经营→提高国企的资本效率→增强国有企业活力和竞争力

- A. ①② B. ①④ C. ②③ D. ③④

15. 2022 年，我国前三季度进出口总值 31.11 万亿元，同比增长 9.9%，高附加值、高技术产品的竞争力不断提升。前三季度，我国出口机电产品占出口总值的 56.8%，其中国内汽车企业出口汽车 211.7 万辆，超过 2021 年全年出口量，新能源汽车出口 38.9 万辆，同比增长超过 1 倍；出口手机、自动数据处理设备及其零部件也保持增长。这说明我国（ ）

- ①产业结构转型升级成效明显，新兴产业领域取得重大突破
- ②“走出去”发展战略成绩显著，对外开放水平逐步提升
- ③超大规模市场优势逐步显现，为世界经济发展提供动力
- ④不断转变对外经济发展方式，出口商品结构不断优化

- A. ①② B. ①④ C. ②③ D. ③④

16. 近年来，重庆市聚焦“中华民族一家亲，同心共筑中国梦”目标，以点带面、对口支援改善少数民族贫困地区群众饮水、医疗、教育、出行等基础设施，积极扶持少数民族群众因地制宜发展特色

产业，全面激发了民族地区产业发展新活力。这体现了重庆市（ ）

- ①充分发挥民族区域自治制度的优越性推动发展 ②促进民族交流交融，推进中华民族共同体建设
③大力加强民族团结进步教育，增强民族凝聚力 ④巩固新型民族关系，推动实现各民族共同繁荣
A. ①② B. ①③ C. ②④ D. ③④

17. 十四届全国人大一次会议表决通过了关于修改立法法的决定。此次立法法修改主要有三大看点：加强宪法法律的实施和监督，明确合宪性审查要求；明确基层立法联系点任务职责，深入听取基层群众和有关方面意见；完善地方立法权限范围，加强因地制宜和区域协调。上述修改内容有利于（ ）

- ①提高立法质量和效能，顺应时代要求健全立法体制机制
②推进立法权限下放，地方立法机关充分享有立法自主权
③完善宪法监督机制，确保各项权力在法治的轨道上运行
④践行全过程人民民主，拓宽人民群众有序参与立法途径
A. ①② B. ①④ C. ②③ D. ③④

18. 人勤春来早，植树正当时。每到春天，各地都积极响应党和国家“植树造林，绿化祖国”的号召，针对不同的地理自然条件，坚持科学规划，创新组织形式，以“人人出力，日积月累”的精神，推动国土绿化取得更大成效，绘就美丽中国更新画卷。这表明（ ）

- ①矛盾普遍性包含着特殊性 ②质变体现并保存量变的成果
③人民群众是变革社会的决定力量 ④人们的实践活动具有社会历史性
A. ①② B. ①③ C. ②④ D. ③④

19. “一字一世界，一笔一乾坤，横平竖直皆风骨，撇捺飞扬是血脉”。中国汉字是中华民族的底蕴，也是传承中国文化必不可少的工具。中国文字博物馆是集文物保护、陈列展示和科学研究为一体的国家一级博物馆，也是中华汉字文化的科普中心、全国科普教育基地、爱国主义教育基地。科普汉字文化是基于（ ）

- ①中华文化具有包容性，涵养着中华民族共同的价值观
②中华文化具有优越性，体现着中华民族整体风貌和精神特征
③汉字是中华文化遗产的载体，是中华民族身份的象征和标志
④中华文化是中华民族的血脉和灵魂，是中华民族生存发展的精神根基
A. ①② B. ②③ C. ①④ D. ③④

20. 美国历史学家查尔斯·比尔德曾隐晦地表示，美国宪法其实是一部“经济文献”。金钱政治贯穿美国选举、立法、施政的所有环节。据统计，91%的美国国会选举都是由获得最多资金支持的候选人

赢得。正如美国知名学者诺姆·乔姆斯基所言，美国人对政策制定的影响力与他们的财富水平之间呈正相关性。由此可见（ ）

- ①民主共和制是只为资产阶级利益服务的政体 ②美式民主是建立在资本基础上的“富人游戏”
③美式民主仅代表并服务于资本家的利益 ④政党争取执政的主要手段是运用金钱的力量
A. ①② B. ①④ C. ②③ D. ③④

21. 鉴于美国洛克希德·马丁公司、雷神导弹与防务公司危害中国主权、安全、发展利益的事实，我国依据《不可靠实体清单规定》，果断将洛克希德·马丁公司、雷神导弹与防务公司两家外国实体列入不可靠实体清单。我国政府实施这一行动（ ）

- ①是基于我国核心利益和国家实力作出的抉择 ②说明国家主权是至高无上的排他性政治权力
③彰显了我国维护国际和平与安全的国际责任 ④履行了防御外来侵略，保卫国家安全的职能
A. ①② B. ②③ C. ①④ D. ③④

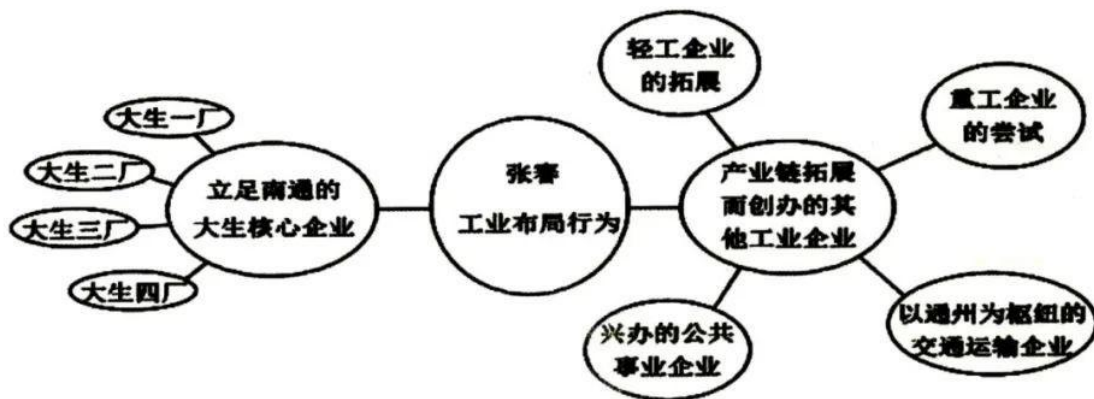
22. 17岁的姚某靠搬运货物为生。2022年11月20日，王某雇姚某搬运家具，姚某在搬运家具上楼时，不幸将该楼邻居家7岁的小男孩李某撞倒，致其滚下楼梯摔伤，入院治疗花去医药费近2万元，现李某的父母欲通过诉讼要求赔偿。该案中（ ）

- ①李某的生命权和健康权受到侵犯 ②原告为李某，被告为王某，王某应承担赔偿责任
③姚某是完全民事行为能力人，是本案的被告 ④李某的父母可以作为原告的诉讼代理人
A. ①② B. ①③ C. ②④ D. ③④

23. 某校高三（3）班同学围绕“人生发展”召开主题班会，下列对同学们的见解进行逻辑分析正确的是（ ）

序号	见解	逻辑分析
①	不为未知的将来担忧，只为清楚的现在努力，	这是一个不相容选言判断
②	中国人民是勤劳勇敢的，我是中国人，我也是勤劳勇敢的。	犯了“四概念”的错误
③	无学习之浇灌，人生之树绝不会花蕾满枝。	可推出“人生之树花蕾满枝，必有学习之浇灌”
④	机会总是留给有准备的人，我们要做有准备的人！	这是一个不完全归纳推理

- A. ①② B. ①④ C. ②③ D. ③④
24. 据考古发现, 商代妇女可以参与政治生活, 如商王武丁的妻子妇好不仅名字出现在多件器物上且相传还领兵作战, 此现象在周代几乎不存在。这一变化
- A. 强化了周天子共主地位 B. 避免了政治动荡的发生
C. 源于周代宗法制的推行 D. 吸取了商亡的历史教训
25. 王莽在分析汉代田赋时指出, 汉朝减轻了田租负担, 采用“三十税一”的制度。豪强侵占农民土地后, 依附豪强的农民要按照“什税五”的标准向其上交收获, 豪强则按照“三十税一”的标准再向中央纳税。这说明
- A. 王莽为代汉自立寻找理由 B. 西汉佃农的经济负担沉重
C. 地方拥有独立的赋税体系 D. 豪强对中央集权产生威胁
26. 近千年来, 关于王安石变法的评价, 存在着相当大的争议。宋人邵伯温说: “王荆公(安石)为相, 寝食不安, 尽变更祖宗法度……以至今日之祸(指靖康之变)!” 而近代维新人士梁启超认为: “王安石变法取尧舜以来之掣政而一扫之。实国史上、世界史上最有名誉之社会改革也。” 对此, 下列说法最为合理的是 ()
- A. 史家主观认识影响史事客观评价 B. 历史人物评价永远难有定论
C. 多数人的意见更能反映历史真相 D. 时代愈近历史的评价愈客观
27. 据统计, 在传统皇位继承制中, 中国封建社会出现了 30 多位十岁以下的娃娃皇帝; 同时, 皇帝昏庸屡见不鲜。为避免这些弊端, 清代在秘密建储制度下选拔出来的皇帝, 不再以嫡长子作为皇太子: 雍正是康熙第四子, 乾隆为雍正第四子, 嘉庆为乾隆第十五子。清代秘密建储制度旨在
- A. 解决皇权弱化的历史教训 B. 维护中枢系统运作规范化
C. 巩固清王朝封建专制统治 D. 彰显皇权至高无上的地位
28. 下图为民族资本家张謇从甲午战后到 20 世纪 20 年代左右创办的主要工业企业及其布局行



- A. 延续了洋务运动的企业经营理念 B. 全面实现了实业救国的抱负
C. 推动中国工业布局发生重大变化 D. 致力于构建完整的经济体系
29. 《中国的 1936 年：两种命运的决战》一书中叙述：说起 1936 年的中国，也发生了很多重大的事情、在中国革命和中华民族处于生死攸关的历史时刻，中国的大西北就先后发生了两件几乎堪称“扭转时局”的政治事件。这两个政治事件的共同点是
- A. 开辟中国革命新道路 B. 结束了国共十年对峙局面
C. 积聚了民族救亡力量 D. 推翻了北洋军阀反动统治
30. “投机倒把罪”原意指看准时机行情，转手倒卖，以攫取暴利的非法活动。当代中国史上的投机倒把，针对小商小贩，甚至一般私营工商业。在建国初兴起，罪名一度加重，随着改革开放逐步退出历史舞台。比如改革之初，关于“长途贩运”，经济学家薛暮桥就质问：“让山货土产烂在山上是‘社会主义’，把它们运出来满足城市人民需要倒是‘资本主义’，哪有这样的道理？”该罪名
- A. 兴衰历程反映了我国经济体制变迁 B. 初期针对新民主主义革命打击对象
C. 被否定是改革城市经济体制的需要 D. 在中国当代史上长期推动经济进步
31. 伯里克利的政敌将修建大型公共建筑视为他个人意志的体现，抨击他挥霍无度，浪费公帑。民众也随声抱怨，认为开销过大。于是，伯里克利便称愿意自掏腰包修建公共建筑，但要将自己的名字刻在石碑上。民众闻之立即表示，他可以随意从国库中取钱修建公共建筑，不用吝啬钱财。由此可知
- A. 伯里克利成功挫败政敌 B. 雅典民众城邦意识强烈
C. 公共建筑项目走出危机 D. 雅典保留贵族政治传统
32. 加尔文鼓励经商致富，宣称做官执政，蓄有私产，贷款取利，同担任教士职务一样，均可视为受命于上帝；他反对唱歌，跳舞和穿漂亮衣服，取消演戏和赌博等。这些都

- A. 论证了资产阶级致富穷人受难的上帝旨意
- B. 借助了上帝揭示资本主义经济运行的规律
- C. 反映了资产阶级发展资本主义经济的愿望
- D. 成为了欧洲美洲资产阶级革命的思想武器

33. 下图为 1917 年 4 月发表的漫画《挑选服装》，漫画中山姆大叔的外衣已经破旧不堪，他站在一排新衣面前进行挑选。三件样衣，从左至右依次是：“与德国单独作战”“美国军队加入协约国”“对协约国提供经济援助”。该漫画可用来说明当时美国



- A. 欲放弃中立政策
- B. 担心介入欧洲的纷争
- C. 综合国力的强大
- D. 与德国矛盾不可调和

34. 据西方学者统计，1913 年俄国粮食产量为 8600 万吨，1953 年苏联粮食产量为 8250 万吨，据此得出“苏联计划经济导致农业落后”的结论。另据学者查证，1909—1913 年粮食年均产量为 7250 万吨，1951—1955 年年均为 8850 万吨。据此可知

- A. 政权更迭引起产量变化
- B. 计划经济利于农业持续发展
- C. 意识形态影响研究结论
- D. 管理体制导致苏联农业落后

35. 二战后，美国海外军事开支和各种“援助”名目繁多，50 年代平均每年 53 亿美元，60 年代平均每年近 60 亿美元，70 年代前 3 年平均达 71 亿美元。这说明

- A. 战后美国对外扩张政策具有连续性
- B. 以美元为中心的经济霸主地位的稳固
- C. 军备竞赛导致了美国经济不堪重负
- D. 美国对外援助改变了国际政治秩序

二. 非选择题 (共 160 分)

36. (26 分) 阅读图文资料, 完成下列要求。

材料一 凉山彝族自治州位于四川省西南部, 长期以来为彝族等少数民族聚居区, 在自然地理单元及人文景观上都是一个相对独特的区域。境内地貌复杂多样, 高山、深谷、平原、盆地、丘陵相互交错。凉山彝族自治州干热河谷地区“干热”的气候特征, 严重限制了森林植物种类及其分布, 导致森林生态系统十分脆弱。图 1 为凉山州地形图, 图 2 为凉山州气候资料。

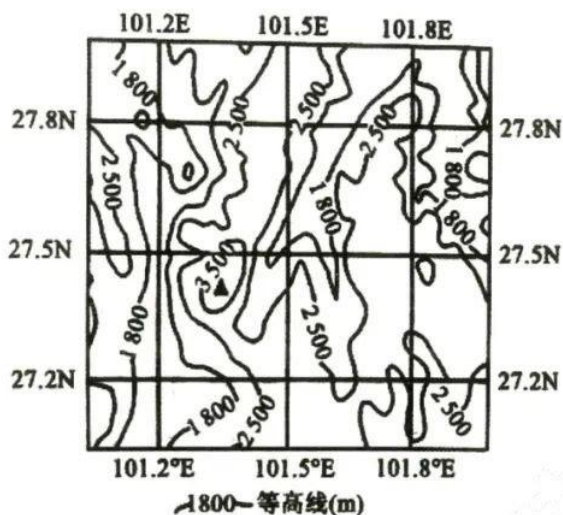


图1

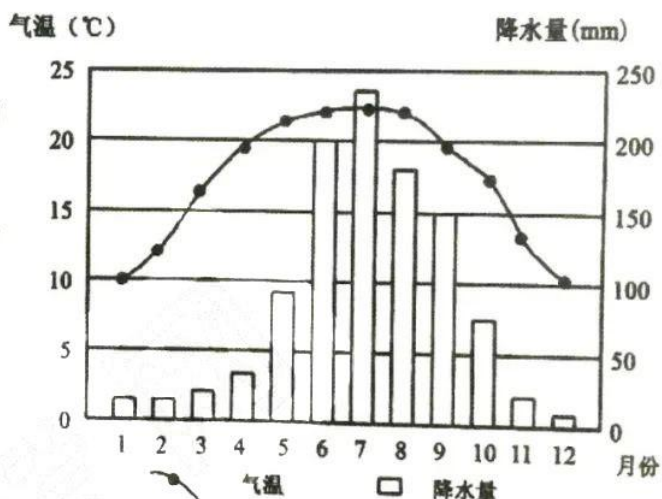


图2

材料二 查尔瓦(用羊毛、牦牛毛纺织而成, 能挡风御寒)是凉山彝族最具代表性的服饰(如图), 延续两千多年, 伴随着凉山彝族社会历史发展一直存留至今, 这不能不说是一个奇迹。

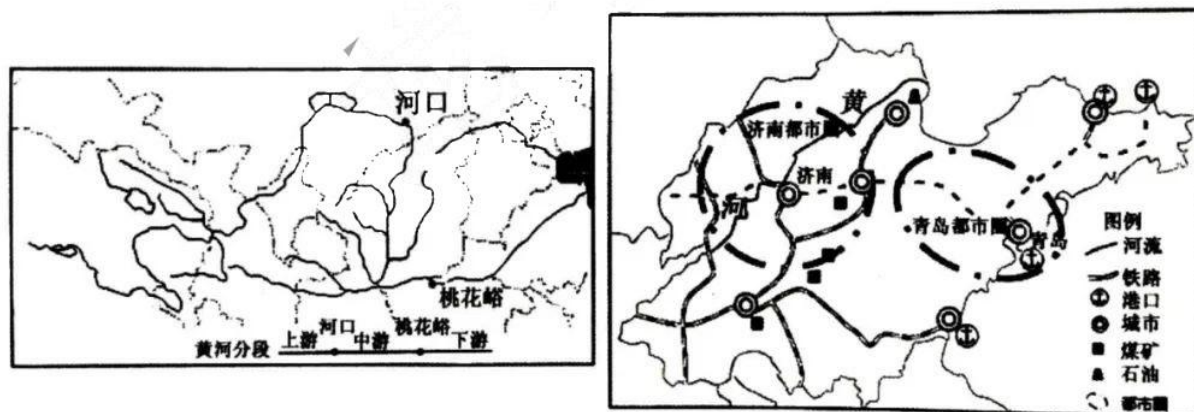


- (1) 从地形角度, 分析凉山州河谷地区干热气候特征的形成原因。(6分)
- (2) 凉山彝族自治州4-9月的降水量占全年降水量的80%以上, 并且多夜雨。试简述原因。(6分)
- (3) 分析凉山彝族自治州干热河谷地区森林火灾具有一定的季节性且扑救困难的原因。(8分)
- (4) 有人说, 查尔瓦这种服饰保留至今是自然选择的结果, 请说明理由。(6分)

37. (30分) 阅读材料, 回答下列问题。

黄河是中华民族的母亲河, 水资源总量不到长江的7%, 人均占有量仅为全国平均水平的27%, 水资源开发利用率高达80%, 远超一般流域40%生态警戒线。黄河流域生态保护和高质量发展已被列为重大国家战略。中央财经委员会第六次会议指出, 黄河流域必须下大气力进行大保护、大治理、走生态保护和高质量发展的路子。要发挥山东半岛城市群龙头作用, 推动沿黄地区中心城市及城市群高质量发展。

青岛地处山东半岛东南部沿海, 拥有国际性海港和区域性枢纽航空港。青岛港集装箱吞吐量位居全球第六、东北亚第一, 其集装箱航线数量和密度已稳居中国北方港口首位, 同时依靠全自动化5G智慧码头技术结合智慧监管模式, 大幅压缩货物通关时间。目前青岛正积极探索构建“港口+产业+城市”的可持续发展新模式, 促进港口与城市协同联动发展。构建新型区域一体化发展格局。下图分别为黄河流域图、山东半岛城市群图。



- (1) 比较黄河河南段与宁夏段水文特征的差异。(6分)
- (2) 为推进黄河流域生态保护和高质量发展, 请简述流域内工业和农业的产业发展方向。(6分)
- (3) 山东半岛城市群是带动沿黄城市群高质量发展的龙头, 其发展的优势条件有哪些?(10分)
- (4) 从港口和城市协同联动发展角度, 说明青岛构建“港口+产业+城市”发展模式的意义。(8分)

高三文综试卷(四)第11页(共16页)

38. 阅读材料，完成下列要求。(10分)

民有所盼，政有所为。中国政府网《我向总理说句话》栏目，在广泛听取社会各界对政府工作意见建议、回应社会关切中发挥着重要作用。

网民

我是一名货车司机，现在的高速公路服务区晚上停车太难了，车位不够用。可否增加或扩建服务区呢？可不可以把原来的省界收费站作为停车场呢？

今年指导各地通过设置潮汐车位、扩大部分服务停车区面积等方式，切实缓解货车“停车难”问题。对于留言人提出的将省界收费站改造为停车区的建议，我们十分赞同。我们将积极指导各地，在统筹应急、养护、服务、监督检查和公安查控等工作需要的基础上，进一步加强对原省界收费站区域的综合利用，更好满足货车停车停放需求、服务货车司机出行。

交通运输部

网民

防治白色污染，不能一句“禁塑”了事。目前海洋生态治理和修复缺少“一盘棋”理念，治理修复工程分散化、碎片化，未能形成治理合力。建议树立全国一盘棋的协同发展理念，建立“海上环卫”工作机制，加强陆海规划协同，加快区域规划协同，落实规划实施协同。深化治理督查协同，加速推动全国海洋生态治理和修复。

感谢网民对海洋塑料垃圾治理工作的关心。“十四五”期间，生态环境部等有关部门将依据职责分工，强化塑料垃圾河海兼治，实施海湾、岸滩等区域塑料垃圾专项清理，推动沿海市县建立海洋塑料垃圾清理工作长效机制。

生态环境部

运用《政治与法治》知识，阐释上述“留言与回应”对建设法治政府的共同价值。

39. 阅读材料，完成下列要求。(10分)

一盏茶里见乾坤。

中国是茶文化的故乡，中华民族五千年文明画卷，每一卷都飘着清幽茶香，折射出世界人民对“谦、和、礼、敬”观念的共同追求。悠长岁月中，中国茶随“茶马古道”“丝绸之路”走向世界，融入不同肤色人们的生活中，成为全人类美好独特的东方记忆。去年岁末，“中国传统制茶技艺及其相关习俗”成功入选联合国非物质文化遗产代表作名录，茶香在新时代焕发着新的生命力，以这个时空特有的形态，滋养着人心深处的柔软。

结合材料，运用“矛盾问题的精髓”的哲学知识，对“中国茶成为全人类美好独特的东方记忆”进行分析。

40. 阅读材料，完成下列要求。(10分)

数字外交是指以数字技术为支撑、利用数字平台和数字手段开展外交的活动。既包括传统外交的数字化，也包括通过数字平台实施的数字公共外交。

注释：传统外交：一国政府对其他国家政府开展的外交活动。公共外交：政府或政府支持下的实体针对外国公众开展的外交活动。

场景一：除主权国家外，国际组织、跨国公司、科学家共同体以及广大民众是数字时代国际关系的重要参与者。在数字外交场景下，外交行为体和公众间通过社交媒体、网络进行交谈与倾听，实现双向信息沟通和传播。

场景二：习近平主席以视频方式出席了《生物多样性公约》第15次缔约方大会、第76届联合国大会一般性辩论、上海合作组织成员国元首理事会、金砖国家领导人峰会等，全面阐发了中国在各个全球治理议题上的主张和方案，向全球发出了践行真正的多边主义的倡议。

场景三：中国公民在海外如遭遇紧急情况，除拨打12308热线，还可以通过“中国领事”App寻求帮助：护照和应急旅行证的网上申办、海外人员养老金的资格审核等都可以通过网络高效快捷地完成。

结合材料，分析我国发展数字外交的原因。

41. 阅读材料，完成下列要求。（12分）

销售者在二手商品网站从事经营活动构成欺诈的，应当承担惩罚性赔偿责任。

相关材料：《消费者权益保护法》第55条第一款是关于欺诈行为的赔偿。规定的具体内容是：经营者提供商品或者服务有欺诈行为，应当按照消费者的要求增加赔偿其受到的损失，增加赔偿的金额为消费者购买商品的价款或者接受服务的费用的三倍。

以下是某典型案例的具体信息：

【交易过程】

杨某在某二手商品网络交易平台发布二手“某知名品牌无线耳机”的交易信息，称其系全新官方正品，现闲置低价转让。高某向杨某确认全部信息属实后，通过二手商品网络交易平台与杨某达成交易。

【诉讼请求】

高某收到耳机后，发现该无线耳机系假冒产品，且杨某以同样宣传方式已销售同款无线耳机40余笔。高某认为杨某销售行为构成欺诈，遂向法院提起诉讼，请求判令杨某返还已支付的购物款并承担价款三倍的惩罚性赔偿责任。

【判决结果】

法院认定，杨某在二手网络交易平台假借出售个人闲置物品的名义长期从事经营性销售活动，

并以虚假宣传的方式销售假冒商品，属于商业性经营行为，构成销售欺诈。法院支持高某主张杨某依据《中华人民共和国消费者权益保护法》承担经营者责任的诉求请求，判令杨某退还高某已支付的商品价款并承担商品价款三倍的惩罚性赔偿。

结合材料，运用《法律与生活》的相关知识分析

(1) 法院支持高某诉求的理由。(6分)

(2) 此典型案例给消费者维权的启示。(6分)

42. 阅读材料，完成下列要求。(10分)

党的二十大报告中指出：教育、科技、人才是全面建设社会主义现代化国家的基础性、战略性支撑。我们要坚持教育优先发展、科技自立自强、人才引领驱动，加快建设教育强国、科技强国、人才强国，坚持为党育人、为国育才，全面提高人才自主培养质量，着力造就拔尖创新人才，聚天下英才而用之。

创新思维是高素质人才的重要特征，有人据此认为：联想是创新思维的基础，只要善于联想就能成为高素质人才。运用《逻辑与思维》的知识对此加以评析。(10分)

43. 阅读材料，完成下列要求。(25分)

材料一

中国历史上曾经存在各种选拔人才的标准，或以血统，或以军功，或以赏财，或以德行，或以才干等。除夏商周时期是以血缘为唯一标准外，其余大部分时期，德与才都是文官选拔标准的主旋律。夏商周三代官吏的选拔范围严格限制在血缘关系之内，他们遵从的是以血缘关系的亲疏来确定官职高下的“亲贵合一”制度。春秋战国时期，各国诸侯国纷纷摒弃以血缘为标准的选拔制度，打破了贵族制人事制度下的等级界限，使一些有才能而出身卑微的人得到重用。隋唐时期，创立了科举制，把平等竞争机制引入选官制度，向社会各阶层人士敞开了入仕的大门。入宋，工商杂员子弟亦被允许报考，甚至僧侣道士也能应试。

——摘编自张国安《中国古代文官选拔制度及其现代借鉴》

材料二

孙中山认为，治国关键在于选拔和任用官员，国家机关是由大小各种官吏管理运转的。官吏的好坏称职与否，直接影响着国家管理的成败。西方资产阶级国家实行常任文官制，一般只对普通文

高三文综试卷(四)第14页(共16页)

官即“下级官吏”实行考试，而“委任官”亦即政务官则通过直接选举或委任制产生，这具有严重缺陷。实行考试制度，不仅能保证人民选用德才兼备的“专门家”组成国家官吏队伍，且符合中国国情和传统。在孙中山看来，考试是实现平民政治、平等政治的美意良制。考试以其公平性在形式上为无论贫富贵贱的人提供了一个均等机会，特别有助于社会底层成员通过努力读书实现社会阶层流动，改变自己的地位。

——摘编自魏春明《民国时期文官考试制度研究》

- (1) 根据材料一并结合所学知识，概括中国文官选拔制度的变化趋势及影响。(12分)
- (2) 根据材料二并结合所学知识，简析孙中山力主考试选用官员的原因。(8分)
- (3) 根据上述材料并结合所学知识，说明影响一个国家文官选拔的因素。(5分)

44. 阅读材料，完成下列要求。(12分)

材料 14—17 世纪中外部分著作

中国			西欧		
作者	著作	成书时间	作者	著作	成书时间
李时珍	《本草纲目》	1578 年	薄伽丘	《十日谈》	1353 年
李贽	《焚书》	1590 年	伊拉斯谟	《愚人颂》	15 世纪末
宋应星	《天工开物》	1637 年	哥白尼	《天体运行论》	1543 年
徐光启	《农政全书》	1639 年	莎士比亚	《哈姆雷特》	1602 年
徐霞客	《徐霞客游记》	1642 年	塞万提斯	《堂吉珂德》	1615 年
黄宗羲	《明夷待访录》	1663 年	哈维	《血液循环论》	1628 年
顾炎武	《日知录》	1670 年	伽利略	《两大体系的对话》	1632 年
王夫之	《读通鉴论》	1692 年	牛顿	《自然哲学的数学原理》	1687 年

材料反映了 14—17 世纪中西方历史发展的一些相似与不同之处。请任选一个角度，自拟论题，并结合所学知识予以阐述。(要求：论题明确，史论结合，表述清晰)

45. (15分) 阅读材料, 完成下列要求。

材料一 1954年通过的《中华人民共和国宪法》规定:“中华人民共和国劳动者在年老、疾病或者丧失劳动能力的时候, 有获得物质帮助的权利; 国家举办社会保险、社会救济和群众卫生事业, 并且逐步扩大这些设施, 以保证劳动者享受这种权利。”1955年, 国家建立了机关事业单位工作人员的养老保险制度。1958年, 根据当时的实际情况, 将企业和机关事业单位的两个养老保险制度在适当放宽养老条件和提高待遇标准的基础上作了统一规定, 并一直沿用到1978年。

——摘编自马杰、郑秉文《计划经济条件下新中国社会保障制度的再评价》

材料二 2021年3月11日, 十三届全国人大四次会议批准的《中华人民共和国国民经济和社会发展第十四个五年规划和2035年远景目标纲要》第四十五章第三节中明确指出, 延迟法定退休年龄主要是基于4个方面的考虑, 即人均预期寿命提高、人口老龄化趋势加快、受教育年限增加、劳动力结构变化。“按照小步调整、弹性实施、分类推进、统筹兼顾等原则, 逐步延迟法定退休年龄”。截至2021年9月23日, 北京、湖南、江西等21个省份已完成意见征求工作。

——摘编自人民网

- (1) 根据材料一并结合所学知识, 指出中国社会保障制度的特点。(6分)
- (2) 根据材料一、二并结合所学知识, 谈谈我国养老保险制度改革必须注意的问题。(9分)

关于我们

自主选拔在线是致力于提供新高考生涯规划、强基计划、综合评价、三位一体、学科竞赛等政策资讯的升学服务平台。总部坐落于北京, 旗下拥有网站(网址: www.zizzs.com)和微信公众平台等媒体矩阵, 用户群体涵盖全国90%以上的重点中学师生及家长, 在全国新高考、自主选拔领域首屈一指。

如需第一时间获取相关资讯及备考指南, 请关注**自主选拔在线**官方微信号: **zizzsw**。



微信搜一搜

自主选拔在线

