

怀仁一中高三年级第三次模拟考试

文科综合试题

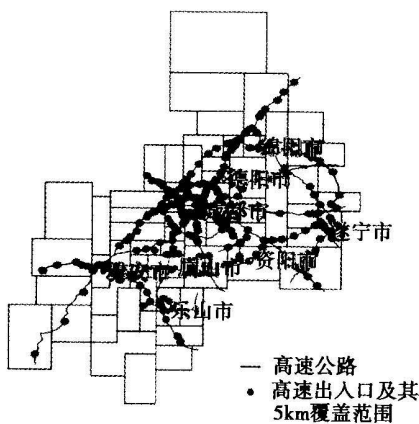
全卷满分 300 分,考试时间 150 分钟。

注意事项:

1. 答卷前,考生务必将自己的姓名、准考证号填写在答题卡上,并将条形码粘贴在答题卡上的指定位置。
2. 回答选择题时,选出每小题答案后,用铅笔把答题卡上对应题目的答案标号涂黑。如需改动,用橡皮擦干净后,再选涂其他答案标号。回答非选择题时,将答案写在答题卡上。写在本试卷上无效。
3. 考试结束后,将本试卷和答题卡一并收回。
4. 本卷主要考查内容:高考范围。

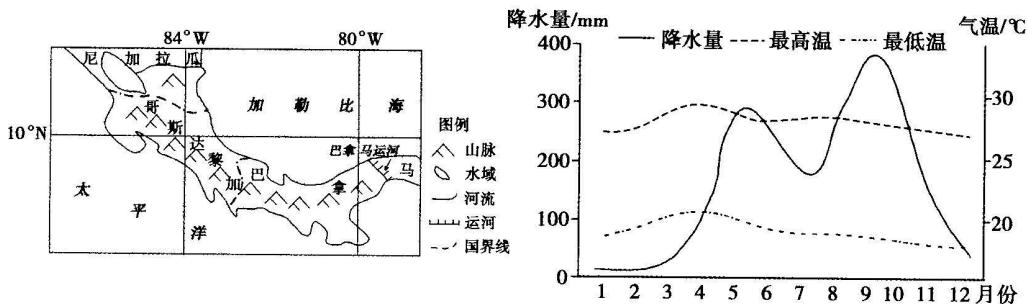
一、选择题:本题共 35 小题,每小题 4 分,共 140 分。在每小题给出的四个选项中,只有一项是符合题目要求的。

成都平原经济区是四川省产业基础好、经济发展活跃、创新能力强、开放程度高的区域。高速公路是成都平原经济区内部联系的重要通道。下图示意成都平原经济区高速公路布局。读图,完成 1~3 题。



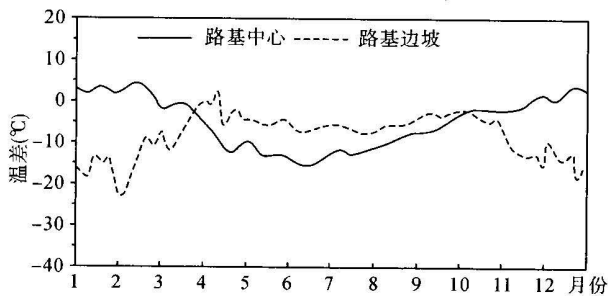
1. 成都平原经济区高速公路的布局特点是
A. 成都市布局松散
B. 以环形为主
C. 向东南方向放射多
D. 中间稀疏,南北密集
2. 推测经济联系最为密切的是
A. 成都—遂宁
B. 眉山—雅安
C. 成都—绵阳
D. 德阳—绵阳
3. 为优化成都平原经济区高速公路布局,建议
①成都西侧加密高速公路网 ②成都东侧增设高速出入口 ③加强高速公路与其他枢纽的衔接 ④向中心城区内延伸高速公路
A. ①③
B. ②③
C. ①④
D. ②④

哥斯达黎加的降水呈现双峰分布,雨季之间有仲夏旱季和凉爽旱季。受制于气候条件和种植技术,哥斯达黎加过去大量进口粮食。近年来,哥斯达黎加扩大水稻种植面积,为解决仲夏旱季缺水问题,当地推广生物炭添加技术,通过在水稻田添加生物炭,增强土壤蓄水能力。下面左图示意哥斯达黎加的位置,右图示意哥斯达黎加的气候。读图,完成4~6题。



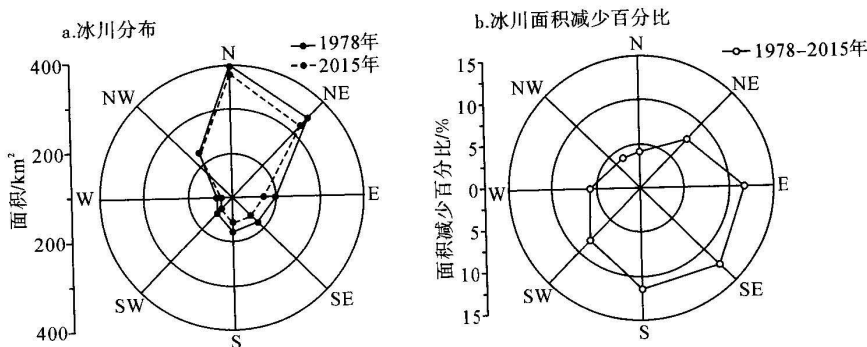
4. 哥斯达黎加扩大水稻种植面积,主要为了
 - A. 增加农业出口
 - B. 增加膳食营养
 - C. 发展舍饲养殖
 - D. 保障粮食安全
5. 哥斯达黎加生物炭添加技术主要用于仲夏旱季,主要因为仲夏旱季
 - A. 旱情较短
 - B. 热量充足
 - C. 光照适宜
 - D. 温差较大
6. 生物炭添加技术主要改变的水循环环节是
 - A. 降水
 - B. 下渗
 - C. 蒸发
 - D. 地下径流

阿拉斯加某公路段海拔 649 米,1 月平均气温 -25.2°C ,7 月平均气温 14.1°C ,多年冻土广布。每年积雪期,路政养护部门及时清除路基中心的积雪,路基边坡的积雪自然保留。观察表明,每年春季路基边坡的融雪速度比公路外的开阔空地更快。下图示意路基中心和路基边坡近地面气温和地表温度的温差年内变化。读图,完成7~8题。



7. 冬季造成路基中心和路基边坡气—地温差差异的主要原因是
 - A. 路基中心裸露地表比热容小
 - B. 路基中心裸露地表导热性强
 - C. 路基边坡积雪阻隔地气热量交换
 - D. 路基边坡积雪提高地表反射率
8. 路基边坡的融雪速度比开阔空地更快,主要是因为
 - A. 路基中心热量侧向传导
 - B. 路基内部蓄积热量释放
 - C. 路基边坡斜面面积雪较薄
 - D. 路基边坡融雪径流侵蚀

冰川是一种极地或高山地区多年降雪累积、经过复杂成冰作用形成的天然冰体,能够在压力和重力作用下,沿着一定的地形向下滑动。冰川对气候变化反应极为敏感,山岳冰川尤为如此。下图示意喀喇昆仑山克勒青河流域不同坡向冰川分布面积与 1978~2015 年面积减少百分比。读图,完成9~11题。



9. 下列关于冰川面积变化特点的叙述, 正确的是
- A. 各坡向面积均衡减少
B. 正南坡面积最大
C. 东北坡面积减少最大
D. 东北坡面积减少百分比最大
10. 喀喇昆仑山北坡冰川面积减少百分比比较小, 其原因是北坡
- ①降水量多 ②太阳辐射弱 ③蒸发量大 ④冰川规模大
- A. ①②
B. ②③
C. ③④
D. ①④
11. 下列遏制冰川面积变化的措施, 可行的是
- A. 禁止化石燃料使用
B. 淘汰燃油车
C. 开发利用新能源
D. 禁止开发热带雨林
12. 发轫于党的十一届三中全会的改革开放, 在 40 多年的探索中, 坚持解放思想、实事求是, 大胆地试、勇敢地改; 从实行家庭联产承包、支持乡镇企业迅速发展、取消农业税、牧业税和特产税到农村承包地“三权”分置、打赢脱贫攻坚战、实施乡村振兴战略……改革开放
- ①为当代中国一切发展进步奠定了根本政治前提和制度基础 ②是中国的基本国策, 永无止境没有完成时 ③是坚持和发展中国特色社会主义的必由之路 ④是中华人民共和国成立以来党的历史上具有深远意义的伟大转折
- A. ①②
B. ①③
C. ②④
D. ③④
13. 党的十九届六中全会通过的《中共中央关于党的百年奋斗重大成就和历史经验的决议》, 科学阐明了习近平新时代中国特色社会主义思想的理论内涵和重大意义: 习近平新时代中国特色社会主义思想是当代中国马克思主义、二十一世纪马克思主义, 是中华文化和中国精神的时代精华, 实现了马克思主义中国化新的飞跃。下列关于习近平新时代中国特色社会主义思想的说法正确的是
- ①习近平新时代中国特色社会主义思想的核心内容是“十个明确”和“十四个坚持” ②是检验当代中国社会主义建设中的是非曲直的标准 ③是党和国家必须长期坚持的指导思想 ④是习近平同志对当今时代的理论思考和理论贡献
- A. ①②
B. ①③
C. ②④
D. ③④
14. 习近平总书记强调: “要坚定不移深化国有企业改革, 着力创新体制机制, 加快建立现代企业制度, 发挥国有企业各类人才积极性、主动性、创造性, 激发各类要素活力”。国企混合所有制改革有利于
- ①健全市场化经营机制, 让国有企业活力更充沛 ②使国有资产在社会总资产中占优势 ③更好地发挥国有经济在国民经济中的主体作用 ④加快国有经济布局优化和结构调整, 让国有企业实力更强劲
- A. ①②
B. ①④
C. ②③
D. ③④

15. 2022 年以来,我国进一步加大宏观政策调节力度,高效统筹疫情防控和经济社会发展,出台实施积极的财政政策和稳健的货币政策。政策组合拳的时间效应、集成效应、协同效应、引导效应、创新效应持续显现,保持了经济社会发展大局总体稳定。关于我国当前宏观经济政策下列推导正确的是
- ①央行逆回购→增加货币的流通量→减少通货紧缩压力→提振金融市场信心 ②中央安排财政资金贴息→小微企业可获得优惠低息贷款→缓解企业资金压力→促进企业发展 ③实施积极的财政政策→降低增值税的起征点→企业税负降低→保护企业后续发展 ④实施稳健的货币政策→下调存款准备金率→拓宽企业融资渠道→降低企业投资风险
- A. ①② B. ①④ C. ②③ D. ③④
- 16.《中国的民主》白皮书指出,实行民族区域自治,从制度和政策层面保障了少数民族公民享有平等自由权利以及经济、社会、文化权利。下列关于民族区域自治制度说法正确的是
- ①民族区域自治制度以领土完整、国家统一为前提和基础 ②是中国特色解决民族问题的正确道路的重要内容和制度保障 ③是我国的根本政治制度,是人民当家作主制度体系的重要组成部分 ④在实践中推动了各民族同步富裕
- A. ①② B. ①④ C. ②③ D. ③④
17. 法治政府建设是全面依法治国的重点任务和主体工程,是推进国家治理体系和治理能力现代化的重要支撑。习近平总书记指出:“坚持人民主体地位,必须坚持法治为了人民、依靠人民、造福人民、保护人民。”我国的法治政府建设需要
- ①确保依法行政,符合人民意志、维护人民权益 ②提升行政执法水平,努力让人民在行政执法中感受到公平正义 ③坚持民主立法,健全立法机关和社会公众的沟通机制 ④加快转变政府职能,着力打造服务型政府
- A. ①② B. ①③ C. ②④ D. ③④
18. 在 2022 年北京冬奥会上,体育明星谷爱凌的数智分身“MEET GU”、百度智能云 AI 手语主播、腾讯 3D 手语数智人“聆语”、AI 气象服务虚拟人“冯小殊”纷纷上岗。虚拟数字人的背后是深度合成技术的应用与发展,是社会创造活力的体现,广泛应用于社会各个领域。然而深度合成技术随之带来的还有“深度伪造”,深度合成技术的恶意伪造内容通常迎合大众猎奇心理,具有极强的意识塑造能力。对深度合成技术应用的分析意在说明
- A. 主要矛盾在事物发展过程中处于支配地位,起决定作用
B. 矛盾的同一体寓于斗争性之中,并为斗争性所制约
C. 重点把握深度合成技术的次要矛盾,消除合成技术的恶意使用
D. 先进技术的使用,需要我们深刻把握矛盾主次方面的辩证关系
19. 近日,某校师生在“演绎党史故事·传承红色精神”主题党日活动中,师生通过拍摄微电影、创作舞台剧、话剧,参加短视频大赛等方式,亲身演绎红色故事,深刻理解中国共产党辉煌历史,同时充分挖掘校内外“红色影视”资源、密集展播,让红色影片成为校园里的热剧,用红色影视浸润心灵。通过多种方式身临其境地感受“红色故事”有利于
- ①发挥文化引领风尚、教育人民、服务社会的功能,引导师生坚定爱党爱国的信念 ②实现对中华优秀传统文化的创造性转化和创新性发展,赋予优秀传统文化新内涵 ③推动文化事业和文化产业的发展,激发红色文化中的巨大经济效益 ④厚植革命情怀,浸润青年学生的思想和灵魂,激发他们的认同感、使命感
- A. ①③ B. ①④ C. ②③ D. ②④

20. 世贸组织(WTO)发布最新贸易数据预测,称由于受新冠疫情等各种因素的影响,全球经济前景黯淡,预计2022年全球商品贸易量将增长3.0%,低于之前预测的4.7%。WTO评估,新冠疫情等各种因素对经济的最直接影响是食品、能源、化肥和部分重要矿产价格大幅飙升。随着商品需求激增,全球基本供应面临巨大通胀压力和供应链压力。材料说明
- ①世界经济的不平衡性始终是阻碍经济全球化发展的主要因素 ②和平是促进各国共同发展的前提条件,发展是保持世界和平的重要基础 ③非传统安全日益成为影响人类生存与发展的重要因素 ④世界经济发展中的不确定性凸显人类命运休戚与共
- A. ①② B. ①③ C. ②④ D. ③④
21. 2022年6月30日,国务委员兼外长王毅在北京以视频方式出席“上海合作组织:历史、现状和前景”圆桌会议并发表致辞。王毅强调,中方愿与上合组织成员国一道,大力弘扬“上海精神”,勇于破解时代课题,展现应有的责任担当,推动构建更加紧密的上合组织命运共同体。这要求我们
- ①把握历史方位,加强团结协作,应对风险挑战,筑牢安全屏障 ②增进人民福祉,推进互利合作,维护公平正义,完善全球治理 ③要依据国家利益和联合国宗旨确定自己的外交政策和外交立场 ④将积极推进多极化、构建和谐世界作为我国外交政策的基本目标
- A. ①② B. ①④ C. ②③ D. ③④
22. 2022年5月21日,奥迪公司及影视明星刘德华就广告片《人生小满》涉嫌抄袭事件向抖音博主“北大满哥”致歉。事件中,奥迪公司将广告创意外包给某广告创意代理公司。事后,奥迪公司第一时间下架了相关视频;广告创意代理方则表示将尽最大努力弥补原作者损失;刘德华表示尊重原创、尊重知识产权。下列对此次事件分析正确的是
- ①刘德华需要承担著作权侵权的责任 ②奥迪公司将其侵权责任转嫁给广告创意公司了,所以无需承担侵权责任 ③奥迪公司系该广告的著作权人,且对该广告的制作享有决定权,应该承担法律责任 ④奥迪公司可依据相应的广告代理合同的约定,去追究代理公司的违约和损害赔偿责任
- A. ①② B. ①③ C. ②④ D. ③④
23. 李芳和王丽在分析逻辑思维规则的问题上遇到了瓶颈,请你帮他们作出正确的选择
- ①小明的爸爸是隐藏战线的武警人员,小明见到武警工作人员说:“我知道你不是爸爸,但我知道你是最棒的爸爸。”——小明的前后概念一致,遵循了同一律 ②病人对医生说:“我什么都不记得了。”医生问:“这种症状从什么时候开始的?”甲说:“上个月做完开颅手术后就开始。”——病人的观点违反了矛盾律 ③“戏剧分为悲剧、喜剧、舞剧、话剧、地方剧、儿童剧等”——犯了越级划分的错误 ④“人是能思维的,人是动物,所以所有动物都是能思维的”——犯了小项不当扩大的错误
- A. ①③ B. ①④ C. ②③ D. ②④
24. 公元前500年,齐国和燕国铸造了形状不同的刀币。公元前355年,秦国开始使用半两钱,而楚国使用铜铸布币。这一现象
- A. 加剧了区域间经济发展的不平衡 B. 阻碍了区域间经济贸易往来
C. 适应了多民族国家统治的需要 D. 导致了地方割据势力的膨胀
25. 《北齐律》将最严重的犯罪概括为“重罪十条”,予以严惩。它们是“一曰反逆,二曰大逆,三曰叛,四曰降,五曰恶逆,六曰不道,七曰不敬,八曰不孝,九曰不义,十曰内乱。”严惩十条“重罪”有助于
- A. 社会秩序的稳定 B. 杜绝贵族专权行为
C. 确立儒学正统地位 D. 实现社会公正公平

26. “自宋以降,仗义死节之士远轶前古,论者以为程朱讲学之效。”这表明程朱理学思想
- A. 完成了儒家信仰体系的重建
B. 强化封建伦理纲常
C. 重新确立了儒学的正统地位
D. 具有社会教化功能
27. 郑和下西洋期间,在同南洋、印度洋、东非国家或地区进行商品交易过程中,对运去的中国丝织品、百货等商品,逐一议定价格,并把价格列入书面合同,双方保存,再不悔改。这主要体现了
- A. 互惠互利的外交政策
B. “重义轻利”的儒家思想
C. 诚实守信的契约精神
D. “厚往薄来”的朝贡贸易
28. 据 20 世纪初《青浦县乡土志》记载,“自上海租界北辟,男以鬻贩营生而奢华渐启,女以纱丝工作而礼教鲜存矣。”这反映了
- A. 妇女社会地位的提高
B. 工业文明带来的嬗变
C. 民众生活的殷实富足
D. 儒学正统地位的动摇
29. 中国近代地方史学者刘大鹏在《退想斋日记》中记载,“1923 年,晋商出境往直隶和石家庄,每日行十数火车,每车运载新斗可三百石。粮因出境,价又增加”“1932 年,外省之粟由铁路来晋者不少,吾晋之粮价逐渐减少也。”据此可知,交通方式的变迁
- A. 决定了城市兴衰
B. 改变了大众出行方式
C. 便利了商贸往来
D. 造成了经济重心转移
30. 中世纪时,凡领主皆有地,凡地皆有领主,因此所有的城市都处于领地之上。欧洲各级教俗封建主集各种权利于一身,所以手工业者或者商人想要修筑城垣、开辟道路等必须要得到封建领主的事先允许。该材料可佐证的观点是
- A. 城市发展受封建领主干涉
B. 西欧工商业的繁荣和复兴
C. 区域间的交通道路得到改善
D. 欧洲封建主的专制统治
31. 改革者无一例外地强调教会信徒识字的重要性,到 19 世纪,德意志地区的识字率比很多天主教国家要高,这并非偶然。宗教改革使阅读《圣经》具有了重要的意义,通俗版《圣经》也迅速普及。这表明宗教改革
- A. 源于普及文化的需要
B. 得益于印刷业的发展
C. 有利于政权的世俗化
D. 与文化普及相辅相成
32. 下表为 1700—1820 年间美国人口种族构成变化表(单位:万人),该表反映了
- | 时间 | 原住民人口(万人) | 白种人口(万人) | 黑种人口(万人) | 合计(万人) |
|--------|-----------|----------|----------|--------|
| 1700 年 | 75.0 | 22.3 | 2.7 | 100.0 |
| 1820 年 | 32.5 | 788.4 | 177.2 | 998.1 |
- A. 工业革命加速人口流动
B. 非洲成为美国移民主要来源
C. 经济发展推动人口增长
D. 西方资本原始积累的血腥性
33. 据统计,18 世纪末,英国 900 家棉纺厂中,约 300 家是雇佣人数在 50 人以上,使用动力机器的阿克莱特式工厂,而 600 家是雇佣人数在 50 人以下,使用珍妮机或骡机的工厂。到 19 世纪上半叶的棉纺织业中,水力机与蒸汽机的推广促使大多数工厂雇佣人数在 100~500 之间。这说明工业革命
- A. 促进了劳动力的集中
B. 促使劳动分工进一步的细化
C. 扩大了国际国内市场
D. 推动了社会阶级结构的变革

34. 苏俄在十月革命后对大型企业进行了国有化,对生产进行监督;1918年6月开始,中小企业也实行国有化;1921年,部分地承认生产资料和产品私有制;1922年,成立国家计划委员会作为国家经济管理的主要机构,并首次制定了年度计划。这一过程表明苏俄
- A. 工业化进程发展迅速
B. 积极探索经济发展模式
C. 经济政策的摇摆不定
D. 初步建立计划经济体制
35. 下面是苏联同美国军事开支比较表,根据该表可知

单位:亿美元

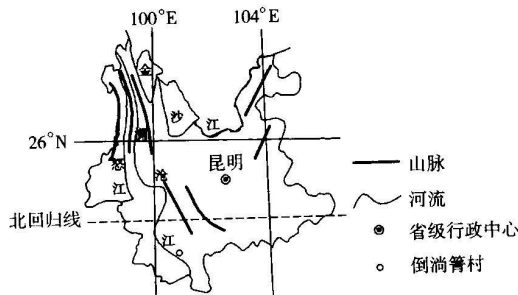
年份	军费		国内生产总值	
	苏联	美国	苏联	美国
1985	2770	2580	21180	40540
1986	2870	2800	22500	42780
1987	3030	2880	23480	45440
1988	3190	2930	25070	49080
1989	3030	3040	26480	52670
1990	2920	3060	26600	55630
1991	2600	2800	25310	57410

- A. 苏联整体经济实力超越美国
B. 苏联改革成效初显
C. 美苏实现共同主宰世界的目标
D. 冷战局面日益紧张

二、非选择题:共 160 分。

36. 阅读图文材料,完成下列要求。(30 分)

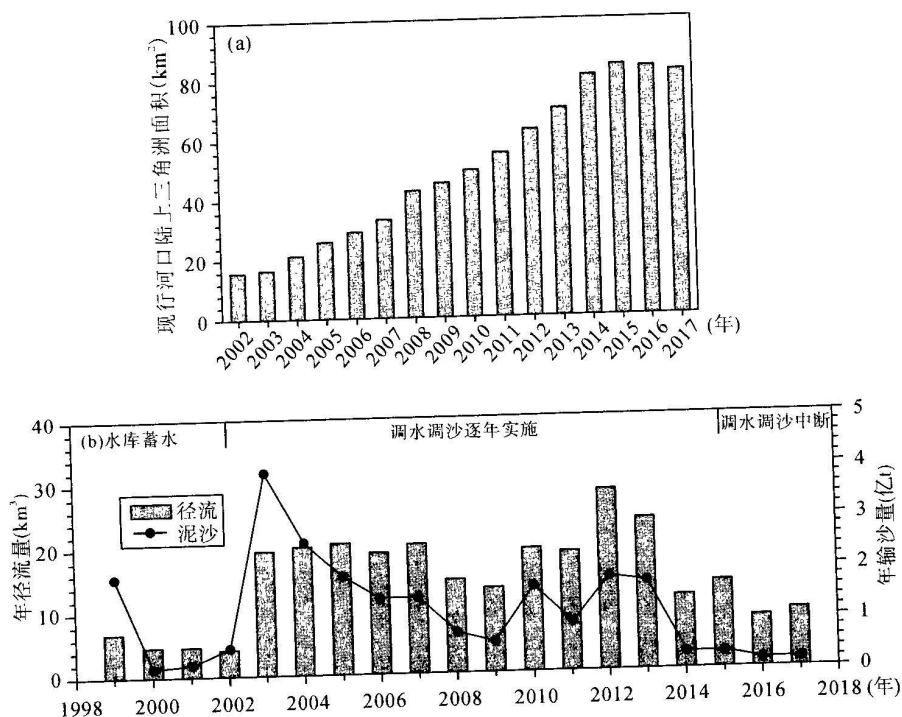
倒淌箐村地处云南西双版纳热带雨林区,有亚洲象活动的踪迹,常住人口 150 人,长期以来以种植天然橡胶为生,2021 年温室气体排放总量仅为 276.5 吨(单是北京某电厂一年碳排放就达 400 万吨)。倒淌箐村面临紧迫的“消碳”任务,2021 年在跨国企业昆明分公司支持下建立“消碳庄园”。“消碳庄园”引导村民搭建光伏板发电,种植 200 亩坚果、芒果等经济作物,安装 100 个木质蜂箱养蜂,为县里的蜂产品公司提供优质蜂蜜。“消碳庄园”安装蜂箱对缓解人象矛盾发挥了积极作用,蜜蜂常成群在森林中活动。下图示意倒淌箐村的位置。



- (1) 倒淌箐村碳排放较低,却面临紧迫的“消碳”任务,对此作出合理解释。(6 分)
- (2) 与昆明相比,分析该公司在倒淌箐村建设“消碳庄园”面临的困难。(9 分)
- (3) 简述“消碳庄园”安装蜂箱对缓解人象矛盾的作用。(9 分)
- (4) 从养蜂产业的角度,为“消碳庄园”提高“消碳”效果提出合理建议。(6 分)

37. 阅读图文材料,完成下列要求。(26分)


河流是连接陆地与海洋的重要通道之一,在陆源物质向海输送过程中扮演着重要的角色。1999年10月小浪底水库建成,自2002年起,每年6月份实施调水调沙。小浪底水库调水调沙已经成为控制黄河物质向海输送的最重要工程措施之一,显著改变了黄河河流系统的自然属性。2015~2017年调水调沙中断,对黄河入海水沙通量波动及地貌响应特征产生了一定影响。下图示意黄河三角洲面积变化及利津水文站径流量与输沙量变化。



- (1) 分析2002年后黄河入海泥沙巨增的原因。(6分)
- (2) 指出2015~2017年黄河三角洲面积变化并推测其成因。(8分)
- (3) 利津水文站位于小浪底水库下游,但反而比小浪底水文站流量小,请分析其原因。(6分)
- (4) 说明调水调沙选择在6月份进行的原因。(6分)

38. 阅读材料,完成下列要求。(12分)

某校高三(1)班同学在政府网站搜索到宿迁市二十大代表李敏的事迹,深感震撼。他们以“李敏的追梦时代”为主题,制作演示文档用于宣讲。以下是他们文档中的部分内容。

<p style="text-align: center;">人物</p>  <p>姓名:李敏 性别:女 出生:1990年10月 关键词:诚信 担当 党的二十大代表</p>	<p style="text-align: center;">2012年</p> <p>党的十八大胜利召开,确立了“两个一百年”奋斗目标,中国特色社会主义进入新时代。</p> <p>这一年,因身体残疾,大学毕业求职不顺的李敏返乡创业,开设了自己的首个网店“木子的秘密花园”。由于她始终坚持诚信经营、周到服务,生意越来越红火。</p>
<p style="text-align: center;">2017年</p> <p>党的十九大胜利召开,首次提出“乡村振兴战略”,提振了亿万农民信心。</p> <p>这一年,李敏考取“返乡兴村”新村干。她在村里设立了电商扶贫驿站,定期传授直播策划运营经验……在李敏的带动下,400多名村民办网店、搞直播,许多人通过电商创业就业脱贫致富,村集体经济收入也大幅增加。</p>	<p style="text-align: center;">2022年</p> <p>党的二十大胜利召开,向着第二个百年奋斗目标进军。</p> <p>这一年,李敏当选为二十大代表。圆梦,是她最大的感受:“十年间,我见证了家乡翻天覆地的变化,这些变化是‘中国梦’照进现实的模样。现在我想通过自己的努力,带领更多人富起来,让大家实现梦想。”</p>

- (1)运用《经济与社会》的相关知识,分析李敏从自己创业致富到带领乡亲一起致富的价值所在。(8分)
- (2)国家好、家乡好,大家才会好。结合“李敏的追梦时代”写一份短评,谈谈怎样才能让我们的人生出彩、梦想成真。(4分)
- 要求:①运用《中国特色社会主义》的相关知识;②条理清晰、语言简洁,字数控制在200字以内。

39. 阅读材料,完成下列要求。(8分)

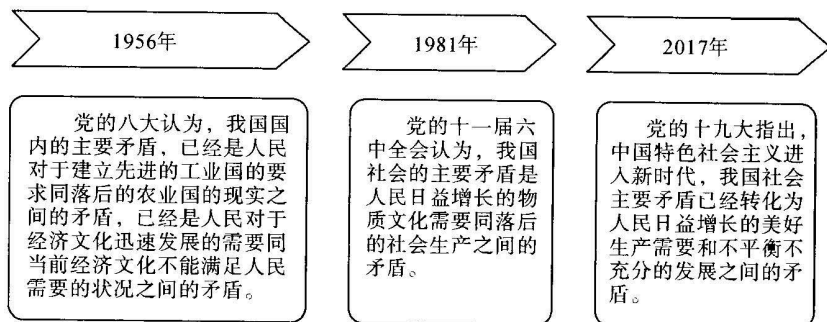
中国共产党领导的政治协商是马克思主义政党理论、统一战线理论与中国实际相结合的产物。《中国共产党政治协商工作条例》(以下简称《条例》),经中共中央政治局会议审议,于2022年6月正式发布,首次以党内法规的形式明确了政治协商的内容、形式和保障机制,使政治协商有制可依、有规可守、有序可循,进一步提升了政治协商的制度化规范化程序化水平,成为政治协商发展史上的里程碑。新征程上,更好地实现党的领导,必须按照《条例》的规定,大力推进政治协商,使政治协商在坚持和完善党的领导中的重要作用得到进一步发挥。

结合材料,运用《政治与法治》的知识,分析为什么要大力推进政治协商。

40. 阅读材料,完成下列要求。(12分)

习近平新时代中国特色社会主义思想围绕人民日益增长的美好生活需要和不平衡不充分的发展这个新时代的主要矛盾谋篇布局,在理论和实践的相结合上谱写了马克思主义中国化的新篇章。

【新时代新矛盾】



(1)有人认为,社会主要矛盾的变化是一个渐进的历史过程。结合材料,运用质量互变规律的知识予以评析。(6分)

【新征程新思想】

党的二十大报告指出:“只有把马克思主义基本原理同中国具体实际相结合、同中华优秀传统文化相结合,坚持运用辩证唯物主义和历史唯物主义,才能正确回答时代和实践提出的重大问题,才能始终保持马克思主义的蓬勃生机和旺盛活力。”

习近平新时代中国特色社会主义思想是当代中国马克思主义、二十一世纪马克思主义,是中华文化和中国精神的时代精华,实现了马克思主义中国化时代化新的飞跃,是全党全国各族人民为实现中华民族伟大复兴而奋斗的行动指南,必须长期坚持并不断发展。

(2)只有深入推进“两个结合”,才能始终保持马克思主义的蓬勃生机和旺盛活力。结合材料,运用《哲学与文化》的知识予以说明。(6分)

41. 阅读材料,完成下列要求。(8分)

2022年6月12日—15日,世贸组织第12届部长级会议(MC12)在瑞士日内瓦举行。中国商务部部长王文涛出席会议。中方积极参与MC12,支持世贸组织改革朝着正确方向发展,支持多边贸易体制包容性发展,支持发展中成员合法权益,坚定不移维护真正的多边主义,维护多边贸易体制国际规则制定的主渠道地位,推动MC12取得积极和务实的成果,让世贸组织在应对全球挑战、推动疫后经济复苏等方面发挥更大作用。

结合材料,运用《当代国际政治与经济》的知识,分析中国如何为世界的发展作出贡献。

42. 阅读材料,完成下列要求。(12分)

温馨幸福的家庭既需要亲情和爱情的精心维护,也离不开法律的有力保护。某班的两同学围绕赡养与继承的问题,表达了自己的看法。

学生甲:“现在子女在外地工作和学习的现象很普遍,很难陪在父母身边,所以赡养老人就要保证物质上满足其需求。”

学生乙:“我是家里的独生子,父亲意外去世,母亲体弱多病。作为继承人,父亲欠下的债务我会竭尽所能全部还清。”

运用所学《法律与生活》的相关知识,对以上两位同学的观点进行评析。

43. 阅读材料,完成下列要求。(25分)

材料一 明朝后期疫病发生频率呈现明显的上升趋势,在1580年、1639年出现两次延续多年的瘟疫。疫情出现后,明朝基本上都是向疫区派出医官对患者进行诊治,并散发相关的药剂,向灾民发小额救济钱物,同时设坛做法事,期盼降神而祈福禳灾。有官员曾上疏说:“今之皆知救荒,而不知救疫。”明朝防疫的消极反应在很大程度上受“天人合一”“天人感应”等思想影响,认为瘟疫是天神“震怒”的表现,这种观念使人丧失了与疫病积极斗争的意志,另一方面政府的公共责任也趁机推卸。瘟疫导致大量人口死亡,崇祯十六年(1643年),北京鼠疫流行,不到7个月时间,就造成了20万人死亡,蔓延势烈,形势惨重。

——摘编自程扬《中国明清时期疫病时空分布规律的定量研究》

材料二 伦敦于1499—1665年发生多次严重鼠疫疫情。随着王权的加强和民族国家的形成,都铎王朝摆脱了中世纪消极无为的宗教防疫观念束缚,而以积极的姿态来处理防疫事务。为防控疫情,1518年伦敦市政当局号召患病家庭主动进行隔离,后来隔离措施在全国逐渐合法化和制度化。政府积极加强公共卫生建设,以消除疫病滋生条件。为确保法令有效实施,市政当局还专门命几个临时委员会具体负责。在这些法令基础上,英国政府初步构建了国家公共卫生防疫体系,为防疫工作奠定了制度基础。1572年伊丽莎白女王签署法案,决定向全国征收“普通税”以建立济贫基金,来救助那些因为瘟疫、灾荒四处流浪的乞丐和流民。由于政府救济,许多家庭愿意接受隔离,这使得英国的防疫工作有了坚实的群众基础。17世纪末期鼠疫逐渐从英国消退。

——摘编自陈凯鹏《近代早期鼠疫在英国消退原因探析》

材料三 19世纪末20世纪初,“卫生”一词在晚清日益流行。由于近代社会的急剧转型……卫生涉及的已经不是个人或地方团体层面,而是与国家、民族联系在一起。……文化市场涌现大量的生理卫生、生殖医学的书籍和刊物,相关的广告与介绍也频繁见诸报端,大多强调泰西的兴盛与其对生理卫生学的重视密切相关,表示译者或作者的目的即在希望种族强盛上。《高等小学卫生教科书》广告词言:“今亟译此类之书,以饷吾国民。凡有保种之责,而知亡国之忧者,盖令青年子弟日肆习之。”

——摘编自张仲民《出版与文化政治:晚清的“卫生”书籍研究》

- (1) 根据材料一并结合所学知识,概括明朝政府防疫措施的特点及影响。(8分)
- (2) 根据材料二并结合所学知识,说明英国政府防疫措施的特点及其产生的社会背景。(12分)
- (3) 根据材料三并结合所学知识,分析晚清卫生观念的传播对近代化的积极作用。(5分)

44. 阅读材料,完成下列要求。(12分)

材料 中国风在17—18世纪的欧洲曾盛行一时,影响了其社会生活的各个层面,茶的西传正是基于这一历史大背景。17世纪上半叶茶传入英国,此时饮茶仅局限于社会上层,消费量较为有限;至18世纪中叶,英国东印度公司茶叶进口量猛增,此时几乎所有的家庭账册均记载了饮茶的相关开支。英国人的饮茶偏好逐渐由绿茶转向红茶且添加牛奶与糖,此举逐渐成为英式饮茶的习惯性做法,“下午茶”也在英国社会日渐流行起来。饮茶传入英国后其有益于健康的特质在争论中逐渐为社会各界所认可,而加入牛奶与糖更在一定程度上被视为功效的增加或强化。随着饮茶在英国逐渐传播开来,其在诗歌、小说、散文乃至绘画中也多有体现,更是寄托了英国人对家的深厚情感,体现出其独特的精神文化价值;不过传播媒介对饮茶的介绍偏重实用功效,至于相关的精神文化内容则几无关注,这与中国茶文化追求“天人合一”的深层精神文化境界的取向不同。

——摘编自刘章才《饮茶在近代英国的本土化论析》

根据材料并结合所学知识,围绕“茶的西传”自拟一个论题,并予以阐述。(要求:表述成文,持论有据,论述充分,逻辑清晰)

45. 阅读材料,完成下列要求。(15分)

材料一 英国的世界霸权是在与新航路开辟后先后兴起的西班牙、葡萄牙、荷兰、法国等国的激烈竞争中,依靠其国内资本主义生产的绝对优势而逐渐确立起来的。1756—1763年的英法七年战争以英国胜利而告终,英国“在欧洲之外成为海上和陆上的主人”。1815年拿破仑战争后,英国的海上优势地位进一步确立,殖民地和半殖民地已遍布各大洲。19世纪40年代,英国完成工业革命。为了在全球范围内掠夺原料、开拓市场,英国进一步加强对外扩张。到20世纪初,英国的殖民势力达到顶峰,领土遍及全球六大洲及24个时区,面积达2000多万平方千米,成为一个名副其实的“日不落帝国”。

——摘编自《历史读本·世界史》

材料二 二战后,民族解放运动在亚洲、非洲、拉丁美洲等地不断掀起高潮。到90年代初“冷战”结束时,几乎所有的亚非拉国家实现了民族独立,几个世纪所形成的殖民体系彻底崩溃。一些国家在独立后走上了社会主义道路,体现了民族解放运动与社会主义运动两大潮流的进一步汇流。1945年联合国诞生时,成员国总数是51个,大多数是欧美国家,美国为首的西方大国起着主导作用。到2011年,联合国成员已经增加到193个,其中绝大多数是战后独立的国家,以这些国家为主体形成的第三世界成为国际政治领域不可忽视的重要力量。

——摘编自徐蓝主编《世界近现代史1500—2007》

(1)根据材料一并结合所学知识,简析英国殖民帝国形成的背景。(8分)

(2)根据材料二并结合所学知识,说明二战后民族解放运动的历史影响。(7分)

关于我们

自主选拔在线是致力于提供新高考生涯规划、强基计划、综合评价、三位一体、学科竞赛等政策资讯的升学服务平台。总部坐落于北京，旗下拥有网站（[网址：www.zizzs.com](http://www.zizzs.com)）和微信公众平台等媒体矩阵，用户群体涵盖全国 90% 以上的重点中学师生及家长，在全国新高考、自主选拔领域首屈一指。

如需第一时间获取相关资讯及备考指南，请关注**自主选拔在线**官方微信号：**zizzsw**。



 微信搜一搜

 自主选拔在线

