

# 江西省五市九校协作体 2022 届高三第一次联考

## 历史试卷

时间: 100 分钟 总分: 100 分 命题人: 贵溪一中 江琴 黄长辉

### 第 I 卷 选择题

一、选择题 (本大题共 25 小题, 每小题 2 分, 共 50 分, 每小题列出的四个备选项中只有一个是符合题目要求的。)

1. 以“史”名官的职官, 在商代晚期殷墟甲骨文中便已出现, 战国晚期成书的《周礼》所设职官体系中, “史”的数量非常多, 分布在“百官府”, 即数量众多的属官之下, 职责是“掌官书以赞治”。大量的“史”职人员的设置
- A. 说明真正意义上的史家史学已经出现  
B. 推动了“学在官府”到“学在民间”  
C. 反映了官僚制对文书行政书写的需要  
D. 有利于士阶层崛起和维护政治秩序
2. 西周以宗法血缘关系为主进行分封授爵, 秦国实行军功爵制, 汉初赐民以爵, 这一变化
- A. 有利于官僚政治建立  
B. 促进了社会结构的变动  
C. 强化了政治特权观念  
D. 体现了统治思想的转变
3. 晚晴戊戌变法六君子之一谭嗣同尖锐地指出: “两千年来, 皆苟学也!” 他的意思是说, 秦始皇之后的中国政治, 都是荀子的学说当道。下面最能体现这一思想的是
- A. 礼者, 人道之极; 法者, 治之端也  
B. 君舟民水, 水能载舟, 亦能覆舟  
C. 父不父则子不子, 君不君则臣不臣  
D. 省苛事, 薄赋敛, 毋夺民时
4. 唐朝扬州位于长江和大运河交汇处, 最为重要; 唐末遭到严重破坏, 盛况不复。北宋设市舶司后, 明州 (今宁波) 发展迅速, “凡中国之贾, 高丽与日本诸蕃之至中国者, 进出唯明州一港”。影响唐宋时期长江三角洲港口体系变迁的最主要的原因是
- A. 经济重心的南移  
B. 海外贸易的拓展  
C. 政治局势的变化  
D. 政府政策的导向
5. 王鸣盛《十七史商榷》中说: “赵宋官制虽承前代, 如宰相大抵类似于唐, 而宋则又以枢密使、参知政事为副宰相。若外官, 则宋与唐大有别。藩镇 (节度使) 之权既夺, 大约统率所部者有安抚使、转运使诸官职。”由此可见北宋
- A. 借助中央集权加强君主专制  
B. 主要是为应对少数民族政权威胁而改革  
C. 在政治制度上有新建树  
D. 在因循承袭的基础上迫于时代形势变动
6. 史学大师钱穆先生在《国史大纲》里提出, 中国的政治分为两段, 前一段是汉唐两宋, 文官与君主共治天下, 后一段是元明清, 实行绝对君主专制。宋元之变的主要原因是
- A. 元朝实行行省制度  
B. 元政府实行四等人制  
C. 理学成为统治思想  
D. 元明清实行八股取士

江西省五市九校协作体 2022 届高三

7. 两税法使古代中国税制史上的重大改革, 标志着古代税收从以“税人”为核心转向以“税地”为核心。推动这一转变最重要的因素是 **A**

- A. 均田制和租庸调制的破坏  
B. 安史之乱使百姓大量成为流民  
C. “履亩而税”理想的贯彻  
D. 经济重心的南移和租佃制发展

8. 明清两代藏于宫内、传世至今的朱元璋画像, 共计 13 幅。这些画像, 可区分为两种截然不同的面貌: 一种是面如满月、慈眉善目、神态安详, 来自明代官方史料。另一种, 脸长额隆、鼻如蒜头、下额前突, 颇为怪异, 即俗谓的“猪腰子脸像”, 来自明代民间传闻和清宫南熏殿。下为明清藏于宫内的朱元璋画像。对此解释正确的是 **A**

- A. 官方的画像是出于政治统治和思想观念不同  
B. 民间神话异化朱元璋长相是为了贬低朱元璋  
C. 美化或丑化朱元璋长相体现了天人感应思想  
D. 这些画像可作为研究朱元璋的一手客观史料



9. 政厅公餐是在雅典城邦政厅内所举办的一项宴会活动, 早在公元前 6 世纪, 在政厅享用公餐似乎已成为雅典人的一种惯例, 政厅公餐的参加对象依据身份和频率可分为一次性进餐和终身公餐。公元前 420 年左右刺杀僭主者获得了带有世袭特点的终身公餐的特权, 公元前 394 年或公元前 393 年, 萨索斯岛的斯陶里斯获得公民权前后享受到了不同的政厅公餐。根据材料可知, 政厅公餐 **C**

- A. 体现公民权的开放性  
B. 起源于民主政治奠基时期  
C. 具有荣誉性和政治性  
D. 反映了雅典大众民主政治

10. 行省治理是罗马共和国后期政治生活的一个重要内容, 然而在行省治理过程中, 作为实际治理者的罗马官员滥用权力, 大肆搜刮钱财。为遏制这种弊病, 罗马当局不断加强法律建设, 呈现出立法条款细致化、诉讼程序固定化以及惩处严厉化的倾向。但是, 治理局面未因法律建设的加强而得以有效改善。由此可以看出 **B**

- A. 共和国后期罗马法以公法为主  
B. 罗马法维护奴隶主的利益  
C. 行省制动摇了帝国的统治基础  
D. 共和国向帝国转变的原因

11. 1506 年 9 月 25 日, 威尼斯一对青年男女——比昂科家族的洛多维科和弗雷斯奇家族的朱斯蒂娜, 举行了一场盛大的婚礼。婚礼可谓风光无限, 贵客如云: 新娘饰金戴玉、锦衣华服, 装饰奢华的礼堂中摆满了各种珍馐美味, 元老院首长、总督顾问等达官显贵亲临道贺, 席间还有丰富多彩的歌舞助兴。但是自中世纪晚期开始, 意大利各城市政府相继出台大量针对奢侈行为, 特别是私人奢侈消费的禁奢法令。对意大利这种崇奢与禁奢并立的悖论现象分析, 正确的是 **A**

- A. 主要受人文主义思想的影响  
B. 都是由于经济社会发展的需要  
C. 禁奢法令违背潮流不得人心  
D. 禁奢只是针对个人私欲的膨胀



12. 日出而作，日落而息，所有以自然经济为基础的社会普遍推行这种作息时间。到中世纪晚期和近代初期，欧洲人的劳动日在法律上依然是指白天的时间。近代早期开始，一些行业和工场的劳动时间向夜间延伸。决定性的变革发生在工业革命以后，尤其是在那些采用了机器生产的行业，夜幕降临后仍要劳作，成为不可抵挡之势。夜间劳动的发展的主要原因是 **D**
- A. 照明技术的进步    B. 世界市场的扩大    C. 资本主义的扩张性    D. 工业革命的推动
13. 光荣革命后首位立宪君主威廉三世仍然拥有外交特权。1698—1700年，威廉运用外交特权与法国国王签订了两份瓜分西班牙帝国的条约，引发英国贵族阶层普遍不满。他们认为条约不符合英国利益，君主外交特权存在不合理性。在1701年初召开的议会中，威廉、托利党、辉格党从不同立场出发，共同变革了这项特权。此后，君主仍享有外交权威，但外交政策必须由内阁制定，外交决议还须交付议会核准。君主外交特权的变革 **D**
- A. 体现了“王在法下”的原则    B. 促进了政党政治的兴起  
C. 受孟德斯鸠分权学说的影响    D. 推动了责任内阁制形成
14. 第二次工业革命中，德国在主要新兴产业里很多都处于领先地位，比如说化学，当时很重要的一块内容是工业染料，德国的产量占世界90%；再看电气，美国一开始领先，但德国后来居上，产品占世界市场的50%；再看光学工业，比如说镜头，当时优质产品百分之百来自德国，到今天德国的蔡司还是世界大牛。材料最能说明，德国工业化 **A**
- A. 重点是新兴产业    B. 基础是教育水平高  
C. 特点是深挖技术    D. 靠国家有意识推动
15. 1871年，英国自由党制定《刑法修正案》，认定胁迫他人、组织他人工作、设立罢工纠察队等行是违法的，可以按刑法处置。保守党上台后，1875年废除了《刑法修正案》，规定罢工中的纠察行为合法；暴力行动和胁迫行为虽仍属犯罪，但不再以密谋罪论处。材料体现了英国 **C**
- A. 政党政治走向成熟    B. 成为国际工人运动的中心  
C. 社会矛盾趋于缓和    D. 议会斗争成为无产阶级斗争的主要方式
16. 19世纪70-90年代清政府为解决军事工业资金、燃料、运输等问题，以“求富”为口号创办了一些官营或官督商办的民用企业，官督商办政策 **D**
- A. 标志清政府开始实施重商主义政策    B. 肯定了商人和私人资本的地位  
C. 解决了近代工业的资本积累的问题    D. 改善了近代工业的发展环境
17. 晚清时期，列强凭借强权攫取中国权益的种种行为促使清政府的对外观念发生了重要变化，主要体现在中外条约关系的实践中，清政府官员往往用“两益”和相近概念表述这一思想，诸如“以求两益”、“两有利益”、“两得其益”、“两国求益”、“两有裨益”、“彼此有益”、“两国均属有益”、“兼顾两面”、“互得利益”、“互惠互利”等。诸如此类的表述 **A**

- A. 核心是力争维护国家权益
- B. 改变了不平等关系的格局
- C. 表达了清政府坚定的决心
- D. 促进了修约外交实践活动

18. 清末民国时期社会各界尤其是学界从来没有停止过对中国农业规模的讨论，争论最激烈的是大农经营、小农经营的优劣对比，小农经营的认同危机愈益强烈；大农经营则有一个从全盘接受到多元并持，再到绝大多数接受的过程。事实上，大农经营的建设成效极为有限，小农经营始终居于绝对统治地位。

这场争论

- A. 根本原因在于近代民族危机的不断加深
- B. 反映了国人对西方文明的认识不断深入
- C. 脱离了中国农业农村农民社会生产实际
- D. 反映出中国与西方、传统与现代的关系

19. 据中共一大代表回忆，大会“议事日程共有四项：一、党纲与政纲；二、党章；三、中心工作与工作方针；四、选举”。从党的政治建设的视角回望，中共一大的贡献是

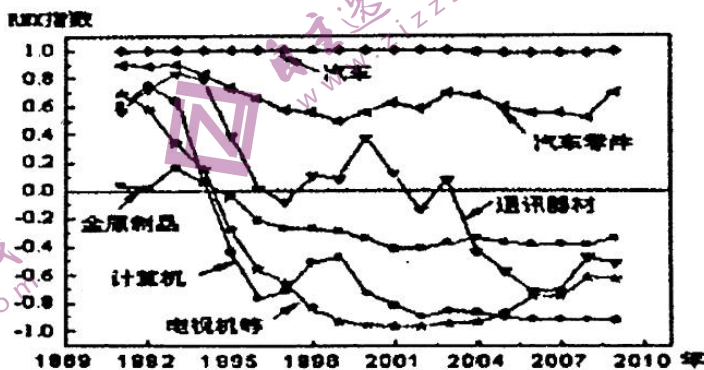
- A. 确立了党的政治方向
- B. 提出思想建党的原则
- C. 产生统一的领导核心
- D. 形成严格的纪律意识

20. 最初，“改革”和“开放”多少是作为两个领域被分别考虑，“改革开放”这四个字连写在一起出现在报刊文件上并不是在70年代末或80年代初，而是到了1984年。这说明改革开放

- A. 采取渐进方式，先易后难，逐步推进
- B. 根据实践发展不断调整思路
- C. 城市改革与对外开放联系紧密在一起
- D. 经济政策的调整和体制转变

21. 下面是中日两国工业制成品的出口竞争力图，RNK指数越接近于-1，表示中国商品越具有比较优势，出口竞争力越强。反之，RNK指数越接近于1，表示日本商品越具有比较优势，出口竞争力越强。RNK指数信息的变化反映了

- A. 中国工业产品技术含量提高
- B. 科教兴国战略推动了中国科研能力提升
- C. 中国对日贸易结构逐步改善
- D. 以汽车为主的传统工业中国竞争力较弱



22. 1949年之后，新中国沿用近代以来形成的星期日公休制度。1995年3月25日，国务院发布第174号令，规定“国家机关、事业单位实行统一的工作时间，星期六和星期日为周休息日”，自1995年5月1日起施行。关于公休日的叙述，正确的是

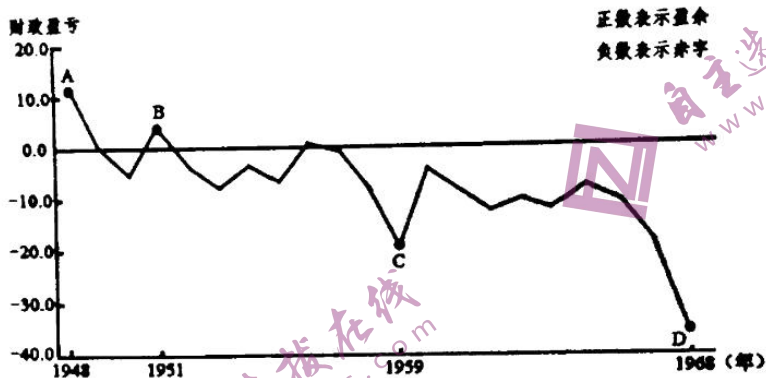
- A. 公休制度的发展演变主要是由政府政策推动的
- B. 新中国成立以来主要是由于政治运动造成双休日制无法实行
- C. 双休日制的实行使中国开始在工作与休假制度上与国际接轨
- D. 双休日制度有利于个人发展、经济繁荣和社会风尚的改变



23. 1989年，民主德国局势发生了急剧变化，自5月起，大批公民出走联邦德国，政局出现大动荡。1990年10月，民主德国并入联邦德国，两德统一。据此可知，两个德国重新统一的关键因素是 C。

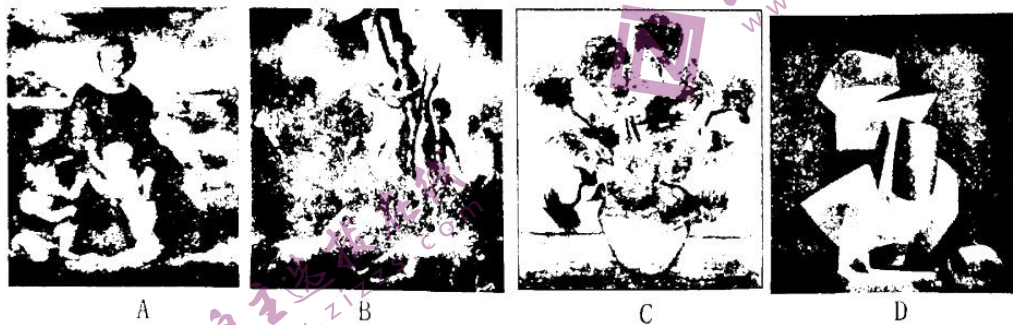
- A. 西德政府的策略得当
- B. 德意志民族要求统一
- C. 东欧剧变的有利环境
- D. 平衡大国获取了支持

24. 读1948--1968年美国财政盈亏图，下列选项能够正确反映盈亏及其原因的是 B。



- A. 社会福利保障税和健康医疗税使美国财政盈余
- B. 美国深陷越南战争的泥潭，给政府造成了赤字
- C. 古巴导弹危机的紧张局势给美国财政造成赤字
- D. 宏观调控经济运行模式给美国财政带来了盈余

25. 西方文明史发展的某个时期，“明快鲜艳的色彩已经遍布欧洲……体现悲观情调的灰色和黑色，让位给了代表尊贵的金色、代表热情和爱情的红色、代表优雅和风度的黄色……总之，亮丽的生命取代了忧郁的生命”。能够体现上述时期绘画风格的作品是 C。



第II卷 非选择题

二、非选择题（本大题应做3小题，共50分。其中26-27为必做题，28-29为选做题。）

26. 阅读材料，回答问题。（23分）

材料一 公元前2世纪或更早时期，棉花及棉织品开始传入中国。元代时期，棉花种植也完成了由珠江流域到长江流域再到黄河流域的空间分布。关于棉花种植情况，元以来的诸多农史文献，如《农桑辑要》《王桢农书》《农政全书》等皆有详细记载，明朝宋应星的《天工开物》记载棉花种植“寸土皆

有”。晚清时期尤其是到 20 世纪以后，亚洲树棉和非洲草棉（公元 2 世纪沿陆上丝绸之路自印度传入，来到新疆、陕甘地区，传播仅限西北地区）因绒长度偏短逐渐被市场淘汰，美洲陆地棉和南美洲海岛棉则因绒长质优取而代之。美洲陆地棉自 1865 年被引入到我国后，经过数次改良，已经成为我国目前最主要的棉种。其中新疆棉区不仅是我国最主要的产棉区，而且是世界上顶级优质产棉区。高度机械化、智能化、规模化、产业化和环保化的新疆棉花对世界棉花产业链的稳定与发展意义重大。中国与印度、美国并称世界三大棉花生产国，中国也是世界上最大的棉花消费国。

——曹瑞臣《棉花的全球传播》

材料二 当棉和棉制品在南亚和阿拉伯世界被广泛种植和传播之时，欧洲社会对棉的了解依旧处于想象阶段。公元前 5 世纪古希腊历史学家希罗多德说，印度有一种奇怪的树，可以长出羊毛。棉纺织品是一种令社会上层垂涎的物品。到公元 950 年，一些受伊斯兰教影响的城市如塞维利亚、科尔多瓦、格拉纳达、巴塞罗那等有了棉纺织业。11-13 世纪延续 200 余年的十字军东征运动，使得欧洲人深入到阿拉伯世界的棉花生长带。欧洲最早的非伊斯兰的棉花产业中心出现在意大利北部城市如米兰、博洛尼亚、威尼斯等，其中威尼斯是欧洲第一个棉花集散中心，长期以来支配着地中海世界的棉花贸易。这一时期，意大利的棉花产业不仅可以十分便利地获取来自印度和阿拉伯世界的优质原棉，而且也有机会接触到亚洲高超的纺织技艺和先进的纺织工具。17 世纪末，印度出口到欧洲的棉布，引发欧洲社会的“棉布热”。整个 18 世纪，在阿拉伯世界和欧洲，印度一直都是主要的棉纺织品供应地。

——曹瑞臣《棉花的全球传播》

材料三 美国学者斯文·贝克特在《棉花帝国》中指出的，棉的资本主义化彻底改变了棉花的命运，讲述了一个“由欧洲主导的棉花帝国兴衰的故事”。

- (1) 根据材料一并结合所学，概括并分析我国棉花和棉制品发展的原因。（11 分）
- (2) 根据材料二并结合所学，概述 18 世纪前欧洲棉花和棉制品传播的特点。（6 分）
- (3) 结合材料及所学谈谈你对材料三的理解。（6 分）

## 27. 阅读材料，回答问题。（12 分）

华中师范大学教授、博士生导师马敏认为在探讨辛亥革命对后续历史进程的影响，尤其是对中国共产党领导的中国革命的影响时，一是要放宽历史的视野，以百年为界标，作大视距、长时段的纵向考察，探寻百年来的历史发展线索及其规律；二是要重视历史的连续性、复杂性，找到历史中承前启后的关键环节、关键问题与关键论域，从而呈现历史重大事件之间的真实关联，即历史的因果之链。马敏教授认为可以从以下视角进一步深化相关研究。一、辛亥启蒙与“五四”启蒙之间的内在联系。二、新民主主义理论的承上启下作用。三、辛亥革命与民族复兴中的历史传承。

从上述三个视角中选取一个视角阐述辛亥革命对后续历史进程的影响。（12 分）



## 28. 【历史一选修：历史上重大改革回眸】

1951年，刘少奇指出，在新中国的国营企业里“再没有阶级对抗和剥削关系存在了”，“实行公私兼顾的方针”，既要“共同努力进行生产”，也要“务必最周密地关心工人群众一切经济的、政治的和文化的福利”。中央人民政府先后颁布了《中华人民共和国工会法》（1950年）、《中华人民共和国劳动保险条例》（1951年）等法律法规，规定企业工会有“改善工人、职员群众的物质生活与文化生活的各种设施之责任”。通过吸收新民主主义革命时期根据地（解放区）国营企业实行供给制的经验，参考借鉴苏联职工福利制度安排，由企业行政方面拨款（或投资）设立工人食堂、澡堂、理发室、托儿所、小学校、医院等生活福利设施；企业行政方面每月还须拨交工会组织全部职工实际工资（包括货币部分、实物部分与伙食补贴）总额的1.5%作为职工文化教育费，用于建立俱乐部、图书馆等文化福利设施。

1949—1952年，国营企业职工福利事业经过三年的发展，“医院、诊疗所、休养所、托儿所已在相当普遍地设立起来。工人的文化、教育、娱乐设施如俱乐部、工人剧场、电影院、职工夜校、职工子弟学校、工农速成中学等也在逐步增长”。由此，国营企业行政方面与工会共同负责职工福利工作，同时

接受上级党政部门的领导和工会组织的监督，国营企业以“包下来”为特征的福利制度框架初步成形。  
公私兼顾，改善民生 ②实行供给制 参考苏联 吸引供给制经验 ③重视文化教育 ④涉及各个方面  
符合中国实际，吸收借鉴苏联及根据地经验，符合中国国情。  
（1）根据材料并结合所学，分析建国初国营企业职工福利制度的特点。（6分）  
体现中国特色的社会主义制度的优越性  
重视教育文化，重视科学教育，提高国民素质。  
坚持以人民为中心的发展思想，保障人民利益。

## 29. 【历史一选修：20世纪的战争与和平】

材料一 如果德国认为更大的物质权力优势、更广阔的领土范围、神圣不可侵犯的边疆以及海上的绝对优势，是实现思想和道德上之领导地位必需的前提……那么英国一定会认为，德国肯定将力图削弱任何竞争对手的实力……其最终目的则是要拆散和取代英帝国。

——[英] 艾尔·克劳《关于英国与法德两国关系现状的备忘录》（1907年）

材料二 萨拉热窝刺杀事件后，没有一个国家希望发生欧战。除了很少的例外，这些国家的统治者和大臣们都预见到这一定是一次可怕的斗争，在政治上并不能有绝对确定的结果，但是在丧失生命、痛苦和经济方面，其结果一定是可怕的。……然而他们之中没有一个能预见到后来事实上政治的结果是如此巨大，其他结果是如此之可怕。……然而欧战终究爆发了。

——摘编自[美] 费伊《第一次世界大战的起源》

（1）根据材料一结合时代背景，分析英国为何担忧德国“要拆散和取代英帝国”。说明英国应对的举措。（6分）

（2）结合所学知识，简述材料二中“这次大战”直接造成的“如此巨大”的政治结果，并分析战争爆发的根本原因。（9分）

30. 【历史——选修4：中外历史人物评说】

1950年6月朝鲜内战爆发，美国政府以联合国军的名义武装干涉，并派遣第七舰队侵入台湾海峡，把战火烧到中朝边境。经过两年零九个月艰苦卓绝的浴血奋战，终于迫使不可一世的侵略者在停战协定上签字。抗美援朝战争是在交战双方力量极其悬殊条件下进行的一场现代化战争。在这场战争中，志愿军的主要作战对手是当时工业产值占全球40%、具有一流武器装备的美国侵略者，其地面部队全部机械化，并掌握制空权和制海权，所实施的是现代化诸军兵种联合作战。中国人民志愿军在战争初期既无海军又无空军，基本上是靠步兵和少量炮兵作战，后来有了少量空军参战，也主要用于掩护交通运输线，部队机动主要靠徒步。

在抗美援朝战场上，志愿军将士正是以英雄特有的精气神，续写了人民军队攻无不克、战无不胜的**铁血荣光**。中国人民志愿军将士中，涌现出杨根思、黄继光、邱少云、罗盛教等30多万名英雄功臣和近6000个功臣集体。他们冒着枪林弹雨勇猛冲锋，灵活机动地给敌人以迎头痛击；他们顶住敌人密集轰炸，建成打不烂、炸不断的钢铁运输线；他们以“空中拼刺刀”的精神搏击长空，铸就了世界空战史上的奇观；他们以令敌人胆寒，让天地动容的英雄业绩，塑造出“最可爱的人”的伟岸形象。在冰天雪地的长津湖，面对美军最精锐的陆战部队，尽管冬衣单薄、粮弹匮乏，志愿军将士仍前仆后继、勇猛拼杀，牺牲时仍然保持冲锋队形，冻僵后依然屹立于战壕之中。在被炸弹削低两米的上甘岭阵地，志愿军将士与敌人殊死搏斗、反复争夺43天。历史以雄辩的事实昭告天下：中华民族是吓不倒、压不垮的。

(1) 根据材料概括抗美援朝志愿军英雄的精神。(6分)

(2) 根据材料并结合所学知识，分析抗美援朝战争的战略意义。(9分)



## 关于我们

自主选拔在线是致力于提供新高考生涯规划、强基计划、综合评价、三位一体、学科竞赛等政策资讯的升学服务平台。总部坐落于北京，旗下拥有网站（[网址: www.zizzs.com](http://www.zizzs.com)）和微信公众平台等媒体矩阵，用户群体涵盖全国90%以上的重点中学师生及家长，在全国新高考、自主选拔领域首屈一指。

如需第一时间获取相关资讯及备考指南，请关注**自主选拔在线**官方微信号：**zizzsw**。



微信搜一搜

