

高三年级第五次调研考试

文科综合能力测试

注意事项：

1. 本试题卷分为选择题和非选择题两部分，共 15 页。时量 150 分钟，满分 300 分。答题前，考生务必将自己的姓名、准考证号填写在答题卡和本试题卷上。
2. 回答选择题时，用 2B 铅笔把答题卡上对应题目的答案标号涂黑。如需改动，用橡皮擦干净后，再选涂其他答案标号。写在本试题卷和草稿纸上无效。
3. 回答非选择题时，用 0.5 毫米黑色墨水签字笔将答案按题号写在答题卡上。写在本试题卷和草稿纸上无效。
4. 考试结束时，将本试题卷和答题卡一并交回。

第 I 卷 选择题(共 140 分)

本卷共 35 小题，每小题 4 分，共 140 分。在每小题给出的四个选项中，只有一项是符合题目要求的。

韩国高科技农业公司将首尔南部的一条老旧隧道改造为室内垂直农场，其温度天然保持在 $10\sim 22^{\circ}\text{C}$ ，占地面积 2300 m^2 。公司应用自己开发的水培技术、LED 人工光照明技术和人工智能管理等，种植了 60 种蔬菜和水果，已于 2018 年 8 月向一家食品零售商和一家连锁面包店供应了蔬菜。公司的目标是实现大规模生产，抢占市场实现盈利。据此完成 1~3 题。

1. 旧隧道变农场，并成功种植大量蔬菜和水果的关键因素是
 - A. 市场需求
 - B. 全球变暖
 - C. 地广土肥
 - D. 技术水平
2. 为保证蔬菜生长，隧道垂直农场首先要改造的气候因素是
 - A. 光照
 - B. 热量
 - C. 降水
 - D. 气象灾害
3. 隧道垂直农场的发展，给韩国带来的影响可能有
 - A. 减少污染，缓解传统农业的污染状况
 - B. 应对人口激增，缓解粮食短缺和就业压力
 - C. 节约耕地，降低能耗，降低农产品生产成本
 - D. 规避自然灾害，稳定蔬菜水果的供应

灌丛荒漠往往呈带状分布于山麓地带和绿洲边缘。灌丛植物能够阻挡风沙,并将其固定在周边形成灌丛沙堆。若干旱加剧或地下水位下降,灌丛植物根系无法再获取水分就会死亡,最终形成流动沙丘。下图分别示意某区域植被分布和灌丛沙堆景观。读图完成4~6题。



4. 影响该区域植被分布差异的主导因素是

- A. 热量和光照
- B. 地形和降水
- C. 热量和水分
- D. 土壤和水分

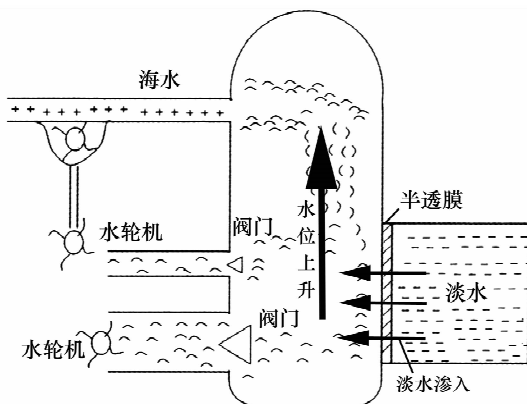
5. 图中无植被区形成的主要原因是

- A. 人类不合理活动造成植被破坏
- B. 海拔高,气温低,生长条件差
- C. 降水少,气候干旱,土壤贫瘠
- D. 多砾石、粗砂,孔隙大,水分渗漏严重

6. 若农田大量引水灌溉,会导致荒漠化加剧的地区是

- A. 绿洲东部灌丛荒漠区
- B. 绿洲西部灌丛荒漠区
- C. 无植被区西侧灌丛荒漠区
- D. 无植被区

海洋渗透能是利用咸水与淡水之间的盐差渗透压使淡水透过半透膜进入咸水区,使容器内水位上升,产生水位差而推动涡轮发电机而获得的能源。在盐度大的水域里,渗透发电的效果更好。但在发电厂附近必须有充足的淡水供给。挪威能源集团研发出了获取这种新绿色能源的技术。目前我国海洋渗透能的研究尚处于初期阶段。下图示意海洋渗透能的工作原理。读图完成7~9题。



7. 我国依靠渗透能发电最理想的盐湖是

- A. 青海西部察尔汗盐湖
- B. 山西南部运城盐湖
- C. 江苏东部盐城大盐湖
- D. 新疆东部巴里坤盐湖

14. 短短五天时间,国家关于国企改革出台了三大政策。2019年11月8日,国务院国资委印发中央企业混改操作指引。11日,国资委又公布了央企控股上市公司股权激励新规,强化了正向激励导向。12日,明确提出改革的目标、时间表、路线图,要求加强国有企业监管、增强研发创新能力。下列传导正确的是
- ①中央地方合作混改→整合各类资源→提高国有资本配置效率 ②上市公司股权激励→激发员工积极性→避免企业业绩下滑 ③增强创新能力→提高劳动者素质→确保国有企业保值增值 ④加强国有企业监管→提高经营管理水平→增强国有经济控制力
- A. ①② B. ①④ C. ②③ D. ③④
15. 2019年1—7月,我国对外投资合作稳中有进,境内投资者共对全球153个国家和地区的4088家境外企业进行了非金融类直接投资,累计实现投资4329.2亿元,同比增长3.3%。我国对外直接投资快速增长的原因可能有
- ①“一带一路”背景下,沿线国家产能合作稳步推进 ②人民币汇率大幅升值,我国企业对外投资成本减少 ③经贸合作提供了大量就业岗位,实现了双方互利共赢 ④我国企业积极融入全球化浪潮,竞争力不断提高
- A. ①③ B. ②③ C. ②④ D. ①④
16. 为响应国务院号召,部署城镇老旧小区改造试点,某市各社区采取调查问卷、入户征集、热线电话、居民议事会等方式征集居民需求,让每一位居民都能参与到社区决策中,共同决定老旧小区改造的项目。上述做法能够
- ①保证居民直接管理国家和社会事务 ②方便居民充分行使参与权和表达权 ③扩大居民自治范围,落实人民当家作主 ④将协商民主引入基层,提升基层治理能力
- A. ①② B. ①③ C. ②④ D. ③④
17. 2019年9月,16个国务院督查组分赴16个省(区、市)开展实地督查。根据企业和群众反映的问题线索,督查组核查发现了部分地方和单位懒政怠政和不作为、乱作为,损害企业和群众利益的典型问题并予以通报。这一做法
- ①有利于促进地方政府依法行使权力 ②开创了行政系统内部监督体系的新形式 ③旨在强化政府责任,坚持对人民负责原则 ④合理划分了中央和地方的权力和责任
- A. ①② B. ③④ C. ①③ D. ②④
18. 2019年9月1日,中共中央印发《中国共产党农村工作条例》,指出要以实施乡村振兴战略为总抓手,健全党领导农村工作的组织体系、制度体系和工作机制,加快推进乡村治理体系和治理能力现代化,加快推进农业农村现代化,让广大农民过上更加美好的生活。条例的出台
- ①为加强党对农村工作的全面领导提供了法律依据 ②有利于巩固党在农村的执政基础,促进农村全面发展 ③体现了坚持以人民为中心的实践原则和价值取向 ④是党履行管理农村公共事务职能的具体表现
- A. ①② B. ②③ C. ②④ D. ③④
19. 2019年9月投入使用的普通高中语文部编教材,从古风、民歌、绝句、律诗到词曲,从诸子散文到历史散文,从两汉论文、魏晋辞赋到唐宋明清古文,从文言小说到白话小说,均有呈现。该教材共选入古代诗文67篇(首),占全部选文数(136篇/首)的49.3%。可见,部编语文教材的使用
- ①有利于激发学生的文化自信和民族自豪感 ②发挥了教育传递、沟通和共享文化的功能 ③凸显了优秀传统文化在文化素养中的核心地位 ④展示了中华文化的源远流长和博大精深
- A. ①② B. ①④ C. ②③ D. ③④

20. 为庆祝新中国成立 70 周年,全国各中小学积极开展读一本好书、看一部革命电影、歌唱一首红色歌曲等丰富多彩的“红色教育”活动。开展这些活动
- ①旨在提升中学生的科学文化素养,培养健全向上的人格 ②有利于继承优秀传统文化,推动社会主义精神文明建设 ③可保证党牢牢掌握意识形态工作领导权,增强文化自信 ④有利于践行社会主义核心价值观,筑牢理想信念的基础

A. ①② B. ①③ C. ②④ D. ②③

21. 漫画(右图)启示我们

- ①主观决定客观,要充分发挥主观能动性
②要重视实践,坚持实践第一的观点
③按规律办事是发挥主观能动性的前提
④人们办事情是否成功受主观因素的影响

A. ①② B. ①③
C. ②④ D. ③④



22. 有专家指出,世界经济深度调整是一个长周期,一定伴随着中国从大国走向强国的整个历史发展周期,所以中国要有长期的发展战略眼光,保持好战略定力。同时,全球格局错综复杂,中国需要通过改革和开放深度洞察真伪命题,以敢于创新、勇于变革的姿态迎接挑战。该观点强调

- ①重视事物的长远联系,准确把握经济发展趋势 ②重视事物间的直接联系,赋予经济发展直接动力 ③把握事物的本质联系,积极探索经济发展新思路 ④把握事物的内部联系,用自身发展带动世界发展

A. ①③ B. ①④ C. ②③ D. ②④

23. 手机持有量趋于饱和导致手机需求下降,2019 年 9 月国内手机市场报告发布,整体出货量同比下降 7.1%。大家认为,新一轮旗舰产品创新看点颇多,5G(第五代通信技术)也有望形成新的市场空间。商家都摩拳擦掌,准备抓住这个发展机会。从事物发展的角度看

- ①面对复杂的外部环境,出现停滞和倒退都是难免的 ②及时防止或推动质变都是必要的,才能推动事物的发展 ③发展具有普遍性,在各个环节和阶段都是不断发展的 ④注重不断积累有利于抓住市场飞跃式发展的关键环节

A. ①② B. ①③ C. ②③ D. ②④

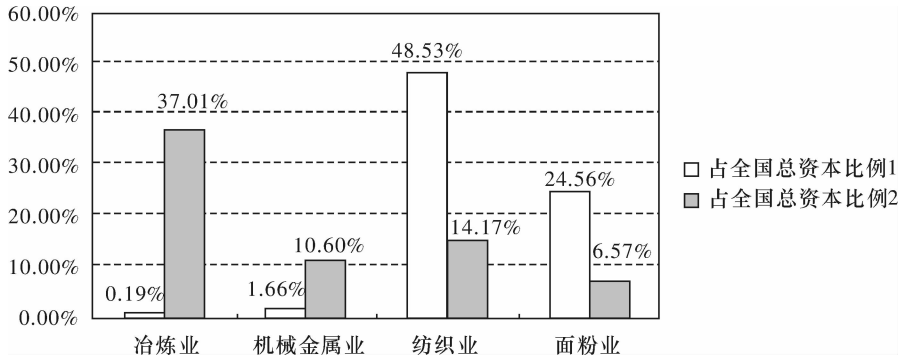
24. 曾小华《中国政治制度史论简编》:“……夏、商、周时期的国王制度,是中国古代一种特殊的政体,既非贵族民主政体,也非君主专制政体,而是一种宗法贵族君主政体。这一国家制度形式既有别于古代西方希腊、罗马的奴隶主民主制,又有别于皇帝制度创立以后的专制集权政体。”对文中“宗法贵族君主政体”的准确理解应为

- A. 分封制条件下的嫡长子继承制
B. 受到贵族权力限制的君主政体
C. 带有宗法色彩的君主专制
D. 具有严格等级制度的世袭制

25. 阅读下表。据此可以推知,秦汉至隋唐时期

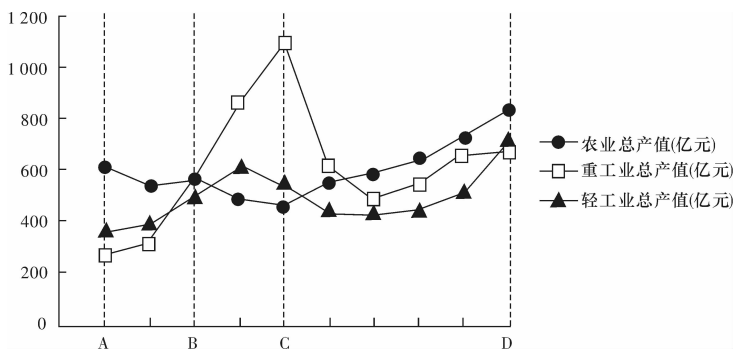
朝代	粮食亩产水平(市斤)	全国耕地面积(亿市亩)		
		总面积	北方	南方
秦汉	117(全国)	5.72		
魏晋南北朝	122(北方),215(南方)	3.85	1.925	1.925
隋唐	124(北方),328(南方)	6.42	3.21	3.21

- A. 北方农业经济的衰落
B. 南方农耕技术更先进
C. 南方地区得到开发
D. 经济重心转移到南方
26. 孔子主张重人事而远“天道”,孟子提倡“济天下”,董仲舒强调“圣人之为天下者兴利也”,降至宋明,理学家把提倡“正心、诚意、修身、齐家、治国、平天下”思想的《大学》抬到了“四书”的地位。这说明儒家思想
- A. 坚持追求天人合一的价值观念
B. 不断调整以顺应经济发展需求
C. 逐渐成为统治者加强专制统治的有效工具
D. 一贯强调积极入世和社会责任担当精神
27. 宋太祖开宝三年(970年),诏曰:“民铸铜为佛像、浮图及人物之无用者禁之,铜铁不得阑出蕃界及化外。”宋朝此举的主要目的是
- A. 保障金属货币的市场存量
B. 限制民间资本市场的流通
C. 抑制社会奢靡风气的蔓延
D. 扩大本土宗教的社会影响
28. 如图是中国近代史上某一时期内不同年份各民族工业部门资本占全国总资本比例示意图(占全国总资本比例1为年份1的情况,占全国总资本比例2为年份2的情况,年份2较年份1晚些)。对此理解准确的是



- A. 清政府为支付对日巨额赔款,鼓励兴办实业
B. 国民革命推翻北洋军阀统治,国内市场统一
C. 政府为抗击日本法西斯侵华,发展战时生产
D. 新中国成立在即,重工业所占比重迅速提升

29. 毛泽东在《湘江评论》上撰文：“冲决一切现象之网罗，发展其理想之世界，行之以身，著之以书，以真理为归，真理所在，毫不旁顾。前之谭嗣同，今之陈独秀，其人者，魄力雄大诚非今日俗学所可比。”下列有关该资料的说明正确的是
- A. 该文章可能发表在新文化运动时期
 B. 冲决封建网罗成为追求理想世界的根本目标
 C. 毛泽东深受维新派的思想熏陶
 D. 中国共产党人的救国之路已日渐清晰
30. 英国是最早承认新中国的西方大国，但它只同意新中国建交原则的一半，在美国的压力下一直就中国在联合国的代表权问题投弃权票。为了实现中英关系的发展，周恩来同意与英国互换代办，双方建立“半外交关系”。这种“半外交关系”
- A. 是双方在国家利益协调上的突破
 B. 成为当时东西方关系的典型特征
 C. 成为中国重返联合国的重要基础
 D. 打破了西方国家对新中国的封锁
31. 下图反映了新中国某一个时期连续十年内国内工农业总产值变化情况。对图中“C”点经济发展状况分析正确的是



- A. 国企改革协调了轻重工业比重
 B. “大跃进”促使重工业产值提升
 C. 国民经济调整任务的基本完成
 D. 家庭联产责任制取得很大成效
32. 罗马人把法律划分为公法和私法两大类，“法不进家门”的说法盛行，同时又出现了“当儿子成为高级官吏时，可能审判涉及其父的契约事件，惩罚其父的违法行为”等现象。由此可知，罗马公私法的划分导致
- A. 公法和私法范畴相互融合
 B. 贵族身份与家子身份对立
 C. 公民个体相对于家长独立
 D. 血缘关系与契约关系等同
33. 据媒体报道，首相约翰逊表示为了完成英国脱欧，将采取多种手段，必要时甚至暂停议会。而亲欧派议员声称，将提出对政府的不信任案并力促其通过，届时如约翰逊拒绝下台，向来保持中立的女王除了将他解职外别无选择。这些情况说明
- A. 首相需顺应民意以维护内阁稳定
 B. 英国政治传统可能出现弹性变化
 C. 欧盟一体化改变了英国内外政策
 D. 英王对行政权的影响力逐步上升

34. 1932 年底,苏联开始实行身份证制度,身份证只发给城市居民、市镇、中心区、新建工地、国营农场等地的工人,农村的居民(集体农庄庄员)则拿不到身份证,而没有身份证连一张火车票都买不到,农民被牢牢地束缚在土地上。据此推知,当时苏联
- A. 工人阶级成为领导阶级
B. 食物配给制损害了农民的利益
C. 行政命令代替计划经济
D. 农民为国家工业化作出贡献
35. 美国政府的拨款在硅谷地区早期发展中起了举足轻重的作用。20 世纪 50—60 年代期间,仅美国国防部购买硅谷的芯片就占了其总产量的 40%。材料表明当时的硅谷
- A. 见证了新经济的崛起
B. 使美国在军备竞赛中占据优势
C. 加速了美国产业升级
D. 受惠于凯恩斯主义的经济政策

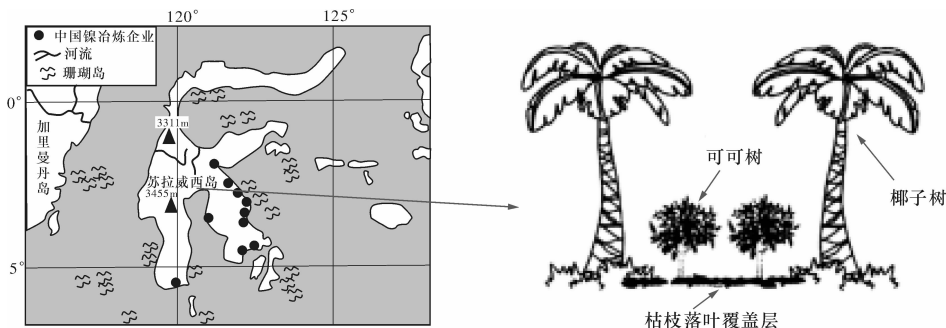
第 II 卷 非选择题(共 160 分)

本卷包括必考题和选考题两部分。第 36~42 题为必考题,每个试题考生都必须作答。第 43~47 题为选考题,考生根据要求作答。

(一)必考题

36. (25 分)阅读图文材料,完成下列要求。

材料一 可可树属热带作物,可可豆(可可的果实)因其独特的香味和较高的营养价值,常作为制作巧克力的主要原料,但可可豆的加工工艺复杂,对机器设备要求高。1847 年英国人利用可可生产出世界第一块固体巧克力,此后欧洲和北美成为世界上最主要的可可加工地区。20 世纪 80 年代以来,印度尼西亚人采用可可树与椰子树间作种植模式,该国逐渐成为世界上重要的可可种植国和可可豆出口国。下图示意印度尼西亚苏拉威西岛位置和该岛某可可种植园椰子树与可可树间作模式。



材料二 苏拉威西岛是印度尼西亚经济较为落后的一个地区,工业开发历史短,基础设施不完善。2014 年以来中国和印度尼西亚加强产业合作,中国镍冶炼企业纷纷布局苏拉威西岛。

(1) 依据苏拉威西岛的自然环境,从气候角度推测可可树的生长习性和生长环境。(8 分)

(2)简述苏拉威西岛可可种植园枯枝落叶覆盖层的作用。(6分)

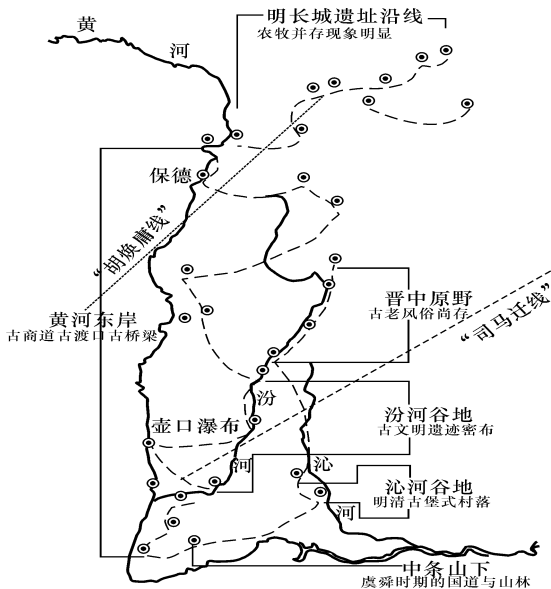
(3)分析世界可可加工地主要分布在欧洲和北美的原因。(5分)

(4)联系苏拉威西岛现状,简析中国镍冶炼企业在该岛开工生产前需要投资的主要领域。(6分)

37. (21分)阅读图文材料,完成下列要求。

材料一 战国至秦汉时期的农牧分界线“司马迁线”和今天的农牧分界线“胡焕庸线”均不同程度地穿过了山西省。前者是一条阶段性的分界线,它只是最易于开发的农业区与尚待开发的农业区之间的界线。而“胡焕庸线”是自元代以来与自然条件相符合的、更稳定的一条农牧业分界线,显示了我国东西部人口分布格局,直至今日,这一格局仍未改变。

材料二 “走胡线”体验者借由这两条规律线的位移来理解山西诸多人文现象的自然本质。体验者从晋北的长城遗迹开始,沿黄河东岸南下,直至晋南中条山脉和沁河河谷,然后沿汾河向北折返,回到晋中的田野里。下图为“走胡线”山西段徒步主干线示意图。



(1)分析汾河谷地古文明遗址密布的原因。(8分)

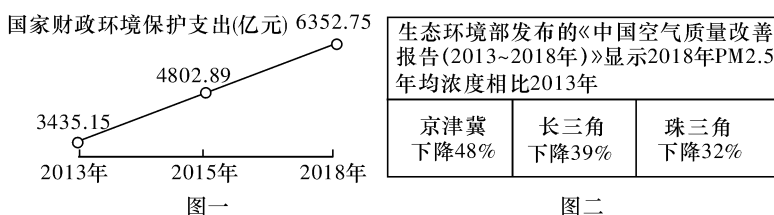
(2)分析农牧分界线从“司马迁线”转移到“胡焕庸线”的人为原因。(6分)

(3)2014年11月李克强总理指着中国地图上的“胡焕庸线”说,我国94%的人口居住在东部43%的土地上,我们要研究如何打破这个规律,统筹规划、协调发展。有些专家认为胡焕庸线可向西迁移,另一种声音是胡焕庸线不可破。你支持哪种观点,如果支持向西迁移,试列举应采取的措施,如果认为不可破,试分析其原因。(7分)

38. (14分)阅读材料,完成下列要求。

建设生态文明是关系人民福祉、关乎民族未来的千年大计。

材料一 2012~2018年我国财政环境保护支出及环境治理情况如图所示。



材料二 2019年4月,国家发布《关于推进实施钢铁行业超低排放的意见》,大幅削减主要钢铁企业大气污染物排放量。2019年7月,第二轮中央生态环境保护督察工作开始,各地一批违法违规项目被叫停,一批生态环境治理项目得到实施,一批“低小散”、高耗能、高污染企业被关停,一批企业技改项目落地。

2019年上半年,我国生态保护和环境治理业投资同比增长48%,比全部投资快42.2个百分点;中国环保产业营业收入约为6845亿元,同比增幅约为8.7%;预计到2025年我国环保产业产值将达到12万亿元,约占GDP的8%。

(1)运用经济生活知识,说明材料一中图一和图二之间的内在联系。(6分)

(2)既要金山银山,也要绿水青山。结合材料二和所学经济知识,说明保护生态环境对助推经济高质量发展的作用。(8分)

39. (12分)阅读材料,回答下列问题。

为维护国家安全、促进经济社会发展、保护人民群众利益,全国人大常委会将密码法列入立法工作计划。全国人大常委会第十一次会议对密码法草案进行了初次审议。会后,法制工作委员会将草案印发各省(区、市)、中央有关部门、单位和部分高等院校、法学研究机构、全国人大代表等征求意见,在中国人大网全文公布草案,征求社会公众

意见。宪法和法律委员会、法制工作委员会联合召开座谈会,听取中央有关部门和专家学者、部分相关企业的意见,并赴北京、上海、深圳进行调研。宪法和法律委员会于10月8日召开会议,根据常委会组成人员的审议意见和各方面意见,对草案进行了逐条审议。司法部、国家密码管理局的负责同志列席了会议。10月15日,宪法和法律委员会召开会议,再次进行审议。《中华人民共和国密码法》于2019年10月26日获得通过,并发布主席令,自2020年1月1日起施行。

结合材料,说明全国人大常委会在密码法制定过程中是如何坚持民主立法的?(12分)

40. (26分)阅读材料,完成下列要求。

25岁的樊锦诗大学毕业后,怀揣着保护文化遗产的梦想和对敦煌艺术的热情,毅然来到荒凉的戈壁深处,加入了守护敦煌的队伍。她视敦煌石窟的安危如生命,扎根大漠,潜心石窟考古研究,完成了敦煌莫高窟北朝、隋、唐代前期和中期洞窟的分期断代。

改革开放以来,她坚持改革创新,带领团队致力世界文化遗产保护传承。为了建立壁画保护的科学技术体系,她和团队经过反复摸索和探索,根据不同的病害情况,采用相应的修复技术和工艺。为有效地缓解文物保护与旅游开放的矛盾,团队积极开展文物国际交流合作,引进先进保护理念和保护技术,构建“数字敦煌”。经过十多年的探索与研究,数字技术使这一珍贵世界遗产被重新赋予生命。应用数字技术,对敦煌石窟艺术的全部信息进行记录,同时监测莫高窟周围的气候、游客活动,从而预防性地保护了大量珍贵的文化遗存;采用数字无线传感器网络技术在洞窟实时监测和管理方面发挥了独特的作用,为莫高窟洞窟的开放管理水平提升提供了技术支持;在敦煌学信息资料建设方面,利用数字技术,将现存洞窟里的壁画、彩塑转存为高清数字图像,建立高保真的“数字敦煌”资源库,实现信息资源共享;通过数字电影等现代展示手段,可以使观众欣赏到高分辨率、高清晰度的洞窟建筑、彩塑和壁画,同时也使洞窟得到有效保护。

(1)结合材料,说明樊锦诗探索石窟保护的过程就是一个追求真理的过程。(10分)

(2)结合材料,运用文化生活的知识,分析数字技术在敦煌石窟艺术传承和保护中的作用。(10分)

(3)班级拟举办学习樊锦诗先进事迹主题班会,请你写出三条发言提纲。(6分)

41. (25分) 阅读材料, 完成下列要求。

材料一 1929年经济大危机使各国进出口大幅萎缩。1930年6月, 美国国会通过了《霍利—斯穆特关税法案》, 提高了890种商品的进口税率。该法案引发了一场世界性的关税大战, 法案一经实施即有33个国家提出抗议, 7个国家采取报复措施。到1931年底, 欧洲各国进口税比1929年提高60%~100%, 关税混战彻底动摇了资本主义世界自由贸易体制。

——摘编自高德步《世界经济史》

材料二 1952年中国成立对外贸易部, 统一管理对外贸易, 按经营商品实行分工, 下设15个对外贸易专业进出口公司。各级外贸公司的盈利一律上缴中央财政, 亏损亦由中央财政负担; 国家制定对外贸易的指令性计划, 一切外贸活动必须按照指令性计划进行。

1984年中国政府正式推行贸易改革, 简政放权, 减少中央对贸易的集权控制。到1985年, 只有约100种产品根据指令性计划出口。另外, 有约100种产品根据指导性计划出口, 国家只下达这些产品的总出口指标, 其余产品全由市场决定。各省市和部委逐步被批准建立自己的外贸公司, 广东和福建还享受一些特殊的外贸政策。1988年开始推行承包责任制, 生产企业和外贸公司独立经营, 自负盈亏。

——摘编自赵志芳《中国工业化的历史变迁与对外贸易政策》

(1) 根据材料一并结合所学知识, 概括20世纪30年代资本主义世界关税战的目的和影响。(9分)

(2) 根据材料二并结合所学知识, 分析中国政府在新中国成立初期与20世纪80年代外贸体制的差异及原因。(16分)

42. (12分) 阅读材料, 完成下列要求。

材料 郑观应(1842—1922), 广东省广州府香山县(今中山市)人, 中国近代最早具有完整维新思想体系的理论家, 启蒙思想家, 也是实业家、教育家、文学家, 与唐廷枢、徐润、席正甫并称为晚清“四大买办”。

《盛世危言》, 是中国近代思想家郑观应的重要著作, 于清光绪二十年(1894年)正式出版。《盛世危言》是一个全面系统地学习西方社会的纲领, 它不讳言中国在社会生活的许多方面落后于西方。提出了从政治、经济、教育、舆论、司法等诸方面对中国社会进行改造的方案。在政治上不但提出了建立议会式的立宪政体, 而且提出了将政治公开于传媒, 由朝野各方评论, 这样才可能使施政臻于完善; 在经济上郑氏主张由民间组建工商业团体, 大力发展现代工业; 在教育上, 从基础教育到高等教育都有新见解; 在司法上他指出了中国的法律和法律的运用无不体现了黑暗与残暴, 所以须得向西方学习, 他说: “西人每论中国用刑残忍, 不若外国宽严有制, 故不得不舍中而言外, 取外

而酌中。”光绪二十一年，江苏布政使臣邓华熙曾将《盛世危言》五卷本推荐给光绪，光绪批示印制2 000部，分发给各省官员，该书印刷达十余万部之多，并成为科举士子的必读参考书籍，它是中国近代出版史上版本最多的书。

——摘编自易惠莉《郑观应评传》

书评，即评论并介绍书籍的文章。请以《郑观应评传》中关于《盛世危言》的相关内容和评述，撰写一个书评概要。概要要包括论题、背景、内容特点和影响。（要求：论题内容简明扼要，联系材料，史论结合，不得摘抄材料）

(二) 选考题

请考生从2道地理选考题、3道历史选考题中每科任选一题作答，如果多做，则按所做的第一题计分。作答时用2B铅笔在答题卡上把所选题目的题号涂黑。

43. (10分)【地理——选修3:旅游地理】阅读图文材料，完成下列问题。

“公路下面是房屋，公路上面是房屋，房屋上面还是房屋”
“停在8楼的2路汽车”，在山城重庆，这不再是文学虚构，你还会看到：从居民楼内驶过的轻轨列车、“晕得怀疑人生”的波浪形公路(如右图所示)、《极限挑战》等影视节目取景地的长江索道等。在网络媒体的追捧下，重庆人熟视无睹的这些方面，快速成为全国闻名的“网红景点”。



(1)说说重庆“网红景点”的出现对旅游开发的启示。(4分)

(2)“网红景点”往往火得快，冷得也快。提出使“网红景点”能持久“保鲜”的措施。(6分)

44. (10分)【地理——选修6:环境保护】阅读材料，完成下列要求。

“厕所革命”解决了民生难题。农村“厕所革命”必须走可持续发展之路。“三格式化粪池”功不可没——卫生间的污水流入第一个格子，通过中间厌氧仓处理，粪渣沉淀、分解，再流入另一个格子，这时，水明显变清了，被处理过的污水，顺着污水管网流入不远处的污水处理设施处理，再经过人工湿地“过滤”最终达到一级B排放标准。目前，武汉市还陆续出现新型智慧公厕，市民如厕时扫个脸，就可以免费取手纸……不过投入也相对大。

(1)说出“厕所革命”带来的环境效益。(6分)

(2)请为智慧公厕管理创新提出两个“金点子”。(4分)

45. (15分)【历史——选修1:历史上重大改革回眸】阅读下列材料,回答问题。

材料 20世纪50年代,与高度集中统一的计划经济体制相适应,我国逐步形成了“统包统配”的劳动就业制度。党的十一届三中全会以后,我国开始积极稳妥地改革统包统配制度。1979年6月,五届人大二次会议的政府工作报告中提出:劳动就业问题是当前的一个突出问题。1980年8月,中共中央召开全国劳动就业会议,提出了“在国家统筹规划和指导下,实行劳动部门介绍就业、自愿组织起来就业和自谋职业相结合的方针”,即“三结合”就业方针。1981年10月,中共中央、国务院作出了《关于广开门路,搞活经济,解决城镇就业问题的若干决定》,提出着重开辟在集体经济和个体经济中的就业渠道。1986年7月12日,国务院发布了国营企业劳动用工制度改革的四项规定,即《国营企业实行劳动合同制暂行规定》《国营企业辞退违纪职工暂行规定》《国营企业招用工人暂行规定》和《国营企业职工待业保险暂行规定》。根据这些规定,国营企业招用工人,“面向社会,公开招收,全面考核,择优录用”;必须实行劳动合同制,废止子女顶替等制度。1995年颁布实施《中华人民共和国劳动法》第一次用法律把劳动合同制确定下来,2008年实行《中华人民共和国就业促进法》确立“劳动者自主择业、市场调节就业和政府促进就业”的就业方针。

——摘编自王爱云《我国历史上子女顶替就业制度的形成及废除》

(1)根据材料并结合所学知识,概括十一届三中全会以来我国劳动就业制度发生的变化。(7分)

(2)根据材料并结合所学知识,分析我国劳动就业制度改革的意义。(8分)

46. (15分)【历史——选修3:20世纪的战争与和平】阅读下列材料,回答问题。

材料 一战前,欧洲各大国在哲学和历史学中把战争神圣化的理论盛行的同时,与大众联系更多的教育和文学在散播着“战争文化”。如:向青少年灌输大国沙文民族主义,宣扬光辉的历史和为民族事业献身的精神和个人英雄主义。浪漫的超现实的小说大量涌现,在这些文学作品中,战争被普遍描绘成一种英雄事业和积极的力量。向非洲、美洲的殖民扩张冒险活动、丛林战争,被描绘成传播文明和基督教教义的豪迈事业。将适者生存的原理广泛运用到人类社会中,激发人们的情感,动员更多的年轻人参与军事训练,鼓吹军人的荣誉、极度丑化敌人,打击敌国的光辉观念:只有战争是人们纯洁灵魂、发扬英雄精神与豪迈气概的机会。

——摘编自于沛等主编《世界历史·战争与和平卷》

(1)根据材料并结合所学知识,概括欧洲“战争文化”的特点。(6分)

(2)根据材料并结合所学知识,简析“战争文化”的影响。(9分)

47. (15分)【历史——选修4:中外历史人物评说】阅读下列材料,回答问题。

材料 作为《独立宣言》的起草人,杰斐逊的语言表达了启蒙运动中热爱自由者的思想,而其行为则反映了弗吉尼亚种植园主的自我放纵和对黑人的歧视与恐惧。从杰斐逊的一生来看,他奢华的生活方式远比他讲的奴隶的自然权利更为重要。杰斐逊在第一次就职演说中强调,他的支持者和其竞选对手亚当斯的支持者“都是兄弟,原则是一致的”。但在第二次就职演说发表后,批评者嘲讽他根本没有践行第一次就职演说的声明,在他第一任期结束时,政府中一半的职位属于忠实的共和党人;到他的第二任期,所有的职位俱在共和党人手中。作为共和党最具影响力的领袖,杰斐逊认为政府的权力应该加以严格限制。然而,在1803年拿破仑以1500万美元的价格将整个路易斯安那地区出售给美国的时候,他却没有坚持这一原则。迫于实际需要,杰斐逊和他的共和党同僚们将正常的程序暂时搁置,最终完成了这笔巨大的交易。此次土地购买的成功,在很大程度上要归因于杰斐逊奉行的现实主义外交政策。在他身上所体现的悖论,实际上也是美国这个国家的典型特征。因此,杰斐逊可以看作是美国悖论的化身。

——摘编自陈志杰《托马斯·杰斐逊:美国悖论的化身》

(1)根据材料,概括杰斐逊“身上所体现的悖论”的表现。(9分)

(2)根据材料并结合所学知识,谈谈你对“杰斐逊可以看作是美国悖论的化身”的理解。(6分)

高三年级第五次调研考试

文科综合参考答案

一、选择题

1. D **【解析】**据材料信息“公司应用自己开发的水培技术、LED人工光照明技术等”可知,垂直农场获得成功的关键因素是技术水平,故D项正确。
2. A **【解析】**隧道内光照条件差,不利于蔬菜生长,首先要改造的气候因素是光照,A项正确。
3. D **【解析】**隧道垂直农场的发展有利于规避灾害,稳定蔬菜水果的供应,故D项正确;材料未提及减少污染问题,排除A项;韩国经济发达,人口增长缓慢,隧道垂直农场的产品主要是蔬菜和水果,与缓解粮食短缺压力无关,B项错误;技术投入量大,生产成本低,故C项错误。
4. C **【解析】**从图可看出,植被分布差异受海拔高度和水源影响,可判断影响该区域植被分布差异的主导因素是热量和水分,所以C正确。
5. D **【解析】**无植被区形成的主要原因是多砾石、粗砂,孔隙大,水分渗漏严重,干旱加剧或者地下水水位下降,导致植物根系无法再获取水分就会死亡,所以D正确。
6. A **【解析】**农田大量引水灌溉,加剧绿洲边缘如东部灌丛水资源匮乏状况而导致荒漠化加剧,所以A正确。
7. C **【解析】**从文字信息中可知,利用渗透能发电即需要高盐度的水体,还需要有充足的淡水供给。察尔汗盐湖、运城盐湖、巴里坤盐湖都位于我国中西部内陆地区,盐分浓度大,但由于气候较干旱,缺乏充足的淡水,A、B、D选项不符合题意。盐城大盐湖地处江苏东部,濒临海洋,且有充足的淡水,C选项符合题意。故选C。
8. A **【解析】**依据图示信息可知,利用海洋渗透能发电需在密闭的环境中进行,受天气影响小,而风力发电、太阳能发电受天气影响大,A选项符合题意。风力、太阳能、渗透能都具有分布不均的特点,利用这些资源发电受地域的影响都很大,B选项不符合题意。海洋渗透能发电需在水体中进行,设备密封性要求高,电站建造成本高,C选项不符合题意。海洋渗透能能量较分散,发电效率较低,D选项不符合题意。故选A。
9. D **【解析】**在长江口利用海洋渗透能发电效率低于理论值的原因主要是我国半透膜技术不成熟;长江口水含沙量较大,影响半透膜渗透效果;长江稀释海水,海水盐度不够大。地势起伏较小与海洋渗透能发电效率无关,答案选D。
10. D **【解析】**读图可知,注意图中的方向标,深水港口没建之前,港口北侧有铁路和河流分布,交通便利,经济腹地广,工业也集中在北侧,工业基础好,故推断只有港阔水深是深水港口选建在旧港口南侧的主要原因。D正确。
11. C **【解析】**河流为淡水,对港口建筑腐蚀小,A错误。海港不需要河流来抬升港口水位,B错误。河流入海口水流速度减慢,易造成泥沙沉积,从而泥沙淤积港口,C正确。河流既可以带来污染,也可以加快污染物净化速度,且港口污染不是对港口的主要影响,D错误。
12. D **【解析】**企业实现从A状态到B状态的转变,意味着成本的降低和利润空间的增大。产品质量的改进和生产效率的提升可以实现降低成本和增加利润,创新能力的增强和资源利用率的提高也可以实现,①④入选。生产规模的扩大和研发投入的增加会带来成本的增加,和题意不符,②排除;重视产品的宣传和新兴市场的开拓不能带来成本的降低和利润的增多,③不选。
13. B **【解析】**将数字经济发展中的创新成果深度融合于实体经济的各个领域之中,有利于形成经济发展新形态,提升竞争力,①正确;④中“保证企业盈利”说法绝对,排除;②夸大了数字经济带来的积极作用;推进数字经济与实体经济融合,有利于加快实现产业数字化、网络化、智能化改造,促进资源的优化配置,③入选。答案选B。

14. B **【解析】**中央和地方合作混改,有利于整合各类资源,从而提高国有资本配置效率,①正确;②中激发员工积极性不能避免企业业绩下滑,排除;提高劳动者素质有利于增强研发创新能力,③排除;加强国有企业监管有利于提高经营管理水平,从而增强国有经济控制力,④正确。答案选B。
15. D **【解析】**我国对外直接投资额快速增长的原因既有“一带一路”给企业提供了合作的空间的外部因素,也可能有企业竞争力增强的内部因素,①④符合题意;②不符合实际,今年1—7月份,人民币整体呈贬值趋势,排除②;③不是对外直接投资快速增长的原因,是结果,排除。答案选D。
16. C **【解析】**让每一位居民都能参与到社区决策中,共同决定老旧小区改造的项目,是落实基层民主的表现,能够让居民充分行使参与权和表达权,②正确;居民参与社区治理是基层协商民主的内容,能够促进基层治理能力的提高,④正确;①中“保证居民直接管理国家和社会事务”的说法错误;材料中社区的做法也没有扩大居民自治范围,③排除。
17. C **【解析】**国务院督查组对各省市工作进行督查是对地方政府权力的监督,有利于促进地方政府依法行使权力,①正确;国务院督查不是行政系统内部监督体系的新形式,②错误;该做法“旨在强化政府责任,坚持对人民负责原则”说法正确,③入选;材料不体现合理划分中央和地方的权力和责任,④不符合题意。
18. B **【解析】**①中的“法律依据”表述错误,不选;中共中央印发《中国共产党农村工作条例》,有利于提高党全面领导农村工作的能力和水平,巩固党在农村的执政基础,②正确;要让广大农民过上更加美好的生活,体现了党坚持以人民为中心的实践原则和价值取向,③符合题意;党不是国家机关,不能履行国家职能,故④错误。答案选B。
19. B **【解析】**本题考查文化自信及中华文化的特点的相关知识,考查考生获取和解读信息、运用知识分析问题的能力,语文部编教材选入古代诗文等优秀传统文化,既展示了源远流长、博大精深的中华文化,又能够增强学生的文化自信,①④符合题意。教育具有选择、传递、创造文化的功能,大众传媒具有文化传递、沟通、共享的功能,②说法错误。世界观、人生观、价值观是人们文化素养的核心,③说法错误。
20. C **【解析】**全国各中小学积极开展读一本好书、看一部革命电影、歌唱一首红色歌曲等丰富多彩的“红色教育”活动。开展这些活动有利于继承优秀传统文化,推动社会主义精神文明建设;有利于践行社会主义核心价值观,筑牢理想信念的基础,②④正确。①错误,材料所述目的在于提升中学生的思想道德修养,而不是科学文化素养。③错误,“可保证党牢牢掌握意识形态工作领导权,增强文化自信”说法绝对。故选C。
21. C **【解析】**漫画指出要自己去改变一切,就是要充分发挥主观能动性,要重视实践,但是①中的“主观决定客观”说法错误,②正确;漫画没有强调按规律办事,③是无关选项;“创造机会”体现了主观因素的重要性,④正确。
22. A **【解析】**本题考查联系的相关知识,考查考生获取和解读信息、综合运用知识的能力。“中国要有长期的发展战略眼光”,强调要着眼长远,准确把握经济发展趋势,①符合题意。“中国需要通过改革和开放深度洞察真伪命题”,强调要把握事物的本质联系,③符合题意。“重视事物间的直接联系,赋予经济发展直接动力”的说法错误,排除②。④与题意无关,应排除。
23. A **【解析】**手机持有量趋于饱和导致手机需求下降,说明事物的发展出现停滞和倒退都是难免的,故①正确;商家都摩拳擦掌,准备抓住这个发展机会,说明及时防止或推动质变都是必要的,才能推动事物的发展,故②正确;发展具有普遍性,但并不是在各个环节和阶段都是不断发展的,故③错误;材料体现的是质变,与量变无关,故不选④。故选A。
24. B **【解析】**由材料“夏、商、周时期的国王制度,是中国古代一种特殊的政体,既非贵族民主政体,也非君主专制政体,而是一种宗法贵族君主政体”及“这一国家制度形式既有别于古代西方希腊、罗马的奴隶主民主制,又有别于皇帝制度创立以后的专制集权政体”可知,此政体强调君主的权力受到贵族的限制。故B项正确。
25. C **【解析】**南方的亩产不断增加,面积也增加了,可以看出南方逐渐得到了开发,C项正确;从材料中看出隋唐时期北方的亩产和面积较魏晋南北朝都有增加,看不出北方农业经济的衰落,A项错误;南北方的亩数相当,体现不出南方耕作技术先进,B项错误;古代中国经济重心最终实现南移是在南宋,D项错误。

26. D 【解析】A项材料无法体现；材料不能反映顺应经济发展要求，排除B；西汉时期儒家思想成为封建社会的正统思想，成为统治者加强专制统治的有效工具，C项无法全面反映材料，排除；由“重人事”“济天下”“为天下者兴利”“齐家、治国、平天下”体现了儒家积极入世和社会责任担当精神，故D项正确。
27. A 【解析】材料主要讲述宋朝禁止铸造佛像、浮图及人物，有利于抑制社会奢靡风气的蔓延，但不是主要目的，故C项错误；“铜铁不得阑出蕃界及化外”，并没有限制民间资本市场的流通，故B项错误；“铜铁不得阑出蕃界及化外”，是为了保障金属货币的市场存量，故A项正确；灭佛有利于扩大本土宗教的社会影响，但不是主要目的，故D项错误。
28. C 【解析】根据材料提供的数据，较之前年份，第二个年份的冶炼业、机械金属业等重工业占全国总资本的比重明显上升，纺织、面粉等轻工业比例显著下降，结合所学可知，这和抗日战争时期，国家调整经济政策，工业服务抗战的需要密切相关，C项符合题意。19世纪末清政府鼓励兴办实业、1927年北伐推翻北洋军阀，统一全国之后，国内经济发展均为轻工业发展很快，重工业发展偏慢，没有改变民族工业投资多在轻工业的经济格局，A、B两项错误。新中国成立前夕，国民经济面临崩溃，轻、重工业均没有较大发展，D项不符合史实。
29. A 【解析】根据材料，毛泽东认为“前之谭嗣同，今之陈独秀”，都是有魄力的人，追求真理。陈独秀是新文化运动的代表人物，主张民主与科学，反对迷信和愚昧，所以该撰文可能发表在新文化运动时期，故A项正确。从材料中无法看出追求理想世界的根本目标是冲决封建网罗，故B项错误。毛泽东深受的是马克思主义的熏陶，故C项错误。材料中并未体现中国共产党人的救国之路，故D项错误。
30. A 【解析】本题考查新中国初期的对外关系，旨在考查学生解读信息，调动知识解决问题的能力。材料提及中英之间是“半外交关系”，可见是双方国家利益的体现，A项符合题意，正确。此时东西方关系处于敌对状态，B项与史实不符，排除。中国重返联合国主要靠第三世界国家的帮助，C项与史实不符，排除。新中国成立之初，中国同17国建立外交关系，打破西方国家对新中国的封锁，D项表述有误，排除。故选A。
31. B 【解析】“大跃进”时期大办工业，大炼钢铁，促使重工业产值提升，与“C”点经济发展状况相符，故答案为B项。国企改革没有涉及轻重工业比重，且“C”点轻重工业不协调，排除A项；国民经济调整任务完成时，轻重工业比例应当大体协调，排除C项；家庭联产承包责任制推动农业的大发展，与图示信息不符，排除D项。
32. C 【解析】古罗马出现“当儿子成为高级官吏时，可能审判涉及其父的契约事件，惩罚其父的违法行为”的现象，说明儿子作为公民独立于家庭，依法对家庭成员作出审判，故C项正确；材料无法体现公法和私法范畴相互融合，排除A；材料无法体现贵族身份，排除B；材料反映儿子可以惩罚其父的违法行为，无法体现血缘关系与契约关系等同，排除D。
33. B 【解析】根据材料“必要时甚至暂停议会”“将提出对政府的不信任案并力促其通过”“向来保持中立的女王除了将他解职外别无选择”可知，首相为了脱欧而暂停议会，议会对政府提出不信任案弹劾首相，面对议会和首相的制衡和僵局，原本作为权力象征的女王通过自身的政治影响力解除首相约翰逊的职权，说明英国作为权力象征的“向来保持中立的女王”通过自身政治影响力打破僵局，英国政治传统有所变化，故B项说法正确。
34. D 【解析】由材料“身份证只发给城市居民”“农民被牢牢束缚在土地上”可知，集体农庄的农民不能轻易离开农庄，只能从事农业劳动。结合材料1932年底可知斯大林模式下国家为了发展工业，让农民和农业为国家工业化作出重大贡献。
35. D 【解析】根据材料“美国政府的拨款在硅谷地区早期发展中起了举足轻重的作用”可知，硅谷的建立是由政府拨款，二战后对美国经济的发展起了重要作用，说明硅谷的建立受惠于政府的拨款，即受到凯恩斯主义经济政策的影响，故D项正确；美国新经济的崛起是20世纪八九十年代，故A项错误；材料内容强调的是这时期硅谷的建立受到政府的拨款和支持，体现了凯恩斯主义经济政策的影响，没有体现美国在军备竞赛中占据优势的问题，故B项错误；材料体现的是硅谷早期建立时政府的主要作用，与美国产业升级没有直接的关系，并且没有体现材料所反映的主旨问题，故C项错误。

二、非选择题

36. (1) 苏拉威西岛纬度低, 热量充足, 可可树喜好高温; 苏拉威西岛地处赤道多雨地带, 降水丰富, 可可树喜好湿润; 赤道附近太阳高度角大, 光照较强, 椰树林为可可遮挡部分阳光, 可可树喜好适当荫蔽; 地处赤道无风带, 风力和缓, 且有椰树林挡风, 可可树喜好弱风。(每点 2 分, 答对 4 点得 8 分)
- (2) 枯枝落叶覆盖层可以减少雨水对地表的冲刷, 减少表土和养分的流失; 降水较少的季节枯枝落叶覆盖层可以减少土壤水分的蒸发; 高温条件下枯枝落叶的分解可以增加土壤养分。(每点 2 分, 答对 3 点得 6 分)
- (3) 欧洲、北美经济发达, 且居民喜爱可可制品, 可可制品消费市场广阔(印尼远离欧洲、北美等主要可可制品消费市场); (2 分) 欧洲、北美可可加工业技术领先, 历史悠久(印尼可可加工业起步晚, 产业基础和技术相对落后); (2 分) 可可豆易于保存, 可长距离运输。(1 分)
- (4) 镍冶炼企业耗能高, 需加强水电站的建设; 中部山区地形崎岖, 需完善公路交通, 以方便镍矿运输; 需加强海港建设, 完善物资出口通道。(每点 2 分, 答对 3 点得 6 分)
37. (1) 发展历史悠久, 文物古迹众多; 有汾河流经, 水源充足; 汾河谷地地形平坦, 土壤肥沃; 谷地气温较高; 农业发达, 人口众多等。(答对 4 点得 8 分)
- (2) 生产力水平高, 经济发展迅速; 人口增长快, 需要大量的耕地, 草地被大量开垦; 农耕收入稳定且大于游牧收入; 矿产资源开发等。(答对 3 点得 6 分)
- (3) 向西迁移; (1 分) 措施: 节约水资源, 保护生态环境; 选择局部水资源条件好的地区, 打造区域核心城市, 辐射带动周边城市的发展; 重点发展优质服务业、先进制造业、旅游业、特色农业等; 承接东部地区的产业转移, 发展特色工业, 提供就业岗位, 吸引人口迁入。(三点即可, 其他答案合理亦可以酌情给分, 共 6 分)
- 或不可破; (1 分) 原因: 该区域处于过渡地带, 生态环境脆弱; 过度开发会引起林草植被减少, 生物多样性减少; 草场退化, 土地沙化; 土壤盐碱化; 水土流失; 滑坡、泥石流多发等问题。(三点即可, 其他答案合理亦可以酌情给分, 共 6 分)
38. (1) 随着国家财政环保支出的逐年增加, 我国空气质量不断改善; (2 分) 财政具有促进资源合理配置的作用, (2 分) 国家逐年加大对环境保护的财政支出力度, 推动绿色发展, 使我国空气质量明显改善, 京津冀、长三角、珠三角等地 PM_{2.5} 年均浓度大幅下降。(2 分)
- (2) ① 加快淘汰落后产能, 提高产品质量, 推动供给侧结构性改革, 着力提高供给体系质量和效益。(答“提高全要素生产率, 增强有效供给能力, 提升供给质量”亦可) (2 分) ② 加快传统产业升级换代, 推动经济结构战略性调整, 实现经济高质量发展。(2 分) ③ 加快构建绿色产业体系, 培育壮大新产业、新业态、新模式, 为经济高质量发展提供新动能。(2 分) ④ 加强生态环境保护, 积极推动绿色发展, 促进经济可持续发展。(2 分)(考生如有其他答案, 言之有理可酌情给分)
39. ① 全国人大常委会通过人大网向全社会公开征求意见, 利用重大事项社会公示制度、专家咨询制度等途径广泛征求民意, 坚持一切权力属于人民的原则, 体现了民主立法; ② 密码法制定过程中, 常委会组成人员对草案进行了审议、反复讨论并交换意见, 人大代表参加行使国家权力, 自觉履行职责, 体现了民主立法; ③ 全国人大常委会赶赴北京、上海、深圳等地进行调研, 广泛听取专家和学者的意见, 邀请司法部、国家密码管理局的负责同志列席会议, 同时充分发挥人大在立法工作中的主导作用, 坚持了民主集中制的组织和活动原则; ④ 全国人大常委会在密码法制定过程中, 广泛听取代表的意见、群众的意见、其他国家机关的意见, 采取了民主协商的形式, 发挥协商民主在立法过程中的积极作用。(每点 3 分)
40. (1) ① 樊锦诗发挥团队精神, 带领科研人员不断摸索, 反复探索, 经过十多年的探索与研究, 寻找保护敦煌莫高窟的有效方法。这说明受主客体条件的限制, 追求真理是一个曲折的过程, 具有反复性。(3 分) ② 认识具有无限性和上升性, 我们要在实践中不断发展、丰富、深化和扩展认识。从事遗产的传承和保护是一个永无止境的过程, 需要不断地钻研和创新, 寻找科学的方法加以解决。(3 分) ③ 樊锦诗大胆构想数字敦煌, 运用数字技术进行保护, 突破了传统保护的方法和实践。这说明人们要在实践中认识和发现真理, 要在实践中检验和发展真理。(4 分)

(2)①科学技术的进步,是推动文化发展的重要因素。应用数字技术对文物进行记录和监测、预防性地保护手段,有利于更好地保护文化遗产,延续了莫高窟的生命力。(3分)②数字图像、数字电影等有超越时间局限和信息共享等优势,让人们足不出户感受敦煌文化魅力,带来更快速、方便的文化传播,促进了文化的交流和传播,增强了莫高窟的艺术影响力,焕发出活力。(3分)③利用数字技术将洞窟文物转换成数字图像,使传递、储存文化资源的手段和方式发生根本性变革,促进了洞窟艺术的继承与发展,让优秀传统文化活了起来。(2分)④利用数字技术创新文化传播途径、手段、储存方式、保护手段等,实现了文化创新,促进了民族文化的繁荣,让敦煌莫高窟艺术大放异彩。(2分)

(3)①树立和坚定理想,要将个人努力同国家与社会的需要相结合;②勤奋学习、勇于实践、脚踏实地、努力奋斗;③立足社会实践,提高创新能力,争当创新先锋。(每点2分)

41. (1)目的:减少进口,缓解本国经济危机;转嫁危机。(3分)

影响:贸易保护主义抬头,动摇了资本主义世界自由贸易体制;加剧了各国经济危机,使世界经济秩序更加混乱;导致世界局势日益紧张,成为“二战”爆发的因素之一。(6分)

(2)差异:

新中国成立初期:国家统一管理;外贸企业盈亏由中央负责;外贸遵循指令性计划。(答出2点即得3分)

20世纪80年代:经营管理权下放地方;外贸企业自负盈亏;指令性计划、指导性计划与市场机制相结合。(答出2点即得3分)

原因:

新中国成立初期:工业基础薄弱;借鉴苏联经验;适应计划经济体制的需要;美国为首的西方资本主义国家的遏制与封锁。(答出3点即得5分)

20世纪80年代:改革开放的深入开展(城市经济体制改革的推动);20世纪70年代中美关系正常化等外交成就使国际环境好转;中国逐渐融入世界经济全球化进程。(5分,其他答案言之成理,亦可酌情给分)

42. 示例1

论题:中国思想界的转折——《盛世危言》(2分)

背景:洋务运动,民族工业兴起和发展,列强侵华,民族危机、半殖民地半封建社会程度加深。(4分)

内容特点:从“中体西用”发展到学习西方政治、经济、教育、法律等,主张学习西方先进社会制度,并初步形成体系。(4分)

影响:触及上层统治者,推动维新变法、辛亥革命和近代中国民主革命的发展,影响深远。(2分)

示例2 论题:《盛世危言》简评(内容略)

示例3 论题:郑观应与《盛世危言》(内容略)

示例4 论题:《盛世危言》历史考查及千秋功业(内容略)

43. (1)立足于旅游资源的多样性,积极开发具有地域特色的旅游资源;挖掘旅游资源的文化内涵(或“植入多元的文化元素”);利用新的传播方式,加强宣传,是旅游市场开发的重要手段。(答对2点得4分)

(2)做好后续开发工作,创新和丰富旅游项目;将网红景点串联起来,形成旅游线路,丰富旅游体验;完善配套设施,提高接待能力和服务水平。(答对3点得6分,答案合理可酌情给分)

44. (1)改善农村卫生条件,美化乡村环境;节约水资源,提高水资源的利用率,保护水质;提供有机肥料,减少化肥的使用量,减少土壤污染。(答对3点得6分)

(2)在智慧公厕设置商业广告,获取收入,用于维护管理;打造专业厕所公司,进行品牌化、规模化的经营管理,提升卫生服务水平;在智慧公厕尽最大可能为市民提供便利,实现一站式上网、缴费、充电、取钱、打电话、上厕所等。(答对2点得4分)

45. (1)实现了从“统包统配”的计划就业制度向自主择业的市场就业制度的转变;劳动者的就业渠道,由过去主要依靠全民所有制单位安排就业,转化为国有、集体、个体及外资、合资企业多渠道扩大就业;从“铁饭碗”的用工制度到建立起能进能出的灵活就业体制机制;公平、竞争、择优的就业观念与规则逐渐深入人心。(7分,答出3点即可)
- (2)有利于调动劳动者的积极性,激发创造力;有利于增强企业活力和提高企业竞争力,促进经济发展;有利于促进人才的成长和合理流动;有利于促进社会公平,维护社会稳定。(8分,其他言之有理亦可酌情给分)
46. (1)战争神圣化;突出英雄主义色彩;与文明传播和宗教教义相结合;以本民族利益为中心(具有狭隘民族主义色彩)。(6分,答对三点即可)
- (2)美化战争,增加战争风险;促进极端民族主义思潮发展,加深了民族仇恨;成为一战爆发的推动因素之一。(9分)
47. (1)表现:宣扬平等自由,却对黑人歧视、恐惧;反对党派纷争,却在政治上排除异己,重用本党派人士;希望限制政府权力维护民主,却为了扩大疆土越权购买土地。(9分)
- (2)理解:作为资产阶级思想家和政治家,杰斐逊身上既有追求平等、自由、民主的理想主义,同时又具有维护本阶级阶层根本利益的现实主义的一面,而这正是美国资产阶级民主政治本质的体现。(6分)