

# 文科综合能力测试

- 注意事项: 1.答卷前,考生务必将自己的学校、姓名、班级、考号等信息填写清楚,并在规定位置贴好条形码。
- 2.答选择题时,必须使用 2B 铅笔将答题卡对应题目的答案标号涂黑。
- 3.答非选择题时,必须使用黑色签字笔,将答案书写在答题卡规定位置上,否则作答无效,考试结束时,只交答题卡。
- 4.本试卷分第 I 卷(选择题)和第 II 卷(非选择题)两部分。满分 300 分,考试时间 150 分钟。

## 第 I 卷(140 分)

- 一、选择题(本大题共 35 小题,每小题 4 分,共 140 分) 在每小题给出的四个选项中,只有一项是最符合题目要求的)

曲水县江村紧靠拉萨河,距拉萨市区不到 50 公里,是一个历史悠久的古村。过去的江村以农牧业为主,主要种植青稞、油菜等传统作物。近年来,该村大力推广温室种植瓜果、蔬菜,同时积极探索净菜(经过整理、洗涤等加工操作,无菌真空包装的蔬菜)配送。据此完成 1~3 题。

1. 影响江村种植青稞的主要因素是
- A. 光照  
B. 地形  
C. 水源  
D. 热量
2. 近年来,江村大力推广温室种植瓜果、蔬菜的主要原因是
- A. 村民生活方式变化  
B. 青稞单位面积产量低  
C. 瓜果蔬菜产值较高  
D. 温室建设的成本较低
3. 江村净菜快速配送至拉萨市区的有利条件是
- A. 劳动力多  
B. 水运交通便利  
C. 距市场近  
D. 保鲜技术先进

实施乡村振兴战略是我国的重大决策部署。某省实施乡村高质量发展行动计划,加强统筹规划,采用“互联网+、文化+、旅游+、金融+、生态+”五种产业为支撑的乡村振兴创新模式。据此完成 4~5 题。

4. 实施该模式的主要目的是
- A. 传承乡土文化  
B. 缩小城乡差距  
C. 普及乡村网络  
D. 改造人居环境
5. 支撑“互联网+”产业模式的关键因素是
- A. 科技创新  
B. 基础设施  
C. 政策扶持  
D. 资源禀赋

南极洲菲尔德斯半岛位于乔治王岛的西南端,属无冰区。当地原有植物群落中身影低矮的藻类、地衣、藓类占有优势,少有开花植物,但近年来开花植物在南极不断蔓延。图1示意菲尔德斯半岛和长城站气候统计资料。据此完成6~8题。

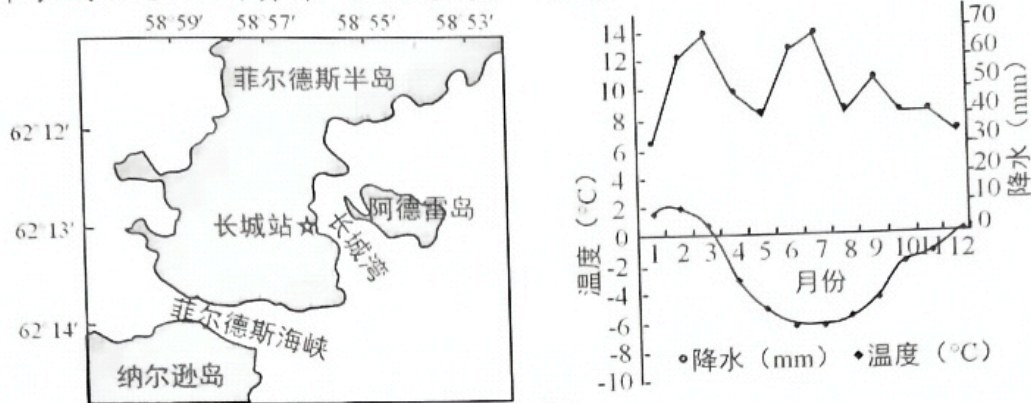


图1

6. 影响该半岛植物群落身影低矮的主要气候特征是  
 A. 日照时间长      B. 大风日数多      C. 年降水量大      D. 终年酷寒
7. 近年来,开花植物在南极不断蔓延的主要原因是  
 A. 极地高压增强      B. 全球气候变暖  
 C. 盛行西风变强      D. 南极环流减弱
8. 开花植物蔓延可能导致菲尔德斯半岛地区  
 ① 冰雪融化加快      ② 生物总量增加      ③ 海水盐度增加      ④ 藓类数量减少  
 A. ①②      B. ①③      C. ②④      D. ③④

舟山群岛位于浙江省东北,年降水季节差异较大,每年4~6月出现第一次雨季,降水量约占全年的35%,在8~9月份出现第二次雨季,降水量约占全年的23%,河流多为间歇性河流(指大部分时间干涸,仅在雨季或融冰、融雪期间有水流的河流)。图2示意舟山群岛多年平均年降水量等值线分布。据此完成9~11题。

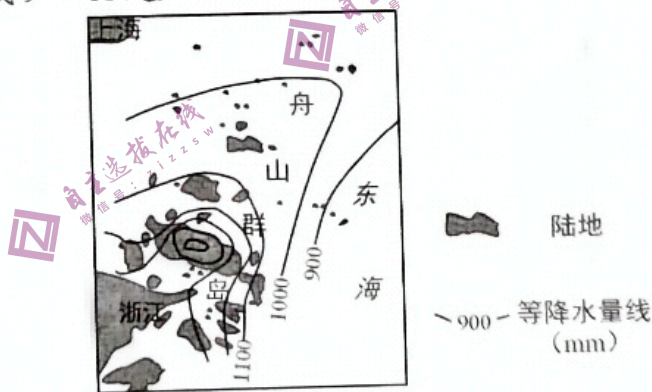


图2

9. 第一次雨季的主要降水类型是  
 A. 锋面雨      B. 地形雨      C. 台风雨      D. 对流雨
10. 与第一次雨季相比,舟山群岛第二次雨季的突出降水特征是  
 A. 降水日数多      B. 持续时间长  
 C. 降水总量多      D. 降水强度大
11. 舟山群岛多间歇性河流的根本原因是  
 A. 岛屿面积小      B. 植被覆盖低  
 C. 降水变率大      D. 水量下渗多



18. 博鳌亚洲论坛 2023 年年会在中国海南博鳌举行,此次年会以“不确定的世界:团结合作迎挑战,开放包容促发展”为主题,聚焦“发展与普惠”“治理与安全”“区域与全球”“当下与未来”四大议题,共同探寻“不确定世界中的确定性”。材料表明我国

- ①顺应世界多极化趋势,主导全球治理体系
- ②构建人类命运共同体,携手应对全球危机
- ③促进区域经济一体化,维护全球发展利益
- ④坚持走和平发展道路,建立新型国际关系

A. ①③                      B. ①④                      C. ②③                      D. ②④

19. 习近平主席会见西班牙首相桑切斯时表示,双方要搞好中西文化和旅游年活动。2023 年 3 月 27 日,在中西文化和旅游年开幕式上,西班牙歌唱家用中文和西文演唱《我爱你中国》,中国音乐家用笙演奏《西班牙斗牛曲》,两国艺术家以乐会友、以艺通心。由此可见

- ①民族文化通过传播,方显价值
- ②文化因交流、交融而丰富多彩
- ③文化既是民族的,又是世界的
- ④文艺作品要坚持国际创作导向

A. ①③                      B. ①④                      C. ②③                      D. ②④

20. 2023 年 3 月 14 日,人民日报社开展全国公益广告大赛优秀作品展,得到了社会各界的广泛支持和积极参与。本次作品展的主题紧扣时代脉搏,回应社会关切,涵盖了爱国主义教育、精神文明创建、志愿服务和诚信建设等多个方面。开展这一活动旨在

- ①培育文明风尚,带动文化产业的蓬勃发展
- ②发挥人民群众的主体作用,传播社会正能量
- ③凝魂聚气,坚定中国特色社会主义远大理想
- ④加强爱国主义、集体主义、社会主义教育

A. ①②                      B. ①③                      C. ②④                      D. ③④

21. 2022 年 11 月 30 日,聊天机器人 ChatGPT 发布。它可以在某些重复性和标准化的任务上替代人类,这可能会导致一些低技能的工作被取代。但是,它也可以提高许多行业的工作效率,如在客服行业,ChatGPT 可以减少客户等待时间,快速响应并解决一些常见问题。从哲学角度看,ChatGPT

- ①能够根据规律依托大数据作出趋势预测
- ②可以创造性地对客观事物作出主观反映
- ③作为实践主体将深刻改变人类社会生活
- ④能够帮助人类提升认识能力和实践能力

A. ①②                      B. ①④                      C. ②③                      D. ③④

22. 图 3 漫画给我们的哲学启示是

- ①同一性和斗争性在一定条件下会相互转化
- ②主要矛盾在事物发展过程中处于支配地位
- ③矛盾双方既对立又统一,由此推动事物发展
- ④要做好充分的思想准备,敢于面对困难挫折

A. ①②                      B. ①④                      C. ②③                      D. ③④



图 3

23. 1942年毛泽东同志在《延安文艺座谈会上的讲话》中提出,要和群众打成一片。2022年习近平总书记在二十大报告中指出,要在全党大兴调查之风,主动和群众打成一片,深入了解人民群众的真正需求。这是基于
- ①人民群众是社会存在和持续发展的基础  
 ②群众路线是党的生命线和根本工作路线  
 ③生产关系一定要适应生产力的发展状况  
 ④站在最广大人民立场上是最高价值标准
- A. ①②                      B. ①③                      C. ②④                      D. ③④
24. 春秋战国时期,儒墨法三家的游学区域都在扩大,从游学的核心区域来看,儒墨两家从集中走向分散,而法家却由分散逐渐集中到楚地、秦和三晋地区,且在地理位置上是接壤的。这体现了该时期
- A. 社会变革导致分裂动荡                      B. 士人群体的崛起  
 C. 区域经济发展的不平衡                      D. 统一趋势的加强
25. 隋唐时期在丰富制图学、修著地理方志、探索域外知识、黄河源考察、海陆变迁及潮汐认识等方面较前代有明显进步。这反映了隋唐
- A. 重视科技的实用性                      B. 中外文化交流频繁  
 C. 科技研究侧重实验                      D. 民族交融得到加强
26. 宋代不仅有官方铸造的标准权衡器、民间私铸的大型石权,还有专供军队使用的军权,种类和性质多样,且从权衡器的制作、发行、使用到校验,均有专门负责的机构和职官。由此说明宋代
- A. 交易的公平性得到保证                      B. 重视维护经济市场秩序  
 C. 统一稳定政治局面形成                      D. 官营手工业的发展迅速
27. 清王朝规定,蒙古、新疆、西藏地区的民事、行政和命盗刑事案件都归理藩院之直属机构理刑清吏司管辖。在案件的执行上,一般的刑事案件,可以罚牲畜来代替惩罚,对无力缴纳者或案情有疑者,可以顶佛经入誓,做出保证,则可免罪。这一做法旨在
- A. 加强边疆地区司法体制建设                      B. 促进佛教事业发展  
 C. 保证对辽阔帝国的治理效能                      D. 践行儒家民本思想
28. 1846年至1856年的十年中,英国从中国进口的茶叶和生丝几乎连年递增,茶叶从1846年的46746千磅递增到1856年的63278千磅,生丝从20270包递增到58551包。这一变化本质上反映了
- A. 中国传统自然经济开始解体                      B. 中国手工业品深受英国人喜爱  
 C. 中英贸易中国处于顺差地位                      D. 中国被卷入资本主义世界市场
29. 斯塔夫里阿诺斯在《全球通史》中写道:“他(毛泽东)无视莫斯科的第三国际,制定出新的革命策略。他拒绝了只能依靠城市无产阶级进行革命这一传统的马克思主义原则。他根据对农村的直接考察断定,占人口70%的贫农是“革命的先锋……没有贫农便没有革命。”由此可见,毛泽东的这一革命策略
- A. 借鉴了俄国十月革命经验                      B. 发展了马克思主义学说  
 C. 纠正了党内的“左倾”错误                      D. 指明了正确的革命道路

30. 下表是 1923 年—1928 年青岛海关查获日军军火走私统计表, 据表可知该时期

年份 \ 种类	各种手枪 (支)	来复枪 (支)	机枪 (支)	步枪 (支)	各种子弹 (发)	飞机(架)
1923	1128	3186		70	4156480	1
1924	816				623380	
1925	656				623800	
1926	322				370000	
1927	706	3000	66		4659780	2
1928	4720		1		4628021	

- A. 日本逐渐加紧侵华步伐  
B. 中国近代海关制度不够健全  
C. 日本支持中国军事建设  
D. 日本意在扭转对华贸易逆差
31. 1981 年, 首都钢铁公司在企业内部实行岗位分工承包和专业承包, 即把每个岗位的责任、考核标准、经济效益同职工的收入挂钩, 由此出现了很多干部、工人讲求经济效益, 积极生产的动人事迹。该现象  
A. 受农村经济体制改革的启迪  
B. 表明城市经济体制改革全面展开  
C. 突出了城市企业职工的利益  
D. 明确了社会主义市场经济的导向
32. 对于希腊人在希波战争中取得胜利的原因, 古希腊历史学家希罗多德摒弃了神秘主义的认知倾向, 将它归之为希腊装备精良、纪律严明、行动敏捷、领导有方以及处于防御优势的结果。希罗多德的上述观点反映出  
A. 希腊取得战争胜利具有必然性  
B. 民主政治提高了希腊作战实力  
C. 史学观念从神本向人本的转变  
D. 经济繁荣促进历史认识的发展
33. 1677 年, 英国议会不断致函查理二世, 要求联荷反法。在多次越发激烈的请愿之下, 查理二世拒绝道: “你们已经侵犯了一国之君的一项无可争议的特权, 我可以明确的告诉你们, 从未有哪个时期, 国君宣布战争和媾和的权利被如此侵犯过。”由此可知  
A. 议会提议不符合国家利益  
B. 国王与议会存在权力较量  
C. 国王行为违背《权利法案》  
D. 国王统而不治的趋势明显
34. 图 4 是 1940 年至 1944 年美国妇女就业情况统计表

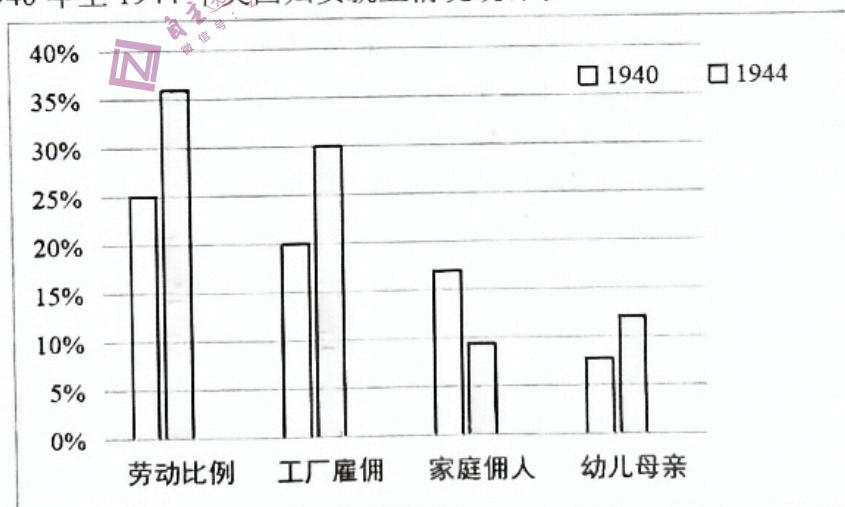


图 4

据图表分析, 这一时期美国妇女就业情况发生变化的根本原因是

- A. 自由贸易经济政策的推动  
B. 第二次世界大战爆发  
C. 社会化大生产的持续推进  
D. 女权运动的深刻影响

35. 1966 年时任法国总统的戴高乐在记者招待会上明确宣布法国将退出北约军事一体化组织；1968 年日本成为世界第三大经济体，日美之间控制与反控制的斗争逐渐激烈；1969 年勃兰特大选获胜当选联邦德国总理，主张实行与苏联缓和关系的“新东方政策”。上述国家的对外政策体现的实质是
- A. 外交政策打破意识形态壁垒  
B. 美国霸权主义政策阻碍东西方交流  
C. 资本主义阵营内部出现分化  
D. 资本主义国家政治经济发展不平衡

## 第 II 卷(160 分)

二、非选择题(本大题包括必考题和选考题两部分，共 160 分。第 36~44 题为必考题，每个试题考生都必须作答。第 45~47 题为选考题，考生根据要求作答)

36. 阅读图文资料，完成下列要求。(24 分)

锂在新能源开发与利用方面起到重要作用，由于锂资源开发进程缓慢，全球整体处于供不应求的状态。锂元素主要赋存在盐湖卤水和固体矿石中，其中盐湖卤水中的锂资源含量较高。玻利维亚盐湖锂资源储量居世界第一，主要集中在乌尤尼盐沼，但其产量较低。2022 年 6 月，玻利维亚选择与中国企业合作开发锂资源，计划从 2026 年开始出口锂电池。图 5 示意乌尤尼盐沼附近区域。

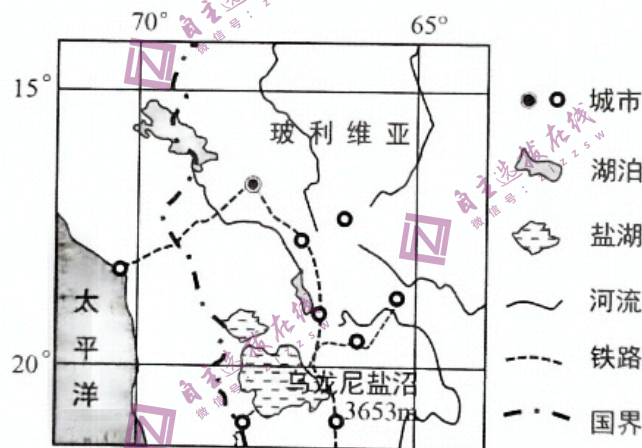


图 5

- (1) 分析玻利维亚锂矿资源丰富但产量较低的原因。(6 分)
- (2) 针对玻利维亚锂资源的发展现状，提出开发利用锂资源的可行性措施。(6 分)
- (3) 从社会经济因素角度列举中国企业与该国外合作过程中可能遇到的困难。(4 分)
- (4) 简述玻利维亚与中国企业合作的前景。(8 分)

37. 阅读图文资料,完成下列要求。(22分)

札达县城位于札达盆地腹地,平均海拔约3735米。札达盆地内沟壑纵横干旱荒芜,看起来了无生机,但它却是古生物化石的富集区,化石中多陆生动物。约500万年前,阿伊拉日居山脉与喜马拉雅山脉之间的象泉河流域,曾经是微咸湖(又称半咸水湖),之后因板块运动导致南北两侧山脉加速隆升,湖盆西南侧出现缺口,湖水逐渐外泄,古湖床裸露。盆地形成后,经漫长的地质作用后形成了现在的象泉河。图6示意札达盆地地区和盆地地质构造。

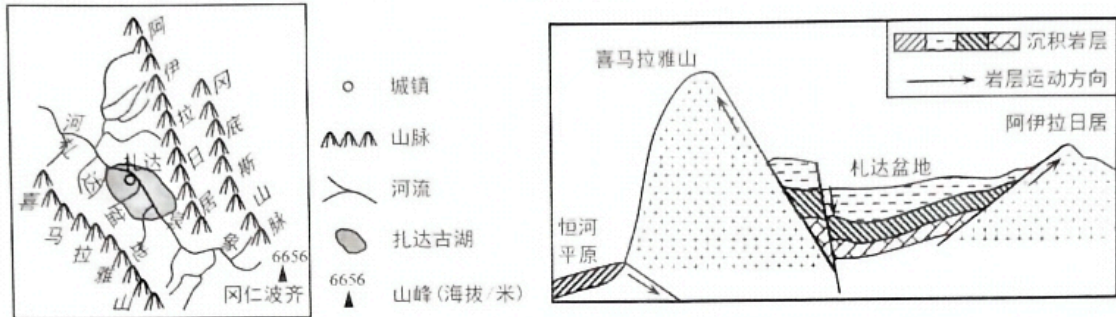


图6

- (1) 分析札达古湖曾为微咸湖的自然原因。(6分)
- (2) 简述象泉河的形成过程。(8分)
- (3) 分析札达盆地陆生动物化石大量出露的原因。(8分)

38. 阅读材料,完成下列要求。(14分)

材料一 图7为2010-2022年我国社会消费品零售总额和增长率的变化。




图7

注: CPI(全国居民消费价格指数)是衡量宏观经济的重要指标,正常的涨幅范围是在3%左右。但2023年3月份,我国CPI同比上涨仅0.7%,环比下降0.3%。

材料二 疫情以来,文化和旅游是受到冲击最严重的行业之一。作为人民群众美好生活的“刚需”,文化和旅游消费需求亟待释放。据此山东省制定了《大力提振文化和旅游消费的政策措施》:一是发放1亿元以上文化和旅游惠民消费券,对各类文旅产品消费进行适度补贴;二是推动景区提升软硬件建设水平,同时完善文化旅游投诉举报受理、处理、反馈机制,落实游客消费纠纷先行赔付制度;三是大力丰富乡村旅游产品供给,开展地方文化精品展览、文化创意产品的推介活动,以活动促人气;四是引导市场推出一批非遗原创标识和特色国潮品牌,进一步提升“孔子家乡·好客山东”品牌影响力。各项政策措施的落实落地,推动文旅消费全面复苏,为服务经济社会发展作出更大贡献。

- (1) 概括材料一反映的经济信息。(4分)
- (2) 结合材料和经济生活相关知识,说明山东省文旅消费是如何全面复苏的。(10分)



39. 阅读材料,完成下列要求。(12分)

党的二十大报告提出,中国式现代化是人与自然和谐共生的现代化,强调要“站在人与自然和谐共生的高度谋划发展”。推动经济社会实现高质量发展,必须在新时代继续坚持“节约资源,保护环境”的基本国策。

据了解,1998年全国政协在专门委员会中就已增设了人口资源环境委员会,但没有设置相应的界别。2023年1月17日第十四届全国政协新设“环境资源界”,将有利于凝聚更多专业人士助力生态文明建设。

资源与环境政策研究所研究员谷树忠委员表示,未来五年在“环境资源界”这个大家庭里,我们要与众多专家一起共商人与自然和谐共生的现代化建设,积极建言献策,履职尽责,为推进美丽中国建设贡献力量。(注:“界别”是我国人民政协的特有用语。第十四届全国政协共设34个界别,包括文化艺术界、科学技术界、经济界、农业界等)

结合材料,运用政治生活知识,说明第十四届人民政协新设“环境资源界”的意义。(12分)

40. 阅读材料,完成下列要求。(26分)

习近平在深入推动长江经济带发展座谈会上指出,推动长江经济带发展是党中央作出的重大决策,是关系国家发展全局的重大战略,对实现“两个一百年”奋斗目标、实现中华民族伟大复兴的中国梦具有重要意义。

材料一 长江经济带横跨我国东中西部,所涉及11个省市间的基础设施、公共服务和人民生活水平的差距较大。目前看,长江经济带区域合作虚多实少,城市群缺乏协同,带动力不足。推动长江经济带发展涉及水、路、港、岸、产、城等多个方面、多个领域,是一个系统工程,不可能毕其功于一役。要实现长江经济带高质量发展,每个地区、每个城市都应该从整体出发,树立“一盘棋”思想,把自身发展放到协同发展大局之中,实现优势互补、有机融合,形成整体发展合力。

材料二 “长江包容,汇纳百川,浩浩汤汤。长江蜿蜒,穿巴蜀,过荆楚,行赣皖,经吴越,东入大洋。长江富饶,自古以来,滋养着中华民族的生命。长江永恒,日夜川流不息,永远屹立于世界的东方。”中国国家博物馆推出“江天万里——长江文化展”,以馆藏品为基础,汇集300余套各类材质的长江文化代表性物证,全面展示了长江的文化内涵,吸引了大量观众参与,激发了爱国热情和文化自信。该展是继甲骨文文化展、《红楼梦》文化展、孔子文化展、大运河文化展之后,中国国家博物馆提炼和展示中华优秀传统文化精神标识的又一成功尝试。

(1) 推动长江经济带高质量发展,需要正确把握总体谋划和久久为功的关系。结合材料一,运用唯物辩证法的总特征有关知识对此加以说明。(12分)

(2) 结合材料二,运用文化生活的知识,分析“江天万里——长江文化展”因何而成功。(10分)

(3) 根据材料中长江文化内涵的关键词,任选其二,对应写两条宣传标语。具体要求:要写出关键词,每条宣传标语控制在20字左右。(4分)

41. 阅读材料,完成下列要求。(25分)

**材料一** 美国对苏联的贸易管制政策可以追溯到苏俄革命时期……30年代美国承认苏联并给予最惠国待遇,美苏经济关系理应得到顺利发展。然而苏联在战争危机日益迫近的紧要关头谋求自保,使美国不愿意积极推动美苏经济关系的发展。美苏经济关系的“蜜月”实际上是在第二次世界大战期间度过的。战后苏联把经济复兴资金的来源,寄托在战败国的战争赔偿和美国的经济复兴援助上。美国却完全堵死了向苏联继续提供租借物资援助和经济复兴贷款的大门,并且从根本上改变了德国战争赔偿乃至德国重建政策的方向。苏联在战后经济复兴问题上越得不到美国的经济援助,在德国战争赔偿问题上与美国的对立越深化。美苏双方都重新估价对方的战略意图,走向全面对抗。美国对苏贸易政策也逐渐从自由多边贸易向贸易管制方向转变。

——摘编自崔丕《美国的遏制战略与巴黎统筹委员会中国委员会论纲》

**材料二** 半个多世纪以来,西方国家一直没有放松过对中国的军事技术封锁及武器的禁运……1949年美国国会出台了《美国1949年出口管制法》,这是美国采取对中国武器禁运政策的开始,也是西方国家对华禁运的滥觞。1949年11月22日,美国又同英国、法国等一些国家举行秘密会议,成立了一个不公开的组织——“输出管制统筹委员会”,其主要任务是限制对社会主义国家输出战略性物资和技术,而对中国的出口管制尤其严格……90年代中国开始与以色列接触寻求引进预警机等先进武器装备,寻求在无人机等领域进行合作等。美国大加阻拦并施加压力,迫使以色列有关公司中止与中国签署合同。在美国眼里“中国”与“军事”是紧紧地联系在一起的,美国出口到中国的任何东西,都可能与“军事”联系起来。这是美国封锁中国的一个生动写照。

——摘编自韩旭东《美国对华技术封锁50年》

(1) 根据材料一并结合所学知识,指出20世纪三四十年代美国对苏政策的变化并分析变化的原因。(10分)

(2) 根据材料二概括以美国为首的西方国家扼制中国发展的主要手段,并结合所学知识归纳建国初期中国打破其封锁的主要措施。(10分)

(3) 根据上述材料并结合所学知识,谈谈你对大国交往的认识。(5分)

42. 阅读材料,完成下列要求。(12分)

**材料** 时间和空间本是一切事物研究的两个基本维度,不过以往的各种学科研究中,对两个维度地位的轻重认识不统一。传统的历史研究往往是见“人”而不见“地”,见“时”而不见“空”;或是只将“地”和“空”无机地作为“人”和“时”的序幕和陪衬;或是见一“小地”而见一“大人”,或是尽全了“时”而无机地择一二“空”作为点缀。具体而言,就是传统历史研究一是只注重历史的时间迁移,不注重历史的空问差异;一是只注重历史的个别空间,而不尽全地关注历史的所有空间。换句话说,即是指传统历史研究习惯于用极个别定性文字进行全方位的“归纳推理”,只注重个别地域点上的时间迁移,“泛泛而谈”地以个别空间点代替全部空间面进行推论,而这种地域空间“点”资料的选择往往是无机的或是主观的。

——摘编自蓝勇主编《中国历史地理学》

根据材料并结合中国古代史相关知识,围绕“时空”的两个基本维度自拟论题并加以论述。  
(要求:论题明确,持论有据,表述清晰。)

43. 【选修——旅游地理】(10分)

海南岛热带旅游资源丰富,成为我国著名的旅游胜地。海南文昌航天发射场自2016年长征七号运载火箭首飞后,发射任务从过去的一年1~2次,到如今一年发射8次左右。航天基地成为海南新的旅游资源,改变了海南传统的旅游形式,尤其是对前往海南旅游的游客类型和旅游旺季产生了一定的影响。

与传统旅游方式相比,从旅游主体和时间的角度分析航天基地旅游给海南旅游业带来的变化。

44. 【选修——环境保护】(10分)

砂姜黑土是我国华北地区一种古老的耕作土壤,在暖温带半湿润低洼地最易形成,其特点为质地黏重,土壤孔隙小,遇水膨胀,无水则收缩干裂,是我国典型的旱涝多发的中低产田。1986年以来,国家重点对华北广布的砂姜黑土进行改造,90年代又实施节水灌溉农业项目,近些年又实施砂姜黑土的深耕和秸秆还田。如今的砂姜黑土区已成为我国重要的粮、油、棉生产基地。

说明节水灌溉和秸秆还田对改善砂姜黑土的影响。

45. 【历史——选修1:历史上重大改革回眸】(15分)

**材料** 至恭亲王奕訢等奏请购买外国洋枪炮,则为今日救时之第一要务……轮船之速,洋炮之远,在英、法则夸其所独有,在中华则震于所罕见……若能陆续购买,据为己物,在中华则见惯而不惊,在英法亦渐失所恃……购买成功之后,访募覃思之士,智巧之将,始而演习,继而试造,不过一二年,火轮船必为中外官民通行之物,可以剿发捻,可以勤远略。

——摘编自曾国藩《复陈购买外洋船炮折》

(1) 根据材料并结合所学知识分析洋务派主张优先发展军事的原因。(8分)

(2) 根据材料并结合所学知识评析洋务派优先发展军事的主张。(7分)

46. 【历史——选修3: 20 世纪的战争与和平】(15 分)

材料 19 世纪初, 西方列强将侵略的触手伸向了日本, 在外国的压力之下, 日本被迫签订了一些不平等条约。为了缓解国内的阶级矛盾和民族矛盾, 日本于 1868 年开始转变国体发展资本主义, 但由于国内市场狭小、资源匮乏, 日本急需谋求海外市场, 军阀官僚统治集团为此炮制了“大陆政策”。甲午中日战争之后, “三国干涉还辽”使日本大受挫折, 日俄矛盾激化, 随着两国在远东地区争夺的加剧, 俄国的远东政策和日本大陆政策的矛盾也达到了不可调和的地步, 终于引发了 1904 年的日俄战争。1905 年 9 月, 日俄双方签订了《朴茨茅斯和约》。沙俄把包括旅顺、大连在内的辽东半岛的租界权和中东铁路的一段支线(从长春到大连)转让给日本, 并承认朝鲜为日本的势力范围。日俄战争的结束, 不仅意味着传统的欧洲强国在亚洲争夺势力范围的首次失败, 也标志着东亚范围内一个地区强国的崛起, 对日本今后国家发展方向的选择也产生了巨大影响。

——摘编自鲍玲《日俄战争对二十世纪初日本国家发展方向的影响》

(1) 根据材料并结合所学知识, 说明 1904 年日俄战争爆发的原因。(6 分)

(2) 根据材料并结合所学知识, 分析日俄战争的影响。(9 分)

47. 【历史——选修4: 中外历史人物评说】(15 分)

材料一 从汉初以来所建立的马政、交通和兵制等国防军事上的准备, 及经济方面各种措施的成果来看, 事实上与匈奴作一决战的时机, 已经到达成熟阶段, 当时继承的人即使不是汉武帝, 也必对外抗争, 不致再有长期忍辱卑事匈奴的道理。何况再有卫青、霍去病等天才将帅, 更为千载难逢的好机会, 因此一举而逐匈奴遁往漠北, 开地数千里, 雪了前代的世仇, 卫护北方和西北方沿边诸郡人民的安宁。

——摘编自金惠《创造历史的汉武帝》

材料二 臣光曰: 孝武穷奢极欲, 繁刑重敛, 内侈宫室, 外事四夷, 信惑神怪, 巡游无度。使百姓疲敝, 起为盗贼, 其所以异于秦始皇者无几矣。然秦以之亡, 汉以之兴者, 孝武能尊先王之道, 知所统守, 受忠直之言, 恶人欺蔽, 好贤不倦, 诛赏严明, 晚而改过, 顾托得人, 此其所以有亡秦之失而免亡秦之祸乎!

——摘编自司马光《资治通鉴》

(1) 根据材料一并结合所学知识概述汉武帝北击匈奴的有利条件。(7 分)

(2) 根据材料二概括司马光对汉武帝的评价, 并结合所学知识谈谈你对人物评价的认识。(8 分)