

试卷类型:A

高三年级考试

历史试题

2022. 11

注意事项:

1. 答卷前,考生务必将自己的姓名、考生号等填写在答题卡和试卷指定位置。
2. 回答选择题时,选出每小题答案后,用铅笔把答题卡上对应题目的答案标号涂黑。如需改动,用橡皮擦干净后,再选涂其他答案标号。回答非选择题时,将答案写在答题卡上,写在本试卷上无效。
3. 考试结束后,将本试卷和答题卡一并交回。

一、选择题:本题共 15 小题,每小题 3 分,共 45 分。每小题只有一个选项符合题目要求。

1. 出土于两河流域苏美尔地区的一件 5000 年前的石膏大瓶上,刻画着这样的画面:一些裸体平民手捧酒罐、奶盆、粮斗等祭品走向神龛,一位祭司(或首领)穿着长袍,长袍带由其身后穿短裙的人举着,瓶上还刻画了水边的大麦田、羊队、水果、狮子等内容。由此可知,当时苏美尔地区

- A. 纺织技术发达
B. 产生了明显的阶级分化
C. 绘画艺术高超
D. 出现了一系列城市国家

2. 古希腊哲学家柏拉图认为,当人口少到可以充分保障公民间的了解、交往、并彼此尽可能保持友善的时候,小型公民共同体的优势才能显现出来。按照他的计算,这种共同体理想的公民人口为 5040 人。柏拉图的这一主张

- A. 深受寡头政治实践的影响
B. 为奴隶制的实行铺平道路
C. 构成西方哲学的精神内核
D. 是对城邦制度的政治构想

高三历史试题 第 1 页 (共 8 页)

3. 据图1日尔曼人迁徙过程中建立的诸多王国可以推知,日耳曼人的迁徙

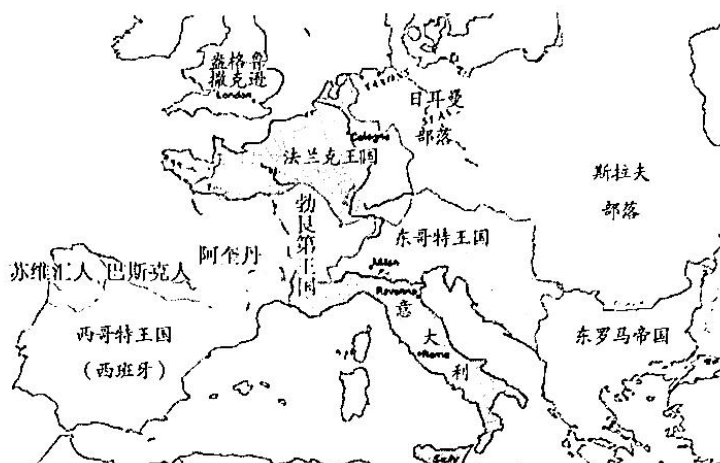


图1

- A. 打断了欧洲的农耕文明进程 B. 直接原因是阿拉伯人扩张
C. 促进了区域文化交流与发展 D. 强势征服了罗马帝国文化

4. 马克垚在《世界文明史》中指出:“手工业是西欧中世纪城市的基础,大部分居民是手工业主,这说明城市不是奴隶主的政治中心。封建主的政治中心又在农村。”作者意在说明

- A. 手工业与农业分离造就城市 B. 城市可能孕育新的政治形态
C. 资本主义萌芽已经产生 D. 西欧封建农奴制度已经解体

5. 1348年,黑死病传遍欧洲,无计可施的市民举行盛大游行,向上帝忏悔,结果使更多的人感染瘟疫,无路可走的人们开始酗酒玩乐、日夜狂欢,用纵情享乐忘记身边的痛苦。这一变化

- A. 动摇了罗马教会在欧洲的统治 B. 加速了人文主义思想的产生
C. 体现了政府防控瘟疫能力有限 D. 导致宗教改革运动兴起

6. 表1为1600年运入欧洲部分商品的统计表。对该表的解读正确的是

表1

物品种类	经好望角	经地中海
胡椒	100—200万磅	300—400万磅
丁香、靛蓝、肉豆、药品	35—65万磅	70—100万磅

- A. 传统商路仍发挥重要的作用 B. 世界开始连成一个整体
C. 商业革命导致贸易物品改变 D. 欧洲与亚非美洲联系更加紧密

7. 15世纪末以后的100多年中,葡萄牙从非洲运走黄金27.6万公斤,平均每年约2760公斤。1521—1544年间,西班牙从美洲每年运回黄金2900公斤,白银30700公斤;1545—1560年间,运回的黄金和白银达到平均每年5500公斤和24.6万公斤。这种现象

- A. 表明西欧成为世界贸易中心 B. 促成世界贸易规模不断扩大
C. 加速了西欧封建制度的解体 D. 促进了世界物种的大交流

8. 据记载,在1789年巴黎人民攻克巴士底狱第二天的制宪会议上,“颂扬(国王)的声音达到了顶点”,“惊得目瞪口呆、晕头转向的议员们追随着国王的脚步,簇拥着他穿过与议员们一样吃惊的人群回到邸宅”。这反映出当时的法国

- A. 启蒙运动尚未大规模开展 B. 恢复君主制的思想根深蒂固
C. 资产阶级未提出自己的政治主张 D. 实现民主共和的道路艰难曲折

9. 表2为启蒙运动时期欧洲文化水平进步情况表。据此推知,这一时期

表2

项目 时间	有阅读能力的人 占法国总人口的比例(%)	法国妇女的 识字率(%)	欧洲年均出版 新书(单位:部)	普通人藏书量 (单位:本)
17世纪中叶	29	14	约1000	1—20
18世纪中叶	47	27	约4000	20—100

- A. 启蒙思想促进了法国印刷业的革命
B. 启蒙运动推动了文化教育的发展
C. 欧洲贵族推动了启蒙思想的传播
D. 出版业是欧洲文化水平进步的动力

10. 1847年底,共产主义者同盟举行第二次代表大会,将同盟的目的由“通过传播财产公有的理论并尽快地求其实现,使人类得到解放”改为“推翻资产阶级政权,建立无产阶级统治,消灭旧的以阶级对抗为基础的资产阶级社会和建立没有阶级、没有私有制的新社会。”这一变化说明

- A. 马克思主义的诞生推动了无产阶级的斗争
B. 共产主义者同盟接受了马克思主义理论
C. 共产主义者同盟的斗争理论更加具体明确
D. 工人运动从此有了系统的理论指导

11. 关于“凡尔赛-华盛顿体系”,凯恩斯认为,“它是一个残忍的胜利者在文明史上所干出最凶暴的行为之一”。丘吉尔认为,是“胜利者的蠢事”。列宁则认为,“靠凡尔赛和

约来维系的整个国际体系、国际秩序是建立在火山上的……”。这表明,凡尔赛—华盛顿体系

- A. 建立在错综复杂的矛盾基础上 B. 导致封建主义在欧洲大陆的复辟
C. 是现代国际治理体系的源头 D. 使欧洲失去了对世界的影响和控制

12. 有学者认为:“第二次世界大战是主张民族自决和人权自由的一方取得的胜利,这场胜利迅速将那个依靠霸权来实现资本无限积累,依靠战争和掠夺来稳固资本扩张基础的‘帝国主义时代’,连同此前在欧洲资本主义原始积累阶段起过重要作用的殖民政治和殖民统治都淘汰出局了。”这一观点

- A. 强调交战各国战后的社会变化 B. 否定了欧洲列强殖民扩张的本质
C. 表达了对欧洲国际地位的担忧 D. 表明二战冲击了旧有的国际秩序

13. 图2、图3是关于阿杜瓦战役的绘画。图2是20世纪初埃塞俄比亚人所绘,描绘了传说中埃塞俄比亚英雄身穿传统服装,在皇帝孟尼利克二世指挥下作战的场景;图3则是刊登在英国《图片报》上的绘画,试图粉饰意大利人的失败,强调他们寡不敌众却顽强作战。这种差异说明



图2



图3

- A. 绘画源于艺术的想象 B. 新闻稿更具真实性
C. 历史作品具有政治性 D. 两则史料不可互证

14. 表3是苏联集体农庄的相关数据。据此可知,这一时期的苏联

表3

	1929年	1930年	1934年	1937年
集体农庄数(单位:千个)	57.0	85.9	233.3	243.7
参加集体农庄的农户数(单位:百万户)	1.0	6.0	15.7	18.5
集体农庄的比重:占农户总数的百分比	3.9	23.6	71.4	93.0
占总播种面积的百分比	4.9	33.6	87.4	99.1

- A. 国民经济比例出现严重失调 B. 建立了高度集约的现代农业
C. 实现了农村生产关系的变革 D. 从小农国家发展为工业强国

15. 图4的部分章节目录出自于《剑桥冷战史》。据此可以推断,该书

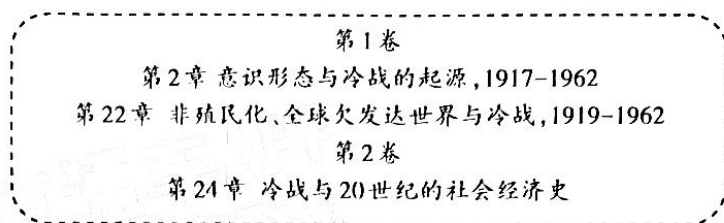


图4

- A. 将冷战置于更广阔的时空中考察 B. 忽视了美苏在冷战中的主导作用
C. 认为冷战有利于世界经济的发展 D. 对冷战起源的研究更加接近事实

二、非选择题:本题共4题,共55分。

16. (14分)阅读材料,回答问题。

材料 西部亚洲、中部亚洲在东方与西方文化交流事业中一直扮演着“桥梁”的角色。这些“桥梁”不仅传送东方文明到西方,而且也传送西方文明到东方;同时“桥梁”自身独特的文化对东西方文明也产生了很大的影响。如图5所示:

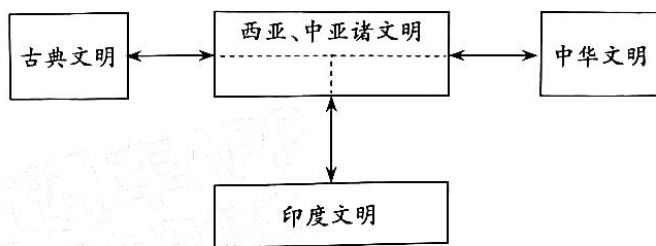


图5

(注:古典文明指古希腊、古罗马文明)

——摘编自陈恒《文明的汇聚与传播——古代世界文明之交流》

结合世界古代史相关知识,从“文明的汇聚与传播”角度对材料进行说明。(14分)

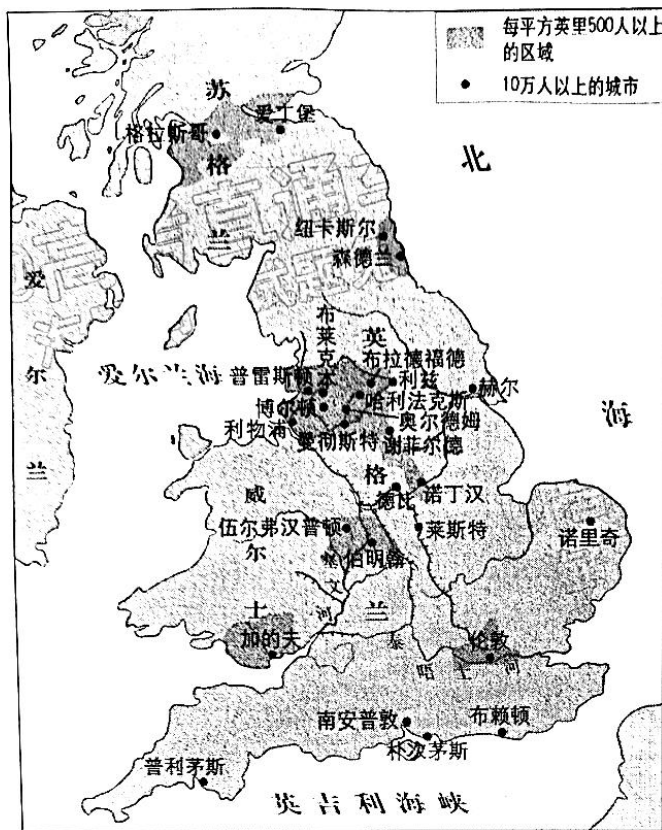
17. (12分)阅读材料,回答问题。

材料一 英国1801-1861年工农业产业结构与就业结构(%)


产值比重	农业	34	37	30	28	24	21	19
	工业	28	27	34	37	39	40	41
就业比重	农业	35.9	33	28.4	24.6	22.7	21.7	18.7
	工业	29.7	30.2	38.4	40.8	40.5	42.9	43.6

——摘编自许冰《工业革命影响就业结构的历史考察与例证》

材料二

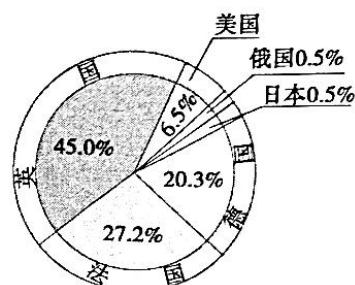


19世纪上半期英国城市化示意图



1855年的石版画

画面中近处是英国谢菲尔德拥挤的房屋,远处是高耸的工厂烟囱。那时谢菲尔德的人口增长率500%,达到35000人。



1914年英国在资本输出中所占的比重 (资本输出总额为100%)

结合材料和所学知识,以“近代英国的社会剧变”为题,写一则历史短文。(12分)
(要求:表述成文,史论结合;逻辑严密,条理清晰。)

18. (13分)阅读材料,回答问题。

材料

历史的镜子:流行语

耐普曼

20世纪20年代,在苏维埃社会阶级结构中,大量涌现出一批个体商贩、大商人、租让者、租赁者、包卖主、私人企业主、经纪人、代销者等等,这些人被称之为“耐普曼”。“耐普曼”一词首先在报刊上出现,只是“对小商人或那些利用自由贸易钻各种空子的人的戏称”,带有贬义色彩,后来逐渐在俄共(布)领导人中间和社会上流行开来。到30年代初,耐普曼逐渐从苏联经济生活中消失。

——摘编自吴恩远《论耐普曼的组成、性质及作用》

蓝鹰运动

20世纪30年代,为保证《全国工业复兴法》的实施,美国政府以印第安人崇拜的神鸟蓝鹰为标记,发动了“人尽其职”的“蓝鹰运动”(Blue Eagle)。“凡是遵守法规的企业,可以在厂门店门挂上蓝鹰徽标。开汽车上街的消费者则在挡风玻璃贴上这个图案。《时代》周刊每期封面上也印上了蓝鹰徽标。”“蓝鹰运动”流行一时。

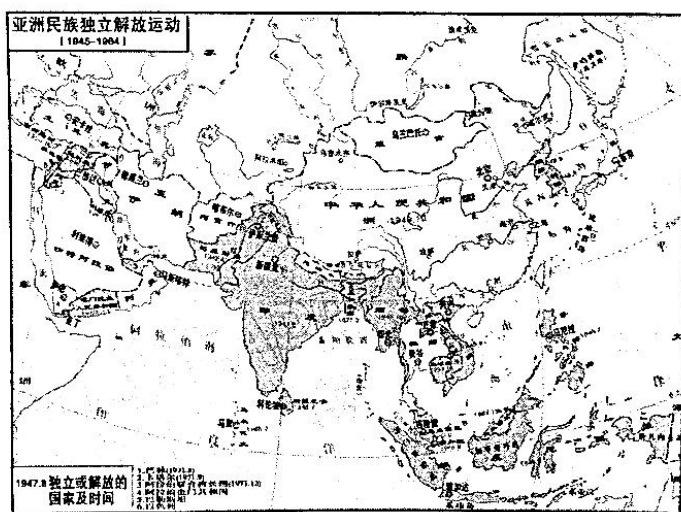
——摘编自威廉·曼彻斯特《光荣与梦想》

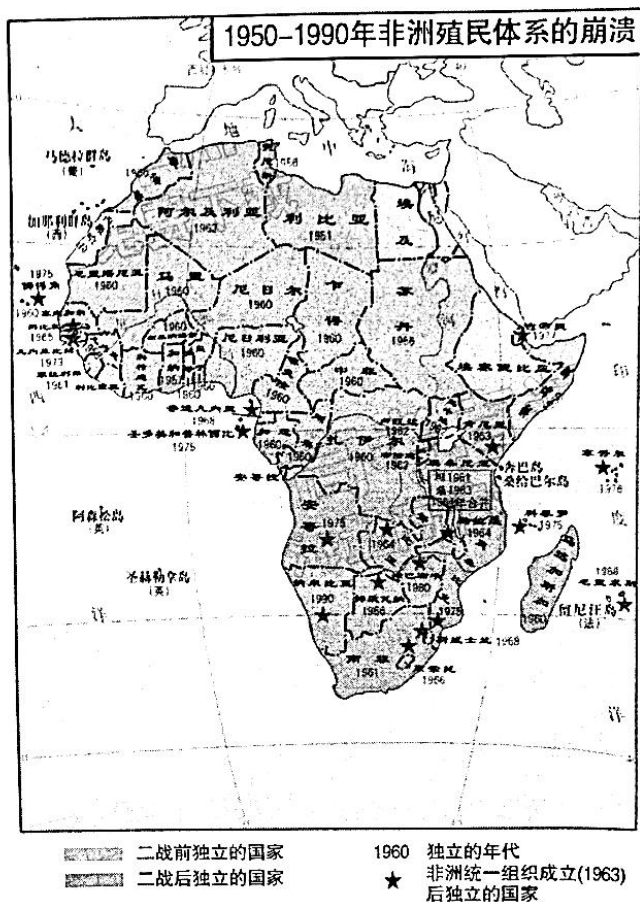


结合所学知识,对以上两个流行语做出解读。(13分)

19. (16分)阅读材料,回答问题。

材料一





材料二 一些西方学者和政治家认为,一些殖民地的独立是宗主国自愿结束殖民统治的结果。例如英国前首相艾德礼就在一次讲演中宣称:“在世界历史上,有许多大帝国兴起,繁荣一个时期,然后垮掉了。……只有唯一一个帝国,这个帝国在没有外来压力下或没有对统治的负担感到厌倦的情况下,统治民族自愿地放弃了对臣服民族的统治,把自由给予了它们。……这个唯一的例子就是大英帝国。”

——摘自《中外历史纲要(下)》

(1)根据材料一并结合所学知识,指出第二次世界大战后亚非拉民族解放运动体现出的特点。(8分)

(2)你认为二战后英国殖民帝国迅速瓦解真的如艾德礼所说是英国“自愿放弃”的结果吗?请说明理由。(8分)

关于我们

自主选拔在线是致力于提供新高考生涯规划、强基计划、综合评价、三位一体、学科竞赛等政策资讯的升学服务平台。总部坐落于北京，旗下拥有网站（网址：www.zizzs.com）和微信公众平台等媒体矩阵，用户群体涵盖全国 90% 以上的重点中学师生及家长，在全国新高考、自主选拔领域首屈一指。

如需第一时间获取相关资讯及备考指南，请关注**自主选拔在线**官方微信号：**zizzsw**。



自主选拔在线
微信号：zizzsw



自主选拔在线
微信号：zizzsw



自主选拔在线
微信号：zizzsw