

## 2023 年哈三中高三学年 第二次高考模拟考试 文科综合 试卷

### 注意事项:

1. 答卷前, 考生务必将自己的姓名、准考证号填写在答题卡上。
2. 作答时, 务必将答案写在答题卡上, 写在本试卷及草稿纸上无效。
3. 考试结束后, 将本试卷和答题卡一并交回。

一、选择题: 本题共 35 小题, 每小题 4 分, 共 140 分。在每小题给出的四个选项中, 只有一项是符合题目要求的。

伴随着 2022 年中国人口首次负增长, 中国人口老龄化程度、速度不断加深、加快, 人口年龄结构的老化导致劳动力禀赋发生改变, 冲击着中国传统制造业, 相较于发达国家或地区的产业外移, 产业就地转型升级更符合中国国情, 表 1 为我国第七次人口普查广东和江苏人口年龄构成情况, 据此完成 1~2 题。

表 1

| 地区 | 比重 (%) |         |         |
|----|--------|---------|---------|
|    | 0~14 岁 | 15~64 岁 | 65 岁及以上 |
| 广东 | 18.85  | 72.57   | 8.58    |
| 江苏 | 15.21  | 68.59   | 16.20   |

1. 同为经济强省, 广东比江苏老龄化程度低的主要原因是  
①广东育龄妇女生育意愿更强  
②广东以劳动密集型工业为主  
③江苏夏季较广东温和, 适宜老年人养老  
④长三角人口流入地较珠三角更分散  
A. ①②                      B. ①④                      C. ②③                      D. ③④
2. 近年来, 广东东莞加快推进传统制造业的智能升级 (“机器换人”), 这与发达国家或地区传统制造业外移相比, 其主要优势有  
A. 保持产业链的完整                      B. 促进区域产业分工协作  
C. 改善城市生态环境                      D. 提高产品的品牌竞争力



6. 与图3中A地相比,江夏潮汐发电站选址在B地的主要原因是B地
- A. 海湾封闭,适宜存水                      B. 受冬季风影响小
- C. 海湾较窄,工程量小                      D. 浅海滩涂面积大
7. 该光伏电站建设初期每日施工窗口期较短的主要原因是
- A. 海水腐蚀性强                              B. 材料运输困难
- C. 台风灾害多发                              D. 夏季降水集中
8. 下列时间中,浙江温岭江夏潮光互补智能电站发电量最大的是
- A. 3月                      B. 6月                      C. 8月                      D. 11月

每年特定时间,在我国一些地区的山间谷地会出现形态各异的“冰蝴蝶”(蝴蝶状的纤薄冰片),容易产生“冰蝴蝶”(图4)的多是一年生细茎草本植物,这些草虽然枯死,但杆茎中仍储存有水分。当外界达到一定的温度后,杆茎裂缝处的水先结冰,未结冰的水在压力下不断地把裂缝处的冰往外推,再经过持久的,一定强度的风的作用,形成“冰蝴蝶”,据此完成9~11题。



图4

9. 推测一天中最适合观赏“冰蝴蝶”的时间是
- A. 清晨                      B. 午后                      C. 傍晚                      D. 午夜
10. 山间谷地有利于“冰蝴蝶”形成的主要原因是
- ①地面相对湿度较大                      ②冷空气易于在此汇聚
- ③气温较高导致水汽上升                      ④狭管效应导致风力强
- A. ①②                      B. ②③                      C. ①④                      D. ③④
11. “冰蝴蝶”景观最可能出现的时间和地点是
- A. 1月、阴山南麓                      B. 5月、大兴安岭西麓
- C. 9月、天山北麓                      D. 12月、太行山东麓
12. 阅读诗词《水调歌头》。

水调歌头 (作者: 赵安生)

荒政庶民苦,一百余年前。红舟破浪迎晓,壮志改新天。举义南昌城阙,据井冈山星火点,征西域高原。反蒋驱倭寇,看推倒三山。

花烂漫,红旗展,悦心田。改革开放兴利除弊事求全。科技兴国战略,航舰遨游远海,穹宙绕飞船。国富民安宁,醉享太平年。



对词中之意理解正确的是

- ①“荒政庶民苦”的原因是农民的劳动成果全部都要缴纳地租
- ②“红舟”的胜利在于找到了一条适合国情的革命道路
- ③“花烂漫，红旗展”意指社会主义革命胜利，建立人民共和国
- ④“醉享太平年”形容万民举杯同庆伟大的建设成就

A. ①②      B. ①③      C. ②③      D. ②④

13. 中国式现代化是中国共产党立足实际，经过革命、建设和改革的历史性积淀所逐步形成与发展起来的重大成果，开辟了现代化新道路，创造了人类文明新形态，系统性回答了“建设什么样的社会主义现代化强国、怎样建设社会主义现代化强国”的重大时代课题，由此可见

- ①我国的社会主义道路为其他国家的现代化提供了具体方案
- ②我国的社会主义制度具有强大生命力和巨大优越性
- ③中国特色社会主义道路是实现中华民族伟大复兴的必由之路
- ④中国特色社会主义文化自信为中国式现代化提供行动指南

A. ①②      B. ①③      C. ②③      D. ②④

14. “首店经济”是指一个区域利用特有的资源优势，吸引国内外品牌在区域首次开设门店或推动传统老店创新升级的一种经济形态，各地实践表明，做大做强“首店经济”，能够提升城市商业魅力，持续塑造我国国际消费中心城市的创新力、引领力和影响力，“首店经济”

- ①通过打造新业态、新模式释放经济发展新动能
- ②能够创造、吸引消费需求，拉动区域经济增长
- ③有利于促进区域协调发展，缩小地区发展差距
- ④有利于打造创新引领、协同发展的市场体系

A. ①②      B. ①③      C. ②④      D. ③④

15. 图5为全国居民人均可支配收入构成情况示意图。

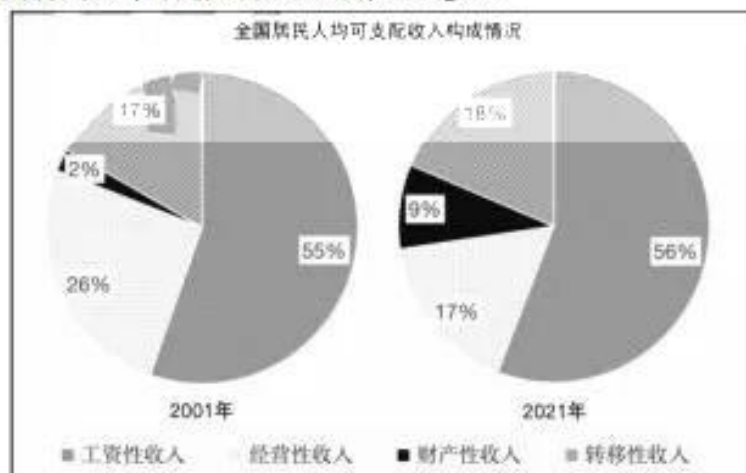


图5

注：2001年全国居民人均国内生产总值为8717元，人均可支配收入为4070元；2021年全国居民人均国内生产总值为81370元，人均可支配收入为35128元。

根据图示信息，能够做出的正确推断有

- ①居民收入的增长与国民经济的增长基本保持同步
- ②与2001年相比，近年来居民经营性收入降低
- ③健全生产要素按贡献参与分配机制有助于财产性收入的增长
- ④转移性收入增长得益于我国重视发挥第三次分配的作用

A. ①②      B. ①③      C. ②④      D. ③④

16. 2023年3月5日国家主席习近平在参加十四届全国人大江苏代表团审议时强调，加强基层组织建设，完善网格化管理、精细化服务、信息化支撑的基层治理平台，健全城乡社区治理体系，为人民群众提供家门口的优质服务和精细管理。为此

- ①要健全基层党组织领导的基层群众自治机制
- ②各级政协积极履行国家职能，保障人民群众切身利益
- ③各级政府要积极推进社会主义民主的基础性工程
- ④要发挥科技在基层治理中的引领性作用，提高基层管理效能

A. ①②      B. ①③      C. ②③      D. ②④

17. 万山磅礴，必有主峰。十四届全国人大一次会议上习近平总书记全票当选国家主席、中央军委主席。这是党心所向、民心所归，为全面建设社会主义现代化国家、全面推进中华民族伟大复兴筑牢坚实的政治根基、组织根基。本次换届选举

- ①充分体现了党的意志、人民意志、国家意志的高度统一
- ②有利于维护以习近平同志为核心的党中央权威和集中统一领导
- ③体现了全国人民代表大会统一行使最高决定权
- ④为坚持和加强党的全面领导提供可靠的制度保障

A. ①②      B. ①③      C. ②③      D. ②④

18. 我国第一代救助女飞行员宋寅是东海渔民心中的“海上救护神”，14年里，她执行救助任务313起，成功营救了225名遇险人员，经常需要直面生死考验，然而不管有多危险，她始终将“把生的希望送给别人，把死的危险留给自己”的救捞精神铭刻心间。2023年宋寅被授予“最美巾帼奋斗者”称号，这启示我们

- ①实现人的自我价值要以创造社会价值为前提
- ②树立正确价值观是实现人生价值的必由之路
- ③奋斗是一种幸福，为人民而奋斗是最大幸福
- ④实现人生价值要从社会提供的客观条件出发

A. ①②      B. ①③      C. ②④      D. ③④

19. 伴随全面推进乡村振兴的铿锵步伐，广阔农村都在发生着朝向共同富裕和中国式现代化的“山乡巨变”，书写这一场“山乡巨变”，讲述乡村故事，展现巨变背后的奋斗之志、创造之力、发展之果，成为近年来乡土文学创作潮流。这反映了

- ①社会存在决定社会意识，乡土文学的发展与社会发展保持了同步
- ②实践是认识的基础，乡村振兴的伟大实践是乡土文学创作的源泉
- ③文化是社会实践的产物，文学创作的潮流展现了社会发展的步伐
- ④文化反作用于经济，乡土文学的发展为乡村振兴提供了精神动力

A. ①②      B. ①④      C. ②③      D. ③④





25. 近代学者汤用彤讲：“北朝经学上承汉代，本杂讖纬；而元魏僧人，颇兼知术数，则亦汉世佛道与阴阳历数混杂之余绪。”可见魏晋南北朝时期
- A. 不同思想体系之间相互融合                      B. 三教合流局面已形成  
C. 佛教推动知识和观念的革新                      D. 儒学体系宗教化增强
26. 王钦若出任宰相之后，宋真宗又把与王钦若派系不同、政见不同的寇准任命为宰相。有人对此表示不理解，宋真宗将个中奥妙说破：“且要异论相搅，即各不敢为非。”由此可见，宋代
- A. 统治宽松促进言论自由                              B. 防范重臣置于效率之上  
C. 皇权相权矛盾不可调和                              D. 重视台谏政治发展完善
27. 乾隆皇帝在为抗清名将袁崇焕平反时说：“袁崇焕督师蓟辽，虽与我朝为难，但尚能忠于所事，彼时主暗政昏，不能罄其枕榻，以致身罹重辟，深可悯恻。”乾隆皇帝为袁崇焕平反的主要目的是
- A. 拉拢残明势力    B. 凸显统治合法  
C. 树立忠臣典范    D. 宣扬满汉平等
28. 表 2 反映清末中国出口货物分类比重变化 (单位: %)。

表 2

| 年份     | 生产资料 |      |      | 半制成品 |      | 制成品  |     |
|--------|------|------|------|------|------|------|-----|
|        | 农产   | 手工开采 | 机器开采 | 手工   | 机器   | 手工   | 机器  |
| 1873 年 | 2.6  | —    | —    | 37.4 | —    | 58.3 | 1.7 |
| 1893 年 | 15.6 | —    | —    | 28.4 | 0.1  | 53.4 | 2.5 |
| 1903 年 | 26.8 | 0.2  | 0.2  | 17.2 | 14.7 | 32.9 | 8.0 |
| 1910 年 | 39.1 | 0.2  | 0.5  | 13.1 | 11.9 | 28.3 | 6.8 |

——严中平《中国近代经济史统计资料选辑》

据上表可知

- A. 农产品的出口增加体现农耕经济为主  
B. 机制品比重变化表明工业化初露端倪  
C. 手工业品出口下降说明经济结构完善  
D. 出口货物结构的半殖民地化不断加深
29. 1939 年初，国民党制定“防制异党活动办法”，分别委任沦陷各省区党政军机构负责人，把他们及其武装力量遣回敌后，这一举措旨在
- A. 树立正面战场的领导地位                              B. 破坏统一战线  
C. 维护国民党一党专制局面                              D. 抑制党内斗争
30. 2014 年国家主席习近平在首尔大学演讲中强调，“国不以利为利，以义为利也”。2013 年朴槿惠总统访华期间，也曾用汉语说“先做朋友，再做生意”。这体现了
- A. 传统价值在外交上的运用                              B. 独立自主外交方针影响深远  
C. 中韩两国的国家利益趋同                              D. 亚洲国家区域合作不断加深



31. 亚历山大从来不是只靠武力征服，他有时把自己打扮成解放者，在埃及他又化身阿蒙神之子，在波斯又好像是波斯国王，他在印度又打出为大流士三世复仇的旗号，成了印度土王的朋友，他娶亚洲王室之女为妻，他的这些措施
- A. 维护了帝国的长治久安                      B. 有利于社会矛盾缓和  
C. 使古希腊文明广泛传播                      D. 意图同化被征服地区
32. 1095 年教皇乌尔班二世号召基督徒远征东方，他说：“不要因为爱家庭而拒绝前往，因为你们应爱上帝胜于爱家庭；不要因为恋故乡而拒绝前往，因为全世界都是基督徒的故土；不要因为财产而拒绝前往，因为更大的财富在等待着你们。”由此可推知，这次远征
- A. 源于世俗王权不断强化                      B. 促进了东西方文明交流  
C. 巩固了基督教统治地位                      D. 推动了商品经济的发展
33. 18 世纪的英国出现了这样的景象，本来只买“体面商品”的人购买“奢侈品”，本来只买“必需品”的人购买“体面商品”，这一景象出现的主要原因是
- A. 东西方贸易的扩大                              B. 生产方式的变革  
C. 社会观念发展进步                              D. 生活品质的提高
34. 1943 年，英国首相丘吉尔说：“我的一边坐着把一条腿搭在另一条腿上的巨大的俄国熊，另一边是巨大的北美野牛，中间坐着的是一头可怜的英国小毛驴。”这一认识
- A. 导致了美苏冷战局面形成                      B. 加速反法西斯战争进程  
C. 表明世界多极化趋势出现                      D. 反映了国际格局的变化
35. 1998 年，好莱坞动画电影《花木兰》运用夸张的手法对“替父从军”的故事进行改编，剧中花木兰言谈举止大胆率直，情感表露直白主动，这表明
- A. 文艺作品体现价值取向                              B. 美国霸权主义的文化输出  
C. 美式自由思想的普世性                              D. 民族文化应主动融入世界



二、非选择题：本题共 10 小题，共 160 分。

36. 阅读图文材料，完成下列要求。（28 分）

仓廩实，天下安。粮食安全是“国之大者”，坐拥“中国第一麦”的河南省延津县（图 6），有着完美契合小麦生长的上砂层、下黏土层的黄金比例土壤。豫北的延津小麦被认定为全国麦类首个国家地理标志农产品，它成功吸引了国内许多大型小麦加工企业的青睐。众多粮食和酒业龙头企业相继入驻延津，在这里建立了有机和绿色原料基地。从豫北蛋白质含量较高的优质强筋小麦，到豫西、豫东的优质中筋小麦，再到豫南蛋白质含量较低的弱筋小麦……品质优良的河南小麦，让河南人无论是用面粉来包速冻饺子、生产饼干，还是生产方便面，都做到了全国前列，河南因此拥有“中国厨房”的美誉。

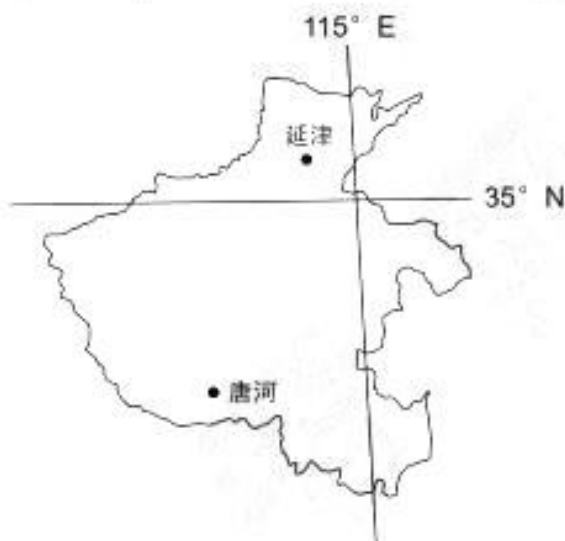


图 6

- (1) 小麦的蛋白质含量和气候关系密切，如与降水量呈负相关，根据优质强筋小麦和弱筋小麦的分布情况，分析豫北延津县和豫南唐河县的气候特征差异。（8 分）
- (2) 延津土壤拥有着上砂层，下黏土层的黄金比例，分析其对土壤水、气、肥的意义。（6 分）
- (3) 众多粮食和酒业龙头企业相继入驻延津并建立原料基地，请对此现状做出评价。（6 分）
- (4) 分析河南被称为“中国厨房”的原因。（8 分）

37. 阅读图文材料，完成下列问题。

建筑用海砂是指分布于海岸和近海的，以中砂和粗砂为主，包括部分细砂和砾石的砂质堆积物，分选良好，品质优良，经脱盐合格后的海砂，广泛应用于城市建设、公路、铁路和桥梁等混凝土结构建筑。日本在20世纪40年代就已经开始利用海砂配制混凝土，其海砂主要依靠进口，进口量逐年攀升，中国是其主要供应国，近些年来，我国不断扩大海砂的生产规模。图7示意渤海、黄海部分海域等深线分布，图8示意日本附近海域等深线分布。

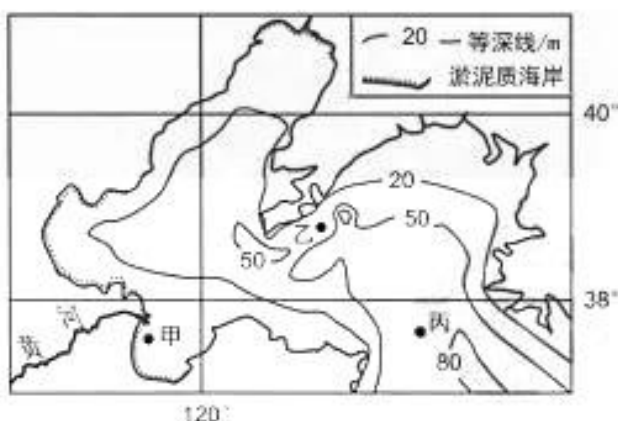


图7

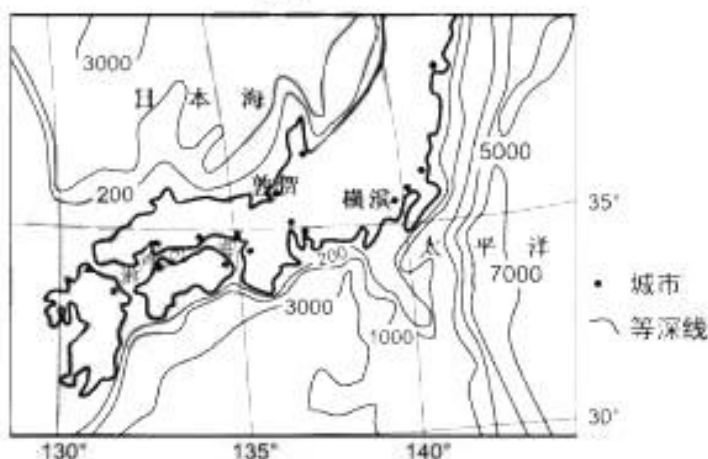


图8

- (1) 海砂主要是由海里的石头在地质作用下形成的颗粒。图7中某处海域的海砂主要由花岗岩发育而成，描述从花岗岩成岩后到形成海砂的主要地质作用过程。(6分)
- (2) 与图7中海砂开发条件较好的乙地相比，推测甲、丙两地开发条件较差的主要原因。(6分)
- (3) 分析海域辽阔的日本从我国大量进口海砂的原因。(8分)
- (4) 简述我国在不断扩大海砂生产规模的过程中应该避免的问题。(8分)



38. 阅读材料，完成下列要求。(10分)

《立法法》是规范国家立法制度和立法活动，维护社会主义法治统一的基本法律。2023年3月5日，立法法修正草案提请十四届全国人大一次会议审议，对立法法作出修改完善。

| 第一章总则修改情况(选读)   |
|---|
| <b>第三条 新增：</b> (坚持)“三个代表”重要思想、科学发展观、习近平新时代中国特色社会主义思想为指导，建设中国特色社会主义法治体系。   |
| <b>第四条 新增：</b> 立法应当符合宪法的规定、原则和精神。   |
| <b>第五条 新增：</b> 立法应当坚持以人民为中心，坚持和发展全过程人民民主，尊重和保障人权，维护社会公平正义。                |
| <b>新增第七条：</b> 立法应当倡导和弘扬社会主义核心价值观，坚持依法治国和以德治国相结合，筑牢中华民族共同体意识，推动社会主义精神文明建设。 |

结合《政治与法治》的相关知识，从《立法法》修正后的内容中任选两条，说明其修正的依据。

39. 阅读材料，完成下列要求。(10分)

加快建设土地大市场是建设全国统一大市场的重要内容。随着我国工业化接近完成，大面积占用耕地的时代已经过去，而伴随着城市化和农村人口向城市的迁徙，“人”和“地”如何匹配、“城”和“乡”如何协同需要深层次改革。为推进我国统一的土地大市场的建设，各地纷纷开启了土地要素市场化配置改革试点工作，健全土地市场化配套体制机制，完善土地要素价格市场化形成机制，充分运用市场机制盘活存量土地和低效用地，同时促进土地增值收益合理分配。

结合材料，运用生产力与生产关系的相关知识，说明推进土地要素市场化配置改革的意义。

40. 阅读材料，完成下列要求。(10分)

最近美国高官声称台湾问题不是中国内政，对此我们坚决反对并保持高度警惕。2023年3月7日，中国外交部长秦刚在谈到台湾问题时强调，解决台湾问题是中国人自己的事，任何外国都无权干涉，我们将继续以最大诚意、尽最大努力实现祖国和平统一。同时，保留采取一切必要措施的选项，任何人都不要低估中国政府和中国人民捍卫国家主权和领土完整的坚强决心、坚定意志和强大能力。台湾问题是中国核心利益中的核心，是中美关系政治基础中的基础，是中美关系第一条不可逾越的红线。台海和平稳定的定海神针是一个中国原则，美方应该恪守对中国作出的政治承诺，台湾问题处理不好，中美关系地动山摇。

请运用《当代国际政治与经济》的相关知识，分析中国外交部长秦刚要求美方恪守承诺的合理性。

41. 阅读材料，完成下列要求。（12分）

陈某于2021年10月在某配送公司成为快递骑手并签订了劳动合同。劳动合同中标注了“骑手在送餐过程中受伤责任自负、接单后不得取消订单”，陈某同公司经理商量修改，经理一口回绝。入职后，陈某每天工作超过12小时，每个月仅有一天休息日。2022年10月，配送公司以经营不善为由，扣押了陈某3个月工资。在维权过程中，陈某发现该公司并没有按照劳动合同为自己缴纳社会保险。

- (1) 陈某可以直接通过哪些方式维权？（4分）
- (2) 结合材料并运用《法律与生活》的相关知识评价该配送公司的行为。（8分）

42. 阅读材料，完成下列要求。（10分）

热播电视剧《去有风的地方》带火了云南古镇沙溪，在2023年春节假期迎来大批游客。

沙溪坚持最严格的保护，全面开展7个传统村落“古树、古桥、古道、古屋、古巷、古店、古井”保护行动，让每个村的历史遗迹得到最大保护，历史文脉清晰可见，让古镇记得住历史。同时开发重走茶马古道、松茸采摘、草原放牧等沉浸式旅游产品，跳出“景点体验”传统模式，探索互动农业，初步形成以乡村旅游变主导产业，以文化创意为特色产业，高原特色农业为辅助产业的农文旅融合发展的产业格局，为群众增收致富、乡村振兴奠定了坚实基础。相比于“因循守旧”或“一味推倒”的古镇开发模式，沙溪古镇秉承的开放包容、辩证取舍理念为古镇开发提供了优秀范本。

结合材料，运用辩证否定观的知识，分析沙溪古镇的开发模式对我国古镇实现高质量开发的启示。



43. 阅读材料，完成下列要求。(25分)

材料一

《唐律疏议》对刑讯的条件、过程、手段等作了严格的限制。《断狱律》明确规定：“诸应讯囚者，必先以情，审察辞理，反复参验，犹未能决，事须讯问者，立案同判，然后拷讯。违者，杖六十。”在审判过程中，《断狱律》按《疏》引《狱官令》：“察狱之官，先备五听，又验诸证信。”即审判采用“五听”方式，外加其他证据，方能断案。对于死刑的执行，须三次奏请皇帝考虑，皇帝批准后，过三日执行，如果不复奏而擅自处决死刑犯，要处以流罪三千里的重罚。唐律在刑讯的适用对象上作了一定的限制，如对享有议、请、减以及七十岁以上十五岁以下，废疾、孕妇等不得刑讯。《唐律疏议》发展了汉律以来“亲亲相首匿”的司法原则，将“相隐”从“亲亲”扩大到“同居”范围，即除了谋反、谋大逆、谋叛等大罪外，同财同居之人可以相互隐瞒罪行而不负刑事责任。

——摘编自李忠建、朱学英《〈唐律疏议〉司法伦理思想探究》

材料二

法制创建新时期(1978—1997年)的“司法为民”理念和陕甘宁时期(1937—1949年)的“新民主主义司法理念”在内容上有许多相似之处。在某种意义上，我们甚至可以把这一时期的司法理念看作陕甘宁时期司法理念的延续和升华。陕甘宁时期坚持“法律为政治服务的工具论”，在国家生活中，法律与党的政策相比，法律要无条件地服从党的政策，法律是实现党的奋斗目标的工具。法制建设新时期中国共产党则提出了要树立法律的至上地位，宪法和法律要成为国家大法，整个国家要依法而治，法律高于官员的权力，不得以言代法，以权压法，以宪法的形式承认了法律拥有最高的权威和神圣的地位。陕甘宁时期认为法律是统治阶级意志的体现，因此法律要为阶级斗争服务。随着改革开放后社会形势的变化，这一时期更强调法律为经济建设服务，法律要切实保障改革开放的顺利进行。

——马毓晨《中国司法理念的变迁》

- (1) 根据材料一并结合所学知识，概括唐代司法理念的特点。(8分)
- (2) 根据材料二并结合所学知识，分析“陕甘宁时期”与“法制创建新时期”司法理念差异的原因。(10分)
- (3) 根据材料并结合所学知识，从中国司法理念发展的历程中概括启示。(7分)

44. 阅读材料，完成下列要求。(12分)

材料

在很早的时候，人群就组成不同的社会，理解每一个社会的历史发展都是重要的。……当代全球化的经历也清楚地表明，只考虑某一个单一的社会是不可能理解今天的世界的，理解当代世界需要考虑世界各民族彼此交流的多种方式，在考虑不同民族组织自身社会的独特方式的同时，世界历史还格外关注各民族跨文化交流的多种方式，这种交流深刻地影响了每个社会的发展，也把世界联成一体。……在世界历史上，全球化不是一个全新的现象，当代的全球化的确比早期的跨文化互动更为剧烈，但是只有在人类长期的跨文化互动的历史中，才有可能理解今天的全球化的世界。

——摘编自[美]杰里·本特利等著《新全球史：文明的传承与交流》

材料反映了一位学者对全球化的认识，对此提出你自己的见解（赞成、质疑均可），并说明理由。（要求：见解明确，持论有据，表述清晰。）

45. 阅读材料，完成下列要求。(15分)

材料一

从有关史籍记载看，茶马古道的历史可追溯到唐朝与吐蕃交往时期，茶叶也正是在这一时期由祖国内地传入吐蕃……据唐人封演所撰《封氏闻见录》记载，唐时饮茶风气的形成与佛教禅宗的流行密切相关，也就是说，是禅僧们到吐蕃传法的同时也将饮茶习俗作为一种“坐禅不寐”的技巧传到了吐蕃僧众之中……不过，汉、藏之间茶马贸易与茶马古道的大规模开通与兴起应是在宋代，此时饮茶习俗在藏区已逐渐从上层普及到民间，茶开始成为整个高原藏区人民日常生活中不可或缺的饮品，为此造成了藏区对茶叶需求量的骤增，这也导致了由宋朝中央政府直接介入的汉、藏之间大规模茶马贸易的兴起。

——摘编自石硕《茶马古道及其历史文化价值》

材料二

清末由于印茶入藏，使汉、藏经由茶马古道而进行的茶马贸易受到冲击和影响，为抵制印茶，清末在雅安设立边茶公司，改良茶种，整顿茶政……内地茶叶成为汉藏民族共同反对英帝国主义侵略西藏，倾销印茶的斗争武器。民国时期，由于军阀战乱和川藏纠纷，虽以国家和政府角色茶叶输藏逐渐淡出，但是汉、藏民间商人之间的茶叶贸易却始终活跃，内地茶叶仍畅行于藏区，在当时特殊的历史条件下仍成为沟通内地与藏区的重要经济联系，并一直延续至民国末。

——摘编自石硕《茶马古道及其历史文化价值》

- (1) 根据材料一，简述唐宋时期茶马古道的发展变化。(7分)
- (2) 根据材料二并结合所学知识，分析茶马古道对近代中国社会的影响。(8分)



## 关于我们

自主选拔在线是致力于提供新高考生涯规划、强基计划、综合评价、三位一体、学科竞赛等政策资讯的升学服务平台。总部坐落于北京，旗下拥有网站（[网址: www.zizzs.com](http://www.zizzs.com)）和微信公众平台等媒体矩阵，用户群体涵盖全国 90% 以上的重点中学师生及家长，在全国新高考、自主选拔领域首屈一指。

如需第一时间获取相关资讯及备考指南，请关注**自主选拔在线**官方微信号：**zizzsw**。



 微信搜一搜

 自主选拔在线

