

达州市普通高中 2023 届第一次诊断性测试

文科综合试题

文科综合共 300 分，包括思想政治、历史和地理三部分，考试时间共 150 分钟。

注意事项：

1. 本试卷分为第 I 卷（选择题）和第 II 卷（非选择题）两部分。答卷前，考生用直径 0.5mm 黑色签字笔将自己的姓名、班级、准考证号涂写在答题卡上；检查条形码粘贴是否正确。
2. 选择题使用 2B 铅笔填涂在答题卡对应题目标号的位置上，如需改动，用橡皮擦擦干净后再选涂答案括号；非选择题用直径 0.5mm 黑色签字笔书写在答题卡的对应框内，超出答题区域书写的答案无效。在试题卷上答题无效。
3. 考试结束，将答题卡交回。
4. 本试卷如遇缺页、漏页、字迹不清等，考生须及时报告监考老师。

第 I 卷（选择题，共 140 分）

2021 年我国某科技公司成立“煤矿军团”，致力于帮助煤矿行业实现“少人、安全、高效”，并支持国内 4000 多座煤矿以及 4 万多非煤矿山智能化，最终实现全球矿山智能化。2022 年，该公司煤矿军团全球总部入驻山西太原。据此完成 1~3 题。

1. 山西吸引该科技公司入驻的主要因素是
A. 交通 B. 技术 C. 市场 D. 政策
2. 山西煤矿产业积极参与智能化转型的主要目的是
A. 减少安全事故 B. 减轻环境污染
C. 提高产品质量 D. 降低生产成本
3. 矿山智能化最有可能带来
A. 劳动力需求增加 B. 生产风险降低
C. 运输成本提高 D. 营销费用增加

上堡梯田位于江西省赣州市崇义县西北部山区，面积约有 5.1 万亩，属陡坡梯田，垂直落差近千米，包含完善的农田水利灌溉系统和良好的生态保护系统，无塘无库无闸，却可旱涝保收，且历经 800 多年而不衰。2022 年 10 月 6 日，上堡梯田成功入选世界灌溉工程遗产名录。图 1 为上堡梯田农田水利灌溉系统示意图。据此完成 4~6 题。

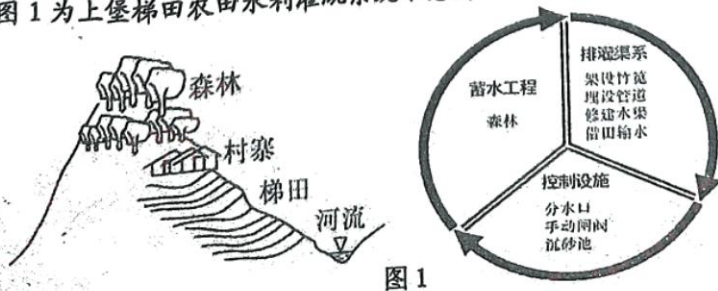


图 1

— 诊文综试卷第 1 页（共 12 页）

4. 上堡梯田实现旱涝保收的关键在于
 A. 分水口 B. 梯田 C. 水渠 D. 森林
5. 与水渠相比, 梯田之间梯田输水的优势有
 A. 节省建设成本 B. 缩短输水时间 C. 可自流引水 D. 减少下渗量
6. 排水口附近设置沉砂池的主要目的是
 A. 增加水中有机质含量 B. 提高冬季水体温度 C. 减少输水中泥沙含量 D. 减轻农作物病虫害

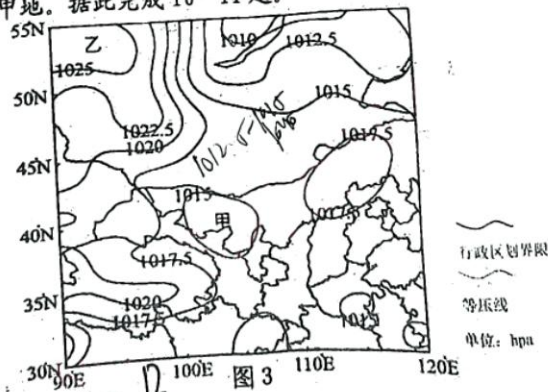
有“雨极”之称的乞拉朋齐, 当地人将槟榔树干挖成中空, 横跨在河流上方, 再由人工引导印度榕的次生根往槟榔树干里生长。当次生根不断生长, 遇到河对岸的土壤就会扎根, 一座桥就逐渐“种”出来了(如图2)。据此完成7-9题。



图2

7. 推测印度榕的显著特征是
 A. 次生根稀少 B. 耐旱能力强 C. 叶片呈针状 D. 生长速度快
8. 树桥建成后越来越牢固, 可能是因为
 A. 根系持续生长 B. 使用频率下降 C. 河水侵蚀减弱 D. 维护力度加大
9. 相对于传统的桥梁, 树桥的优势在于
 ①人力投入小 ②“建设”成本低 ③“建设”时间短 ④生态破坏小
 A. ①②③ B. ①②④ C. ①③④ D. ②③④

图3为2020年9月14日8时亚洲局部地区近地面气压分布图。此后, 乙地附近气压势力增强, 并逐渐影响甲地。据此完成10-11题。



10. 该日8时, 甲地气压值可能是
 A. 1012.5hpa B. 1013.5hpa C. 1016.5hpa D. 1017.5hpa
11. 推测甲地未来最可能出现的天气状况是
 A. 持续阴雨 B. 持续晴朗 C. 阴雨转晴 D. 晴转阴雨

一诊文综试卷第2页(共12页)

12. 股份回购
 年10月
 价值及
 格跌幅
 不考虑
 ①公司
 ②公司
 A. ①
 C. ①
 13. 近年:
 并举
 大的
 ①排
 ②
 ③
 ④
 A.
 14. 图

直径
与粘帖

象擦干
框内,

安全、
智能化。

梯田, 垂
无闸, 却
灌溉工程

12. 股份回购是指上市公司从股票市场上购回本公司发行在外的一定数额股票的行为。2022年10月14日,证监会表示拟修订《上市公司股份回购规则》,将上市公司为维护公司价值及股东权益所必需的一个回购触发条件,由“连续20个交易日内公司股票收盘价格跌幅累计达到30%”调整为“连续20个交易日内公司股票收盘价格跌幅累计达到25%”。不考虑其他因素,上市公司回购股份发挥作用的传导路径合理的是

- ①公司股份回购 ②公司股票市场供给减少 ③公司股票市场需求增加
④公司股票价格回涨 ⑤公司价值及股东权益得以维护
- A. ①→②→④→⑤
B. ①→③→④→⑤
C. ①→④→③→⑤
D. ①→④→②→⑤

13. 近年来,我国粮食品牌化发展方兴未艾。各地根据自然资源禀赋和产业发展实际,多措并举打造粮食区域公用品牌,涌现出一批特色鲜明、质量可靠、知名度高、市场影响力大的粮食品牌,已经初步形成了粮食品牌体系。推动粮食产业品牌化发展的积极意义是

- ①提高种粮比较效益,调动农民的种粮积极性
②更好满足市场需求,以市场需求来带动供给
③促进粮食品质提升,推动粮食业高质量发展
④增强粮食需求弹性,推进供给侧结构性改革
- A. ①② B. ①③ C. ②④ D. ③④

14. 图4是我国2016-2021年国家税收收入与减税降费总额情况。



据此推断正确的是

- ①若不减税降费,2021年税收收入至少有18.4万亿元
②减税降费激发市场活力,为税收收入增长涵养了税源
③减税降费与税收收入在“一减一增”中实现良性循环
④税收收入的增长从根本上得益于减税降费政策的实施
- A. ①② B. ①④ C. ②③ D. ③④
15. 某省深入推进“产业强链”三年行动计划,瞄准集成电路、生物医药、人工智能、前沿材料、绿色低碳等主攻方向,强化科技赋能做“乘法”。该省的这一做法有助于
- ①推进有效市场建设,实现国内外双循环
②加快产业转型突破,构建现代产业体系
③坚持创新驱动发展,奋力迈向智造强省
④实现产业链相融合,促进区域协调发展
- A. ①② B. ①④ C. ②③ D. ③④

16. 在基层社会治理中,某地探索出了“一中心一张网十联户”治理机制。“一中心”,即设立县、乡、村三级综治中心,分级调处各类社会矛盾。“一张网”则是将城镇社区、村组等划分为综合网格,由村(社区)党组织成员或社区党员骨干担任网格长,配备网

格员,对网格所辖群众进行管理和服。 “十联户”是指将网格中相对集中居住的村(居)民按照10户左右标准划分联防联治服务单元,由联户长负责专门联络联系、采集信息、发现风险、化解矛盾、消除隐患。该治理机制

- ①构建多方联动的基层社会治理体系,营造共建共治共享新格局
- ②注重提高基层社会治理系统化水平,提升基层社会治理的效能
- ③推动基层群众自治组织形式的变革,实现德治法治自治相结合
- ④明确人民在基层治理中的领导责任,提高社会治理现代化水平

A. ①② B. ①③ C. ②④ D. ③④

17. 2022年11月,民政部会同中央相关部门联合印发通知,明确要求加强急难临时救助,对受疫情影响无法返岗复工、连续3个月无收入来源,生活困难且失业保险政策无法覆盖的农民工等未参保失业人员,未纳入低保范围的,经本人申请,由务工地或者经常居住地发放一次性临时救助金。此举旨在

- ①健全全过程人民民主的法律与制度体系
- ②保障人民基本民主权利,获得人民认可
- ③健全基本公共服务体系,兜住民生底线
- ④坚持人民至上,促进社会文明和谐发展

A. ①② B. ①④ C. ②③ D. ③④

18. 2022年8月31日,中共中央就二十大报告征求意见稿召开党外人士座谈会,听取各民主党派中央、全国工商联负责人和无党派人士代表的意见和建议,力求最大限度把各阶层各方面的智慧和力量凝聚起来,共同为全面建设社会主义现代化国家、全面推进中华民族伟大复兴而奋斗。上述材料表明

- ①人民政协聚焦党和国家的中心工作,积极履行职能
- ②中国共产党和各民主党派共同致力于社会主义事业
- ③民主党派发挥专门协商机构作用推动科学民主决策
- ④在我国,政党协商是社会主义协商民主的重要渠道

A. ①③ B. ①④ C. ②③ D. ②④

19. 尽管自俄乌冲突以来,美国各盟友团结一致地对俄罗斯实施了严厉制裁,但自美国出台试图为本国企业提供高额补贴的《通胀削减法案》后,却引发了欧盟等盟友的不满,欧盟誓言反制美贸易补贴法案。这说明

- ①合作、竞争与冲突在国际关系双方间同时并存
- ②美国已逐渐成为了世界和平与发展的主要障碍
- ③国家间的亲疏冷热关系是由双方共同利益决定
- ④在相互依存的当今世界应摒弃零和博弈的观念

A. ①③ B. ①④ C. ②③ D. ②④

20. 2022年11月11日,国务院公布《关于进一步优化新冠肺炎疫情防控措施 科学精准做好防控工作的通知》,要求坚定不移贯彻“动态清零”总方针。所谓动态清零,它并不是追求完全零感染,不是放松防控、不是放开,也不是过度防疫、层层加码,而是要做到发现一起、扑灭一起,因时因地因势不断优化防控措施,既不让新冠病毒在疫情发生地流行,也防止病毒传播扩散到其他区域。动态清零总方针

- ①基于新冠肺炎病毒因变异而永远研究不清
- ②做到了具体问题具体分析,不搞“一刀切”
- ③把对规律的正确认识作为疫情防控的出发点
- ④遵循了科学规律,秉持科学精神与科学态度

A. ①③ B. ①④ C. ②③ D. ②④

一诊文综试卷第4页(共12页)

21. 当今世界
现代化
义之“
开辟马
①社会
②不断
③真理
④真理
A. ①③
22. 风物长
要指标
学分析
中航行
这些问
①要
③事
A. ①③
23. 随着,
道又
策体
明显
①价
②价
③人
④必
A. ①③
24. 西周礼
活在地
地建
A. 增
C. 有
25. 《魏
北土
A. 炎
C. 鲜
26. 唐宋
现藏
榻榻
A. 也
B. 里
C. 风
D. 里
27. 汉代
隋唐
A. 力
C. 1

21. 当今世界正经历百年未有之大变局, 中国特色社会主义进入新时代, 全面建设社会主义现代化国家开启新征程。以中国式现代化全面推进中华民族伟大复兴, 就要用马克思主义之“矢”去射新时代中国之“的”, 开辟马克思主义中国化时代化新境界。之所以要开辟马克思主义中国化时代化新境界是因为
- ①社会实践没有止境, 理论创新也就没有止境
②不断开辟理论新境界是时代发展的根本追求
③真理是不断发展的, 永远不会停止前进步伐
④真理是具体有条件的, 其错误会不断被证明
- A. ①③ B. ①④ C. ②③ D. ②④
22. 风物长宜放眼量, 观察中国经济数据不能只看一时。衡量中国经济发展, 增长速度是重要指标, 但不是唯一指标, 必须透过现象看本质, 从短期波动中看到大逻辑大趋势。科学分析中国经济, 要看这艘大船方向是否正确、动力是否强劲、潜力是否充沛。在大海中航行, 再大的船也会有一时的颠簸, 但是前进中的问题, 我们有信心在发展中解决这些问题。以上论述中蕴含的哲学道理是
- ①要坚持用综合的思维方式认识事物 ②新事物总是在不断克服困难中发展
③事物发展是前进性与曲折性的统一 ④积极通过量的积累为质变创造条件
- A. ①② B. ①③ C. ②④ D. ③④
23. 随着人口老龄化趋势和三孩生育政策实施, “一老一幼”问题的有效解决成为当下既紧迫又突出的民生问题。近年来, 我国以“一老一幼”为重点完善人口服务体系, 相关政策体系不断健全, 配套改革措施日益完善, 养老托育服务供给不断增长, 百姓的幸福感知明显增强。材料表明
- ①价值判断是在一定价值选择基础上作出的
②价值观对人们的活动具有重要的驱动作用
③人既是价值的创造者, 又是价值的享受者
④必须坚持以人民为中心作出正确价值选择
- A. ①③ B. ①④ C. ②③ D. ②④
24. 西周初年分封的齐、鲁、晋、燕, 在夏商时期长期徘徊于原始社会军事民主制阶段, 生活在地广人稀、土地尚未开发的蛮夷戎狄地区, 西周时期这些诸侯国所在地区无一例外地建立起奴隶制政权。由此可见, 分封制
- A. 增强了边疆各族的民族认同
B. 促进了边疆地区经济的发展
C. 有利于周王室加强中央集权
D. 推动了区域社会形态的进步
25. 《魏书·序纪》中“昔黄帝有子二十五人, 或内列诸华, 或外分荒服。昌意少子, 受封北土, 国有大鲜卑山, 因以为号。其后, 世为君长, 统幽都之北。”材料意在说明
- A. 炎黄子孙的由来
B. 北魏统治的正统合法性
C. 鲜卑族加速汉化
D. 鲜卑以统治北方为己任
26. 唐宋时期, 人们相信“瓷枕能明目益睛, 至老可读细书”, 睡觉喜欢用玉枕、瓷枕。下图是现藏于故宫博物院的宋代定窑孩儿枕, 可能为宋后妃所用。该瓷枕设计成幼童形象, 神态栩栩如生, 是中国陶瓷史上的经典之作。材料反映了
- A. 制瓷工艺设计的宫廷化
B. 我国制瓷技术达到顶峰
C. 民俗文化助推手工业的发展
D. 唐宋时期人们养生意识增强
27. 汉代进行集中贸易的“市”有专门的管理机构, 在郡国和长安等大城市设有“市长”; 隋唐的“市”由“市令”专管; 宋代州县设置务(地方市场管理和税收机构)。材料体现
- A. 城市经济功能增强
B. 重农抑商政策逐渐松弛
C. 官僚体制因时而变
D. 政府行使经济管理职能



图5

一诊文综试卷第5页(共12页)

28. 12

元

理

者

A.

C.

29. 明

史

世

A

C

30. 乡

子

i

31.

32.

33

3

已介毕

台次

女下女三

8. 1274年元朝设立云南行省，大臣赛典赤上奏：“云南诸夷不啻土著，其俗与华不别，任用归顺少数民族首领世袭管元帅府事，并听行省节制”，忽必烈同意其设立宣慰司，大小首领2000余人投降元朝，“降理地方并朝贡纳赋的主张。不久，云南土官依士贵率大小首领一矢而安定”。材料反映了元朝者八十余州，籍四十万户”，元朝“不劳一矢而安定”。材料反映了元朝
- A. 在西南全面推行土司制
B. 对少数民族实行直接管理
C. 因俗而治推动国家治理
D. 实行政省制度的效果显著
9. 明朝万历年间，意大利传教士利玛窦将“天下有五大洲”的学说介绍到中国。对此，《明史》评论道：“其说荒渺莫考，然其国人充斥中土，则其地（意大利）固有之，不可诬也。”从材料主要可看出
- A. 部分士大夫囿于成见
B. 西方传教士大量来华
C. 西学东渐的影响较大
D. 评论者具有实证精神
10. 维新变法运动时期，梁启超将顾炎武的“保国者，其君其臣肉食者谋之；保天下者，匹夫之贱与有责焉耳矣”归纳为“天下兴亡，匹夫有责”；严复也主张解放女性，使其认识到“天下兴亡，夫女有责”。材料反映出
- A. 国人的民族意识觉醒
B. 维新派将变法与救亡图存相结合
C. 维新派主张男女平等
D. 传统文化在新时期的继承与发展
31. 1908年，清朝学部决定将强迫教育作为普及新式教育的手段，京师成为试行的首选之地，陆续实施了划分学区、清查学龄儿童数量、定期宣讲新式教育、责令入学，违者罪其家长等措施。然而至宣统元年（1909年）统计，京师学龄儿童的入学率仅为42%，尚不过半。材料说明
- A. 新政改革困难重重
B. 强迫教育不得民心
C. 新式教育不合国情
D. 民众观念亟待改变
32. 1922年召开的中共二大指出：“我们无产阶级审察今日中国的政治经济状况，我们无产阶级和贫苦的农民都应该援助民主主义革命运动。……民主主义革命成功了，……无产阶级便须对付资产阶级，实行‘与贫苦农民联合的无产阶级专政’的第二步奋斗。”材料表明中共
- A. 调整了革命斗争的战略
B. 开启了新民主主义革命的历程
C. 厘清了民主革命的性质
D. 掌握了革命政治斗争的主动权
33. 1929年12月的《古田会议决议》规定：“每连建设一个支部，每班建设一个小组，这是红军中党的组织的重要原则之一。”毛泽东谈到，党的组织，现有连支部、班小组、营团军三委，红军所以艰难奋战而不溃散，而两年前，我们在叶挺部还是每团一个支部，故经不起严重的考验。材料意在强调
- A. 红军必须绝对服从党中央领导
B. 我党进行思想建设的重要性
C. 强化军队建设提升军队战斗力
D. 要加强党对军队的组织领导
34. 1958年开始的“大跃进”和人民公社化运动加大了人员的密集程度，使传染病发生、传播的概率大增。1958年11月12日，周恩来约见卫生部长、副部长指出：“应考虑集体化引起人们衣食住行的变化。水利工地、钢铁工地、农业生产场地都是人员集中的地方，要组织工作组摸一摸情况，注意这些方面的卫生工作。”材料表明
- A. 集体化导致衣食住行恶化
B. 跨越式发展受制于人民身体健康
C. 政府践行关注民生的职责
D. 国家将掀起医疗卫生事业大跃进
35. 据统计，1986年全国城镇个体工商户达到500多万户；到2001年，全国登记的个体工商户为2423万户，私营企业202.86万户，从业人员达7474万人，实现社会商品零售额19675亿元。以上经济现象的变化得益于
- A. 农村改革推动产业结构调整
B. 社会主义市场经济体制逐步确立
C. 对外开放的新格局逐渐形成
D. 个体工商业成为经济发展的主力

第II卷(非选择题, 共160分)

36. 阅读图文材料, 完成下列要求。(24分)

伽师县, 地处塔里木盆地西缘, 无霜期达233天, 独特的气候条件, 成为伽师新梅(如图6)种植的优势。该县长期被饮水问题困扰, 上世纪90年代, 人们将地下水作为饮用水, 但水量少且水质不稳定; 2019年, 从盖孜河上游引冰川融水的安全饮水工程竣工, 极大地推动了当地新梅产业的发展。近年来, 在广东省援疆资金推动下, 伽师县打造以新梅为核心的集交易、分拣、保鲜、冷藏、包装、物流、研发和培训为一体的全产业链园区——粤伽新梅产业园, 现已研发出新梅原浆、果粉等十余种产品, 形成联动发展、相互配套的产业发展新格局。



图6

(1) 从气候角度分析伽师县种植新梅的优势条件。(8分)

(2) 与地下水相比, 说出从盖孜河上游引冰川融水对新梅生长的有利影响。(4分)

(3) 说明全产业链园区建设对伽师县新梅产业发展的积极作用。(8分)

(4) 简述伽师县新梅产业发展对我国产业扶贫的启示。(4分)

37. 阅读图文材料, 完成下列要求。(22分)

阿穆尔河(如图7)在我国称黑龙江, 是世界大型河流之一, 全长4440公里, 流域面积超过180万平方千米, 全年汛期长。其大部分河段沿中俄边境延伸, 其中, 布拉戈维申斯克与哈巴罗夫斯克是其上、中、下游的分界点。阿穆尔河上、中游河段穿行于峡谷之中, 支流多源于周围山区, 干流流经哈巴罗夫斯克后向北进入平原地区, 最终注入鄂霍次克海。长期以来, 阿穆尔河入海口处泥沙淤积量小, 三角洲扩张缓慢。

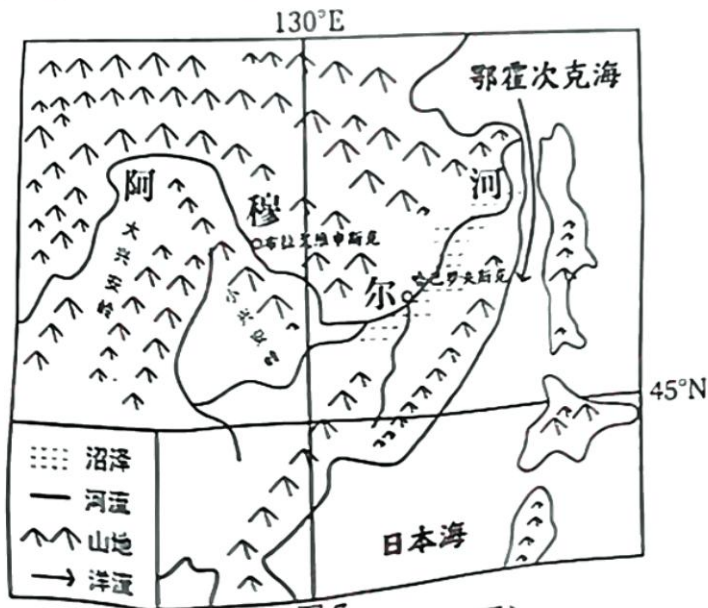



图7

一诊文综试卷第7页(共12页)



2022年11月5日，习近平主席出席在武汉举行的《湿地公约》第十四届缔约方大会开幕式致辞时再次指出：“我们要深化认识、加强合作，共同推进湿地保护全球行动。”

截至目前，全球共有43个“国际湿地城市”，其中中国城市有13个，数量位居全球第一。中国以占全球4%的湿地，满足了世界1/5人口对湿地的生产、生活、生态等多种需求。中国湿地保护也为全球生态环境治理提供了可借鉴的中国式治理路径。

结合材料并运用政治生活知识，阐释中国湿地保护为全球生态环境治理提供的中国式治理路径。（12分）

40. 阅读材料，完成下列要求。（26分）

改革开放是当代中国的鲜明标识。纵观我国改革开放史，对外开放是一个不断突破、不断丰富、不断完善的过程。改革开放初期，我国经济基础相对薄弱，不得不按照西方制定和主导的诸多不公平的经贸规则推进对外开放，形成了以商品和要素流动型开放为主的对外开放格局。随着改革开放深化和综合实力的提升，我国在全球治理中的国际地位与话语权逐步凸显。特别是进入新时代，我国积极倡导“人类命运共同体”理念、发起建设“一带一路”合作倡议、积极打造21世纪新型多边开发银行……，为助力全球经济发展提供了诸多的公共产品。今后，我国将积极推动制度型开放，通过高质量制度型开放进一步实现规则等制度的“引进来+走出去”，打造国际投资与贸易活动的“新契约”，从制度上打通关节，破除有形和无形贸易壁垒，为商品和要素流动带来新的更公平、更广阔的空间。

小智治事，大智治制。制度型开放是中国顺应经济全球化、共享发展机遇的主动作为，是中国参与全球治理、探索国际新秩序的应有作为。2018年中央经济工作会议首提制度型开放，十四五规划又进行专节安排部署，二十大报告则再次强调：“稳步扩大规则、规制、管理、标准等制度型开放。”加快制度型开放已成为我国建设现代化经济体系的题中之义。

(1) 结合材料并运用经济生活知识，分析稳步扩大制度型开放对建设现代化经济体系的重要意义。（12分）

(2) 制度型开放是中国顺应经济全球化、共享发展机遇的主动作为，是中国参与全球治理、探索国际新秩序的应有作为。运用经济基础与上层建筑关系的知识对此加以说明。（10分）

(3) 制度型开放为企业高质量发展提供了历史性机遇。请你就我国企业如何抓住制度型开放带来的机遇提出两条方法论建议。（4分）

为了
田野
特
普
户
农
后
育
号

42. 阅读材料，完成下列要求。(12分)

材料 马可·波罗(1254年—1324年)，生于意大利威尼斯一个商人家庭。17岁时跟随父亲和叔叔历时四年多来到中国，在中国游历了17年。回国后，根据他在中国的见闻，口授了一本《马可·波罗行纪》，其中叙述中国为主的第二卷达82章。

马可·波罗东来与返回路线图

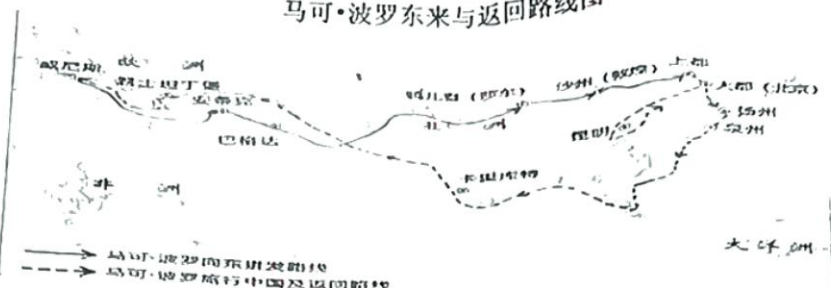


图8

无论是描述人口、城市还是财富，马可·波罗动辄使用“百万”这个词，以至于人们送他“百万先生”的外号。1999年，美国组成一个科考队重走马可·波罗来中国的路线，10位考察队员和22位提供后援的专家一致认为，马可·波罗通过这条路来中国“简直是难以想象的”。哥伦布曾说：“马可·波罗的书引起了我对东方神秘的向往……在我的航行中，很多次是按《马可·波罗行纪》里说的去做的”。

——摘编自百度百科

根据材料并结合所学知识，围绕“马可·波罗来中国”的话题，选择一个角度确定主题，展开论述。(要求：主题明确，史论结合，层次清晰。)

43. 【地理——选修3:旅游地理】(10分)

数字游民是指通过电信技术(尤其是互联网)进行移动办公，以支撑生活和旅行的群体。他们通常是自由职业者、远程工作者、独立创作者或互联网创业者等。后疫情时代，他们常常搬到旅游地居住几个月，在工作之余，还可以享受沉浸式的旅游体验。

广州花都区的数字游民基地，位于广州仅有的两个“中国历史文化名村”之一望头村，远离市中心闹市区。村内有恢弘的古代建筑群，在古民居基础上改造的文化博物馆、乡村文化艺术空间、乡村图书馆等公共文化场所气质独特，琴馆、国学馆、民宿等设施一应俱全。在这里，人们可以实现工作+社群+旅行的新方式。

(1)与传统游客相比，说出数字游民的差异。(4分)

(2)分析望头村吸引数字游民的优势。(6分)

44. 【地理——选修6:环境保护】(10分)

伴随工业化和城市化，我国一些河流和湖泊等水域污染现象严重，一些藻类大量繁殖生长，破坏水域生态。近些年来，一些城市广泛推广一种“立体植物疗法”的环境措施(如图9)，即在河流或湖泊内种植亲水性植物，如凤眼莲、香蒲、美人蕉等，这些植物通过自身的生长习性，广泛分布在水域里的不同深度，对保护水环境、维护生态起着不可估量的作用。

一诊文综试卷第11页(共12页)



图9

简述“立体植物疗法”在城市大量应用和推广的原因。

45. [历史——选修1：历史上重大改革回眸] (15分)

材料 中共十一届三中全会后，我国开始了对医疗卫生体制的改革探索，试行并建立了多种形式的卫生管理责任制。1985年4月，卫生部明确规定了全面开展医疗卫生体制改革的政策：扩大全民所有制卫生机构的自主权，积极发展集体卫生机构、支持个体开业行医、调整部分医疗收费标准。中共十四大召开后，我国医疗卫生体制改革不断向纵深发展，以城镇为重点，建立了城镇职工与居民基本医疗保险制度、城镇居民医疗救助制度、城镇医药卫生体制和发展社区卫生服务，建立起适应我国经济发展水平的卫生体系。从2002年起，农村卫生体制改革成为重点，初步建立了以大病统筹为主的新型农村合作医疗制度和医疗救助制度。城乡基本形成了以公有制为主体，多种形式共同发展的办医格局。经过30多年的改革，取得了显著成效，就医难的状况得到一定程度的缓解，创造了世界医疗史上的奇迹。

——摘编自百度百科和选择性必修2《经济与社会生活》

(1) 根据材料并结合所学知识，概括改革开放以来我国医疗卫生体制改革的特点。(8分)

(2) 根据材料并结合所学知识，简评改革开放以来我国医疗卫生体制改革的意义。(7分)

46. [历史——选修4：中外历史人物评说] (15分)

材料 俺答汗(1507年—1582年)，蒙古土默特部首领，政治家、军事家。他为突破明朝的经济封锁，解决游牧经济难以自给的问题，引进农业技术，开垦耕地，种植农作物，使粮食得到初步解决；牧业也繁荣起来，手工业逐步发展，他模仿大都修建呼和浩特城。16世纪中期，俺答汗征服青海蒙古及青海湖周围的土著部落，以青海湖为中心的广袤草原成为蒙古的新牧场。1571年，在俺答汗的努力下，与明朝达成了和睦相处、走向合作的“隆庆和议”，明朝封其为顺义王，通贡和开放11处边境贸易口岸互市，蒙明边界建立起长期的和平贸易关系。1578年，俺答汗为了提高自己的政治地位，谋求与西藏宗教领袖建立密切联系，他与格鲁派藏传佛教领袖索南嘉措在青海湖畔会谈，蒙古正式接受格鲁派藏传佛教，俺答汗赠给索南嘉措“达赖喇嘛”称号，索南嘉措赠给俺答汗“咱克喇瓦尔第彻辰汗”称号，重建了蒙藏关系；他积极推动藏传佛教在蒙古地区的传播，藏传佛教对丰富和发展蒙古族文化起到了显著作用。

——摘编自百度

(1) 根据材料并结合所学知识，概括俺答汗的主要历史功绩。(8分)

(2) 根据材料并结合所学知识，评价俺答汗采取的相关举措。(7分)

关于我们

自主选拔在线是致力于提供新高考生涯规划、强基计划、综合评价、三位一体、学科竞赛等政策资讯的升学服务平台。总部坐落于北京，旗下拥有网站（[网址：www.zizzs.com](http://www.zizzs.com)）和微信公众平台等媒体矩阵，用户群体涵盖全国90%以上的重点中学师生及家长，在全国新高考、自主选拔领域首屈一指。

如需第一时间获取相关资讯及备考指南，请关注**自主选拔在线**官方微信号：**zizzsw**。



 微信搜一搜

 自主选拔在线

