

高三练习卷

历史

一、选择题：本大题共 16 题，每题 3 分，共计 48 分。在每题列出的四个选项中，只有一项最符合题目要求。

1.商鞅认为“欲农富其国者，境内之食必贵”。因此，他第二次变法时只向农夫普遍授田，对于从事商贾技艺者不授田，这些人需要靠购买粮食解决吃饭问题。商鞅推行的授田法

- A.旨在维护宗法分封制度
- B.保护了小农经济的发展
- C.导致商人操纵粮食价格
- D.突破“工商食官”局面

2.在汉代，每个官吏一入仕途就有记录功劳、考课、籍贯等各项情况的“伐阅簿”。官吏任职期间，只要不犯赃罪，即使与孝廉、茂才等察举升迁方式无缘，依然可依功劳等次累升至郡国长官一级。若自动去职或免职后，仍可按累积的功劳，再次被征用。据此可知，汉代

- A.察举制以功劳为升迁依据
- B.官僚队伍内部流动规范化
- C.官吏的考核大都流于形式
- D.郡国长官控制地方选人权

3.《丧服》本属于《仪礼》中的一篇，东晋时成为显学，南迁士族依丧服就可以辨识门第品流和血缘亲疏。他们还对朝廷的礼乐、舆服、仪注等所谓“衣冠文物”极为重视。当时的大诗人孙绰曾说“由礼则雅，不由礼则夷”。这一现象源于

- A.儒学受到佛道挑战
- B.南北方文化的交流与融合
- C.门阀士族日益衰落
- D.东晋维护正统的文化需要

4.宋神宗元丰年间，两浙户均耕地为 20.38 亩，南宋时跌至 16.1 亩。浙西一带的农民每到秋熟，就到“土沃多旷”的两淮，帮助淮民收获，田主仅取收获的一半，“他皆为浙人得之，以舟载所得而归。”这表明南宋

- A.人口增长压力导致季节性流动
- B.长途贩运和巨额贸易获得发展
- C.政府对百姓职业更换限制松弛
- D.经济重心尚未转移到江南地区

5.王阳明认为“今教童子，惟当以孝悌忠信礼义廉耻为专务”，主张以唱游方式启蒙幼童的学习兴趣，通过“周旋揖让”“拜起屈伸”等来发展儿童肌肉筋骨，使其强健体魄。王阳明的教育思想

- A.否定传统伦理道德
- B.强调人的主观能动性

C.关注人的身心发展

D.具有反君主专制倾向

6.左宗棠有感于单纯从上海采运洋枪洋炮运道太长、费用太巨，于1873年创建了兰州制造局，延请广东、浙江等地的工匠仿制西方新式枪炮及其配套弹药，使兰州变成了一个积蓄军火的大本营。兰州制造局的开办

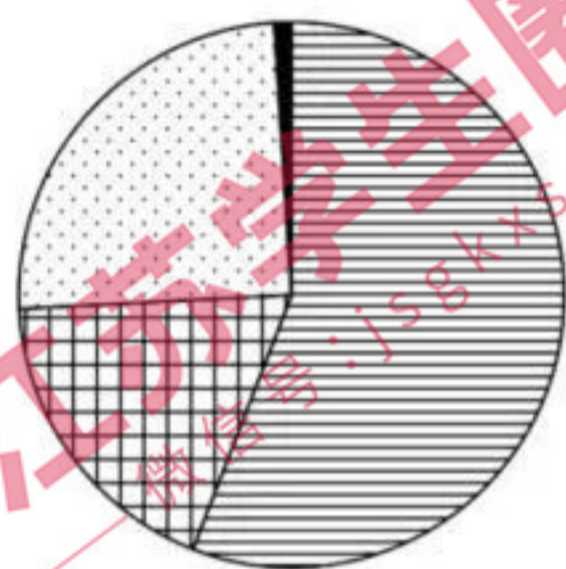
A.致力于镇压太平天国运动

B.开启近代中国机器生产先河

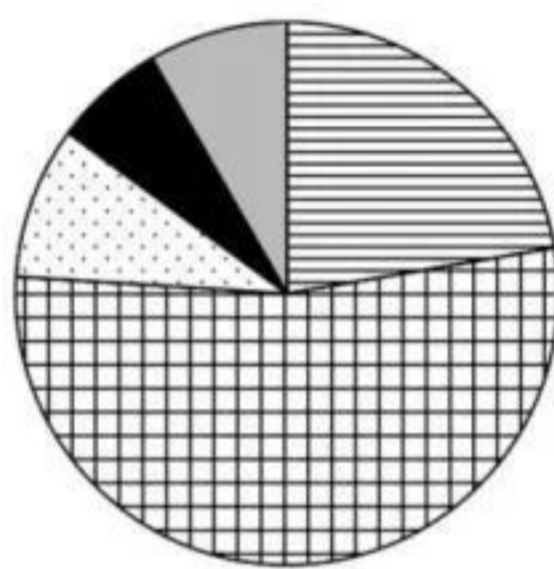
C.有利于平定西北边疆危机

D.采用了官督商办的经营方式

7.图1展示了近代中国工业资本家的主要来源。对图中数据变化解读正确的是



1872-1913



1914-1922

■ 地主

■ 商人

■ 买办

■ 华侨

■ 其他

图1

A.封建经济开始瓦解

B.官僚资本凭借国家权力迅速膨胀

C.民族工业资本雄厚

D.民族工业发展吸引商业资本投入

8.1938年，矿工吴运铎参加了新四军。1941年，在淮南根据地，他带领职工自制土设备，扩大枪弹生产，还成功研制出拉雷、电发踏雷等多种武器弹药，为提高部队火力做出了突出贡献。他说：“只要我的劳动融合在集体的胜利里，那幸福也就有我一份。”由此可知当时

A.陕甘宁边区民众形成勤俭节约的传统

B.抗战大后方的军工产业获得迅速发展

C.无产阶级革命战士发扬自主创新精神

D.大生产运动体现军民自力更生的品质

9.新中国建立初期，国家建立国营商业机构，发展对苏联和东欧国家贸易。同时，鼓励私营进出口商通过联营等方式组织起来，增强对资本主义国家的出口竞争力，至1951年，各口岸对资本主义国家贸易额中，私营出口约占64.8%。上述做法旨在

A.加速推进公私合营

B.利用外资活跃市场

C.突破计划经济体制

D.打破西方经济封锁

10. 20世纪80年代，中国政府在中东问题上，一方面支持巴勒斯坦人民的解放斗争，抨击以色列扩张政策；另一方面，面对伊朗和伊拉克的军事冲突，中国分别向两国表达了尽早实现停战、通过和平谈判解决分歧的意愿。材料表明，新时期中国

- A. 推行睦邻友好外交方针
- B. 维护正义和世界稳定
- C. 倡导全球治理机制变革
- D. 积极支持不结盟运动

11. 古典时代的希腊，许多雕塑都摆放在城邦的公共场所，私人房屋没有用雕塑品装饰的习惯。神庙、竞技场等建筑宏伟而精美，私人居所简陋而朴素。该现象反映出

- A. 希腊化时代多元文化交流融合
- B. 希腊公民的个性受到神学束缚
- C. 希腊人以城邦公共生活为中心
- D. 古希腊建筑设计遵循等级观念

12. 第一国际成立时，各国工人运动中各种非无产阶级社会主义思想还占统治地位，马克思没有立即宣布《共产党宣言》中所提出的原则。巴黎公社爆发后，马克思在《法兰西内战》中深刻地阐释了科学社会主义原理，并将其作为第一国际总委员会的宣言发表。这一变化表明

- A. 工人运动发展促进马克思主义传播
- B. 马克思主义被各国工人阶级所接受
- C. 第一国际有力支持了巴黎公社运动
- D. 国际工人运动中消除了旧思想干扰

13. 图2反映了某一时期的大规模跨洲移民现象，该现象的出现

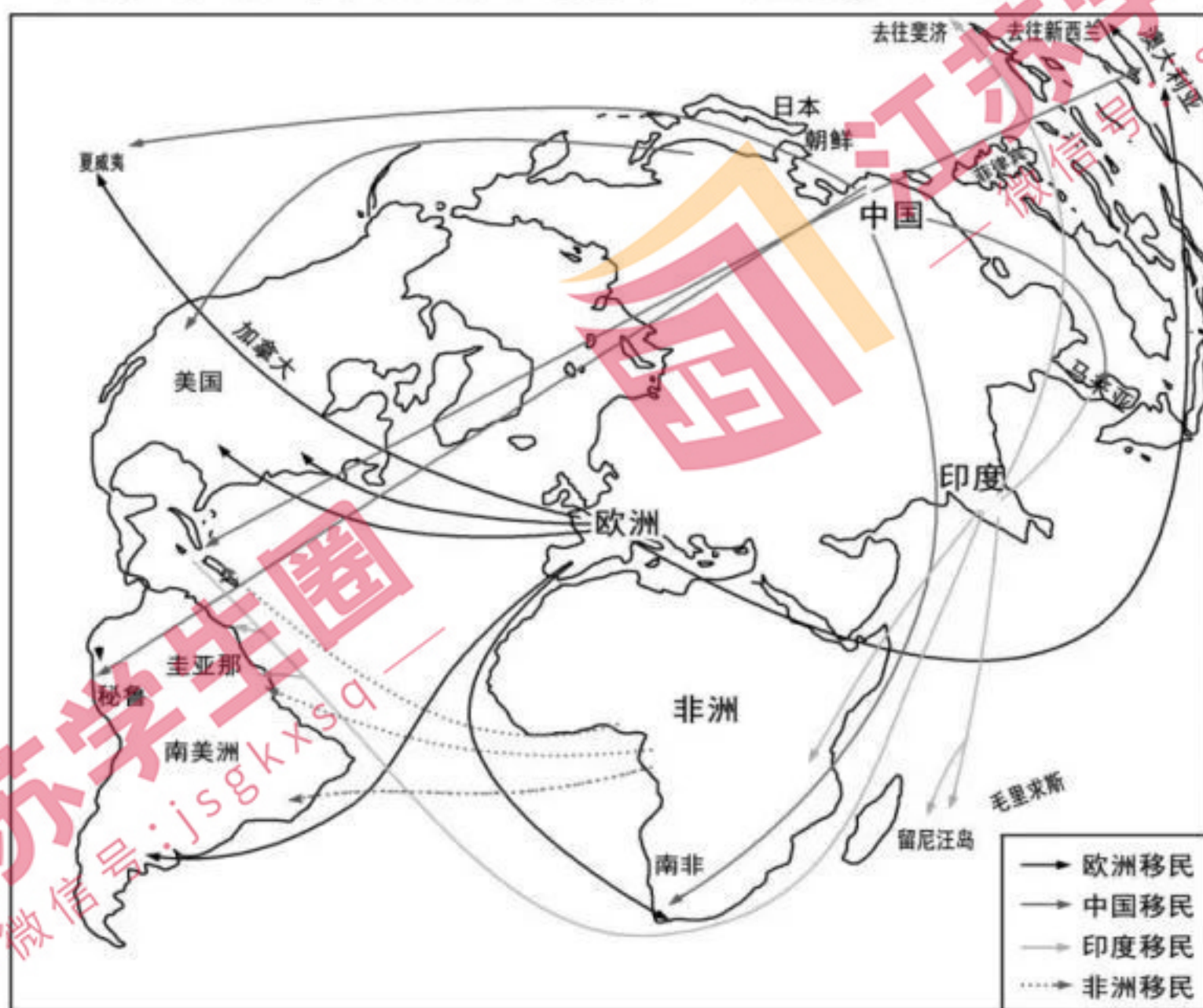


图2

- A. 表明黑奴贸易盛行
- B. 源于工业革命的扩张

C. 标志全球航路开辟

D. 受拿破仑战争的影响

14. 大洋彼岸的美国人抓住欧洲人自相残杀提供的历史机遇，迅速实现经济腾飞。美国和英国的地位开始发生颠倒，国际金融中心开始由伦敦逐渐向纽约转移，美元上升为最吃香的世界货币。美国经济的这一发展状况出现于

A. 1914—1919 年

B. 1929—1933 年

C. 1941—1945 年

D. 1945—1971 年

15. 国际法院成立之初被视为联合国系统中最不成功的机构，认为它为发达国家的霸权地位合法化提供了法律保障。20 世纪 70 年代，国际法院重申法官背景的多元化，进行诉讼程序的改革，并尽可能减少大国政治对于司法的影响。国际法院的改革

A. 推动大国一致原则的形成

B. 利于推进国际社会法治化

C. 确立了和平解决国际争端的机制

D. 表明美国构建单极世界遭到抵制

16. 对外贸易是新加坡经济增长的火车头，外资企业在新加坡投资设厂，进口原料、半成品，利用当地劳动力，进行加工和装配，然后再出口到各国。1990 年，新加坡国内生产总值为 627 亿新元，而对外贸易总额为 2030 亿新元，其中很大一部分是外资企业的进出口额。这说明

A. 新兴国家崛起挑战国际经济旧秩序

B. 世界贸易组织提升贸易国际化水平

C. 新加坡利用外国资本进行产业升级

D. 经济全球化推动新兴民族国家发展

二、非选择题：本大题共 4 题，满分 52 分，其中第 17 题 12 分，第 18 题 13 分，第 19 题 13 分，第 20 题 14 分。

17. (12 分) 阅读材料，完成下列要求。

材料一 江西按察使凌焘在《西江视臬纪事》一书中，回忆了雍正十一年至乾隆八年他在江西的任职经历，其中不乏对清朝乡村治理的看法。他针对当时流行秘密宗教，建议“凡寺院歇店等处，如有容留来历不明之人，保甲一并惩处。”他发现约长宣讲《圣谕广训》成效不大，提出各州县要“勤于宣布”，“不难易俗移风”。谈及

江西推行族正制的情形，他指出族长未必都是公正之人，最好在族正之外另设族约，以举、贡、生、监中下层士人担任最佳。他认为治理宗族和乡村主要靠教化，不能给予宗族和保甲太大的权力，不能使之成为摆脱国家的乡村自主力量。

——据凌涛《西江视臬纪事》等

材料二 雍正四年，族正制作为保甲的一环出现，保甲、乡约渗透到宗族中，称为宗族的保甲乡约化。学者常建华根据闽浙总督觉罗满保的两篇奏折及朱批等资料，探讨了族正制出现的过程。他查阅了乾隆六年二月广东按察使潘思榘奏折、乾隆十五年广东督抚批准该省《设立族正副约束子弟总理尝租》的文件，认为广东族正是作为保甲系统设立的。他通过研究乾隆七年江西巡抚陈宏谋推行的族正制，指出族正由宗族内部选举出来，经州县“查验确是”，给予牌照产生，族正的首要职能是讲读《圣谕广训》。

——据常建华《清朝大历史》

(1) 根据材料一、二，概述清朝乡村治理的主要举措。(6分)

(2) 评析材料一、二论点所依据的不同类型史料的价值。(6分)

18. (13分) 阅读材料，完成下列要求。

材料 1909年，随着一系列“废旧立新”旨令的下达，清政府以“保存国粹”为宗旨，批准设立京师图书馆。1912年8月27日京师图书馆正式开馆，作为中央政府创办的国家图书馆，京师图书馆藏书向社会公开开放，“无论士农工商军界暨女学界，皆可入览”。1928年，京师图书馆改称国立北平图书馆，馆内除辟有专业阅览室和普通阅览室，还开辟了研究室，为深入研究专门问题的学者提供服务。在服务国内读者的同时，北平国立图书馆还与国外相关机构交换图书、馆员，进行学术交流。抗日战争全面爆发后，国立北平图书馆在昆明设立办事处，坚持开展和运行馆务。并因地制宜地制订收藏计划，利用有限的人力物力，征集到四川、云南等省志374种，在图书馆界起到了模范榜样作用。

——摘编自孟化《国家图书馆与近代文化(1909-1949)》

(1) 根据材料并结合所学知识，概括近代中国国家图书馆设立与发展的主要原因。(6分)

(2) 根据材料，简析国家图书馆对推进近代中国文化发展所作出的贡献。(7分)

19. (13分) 新中国成立后，每逢建党十个整年之际，国家发行“七一”纪念邮票成为惯例。阅读材料，完成下列要求。

材料



图3

(注：图3套纪念邮票其它四枚分别以中共一大会议址、大楼、中华民国临时中礼堂、延安主图。)



所示为一中的第5枚，别以中共南昌“八一”苏维埃中央政府大宝塔山为

图 4

根据所学，从图像证史的角度赏析以上两枚建党纪念邮票。（要求：表述成文，叙述完整；史论结合，逻辑严密。）

20. (14分) 阅读材料，完成下列要求。

材料

表 1 苏伊士运河和巴拿马运河大事简表

<p>◎1858年，法国主导的国际苏伊士运河公司成立，并决定发行2亿法郎股票作为资本。埃及总督购买了六千万法郎的股票。</p> <p>◎1869年，苏伊士运河开通。在运河通航的第一年中，通过运河的货物吨位是43.7万吨，英国货物达29.1万吨。</p> <p>◎1882年，埃及发生阿拉比起义，英军占领苏伊士运河，并驻军埃及。</p> <p>◎1956年，埃及彻底收回运河主权。</p>	<p>◎1903年，《美巴条约》签订，美国取得独家开凿和经营巴拿马运河的权力。</p> <p>◎1914年，巴拿马运河竣工，美国总统威尔逊把运河、运河区和巴拿马铁路全部交由陆军部管理。</p> <p>◎1919年，巴拿马运河正式通航，使得美国东西海岸的航程缩短了12万多千米。美国40%的对外贸易是通过运河进行的。中国、日本和澳大利亚从北美进口商品更多。</p> <p>◎1999年，巴拿马人民收回运河和运河区主权。</p>
---	--

——摘编自 [英] 阿诺德·T. 威尔逊《苏伊士运河史》等

(1) 根据材料并结合所学知识，概括苏伊士运河修建的原因。(5分)

(2) 根据材料并结合所学知识，说明巴拿马运河通航的作用。(5分)

(3) 根据材料并结合所学知识，简析埃及和巴拿马人民收回运河主权的共同政治意义。
(4分)