

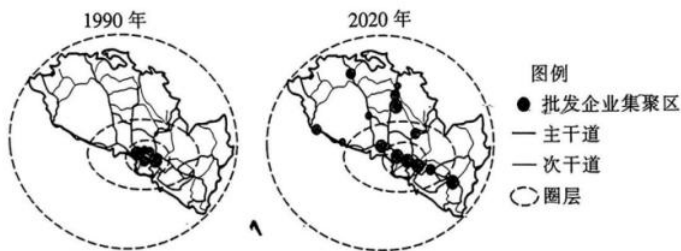
高三文科综合考试

本试题卷分为第Ⅰ卷选择题和第Ⅱ卷非选择题两部分，共47小题，时量15.0分钟，满分300分。

第Ⅰ卷(选择题共140分)

本卷共35小题，每小题4分，共140分。在每小题给出的四个选项中，只有一项是符合题目要求的。

批发企业具有组织商品流通、集散、传递市场供需信息等功能，其空间变迁与城市发展息息相关。兰州市批发业早期呈现“寄生状”扩张的特征。由于城市工业经济单一粗放，批发企业逐渐出现规模不经济现象(生产规模扩大而导致单位产品成本提高的现象)，后来在政策引导下，兰州市批发企业逐步向城市郊区外迁，并呈现圈层式跳跃的特征。下图为1990年和2020年兰州市批发企业集聚区分布示意图。据此完成1~3题。



- 早期批发企业一般“寄生”在
 - 老城区商圈
 - 传统住宅区
 - 新式住宅区
 - 高速路沿线
- 批发企业出现规模不经济现象是由于
 - 市场需求减少
 - 商品价格降低
 - 治污成本上涨
 - 管理成本升高
- 批发企业外迁呈现圈层式跳跃特征的原因是
 - 交通干道呈环状分布
 - 批发企业集聚分布
 - 地价由市中心向外逐层下降
 - 商业用地分散
 - ①②
 - ①④
 - ②③
 - ③④

PMI指数(采购经理指数)是通过对采购经理的月度调查汇总出来的指数，能够反映经济的变化趋势。PMI指数以50为荣枯分水线。PMI指数大于50，说明经济在前进；PMI指数小于50，说明经济在走向衰退。2022年欧洲能源危机让许多欧洲企业“焦头烂额”。北溪输气管线被炸也从根本上打击了欧洲的产业，特别是欧洲的高端产业。欧洲高端产业受煤炭、石油、天然气成本上升和高通胀影响，面临停产、外迁的严峻挑战。下图示意德国近十年制造业PMI指数变化。据此完成4~5题。

13. 某民营企业奉行“家”文化，构建了“全员持股、利益共享”的薪酬体系；通过福利分房、购房补贴、兴建员工公寓解决员工住房问题；打造“职工之家”“文化俱乐部”等活动阵地，传递“快乐工作，健康生活”理念。上述做法
- ①是基于效率是公平的物质前提和基础 通过全员持股增加员工的劳动性收入
③让员工与企业成为紧密的利益共同体 ④以科学的分配机制提高企业经济效益
- A.①② B.①③ C.②④ D.③④
14. 近年来，东北农业生产在保持优选优种、高产优产的前提下，大力促进农民和企业建立互利共赢的合作关系，指导农民充分了解、接触市场信息；打造产业集群，促进农产品深加工，聚力培育农产品品牌，有效解决了“种得好不一定卖得好”的难题。东北农业生产的成功经验是
- ①彰显区域资源特色，大力发展绿色、天然农产品
②加强农产品产销对接，将产业优势转变成市场优势
③调整和优化农产品种植结构，扩大农产品的种植规模
④构建产业链、产品链、价值链相衔接的品牌建设体系
- A.①② B.①③ C.②④ D.3、4
15. 习近平总书记在十四届全国人大一次会议江苏代表团审议时强调，“我常说两个必保，一个是粮食饭碗中国必须端牢，再一个制造业必须筑牢。一个14亿多人口的大国，必须靠自己解决这两个问题”。下列围绕“这两个问题”的传导路径正确的是
- ①推动农业关键核心技术攻关→实现育种创新突破→提升粮食产能→维护粮食安全
②守住耕地红线→推进农业供给侧结构性改革→提高粮食产量→提升粮食供给能力
③实施重大技术装备攻关工程→加强产学研结合→促进全产业链发展→筑牢制造业根基
④实施产业基础再造工程→推动传统制造业技术迭代→推动制造业升级→筑牢制造业根基
- A.①③ B.①④ C.2、3 D.2、4
16. 我国推动社会治理重心向基层下移，社区基层党组织建设日益强化。基层民主制度不断健全，村(居)普遍制定了村规民约(居民公约)，广泛实行村(居)务公开和议事协商；村里开起院坝会，村民有事好商量……从中可以看出，我国
- ①加快探索基层行政管理体制的创新
②不断提升基层治理能力现代化水平
③不断完善和优化基层自治组织机构
④构建共建共治共享的社会治理格局
- A.①② B.①③ C.②④ D.③④
17. “江山就是人民、人民就是江山”揭示了人民同江山的辩证统一关系，深刻阐明了“依靠谁”的问题；指明“时代是出卷人，我们是答卷人，人民是阅卷人”，用“答卷人”的科学定位拓展了“我是谁”的答案。由此可见，中国共产党
- ①把群众路线贯彻到治国理政的全部活动之中
②团结一切积极力量，共同执政，为人民执政

- ③坚持人民主体地位，坚持立党为公、执政为民
④把党的领导贯彻到依法治国的全过程和各方面
- A.①③ B.①④ C.②③ D.②④
18. 2023年2月，我国正式发布《全球安全倡议概念文件》，明确回答了“世界需要什么样的安全理念、各国怎样实现共同安全”的时代课题，为推动构建人类命运共同体提供了重要理念和思想引领，得到国际社会积极响应和多国称赞。这表明
- ①和平与发展已经成为世界各国的共识
②中国是守护世界和平与安宁的重要力量
③中国为破解世界安全困境提供中国方案
④维护国家利益是主权国家对外活动的出发点
- A.①③ B.①④ C.②③ D.②④
19. 科技发展给曲艺带来新的艺术表达和渲染方式，曲艺舞台由传统剧场延伸到各大网络平台、自媒体中。人们欣赏曲艺表演的方式，也由坐在观众席拓展到随时随地看手机屏幕。我国曲艺工作者顺势而为，与网络牵手，不断“破圈”“出圈”，获得了意想不到的认可和喜爱。这说明满足人民群众的文化需求应
- ①依托科技，把大众传媒作为文化传播的主要途径
②在立足社会实践的基础上面向世界、博采众长
③使中华民族最基本的文化基因与当代文化相适应
④顺应时代发展，推动文化形式和传播手段的创新
- A.①② B.①③ C.②④ D.③④
20. 习近平总书记指出：“历史深刻表明，爱国主义自古以来就流淌在中华民族血脉之中，去不掉，打不破，灭不了……只要高举爱国主义的伟大旗帜，中国人民和中华民族就能在改造中国、改造世界的拼搏中迸发出排山倒海的历史伟力！”这说明，爱国主义
- ①在不同历史时期有着不同内涵和共同要求
②体现了中华文化源远流长、博大精深的特质
③是动员和凝聚中国人民团结奋斗的一面旗帜
④能展示中华民族的整体风貌和共同价值追求
- A.①② B.①④ C.②③ D.③④
21. 北京冬奥会，让世界看到了中国的浪漫与从容；万里驰援土耳其抗震救灾，让世界看到了中国的胸怀与担当；重庆摩托骑士逆行战山火的“中国式救援”，让世界看到了中国的勇敢与团结……一个真实、立体、全面的中国，就是这样逐渐呈现在世界面前的。这表明
- ①意识是对客观存在的反映与重现 ②意识的产生离不开客观存在
③观念的存在通过实践转化为现实 ④实践发展推动了认识的发展
- A.①② B.①③ C.②④ D.③④
22. 党的二十大报告指出：“经过不懈努力，党找到了自我革命这一跳出治乱兴衰历史周期率的第二个答案，自我净化、自我完善、自我革新、自我提高能力显著增强，管党治党宽松软状况得到根本扭转，风清气正的党

内政治生态不断形成和发展，确保党永远不变质、不变色、不变味。”“自我革命”能够跳出治乱兴衰历史周期率的辩证法依据是


- ①承认矛盾的普遍性是坚持唯物辩证法的前提
- ②办事情要坚持主观与客观具体的历史的统一
- ③矛盾的斗争性、对立性是事物变化发展的源泉
- ④辩证的否定是事物自我否定、自我发展的过程

A.①② B.①④ C.②③ D.③④

23. 下列选项对漫画的理解正确的是

- ①要坚持辩证思维，科学发展旅游产业
- ②要做到求真务实，摆脱教条主义束缚
- ③要善于统筹规划，优化系统内部结构
- ④要避免形式主义，不得拆东墙补西墙

A.①② B.①④
C.②③ D.③④



24. 韩非子认为，为了满足生存发展的需要，人类的本性具有“自利主义”的因素，因此法治应该充分运用“好利恶害”的人性以调整并引导人民的行为。这表明韩非子

- A.提出了完整的法治理论 B.主张遵循人性的法治规范
- C.首次提出性恶论的理论 D.遵循合乎时势的立法原则

25. 虽然汉代三老(古代掌管教化的乡官)没有行政权力，无法掌握实权，没有禄秩，也不是行政吏员，但三老的设立却需要得到政府的承认或任命，同时他们也具有半官方的性质。这说明汉代三老的设立

- A.体现了政府权力向基层渗透 B.确立了完备的教化系统
- C.突破了官僚政治的统治秩序 D.维护了县乡秩序的稳定

26. 王安石变法废除了“铸钱禁铜”的禁令，且“铜、铅、锡官自出卖，许通商贩”。新敕发布之后，即于河北榷场同契丹进行铜、锡等的贸易。这一举措

- A.调整了重农抑商的政策 B.放松了政府对铸币的控制
- C.顺应了商品经济的需要 D.旨在缓和宋与契丹的关系

27. 内蒙古绥远地区的土默特蒙古至清代中期就先后修建了致祭先农、关帝、孔子、文昌、观音等各类庙观。归绥哈拉不达乡，本是一个纯蒙古族生活区，该乡有佛殿、龙王庙各一，百姓每年于龙王庙领牲三次。这一现象反映出当时

- A.社会主流思潮发生变动 B.少数民族的文化水平不断提高
- C.政府对边疆的控制加强 D.边疆与内地民族交流交融增强

28. 下表所示为 1904~1909 年华茶在美国的销量及其占美国进口茶叶的比重。据表可知，这一时期

时间	1904 年	1905 年	1906 年	1907 年	1908 年	1909 年
总量	719931 担	704788 担	670 800 担	743850 担	201074 担	783830 担
华茶	309552 担	272237 担	247162 担	248526 担	59116 担	253 814 担

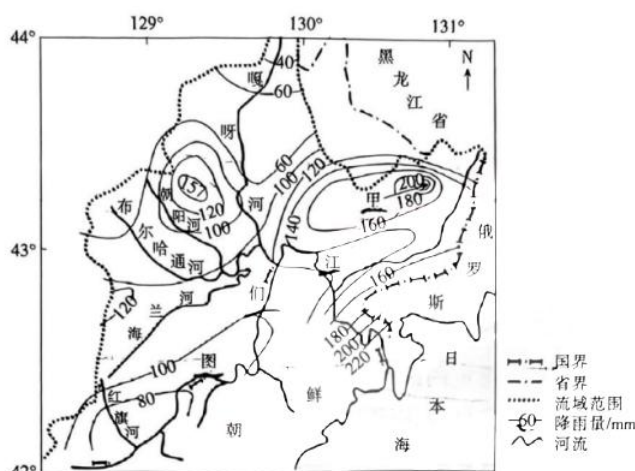
- A.新兴经济体主导了世界贸易规则制定 B.发达国家与发展中国家矛盾冲突加大
C.经济全球化进程受到发达国家的阻碍 D.新兴经济体的国际参与能力有所提升

第II卷(非选择题 共160分)

本卷包括必考题和选考题两部分。第36题~第42题为必考题，每个试题考生都必须作答。第43题~第47题为选考题，考生根据要求作答。

36. 阅读图文材料，完成下列要求。(24分)

图们江发源于长白山主峰将军峰东麓，流经中国、朝鲜、俄罗斯三国，在俄朝边界处注入日本海，整个流域中，山地面积占80%。某年8月，图们江流域三次遭遇暴雨洪水袭击，其中8月28~30日，流域内经历了一次强降水过程，期间风向多变，风速较大，多地继而暴发山洪，水位涨率、洪峰流量和总洪量均较大，形成了第三次



洪水，造成了严重的洪涝灾害。下图示意该年8月28~30日降水过程的降水量空间分布。

- (1)简述图们江的水文特征。(8分)
- (2)推断引起本次强降水的天气系统类型，并说明理由。(6分)
- (3)甲地为8月28~30日的降水量高值中心，试分析其形成条件。(4分)
- (4)分析8月28~30日图们江流域暴雨洪涝灾害较严重的自然原因。(6分)

37. 阅读图文材料，完成下列要求。(22分)

我国黑龙江省与俄罗斯远东联邦管区的5个州区接壤，边境线长2981 km。20世纪90年代，黑龙江中俄边境口岸贸易经历了兴衰变化。进入21世纪，原有的边境贸易无法满足中俄经贸合作的需求，我国东部沿海地区企业与黑龙江企业合作，在俄罗斯远东地区建立境外经贸区。2013年之后，在“一带一路”倡议的推动下，中俄形成以跨境交通走廊为导向的跨境经济合作模式，大大促进了边境地区资源的集聚和扩散，为边境地区经济的新一轮发展注入了强劲动力。下图示意2013年以后我国黑龙江省与俄罗斯远东地区跨境经济合作空间组织模式。



- (1)分析绥芬河发展对外贸易的优势条件。(6分)
- (2)从我国的角度说明中俄经济合作由边境贸易影响境外经贸园区转型的原因。(6分)
- (3)简述我国东部沿海地区企业与黑龙江企业合作投资境外经贸园区对双方的益处。(4分)
- (4)分析跨境交通走廊对中俄产业合作发展的积极影响。(6分)

38. 阅读材料，完成下列要求。(14分)

改革开放以来，我国成为 140 多个国家和地区的主要贸易伙伴，货物贸易总额连续六年居全球第一，利用外资连续五年居全球第二，对外投资居世界前列；持续办好中国国际进口博览会、中国进出口商品交易会、中国国际服务贸易交易会、中国国际消费品博览会等，推动进口规模扩大、结构优化、来源多元化；出台实施外商投资法，全国版外资准入负面清单缩减至 31 项，构建面向全球的高标准自由贸易区网络 1，加快推进自由贸易试验区、海南自由贸易港建设，共建“一带一路”成为深受国际公共产品和国际合作平台；发挥东部沿海地区开放先导示范效应，加快培育更多内陆开放高地，提高中西部和东北地区开放水平；依托国内超大规模市场优势，以国内大循环吸引全球资源要素，增强国内国际两个市场、两种资源联动效应，提升贸易投资合作质量和水平

2022 年 12 月，中共中央、国务院印发《扩大内需战略规划纲要(2022~2035 年)》，强调深化改革开放，增强内需发展动力。

结合材料，运用经济生活知识，分析我国扩大开放对增强内需发展动力的积极作用。

39. 阅读材料，完成下列要求。(12分)

2023 年国务院《政府工作报告》强调，加快数字政府建设。

某地以数字政府为牵引，依托数字城管指挥中心，让城市管理更精细。一个线下、一个线上，数字城管和执法人员紧密配合。每天，视频监控员登录“数字城管监控平台”，打开摄像头，进行线上“巡逻”、喊话及发单。内容由劝导、警告到提示执法，层层深入，喊话及后续处理都在电脑上记录清楚。数字城管和执法人员紧密配合，执法人员在线接单后直奔现场执法，规避了人工巡逻的盲点。数字城管指挥中心根据任务类别将任务单派发至相关部门，通过视频记录协调各部门行动，减少多头重复执法，使问题解决更顺畅。同时，城管部门还根据监控数据及流动商贩的需求，在城区划出若干个“临时小市场”，开辟“临时摊位”，方便商贩和居民。

结合材料，运用政治生活知识，说明数字城管对推进政府履职尽责的意义。

40. 阅读材料，完成下列要求。(26分)

习近平总书记指出：“当代中国青年生逢其时，施展才干的舞台无比广阔，实现梦想的前景无比光明。”广大青年积极响应号召，贡献青春力量，推进中国式现代化。

水族姑娘小韦大学毕业后回到家乡，成为一名乡镇干部。在被组织选派到深度贫困村任驻村干部的四年里，田间地头总有她的身影。她挨家挨户调查走访，把群众冷暖放在心上，扎根基层沃土，淬炼无悔青春。

广东省青联委员小曾于 2016 年返乡创业建成现代优质肉牛省级产业基地。从肉牛养殖起步，他探索出一条肉牛—蚯蚓—有机肥—有机蔬菜—预制菜的农业产业链模式。目前，其公司全产业链年产值达五千多万元，累计带动周边农户 1000 多人增收。

为打破我国大硅片核心技术受制于人的局面，中国科学院青年科研人员俞博士带领团队夜以继日忙碌在科研一线，经过两年多的艰苦攻关，实现了国产商用 300 毫米大硅片零的突破，一举打破过去我国该型号硅片依赖进口的局面，并使该型号硅片实现大规模量产，为我国集成电路材料的自主化打下坚实基础。

从怀抱“技能改变命运”的学生，到世界大赛的冠军，再到带出新世界冠军的技工教育工作者，“95”后青年小杨 2023 年又被选为全国人大代表。他认为，“有了这个平台，我有更多机会为技能人才发声，为培育技能人才作出更大贡献”。

(1)结合材料，运用价值观的知识，说明四位青年能够为推进中国式现代化贡献青春力量的原因。(12 分)

(2)结合材料，运用文化生活知识，说明四位青年的先进事迹对新时代青年担当青春使命、勇做时代新人的启示。(10 分)

(3)某校开展以“扛起中国式现代化的青年担当”为主题的演讲活动，请你拟定两条宣传标语。(4 分)

要求：朗朗上口，每条 20 个字以内。

41. 阅读材料，完成下列要求。(25 分)

材料一

中国古代史学家总是将天与人作为一个整体来思考，体现出整体的思维特征，如《史记》中关于天象、自然及其对人事影响的记述等均属于此类。中国古代史学研究，普遍注重历史的贯通意识，肯定历史的变易过程是一种盛衰之变，如《汉书》中的本纪、列传、志、表四种体例都具有贯通意识，其记述内容都是贯通古今的。典制体史书如杜佑的《通典》等，还植根于高度的社会历史和民族国家的责任感与使命感，通过书写历史的兴亡成败，体现经世致用的史学价值特点。在中国古代史学发展过程中，史学家们不仅致力于追求史实之真，还将儒家圣人的是非作为史学道义的标准，如《左传》记事详尽，书法不讳，《汉书》以“旁贯《五经》”为撰述原则。

——摘编自汪高鑫《中国古代史学的思维特征》

材料二

中国近代史学产生于社会激变动荡的时期，是在晚清王朝腐败无能、国人饱受西方资本主义侵略的过程中逐渐形成的。晚清时期，梁启超以署名“新史氏”在《新民丛报》上疾呼：“史界革命不起，则吾国遂不可救”，在此时期，他还撰写了《历史上中国民族之观察》等文，集中反映了建立中国“新史学”的迫切愿望。严复早在 19 世纪末就向国人宣告近代学术的本质在于“黜伪而崇真”，王国维也认为“我国学术尚未达自觉地位”，不擅长“抽象”、不精于“分析”，主张追求中国史学的科学化与独立化。

——摘编自张越《论中国近代史学的开端与转变》

材料三

新中国成立以来，中国史学出现了最深刻的变化，全国掀起了学习马克思主义理论的高潮，大力宣传唯物史观，1949 年 10 月创刊的《学习》杂志就是推动这个学习的重要刊物。从 20 世纪 50 年代初开始，我国大量翻译、出版了马克思、恩格斯、列宁、斯大林和毛泽东等著作以指导史学研究，其中包括《马克思恩格斯全集》《列宁全集》《斯大林全集》《毛泽东选集》以及其他有关的选集和单行本。20 世纪 80 年代末以来，史学理论研究有了进一步发展，何兆武、陈启能主编的《当代西方史学理论》，对“什么是史学理论”作了明确说明，他们指出“我们对历史的理解和对历史学的理解都有其理论的方面，前者是历史理论，后者为史学理论”。

——摘编自瞿林东《新中国史学五十年的理论建设》

- (1)根据材料一并结合所学知识，概括中国古代史学的思维特征。(6分)
- (2)根据材料一、二并结合所学知识，指出中国近代“新史学”研究的新变化及其原因。(10分)
- (3)根据材料三，指出新中国史学出现了深刻变化的表现，并结合上述材料谈谈你对中国史学发展的看法。(9分)

分)

46. [历史——选修3:20世纪的战争与和平](15分)

材料

19世纪，英法希望维护两国在奥斯曼帝国政治、经济和战略方面的利益，以防止俄国在奥斯曼帝国的进一步扩张。1900年到1910年，德国与奥斯曼帝国的贸易额增长了166%，而同时期英法两国与奥斯曼帝国的贸易额仅增加了17%和25%。1914年9月，英国正式提出了在美索不达米亚展开军事行动的方案，同年11月，英国向奥斯曼帝国宣战，同时，英国远征军首席政治官珀西考克斯爵士在巴士拉(今属伊拉克)建立了民政当局以进行行政管控。1916年，陆军部强烈要求英国尽可能地利用美索不达米亚的当地资源，此后，最大限度地开发当地资源成为英国对美索不达米亚被占领土的重点政策。一战结束后，英国虽企图加强对美索不达米亚的控制，却激起了1920年5月阿拉伯民族主义者在巴格达举行的大规模反英集会。

——摘编自李其聪《第一次世界大战中美索不达米亚战役研究》

- (1)根据材料并结合所学知识，概括美索不达米亚战役爆发的原因。(6分)
- (2)根据材料并结合所学知识，简析美索不达米亚战役爆发后，英国为控制美索不达米亚采取措施的影响。(9分)

分)

47. [历史——选修4:中外历史人物评说](15分)

材料

苏颂(1020—1101)，字子容，出生于福建泉州，北宋博物学家、天文学家、政治家。苏颂家族数代任显职，其本人勤学十余载，最终官至宰相。1057年，苏颂开始参与编写《嘉祐补注神农本草》，该书对之前的本草典籍进行了增补。1061年，其编修的中国第一部刻版印刷的本草药物图谱《本草图经》告成。1086年，苏颂与吏部官员韩公廉开始设计水运仪象台，先制模型，后造实物，于1092年在汴京落成。为详细介绍水运仪象台的设计和使用方法，他编纂了《新仪象法要》一书，还和他人合作设计制造了假天仪。苏颂尊重科学，实事求是，对一时研究不透的问题，宁可存疑，决不盲目附会。1101年，苏颂与世长辞。

——摘编自史晓雷《科技宰相：苏颂》等

- (1)根据材料，概括苏颂在科技方面的重要贡献。(6分)
- (2)根据材料并结合所学知识，简析苏颂在科技方面取得成就的原因。(9分)

关于我们

自主选拔在线是致力于提供新高考生涯规划、强基计划、综合评价、三位一体、学科竞赛等政策资讯的升学服务平台。总部坐落于北京，旗下拥有网站（[网址：www.zizzs.com](http://www.zizzs.com)）和微信公众平台等媒体矩阵，用户群体涵盖全国 90% 以上的重点中学师生及家长，在全国新高考、自主选拔领域首屈一指。

如需第一时间获取相关资讯及备考指南，请关注**自主选拔在线**官方微信信号：**zizzsw**。



 微信搜一搜

 自主选拔在线

