

绝密★启用前

24 届高三年级 TOP 二十名校调研考试四

历史

全卷满分 100 分,考试时间 90 分钟

注意事项:

1. 答卷前,考生务必将自己的姓名,准考证号填写在答题卡上,并将条形码粘贴在答题卡上的指定位置。
2. 回答选择题时,选出每小题答案后,用铅笔把答题卡上对应题目的答案标号涂黑。如需改动,用橡皮擦干净后,再选涂其他答案标号。回答非选择题时,将答案写在答题卡上。写在本试卷上无效。
3. 考试结束后,将本试卷和答题卡一并收回。

一、选择题(本大题共 25 小题,每小题 2 分,共计 50 分。在每小题列出的四个选项中,只有一项是最符合题目要求的。)

1. 孔子的仁、义是孔子对《尚书》中“德”的扩展和深化,中庸是孔子对《尚书》中“度”“中”的综合提升,“孝悌”“忠信”是孔子对《尚书》伦理思想的理论概括,古圣先贤是孔子君子人格理论的历史依据。据此可知,孔子的这些理论
 - A. 注重对社会秩序稳定的维护
 - B. 适应了诸侯争霸需要
 - C. 促使伦理纲常成为社会主流
 - D. 具有浓厚的民本思想
2. 汉文帝即位初年,凡是在朝廷任职以及得到文帝特许的列侯,不在“就国”之列。汉武帝以后,列侯例遣之国,但为皇帝倚重者常受赐“特进”“奉朝请”等加衔,得到此类加衔的列侯,留居京师供皇帝随时遣用。这些措施
 - A. 打击了地方豪强气焰
 - B. 激发了中央与地方官员矛盾
 - C. 瓦解了军功政治特权
 - D. 为巩固政权创造了有利条件
3. 北魏末期,庄帝仍关心图籍“多致零落”,下诏要求“总集帙目”“编比次第”。到东、西魏分立时,东魏孝静帝“命当世通人正定文籍”。西魏“选置令史,抄集经籍”。这些举措
 - A. 体现出中原文化的控制性加强
 - B. 有助于推动民族政权的封建化进程
 - C. 表明统治者重视文化交流互鉴
 - D. 说明统一多民族国家得到迅速发展
4. 唐代前期,政府在租调制中正式增加了作为丁役、匠役代役金的税目“庸”。唐朝德宗建中元年时,“天下诸州府,应须夫役、车牛、脚价之类,并以两税钱自备,不得别有科配,仍并以两税元敕处分,永为恒式。”唐朝的这一变化说明
 - A. 政府重农抑商政策趋向强化
 - B. 财政危机意识不断增强
 - C. 国家对农民的人身控制减弱
 - D. 土地兼并问题得到抑制
5. 宋神宗元丰改制以前,外制官知制诰以“轮日分草”的方式分工。元丰七年(1084 年)规定书行与草制均分房负责,而到元祐元年(1086 年),又考虑到草制词头大部分由吏房发出,规定中书舍人分房书行,在草制中恢复“轮日分草”之制。宋朝的这些改革
 - A. 促使基层官僚队伍膨胀
 - B. 利于促进行政效率提高
 - C. 彰显了权力制衡的特征
 - D. 体现了崇文抑武的观念

0. 清中后期,流传于江南地区的商书也逐渐流传至内陆,如前揭《辨银谱》等书籍,在清中期以后的北方商人中广泛传播,传抄与复刻的版本也较多,其中典型如山西商人参考该书并根据自身经验创作的《周行银色歌》等,成为晋商学徒成商的教材。这些现象产生的原因是
- A. 全国性市场的发展
B. 地域性商人开始兴起
C. 雕版印刷术的出现
D. 社会主流思想的变化
7. 19世纪中后期,上海、天津、汉口等早期对外通商的商埠因跨区域贸易发展、汇兑结算的需要,逐步形成了具有地方货币特色的虚银两。从货币信用与运行机制看,“虚银两并无实物存在,仅是作为宝银的价值符号和折算标准而存在,代表白银发挥货币职能,用于记账单位和清算标准”。这反映出
- A. 货币逐渐走向白银化
B. 近代金融机制的确立
C. 地方财政体系的崩溃
D. 通商口岸的辐射作用
8. 1878年,总理衙门向各驻外公使发出通告,此前所言“恩施”之类,现在改称为“优待之益”;关于实施“一体均沾”的缘故,以往出于“一视同仁”的“怀柔”普适原则,现在则归之为“中国难于区别某人系某国之人”的客观原因。这体现出
- A. 国人反侵略民族意识的增强
B. 中国外交的近代化转型
C. 近代条约外交体系走向成熟
D. 政府固守旧有朝贡思维
9. 清末一直存在海防与塞防之争。下表是海防代表人物李鸿章和塞防代表人物左宗棠的主要言论。据此可知,二者的争论反映出

李鸿章	……此议论果定,则已经出塞及尚未出塞各军,似须略加核减,可停则停,其停撤之餉,即匀作海防之餉。否则,只此财力,既备东南万里海疆,又备西北万里之餉运,有不困穷颠蹶者哉
左宗棠	伊古以来,中国边患,西北恒剧于东南。盖东南以大海为界,形格势禁,尚易为功;西北则广漠无垠,专恃兵力为强弱;兵力固启戎心,兵多又耗国用。以言防,无天险可限戎马之足

- A. 洋务建设重心的转移
B. 统治阶级内部矛盾日益激化
C. 政府财政状况的窘迫
D. 知识分子国家观念出现冲突
10. 民国初年,实施县知事兼理司法制度,承审员作为辅助县知事断狱的准司法官,其选任的制度设计与实际运作呈现较大落差。在选任权方面,县知事牢固控制承审员的推荐和任用等权,导致承审员对县知事具有强烈的依附性。这可用于说明该时期
- A. 地方政治呈现新旧并存色彩
B. 社会变革引起社会阶层变动
C. 资产阶级政党缺乏群众基础
D. 官员选拔影响民主政治发展
11. 下表是清末矿业法规统计表(部分)。这些法规的颁布

矿业法	发起人	时间	特点
《筹办矿务章程》	外务部	1902年	法规的最大特色是路矿分离,开始对矿务进行单独立法,因此,它也是我国采矿业的第一部专门性法规
《矿政调查局章程》	商部	1905年	规范采矿业的混乱局面,对外人非法开采矿行为进行管理和限制
《大清矿务章程》	农工商部	1910年	废除了对民间开矿的种种限制

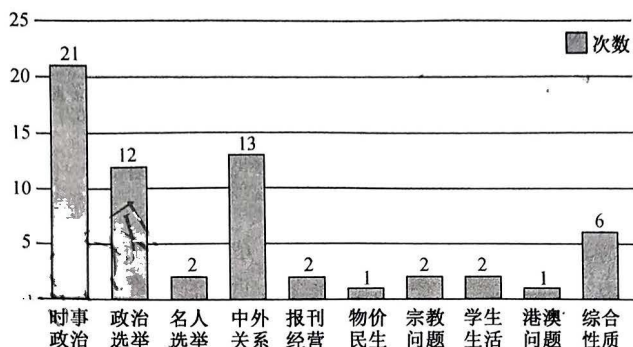
- A. 带有浓厚的半殖民地色彩
B. 有效抵制了外国企业入侵
C. 旨在推动民族工业的发展
D. 意在缓解清政府统治危机
12. 1911年,杭州绅商两界均努力加紧筹办团防。1911年10月至11月,双方经历了欲合终离、内外纷争不断的过程。由于各自的财力和人力均告匮乏,急于恢复城市秩序的绅商两界谋求合并组织,“不分民团商团”。这从侧面反映出
- A. 民众逐渐走向觉醒
B. “商绅合作”推动浙江光复
C. 革命形势发展较快
D. 革命中投机主义较为盛行

13. 1913年初,国会召开在即,宪法问题成为舆论焦点,国民、统一、民主和共和四党组织的“四党宪法讨论会”曾多次讨论宪法问题,争论颇多,独于政制采内阁制,“众无甚反对”。在内阁制的安排上,国民、进步两党有“国会政府主义”与“调和立法行政两权”的分别,但都主张责任内阁制,也都有组织政党内阁的企图。这表明
- A. 政治转型艰难曲折
B. 宪政与独裁成为时代主题
C. 军阀干政现象严重
D. 美式民主模式已占据上风
14. 右图为1913年7月出版的《新闻报》刊载的漫画。漫画中展示了被袁世凯玩于掌上的几个小人,“免官”的是江西都督李烈钧,“宣抚使”是广东都督胡汉民,“筹边使”是安徽都督柏文蔚。该漫画体现出
- A. 对袁窃取革命成果的嘲讽
B. 国民党政治建设面临挑战
C. 资产阶级结束了封建帝制
D. 民众支持护国战争的信念
15. 1919年,胡适撰写《新思潮的意义》一文,他在文中所标举的十类问题,即孔教、文学改革、国语统一、女子解放、教育改良,全是五四前的话题,而对于五四后兴起的平民、劳工、劳动、阶级等问题只字未提。这说明,当时胡适
- A. 意在塑造自由平等的国民意识
B. 倡导文学革命进行思想启蒙
C. 尚未认识到劳工阶层的重要性
D. 对东西方文化存在绝对倾向
16. 1923年,陈独秀发表《中国农民问题》一文,比较细致地分析了中国农民的现实状况。1924年,邓中夏指出中国农民的觉悟已经有所提升,可以组织农会来反抗剥削阶级的压迫了。以毛泽东为代表的共产党员在农村开办夜校,运用通俗易懂的语言教农民识字、珠算,向农民灌输马克思主义思想。这反映了,中共
- A. 结合革命实践需要传播思想
B. 践行了党的最低纲领要求
C. 转变“以俄为师”的道路选择
D. 积极推动北伐运动的展开
17. 1926年,中国共产党第四届扩大会议通过的《中国共产党与国民党关系问题议决案》中,提到要“与资产阶级争国民运动的指导”,以“保证无产阶级政党争取国民革命的领导权”。1927年召开了第五次全国代表大会,“领导权”成为中国共产党政治决议的核心关键词。这些认识
- A. 拓展了中国共产党的最低纲领的内涵
B. 深化了共产国际主导地位
C. 为党的工作重心转移奠定了一定基础
D. 解决了“左”倾错误的问题
18. 下图为湖南省档案馆保存的一份仿真件。档案内容为:“借据今借到胡四德伯伯稻谷壹佰零伍担,生猪叁头,重量伍佰零叁斤,鸡壹拾贰只,重量肆拾贰斤。此据 中国工农红军第三军团 具借人叶祖令(印章)公原(元)一九三四年冬。”这可用于说明



- A. 中国共产党深得民众的拥护
B. 革命根据地经济建设效果突出
C. 抗日民族统一战线得到巩固
D. 民族战争战略转移的条件成熟

下图是研究者罗列的近代中国较有影响的 62 次民调,将这些民调略作分类统计如下。据此可知



- A. 西方政治理念得到普遍认可
B. 政治动荡成为焦点
C. 社会阶级矛盾得到基本缓和
D. 民意的趋同性增强
20. 1936 年 12 月,美国《纽约时报》头版刊发了驻华记者阿班的首篇报道,到 1936 年 12 月 28 日,《纽约时报》连续在头版发表 15 篇有关西安事变的新闻,对于事变的起因,阿班的报道指出张学良此举是为了“逼蒋抗日”。随后还公布了张学良提出的“八项主张”。这些报道
- A. 真实地还原了近代历史的现场
B. 对日本侵华发出了预警
C. 揭示了美国企图介入远东战场
D. 肯定了西安事变的作用
21. 1925 年,国民党打出“革命外交”旗帜,1927 年收回汉口和九江英租界。1931 年,随着国内主要任务转为抗日救亡,中日两国修约谈判直接中断,与英美等国的修约交涉也陷入停滞。到 1943 年中美、中英签订新约,为基本实现废约目标奠定了一定的基础。这一变迁折射出
- A. 现代国际法意识萌发
B. 国民党实行一党专政的统治
C. 国内国际政局的变动
D. 普通民众的主权意识始觉醒
22. 1937 年 10 月,毛泽东重申:“我们同意以孙中山先生的革命的三民主义、三大政策及其遗嘱,作为各党派各阶层统一战线的共同纲领”,次年 3 月,毛泽东在讲话时指出:“今天中国的马克思主义者就是三民主义者”。这些言论
- A. 成为革命战线的基础
B. 利于积聚民族救亡力量
C. 致力于完善民主理论
D. 成为国共合作首要基础
23. 《晋察冀画报》是解放区政府在 1942 年创办的第一份以刊登摄影图片为主要内容的大型摄影刊物,下表是画报中关于战争的摄影报道。这些报道

期刊	报道主题	报道图片数量
第一期	坚持华北敌后抗战保卫晋察冀边区的八路军一千五百万人民在战斗中生活在战斗中锻炼	
第二期	摧毁敌伪巢穴,加紧反蚕食斗争 血战在大平原上英勇顽强的冀中军民	528
第三期	突破伪满国防线 转战古长城内外 冀东去子弟兵反蚕食斗争战绩之一部	40
第四期	晋察冀八路军的战斗与胜利 狼牙山血火深仇	23
第五期	站在斗争最前线 边区兵民配合主力作战 控诉! 复仇!	38
第六期	主动配合正面作战——晋察冀八路军克复城镇摧毁堡垒	50

- A. 意在利用舆论支持开展阶级斗争
B. 客观上利于促进民族战争的胜利
C. 凸显根据地重视革命与生产工作
D. 说明中日逐渐迎来战争相持阶段

- (1)根据材料一并结合所学知识,指出两宋时期“海上丝路”勃兴的主要原因。(6分)
- (2)根据材料二并结合所学知识,概括明清时期民间“海上丝路”发展的特征。(4分)
- (3)根据材料三并结合所学知识,说明海上丝绸之路近代演变的历史意义。(4分)

27. 阅读材料,完成下列要求。(12分)

材料一

与赴欧美留学相比,赴日本留学很大程度上是学习经日本消化的西方政治法律制度,这种带有学习东洋日本“政学”的强烈愿望,对中国近代社会产生的影响更多地集中在政治法律方面。留日学生,由于国内基础教育较差,经济条件有限,进入高等学校较少,希望短期内学到日本的法律政治,所以速成教育尤为普遍,在当时留日学生中“速成科占67%,普通科30%,进入大学者仅1%”。20世纪初,中国青年赴日本留学不断走向高潮的同时,清政府开始了清末新政,社会变革前后未有,以法政、陆军、师范速成教育为主体的留日学生大量归国,极大地推动和影响了国内的各项改革。另一方面,有学者指出:“清末革命运动的成功……留日学生的贡献尤大。因为他们提供了理想的政治思想,发展组织及传播主张,使海外的涓滴汇成国内的洪流。”

——摘编自姚琦《中国近代赴欧美与赴日本留学教育比较分析》

材料二

辛亥革命后,清朝的遗老遗少仍把持着一部分地方政权,社会动荡不安;同时科举制度废止后,国内开办的新学校为数很少,很多贫困青年找不到继续求学的机会。在这种情况下,蔡元培、李石曾、吴玉章及法国人欧乐等,从1912年到1916年成立了英俭学会、勤工俭学会、华法教育会等机构,提出“勤于工作、俭于求学、以进劳动者之智识为宗旨”,帮助青年出国学习新知。1918年3月到1920年底,参加赴法留学青年达1600人。并且教育部多次颁布命令,拟定留学章程和规约,积极筹措留学教育经费。1917年,留学经费扩充至28.5万人,官费生总数可达1131人。

摘编自郎群秀《论中国近代留学教育》

- (1)根据材料一并结合所学知识,概括近代中国赴日本留学教育的特点。(6分)
- (2)根据材料二并结合所学知识,指出20世纪初期留学教育兴起的背景,并指出这一时期留学教育的新变化。(6分)

28. 阅读材料,完成下列要求。(12分)

材料

自1921年中国共产党在上海创建,到1933年中共中央撤出上海,上海是1949年以前中共中央机关驻扎最久的城市。1920年初,《星期评论》编辑所和总发行所迁至法租界白尔路(今太仓路西段)三益里17号的李书城、李汉俊寓所。不久之后,陈道望来到上海,寄住在《民国日报》副刊《觉悟》主编邵力子位于三益路5号的家中。1920年6月,陈独秀、俞秀松、陈公培等在老渔阳里2号商议发起共产党,之后在该地成立了中国共产党早期组织,直到1922年底中共中央迁往北京前,老渔阳里2号依然是中共重要的活动地。中共三大后,中央局迁回上海,租借了公兴路与香山路(今临山路)交接处三曾里的一户石库门建筑作为中央局机关办公地。三曾里所在的闸北地区,紧邻公共租界北区。在20世纪最初的20年,闸北经历了高速城市化阶段,且距离北火车站咫尺之遥,印刷工业集中分布,商务印书馆、上海大学等位于此地,至1927年迁汉前,中共中央宣传部一直在此办公。下面是1927~1933年中共中央核心机关及重要会议地上海分布一览表。

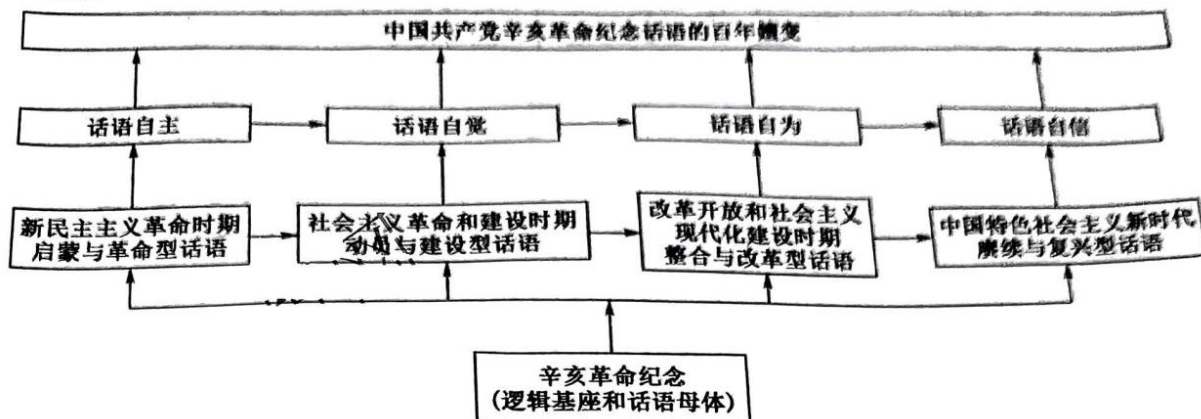
机构名	原地址/今地址	原行政区/今行政区	已知存在年份
中共中央政治局联络点	同孚路柏德里700号/石门一路吴江路东南角	公共租界西区/静安区	1927~1928
中央特科机关	麦特赫司脱路陈家巷91号/泰兴路新闸路西南角	公共租界西区/静安区	1927~1931
中共六大以后党中央政治局机关	云南路477号/云南中路171~173号	公共租界中区/黄浦区	1928~1931
中共中央秘书处机关	青海路善庆功21号/青海路南京西路东南角	公共租界西区/静安区	1928~1933
中共中央组织部机关	北成都路丽云坊54号/静安雕塑公园内	公共租界西区/静安区	1928~1931
第五次全国劳动大会会址	爱文义路690~696号/北京西路石门二路西北角	公共租界西区/静安区	1929
中共中央机关办公地	山西南路344号/山西南路350号一带	公共租界中区/黄浦区	1929~1930
“苏淮会”秘密机关	愚园路庆云里31号/愚园路愚园支路口南侧	公共租界越界筑路区域/静安区	1930~1931
中共六届四中全会会址暨中央特科机关所在地	武定路修德坊6号/武定路930弄14号	公共租界西区/静安区	1931
中共中央常委会议机关	云上村1号/奉贤路290弄1号	公共租界西区/静安区	1931~1932

——摘编自姚霏《中共早期组织/中央机关在沪的空间分布——以上海红色旧址信息数据库为基础的研究》

- (1)观察表格并联系所学知识,指出中共早期组织或中央机关在沪的空间分布的变迁历程。(8分)
- (2)通过材料并结合所学知识,说明上海在中共建设史上具有重要地位的主要原因。(4分)

29. 阅读材料,完成下列要求。(12分)

材料

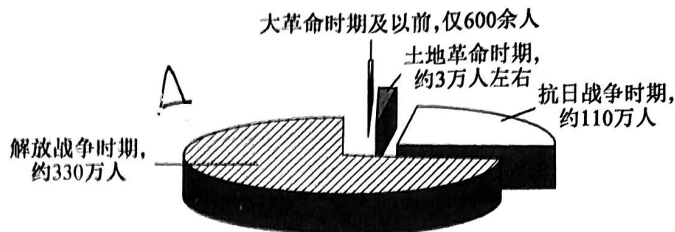


——摘编自董在全《中国共产党辛亥革命纪念话语的百年嬗变》

根据材料并结合所学知识,围绕辛亥革命纪念话语的时代嬗变,自行拟定论题,并对所拟论题进行简要阐释。(12分)(要求:论题明确,史论结合,表述成文,逻辑清晰。)



24. 下图是 1924~1949 年中国共产党党员的变化情况(单位:万人)的主要原因



- A. 党的革命策略随形势调整
B. 革命工作重心转向农村
C. 党的国际影响力不断提升
D. 近代社会阶级差距缩小
25. 1947 年 12 月,豫皖苏区着手创办豫皖苏建国学院,目的主要是吸收知识青年和训练培养干部。在江汉区,1948 年初任弼时的报告发表后,该区各级党委即据此要求注意争取知识分子到革命队伍里来,以适应形势之需。这些措施
- A. 壮大了联合政府的阶级基础
B. 为战略决战奠定物质基础
C. 贯彻了新民主主义经济政策
D. 积极推动革命新局面到来

二、非选择题(本大题包括 4 小题,第 26 题 14 分,第 27 题 12 分,第 28 题 12 分,第 29 题 12 分,共 50 分。)

26. 阅读材料,完成下列要求。(14 分)

材料一

自中唐以降,中国开始由内陆型国家向海陆型国家转变,广州、泉州等大型海港相继兴起,东南沿海地区以发达的农业、手工业和商品经济为后盾,开始表现出向海洋发展的倾向。在迅猛发展的海外贸易的刺激下,东南地区以生产交换价值为己任的商品经济日趋繁盛,分工和专业化生产为基础的市场机制在经济生活中发挥更大的作用,于是原先“头枕三面向西北”的立国态势,一变而为“头枕东南、面向海洋”。

——摘编自葛金芳《两宋经济结构变迁与海上丝路勃兴》

材料二

明清时期,据《大明会典》载:“各处夷人朝贡领赏之后,许开会同馆开市三日或五日,朝鲜、琉球不拘期限。”清代沿袭明朝政策,将四译馆并入会同馆,改称会同四译馆。对开洋海运米粮至内地者,“带米一万石以上者,着免其船费税银十分之五”。不仅在税收上给予了优惠措施,还对米粮贸易进行了调控。雍正六年,清廷设立了“商总制度”。据各商保鞫实老练之人为总商,每人各具各洋商十家连环互结,分交省府存案。明代对走私贸易多“谕旨”等形式下达,并在政策层面加以控制,清代则在此基础上又引入了法律的机制。

——摘编自李立民《明清时期的民间“海上丝路”》

材料三

在不平等条约的束缚下,中国近代的出口贸易曾遭遇比较大的困境,但以广大华侨群体为对象的“外部经济”仍在持续发挥作用。在福建,自 19 世纪 80 至 90 年代起,在外国资本控制及国内繁重茶税的影响下,福建茶叶出口开始衰落,同时印度、锡兰茶叶开始兴起,以欧美市场为主的外销闽茶遭受严重冲击,大量茶庄倒闭歇业,但以乌龙茶为主的“侨销茶”的存在,使厦门茶业得以继续延续,厦门也成为近代福建“侨销茶”的主要出口地。与此同时来自南洋各地、数量庞大的华侨汇款的存在,不仅弥补了这种逆差,还对近代中国国际收支的平衡起到了重要作用。自 19 世纪中叶以来,随着中国海外移民人数的急剧增加,历史上形成的环中国海华商跨国网络已由一个单一的贸易网络演变为一个集贸易、移民、金融、企业经营、商人组织等多种跨国网络于一体的复合网络。

——摘编自水海刚《中国古代海上丝绸之路的近代演变——以环中国海地区为视域》

关于我们

自主选拔在线是致力于提供新高考生涯规划、强基计划、综合评价、三位一体、学科竞赛等政策资讯的升学服务平台。总部坐落于北京，旗下拥有网站（[网址：www.zizzs.com](http://www.zizzs.com)）和微信公众平台等媒体矩阵，用户群体涵盖全国 90% 以上的重点中学师生及家长，在全国新高考、自主选拔领域首屈一指。

如需第一时间获取相关资讯及备考指南，请关注**自主选拔在线**官方微信信号：**zizzsw**。

