

大庆实验中学实验一部 2020 级高（三）下学期

第一次得分训练 文综

一、选择题（本大题共 35 小题，每小题 4 分，共 140 分）

石墨是高新技术发展必不可少的矿产资源，新能源、新材料、新技术等战略新兴领域对石墨资源需求持续增长，是我国 24 个国家战略性矿产资源之一。石墨烯是由石墨加工而成的新型纳米材料，具有高导电性、高强度和超轻薄等特性。经过多年发展，我国石墨烯产业已初步形成了三大产业集群。下图示意我国石墨矿、石墨烯产业基地及集群分布。据此完成 1~3 题。



1. 石墨资源被列入国家战略性矿产目录主要是因为其

- A. 性能特殊 B. 资源稀缺 C. 开采不易 D. 分布不均

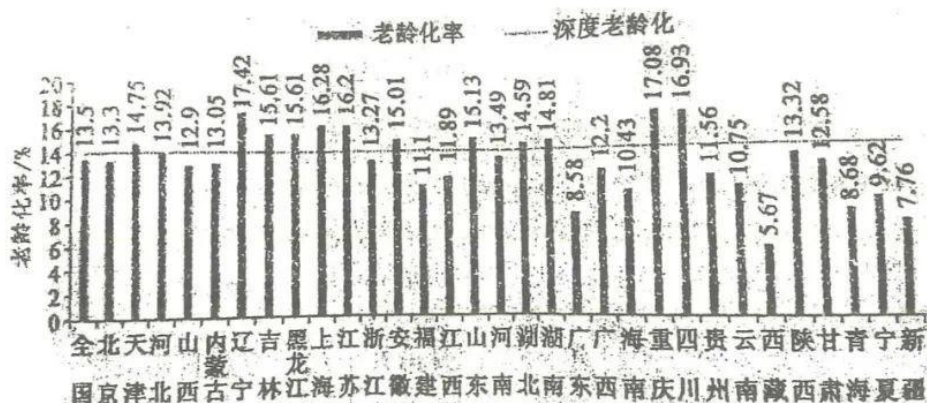
2. 与石墨烯西南产业集群相比，北部产业集群

- ①原料较丰富 ②研究机构较领先 ③动力较充足 ④消费市场较广阔
- A. ①② B. ②③ C. ①④ D. ③④

3. 2022 年 11 月 7 日，国内唯一的国家级石墨烯创新中心落户浙江省宁波市。该中心选择落户宁波市的主要原因可能是当地

- A. 交通运输较便利 B. 科学技术水平较高 C. 市场需求较旺盛 D. 原有产业链较完备

人口老龄化是我国现代社会的主要人口问题之一。下图示意我国第七次人口普查各省（市、区）人口老龄化数据。据此完成 4~6 题。



4.第七次人口普查时,我国唯一未进入人口老龄化社会的省(市、区)是

- A.辽宁 B.广东 C.西藏 D.新疆

5.第七次人口普查数据显示上海已进入深度老龄化,可能是因为其

- A.产业结构调整,外来务工人口减少 B.经济发展缓慢,人口吸引力弱
C.人口素质偏低,家庭生育意愿较低 D.环境宜居养老,老年人口迁入

6.四川是我国深度老龄化城市最多的省份,达17个。为减缓该现象,四川省应

- A.完善居民养老保障体系 B.积极有序承接制造业转移
C.降低家庭教育开支负担 D.推进省内教育资源的公平

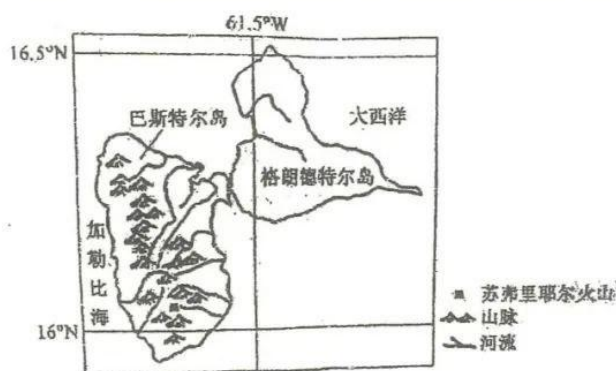
格朗德特尔岛和巴斯特尔岛是瓜德罗普的主要岛屿,位于加勒比海小安的列斯群岛中部。格朗德特尔岛上地势低平,石灰岩广布;巴斯特尔岛地势起伏较大,岛上的苏弗里耶尔火山海拔1487米,为小安的列斯群岛的最高峰,是一座活火山。下图示意格朗德特尔岛和巴斯特尔岛地理位置及概况。据此完成7~8题。

7.格朗德特尔岛上的主要自然植被可能是

- A.热带雨林 B.热带荒漠
C.灌木林 D.落叶林

8.与格朗德特尔岛相比,巴斯特尔岛

- A.森林覆盖率较小 B.热量较为充足
C.航空运输较发达 D.河流汛期较长



俄罗斯西伯利亚地区地广人稀，森林广布。2022年春末，西伯利亚地区多地林火频发，且过火面积大。火灾对高纬度地区的不同植被类型和群落、土壤环境等会产生深刻的影响。据此完成9~11题。

9. 导致2022年春末西伯利亚地区林火频发的主要原因是

- ①受副热带高压控制
 - ②山区地形复杂
 - ③枯枝落叶较多，极易燃
 - ④气候极端干旱，风力大
- A. ①② B. ①③ C. ②④ D. ③④

10. 西伯利亚地区原生植被有针叶林、草本类、苔藓，大火后最先恢复的植被种类及原因是

- A. 针叶林，光照增强
- B. 草本类，根系较发达
- D. 针叶林，冠层空隙大
- C. 苔藓类，土壤肥沃

11. 推测森林火灾对当地环境的主要影响是

- A. 释放热量改变区域气候
- B. 烟尘遮光区域逐渐变冷
- C. 草木灰增加了表土肥力
- D. 烟尘融合雨水净化水质

12. 马克思、恩格斯在《共产党宣言》中指出：“雇佣劳动完全是建立在工人的自相竞争之上的。资产阶级无意中造成而又无力抵抗的工业进步，使工人通过结社而达到的革命联合代替了他们由于竞争而造成的分散状态。于是，随着大工业的发展，资产阶级赖以生产和占有产品的基础本身也就从它的脚下被挖掉了。”从中可得出的结论是（ ）

- ①资本家无偿占有工人创造的剩余价值
 - ②资本主义灭亡是历史发展的必然趋势
 - ③生产力的发展决定着生产关系的变革
 - ④共产党是无产阶级和人民大众的政党
- A. ①③ B. ①④ C. ②③ D. ②④

13. 今天的中国，是梦想接连实现的中国：中国空间站全面建成，第三艘航母“福建号”下水，首架C919大飞机正式交付……这一切，凝结着无数人的辛勤付出和汗水。点点星火，汇聚成炬，这就是中国力量！在今天的中国（ ）

- ①实现中华民族伟大复兴，必须紧紧依靠人民
 - ②实现伟大梦想，必须推进伟大的工程
 - ③实现了“从赶上时代”到“引领时代”的伟大跨越
 - ④跨越了社会主义初级阶段，踏上实现现代化的新征程
- A. ①② B. ①③ C. ②④ D. ③④

14. 要实现 2030 年前实现碳达峰和 2060 年前实现破中和的目标,从资金需求看,政府资金只能覆盖很小一部分,资金缺口主要应靠市场弥补。这就需要完善绿色金融政策体系,引导和激励金融机构以市场化方式支持绿色投融资活动。对此,以下传导正确的是()
- ①完善绿色低碳标准→减少绿色信贷配置→控制资金投入高碳行业
②完善绿色政策体系→建立金融激励机制→促使资金聚焦绿色产业
③政府履行经济职能→引导金融投资方向→助力绿色经济加速发展
④实施环境保护政策→完善市场监管体制→完成低碳行业转型发展
- A. ①② B. ①④ C. ②③ D. ③④
15. 长期护理保险,是以互助共济方式筹集资金、为长期失能人员的基本生活照料和与之密切相关的医疗护理提供服务或资金保障的社会保险。随着我国人口老龄化程度日益加深,“一人失能、全家失衡”是许多家庭的“不能承受之重”,发展长期护理保险成为迫切需求。经历两轮试点,长期护理保险已在全国 49 个城市落地,惠及超 180 万名失能人员,人均报销水平每年约 1.6 万元,基金支付占到个人基本护理费用的 70%左右。由此可见()
- ①长期护理保险能够满足失能人员较高层次的保险需求
②我国加强社会保障体系建设,不断满足人民的社会保障需求
③我国充分发挥长期护理保险的特殊社会保障功能,做到应保尽保
④长期护理保险通过国民收入再分配,能够有效减轻失能家庭负担
- A. ①③ B. ①④ C. ②③ D. ②④
16. “感动中国 2021 年度人物”朱彦夫,被誉为“中国的保尔”。他 16 岁加入中国共产党,是参加过上百次战斗、动过 47 次手术的特等伤残军人。退伍回到家乡后,他继续拄着双拐带领群众修道路、搞副业,把一个穷山村变成了全乡先进村,使村民走上了致富道路。朱彦夫以实际行动彰显了中国共产党()
- ①始终走在时代前列,积极发挥先锋模范作用
②是创造历史、决定国家前途命运的根本力量
③坚守人民根本立场,践行立党为公、执政为民理念
④为人民谋幸福、为中华民族谋复兴的初心使命
- A. ①② B. ②③ C. ③④ D. ①④
17. 在某地的田间地头、社区村委会院坝,出现了由一张木桌、几把椅子,拉起巡回法庭的横幅,摆放好“审判员”“原告”“被告”等牌子,构成的简易临时巡回法庭。在案子审理过程中,承办法官向当事人耐心“释法”,同时引入村干部、司法所或者其他乡贤等人员进行

“说理”，引导双方正确处理纠纷。此举（ ）

- ①通过就地办案利民便民，彰显人民司法的温度
- ②引入社会力量，违背了人民法院独立审判原则
- ③密切联系人民群众，提升基层社会治理的水平
- ④简化了司法诉讼流程，完善了我国的法律体系

A. ①③ B. ①④ C. ②③ D. ②④

18. 闪光灯效应是心理学的一个术语，也称闪光灯记忆，是指个人对令人震撼的事件容易留下深刻而准确的记忆，并且记忆的准确性不随时间的推移而减弱的现象。闪光灯记忆所记之事件，大多是与个人有关的重要事件。从哲学上看，之所以会出现闪光灯效应，是因为

- ①意识的能动性加深了重要事件对人的刺激
- ②事件对于个人的价值决定了意识反映的效果
- ③时间的推移不会使人们的记忆发生质的变化
- ④重要事件具有明显区别于普通事件的特殊性

A. ①③ B. ①④ C. ②③ D. ②④

19. 下列对漫画《门槛》（作者：郑辛遥）的解读合理的是（ ）



何谓门槛？跨过去是门，跨不过去的就成了槛。

- ①“门”与“槛”之间的对立统一可以相互转化
- ②“门”与“槛”作为矛盾双方在一定条件下是可以转化的
- ③“门”就是“槛”，“槛”就是“门”
- ④“跨过去是门”体现的是同一性，“跨不过去就成了槛”体现的是对立性

A. ①② B. ③④ C. ①③ D. ②④

20. 2022年1月3日，香港特别行政区第七届立法会议员宣誓仪式举行，这是香港立法会议员

第一次在中华人民共和国国徽下宣誓。根据《2021年国旗及国徽（修订）条例》，在立法会综合大楼会议厅正中间的墙上高悬中华人民共和国国徽，主席台两侧摆放国旗和区旗。在高悬的国徽之下，全场齐声高唱国歌，从宣誓议员到监誓人，庄重而严谨。这一宣誓仪式（ ）

- ①表明我国采用单一制的国家管理形式，香港享有高度自治权
- ②是“爱国者治港”原则在立法机关得以推进落实的生动写照
- ③旨在重塑香港特别行政区行政治理架构，推动香港经济社会发展
- ④凸显了香港特别行政区作为中华人民共和国一个地方行政区域的法律地位

A. ①② B. ①③ C. ②④ D. ③④


21. 联合国秘书长古特雷斯在第 77 届联合国大会一般性辩论的开场白中呼吁，各国领导人应该在 3 个领域团结起来：和平与安全、气候危机与能源。某校高三 1 班组织学生进行时政热点解读，其中解读正确的是（ ）

新闻摘要	解读依据
在 77 届联大上，王毅强调，中方一贯主张通过对话解决分歧，将继续为劝和促谈发挥建设性作用。	A
东盟牵头举办了第 40 届和第 41 届东盟峰会及东亚领导人系列会议，本次东盟峰会的主题是“东盟：共同应对挑战”。	B
美国总统拜登签署《通胀削减法案》，其中规定，美国政府将为其本土制造的电动车相关行业提供高额补贴。法国总统马克龙多次表态《通胀削减法案》是在以损害欧洲利益的方式解决美国的问题。	C
中非共和国驻俄罗斯大使 12 月 18 日表示，在中非共和国发生的针对俄罗斯外交官的恐怖袭击不会影响两国之间的关系，中非共和国将继续支持俄罗斯。	D

- A. 中国以多边主义实现共同繁荣，以互利合作实现共同安全
- B. 东盟是亚洲的区域共同体，遵循协商一致、循序渐进原则
- C. 美国坚持狭隘国家利益观，法国坚决摒弃过时的零和思维
- D. 恐怖主义不会改变合作共赢这一时代主题，人类应该同心

22. 2022年2月,北京某科技公司以员工赵某主动向他人透露个人薪资情况、违反公司薪酬保密规定为由,与其解除劳动合同。赵某认为该公司违法解除劳动关系。据案分析,正确的是()
- ①该公司侵犯了赵某取得劳动报酬的权利
②赵某可以向劳动争议仲裁委员会申请劳动仲裁
③薪酬保密不属于赵某和公司签订劳动合同的必备条款
④赵某如想申请劳动仲裁,需要和公司订立有效的仲裁协议
- A. ①② B. ①④ C. ②③ D. ③④
23. 人们常说:“读书贵在能有疑问,有疑问才能增进对事物的了解。”以下推论与此观点意思一致的是()
- ①对事物了解不深入,是在读书过程中没有疑问
②读书不能产生疑问,就不能增进对事物的了解
③如果读书过程中善于提出疑问,对事物的了解就会深入
④如果要增进对事物的了解,就要在读书过程中不断提出疑问
- A. ①③ B. ①④ C. ②③ D. ②④
24. 在先秦儒家的圣王叙事中,天命所归是共同特征。孟子说,尧禅让于舜是因为“尧荐舜于天而天受之,暴之于民而民受之”;商汤“无敌于天下”是因为“民之望之,若大旱之望雨也”。这种叙事反映出,先秦儒家()
- A. 倡导“天人合一”理念 B. 凸显对理想政治的追求
C. 深受神话传说的影响 D. 统一了政治评价的标准
25. 公元前60年,为了管理西域,西汉政府设立西域都护府,正式在西域设官、驻军、推行政令。都护的职责是统辖西域诸国,管理屯田,颁行朝廷号令,诸国有乱,得发兵征讨。设立西域都护府最重要的影响是()
- A. 推动农业生产的发展 B. 促进民族团结
C. 保证丝绸之路的畅通 D. 加强中央集权
26. 经济史专家博筑夫先生指出:“宋代商业不再是为少数人服务,而变成供应广大人民的大规模商业。”而商业市场也发展形成了城市、镇市、草市(或墟市)三级金字塔形结构。这些变化()
- A. 与精耕细作的农业进一步发展密切相关 B. 表明两宋形成较为完善的市场经济制度
C. 表明市坊界限打破推动了商品经济发展 D. 使中国古代城市的经济职能进一步增强

27. 清代荒政制度规定, 根据灾荒等级对地方实行不同程度的田赋蠲免或缓征。下图为 1799—1910 年云南有蠲缓田赋之州县厅次统计图, 如图所示。由此可知 ()



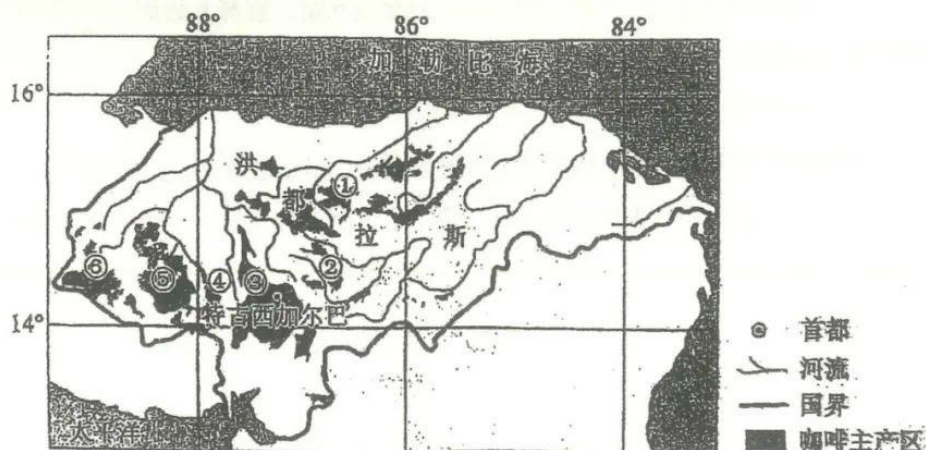
- A. 清政府重视边疆地区的发展稳定 B. 云南地区人地矛盾问题十分严重
C. 清朝时期社会救济制度全面完善 D. 经济重心南移加速西南地区开发
28. 陈寅恪先生提出的“历史理解之同情”(即强调要站在当事人所处的时代思考和评价历史事件)是史学界研究历史事物的基本原则之一。下列评述符合这一基本原则的是 ()
- A. 武昌起义的爆发阻碍了中国成为君主立宪制国家
B. 康有为的托古改制思想反映了资产阶级的软弱性
C. 洋务运动强调“中学为体”有利于减少改革阻力
D. 新文化运动全盘否定传统文化有失认知的客观性
29. 1927 年 6 月, 毛泽东提出“山区的上山, 滨湖的上船, 武装保卫革命”的主张, 随后他回湖南, 作出了让农会会员和农民自卫军“上山”“进湖”, 保存革命实力, 以待时机的工作部署。这体现了毛泽东 ()
- A. 践行“工农武装割据”理论 B. 开始武装反抗国民党反动派
C. 推动土地革命的不断发 展 D. 探索符合国情的革命道路
30. “文化山呀文化山, 过去登山比上天难, 今朝有了共产党, 带领我们高峰攀, 工人上了文化山, 能到月宫开矿产, 农民上了文化山, 火星上头去种棉……一穷二白来改变, 天堂就在眼面前。”这首新中国成立初期的山歌说明 ()
- A. 文学艺术事业欣欣向荣 B. 民众对国家建设充满信心
C. 工业化建设的成就显著 D. 人民真正实现了当家作主
31. 美国法官霍姆斯对古罗马自然法的理解为:“每个人心中都有对完美的欲求, 以至于那些无法拥有完美的人, 通过灌醉自己来满足这种欲求。那些试图证明真理之绝对性的哲学家, 都是在试图满足自己的这一欲求。”这反映出自然法 ()

- A. 以伦理化为主要目标
B. 是统治阶级意志的表现
C. 具有理想主义的色彩
D. 以道德完美为基本法则
32. 1296年教皇卜尼法斯发布训令，未经教皇同意禁止任何国家的教士向君主纳税，1301年，法国国王腓力首次召开法兰西三级会议，寻求民众的支持，宣称卜尼法斯是一名应该从教廷中开除的异教徒和罪犯。据此可知（ ）
A. 工商业的发展影响权力结构发生异变
B. 由封君封臣制向议会制共和转变
C. 王权与教权的矛盾推动民族意识觉醒
D. 打破教会思想束缚引发宗教改革
33. 1860-1865年，巴西的东北海岸原棉产量实现了倍增；埃及长绒棉的出口量从1860年的2700万公斤增加到1863年的近6000万公斤；被英国视为棉花“补足产区”的印度，一跃而成为英国头号原棉进口地，在1862年时甚至占到英国棉花进口的近90%。导致上述状况的重要原因（ ）
A. 棉纺织业的技术革新
B. 世界殖民体系的形成
C. 蒸汽轮船的广泛使用
D. 美国南北战争的影响
34. 20世纪30年代，摩洛哥主要种植甘蔗，黄金海岸（今加纳）主要生产可可，利比里亚和安哥拉主要生产咖啡，埃及、苏丹、乌干达等国主要种植棉花，南罗得西亚（今属津巴布韦）以种植烟草为主。这反映出当时非洲（ ）
A. 经济发展的依附性特征
B. 饮食结构发生巨大改变
C. 区域经济的互补性特征
D. 完全沦为欧美的殖民地
35. 苏俄（联）在1920年的工业总产值为14.1亿卢布，原油产量为390万吨，粮食产量为52.5万吨；到1932年，工业总产值达到368亿卢布、原油产量达到2140万吨、粮食产量达到111.6万吨。这一变化出现的主要原因是（ ）
A. 战时共产主义政策的推行
B. 新经济政策的顺利实施
C. 指令性计划经济的发展
D. 经济危机未影响到苏联

二、综合题（本大题共 小题，共160分）

36. 阅读图文材料，完成下列要求。（28分）

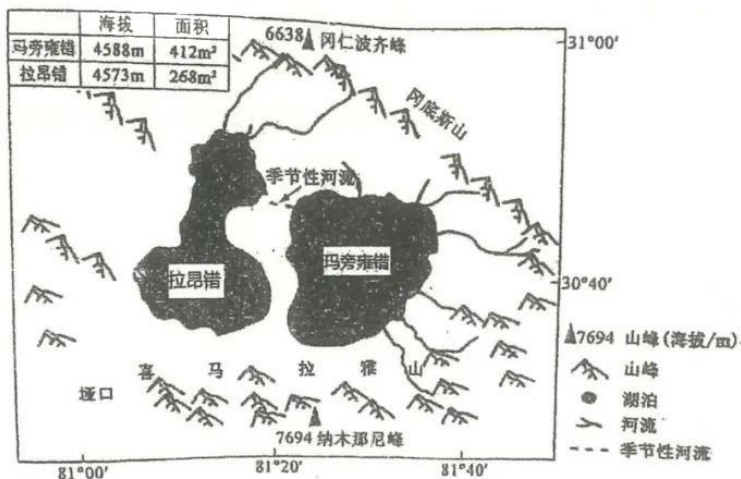
咖啡树适合生长在温度 $15^{\circ}\text{C}\sim 25^{\circ}\text{C}$ 、年降水量 $1500\sim 2000\text{mm}$ 、土壤肥沃且排水良好的热带或亚热带地区。洪都拉斯位于中美洲北部，全境四分之三以上地区为山地、高原，内陆为熔岩高原，多山间谷地，沿海有狭窄的平原，其咖啡树种植历史已有200多年，咖啡品质优良，是世界第五大咖啡出口国。洪都拉斯咖啡委员会将咖啡划分为六大主产区，每个主产区生产特定口味的咖啡品种，如巧克力味、水果味等。下图示意洪都拉斯六大咖啡主产区分布。



- (1) 说明洪都拉斯适宜咖啡树生长的有利条件。(8分)
- (2) 简述洪都拉斯咖啡委员会划分六大咖啡主产区的主要好处。(6分)
- (3) 有关研究显示,全球气候变暖对洪都拉斯咖啡产业产生了一定的不利影响。试推测该不利影响。(6分)
- (4) 请你为洪都拉斯咖啡产业的进一步发展提出可行性建议。(8分)

37. 阅读图文材料,完成下列要求。(28分)

玛旁雍错与拉昂错位于喜马拉雅山北部,为地壳断裂下陷后积水形成,两湖相距甚近,同为封闭的内陆湖泊,但玛旁雍错湖水清澈、平静,是我国透明度最高的淡水湖,而拉昂错为微咸水湖。历史上,两湖曾经连在一起,谷地水源丰沛、河湖发育;第四纪以来后受气候变化和地质作用的影响,被一条狭长的小山丘分开;现两湖北部仅有一条季节性河道相通。下图示意玛旁雍错与拉昂错地理位置。



- (1) 位于同一河谷，但玛旁雍错为淡水湖，而拉昂错为微咸水湖，解释其成因。(6分)
- (2) 推测玛旁雍错与拉昂错的分离过程。(8分)
- (3) 说明玛旁雍错湖水透明度高的可能原因。(6分)
- (4) 夏季时，玛旁雍错时常风平浪静，而拉昂错却波涛汹涌。试说明原因。(4分)
- (5) 研究发现，近几十年来玛旁雍错面积呈减少趋势。分析此趋势变化对该湖泊周围自然地理环境的不利影响。(4分)

38. 阅读材料，完成下列要求。

从2023年起，全国政协的34个界别中首次出现了“环境资源界”这一界别。新设的环境资源界别有85人，是人数较多的界别，其成员包括环境资源领域的党政领导干部、专家学者等。这是全国政协首次设立环境资源界别，也是自1993年八届全国政协增设经济界别以来，首次增加新的界别。近年来，我国生态环境保护发生了历史性、转折性、全局性转变，设立环境资源界别，顺应了时代发展的需要，符合国情民意。环境资源界别的设立也将使该领域的履职力量更加集中、更加有力。

政协的界别是参加政协的各个党派、人民团体、各民族和各界人士在人民政协组织中的具体划分形式，也是政协会议的组织形式，其设置是适应经济社会的发展逐步调整 and 完善的。全国政协的界别，除了按党派、人民团体、民族、宗教信仰等划分，一个重要类型是以行业为基础划分的社会各界，如文化艺术、科学技术、教育、农业等界别，新增的环境资源界别即属于此类。

结合材料，运用《政治与法治》的有关知识，说明全国政协新设环境资源界别的重要意义。(10分)

39. 阅读材料，完成下列要求。

自1963年毛泽东主席题词“向雷锋同志学习”，已经过去60年。60年一甲子，这个年轻战士的名字，一直被怀念，一直被呼唤，一直在闪耀。



雷锋精神内容为热爱党、热爱国家、热爱社会主义的崇高理想和坚定信念；服务人民、助人为乐的奉献精神；干一行爱一行、专一行精一行的敬业精神；锐意进取、自强不息的创新精神；艰苦奋斗、勤俭节约的创业精神。

60多年前，雷锋乘坐火车出差，他看到列车员十分忙碌，就主动帮忙擦地板、擦玻璃，给旅客倒水，帮助妇女抱孩子，为老年人找座位；60多年后，在以“雷锋”命名的K95/96列车上，“雷锋日记”已写满几十本，密密麻麻记录了4万余件好人好事。

时光流逝，“雷锋”已不再是一个人的名字，而成为时代坐标。在朝霞如轻纱披在城市的建筑群间，雷锋小学的学生们胸前戴着鲜红的红领巾，大声朗读着“红旗下的演讲”；雷锋派出所的民警们，手臂上戴着红色臂章，奔走在为人民服务的路上……

60年，雷锋精神从未远去，具有跨越时代的魅力。

结合材料，运用文化遗产与文化创新的知识，分析说明雷锋精神为何具有跨越时代的魅力。

(10分)

40. 阅读材料，完成下列要求。

二战以后，西方国家利用规则主导权优势对他国进行规范、锁定（“规锁”）、控制，力求把他国的增长水平与空间限定在可以控制的范围之内，以保证其国际主导地位不受挑战。

改革开放后，中国产业发展在融入世界经济体系过程中，与发达国家之间形成了依附发展的分工格局。这种分工格局虽然在一定阶段给中国带来了巨大的开放红利，但也使中国长期承受国际利润分配不平等的代价，在下游制造环节与其他发展中国家的竞争也越发紧张。随着产业竞争力不断提升，寻求突破的中国已成为西方国家的重点“规锁”目标。西方国家既要继续享受中国在全球价值链中提供的中低端好处，又要规避或阻止中国在高端科学技术领域的赶超。

结合材料，运用经济全球化的知识，对西方国家“规锁”发展中国家行为予以批驳。（10分）

41. 阅读材料，完成下列要求。

创建于1992年的远东电缆有限公司是全国知名的电缆生产企业，“远东”文字及图形商标品牌价值巨大，惹来了一些别有用心者的觊觎。2016年，天津远东线缆科技有限公司在注册时，擅自将企业名称定为“远东”，并将其电缆商品打上“远东”字号，引发消费者产生混淆。远东电缆有限公司发现这一情况后，以该公司的行为已严重影响其销售和声誉为由，于2019年5月向宜兴法院提起诉讼。后经审理，法院综合考虑“远东”字号的知名度和天津远东线缆科技有限公司擅自使用“远东”字号的不正当竞争行为，依法判决天津远东线缆科技有限公司立即停止使用“远东”字号并在判决发生法律效力之日起三十日内办理企业名称变更手续，同时向远东电缆有限公司赔偿经济损失25万元。

(1) 运用《法律与生活》的知识，分析法院判定天津远东线缆科技有限公司侵权的依据。(6分)

(2) 结合材料，运用《法律与生活》的知识，分析该诉讼案件是如何体现公平正义的。(6分)

42. 阅读材料，回答问题。

小陆开了一家照相馆。创业初期，他发现卖鱼的如果能帮顾客杀鱼切片的话，生意会更好。于是，他通过修图软件练了一手绝活，还开了家相册加工厂，用“平价产品+优势服务”吸引了大量顾客。新冠疫情蔓延后，他看到旅游业、影视娱乐业陷入经营困难，餐饮业、住宿业、运输业也客流下降，于是推断：线下经营容易遭受疫情冲击，必须迅速转向线上经营，增加订单。在线上经营遇到困难时，他就鼓励自己：“只要我不被困难打倒，困难就一定会被我打倒。我怎么可能被困难打倒呢？”在小陆的带领下，工厂的营业额实现了新的突破。

结合材料，运用《逻辑与思维》的相关知识，说明小陆在不同阶段的分析分别运用的推理方法。(10分)

43. 阅读以下材料，回答问题。

材料一 “卫生”一词最早出自于《庄子》，意为保卫生命，与饮食、静思、秘制方剂等养生方相连。到了近代，有外国传教士向中国人宣传化学才是保持个人健康和预防疾病的基础。1872年，日本医生长与专斋关注到欧美国家都致力于建立一个将工业化、教育和实验室与个人的健康相联结的网络（sanitary），形成国家的健康，于是选取中文“卫生”来翻译 sanitary。这一具有全新含义的词语“卫生”在20世纪初伴随帝国主义的入侵传入中国，被很多知识分子所接受并加以传播。他们希望通过提升“卫生”观念来把中国塑造成一个强健的现代国家。同时，卫生成为了衡量一个地区或民族文明发展程度的重要指标。

——据（美）罗芙芸《卫生的现代性：中国通商口岸健康与疾病的意义》

材料二 新中国成立之初，医疗资源贫乏，鼠疫、霍乱等传染病威胁人民生命健康。1949年11月，国家设立公共卫生局，统一负责全国传染病、交通检疫、环境、食品、学校与劳动卫生和卫生监督等工作。1952年，中国爱国卫生运动委员会成立，掀起了以除害灭病为中心的爱国卫生运动，血吸虫病、黑热病、鼠疫、麻风病等得到有效治理。之后，逐步组建了包括卫生防疫、地方病控制、妇幼保健等公共卫生机构体系。1955年，卫生部发布《传染病管理办法》。60年代中期，城市形成了市、区两级医院和街道门诊（所）三级医疗服务体系，农村形成了县医院、乡（镇）卫生院、村卫生室三级医疗预防保健网，均集预防、医疗、保健于一体。

——据李玉荣《改革开放前新中国公共卫生事业的发展及其基本经验》等

(1) 根据材料一并结合所学，概括近代以来“卫生”含义的变化并分析其背景。（10分）

(2) 根据材料二并结合所学，概述新中国发展公共卫生事业的措施和意义。（15分）

44. 阅读材料，完成下列要求。

材料 中国古代社会的管理思想、做法和经验，是由中国古代社会的一系列基本特征决定的。统一的社会信念和中央政权的强大、注重社会秩序与社会控制、国家力量与社会力量相结合共同治理社会、综合为治，是中国古代社会的主要治理经验。历史上，中央政府统治力的下降、吏治腐败、对重大灾荒事件应对不力、因社会矛盾和冲突而引发的农民起义等，多是导致政权衰落的主因。

——摘编自杨宗科《中国古代社会管理的基本经验》

上述材料是学者对中国古代社会治理经验的定义和阐释。据此，结合所学知识，提出中国古代某一历史时期的社会治理经验，并进行简要阐释。（要求：提出不少于两个社会治理经验，且不得与材料中的社会治理经验重复，史论结合，史实准确，逻辑清晰。）（12分）



45. 阅读材料，完成下列要求。

材料一 英国传统能源依赖木材。15、16世纪以来，英国人口增长迅速，传统手工业如啤酒业、煮盐业、玻璃制造业、造船业等迅速发展，而且都以木柴作为生产燃料，木柴短缺危机日益加剧。16世纪下半期开始，英国能源逐渐转型。到17世纪中期，英国的城镇基本上都开始使用煤炭作为主要生活燃料。到18世纪上半叶，煤炭已经取代柴薪，成为英国制造业所使用的主要能源。到了19世纪，英国已经基本完成了从柴薪到煤炭的能源结构转型，正式步入化石燃料时代。这比欧洲其他国家早了将近150年。凭借储量丰富的煤炭和铁矿，英国海军迅速发展壮大，到1899年拥有各类舰艇472艘，总吨位达到约126.6万吨，大大提升了英国的综合国力。

——摘编自潘荣成《近代早期英国能源转型及其启示》

材料二 美国是第二次能源转型的引领者。1859年宾夕法尼亚州挖掘了第一口油井，标志着世界现代石油产业的开端。此后百年间，美国一直都是世界石油工业的主导者。但在最初的半个世纪内，受限于精煉技术和利用技术的落后，石油主要用于提炼煤油以作照明之用，一直到1910年左右，石油消费量在能源消费总量中的比例才超过5%。随着内燃机、汽车的发明与改进，石油逐渐得到广泛运用并成为主导能源。到1950年左右，石油在美国能源消费结构中的比重首次超过煤炭，成为主导能源。

——摘编自裴广强《近代以来西方主要国家能源转型的历程考察》

(1) 根据材料一，概括近代英国能源转型的特点，并结合材料和所学知识分析其影响。(9分)

(2) 根据材料二并结合所学知识，分析美国引领第二次能源转型的原因。(6分)

关于我们

自主选拔在线是致力于提供新高考生涯规划、强基计划、综合评价、三位一体、学科竞赛等政策资讯的升学服务平台。总部坐落于北京，旗下拥有网站(网址: www.zizzs.com)和微信公众平台等媒体矩阵，用户群体涵盖全国90%以上的重点中学师生及家长，在全国新高考、自主选拔领域首屈一指。

如需第一时间获取相关资讯及备考指南，请关注**自主选拔在线**官方微信号：**zizzsw**。



 微信搜一搜

 自主选拔在线

线
Z S W

 自主选拔在线
微信号：zizzsw

 自主选拔在线
微信号：zizzsw

 自主选拔在线
微信号：zizzsw

 自主选拔在线
微信号：zizzsw