



2022~2023 年度河南省高三年级模拟考试 文科综合

考生注意:

1. 本试卷分第 I 卷(选择题)和第 II 卷(非选择题)两部分,共 300 分。考试时间 150 分钟。
2. 请将各题答案填写在答题卡上。
3. 本试卷主要考试内容:高考全部内容。

第 I 卷 (选择题 共 140 分)

本卷共 35 小题,每小题 4 分,共 140 分。在每小题给出的四个选项中,只有一项是符合题目要求的。

某企业成立于 1997 年,目前已经成为我国最大的专业速冻食品生产企业之一。2021 年底,该企业开办鲜食水饺门店,首次进入鲜食领域。下表为该企业的的大事记。据此完成 1~3 题。

时间	大事记
1997 年	在郑州成立,生产速冻水饺、速冻汤圆,面向全国销售
2003 年	提出速冻水饺、速冻汤圆包装和个体小型化
2006 年	确定为北京奥运会速冻包馅食品独家供应商
2015 年	成立食品科学博士后工作站
2021 年	在郑州开办首家鲜食水饺门店,主打现包水饺,广式云吞和馄饨,店面仅有几张桌子,可堂食、外带、外卖

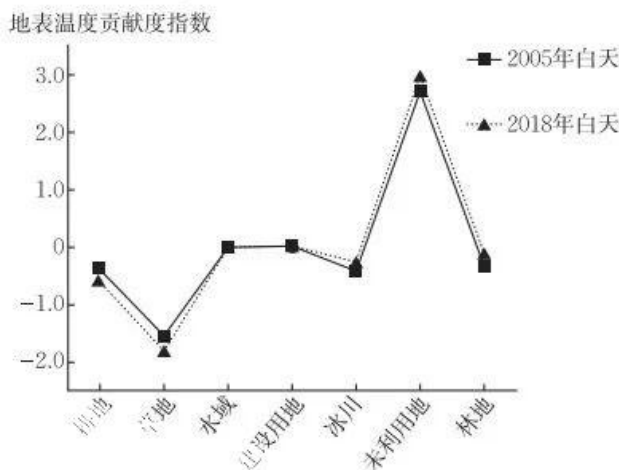
1. 该企业开办鲜食水饺门店的主要优势是
 - A. 科技水平高
 - B. 生产成本低
 - C. 经营经验足
 - D. 产业基础好
2. 未来,该企业鲜食水饺门店应多布局于
 - A. 行政区
 - B. 工业区
 - C. 住宅区
 - D. 文教区
3. 该企业成立以来始终致力于
 - A. 塑造知名品牌
 - B. 提高商品品质
 - C. 增加产品类型
 - D. 开拓国际市场

克麦罗沃州拥有俄罗斯煤矿储量最大的库兹巴斯煤田,20 世纪 30 年代起,州内多座小城市由单一的“成城企业”发展而来,即“企业成城”。州府克麦罗沃市主要承担矿山机械制造、能源化工、交通物流等综合职能。2011 年以来,随着资源逐渐枯竭和成本上升,克麦罗沃州煤炭工业陷入危机,“企业成城”人口大量流失,而克麦罗沃市在经济转型中韧性较强,利用西西伯利亚北部运来的天然气壮大能源产业,并通过铁路输出机械装备。据此完成 4~5 题。
4. 克麦罗沃州的小城市多由“成城企业”发展而来,说明“成城企业”
 - ①附加值高
 - ②管理水平高
 - ③职工规模大
 - ④关联部门多
 - A. ①②
 - B. ①④
 - C. ②③
 - D. ③④

5. 与“企业成城”相比, 克麦罗沃市在库兹巴斯煤田经济转型中韧性较强, 直接得益于

- A. 产业类型多元
B. 市场容量较大
C. 辐射范围较广
D. 行政等级较低

区域下垫面由多种土地利用类型共同构成, 共同影响着区域地表温度。下图示意天山北坡经济带各土地覆盖类型白天、夜间的地表温度贡献度指数, 其正负值分别表示对地表温度的升温 and 降温作用。与我国大部分区域建设用地不同, 天山北坡经济带建设用地在白天对区域地表温度贡献度指数为负, 形成城市“冷岛”。据此完成 6~8 题。



6. 草地的负贡献度绝对值最大, 主要原因可能是草地

- A. 比热容最大
B. 占地面积最大
C. 反射率最高
D. 保温能力最差

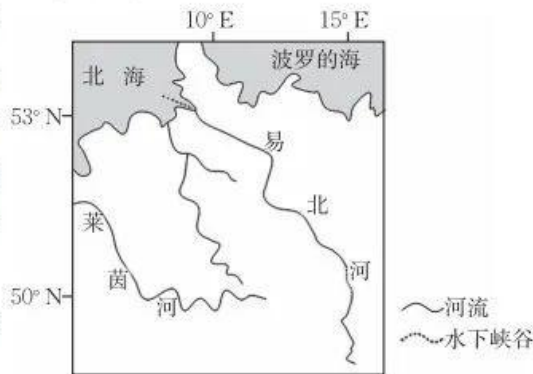
7. 据图可知, 2005~2018 年土地覆盖类型发生明显转变的是

- A. 冰川→未利用地
B. 耕地→未利用地
C. 耕地→林地
D. 建设用地→耕地

8. 天山北坡城市白天形成“冷岛”的关键在于城市

- A. 背靠山脉
B. 功能区布局合理
C. 规模较大
D. 邻近荒漠

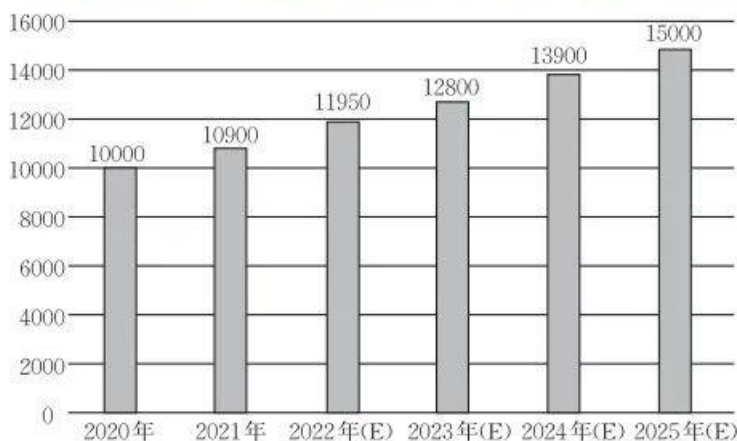
末次冰期晚期气候转暖, 欧洲大陆的古冰盖开始消融, 易北河在下游形成深切河谷, 后逐渐演变为水流不断分叉又汇集的辫状河谷。目前, 易北河下游河谷已经成为北海近岸海域海底的水下峡谷, 该处水下峡谷地层封闭性好。右图示意易北河流域的位置。据此完成 9~11 题。



9. 对易北河深切河谷演变为辫状河谷起到决定性作用的是

- A. 流水侵蚀
B. 地壳抬升
C. 海平面上升
D. 海水堆积

10. 与深切河谷时期相比,辫状河谷时期易北河下游
- A. 含沙量大
B. 堆积作用弱
C. 冰期较长
D. 水位较高
11. 易北河水下峡谷最可能拥有丰富的
- A. 煤炭资源
B. 油气资源
C. 深海渔业资源
D. 海盐资源
12. 汽车和手机一个是交通工具,一个是通信工具,但是在移动互联网成为基础设施的智能化时代,智能汽车与智能手机殊途同归——新能源汽车正在潜移默化地淡化“汽车”的概念,“智能空间”“智能座舱”等成为新的表述方式,汽车厂商和手机厂商相互布局。这说明
- ①汽车智能化改造提升了汽车的使用价值 来源: 高三答案公众号
②汽车与互联网融合能增加汽车的需求弹性
③汽车与手机互补加剧了汽车行业间的竞争
④汽车与互联网融合能够扩大行业发展空间
- A. ①③
B. ①④
C. ②③
D. ②④
13. 《2022~2023 年中国汉服产业现状及消费行为数据研究报告》显示,2022 年,汉服经济市场规模预计达 125.1 亿元人民币,同比增长 23.4%,2025 年有望达到 191.1 亿元。崭露头角的汉服经济吸引了一批汉服爱好者的目光,并催热了原本不被看好的“妆娘”“簪娘”等相关职业。这说明
- ①生产决定消费的对象和方式,为消费创造动力
②求异心理所引发的消费可以推动新产品的出现
③新的消费热点往往能够带动相关行业的成长
④消费对生产有重要的反作用,消费拉动经济增长
- A. ①②
B. ①③
C. ②④
D. ③④
14. 下图为 2020~2025 年我国环保设备行业市场规模(单位:亿元)。由此可推断出



- ①国家坚持贯彻新发展理念,未来环保设备行业市场前景越来越广阔
②未来环保设备行业企业数量将持续增加,企业之间竞争将愈发激烈
③越来越多的企业将进入环保设备行业,企业的利润也将越来越高

- ④我国环保设备行业从业企业市场集中度高,产品科技含量普遍较高
- A. ①② B. ①③ C. ②④ D. ③④
15. 2022年,为扎实稳住经济,国家重点投资布局一批对电力系统安全保障作用强、对新能源规模化发展促进作用大、经济指标相对优越的抽水蓄能电站。该项政策措施的影响路径传导正确的是
- ①增加社会总需求 ②加大政府投资力度
③稳住经济发展大盘 ④释放积极财政政策活力
- A. ①→②→④→③ B. ②→③→④→①
C. ②→④→①→③ D. ②→①→④→③
16. “趴睡”式午休容易导致眼部受压、手臂酸麻等问题,孩子和家长们都盼着能尽快改善午休条件。M县十七届人大一次会议依法票决,明确要解决这个问题。不久后,学生们用上了折叠课桌椅和午睡垫。如今,民生实事项目人大代表票决制已在浙江各市县乡全面推行,推动民生实事从“为民作主”到“由民作主”。这表明
- ①我国的人民民主是最广泛的民主 ②人民代表大会是国家权力机关
③人民权利由间接行使变为直接行使 ④人民民主从价值理念变成治理机制
- A. ①② B. ①③ C. ②④ D. ③④
17. 从2019年至今,某市从探索“吹哨报到”到推广接诉即办,使工作机制从“有一办一”向“未诉先办”转化,从解决具体问题向依法治理、多元治理转化。有关部门主动发现问题,提早解决问题,不仅满足于解决一事一案,还立足根本、查找源头,积极解决群众诉求和城市管理难题。材料中所包含的治理理念包括
- ①树立权利意识,着眼群众各种需求
②树立问题意识,引导全民自觉守法
③树立宗旨意识,提升群众的满意度
④树立法治意识,提高社会治理水平
- A. ①② B. ①③ C. ②④ D. ③④
18. 当前,数字经济规模扩大,全球数字化转型加速,成为影响世界经济格局的重要因素。中国在二十国集团领导人峰会上提出数字创新合作行动计划,发起建设数字丝绸之路倡议,并将数字经济作为全球发展倡议的重点合作领域,期待就此同各方开展合作,缩小南北国家间的数字鸿沟。材料表明
- ①我国积极推动构建人类命运共同体
②中国同世界的关系发生了历史性变化
③我国为促进世界经济发展贡献中国方案
④缩小全球发展差距是我国对外活动的立足点
- A. ①③ B. ①④ C. ②③ D. ②④
19. 外卖小哥送餐结束后在商场弹奏起钢琴,农民工小伙在工地演奏《沧海一声笑》古筝曲……源于大众情感本真诉求的短视频成为当下文艺市场的新宠儿,这些短视频用个体碎片化的

记录,合力展现着时代的整体风貌,抚慰着大众细腻温婉的情感需求。这说明

- ①科技与文化融合创新了文化传播方式
- ②人们在社会生活中创造和享用文化
- ③优秀传统文化具有超越时空的艺术价值
- ④形式多样的文化生活丰富人的精神世界

A. ①③ B. ①④ C. ②③ D. ②④

20. 2022 年国庆档,新主流电影成为引领,档期票房排名前三的影片分别为《万里归途》《平凡英雄》和《哥,你好》。首次聚焦中国外交官撤侨幕后的电影《万里归途》一路强势,成为国庆档的票房冠军。下列对新主流电影在国庆档走红理解正确的有

- ①引领社会风尚的主流电影能实现口碑和市场的双丰收
- ②根植于社会、取材于现实的优秀影片彰显了信仰之美
- ③文化事业的发展要努力做到社会效益与经济效益的统一
- ④顺应时代发展要求和满足人民真正需要的文化有强大生命力

A. ①② B. ①③ C. ②④ D. ③④

21. 漫画《有时候的成功,角度比力度更重要》告诉我们

- ①掌握和尊重规律才能避免办事情的盲目性
- ②按规律办事需要改变规律起作用的条件
- ③意识对人体生理活动具有调节和控制作用
- ④意识活动的主动创造性会影响实践的效果



A. ①② B. ①④
C. ②③ D. ③④

22. “秉纲而目自张,执本而末自从。”每一项改革举措都涉及错综复杂的利益关系,每一项工作都有千头万绪的枝枝蔓蔓,找到可操作、能落地的抓手,找到打开局面的着力点与落脚点,以点带面,就能理顺各种关系。由此可见

- ①改革需要抓住主要矛盾,明晰重点才能有针对性地解决突出问题
- ②关键部分的发展能够推动整体发展,要找到打开改革局面的支点
- ③社会发展的每个阶段都有轻重之分,改革需要有明确的主攻方向
- ④系统优化可以实现整体的最优目标,找到着力点有利于纲举目张

A. ①② B. ①③ C. ②④ D. ③④

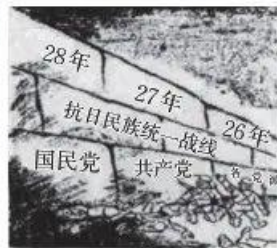
23. 面对数字经济的高速发展,以互联网为代表的领域催生了诸多新兴领域,极大地影响着人们的生产生活。我国加强信息技术领域立法,及时跟进研究数字经济、互联网金融、人工智能、大数据、云计算等相关法律制度,抓紧补齐短板。这是基于

- ①社会发展是在生产力与生产关系的矛盾运动中实现的
- ②上层建筑服务先进的经济基础时能促进经济社会发展
- ③社会存在的变化和发展决定社会意识的变化和发展
- ④先进的社会意识能正确预见社会发展的方向和趋势

A. ①③ B. ①④ C. ②③ D. ②④

【高三文科综合 第 5 页(共 12 页)】

24. 据《史记》记载,周族先祖古公亶父欲以少子季历继位,以便再传位给季历之子昌,故曰:“我世当有兴者,其在昌乎?”昌正妻生子十人,长子曰伯邑考,次子曰发,但“文王舍伯邑考而以发为太子。及文王崩而发立,是为武王”。这反映出当时
- A. 世袭制开始取代禅让制
B. 嫡长子继承制度尚未定型
C. 皇位更替以贤能为标准
D. 统治者极力构建神权政治
25. 考古发现,在今新疆若羌米兰遗址区(西汉伊循屯田区)和圆沙古城遗址(位于新疆西南部于田县)一带,均有汉代的水利灌溉系统的遗存,考古人员还在此区域发现了埋在沙漠下的大片农田。由此可知,汉代
- A. 屯田在边疆地区得到推广
B. 水利灌溉技术得到了提高
C. 新疆的经济模式趋于统一
D. 中原农耕文明向边疆扩展
26. 宋代,朝廷对佛、道的管理非常严格,祠部掌管着国家佛寺、道观的总数及僧人、道士的名额,也允许部分民间祠庙的存在。但若民间祠庙与儒学观念不符,朝廷就会将其认定为淫祠而予以禁毁,而且朝廷还禁止民间以“灵迹”立祠。宋廷此举意在
- A. 规范民间祭祀行为
B. 维护基层社会秩序
C. 强化正统意识形态
D. 减少政府财政支出
27. 《明会典》载,洪武二十六年(1393年),在全国共设有326个炉座,一年可铸19万贯铜钱,但时常停铸。明代政府在1368年至1572年的约200年间总计铸造铜钱400万~600万贯,而这只是北宋王安石变法期间一年的铸币量。这一现象出现的主要原因是
- A. 白银的广泛使用
B. 商品经济的衰退
C. 铜矿资源的匮乏
D. 对外贸易的萎缩
28. 自1897年中国通商银行开办后,“用人办事以汇丰银行章程为准则”,且在汉口、北京、福州、天津、广州、镇江等地设立了分行。分行的董事或经理,基本上没有相应的银行专业知识,且多为捐纳的候补道员、豪绅、退職官吏。由此可知,当时
- A. 洋务运动遭遇严重挫折
B. 商业经营管理新旧并存
C. 民族工业经营理念落后
D. 官方强力介入银行经营
29. 蔡元培认为“大学是包容各种学问的机关”,是“囊括大典,网罗众家”之学府”。对于教员中不同的学派,只要“言之成理,持之有故”,他就允许自由争鸣,并让学生自由选择。由此可见,蔡元培
- A. 主张大学教育应依循民主理念
B. 强调高等教育要实现规模化
C. 尤为重视大学教师的职业道德
D. 关注大学在社会管理中的作用
30. 右图所示是一幅纪念抗战的漫画(注:图中的26年、27年、28年是民国纪元)。该画揭示了
- A. 国共两党是抗战的主力
B. 全民族抗战局面的形成
C. 正面战场是抗战主战场
D. 中国抗战形势出现好转



31. 1973年6月, 陈云提出“对资本主义要很好地研究”的重要思想: 现在外贸主要面向资本主义国家这个趋势“我看是定了”, 因此, “不研究资本主义, 我们就要吃亏。不研究资本主义, 就不要想在世界市场中占据我们应占的位置”。这一思想提出的有利条件是
- A. “两个凡是”的方针得到纠正
B. 国内动荡的政治局势得以稳定
C. 中国与西方国家关系的改善
D. 改革开放使中国综合国力增强
32. 《十二铜表法》中明确规定: “死去之人不得埋葬或焚毁在城市内; 埋葬费用不能超过三件寿衣、一件绛红色的束腰紧身衣以及十个笛手的规模。”此外, 该法还禁止为逝世之人哭泣; 废止在奴隶尸体上涂敷防腐剂及圆杯饮酒; 死者身上不得放黄金等。据此可知, 《十二铜表法》
- A. 有引导社会风气的作用
B. 体现了对生命的尊重
C. 注重维护社会伦理道德
D. 有利于维护贵族特权
33. 卢梭在《社会契约论》中指出, 人在纯自然状态下所拥有的随心所欲的、天然的自由是有局限的, 只有从自然的状态进入社会状态, 自由被赋予了道德性之后, 自由才能使人们真正成为自己的主人, 这才是真正意义上的自由。据此可知, 卢梭主张
- A. 自然权力说无法保障自由
B. 个人自由是可以被忽略的
C. 个人自由应服从社会正义
D. 订立契约以限制绝对权力
34. 1931年12月, 胡佛提出: “如果一个人放弃其自身的创造和责任, 那么他也放弃了自身的自由。联邦政府有职责坚持使地方政府和个人相信并担负起这些责任, 因为这对保卫我们自由的基础来说是根本条件之一。”他的这一态度
- A. 使美国经济陷入“滞胀”状态
B. 体现了对国家经济的干预
C. 有利于修补美国的经济制度
D. 无法避免经济形势的恶化
35. 右图所示为1946年1月29日英国《标准晚报》上的一幅漫画, 该漫画描绘的场景是时任英国外交大臣的贝文和苏联负责外交事务的维辛斯基争论伊朗的石油特许权问题。该漫画可用来说明
- A. 资源争夺是冷战兴起的重要原因
B. 二战结束后世界石油危机加剧
C. 美、苏争霸的重点转向争夺西欧
D. 英国将冷战的责任推卸给苏联



第Ⅱ卷 (非选择题 共160分)

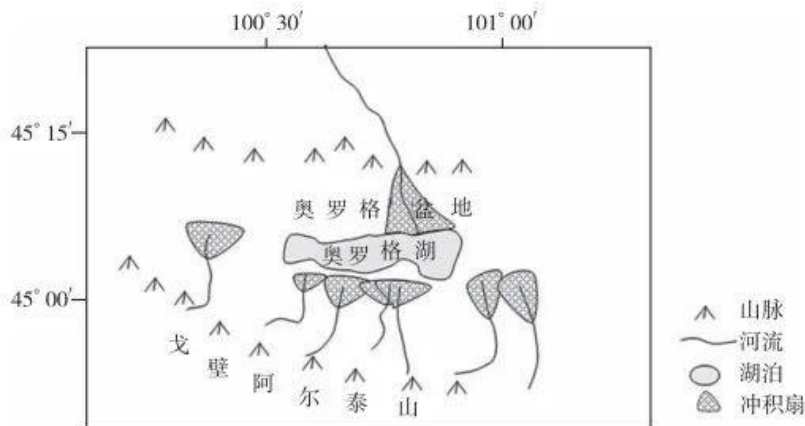
本卷包括必做题和选做题两部分。第36~42题为必做题, 每道试题考生都必须作答。第43~47题为选做题, 考生根据要求作答。

36. 阅读图文材料, 完成下列要求。(24分)

蒙古奥罗格湖地处奥罗格盆地腹地, 湖盆宽且浅。戈壁阿尔泰山北麓诸多山地河流向北流入奥罗格盆地, 在出山口发育一系列冲积扇。在地质历史时期, 奥罗格盆地气候反复变化, 奥罗格湖面积变化幅度极大, 冲积扇剖面呈现水力沉积和风力沉积交替的形势。气候变化以及冲积扇的发育最终导致大约1.5万年前戈壁阿尔泰山诸河无法汇入奥罗格湖, 散流在扇面上逐渐消失。近些年来, 尽管奥罗格盆地气候呈暖干化, 但奥格罗湖水位下降幅度较小。下图示意奥格罗盆地的位置和地形。

【高三文科综合 第7页(共12页)】

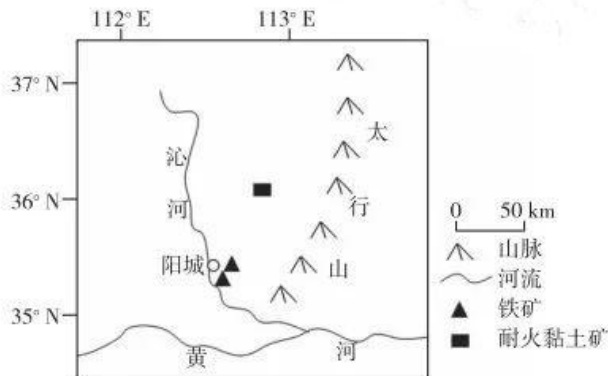
· 23 - 213C ·



- (1)描述戈壁阿尔泰山北麓冲积扇群的形态特征,并简述其特征的成因。(6分)
- (2)分析该区域冲积扇剖面中风力沉积物的形成条件。(6分)
- (3)冲积扇的发育对戈壁阿尔泰山诸河无法汇入奥罗格湖起到重要作用,试分析原因。(4分)
- (4)简述近些年来奥罗格湖水位下降幅度较小的原因。(8分)

37. 阅读图文材料,完成下列要求。(22分)

犁镜是耕犁的重要部件,安装于犁头上方,用以翻土,因常与土块相摩擦致表面发亮而得名。山西阳城是中国重要的冶铁之乡,早在1000年前就开始冶炼犁镜。犁镜的冶炼需要高纯度的生铁,并加入黏土矿作为辅料。阳城冶铁业最兴盛时有犁炉近百座,年产犁镜70万片,品种繁多,除供应国内以外,还远销朝鲜、日本、尼泊尔等国。20世纪80年代以来阳城犁镜逐渐停产。2015年以来,在乡村振兴等国家政策背景下,阳城乡村打造冶铁文化旅游品牌,鼓励部分以传统食宿经营为主的农家乐融入阳城犁镜主题。下图示意阳城的位置。



- (1)简述阳城适合冶炼犁镜的资源条件。(8分)
- (2)阳城犁镜品种繁多,试对此做出合理的解释。(4分)
- (3)说明20世纪80年代以来阳城犁镜逐渐停产的原因。(6分)
- (4)分析以阳城犁镜为主题对农家乐经营发展的意义。(4分)

38. 阅读材料,完成下列要求。(14分)

P县是我国自行车、童车制造企业的主要聚集地,全县有相关企业2600多家,年产自行车1000万辆、童车5000万辆,占到全球市场的40%。

近几年,P县开始打造特色产业集群,打破企业“单打独斗”的经营模式,培育龙头企业,

形成带动引领,支持骨干企业做大做强,支持成长性好、专业性强的中小企业向“专、精、特、新”方向发展。鼓励引导企业由生产多种产品向做精一个主打产品转变。引导企业加强与中国科学院等科研院所和大专院校开展战略技术合作,打造新型材料中心,推动铝镁合金、钛合金等新材料的研发和应用。打造工业设计中心,加快工业设计在自行车、童车产业发展上的应用和植入进程。围绕自行车、童车主导产业,加快向上游的原材料供应、零配件配套和下游的包装物流、网络营销等“微笑曲线”两端延伸。创建网红直播基地、直播中心,打造品牌推广中心,力争建设成为“世界童车之都”。

结合材料,运用经济生活知识,说明P县打造特色产业集群的积极影响。

39. 阅读材料,完成下列要求。(12分)

党的二十大报告指出:“增强党组织政治功能和组织功能,坚持大抓基层的鲜明导向。”

某市贯彻二十大精神,在乡村振兴中切实增强基层党组织政治功能和组织功能。持续加强村党组织带头人队伍建设,派强用好驻村第一书记和工作队,选优配强农村各领域基层党组织带头人,突出在退役军人、返乡青年、大学毕业生、致富带头人等重点群体中发展党员。严格落实主题党日、民主生活会、组织生活会等基本制度,把落实组织生活基本制度情况作为市、县巡察的重点。引导党员干部运用民主协商、耐心说服和典型示范等方法做群众工作,对群众暂时不理解但对长远有好处的事情,要加强教育引导,动之以情、晓之以理,取得群众认同。推动党建与业务深度融合,聚焦乡村振兴工作的难点和痛点,以专家组抓规划、“领头羊”抓建设,实现党建引领乡村振兴全覆盖。

结合材料,运用政治生活知识,说明在乡村振兴中增强基层党组织政治功能和组织功能的意义。

40. 阅读材料,完成下列要求。(26分)

缺水是河南林县(今林州市)千百年来最痛的记忆。1960年2月,在当地县委领导下,林县人民拉开了“十万大军战太行”的序幕,历时近十年,削平山头1250座,开挖隧洞211个,架设渡槽151座,挖砌土石方2229万立方米,在悬崖峭壁上建成一条全长1500公里的“人工天河”——红旗渠。在修渠过程中,林县人民更是孕育出了“自力更生、艰苦创业、团结协作、无私奉献”的红旗渠精神。岁月流逝,精神赓续,半个多世纪以来,林县人秉持红旗渠精神,战太行、出太行、富太行、美太行,一路栉风沐雨,书写传奇。2021年,红旗渠精神成为第一批纳入中国共产党人精神谱系的伟大精神。

2022年10月28日,习近平总书记来到河南安阳林州市红旗渠考察。习近平总书记指出,红旗渠就是纪念碑,记载了林县人不认命、不服输,敢于战天斗地的英雄气概。要用红旗渠精神教育人民特别是广大青少年,社会主义是拼出来、干出来、拿命换来的。红旗渠精神是中华民族不可磨灭的历史记忆,永远震撼人心。年轻一代要继承和发扬吃苦耐劳、自力更生、艰苦奋斗的精神,摒弃骄娇二气,像我们的父辈一样把青春热血镌刻在历史的丰碑上。实现第二个百年奋斗目标也就是一两代人的事,我们正逢其时、不可辜负,要作出我们这一代的贡献。红旗渠精神永在!

- (1)结合材料,运用认识论的相关知识,说明我们对待红旗渠精神的正确态度。(12分)
- (2)结合材料并运用中华民族精神的相关知识,分析红旗渠精神的时代价值。(10分)
- (3)某校拟举办“弘扬红旗渠精神”活动,请你提出两条活动建议。(4分)

41. 阅读材料,完成下列要求。(25分)

材料一

第一次工业革命时期,随着城市化的迅速推进,城市人口迅速增加,城市规模不断扩大,英国出现了严重的粮食短缺问题。快速增长的人口导致了严重的粮食供应紧张、食品价格上涨等问题,甚至还引起了严重的骚乱。1795~1816年,英国共发生1500次暴动,暴乱者经常采用的行动是操纵物价。18世纪末19世纪初的拿破仑战争期间,法国对欧洲大部分地区的港口封锁进一步加剧了英国的粮食危机。面对粮食供应问题,英国中央政府加快推进运河和铁路交通运输网建设,并在反谷物法同盟的推动下最终于1846年废除限制粮食进口的《谷物法》。

——摘编自贾情《第一次工业革命时期英国城市粮食供应问题研究》

材料二

新中国能不能解决吃饭问题关系着新生政权的稳定。据统计,1949年新中国粮食总产量比旧中国历史上产量最高的1936~1937年的2844.6亿斤下降了21%,当年平均每人仅425斤原粮,粮食供应十分紧张。新中国成立之初,在国家财政经济出现困难,粮食等物资供应紧张的情况下,一些不法资本家乘机囤积居奇,哄抬物价,扰乱市场秩序。从1949年4月到1950年2月,全国先后发生4次大的物价波动。面对紧张的形势,中央统一部署,通过征收公粮、收购市场上的商品粮,从粮食富裕地区调度粮食,选择合适的时机在上海等大城市进行抛售,使粮食价格很快得到稳定。此外,中共中央还通过开展大规模农田水利建设、调整农村生产关系等手段来促进粮食生产的发展,从根本上解决了问题,做到标本兼治。

——摘编自高长武《新中国成立第一年解决粮食问题的实践及其经验》

材料三

粮食事关国运民生,粮食安全是国家安全的重要基础。党的十八大以来,以习近平同志为核心的党中央把解决好十几亿人口的吃饭问题作为治国理政的头等大事,提出了新粮食安全观,确立了国家粮食安全战略,我国粮食安全保障能力持续提升。

——摘自国家发改委《中国人的饭碗牢牢端在自己手中,而且里面主要装中国粮》

- (1)根据材料一并结合所学知识,概括工业革命时期英国城市出现粮食供应问题的原因。(10分)
- (2)根据材料一、二,指出新中国成立初期的粮食问题与英国工业革命时期粮食问题产生的不同,并说明新中国成立初期解决粮食问题的措施。(10分)
- (3)综合上述材料并结合所学知识,请你为将“中国人的饭碗牢牢端在自己手中”提出合理的建议。(5分)

42. 阅读材料,完成下列要求。(12分)

材料

历代统治者都十分注重维护国家的安全并致力于实现天下长治久安。下面为部分学者对中国古代国家安全观的论述。

张永攀:古代中国所遭受的“国家安全”威胁主要为国家受周边国外政权威胁;中原王朝受到边疆民族政权威胁;国内政治格局稳定性遭到破坏;天灾、疾疫、饥荒等引发的国家不稳

【高三文科综合 第10页(共12页)】

定状态。中国古代国家安全观的核心可分为政治安全和军事安全两方面内容。秦以来受家天下观念的影响,“国家安全”本质就是“王朝安全”与“皇权稳固”。

赵明畅:中国古代国家安全思想是建立在封建君主制农业社会的基础上的,它以维护政治安全为核心,兼顾经济、军事、文化等安全因素;“民本”思想占有一定地位;强调忧患意识,崇尚和平理念。

根据材料并结合中国古代史的相关知识,围绕“中国古代国家安全”拟定一个论题,并进行阐述。(要求:论题明确,史论结合,表述清晰。)

请考生从2道地理选考题、3道历史选考题中每科任选一题作答。如果多做,则每科按所做的第一题计分。

43. [地理——选修3:旅游地理](10分)

湖南平江的石牛寨景区在120 m高的悬崖上开设了一家占地面积仅2 m²的便利店,由钢条支撑着一排木板搭建而成。该悬崖是景区里的攀岩场所,游客在抵达便利店附近时可用安全锁将自己固定在索道上,腾出双手进行购物。“店老板”是景区内经过专业培训,具备攀岩技能的员工。右图示意石牛寨悬崖便利店的景观。



分析石牛寨悬崖便利店对该景区旅游发展的意义,并从安全角度简述该便利店建设和运营中的注意事项。

44. [地理——选修6:环境保护](10分)

石漠化是指地表土壤损失、基岩裸露,土地丧失农业利用价值和生态环境退化的现象。通常情况下山坡因坡度大,水土流失严重,石漠化程度比山谷高。云南某小流域山谷低缓,谷底原生植被多为灌丛,随着流域人地矛盾加剧,山谷石漠化比山坡更严重。

与山坡相比,说明该地山谷石漠化更严重的原因,并因地制宜提出山谷石漠化的治理措施。

45. [历史——选修1:历史上重大改革回眸](15分)

材料

鸦片战争失败后,国内掀起了以救亡、革新为目标的民族主义浪潮,许多有识之士对日益泛滥的鸦片流毒痛心疾首。20世纪初,清政府在“新政”的口号下,对造成民贫国弱的流毒也有清除之意,于是在全国掀起第二次禁烟运动。禁烟运动从禁种、禁买、禁吸三方面开展。清政府成立戒烟所,由恭亲王溥伟、协办大学士鹿传霖等人主持,指导各省区的禁烟运动。戒烟所印制大量的禁烟告示,遍行张贴。告示将烟毒对人体的危害、政府采取的禁毒措施及毒品防治的具体办法告诉人们。为了使官员更好地执行戒烟政策,清政府还对官员进行监督,拟定《禁烟查验章程》,规定年龄未及60岁的王公世爵、各省督抚将军及都统、副都统等,凡吸食或曾经吸食鸦片者都必须自行陈奏,限时戒断,基本做到令出必行。在清政府的积极努力下,全国大多数省份相继宣布绝种罂粟,各省戒断烟民一百五十余万人。由于各地大力禁烟,鸦片贸易迅速衰落。

——摘编自张永汀《浅议清末新政时期禁毒的举措与成效》



(1)根据材料,概括清末新政时期禁烟运动的特点。(8分)

(2)根据材料并结合所学知识,简析清末新政时期禁烟运动的意义。(7分)

46. [历史——选修3:20世纪的战争与和平](15分)

材料

1948年5月14日,根据联合国大会通过的巴勒斯坦分治决议,犹太人宣布复国,成立以色列,美国立即予以承认。阿拉伯联盟认为在阿拉伯区域内建立一个异教徒国家是对阿拉伯人的侵略,因此在以色列建国的第二天,阿拉伯联盟宣布对以色列进行“圣战”,派兵越过以色列边界,第一次中东战争爆发。阿拉伯联军由埃及、伊拉克、叙利亚、黎巴嫩和约旦等国军队组成。战争一开始,阿拉伯联军占优势,战争迅速推进,以色列被迫退到沿海一带。在战争的关键时刻,以色列得到美国的支持,迅速扭转了战局,不但击退了阿拉伯人的进攻,还向前推进,占领了更多的领土。1949年年初,阿拉伯联盟各国先后与以色列签订了停战协定。但是,停战并未带来和解。阿拉伯难民问题和阿以边界问题一直以来都是困扰阿以关系的主要问题。

——摘编自张建华《世界现代史》

(1)根据材料并结合所学知识,分析第一次中东战争爆发的原因。(7分)

(2)根据材料并结合所学知识,谈谈你从中东战争中得到的认识。(8分)

47. [历史——选修4:中外历史人物评说](15分)

材料

刘知几(661—721年),唐高宗永隆元年(680年)进士及第,长安二年(702年)修撰起居注,成为史官。唐中宗景龙二年(708年),迁为秘书少监,又掌修史之事。当时,由于权贵控制史馆,史官无著述自由,凡事皆需仰承监修旨意,刘知几颇不得志,辞去官职,开始私撰《史通》,详论史书之体例及内容,阐述自己对史学的见解。《史通》对我国古代史学作出了全面的总结,提出了较为系统的史学理论,成为唐代以前我国史论的集大成。刘知几认为,官修史书致使个人的史学思想及见解不能充分发挥,因为史馆著作承接宰相监修的意旨,取材不合当时要求的,或为时所忌讳的,都要删去。他主张写史应当“直书”,反对歪曲史实,认为做一个正直的史家应该有“宁为兰摧玉折,不作瓦砾长存”的气概。在总结前代史学的基础上,刘知几指出只有具备才、学、识“三长”的人,方可成为“史才”。“才”,是指掌握文献的能力、运用体裁体例的能力和文字表述的能力;“学”,是指各方面的知识,主要是文献知识,也包括社会知识以至自然知识;“识”,是指史家的器局和胆识。

——摘编自白寿彝《中国史学史》

(1)根据材料,概括刘知几的史学观念。(6分)

(2)根据材料并结合所学知识,指出刘知几的史学观念产生的背景。(9分)

关于我们

自主选拔在线是致力于提供新高考生涯规划、强基计划、综合评价、三位一体、学科竞赛等政策资讯的升学服务平台。总部坐落于北京，旗下拥有网站（[网址: www.zizzs.com](http://www.zizzs.com)）和微信公众平台等媒体矩阵，用户群体涵盖全国90%以上的重点中学师生及家长，在全国新高考、自主选拔领域首屈一指。

如需第一时间获取相关资讯及备考指南，请关注**自主选拔在线**官方微信号：**zizzsw**。



 微信搜一搜

 自主选拔在线