

2022年高三年级统一质量检测

历史试题

2022.03

注意事项:

1. 答卷前,考生务必将自己的姓名、考生号等填写在答题卡和试卷指定位置。
2. 回答选择题时,选出每小题答案后,用铅笔把答题卡上对应题目的答案标号涂黑。如需改动,用橡皮擦干净后,再选涂其他答案标号。回答非选择题时,将答案写在答题卡上。写在本试卷上无效。

3. 考试结束后,将本试卷和答题卡一并交回。

一、选择题: 本题共 15 小题, 每小题 3 分, 共 45 分。每小题只有一个选项符合题目要求。

1. 图 1 是历史学家对西周手工业园区考古时发现的手工业作坊族徽。这说明西周




图 1

- A. 私营手工作坊已经兴起
 - B. 手工业实行世工世族制
 - C. 手工业是主要的生产部门
 - D. 手工作坊以青铜铸造为主
2. 《三国志》记载, 孙权封儿子孙奋为齐王, 居武昌; 孙休为琅邪王, 居虎林 (今安徽省)。而齐与琅邪均位于曹魏政权境内。孙权该举措的主要意图是
- A. 瓦解分化曹魏政权
 - B. 阐明政权的合法性
 - C. 表明统一南北的意志
 - D. 制造统一全国的舆论
3. 哈密市拉甫却克墓地发掘出土了五铢钱、开元通宝、漆木器、仿东罗马金币、萨珊波斯银币、金戒指、瓜棱珠大耳环等器物。这
- A. 证明该墓葬形成不晚于唐朝初年
 - B. 说明中国手工业水平领先于世界
 - C. 体现了西域开始同中原建立联系
 - D. 反映了东西文化间的交流与融合

历史试题 第 1 页 共 7 页

4. 《辽史》记载,“方夏,长养、鸟兽孳育之时,不得纵火于郊”。该思想
- A. 有利于生物资源的保护
 - B. 加速了少数民族封建化
 - C. 推动了北方农业的发展
 - D. 促进了边疆地区的开发
5. 1570年,明穆宗批准了户部条议恤商事宜,规定各监局“有需求抑勒者,悉治其罪”,还屡下诏察革官府私自抽税。这些做法
- A. 直接增加了政府收入
 - B. 抑制了土地兼并现象
 - C. 促进了商品经济发展
 - D. 强化了重农抑商政策
6. 鸦片战争期间,一些民众向英军出售粮食、畜禽、淡水,以图获利;另一些民众为他们充当苦力,从事运输,以求工值。该现象表明
- A. 民众民族意识淡漠
 - B. 清政府统治的腐朽
 - C. 英军善于分化抗英力量
 - D. 沿海民众商业观念较强
7. 20世纪初,清政府主持制定的《大清民律草案》规定:“权利能力及行为能力不得抛弃”、“人格关系受侵害者,得请求排除其侵害”、“姓名权受侵害者,得请求排除其侵害”。该规定
- A. 直接导致了清政府的崩溃
 - B. 用法律形式肯定了人格权
 - C. 使中国人民实现自由与平等
 - D. 是“中体西用”思想的延续
8. 1946年5月4日,中共中央发出指示:“我党应坚决拥护群众从反奸、清算,减租、减息、退租、退息等斗争中,从地主手中获得土地,实现耕者有其田。”这旨在
- A. 巩固抗日民主政权
 - B. 推动联合政府建立
 - C. 争取民主革命胜利
 - D. 彻底消灭封建势力
9. 图2创作于1951年。该作品反映了当时我国



图2

历史试题 第2页 共7页

- A. 国民经济得到了全面恢复
B. 社会主义工业化成就突出
C. 工业建设以重工业为中心
D. 人民经济建设的热情高涨
10. 2001—2010年中国对外直接投资连续保持增长势头,年均增速达50%左右。10年累计对外直接投资存量超过3000亿美元。该现象主要得益于
- A. 全方位外交政策的推行
B. 国有企业改革全面展开
C. 全方位对外开放新格局的形成
D. 国家进一步加大改革开放步伐
11. 《汉谟拉比法典》规定:“法官审理案件,宣告裁判,并交付判决书后,经证明该案件为不成立而法官又经判决确定犯有误判之罪者,处该案中刑罚之十二倍。该法官并应于公众集会中推出审判席,永久不得复职。”这一规定旨在
- A. 保证司法公平 B. 解决社会纠纷 C. 规范司法程序 D. 完善法律体系
12. 路德教认为,“上帝所允许的唯一生产方式,并不是要人们经过苦修禁欲主义来超越世俗道德,而是要人们完成自己在现实中所处的地位所赋予的责任和义务。这可以算是他的天职”。该思想
- A. 摆脱了天主教会思想的长期束缚
B. 体现了新教派对职业劳动的认可
C. 奠定了宗教改革运动的理论基础
D. 推动了资产阶级革命运动的高涨
13. 16世纪以前英国救济贫困多是通过教会、修道院、教会医院和同业行会进行,属于民间或者宗教性质的救援活动。1601年,伊丽莎白女王颁布济贫法,规定地方的治安法官可以教区为单位进行社会救济、征收济贫税和核发救济费用等。该法律的颁布
- A. 扩大了治安法官的司法权力
B. 弱化了教会的社会救助功能
C. 明确了救济贫困是政府的职责
D. 发展了英国现代社会保障制度
14. 图3是苏联(俄)历史上某一时期经济体制模式的主要特点。据此判断该时期是
- 除了农业外,几乎对全部经济(包括对超过5人的小企业)都实行国有化,以此来达到最大限度地扩大国有制企业
 - 分配上实行高度的平均主义
 - 实行劳动力的强制分配和普遍劳动义务制

图3

- A. 1918-1921年 B. 1921-1927年 C. 1928-1956年 D. 1956-1964年

历史试题 第3页 共7页

15. 20世纪60年代,联合国接纳的43个新会员国都是第三世界国家,在70年代接纳的33个新会员国中除了两个德国以外也都是第三世界国家。这一现象
- A. 标志着美国霸权主义的衰落
 - B. 有力的冲击了两极对峙格局
 - C. 标志着世界殖民体系的瓦解
 - D. 表明国际政治新秩序的建立

二、非选择题: 本题共4小题, 共55分。

16. (14分) 阅读材料, 回答问题。

材料

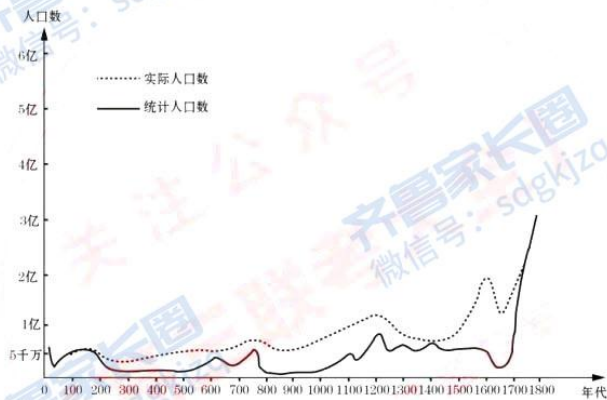


图4 中国古代人口变化图

——摘自韩茂莉《中国历史地理十五讲》

图4中实际人口数与统计人口数或基本一致或差距很大。根据图4并结合所学知识对上述历史现象做出说明。(14分)

17. (15分) 阅读材料, 回答问题。

材料

蔡元培(1868年1月11日—1940年3月5日)的救国之路年表(部分)

时间	活动
1868年	出生在浙江省绍兴府的山阴县。
1892年	经殿试中进士, 被点为翰林院庶吉士。
1902年	同蒋智由等在上海创办中国教育会并任会长, 从事教育和革命活动。
1904年	组织建立了光复会。
1905年	被孙中山委任为同盟会上海分会负责人。
1907年	在莱比锡大学研究心理学、美学、哲学诸学科。
1912年	就任南京临时政府教育总长, 主持制定了《大学令》和《中学令》, 强调要把学校建成健全的国民的学校。他提出“军国民教育、实利主义教育、公民道德素质教育、世界观教育、美感教育”。他主张采用西方教育制度, 确立起中国资产阶级民主教育体制。
1915年	他与李石曾、吴玉章等组织华法教育会, 周恩来、邓小平等都是通过此组织的帮助在法国留学。
1916年	担任北京大学校长, 之后他聘请《新青年》主编陈独秀为文科学长, 聘请李大钊、胡适、钱玄同等在北大任教, 采用“思想自由, 兼容并包”的办学方针, 实行“教授治校”的制度, 提倡学术民主, 支持新文化运动。
1919年	五四运动中支持学生爱国行动, 多方营救被捕学生。

——摘编自张晓唯《蔡元培评传》

(1) 根据材料, 指出19世纪末至20世纪初期蔡元培人生追求的变化。并结合所学知识, 分析原因。(6分)

(2) 根据材料, 请你为蔡元培撰写个人简介。(要求: 充分利用历史年表, 选择恰当的时空尺度对人物进行分析、综合, 在时代与个人关系的基础上作出合理的解读, 不超过300字。)(9分)

18. (14分) 某历史兴趣小组以“建国初期的治国理政”为课题开展研究性学习。学习过程中，搜集并整理了以下材料。阅读材料，回答问题。

材料一 毛泽东开创新中国治国理政的科学范式



图5

材料二

《人民日报》商业广告抽样分类和统计比较

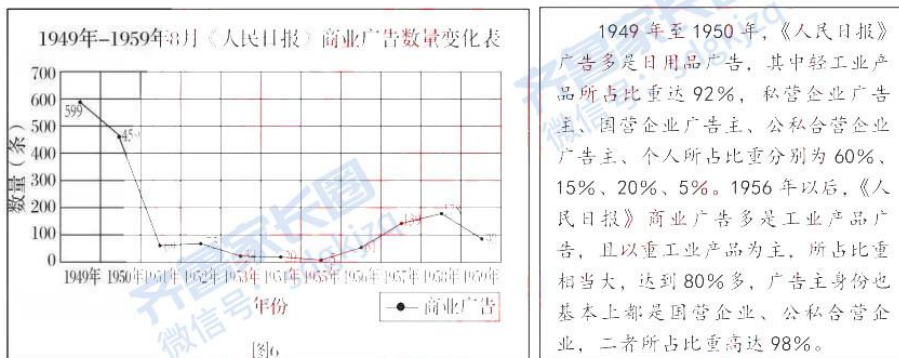


图6

材料三

二战后国际形势图



图7

- (1) 根据材料一,从历史主义的维度概括建国初期治国理政科学范式的内涵。(2分)
- (2) 你认为研究该课题时,兴趣小组为什么要搜集、研究《人民日报》的商业广告?
(6分)
- (3) 根据材料三并结合所学知识,从世界的维度对建国初期治国理政的意义加以阐释。
(6分)

19. (12分) 阅读材料,回答问题。

金本位制

金本位制是一种以一定成色及重量的黄金为本位货币的货币制度。实行金本位制的国家,必须做到以下几点:(1) 货币储备全部是黄金,并以黄金进行国际结算;(2) 准许黄金自由进出口;(3) 用黄金规定货币的价值,纸币可以自由兑换成金币或等量金。这是一种相对稳定的货币制度。

1816年英国在世界上首先实行金本位制,在19世纪70年代之后,各主要资本主义国家相继实行了金本位制。这样,黄金不仅在各主要资本主义国家内起货币作用,而且作为国际间的支付和最后清偿手段,即形成了国际金本位制度。它对世界经济和国际贸易的发展起过积极的作用,西方把1880—1914年这段时期称之为国际金本位制的“黄金时代”。

——摘编自张新颖《英国霸权下的国际金本位制》

根据材料并结合所学知识,谈谈你对“金本位制”的认识。(要求:表述成文,叙述完整,史论结合,逻辑清晰。)(12分)

青岛市2022年高三年级第一次适应性检测

历史参考答案

一、选择题: (每小题3分, 共45分)

题号	1	2	3	4	5	6	7	8	9	10	11	12	13	14	15
答案	B	C	D	A	C	A	B	C	D	D	A	B	C	A	B

二、非选择题: 本大题共4小题, 共55分。

16. (14分)

答案示例:

统计人口数长期低于实际人口数。说明: 地方分裂割据, 基层治理体系被破坏, 户籍管理较难, 缺乏统一统计数据; 社会动荡不安, 人民流离失所, 缺乏对流动人口统计; 现有户籍人口的赋役负担较重, 进而导致农民依附豪强地主或流亡。如东汉末年(魏晋南北朝时期)。

两者数据基本一致。说明: 国家统一, 社会稳定, 流动人口少; 中央集权加强, 政府为征发赋役, 重视户籍管理, 重视对人口的统计与控制; 赋税政策的调整, 人头税取消, 隐匿户口减少, “摊丁入亩”的实施。如清朝。

17. (15分)

(1) 变化: 从致力于科举入仕到走上武装反清、教育救国之路。

原因: 从民族危机和中国执政府统治的角度作答; 从蔡元培个人经历的角度作答。(对中国优秀传统文化遗产的继承; 向西方学习; 个人的学识和责任感、爱国主义等)。(6分)

(2) 蔡元培(1868—1940), 浙江绍兴人, 资产阶级民主革命家和教育家。担任过教育总长、北京大学校长等职。他的人生历程, 经历清政府、南京临时政府、北洋政府和国民党政府四个时期, 早年致力于科举入仕, 后经历过辛亥革命、新文化运动、五四运动, 践行了爱国和民主的政治理念。他提出“五育并举”及“思想自由、兼容并包”的教育主张, 进行教育改革, 推动中国形成了较完整的资产阶级教育思想体系和教育制度, 其教育主张和实践, 影响中国的教育至今。他使北大成为新文化运动的主阵地, 为新民主主义革命的开始创造了条件。他为中华民族保护了一批思想先进、才华出众的学者。对近代中国教育和革命做出重要贡献。(9分)

18. (14分)

(1) 由专制走向社会主义民主, 由人治走向社会主义法制。(2分)

(2) 《人民日报》为中共中央的机关报, 所刊载的商业广告内容从侧面反映了一个时代的社会经济的变迁, 是研究建国后初期治国理政的一手史料。研究小组对《人民日报》商业广告的抽样分类和统计比较, 从广告数量、产业结构、所有制结构的变化, 反映出此时期新中国完成了国民经济的恢复、三大改造、一五计划, 逐步建立了生产资料公有制占绝对优势的社会主义计划经济体制, 我国开始改变工业落后的面貌, 人民生活水平得到提高。(6分)

(3) 美苏冷战, 两极格局渐趋形成, 以美国为首的资本主义国家实行敌视和封锁中国的政策; 亚非拉许多国家摆脱了殖民枷锁, 赢得了独立。在复杂的国际环境下, 新中国在国家制度与社会治理、经济发展与社会生活、文化教育制度变革方面完成了向社会主义的过渡, 推动了马克思主义的发展, 推动了世界和平与发展的进程。推动了殖民体系的瓦解, 为新兴

国家的国家治理、民族复兴提供了重要参考。(6分)

19. (12分)

对“金本位制”的认识应包括以下三个层面:

“金本位制”形成的背景,殖民扩张和工业革命使英国具有强大的经济实力,资本主义世界市场的形成,自由资本主义经济体系的形成。

“金本位制”形成过程的特点,由英国主导,其他资本主义国家相继推行。

“金本位制”的影响,如促进了资本主义生产和世界经济的发展;有利于英国的经济扩张。

说明:以上答案仅供参考,若学生答题有所创新,且言之成理,教师可酌情赋分。

关于我们

齐鲁家长圈系业内权威、行业领先的自主选拔在线旗下子平台，集聚高考领域权威专家，运营团队均有多年高考特招研究经验，熟知山东新高考及特招政策，专为山东学子服务！聚焦山东新高考，提供新高考资讯、新高考政策解读、志愿填报、综合评价、强基计划、专项计划、双高艺体、选科、生涯规划等政策资讯服务，致力于做您的山东高考百科全书。

第一时间获取山东高考升学资讯，关注齐鲁家长圈微信号：sdgkjzq。



微信搜一搜

齐鲁家长圈

打开“微信 / 发现 / 搜一搜”搜索