

2021 届普通高中教育教学质量监测考试

全国 I 卷 文科综合

注意事项:

1. 本试卷分第 I 卷(选择题)和第 II 卷(非选择题)两部分。
2. 答题前,考生务必将自己的姓名、准考证号填写在本试卷相应的位置。
3. 全部答案写在答题卡上,写在本试卷上无效。
4. 本试卷满分 300 分,测试时间 150 分钟。
5. 考试范围:高考全部内容。

第 I 卷

本卷共 35 个小题,每小题 4 分,共 140 分。在每小题给出的四个选项中,只有一项是符合题目要求的。

四川省是我国枇杷的主要产区,每年 4 月,都会有大量枇杷集中上市。传统枇杷秋冬开花、春季成熟,多种植于海拔 600~650 米的山地阳坡,海拔 600 米以下和 650 米以上的区域种植较少。为减少自然灾害和上市集中等问题带来的影响,我国科技人员经过 20 多年研究,培育出春季开花、夏季成熟的“春花枇杷”。据此完成 1~2 题。

1. 适宜在“传统枇杷”种植区种植“春花枇杷”的地块
 - A. 热量条件较好
 - B. 冻害发生较频繁
2. “春花枇杷”的推广可使枇杷
 - A. 生长周期延长
 - B. 成熟期过集中

- C. 纬度位置较低
- D. 土壤肥力较低
- C. 市场竞争激烈
- D. 种植范围扩大

位于南美洲中高纬度地区的圣克鲁斯河,全长 385 千米,水能资源丰富且稳定,流经巴塔哥尼亚沙漠,河水清澈,水生生物较少。荒原地区羊驼总数多达 100 万只,另外还有成群的鸵鸟。由我国承建的圣克鲁斯河水电站(如图 1 所示),是阿根廷历史上规模最大的水电项目。据此完成 3~5 题。

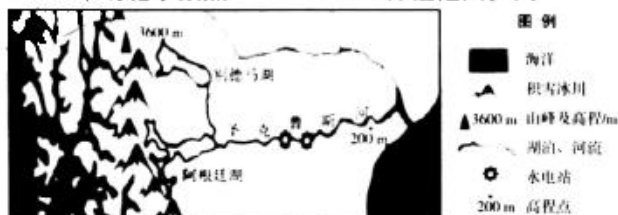


图 1

3. 圣克鲁斯河水能资源的稳定性,突出体现在
 - A. 年际变化
 - B. 沿河变化
 - C. 季节变化
 - D. 昼夜变化
4. 影响圣克鲁斯河水能资源稳定性的主要因素有
 - ①信风
 - ②洋流
 - ③湖泊
 - ④气温
 - A. ①②
 - B. ②③

- C. ②④
- D. ③④
- C. 泥沙淤积
- D. 动物搬迁

5. 圣克鲁斯河水电开发项目在建设过程中较少考虑的问题是
 - A. 冰川保护
 - B. 鱼类洄游

近年来,中国对巴西大豆的进口依存度越来越高。中巴大豆贸易主要有 3 条里程相当、耗时相近的海运路线,分别为①巴西经过巴拿马运河到中国(60.5 天)、②巴西经合恩角到中国(58 天)、③巴西经好望角到中国(60.5 天)。受巴西大豆种植情况、海洋运输等因素影响,中国自巴西进口大豆有明显的时间变化(如图 2 所示,统计数据来源于我国海关总署)。据此完成 6~8 题。

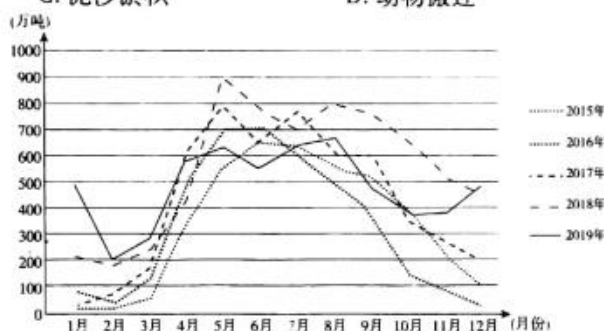
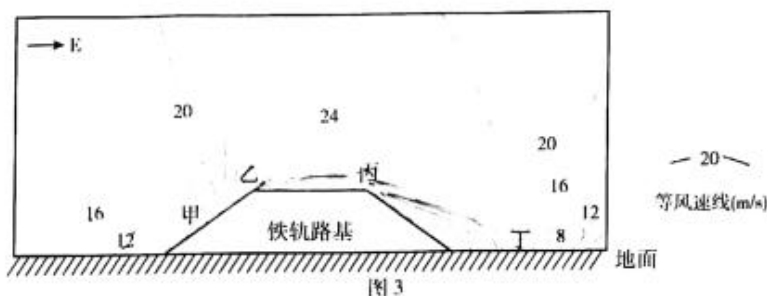


图 2

6. 中国自巴西进口大豆的时间变化特征是
 - A. 总量逐年递增
 - B. 高峰期 of 巴西秋冬季
 - C. 年际波动较小
 - D. 低谷期为巴西冬春季
7. 推测巴西大豆的收割期在
 - A. 2~4 月
 - B. 5~7 月
 - C. 8~11 月
 - D. 12 月~次年 1 月
8. 与路线②、③相比,路线①平均运费较高的原因是
 - A. 运输时间较长
 - B. 运输距离较长
 - C. 运河服务收费
 - D. 风浪大耗能多

格库铁路青海段地处柴达木盆地南缘,气候干燥,风大且频率高,沿线沙源比较丰富。经过调查,沙埋路基

是格库铁路青海段的主要沙害之一。图3示意该路段某处路基周围风速分布图(单位:m/s)。据此完成9~11题。



9. 图示路段的盛行风向为
A. 偏东风 B. 偏南风 C. 偏西风 D. 偏北风
10. 导致该铁路东西两侧风速差异的主导因素是
A. 路基高凸 B. 温度 C. 太阳辐射 D. 气压
11. 图中四地细沙堆积最多的是
A. 甲 B. 乙 C. 丙 D. 丁
12. 互联网技术的飞速发展,让知识付费成为一股新潮流。网络平台上的知识问答区,内容打赏区及付费社群内,贴满了各种各样的问答。世界著名古典音乐赏析、职场心理成长课等在线音视频课程也得到开发和售卖。知识付费的出现
①表明知识因其有用性而具有较大的价值 ②使知识生产和获取的方式更加多元化
③得益于信息技术和移动支持技术的发展 ④推动了发展型消费向享受型消费转变
A. ①② B. ①④ C. ②③ D. ③④
13. “专精特新”中小企业是指具备专业化、精细化、特色化、新颖化四大优势的中小企业。财政部和工信部计划2021年至2025年,中央财政安排100亿元资金,重点支持1000余家国家级专精特新“小巨人”企业高质量发展。下列符合专精特新企业评选标准的是
①企业具备完整的精细化管理方案 ②企业拥有横向和纵向完整的产业链
③企业核心产品在全球享有高知名度 ④企业主导产品在细分市场的占有率高
A. ①② B. ①④ C. ②③ D. ③④
14. 2021年《政府图像对象》出,要大力推进我国内外贸产品“同线同标同质”。这意味着出口企业要在同一条生产线上,按照相同的标准生产出口和内销产品。此举有利于
①提高我国产品的国际竞争力,提高经济效益 ②转变引进外资的方式,优化我国利用外资结构
③形成需求牵引供给、供给创造需求的良性循环 ④满足人们消费升级的需要,吸引海外消费回流
A. ①② B. ①③ C. ②④ D. ③④
15. 《中华人民共和国国民经济和社会发展第十四个五年规划和2035年远景目标纲要》提出:要坚持鼓励竞争、反对垄断,完善竞争政策框架,构建覆盖事前、事中、事后全环节的竞争政策实施机制。强化竞争政策基础地位
①是推动有效市场和有为政府更好结合的重大举措
②旨在运用价格机制调节社会资源配置,促进优化配置
③有利于完善公平开放透明的市场规则,降低经营风险
④对于建设现代化市场体系、优化营商环境具有重大意义
A. ①② B. ①④ C. ②③ D. ③④
16. 习近平总书记指出,如果人民只有投票的权利,那就是不完整的民主。2021年3月,十三届全国人大四次会议将全国人大及其常委会坚持“全过程民主”写入法律。坚持“全过程民主”
①关键是发挥协商民主这一社会主义民主政治的独特优势
②必须将民主贯穿于选举、决策、管理、监督的全过程
③要坚持民主集中制,将民主建立在相对集中的基础上
④要坚持党的领导、人民当家作主、依法治国有机统一
A. ①② B. ②④ C. ①③ D. ③④
17. 2021年3月,M地公安机关对网民李某、刘某等人在网络上歪曲事实、诋毁贬损革命英烈等违法犯罪行为依法予以严厉打击,并依法刑事拘留了在网上发布丑化英雄烈士言论的犯罪嫌疑人许某。对此认识正确的是
①尊崇英雄是全体社会成员应尽的共同责任 ②应完善行政监督体系,加强对网络平台的监管
③网络不是法外之地,网民要自觉遵守法律法规 ④当个人利益与集体利益冲突时要维护集体利益
A. ①② B. ①③ C. ②④ D. ③④
18. 2021年3月,外交部长王毅表示,“疫苗民族主义”开始在全球滋生,占世界人口16%的富国获取了全球60%的疫苗,许多发展中国家正面临严重疫苗短缺,“免疫鸿沟”正在成为令人遗憾和不幸的现实。对此,中国可采取的措施有
①倡导人类共同体理念,推进构建公正合理的国际新秩序
②稳健推进我国全民免费接种新冠疫苗,构筑人群免疫屏障

- ③将疫苗作为全球公共产品,以公平、合理价格向世界供应
④以常任理事国身份敦促安理会通过反对“疫苗民族主义”决议
A. ①③ B. ①④ C. ②③ D. ②④
19. 央视《美术经典中的党史》特别节目用“以画为体,以史为魂”的结构方式,从中国共产党成立以来各个历史时期、特别是党的十八大以来美术作品中,遴选出100件最具代表性的美术经典作品,生动再现中国共产党100年来波澜壮阔的光辉历程,节目播出后,好评如潮。该节目
①推动了文化传播手段的创新 ②在传播过程中融德育和美育于一体
③成功播出离不开特定的物质载体 ④推动了中华优秀传统文化的传播
A. ①② B. ②③ C. ①④ D. ③④
20. 2021年3月,匈牙利布达佩斯中国文化中心网络平台上推出“旗袍魅力·共同设计一件匈牙利风格旗袍”活动。该活动先展示旗袍的历史渊源、装饰特色,然后邀请当地网友选出中意的花色和工艺,最后由当地设计师据此制作出具有匈牙利风格的中式旗袍。该活动
①有利于促进中匈服饰文化间的交流、借鉴与融合 ②以喜闻乐见的形式保障当地民众基本文化权益
③旨在吸收世界服饰元素推进中华服饰文化的创新 ④体现中国服饰文化既是民族的又是世界的
A. ①② B. ②③ C. ①④ D. ③④
21. 习近平总书记《在党史学习教育动员大会上的讲话》中引用了中国古语:度之往事,验之来事,参之平素,可则决之。”这句古语启示我们在作出决定时要
①把握前后联系,增强自觉选择性 ②勇于实践,在实践中不断超越真理
③把握事物变化发展的规律和趋势 ④消除制约事物发展的各项不利条件
A. ①② B. ①③ C. ②④ D. ③④
22. 图4漫画启示我们在认识和改造世界时要
①充分发挥主观能动性,善于利用有利条件
②对客观存在作出如实而不歪曲的反映
③明确实践总能把观念中的东西变成现实的东西
④把握矛盾双方,推动事物朝积极方面转化
A. ①② B. ②③ C. ①④ D. ③④
23. “十三五”期间,中国税制改革始终围绕发展大局,全方位实施,多领域并进取得新突破,一个税制合理、税负稳定、结构优化、管理规范的中国现代税制体系初步建成,各项税制改革落地有声,迅速惠及市场主体,税收调节作用不断显现,经济活力增强。这表明
①上层建筑的调整会促进经济基础的巩固 ②生产关系适应生产力发展会解放生产力
③改革是发展中国特色社会主义的强大动力 ④解决社会基本矛盾会推动社会由低级向高级发展
A. ①③ B. ①④ C. ②③ D. ②④
24. 有学者认为“该制度下每个中心都以结构复制的方式,将中心的治理模式、文化生态等特性‘粘贴’下来,即部分拥有整体的全部功能。因此,当一个中心被摧毁后,其他中心可以重建系统。”该学者意在强调
A. 中央集权制度呈现出稳定性 B. 郡县与中央的组织结构相同
C. 宗法制家国一体的政治结构 D. 分封制具有防乱御变的价值
25. 汉唐时期昭君出塞、唐蕃和亲政策演绎到了家喻户晓,其实早在周朝时期晋国与戎人和亲,称为和戎,周王朝与九州以外的边蕃地区和亲,称为和蕃。这可以用来说明我国古代
A. 边疆政策具有历史延续性 B. 和亲是边疆治理主要手段
C. 联姻有利于王朝开疆拓土 D. 民族交融有利于中央集权
26. 下表是唐朝长安朱雀街东坊内商业分布一览表(节选部分)。这反映出唐代



图4

商店行业类型	地理位置	营业年代	出处
鬻饼者	胜业坊	开元六年(718年)	《唐两京城坊考》卷2
胡饼贩卖	宣平坊	天宝三年(744年)	《太平广记》卷42
茶肆	永昌坊	太和九年(835年)	《旧唐书》卷169
旅馆	崇仁坊	唐后期	《太平广记》卷196

- A. 商店行业类型较为单一
B. 市场不再受官府直接监管
C. 商品经济有了一定发展
D. 传统的坊市制度已经瓦解
27. 图5是学者统计的明清时期疫情频次与地理分布图。据此可以看出
A. 疫情与专制主义中央集权空前加强有关
B. 经济发达地区疫情爆发频次相对较多
C. 沿海地区因外国人来华贸易而疫情严重
D. 疫情频次反映经济重心南移的发展趋势
28. 同治二年(1863年),李鸿章写信给友人感叹:“长江通商以来,中国利权操之外夷,弊端百出,无可禁阻”。同治七年李鸿章在奏章中称:

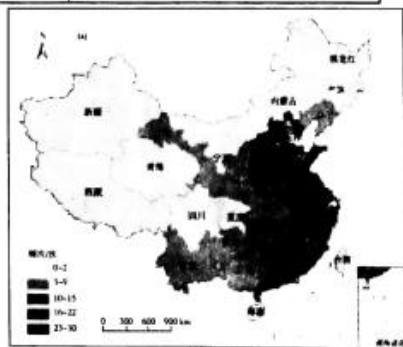


图5

“西人修约,无非上侵国家利权,下夺商民生计,皆可引万国公法直言斥之。盖各国均有保护其民,自理赋之权。”这些言论表明李鸿章

- A. 坚持天朝上国的传统观念
B. 力图建立近代外交体制
C. 具有了近代国家主权意识
D. 对列强侵华无清醒认识

29. 五四时期中国出现诸多社团,有学者按其性质整理为如下表格。据此可知,这些社团的建立

社团类型	左派思想类型	中间分裂类型	右派思想类型
社团特点	思想激进,具有彻底的革命性	统一的形式,内部存在明显分歧	成立之初宣传革命、发扬民主;之后拒绝革命
代表社团	北京大学马克思学说研究会等	少年中国学会等	新潮社等

- A. 使反帝反封建的思想深入人心
B. 为中国共产党成立奠定了组织基础
C. 促进了中国民主革命的新发展
D. 为马克思主义传入中国创造了条件
30. 1938年,国民政府提出,“政府根据民生主义信条,实施计划经济,凡事业之余国营者,由国家筹集资本,从事兴办,务使之趋于生产的合理化”。1942年比1933年,政府经营的企业占比由2.71%上升到17.45%。国有企业占比上升是由于国民政府
- A. 加强了对经济的干预
B. 推动沿海民族企业大量内迁
C. 建立了计划经济体制
D. 违背了节制私人资本的主张
31. 1955年10月中国第一拖拉机厂在仅有9万人,工业基础薄弱的豫西重镇洛阳开工建设。之后十余个大型重工业厂矿相继落户,洛阳成为中国重要的工业城市。选址洛阳是为了
- A. 就近接受苏联经济援助
B. 调整沿海内陆工业布局
C. 优化我国轻重工业结构
D. 改变我国工业落后面貌
32. 古希腊法律规定亵渎神灵应被判处死刑。同样被告亵渎神灵,大哲学家苏格拉底为自己做了辩护,经陪审团投票被判处死刑;下层女子弗里娜则因专业辩护人动情的言辞感动了陪审团,经投票无罪释放。这反映出
- A. 陪审法庭审判程序存在着严重的弊端
B. 法律的理性价值被直接民主淹没
C. 被告罪名是否成立由辩论者素质决定
D. 希腊法律保护平民打击贵族利益
33. 意大利拉斐尔与明代唐寅都是15世纪向16世纪过渡时期的绘画大师。唐寅开创了“削肩仕女图”,作品中的仕女削肩若削成,腰如丝索,呈现出男权下女性的抑郁与柔弱。拉斐尔笔下的圣母则被诠释成一位慈祥的母亲,美丽、端庄、温和动人。据此可知两者的作品都



唐寅作品



拉斐尔作品

图6

- A. 是资本主义经济在艺术上的反映
B. 使用了相同的绘画工具和材质
C. 反映出画家具有人文主义的情怀
D. 体现了东西文化的交流与融合
34. 美国《农业调整法》颁布后,缩减耕地,使原本就很少土地的中小农民面临破产的境地,而大农场主抛荒的耕地得到了政府的补贴,有些农场主用政府补偿款购买拖拉机等农用机械设备,提高了劳动生产率的同时使一部分农业工人失业。由此可见
- A. 新政没有解决农业生产过剩问题
B. 这些措施不利于美国实现农业现代化
C. 罗斯福新政的效果需要辩证看待
D. 新政缓和了农场主和农业工人的矛盾
35. 近年来,在伊核问题上西方大国反对美国退约、俄罗斯与德国的天然气管道建设力排美国干扰、欧盟多国反对美国在北约军费问题上的霸凌;另一方面,在对俄罗斯的集体制裁上、对中国南海、统一和人权问题上西方大国积极配合美国充当马前卒。西方大国的上述行为
- A. 表明区域集团联合是世界的潮流
B. 使经济全球化面临着诸多困境
C. 有利于世界朝着多极化方向发展
D. 说明多极化还未形成稳定格局

第Ⅱ卷

本卷包括必考题和选考题两部分。第36题~第42题为必考题,每个试题考生都必须作答。第43题~第47题为选考题,考生根据要求作答。

36. 阅读图文材料,完成下列要求。(24分)

超级帘子布浆,是生产飞机轮胎的重要材料。二十世纪五十年代,美国禁止向苏联出口超级帘子布浆。为了战备,苏联决定自行生产。生产这种布浆需要高质量的生产用水和大量优质木材。1959年,贝加尔制浆造纸厂落户于贝加尔湖西南岸,贝加尔斯克市随之兴起;该市的近2万个工作岗位、98%的工业产值以及生活污水的处理和冬季供热均由制浆造纸厂提供。但是,建成至今,贝加尔制浆造纸厂因环保问题多次濒临关停。



图7

- (1) 分析贝加尔斯克市建设大型制浆造纸厂的有利区位条件。(6分)
- (2) 说明贝加尔制浆造纸厂长期难以被关停的原因。(8分)
- (3) 在不迁厂、不转产的情况下,阐释为解决贝加尔制浆造纸厂带来的环境问题,应采取的有效措施。(4分)
- (4) 如果制浆造纸厂未来必须关停,请为贝加尔斯克市的经济可持续发展提出建议。(6分)

37. 阅读图文材料,完成下列要求。(22分)

东岛,位于我国西沙群岛东部,距海南岛约337千米,面积约1.6平方千米,是西沙群岛中面积第二大岛。岛上原始丛林郁郁葱葱,丛林中鸟类数量繁多,拥有保护级别的红脚鲣鸟等数十种鸟类。最独特的是,丛林里还有上百只“野牛”。研究发现,东岛上难以自然独立演化出野牛,“野牛”是我国古代居民从内陆带上岛屿的家牛野化而来。为确定“野牛”的登岛时间,科研人员对该岛牛塘(距海约100米,为牛群唯一淡水源地)的沉积物进行了样本采集。根据从牛塘采集到的长126厘米、有着鸟粪和牛粪沉积物的沉积柱,推知大约1300多年前牛塘位于海面以下,且“野牛”登岛时间不超过350年。图8示意东岛地理位置及其地理事物分布。



图8

- (1) 东岛“野牛”登岛较晚,说明其依据。(4分)
- (2) 分析东岛无法自然演化出野牛的原因。(6分)
- (3) 阐释家牛登岛后能够在东岛逐渐野化并繁衍至今的地理环境条件。(12分)

38. 阅读材料,完成下列要求。(14分)

材料一 一群牧民面对向他们开放的草地,每一个牧民都想多养一头牛,因为多养一头牛增加的收益大于其购养成本,是合算的,但是因平均草量下降,可能使整个牧区的牛的单位收益下降。每个牧民都可能多增加一头牛,草地将可能被过度放牧,从而不能满足牛的食量,致使所有牧民的牛均饿死。这就是公共资源的悲剧。过度砍伐的森林,过度捕捞的渔业资源以及污染严重的河流和空气都是“公地悲剧”的典例。

材料二 生态补偿机制是以保护生态环境、促进人与自然和谐为目的,根据生态系统服务价值、生态保护成本、发展机会成本,综合运用行政和市场手段,调整生态环境保护和建设相关各方之间利益关系的一种制度安排,这一机制体现“谁开发谁保护、谁破坏谁治理、谁投资谁受益”的原则。我国提出要健全生态保护补偿机制,加大重点生态功能区、重要水系源头地区、自然保护区财政转移支付力度;完善市场化多元化生态补偿,鼓励各类社会资本参与生态保护修复;建立生态产品价值实现机制,在长江流域和三江源国家公园等开展试点,实现政府与市场“两只手”的协调互补,努力提供更多更优质的生态产品。

(1)在市场经济中,企业面对公共环境资源有可能“过度放牧”,引发“公地悲剧”,运用所学经济生活知识,

分析环保领域产生“公地悲剧”的原因。(6分)

(2)结合材料,运用所学经济生活知识,说明我国健全生态保护补偿机制措施的依据。(8分)

39. 阅读材料,完成下列要求。(12分)

在全党开展集中性学习教育,是我们党推进自我革命的重要途径,也是一条重要经验。党的十八大以来,党中央先后组织开展五次集中性学习教育:

活动一 2013年5月9日,中共中央下发了《关于在全党深入开展党的群众路线教育实践活动的意见》,本次活动围绕保持党的先进性和纯洁性,让全体党员干部做到“为民务实清廉”。

活动二 2015年4月,中共中央办公厅印发《关于在县处级以上领导干部中开展“三严三实”专题教育方案》,“三严三实”是指“既严以修身、严以用权、严以律己;又谋事要实、创业要实、做人要实”。

活动三 2016年,党中央决定在全体党员中开展“学党章党规、学系列讲话,做合格党员”学习教育;2017年3月,中共中央办公厅印发了《关于推进“两学一做”学习教育常态化制度化的意见》。

活动四 2019年5月13日,中共中央政治局召开会议,决定在全党自上而下分两批开展“不忘初心、牢记使命”主题教育。

活动五 中共中央决定,2021年在全党开展党史学习教育。要求全党同志做到学史明理、学史增信、学史崇德、学史力行。

结合材料,运用所学政治生活知识,说明在全党开展集中性学习教育的意义。(12分)

40. 阅读材料,完成下列要求。(26分)

材料一 三星堆古遗址位于四川省广汉市西北的鸭子河南岸,分布面积12平方千米,距今已有5000至3000年历史,是迄今在西南地区发现的范围最大、延续时间最长、文化内涵最丰富的古城、古国、古蜀文化遗址。其中出土的文物是宝贵的人类文化遗产,在中国的文物群体中,属最具历史、科学、文化、艺术价值和最富观赏性的文物群体之一。2021年3月20日,三星堆遗址考古工作中新发现的6个“祭祀坑”已出土了500多件重要文物。

材料二 历史学界一向认为,与中原地区相比,古代巴蜀地区是一个相对封闭的地方,与中原文明没有关联或很少有交往。三星堆遗址证明,它应是中国夏商时期前后,甚至更早的一个重要的文化中心,并与中原文化有着一定的联系。验证了古代文献中对古蜀国记载的真实性。以前历史学界认为,中华民族的发祥地是黄河流域,然后渐渐地传播到全中国。三星堆的发现将古蜀国的历史推前到5000年前,证明了长江流域与黄河流域一样同是中华民族的发祥地,中华文明是多样一体的。

(1)结合材料一,运用所学文化生活知识,分析保护好三星堆古遗址的文化意义。(10分)

(2)考古实践能检验人们对巴蜀文明的各种认识是真理还是谬误。结合材料二,运用所学认识论的知识对此加以说明。(12分)

(3)假如你是三星堆文化全球宣传大使,请你面向海内外游客,为三星堆遗址撰写两条宣传标语。要求主题鲜明、朗朗上口,每条限15个字以内。(4分)

41. 阅读材料,完成下列要求。(25分)

材料一 在棉花传入之前,中国只有可供充填枕褥的木棉,不能织布。北宋时面对不断增多的人口,苧麻产量低,加之契丹军队行军时“沿途民居园圃桑柘,必夷伐焚荡”,人们迫切需要寻找可替代的大众化织品。棉花在“宋元之间始传种于中国,关陕闽广首获其利,盖此物出外夷,闽广通海舶,关陕通西域故也”。元初已经形成了“江东陕右亦多种”的局面,棉布的销售也在全国范围内开展。王祜在其《农书·木棉序》中形容棉布的状况,“夫木棉诸种艺制作之法,駸駸北来,江淮川蜀,既获其利。至南北混一之后,商贩于此,服被渐广”。元政府为劝种棉花和适应棉纺织的规模生产,“置浙东、江东、江西、湖广、福建木棉提举司,责民岁输棉布十万匹”。明代棉花种植面积普遍扩大,棉布成为民众的主要衣料。

——摘编自王东、陈玲《宋元棉花东进的技术社会形成理论研究》

材料二 16世纪以后,葡萄牙、荷兰把印度棉布贩卖到欧洲。三次英荷战争后英国控制了棉布贸易。印度棉布热引起来英国毛纺织业的破产和失业,1721年,政府颁布进口禁令。印度棉布更多地销往非洲、美洲等市场。因民众对棉布的需求越来越大,水力纺纱机、“骡机”等专利技术设备不断涌现,到18世纪80年代,英国生产的棉布出口额的94%销售到了之前印度棉布所占领的市场。英国对原棉需求量的急剧上升,使越来越多的非洲奴隶被运往美洲的棉花种植园。英国通过进口原棉出口棉布等制成品,迫使西印度群岛、美国南方诸州以及亚洲一些地区依附于英国的工业化。19世纪,随着英国对印度殖民统治的加强,印度逐渐沦为英国的原材料供应地和制成品销售市场,英国棉布便顺理成章地取代印度棉布主导了世界市场。

——摘编自晋兰天《国家与市场:英国棉纺织业发展研究(1660—1850)》

- (1) 根据材料一并结合所学知识,概括棉花在中国传播的特点。(9分)
- (2) 根据材料二并结合所学知识,概括英国取代印度棉布主导地位的原因。(10分)
- (3) 根据材料二并结合所学知识,分析英国“棉布贸易”的影响。(6分)

42. 阅读材料,完成下列要求。(12分)

材料 某学校历史学习社团组织辩论会,主题是“先秦儒家思想对近代中国经济产生的影响”,请你作为正方或反方的代表,从以下表格中提取至少2则相互关联的信息,自拟论题,并结合中国近代史相关史实予以阐述。(要求:写明论题,融合关联信息,史论结合,表述成文。)

序号	主 张	来 源
1	“中庸之为德也,其至矣乎,民鲜久矣”	《论语·雍也》
2	“君子喻于义,小人喻于利”“父母在不远游,游必有方”	《论语·里仁》
3	“民无信不立”“人而无信,不知其可也”	《论语·颜渊》 《论语·为政》
4	“大道之行也,天下为公,选贤与能,讲信修睦”	《礼记》
5	“天行健,君子以自强不息”“富有之谓大业,日新之谓盛德”	《易经》
6	“执其两端,用其中于民”	《中庸》
7	“苟日新,日日新,又日新”	《礼记·大学》
8	“仕而优则学,学而优则仕”	《论语·子张》

请考生在第43、44两道地理题中任选一题作答,并用2B铅笔将答题卡上所选题目对应的题号右侧方框涂黑,按所涂题号进行评分;多涂、多答,按所涂的首题进行评分;不涂,按本选考题的首题进行评分。

43. 【旅游地理】(10分)

古田镇位于福建省龙岩市上杭县,1929年12月28日中国共产党红军第四军第九次代表大会(即“古田会议”)在这里召开,毛泽东在此写下《星星之火,可以燎原》的光辉篇章。2017年,经过相关部门的多次调研,最后决定在该地规划建设古田红军小镇,发展红色旅游业。然而,随着旅游业的不断升级,“白天看景,晚上走人”的传统旅游模式已不能满足游客的需求。2019年底,古田红军小镇正式引入文创灯光项目,开始了夜游模式的积极探索。图9示意古田红军小镇夜景。说明引入夜游模式对古田红军小镇发展红色旅游的积极作用。



图9

44.【环境保护】(10分)

延安市位于陕西省北部,地处黄土高原丘陵沟壑区,属暖温带高原大陆性季风气候。在干旱年份或季节,森林尤其是过密人工林为维持其生长需大量消耗深层土壤水分,形成不同深度的土壤干层,严重影响了林木的生存和生长,形成低效低产林和“小老头树”,制约着当地森林植被的恢复。土壤干层的形成是林木生长耗水和气候干旱双重作用的结果,而人为高密度造林营林的粗放经营又进一步加剧了土壤干化,导致土壤水分长期亏损和不断减少。

说明延安为解决林木耗水需求与水资源承载力之间的矛盾可采取的措施。

请考生在第45、46、47三道历史题中任选一题作答,并用2B铅笔将答题卡上所选题目对应的题号右侧方框涂黑,按所涂题号进行评分;多涂、多答,按所涂的首题进行评分;不涂,按本选考题的首题进行评分。

45.【历史上重大改革回眸】(15分)

材料 1950年,苏联专家来鞍钢进行技术援助,形成了以马格尼托哥尔斯克钢铁公司(简称“马钢”)管理为蓝本,包括实行一长制、进行物质刺激、强调行政命令、依靠少数专家和规章制度办企业等做法的“马钢宪法”。该模式在鞍钢恢复生产初期发挥了重要作用,但随着生产的发展和形势的变化,鞍钢领导干部开始反思“马钢宪法”,进行改革。逐渐形成了以加强党的领导,坚持政治挂帅,发动群众运动,实行两参一改三结合(干部参加劳动,工人参加管理,改革不合理的规章制度,实行工人群众、技术人员和管理者三结合的原则),开展技术革新与技术革命为主要内容的“鞍钢宪法”。1960年3月,“鞍钢宪法”得到了毛泽东的肯定,被大力推广学习和实践。1982年,日本经团联主席道山嘉宽说,他办日铁社,采取“两参一改三结合”的管理方法,就是向“鞍钢宪法”学习的。“鞍钢宪法”比发轫于“丰田生产方式”盛行于世界的现代组织生产管理模式“后福特主义”潮流至少早了20年。

——摘编自崔之元、杨涛《鞍钢宪法——后福特主义和产业转型升级》

(1)根据材料并结合所学知识,说明“鞍钢宪法”与“马钢宪法”内容上的不同之处。(6分)

(2)根据材料并结合所学知识,简析马钢宪法的意义。(9分)



46.【20 世纪的战争与和平】(15 分)

材料 1979 年,苏联出兵阿富汗,这使得美国大为震惊。美国打着“自由主义”的旗号,帮助圣战者抵抗苏联的入侵的理由自然是“冠冕堂皇”的。1980 年 1 月,48 名阿富汗游击队成员到美国参加集中训练。同年,美国派遣了 2 名谍报人员到达阿富汗,为阿富汗游击队收集情报。1980 年,美国还向阿富汗游击队提供直接援助达 3000 万美元。1985 年,阿富汗游击队获得来自美国的 1 万多枚火箭推进榴弹和 20 万枚火箭弹。美国如此不遗余力的支持是有其自身考虑的。阿富汗东接中国,南接南亚印度洋,西接产油区,北接中亚,一旦有第三方势力介入必然会打破战略平衡。将苏联成功地拖在阿富汗,就达到了美国的战略目的。事实证明,美国这一目的确实达到了,十年的阿富汗战争使苏联战争耗资 600 亿卢布。

——摘编自陈娇《阿富汗战争期间美国对阿富汗的军事援助原因探析》

- (1) 根据材料并结合所学知识,概括美国对阿富汗援助的具体措施。(6 分)
- (2) 根据材料并结合所学知识,简析美国对阿富汗军事援助的原因。(9 分)

47.【中外历史人物评说】(15 分)

材料 许衡(1209—1281),字仲平,号鲁斋。七岁入学受章句之学,就“能问其旨意”,不满足于浅尝辄止。虽然时值战乱,许衡在游学途中,“见尚书疏义,就请宿,手抄以归”。先学习汉唐以来的章句训诂之学,后又深受程朱理学的影响。深感程朱理学陷入“支离”的困境,引入“陆学”,来重新解释程朱理学。后在元中央政府主持太学,将《小学》《四书》等理学经典列为正式的教科书,元朝一直沿用。太学中,蒙古、色目等族学子的汉文化底蕴深受其影响,对元朝政治也起了不可估量的作用。许衡从三十二岁开始聚徒讲学,从事教育工作,共四十余年,期间时而仕,时而退,退则教。他的教学注重言传身教,对理学力践躬行,为时人殷服,门徒子弟众多,思想传播甚广。

——摘编自周永杰《元代大儒许衡》

- (1) 根据材料并结合所学知识,概括许衡成为一名思想家的原因。(6 分)
- (2) 根据材料并结合所学知识,简析许衡的历史贡献。(9 分)

百校联盟 2021 届普通高中教育教学质量监测考试

全国 I 卷·文科综合 政治 参考答案

12. C 【解析】价值是由社会必要劳动时间决定的,而不是使用价值大小决定,排除①;知识付费的出现让知识生产和取得更趋个性多元,②正确;随着互联网技术的飞速发展,知识付费出现,③正确;知识付费属于发展资料消费,④错误。
13. B 【解析】专精特新产品离不开完整的精细化管理,①正确;拥有横向和纵向完整产业链的企业是大企业而不是专精特新“小巨人”企业,排除②;“企业核心产品在全球享有高知名度”这一标准过高,排除③;“小巨人”企业要在某一细分市场占有率高,④正确。
14. D 【解析】题干强调出口和内销产品统一标准,①不符合题意;此举与引进外资无关,排除②;这有助于形成需求牵引供给、供给创造需求的良性循环,③正确;“同线同标同质”有利于满足国内消费者消费需求,吸引海外消费回流,④正确。
15. B 【解析】强化竞争政策基础地位是推动有效市场和有为政府更好结合的重大举措,①正确;材料未体现价格机制的调节作用,排除②;此举不会降低经营风险,排除③;此举对建设现代化市场体系、优化营商环境具有重大意义,④正确。
16. B 【解析】协商民主不是关键,排除①;坚持“全过程民主”必须将民主贯穿于选举、决策、管理、监督的全过程,②正确;集中以民主为基础,排除③;坚持“全过程民主”要坚持党的领导、人民当家作主、依法治国有机统一,④正确。
17. B 【解析】此举表明全社会都应该尊崇英雄,①正确;材料与完善行政监督体系无关,排除②;材料表明在网络空间里同样要自觉遵守法律法规,③正确;材料未体现个人利益与集体利益发生冲突,排除④。
18. A 【解析】解决这一问题,中国可以倡导人类命运共同体理念,推动构建公正合理的国际新秩序,①正确;②解决的是国内问题,排除;中国可以将疫苗作为全球公共产品,来助力疫苗公平分配,③正确;通过反对“疫苗民族主义”决议不属于安理会职责,排除④。
19. B 【解析】该节目并未推动文化传播手段的创新,排除①;该节目做到了德育和美育的统一,②正确;该节目的播出离不开物质载体,③正确;党史中的精神不属于传统文化,排除④。
20. C 【解析】该活动有利于促进中匈服饰文化间的交流、借鉴与融合,①正确;此举与保障当地民众基本文化权益无关,排除②;此举目的不是推进中华服饰文化的创新,排除③;此举体现了中国服饰的民族性和世界性,④正确。
21. B 【解析】这句古语的意思是,用过去的经验作参照,对未来的趋势加以判断,并参考平常发生的事,经过这些过程如果没有发现问题就可以决断了。这体现了用联系的观点看问题,也体现了把握事物变化发展的规律和趋势,①③正确;材料未体现不断超越真理,排除②;消除制约各项不利条件的观点错误,排除④。
22. C 【解析】一块石头可以是成功的垫脚石,这体现了利用有利条件,①正确;两人都是对存在的如实反映,②错误;③的观点绝对化,排除;漫画体现了化害为利,推动矛盾朝积极方面转化,④正确。
23. C 【解析】税制不属于上层建筑,且上层建筑的调整未必会促进经济基础的巩固,排除①;税制的调整属于生产关系的调整,适应了生产力发展,增强了经济发展的活力,②正确;税制调整属于改革,体现了改革的作用,③正确;材料未体现社会由低级形态向高级形态发展,排除④。
38. 【思路点拨】本题第(1)问要求分析环保领域产生“公地悲剧”的原因,考生可以从市场具有自发性、企业经营、政府宏观调控等角度作答。本题第(2)问要求说明我国健全生态保护补偿机制的合理性。结合材料有效信息,考生可以从政府宏观调控、发挥财政具有促进资源合理配置的作用、实现生态产品价值等角度去分析。

百校联盟 2021 届普通高中教育教学质量监测考试(全国 I 卷) 政治 答案

【参考答案】(1)①市场具有自发性,企业为了追逐自身利益最大化会过度利用资源,破坏环境,未做到经济效益和社会效益相统一。(2分)②公共环境资源缺乏严格而有效的监管,政府没有建立有效的环境资源保护补偿机制。(2分)③不同所有制影响人们对资源的处置方式,公共环境具有非排他性,没有合理的使用保护机制易引发“公地悲剧”。(2分)

(2)①社会主义市场经济正常运行与发展,需要更好发挥政府作用。政府运用宏观调控手段,调整生态环境保护和建设相关各方之间的利益关系。(2分)②财政具有促进资源合理配置的作用,需要加大对重点保护对象的财政转移支付力度和财政资金补偿、产业扶持力度。(2分)③我国坚持社会主义市场经济体制,发挥市场配置资源的决定性作用,需要完善市场化多元化生态补偿,鼓励各类社会资本参与生态保护修复。(2分)④建立生态产品价值实现机制,实现政府与市场“两只手”的协调互补,才能让保护修复生态环境获得合理回报。(2分)

39.【思路点拨】本题要求说明在全党开展集中性学习教育的意义。结合材料中五次教育活动主题,考生可以从党的地位、党的性质、党的建设、党的执政理念、党员作用等角度组织答案。

【参考答案】①有利于党坚持立党为公、执政为民,全心全意为人民服务。(3分)②有利于加强党的思想、组织、作风建设,保持党的先进性。(3分)③有利于提高党的执政能力,密切党群关系,巩固党的执政地位和执政基础。(3分)④有利于党员坚定理想信念,不忘初心、牢记使命,发挥先锋模范作用。(3分)

40.【思路点拨】本题第(1)问要求分析保护好三星堆古遗址的文化意义。考生可以从展示源远流长、博大精深的中华文化,显示中华文化的区域性和独特性;对研究人类文明的演进具有重要意义,对展现世界文化多样性具有独特作用;推进考古学的发展;满足人民群众日益增长的文化需求等角度作答。本题第(2)问为评析题。考生需明确该题为指定原理的题目,要运用实践是检验认识真理性标准的知识去作答。本题第(3)问为开放式设问,要求围绕主题作答,做到语言美与逻辑美的统一,注意字数限制。

【参考答案】(1)①文化要通过一定的载体呈现出来。保护好三星堆古遗址有利于展示源远流长、博大精深的中华文化,显示中华文化的区域性和独特性。(3分)②文化遗产是一个国家和民族历史文化成就的重要标志。保护好三星堆古遗址对研究人类文明的演进具有重要意义,对展现世界文化多样性具有独特作用。(4分)③三星堆遗址文物具有历史、科学、文化、艺术价值和较高的观赏性,保护好三星堆古遗址有利于推进考古学的发展,有利于满足人民群众日益增长的文化需求。(3分)

(2)①实践是检验认识的真理性的唯一标准。不超出认识的范畴,人们就无法判定对巴蜀文明的各种认识是否正确地反映了客观事物,是否与客观事物相符合;巴蜀文明自身也不能回答认识是否正确地反映了它。(4分)②考古实践是可以把主观和客观联系起来加以比较和对照的东西,能检验主观认识与客观事物是否相符合。(4分)③考古实践验证了古代文献中对古蜀国记载的真实性,证明巴蜀文明不是孤立的,长江流域与黄河流域一样同是中华民族的发祥地,中华文明是多样一体的。(4分)

(3)答案示例:三星堆——用原始与时尚写就的请柬;走近三星堆,梦回古蜀国。(每条2分,共4分,若考生有其它答案,符合题目要求的亦可得分)

百校联盟 2021 届普通高中教育教学质量监测考试

全国 I 卷·文科综合 历史 参考答案

24. D 【解析】由材料“该制度下每个中心都以结构复制的方式,将中心的治理模式、文化生态等特性‘粘贴’下来,即部分拥有整体的全部功能”可知这个制度是分封制,“当一个中心被摧毁后,其他中心可以重建系统”可知该制度具有防乱御变的功能,D 项正确,排除 A 项;中央集权制度下(郡县)地方与中央机构并不完全一致,所以该制度是分封制,排除 B 项;材料没有体现与血缘有关的宗法制,排除 C 项。故选 D。
25. A 【解析】由材料可知,西周和汉朝、唐代都对边疆少数民族地区实行了和亲政策,说明边疆政策具有延续性,A 项正确;和亲只是处理边疆民族政权的手段之一,并不是主要手段,且不能体现材料的主旨,B 项错误;和亲联姻有利于边疆和平稳定并不能保证少数民族政权一定隶属于中央王朝,C、D 两项错误。故选 A。
26. C 【解析】材料表格体现的是唐代由于商品贸易的发展和市民生活的需要,坊市制度有所松动,在部分坊内出现了商业活动,C 项正确;材料仅提供了在坊内的部分商业类型,无法证明唐代商店行业是否单一,A 项错误;材料没有体现市场是否受官府监管,根据所学宋代市的交易不再受政府的直接监管,B 项错误;唐代商业店铺主要集中在东西两市内,且有坊墙、市墙界限阻隔,只是部分商业突破限制侵入坊里,可见坊市制度有所松动但并未瓦解,D 项错误。故选 C。
27. B 【解析】明清时期中东部地区人口多,对自然的开发破坏多,加之自然因素的影响,灾害频发,而沿江沿海地区经济发展水平高,交通便利,人口流动性大,加重了疫情,可见疫情频次与明清经济地理情况有关联,经济发达地区疫情爆发频次相对较多,B 项正确;专制主义中央集权制度与疫情频次没有必然关系,A 项错误;明清实行海禁政策,外国人来华贸易被严格限制,对疫情影响有限,C 项错误;经济重心南移在南宋完成,D 项错误。故选 B。
28. C 【解析】李鸿章在书信中表现出对外国侵害中国利权的无奈,在奏章中主张利用国际法与外国进行斗争,表明李鸿章初步具有了国家主权意识和近代外交观念,C 项正确;材料只是客观陈述外国侵华和中国利用国际法抗争,没有体现出李鸿章天朝上国、盲目自大的倾向,A 项错误;材料仅是李鸿章的话无法证明其力图建立近代外交体制,B 项错误;李鸿章看到了列强“上侵国家利权,下夺商民生计”的事实,对列强侵华有了比较清醒的认识,D 项错误。故选 C。
29. C 【解析】新文化运动促进了思想解放,各种思想在中国传播,各种社团纷纷建立,相信马克思主义的进步社团通过与非马克思主义进行论战,使得马克思主义真理愈辩愈明,促进了马克思主义的传播,促进了中国革命向新民主主义革命发展,C 项正确;五四运动时期在中国没有人提出明确的反帝反封建主张,A 项错误;部分社团中先进的共产主义分子组建了共产党早期组织(共产主义小组)为中国共产党成立提供了人才基础,不是所有的社团都为中国共产党成立奠定了组织基础,B 项错误;十月革命后马克思主义传入中国,1918 年李大钊第一个举起社会主义大旗,这些社团在五四时期建立,为马克思主义广泛传播创造了条件,而不是传入,D 项错误。故选 C。
30. A 【解析】1938 年根据所学知识可知是抗战时期,政府兴办国有企业,加强对经济的干预以满足战争的需要,A 项正确;企业内迁与国有化比重升高没有必然关系,B 项错误;国民政府实行了以计划为手段的国家干预,没有实行计划经济体制,计划经济体制是社会主义国家才采用的一种经济管理模式,C 项错误;材料中的民生是要保障民众基本需求,不是为了节制资本,D 项错误。故选 A。
31. B 【解析】根据材料,中国第一拖拉机厂落户洛阳,不是因为其工业基础好,而是中西部城市的地理位置,符合一五计划工业向中西部延伸的战略布局,缩小东西部工业分布不均状况,B 项正确;便于就近接受苏联援助的是东北和西北而不是洛阳,A 项错误;洛阳工业基础薄弱,选址洛阳不涉及调整轻重工业结构的话题,C 项错误;一五计划初步改变了我国工业落后的面貌,跟选择洛阳话题没有关系,D 项错误。故选 B。

32. B 【解析】同样的罪名,不同的结果,其判决不取决于案情事实,而是取决于陪审团的个人情感,即直接民主导致法律理性价值的缺失,B项正确;两次审判,陪审法庭审判程序是一致的,问题不是出在审判程序上,A项错误;罪名是否成立取决于陪审员的投票,C项错误;材料涉及的是直接民主导致法律判决的不公,而不涉及保护平民利益问题,D项错误。故选B。
33. C 【解析】根据材料“唐寅开创了‘削肩仕女图’,作品中的仕女肩若削成,腰如丝素,呈现出男权下女性的抑郁与柔弱”,表明唐寅对明朝末年男权社会的不满和对女性的同情,具有人文主义情怀;“拉斐尔笔下的圣母则被诠释成一位慈祥的母亲,美丽、端庄、温和动人”表现出画家对文艺复兴时期宗教神学世界观束缚人性的反抗和对人文主义的追求。两画家都体现了人文主义的情怀,C项正确;中国明朝时期尚未产生资本主义经济,A项错误;中国绘画的工具和材质主要以笔、墨、纸、绢为主,拉斐尔使用的材料主要是油彩,可见绘画工具和材质不同,B项错误;明清时期中国实行海禁政策,中国与西方没有大规模的文化交流,两幅画的创作风格也不一致,D项错误。故选C。
34. C 【解析】根据材料信息和所学知识,新政减耕减产补贴稳定农产品价格,一定程度上有利农业的恢复,但使中小农面临破产境地,农业工人失业,也产生了一定负面影响,所以要辩证看待罗斯福新政的客观效果,C项正确;减耕减产补贴措施减少了农产品供给量,稳定了农产品价格,A项错误;小农破产,农场主用补贴款购买机械设备,减少农业工人,提高了劳动生产率,推动美国农业向大农场现代化方向发展,B项错误;材料不能体现农场主和农业工人的关系,D项错误。故选C。
35. D 【解析】根据材料可知西方大国一方面反对美国的霸权行为,有利于促进多极化趋势的发展;一方面又依附美国对俄罗斯、中国等国进行打压,有利于美国单极世界的发展,不利于多极化趋势,说明世界格局依然在单极与多极中摇摆,即多极化还未形成稳定的格局,D项正确;西方大国的行为不涉及区域集团行为,A项错误;西方大国反对美国霸权与干预有利于促进全球化,B项错误;西方大国依附美国打压中国俄罗斯的行为不利于多极化方向发展,C项错误。故选D。
41. 【思路点拨】第(1)问,根据材料“北宋面对不断增多的人口,苧麻产量低……桑柘,必夷伐焚荡”,可得出人们迫切需要寻找可替代的大众化织品的结论。据“夫木棉诸种艺制作之法”等,可见棉花的传播是受社会的影响和棉花种植技术和纺织技术的影响。据“闽广通海舶,关陕通西域故也”可知棉花由海陆两路传入。由宋朝传入,元朝推广,可知宋元时期是推广的重要时期。据“江东陕西亦多种”的局面,“适应棉纺织的规模生产”,可概括出形成了棉花专业种植区域和规模化生产。据“置……木棉提举司,贡民岁输……”“获其利”“既获其利”,可以概括出政府政策和利益推动传播。第(2)问,由“16世纪”“三次英荷战争后英国控制了棉布贸易”,可知新航路开辟后英国进行殖民扩张推动了资本原始积累的进程。据“政府颁布进口禁令”,可知英国实行贸易保护促进本地化生产。由“水力纺纱机……技术设备不断涌现”,可知第一次工业革命的影响。据“英国通过进口原棉出口棉布等制成品,迫使西印度群岛、美国南方诸州……”,可知英国拥有广阔殖民地,拥有充足的原料。由“19世纪……原材料供应地和制成品销售市场”,可概括出印度成为英国殖民地,传统经济遭到破坏,印度产品缺乏竞争力。由英国“主导了世界市场”,可知资本主义世界市场初步形成。第(3)问,由“水力纺纱机……涌现”,可以得出英国“棉布贸易”推动了第一次工业革命。由“英国通过进口原棉出口棉布等制成品,迫使西印度群岛、美国南方诸州以及亚洲一些地区依附于英国的工业化”,可以得出当时形成了强制分工的国际贸易体系。“印度逐渐沦为英国的原材料供应地和制成品销售市场”,可以得出英国“棉布贸易”给亚洲、美洲地区带来了灾难,客观上促使传统经济的瓦解。据“英国棉布便顺理成章地取代印度棉布主导了世界市场”,可以得出英国“棉布贸易”促进了世界贸易的发展,各国联系的加强,资本主义世界市场初步形成。
- 【参考答案】(1)棉花推广受种植、纺纱技术和社会的多重影响;海陆两路传入,两条传播路径;宋元是棉花在中国推广的重要时期;形成了棉花专业种植区域和规模化生产;政府政策和经济利益的刺激加快了传播。(第一点3分,其他任答3点,每点2分,共9分)
- (2)新航路开辟后,殖民扩张推动了资本原始积累的进程;政府贸易保护政策促进本地生产;生产技术的进步,大机器生产(第一次工业革命促进了生产力的发展);拥有广阔殖民地,拥有充足的原料;印度成为英国殖民地,传统经济遭到破坏;印度产品缺乏竞争力;资本主义世界市场初步形成。(每点2分,任答五点得10分)

分)

(3)推动了第一次工业革命;形成了强制分工的国际贸易体系;促进了世界贸易的发展,各国联系的加强,资本主义世界市场初步形成;初期加剧了黑奴贸易,给亚洲、美洲地区带来了灾难,客观上促使该地区传统经济的瓦解。(每点2分,任答三点得6分)

- 42.【思路点拨】如果选择正方,主题方向为儒家思想有利于近代中国经济的发展,选择的素材是3(诚信)、4(天下为公)、5(自强不息、创新)、7(创新)。论证过程从洋务运动、民族资本主义的产生与发展等寻找论据,近代某个企业或企业家创新发展、诚信经营、社会责任感等事例也可以,史实正确,言之成理即可。(其他能证明观点的史实均可,论证合理,史实正确。)总结部分,对全文进行观点总结,呼应主题,提出建设性意见。如果选择反方,主题是儒家思想不利于近代中国经济的发展,选择的素材是1(中庸,守旧安于现状)、2(重义轻利、安土重迁)、6(中庸)、8(学而优则仕不利人才培养)。论证:中庸之道,因循守旧,主张安土重迁,近代农业没有革命性变化;小农经济阻碍了社会变革;“重义轻利”反对追求经济利益,重农抑商政策影响经济发展;“学而优则仕”的观念,不利于科技人才和企业家人才的培养,影响中国科技和社会的发展。(其他能证明观点的史实均可,论证合理,史实正确。)总结部分,对全文进行观点总结,呼应主题,提出建设性意见。

【参考答案】示例一:

选择正方:先秦儒家思想有利于近代中国经济的发展 选择的素材是4、5、7。(2分)

论证:儒家文化强调“苟日新,日日新,又日新”,包含着对创新与创造的价值追求,倡导人们自强不息。经过两次鸦片战争的失败及太平天国的打击,洋务派高举“中体西用”的旗帜兴办近代工业,是中国民族工业近代化的开端,在客观上刺激了中国资本主义的产生,并在一定程度上抵制了外国资本主义的经济侵略。

儒家思想宣扬“天行健,君子以自强不息”,包含着天下兴亡、匹夫有责的社会责任感。面对甲午中日战后列强的瓜分狂潮,张謇等爱国实业家提倡实业救国,促进了民族资本主义的初步发展。(8分)

综上,作为中国近代社会的重要思想,其有利于中国民族工业近代化,有利于近代中国经济的发展。我们要在市场经济的大潮中坚定弘扬中国传统文化,在全球化中坚持中华文明与世界文明的交融。(2分)

示例二:

选择反方:先秦儒家思想不利于近代中国经济的发展 选择的素材是1、2、6、8。(2分)

论证:儒家文化“重义轻利”具有较强的反功利主义色彩,这与企业家追求经济利益的目标相悖离。这种思想影响了晚清的基本商业政策,继续推行重农抑商政策,抑制了商人的积极性,不利于近代民族资本主义工商业的发展。

儒家文化推崇中庸之道,承认现实的合理性和合法性,因循守旧,惧怕任何的变革,这与崇尚竞争和冒险的企业家精神相冲突。顽固派对世界发展形势一无所知,盲目排外,仇视一切外国事物,幻想恢复“闭关锁国”的局面,抵制洋务运动,仇视民族资本主义工业,阻碍了中国近代化的进程。

儒家“学而优则仕”的观念,科举入仕成为人们最优的择业去向,造成了官僚队伍的膨胀和读书做官的价值取向,不利于科技人才和企业家人才的培养,影响了近代中国科技和社会经济的发展。(8分)

综上,儒家思想对企业家精神造成了抑制效应,传统守旧的观念,不利于近代民族工商业的发展与繁荣。对于传统文化我们要批判继承,取其精华、弃其糟粕,不断开拓创新,实现社会的可持续发展。(2分)

- 45.【思路点拨】第(1)问,据材料“随着生产的发展和形势的变化”,即1953年大规模经济建设地开展,马钢宪法出现了一些弊端,结合所学1956年中国开始探索社会主义建设道路,1958年中苏关系恶化,结合“鞍钢思想”中蕴含着鞍钢党员干部群众的创新等。第(2)问,可结合材料“推广学习和实践”“日铁社的管理”和所学知识得出即可。

【参考答案】(1)不同:鞍钢强调坚持党的领导;原来的分工、标准化及等级控制转化为团队合作意识及整体性思维;管理中主体与客体的极端对立被“两参一改三结合”中的和睦相处及团队协作取代(或不依靠少数专家,动员群众生产和技术革新,充分发挥群众的积极性、创造性);坚持思想政治工作;传统的群体身份分隔、责任分裂及部门对立被打破(或领导干部与群众一起劳动,共同管理企业,激发主人翁意识)。(每点2分,任答三点得6分)

(2)意义:调动了干部群众的积极性、创新意识,促进了生产力的发展;开创了中国特色的企业管理模式;为

“后福特主义”管理模式提供了经验借鉴;为当今我国经济转型提供了宝贵的经验和启迪。(每点3分,任答三点得9分)

- 46.【思路点拨】第(1)问,据材料“48名阿富汗游击队成员到美国参加集中训练。同时,美国派遣了2名谍报人员到达阿富汗,为阿富汗游击队收集情报”“美国还向阿富汗游击队提供直接援助达3000万美元”“1985年,阿富汗游击队获得来自美国的1万多枚火箭推进榴弹和20万枚火箭弹”可概括出美国对阿富汗援助的具体措施:军事培训;情报支持;提供武器;提供资金。第(2)问,据材料“美国打着‘自由主义’的旗号,帮助圣战者抵抗苏联的入侵的理由自然是冠冕堂皇的”“阿富汗东接中国,南接南亚印度洋,西接产油区,北接中亚”“将苏联成功地拖在阿富汗,就达到了美国的战略目的”等信息,得出原因包括:苏联入侵阿富汗;美苏争霸;美苏意识形态的对抗;阿富汗战略位置重要;利用阿富汗战场拖垮苏联。

【参考答案】(1)措施:军事培训;情报支持;提供武器;提供资金。(每点2分,答出任意三点得6分)

(2)原因:苏联入侵阿富汗;美苏争霸;美苏意识形态的对抗;阿富汗战略位置重要;利用阿富汗战场拖垮苏联。(每点3分,答出任意三点得9分)

- 47.【思路点拨】第(1)问,根据“见尚书疏义,就请宿,手抄以归”“学习汉唐以来的章句训诂之学,后又深受程朱理学的影响”“在元中央政府主持太学”“从事教育工作”等内容可从勤奋好学,深入思考;学识渊博,融会贯通;继承与发展理学思想;通过教育弘扬理学思想;注重把思想与政治实践相结合等方面探讨相关背景。第(2)问,根据材料,可以从思想、政治、教育三个角度去思考。

【参考答案】(1)原因:元朝时,我国统一多民族国家进一步发展;许衡勤奋好学,深入思考;学识渊博,融会贯通;继承与发展理学思想;通过教育弘扬理学思想;注重把思想与政治实践相结合。(每点2分,答出任意三点得6分)

(2)贡献:完善理学思想,推动理学的官方化发展;极大地促进了民族交融,推动了元朝的封建化进程;其教育活动培养了人才,推动了儒学思想的传播。(每点3分,共9分)



百校联盟 2021 届普通高中教育教学质量监测考试

全国 I 卷·文科综合 地理 参考答案

1. B 【解析】四川为亚热带季风气候。传统枇杷秋冬开花、春季成熟,容易受冬季风影响,所以种植于海拔 600~650 米的山地阳坡(南坡)。“春花枇杷”春季开花、夏季成熟,较少受到低温冻害影响,因此在传统枇杷种植区内冻害频繁的地块适宜种植“春花枇杷”。
2. D 【解析】与传统枇杷相比,“春花枇杷”成熟期较晚,可错峰上市;春季开花、夏季成熟,抗寒性增强,可种植在较高纬度或海拔高于 650 米的区域,且海拔 600 米以下冷空气易于堆积的地方也可种植,从而扩大枇杷的种植范围。
3. A 【解析】该地为温带大陆性气候,圣克鲁斯河主要依赖高山冰川融水补给,河流流量受气温影响较大。相对于气温的季节变化和昼夜变化,气温的年际变化相对较小,同时河流上游虽有湖泊调蓄,但冬季低温、河湖结冰易导致河流下游流量减少,所以水能资源的稳定性突出表现在年际变化小;河流流程短,落差大,水能资源空间分布不平衡。
4. D 【解析】根据上题结论,该地气温的年际变化小,故流量年际变化小;气温的季节变化、昼夜变化虽然较大,但上游有湖泊的调蓄,一定程度上增强了水能资源的稳定性;河流位于中高纬度,受西风影响;洋流与该地河流水能资源的稳定性没有直接关系。
5. C 【解析】结合河道长度以及图示信息,可推知圣克鲁斯水电站距离冰川较近,需对冰川进行保护;河水中虽然生物较少,但连通海洋,需考虑鱼类洄游;河流依赖冰雪融水补给,河流含沙量小,较少考虑泥沙淤积;当地羊驼数量众多,库区土地淹没后,羊驼、鸵鸟需迁到别处。
6. B 【解析】据图文信息可知,巴西为南半球国家,巴西大豆出口高峰在 5~8 月,即巴西秋冬季;出口低谷在 9 月~次年 4 月,即巴西夏半年;总量年际变化大,2019 年比 2018 年少。
7. A 【解析】据图可知,进入我国海关的巴西大豆数量,3~4 月快速增多,5~8 月基本处于较高水平,所以用入关高峰对应时间减去海运耗时,可推知大豆收割期大致为 2~4 月。
8. C 【解析】与线路②③相比,路线①的里程和耗时相差不大,但因途经巴拿马运河,需缴纳运河服务费,故平均运费较高;线路②③均经过西风带控制海域,风浪比线路①大。
9. C 【解析】据图可知,路基西侧风速大于东侧,说明东侧位于背风侧,盛行风为偏西风。
10. A 【解析】铁轨路基为凸起地物,受其阻挡,背风侧风速减小;铁路东西两侧温度、太阳辐射差异小;本处是由于路基高凸引起气流运动差异进而导致气压差异,进而造成两侧风速的不同。
11. D 【解析】风速大小影响沙土沉积物的粒径大小。图示铁轨路基东侧丁处风速最小,搬运能力最弱,所以丁处细沙大量堆积。
36. 【参加答案】(1)贝加尔湖水质优良,可满足该厂对高质量生产用水的需求;附近(针叶林)森林资源丰富,为该厂提供优质木材;临近铁路,便于原料的运入与产品的输出。(每点 2 分,共 6 分)
- (2)该厂生产的超级帘子布浆是制造飞机轮胎的重要材料,属于战备物资;制浆工业的综合性和关联性强,也是当地的经济支柱,如被关停,当地财政收入减少;该厂直接和间接地提供了大量就业机会,如被关停,易导致失业问题,当地居民收入减少;该厂不断改进技术和设备,减少了污染物的排放。(每点 2 分,共 8 分)
- (3)采用先进技术,实现水资源的内部循环,达到污水的零排放;提高水资源利用率,减少从湖泊的直接取水量;提高木材的利用率,森林选择性采伐与更新造林相结合,保护森林资源。(任答两点得 4 分)

百校联盟 2021 届普通高中教育教学质量监测考试(全国 I 卷) 地理 答案

- (4)发展无污染的工业;依托贝加尔湖优美的风光,发展生态旅游(利用废弃的厂房,发展工业旅游)。(每点3分,共6分)
- 37.【参考答案】(1)牛粪沉积层位于沉积柱上部(鸟粪沉积层上部);且厚度较小,说明野牛登岛较晚。(每点2分,共4分)
- (2)岛屿形成时间较晚,不利于大型动物演化;岛屿面积小,适宜生存的空间小,也不适宜大型动物演化;距离内陆较远,环境封闭,与内陆物种交流受阻。(每点2分,共6分)
- (3)气候湿热,植被茂盛,牛群食物充足;岛上有淡水;缺乏天敌;受人类干扰少,没有出现剧烈的地理环境变化。(每点3分,共12分)
- 43.【参考答案】丰富旅游景观,使旅游项目多元化;延长游客的旅游时间,增加旅游收入;更加深入了解红色革命历史,满足游客的需求;提高旅游设施利用率;带动住宿、餐饮、演艺等产业的发展等。(每点2分,共10分)
- 44.【参考答案】对于现存密度过大(郁闭度过高)的林分,应及时砍伐,减低密度;(3分)对于结构不合理的林分,可通过长期补植抗旱节水乡土树种、转变营林模式等措施来改善整体状况,进而促进人工林持续健康发展;(3分)深入研究黄土高原地区的土壤干层问题,建立人工林合理的种植密度、配置模式及森林结构优化途径;(2分)利用先进科技改变林木的供水方式,提高水资源的利用率(如固体水技术)。



关于我们

自主选拔在线是致力于提供新高考生涯规划、强基计划、综合评价、三位一体、学科竞赛等政策资讯的升学服务平台。总部坐落于北京,旗下拥有网站(网址:www.zizzs.com)和微信公众平台等媒体矩阵,用户群体涵盖全国90%以上的重点中学师生及家长,在全国新高考、自主选拔领域首屈一指。

如需第一时间获取相关资讯及备考指南,请关注**自主选拔在线**官方微信号:[zizzsw](https://www.zizzs.com)。



关注后获取更多资料:

回复“答题模板”,即可获取《高中九科试卷的解题技巧和答题模版》

回复“必背知识点”,即可获取《高考考前必背知识点》