

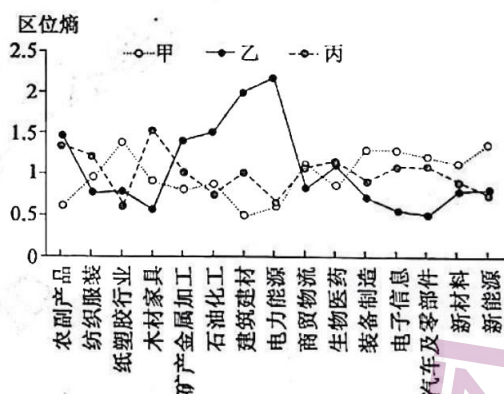
高三文科综合

考生注意：

1. 本试卷分选择题和非选择题两部分。满分 300 分，考试时间 150 分钟。
2. 答题前，考生务必用直径 0.5 毫米黑色墨水签字笔将密封线内项目填写清楚。
3. 考生作答时，请将答案答在答题卡上。选择题每小题选出答案后，用 2B 铅笔把答题卡上对应题目的答案标号涂黑；非选择题请用直径 0.5 毫米黑色墨水签字笔在答题卡上各题的答题区域内作答，超出答题区域书写的答案无效，在试题卷、草稿纸上作答无效。
4. 本试卷主要命题范围：高考范围。

一、选择题：本题共 35 小题，每小题 4 分，共 140 分。在每小题给出的四个选项中，只有一项是符合题目要求的。

区位熵又称专门化率，其值越高，地区产业集聚水平越高。一般来说，当区位熵大于 1 时，则该地区的某项经济指标在全国有优势；当区位熵小于 1 时，则处于劣势。下图示意我国东部、中部、西部三大经济带主要产业区位熵。据此完成 1~3 题。



1. 图中甲、乙、丙分别表示
 - A. 东部经济带、中部经济带、西部经济带
 - B. 中部经济带、西部经济带、东部经济带
 - C. 东部经济带、西部经济带、中部经济带
 - D. 西部经济带、中部经济带、东部经济带
2. 乙曲线的电力能源区位熵明显高于该地区其他产业，关键在于当地
 - A. 消费市场广
 - B. 科技水平高
 - C. 劳动力廉价
 - D. 资源禀赋好
3. 影响三大经济带农副产品区位熵高低的主要因素是
 - A. 水热资源
 - B. 经济发展水平
 - C. 农产品种类
 - D. 交通便利程度

【高三开学考·文综 第 1 页(共 12 页)】

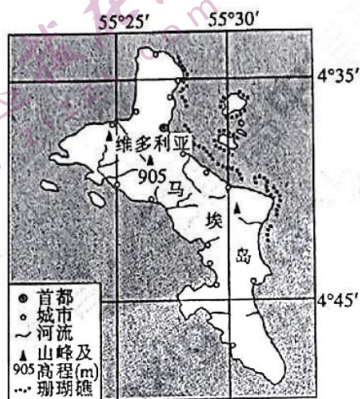
2

首位度在一定程度上代表了城镇体系中的城市发展要素在最大城市的集中程度。下表示意 2021 年与 2010 年我国部分省会城市的经济首位度(省会城市 GDP 占所在省份 GDP 比重)。据此完成 4~5 题。

年份	银川	石家庄	南京	济南
2021 年	50.0%	16.0%	14.4%	13.9%
2010 年	46.4%	16.8%	12.2%	9.9%

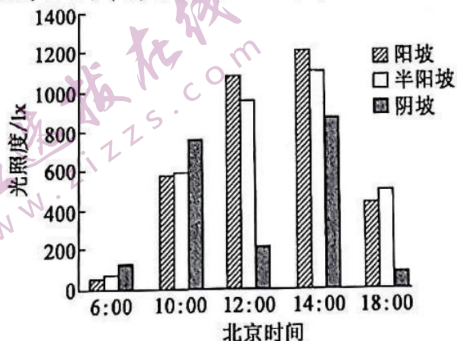
4. 四个省会城市中,2021 年对省内其他区域引领带动作用最明显的是
A. 银川 B. 石家庄 C. 南京 D. 济南
5. 与 2010 年相比,2021 年石家庄经济首位度有所降低,其主要原因可能是该市
A. 交通运输地位下降 B. 人口大量流失
C. 产业结构过于传统 D. 承接产业转移

马埃岛是塞舌尔最大岛屿,位于印度洋中西部,面积约为 148 平方千米,离最近的陆地约 1000 千米,常住人口约 7 万,经济较为落后。岛上花岗岩广布,物种丰富且独特,沿海密布着 60 多个海滩,是世界著名的旅游胜地。下图示意马埃岛地理位置。据此完成 6~8 题。



6. 与马埃岛成因相近的是
A. 冰岛 B. 海南岛 C. 崇明岛 D. 曾母暗沙
7. 马埃岛上物种独特,主要得益于
A. 形成时间短 B. 平坦的地形 C. 丰富的降水 D. 离大陆较远
8. 马埃岛珊瑚礁集中分布在岛屿东北部,而西南部分布较少,这是因为东北部
A. 营养物质丰富 B. 水温高 C. 海水盐度较低 D. 降水多


坡向是山地光照、温度、水分和土壤等的主要影响因子之一。下图示意某研究站在天然草甸上测得的某月部分研究区域晴天特定时刻阳坡、半阳坡、阴坡平均光照度(单位面积上收到的光照量)数据。研究区域海拔约 2900 米,年均气温约 2℃,年降水量约 560 毫米。据此完成 9~11 题。



【高三开学考·文综 第 2 页(共 12 页)】

9. 该研究区域最可能位于
A. 海南 B. 甘肃 C. 山东 D. 黑龙江
10. 测得该研究数据的月份最可能是
A. 1月 B. 3月 C. 7月 D. 10月
11. 调查发现,该研究区域阴坡的生物多样性要多于阳坡,其主要影响因素最可能是
A. 热量 B. 水分 C. 人类活动 D. 风力
12. 习近平总书记指出,《共产党宣言》的问世是人类思想史上的一个伟大事件,是第一次全面阐述科学社会主义原理的伟大著作,是一个内容丰富的理论宝库,作出的理论贡献是多方面的,值得我们反复学习、深入研究,不断从中汲取思想营养。《共产党宣言》的问世
①明确了资产阶级必然灭亡的时间界限 ②揭示了人类社会最终走向共产主义的必然趋势 ③为无产阶级的革命斗争指明了方向 ④为资本主义的覆灭奠定了阶级基础
A. ①② B. ①④ C. ②③ D. ③④
13. 中国共产党人的初心和使命,就是为中国人民谋幸福,为中华民族谋复兴。而实现中华民族伟大复兴的历史使命,必须进行伟大斗争、建设伟大工程、推进伟大事业。下列符合伟大斗争要求的是
①中国共产党团结带领人民有效应对洪水灾难 ②中国共产党在推动社会革命的同时进行自我革命
③自觉投身改革创新时代潮流,坚决破除一切顽瘴痼疾 ④自觉增强道路自信、理论自信、制度自信、文化自信
A. ①③ B. ①④ C. ②③ D. ②④
14. 神舟十三号载人飞船成功升空,中国空间站关键技术验证阶段收官之战正式打响。中国航天科工(国有特大型高科技企业集团)作为载人航天工程的副总指挥单位,承担了多台单机产品大量工业基础件电子元器件产品等研制生产任务,为神舟十三号航天员打造“准、稳、康”的太空之旅。由此可见,国有企业
①是我国国民经济的主体 ②在推进航天科技发展方面发挥重要作用 ③是我们党执政兴国的重要支柱和依靠力量 ④通过推进混合所有制改革增强了创新能力
A. ①② B. ①④ C. ②③ D. ③④
15. 2022年6月以来,受持续性强降雨影响,广西部分地区发生严重洪涝灾害,可能全面超警,救灾工作形势严峻。应急管理部会同国家粮食和物资储备局向广西壮族自治区调拨5000顶帐篷、2万床夏凉被、2万张折叠床、5000套家庭应急包等中央救灾物资,支持地方做好防汛救灾和受灾群众转移安置等保障工作。这说明我国
A. 坚持以人民为中心,通过社会救助方式保障遇困人员生命安全
B. 发挥社会救援这一社会保障体系的核心作用,缓解灾民生存危机
C. 坚持社会保险水平与经济社会发展相适应,既尽力而为,又量力而行
D. 完善社会保障体系,提高社会福利以满足人民群众对美好生活的需要
16. 2022年12月12日,永州市烟草专卖局组织召开永州市烟草制品零售点合理布局规划听证会。市司法局、市人大代表、市政协委员、市市场监督管理局、市行政审批局、市创建办单位代表、起草部门代表以及全市各县区卷烟零售户代表及消费者代表共28人参加听证会,并发表意见建议。此举
①体现了社会主义民主政治的本质和核心 ②有利于公民参与民主监督,保障人民民主 ③保障了公民通过社会听证制度行使决策权 ④有助于激发公民政治参与意识和社会责任感
A. ①③ B. ①④ C. ②③ D. ②④

【高三开学考·文综 第3页(共12页)】

17. 2022年12月12日,东北制药公司发布公告,称收到《行政处罚告知书》。辽宁省市场监督管理局认定东北制药于2018年11月至2019年6月期间滥用在中国左卡尼汀原料药市场的支配地位,实施了以不公平的高价销售左卡尼汀原料药行为,根据《反垄断法》《行政处罚法》规定,拟对东北制药处以罚款,共计13300.44万元。可见,辽宁省市场监督管理局
- ①坚持严格执法,捍卫法律尊严 ②贯彻国家法律,参与企业经营 ③履行政府职责,加强市场监管
④践行公正司法,坚持惩处渎职
- A. ①③ B. ①④ C. ②③ D. ②④
18. 习近平总书记在谈到如何讲好思想政治理论课时指出,“上思政课不能拿着文件宣读,没有生命、干巴巴的”“思政课不仅应该在课堂上讲,也应该在社会生活中来讲”“办好思政课关键在教师。广大思想政治理论课教师,政治要强、情怀要深、思维要新、视野要广、自律要严、人格要正”。习近平总书记提出这样的要求,是基于
- ①认识是在主体与客体的相互作用中实现的 ②思政课应坚持实践与理论的具体的历史的统一
③主要矛盾对事物的存在和发展起着决定性作用 ④坚持矛盾普遍性是坚持唯物辩证法的基本前提
- A. ①② B. ①③ C. ②④ D. ③④
19. 下列对漫画中的政府官员的认识正确的是
- ①颠倒了价值判断和价值选择的关系
②没有把维护人民利益作为自己的最高价值追求
③缺乏坚定的理想信念,缺少价值观的指引
④割裂了人的个人价值和社会价值的关系
- A. ①③ B. ①④
C. ②③ D. ②④
- 
20. 国家主席习近平在亚太经合组织工商领导人峰会上发表主旨演讲时强调:中国将坚定推进高质量共建“一带一路”,促进亚太互联互通,维护区域产业链供应链稳定顺畅,深化同各方在电子商务、数字物流等领域合作,为亚太经济复苏和可持续发展注入动力。据此,下列推断正确的是
- ①亚太经济一体化符合世界各国国家利益 ②中国与亚太各方存在着广泛的共同利益 ③中国为促进世界经济复苏发挥重要作用 ④中国积极推动世界朝着多极化方向发展
- A. ①② B. ①④ C. ②③ D. ③④
21. 随着金融全球化迅速发展,金融市场越来越超越国界,成为一种真正意义上的全球要素市场。2021年上半年,全球跨境资本流动呈现总量扩张、波动加剧且分化、证券投资占比上升的特征。5月,海外投资者净增持647亿美元的美国国债。资本跨国运动
- ①根本动因是世界各国对经济利益的追求 ②使金融市场成为推动全球经济增长的最主要动力
③有利于促进全球范围内资源高效、优化配置 ④为经济全球化奠定了物质技术基础和体制基础
- A. ①② B. ①③ C. ②④ D. ③④
22. 绍兴财经旅游学校的学生甲设计了一款折叠头盔,该头盔可以折叠和连接手机进行导航、接打电话、播放音乐。经过多次改进,于2019年11月13日申请国家专利,2020年8月25日国家专利局授权公告。2019年12月,某公司未经甲的同意生产该产品。下列说法正确的是
- ①任何人使用该产品均侵犯甲的专利权 ②该产品保护期从2020年8月25日起算 ③某公司未经甲的同意生产该产品侵犯了甲的专利权 ④该专利保护期满后,任何人可以免费使用
- A. ①② B. ①④ C. ②③ D. ③④

【高三开学考·文综 第4页(共12页)】

23. 合乎逻辑的思维是具有一致性的思维。要避免出现不融贯一致的逻辑错误,就要遵循矛盾律的要求。

下列说法违反矛盾律的是

- A. 有的人死了,他还活着
- B. 有的人拼命追求轻松
- C. 在他们当中,有些人是学生,有些人不是学生
- D. 采纳他的建议,或者不采纳他的建议,我都不赞成

24. 位于浙江余杭的良渚遗址是良渚文化的核心。在遗址中心的莫角山,考古人员发现了 30 公顷的人工地基,经过部分试发掘,证明其上曾建有宫殿。近年来,又在良渚遗址的西北发现了绵延四五公里的土垒,据推测可能是城墙或堤防。据此可以推知,良渚文化时期我国

- A. 初步确立了君主政治
- B. 已有了初始的文明
- C. 部落之间的纷争不断
- D. 阶级分化十分明晰

25. 下表是关于汉代官员“不胜任”的记述。材料反映的现象

内 容	出 处
一岁中盗贼发而今、丞、尉所(?)不觉智(知)三发以上,皆为不胜任,免之。	汉《二年律令·捕律》
尊子伯亦为京兆尹,坐懦弱不胜任免。	《汉书·王尊传》
(永光四年)光禄大夫琅琊张谭仲叔为京兆尹,四年不胜任免。	《汉书·百官公卿表》

- A. 说明中央集权有待加强
- B. 有利于社会秩序的稳定
- C. 说明西汉奉行严刑酷法
- D. 容易导致懒政行为泛滥

26. 下表反映了北宋元祐元年(1086 年)开封商人借贷货币司钱数的统计情况。据此可推知,北宋时

类别	户数	钱数
大姓	35	154 万余贯
酒户	27	
小姓	27093	83 万余贯
合计	27155	237 万余贯

- A. 中小商户经营困难
- B. 长途贩运贸易发达
- C. 政府重视商业税收
- D. 开封城市商业繁荣

27. 明清“民本”思想,以传统的“民本”为旗帜,着力探讨重民、养民、富民、教民等基本内容,还倡导公天下论、平等论、限君论、“以民治民”论;“以民养民”论;崇私论、义利并重论、保富论;从重教化到重知识等。这说明明清“民本”思想

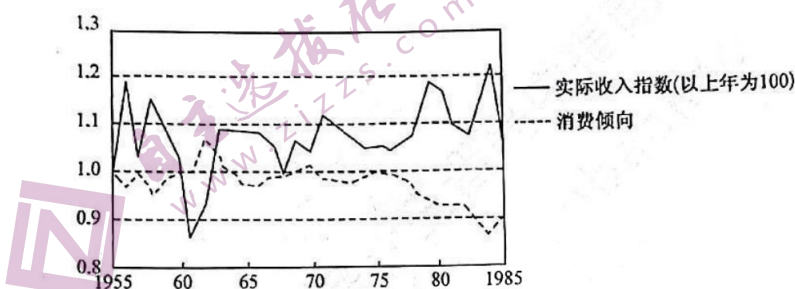
- A. 被赋予了新的时代内容
- B. 成为民主革命的思想武器
- C. 体现近代民权主义的本质
- D. 继承并传播传统民本思想

28. 国学大师钱穆这样评价太平天国:“由今看来,大家同情太平天国,认为他是一个民族革命,但实际也不尽然。至少他们太不懂政治,他们占了南京十多年,几乎没有丝毫制度上的建树。”由此可知,钱穆认为

- A. 太平天国运动不属于民族革命
- B. 太平天国自始至终未真正建立
- C. 太平天国运动具有阶级局限性
- D. 太平天国领导层缺乏创新精神

【高三开学考·文综 第 5 页(共 12 页)】

29. 梁启超从 1899 年到 1903 年在《清议报》和《新民丛报》两种刊物上发表了多篇文章,向国民广泛地介绍了西方资产阶级的各种理论和学说,竭力鼓吹民族主义、自由平等、博爱、民主、民权等资产阶级的思想与精神。这反映出梁启超
- A. 将传统文化与西方思想相融合
B. 激励国民从西学中寻找救国良策
C. 认为西学是救亡图存的根本
D. 引入了西方民主共和的救国理念
30. 1932 年年底,国民政府国防委员会开始对粤汉铁路沿线的湖南湖北地区、津浦路沿线、胶济铁路沿线等地进行调查,内容涉及煤矿的地点、交通设施、矿山公司的历史、组织、资本、工厂设备等诸多方面。国民政府制定上述建设计划的主要原因是
- A. 国民经济建设运动蓬勃发展
B. 革命武装威胁国民党统治中心
C. 改变工业布局不合理的考量
D. 日本侵华致使民族危机加深
31. 下图绘出了 1955~1985 年我国城乡居民实际收入增长和实际消费倾向的变化情况。从中可以看出



- A. 改革开放使中国取得了巨大成就
B. 该时期国人的收入整体增长缓慢
C. 收入增长并不必然带来消费增长
D. 从众心理导致国人消费意愿偏低
32. 美国学者斯科特·戈登指出:“我们很难相信由一年召开 40 次、每次仅有几个小时的超过 6 000 人的公民大会来指定一般政策是有效率的。温和的理性怀疑论就能表明这种每个人都有发言权和提议权的公民大会将很快就会蜕变为暴动。”这反映出古代雅典
- A. 公民大会是最高权力机关
B. 公民大会行政效率低下
C. 民众的参政热情空前高涨
D. 民主政治的局限性明显
33. 约公元前 2900 年左右,定居在两河流域的苏美尔人建立了一系列的城市国家。苏美尔人对宗教的依赖性很深,他们相信每一种自然力的背后都有其主宰,认为人与神的界限是永恒不变的。这种现象的产生源于
- A. 早期文明的教化
B. 农业生产的需要
C. 自然环境的影响
D. 楔形文字的传播
34. 1865 年前后,旋转木马开始在纽约科尼岛流行。1884 年,科尼岛引进了一种纽约人从未见过的娱乐项目——过山车,票价相当便宜,只需 5 美分。不久,摩天轮出现了。科尼岛娱乐设施的发展
- A. 折射出民众工作条件的改善
B. 得益于工业化成果的应用
C. 说明休闲旅游生活方式出现
D. 反映出市民福利建设加快

【高三开学考·文综 第 6 页(共 12 页)】

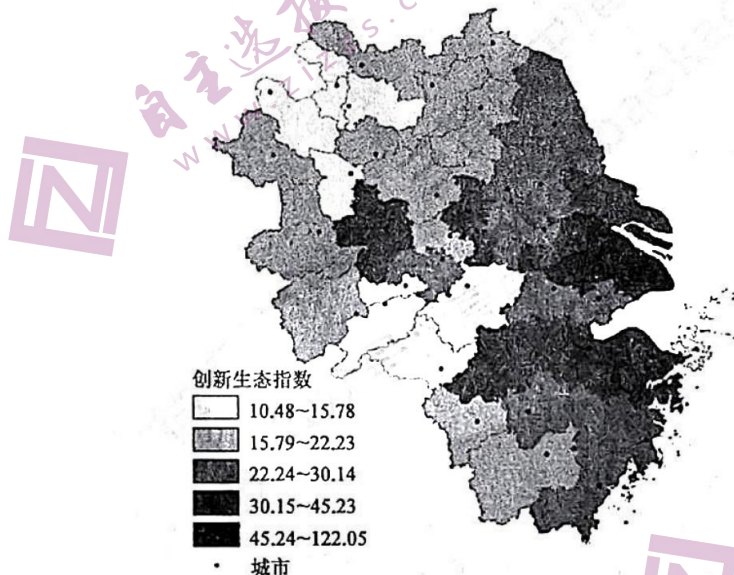
35. 当今世界, 尽管美国的实力总体上仍然超群, 但它的国际声誉“已跌入深渊中”, 向其他国家发出的改革号召“被当作耳边风”; 八国集团首脑会议从 2003 年开始邀请中国、巴西等发展中国家与会进行对话, 到 2005 年才正式形成“8+5”机制。这种变化

- A. 不利于世界政治治理的民主化
- B. 加强了大国对国际事务的垄断
- C. 体现了政治格局的多极化趋势
- D. 说明传统强国丧失了优势地位

二、非选择题: 共 160 分。

36. 阅读图文材料, 完成下列要求。(20 分)

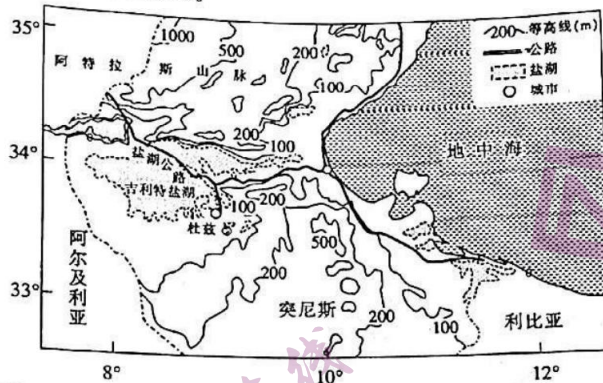
创新生态系统是一个由创新个体、创新组织和创新环境等要素组成的动态性开放系统。针对创新生态系统建立的创新生态指数, 由创新资源、创新产出、产业潜力和环境支撑 4 个一级指标, 共计 12 项二级指标和 30 项三级指标构成。长三角城市群是我国经济发展最活跃、开放程度最高、创新能力最强的区域之一。至 2020 年底, 长三角地区每万人发明专利拥有量已达 30.88 件, 为全国平均水平 2.3 倍, 知识产权发展处于全国领先地位。下图示意 2022 年长三角城市群创新生态指数空间分布(指数越高, 表示的创新能力越强)。



- (1) 长三角城市群成为创新能力最强的区域之一, 试说明原因。(6 分)
- (2) 分析长三角城市群创新精神对该区域传统企业产生的积极影响。(6 分)
- (3) 为提高长三角城市群创新生态指数提出合理建议。(8 分)

37. 阅读图文材料,完成下列要求。(18分)

吉利特盐湖位于突尼斯中部、阿特拉斯山脉的东段南部山麓,面积达7000平方千米,湖水深度在1~20米,湖面面积季节变化大,在湖底曾经挖出不少鲨鱼的化石骨架,湖区周边分布有大量枣椰树。下图示意吉利特盐湖及周边地理概况。



- (1) 简述吉利特盐湖的形成过程。(8分)
- (2) 指出吉利特盐湖面积最大的季节,并说明原因。(6分)
- (3) 推测枣椰树的生长习性。(4分)

38. 阅读图文材料,完成下列要求。(18分)

疏勒河发源于祁连山脉,位于甘肃省河西走廊西段,所在流域是甘肃省的富水区和土地富余区。该河流出昌马峡前为上游,水丰流急;出昌马峡至双塔堡水库为中游,人口稠密、农田广布,是甘肃省移民安置的主要区域之一,修建了多座大型水库;双塔堡水库以下为下游。该流域是古丝绸之路的必经之地,中下游曾是水草丰美、牛羊成群的地方,如今到处是荒漠戈壁。下图示意疏勒河流域位置。



- (1) 说明疏勒河中游修建大型水库的主要目的。(4分)
- (2) 从生态环境角度,简述疏勒河中游建设水库后会产生的负面影响。(6分)
- (3) 疏勒河上游的祁连山区冰川广布,祁连山区冰川的气候调节功能的服务价值最高。试说明冰川气候调节功能的主要表现,并概述其发生机制。(8分)

【高三开学考·文综 第8页(共12页)】

39. 阅读材料,完成下列要求。(14分)

人才是我国经济社会发展的第一资源。“留才奖”、红利分配等方式是企业招贤纳士的普遍做法,由此引发的此类纠纷亦不鲜见。

材料一 党的十八大以来,以习近平同志为核心的党中央立足中华民族伟大复兴战略全局和世界百年未有之大变局,全面深入推进人才强国战略,高瞻远瞩谋划人才事业布局,大刀阔斧改革创新,广开进贤之路、广聚天下英才,推动新时代人才工作取得历史性成就、发生历史性变革。体制顺、机制活,是人才聚、事业兴。人才制度是人才规划、培养、招聘、考核、评价、激励等多方面机制的有机统一,是良好创新环境的重要组成部分,对于汇聚各方人才具有重要意义。做好新时代人才工作,需要深化对人才事业发展规律的认识,以改革红利释放人才红利,聚天下英才而用之,让更多千里马竞相奔腾。

材料二 2020年1月,某高新科技公司(甲方)与刘某(乙方)签订《聘用合同》一份,合同期限为5年。约定刘某的工作岗位为负责管道事业部的产品认证申请与维护,生产及质量体系的合理有效运行,月薪为人民币3万元。《聘用合同》另约定,“若甲方不遵守合同期限,且仍持续经营管道及附件业务,甲方应在以后经营期间每年按当年度的销售总额 $\times 1\%$ 作为补偿,至合同期限届满为止。2021年1月,甲方单方解除与乙方之间的劳动合同关系,乙方基于该条款向甲方主张离职后补偿遭拒,随诉诸法院。在案件审理过程中,承办法官考虑到该条款的法律依据、劳动者的请求权基础、企业的实际经营情况,从劳企“双保护”的理念出发,进行了深入的释法说理工作。最终,在法院努力下,双方自愿达成调解:甲方支付乙方离职后补偿金人民币80万元。双方之间劳动关系所有事宜再无其他纠葛。

(1)运用经济与社会知识,说明我国应如何做好人才工作。(8分)

(2)结合材料二,从法律与生活角度,说明法院“双保护”促和解的积极意义。(6分)

40. 阅读材料,完成下列要求。(12分)

某地创新村民自治机制,探索出“四五三”治村模式,真正实现了依制管人、依法治村。

健全以村党组织会议、村民委员会、村民(代表)会议、村务监督委员会“四会管村”的组织架构。村党组织会议重点对土地征用、救灾救济、产业发展、基础设施建设等涉及全体村民切身利益的重点、热点、难点问题把关定向,村民(代表)会议行使决策权,村民委员会行使执行权,村务监督委员会行使监督权。

在落实“一事一议”制度基础上,建立“五步议事”民主决策制度。村级重大事项经党组织走访调研提议、“两委”商议论证、党员大会会议会诊、上级部门审议把关、村民(代表)会议拍板后才能实施。

在进一步强化责任、落实工作的同时,不断拓宽民主监督新渠道,完善干部履职监督、“三务(党务、村务、财务)公开”监督、村级账务监督的“三项监督”新体系,进一步激发了民主自治活力,保证人民当家作主。

结合材料,运用政治与法治知识,说明“四五三”治村模式是如何保证人民当家作主的。

41. 阅读材料,完成下列要求。(26分)

近年来,文化类综艺节目广受关注。电视媒体与网络视听平台持续发力,推出了多主题、多层次、多类型的文化类综艺节目,促进了中华优秀传统文化高质量传播,具有一定的文化价值与创新意义。

在内容呈现上,涵盖了诗词、戏曲、文物等领域,并延展到典籍、国乐、传统节日、杂技等方面。如《中国地名大会》第二季以地名知识为载体,从地理、历史、语言、民俗、文学等各个角度展现中华大地的万千气象。在主题挖掘上,中华优秀传统文化的历史厚度得到进一步呈现。如《典籍里的中国》将《尚书》《周易》《楚辞》《论语》等作为演绎对象,以“影视+戏剧”的方式,讲述典籍在中华文明的历史长河中源起流转的经过及书中的动人故事。在美学表达上,注重彰显精神之美、崇高之美、人文之美。如浙江卫视节目邀请书法名家、文化名家、书法爱好者参与,从“天下第一行书”起笔,用5个篇章对行、草、篆、隶、楷五大书体溯源,深刻表现“笔墨当随时代”的主题。在传播上,电视台与网络媒体在制作、播出等环节实现全程紧密联动,推动节目的口碑式传播,如河南卫视“中国节日系列”节目与多家视频网站深度合作等。

传承与弘扬中华优秀传统文化,既需要久久为功,更需要花大力气、开动脑筋,创造性运用新技术、新理念、新表达,将中华美学精神巧妙熔铸其中,从而真正促进中华优秀传统文化的高质量传播。

- (1)文化类综艺节目是促进中华优秀传统文化高质量传播的成功案例。结合材料并运用“文化传承与文化创新”的知识对此加以说明。(8分)
- (2)结合材料,运用发展的观点,说明如何促进中华优秀传统文化的高质量传播。(12分)
- (3)文化类综艺节目受众面广、影响力大、传播效果好,是推动中华优秀传统文化创造性转化、创新性发展的重要形式之一。请说明该句属于何种判断,以及该类判断为真的条件。(6分)

42. 阅读材料,完成下列要求。(25分)

材料一

所谓“春秋决狱”,是指在遇到义关伦常而现行法律无明文规定或虽有明文规定但却有碍伦常时,用儒家经典《春秋》所载有关事例及其体现的道德原则作为司法审判的依据。在当时,经过皇帝的认可,《春秋决狱》成为司法实践的依据,起了“判例法”的作用,故该书获得了立法意义,而体现在该书之中的儒家道德原则变成了法律原则。“春秋决狱”在汉代成为风气。事实上,汉代儒家士大夫不但据《春秋》之经义断狱,而且还扩大范围,根据其他的儒家经典断狱,称之为“引经决狱”。引经决狱之风的盛行,又开启了引经注律的风气。当儒生的法律解释著作得到皇帝的批准而具有法律效力的时候,法律也就儒家化了。

——摘编自曾宪义《中国法制史》

材料二

随着居住在罗马的外来自由民数量的增多,罗马市民法无法适应社会发展的需要了。为了解决异邦人和被征服地区居民内部以及他们同罗马居民相互之间的权利和义务关系,公元前242年,罗马国家设置外事最高裁判官,专职处理此类案件,逐渐形成一套“万民法”。万民法适用于罗马公民和非

【高三开学考·文综 第10页(共12页)】

公民之间以及非罗马公民之间的纠纷。其主要来源是：清除了形式主义的罗马固有的“私法”规范；同罗马人发生联系的其他各民族的规范；地中海商人通用的商业习惯与法规等。其内容绝大部分属于财产关系。罗马帝国前期，法学家的活动日益加强，其著述和一系列的司法实践活动，使罗马法律能够适应社会需要的不断发展。

——摘编自何勤华《外国法制史》

- (1) 根据材料一并结合所学知识，指出汉代法律演变的背景及其影响。(12分)
(2) 根据材料一、二并结合所学知识，比较中国和罗马法律发展的异同。(13分)

43. 阅读材料，完成下列要求。(12分)

材料

下面是1954~2007年中国高等院校数量(单位:所)在部分省份的统计。

年份\省份	北京	山西	辽宁	上海	河南	湖北	广西	广东	新疆
1954年	25	4	14	16	5	12	3	5	2
1960年	80	47	92	43	67	70	40	50	11
1964年	52	11	26	24	12	22	9	19	7
1971年	16	9	23	17	11	20	9	18	7
1980年	50	16	36	34	25	36	18	30	12
1990年	67	26	62	50	47	58	23	45	21
2007年	79	59	79	60	82	86	55	105	31

(资料来源:《中国教育年鉴(1949~1981)》《中国教育统计年鉴(1981~2007)》)

根据材料并结合所学知识,对新中国成立以来我国高等教育发展的特征进行探讨。(要求:观点明确、史论结合、史实准确。)

44. 阅读材料,完成下列要求。(15分)

材料一

欧洲统一市场启动后,欧洲国家建构以欧共体为核心、欧自联为中间层、东欧和中东为外层的“三个同心圆”泛欧自由贸易区。在北美以美国为中心的自由贸易协定的推动下,美国与拉美的经济联系将进一步加强。在亚太地区,随着亚太经合会议的举行,确定了地区性的贸易和投资自由化的最终目标。在三大经济圈中,一体化程度最低的是亚太经合组织,单单实现自由贸易区的目标就有很长的路要走……在区域经济集团的横向扩展上,区域合作程度的深化上都推动区域经济合作进程加快。而中国与台湾省同时加入亚太经合组织,越南加入东盟,都是地缘经济因素超过地缘政治因素考虑的表现。推动不同经济发展水平、不同政治体制国家组成经济集团的原因是世界经济和政治形势的发展。

材料二

区域集团化这一当今世界经济发展的大趋势,必将随着我国对外开放的扩大和国民经济外向度的提高,给我国的改革开放和经济发展带来严峻挑战和重要机遇。区域集团建立后,力求提高其内部经济一体化程度,为保护其内部市场,导致贸易保护。我国已加入亚太经合组织,并最大限度地发挥我国在亚太地区的重要作用,亚太地区又是当今世界经济增长最快的地区,潜力巨大,这为我国提供了较好的周边环境。各区域集团间在以争夺对方市场为重要目标的竞争与合作中,大都看重了我国市场的潜力和前景,纷纷来中国寻求贸易机会,加强与我国经济与科技的合作。

——以上材料均摘编自高继宽《世界经济区域集团化与中国》

- (1) 根据材料一并结合所学知识,分析当前区域经济一体化的特点。(6分)
- (2) 根据材料二并结合所学知识,指出区域经济一体化对中国的影响,请你谈谈中国对区域经济一体化应采取的措施。(9分)

关于我们

自主选拔在线是致力于提供新高考生涯规划、强基计划、综合评价、三位一体、学科竞赛等政策资讯的升学服务平台。总部坐落于北京，旗下拥有网站（[网址: www.zizzs.com](http://www.zizzs.com)）和微信公众平台等媒体矩阵，用户群体涵盖全国90%以上的重点中学师生及家长，在全国新高考、自主选拔领域首屈一指。

如需第一时间获取相关资讯及备考指南，请关注**自主选拔在线**官方微信号：**zizzsw**。



微信搜一搜

自主选拔在线