

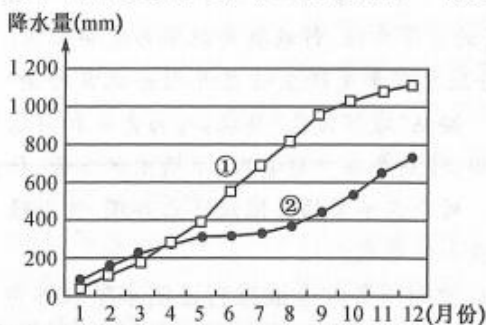
高三文科综合

考生注意：

1. 本试卷分选择题和非选择题两部分。满分 300 分，考试时间 150 分钟。
2. 答题前，考生务必用直径 0.5 毫米黑色墨水签字笔将密封线内项目填写清楚。
3. 考生作答时，请将答案答在答题卡上。选择题每小题选出答案后，用 2B 铅笔把答题卡上对应题目的答案标号涂黑；非选择题请用直径 0.5 毫米黑色墨水签字笔在答题卡上各题的答题区域内作答，超出答题区域书写的答案无效，在试题卷、草稿纸上作答无效。
4. 本试卷主要命题范围：高考范围。

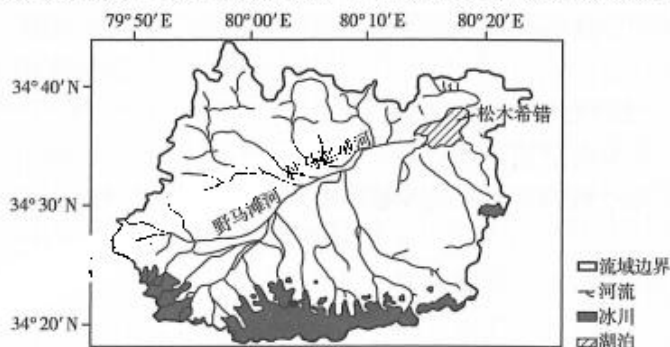
一、选择题：本题共 35 小题，每小题 4 分，共 140 分。在每小题给出的四个选项中，只有一项是符合题目要求的。

下图为①②两地某年的降水量累计图，①②两地位于亚欧大陆同一纬度的东西两岸，读图完成 1~2 题。



1. 下列气候中与①地气候的根本成因相同的是
 - A. 温带海洋性气候
 - B. 温带季风气候
 - C. 热带草原气候
 - D. 热带季风气候
2. ②地气候
 - A. 雨热同期
 - B. 雨热不同期
 - C. 受西北风影响
 - D. 受东南风影响

松木希错流域位于我国青藏地区，属于咸水湖。下图为松木希错流域示意图，读图完成 3~4 题。



3. 松木希错流域北侧支流的主要补给形式是
 - A. 永久性冰川融水
 - B. 降雪
 - C. 季节性积雪融水
 - D. 湖泊水

【高三 12 月·文综 第 1 页(共 12 页)】

4. 松木希错流域南侧支流流量的变化特点是

- A. 年际变化小 季节变化大
B. 年际变化大 季节变化小
C. 年际变化小 季节变化小
D. 年际变化大 季节变化大

富士康科技集团在中国大陆已经建成四大生产基地,分别是富士康集团环渤海地区、富士康集团中西部地区、富士康集团珠三角地区以及富士康集团长三角地区。富士康已经在开发利用工业机器人进行生产,其目标是到2020年底,在中国的工厂实现30%的生产自动化。下图为富士康子公司在中国大陆的集中分布示意图,读图完成5~6题。



5. 富士康子公司集中分布区在①②③④四地拓展的先后顺序是

- A. ①②③④
B. ②①③④
C. ③④①②
D. ④②①③

6. 富士康开发利用机器人进行生产的主要有利影响是

- A. 提高产品质量
B. 解决生产事故
C. 降低运输成本
D. 降低能源消耗

卢卡拉机场位于尼泊尔东北角的喜马拉雅山区,是世界最危险的机场。卢卡拉机场由100名当地人靠敲凿搬运石块、踩踏沙土修建而成,其海拔2860米,跑道长460米,宽20米,跑道坡度18.5°。时至今日,卢卡拉小镇尚未通行公路,所有生活物资全部依靠卢卡拉机场进行转运,每年有众多登山者经该机场前往珠穆朗玛峰。下图为卢卡拉机场及周围区域等高线示意图。据此完成7~8题。



7. 与卢卡拉机场成为最危险机场关联性最小的条件是

- A. 高海拔短跑道
B. 净空区域小
C. 气象条件复杂
D. 冰雪覆盖厚

8. 飞行惊险,建造困难,但卢卡拉机场依然修建的主要目的是

- ①促进人口迁移 ②促进当地旅游业发展 ③创造极限运动 ④方便登山者快速进出珠峰
A. ①②
B. ②④
C. ①③
D. ③④

作为江西南大门、广东后花园,近年来,赣州市努力拥抱大湾区、积极融入珠三角。其中,龙南、全南、定南三县纷纷加强与珠三角的沟通对接。2017年,赣州强势主导打造“三南”承接加工贸易转移示范地产业园,并将其纳入国家级经济技术开发区——龙南经济技术开发区。产业园与开发区实施统一的招商引资政策,新增财税由赣州市和“三南”按一定比例予以分配。据此完成9~11题。

9. 赣州市承接珠三角产业转移的主要区位优势是

- A. 距珠三角较近,地理位置优越
B. 经济发达,技术水平高
C. 交通设施健全,通行便利
D. 劳动力优质且数量充足

10. 将“三南”产业园纳入龙南经济技术开发区统一管理可以

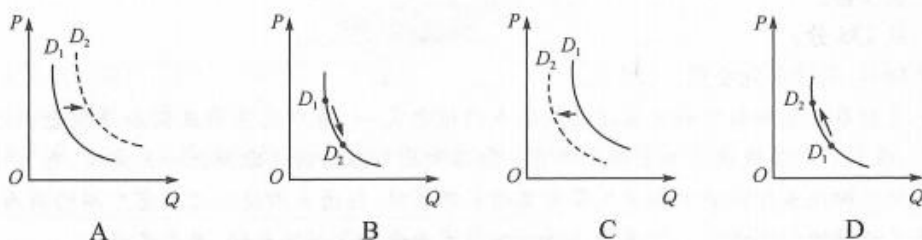
①提升产业招商效率 ②缓解建设用地的不足 ③明确产业区域分工 ④扩大工业园区总面积

- A. ①②
B. ②③
C. ①③
D. ②④

11. 采用“园区一体”管理模式的主要目的是

- A. 统筹土地开发
B. 改变生活方式
C. 通用科学技术
D. 发挥政策优势

12. 连日来,随着冬枣、火龙果、橘子、葡萄等秋季水果的大量上市,水果销售价格出现了持续下降的趋势,进而引起消费需求变动。不考虑其他因素,下列图示(P 表示水果价格, D 表示需求曲线, S 表示供给曲线, Q 表示数量)能正确反映水果销售价格的变动对水果需求的影响的是



13. 持续了10天的2021国家公务员考试网网上报名,截至2020年10月24日下午6点,全国报名总人数超过151万人,其中140万人已通过审核,平均竞争比54.5:1。这从一个侧面告诉我们

- ①劳动者要综合发展,通过多种方式就业
②劳动者要树立正确的平等就业择业观念
③政府需要提供全方位公共就业培训服务
④政府要破除妨碍劳动力流动的体制机制

- A. ①②
B. ①③
C. ②④
D. ③④

14. 财政部发布的2020年前三季度我国财政收支数据显示,1—9月累计,全国一般公共预算收入141 002亿元,同比下降6.4%。1—9月累计,全国一般公共预算支出175 185亿元,同比下降1.9%。其中与疫情防控直接相关的公共卫生支出增长66.1%。对此,下列认识正确的有

- ①该收支关系最终导致增加社会总需求
②国家财政有利于实现资源的合理配置
③财政是提高人民生活水平的物质保证
④财政通过国民收入再分配刺激总供给

- A. ①②
B. ①④
C. ②③
D. ③④

15. 近年来,佛坪县以“脱贫摘帽”为奋斗新起点,巩固拓展脱贫攻坚成果,各项工作都取得显著成绩。这表明

- ①佛坪县注重解决新时代我国社会的主要矛盾
②佛坪县通过区域协调发展战略促进社会公平
③佛坪县把脱贫攻坚摆在发展全局的核心位置
④佛坪县遵循了中国特色社会主义的根本原则

- A. ①③
B. ①④
C. ②③
D. ②④

16. 社区是社会治理的最小单元,承载着人民群众对美好生活的期盼和梦想。某社区积极探索构建基层社区治理体系,创新推进“五微融合”(微平台、微组织、微资源、微活动、微力量),助推社区“微自治”。该社区推进这一模式

【高三12月·文综 第3页(共12页)】

- ①创新了基层民主自治的方式
②旨在提升基层社区治理能力
③是社区自治和城市治理的基础
④有效扩大了社区居民政治权利
A. ①②
B. ①③
C. ②④
D. ③④
17. 2020年10月26日至29日,党的十九届五中全会在北京召开。会议审议通过《中共中央关于制定国民经济和社会发展第十四个五年规划和二〇三五年远景目标的建议》,为未来5年乃至15年中国发展擘画蓝图。由此可见
- A. 中国共产党的治国理政水平日趋增强
B. 中国共产党通过提建议实现党的领导
C. 中国共产党是中国最高政治领导力量
D. 中国共产党依法履行经济建设的职能
18. 面对一些国家的贸易保护主义和新冠肺炎疫情冲击全球经济的逆境,中国作为世界第二大经济体,坚定不移地奉行互利共赢的开放战略。我国坚持这一态度是基于
- ①合作、冲突是国际关系的基本形式
②主权国家在国际上的法律地位平等
③中国与其他国家之间存在共同利益
④促进共同发展符合当今时代的主题
A. ①②
B. ①③
C. ②④
D. ③④
19. 刺绣是我国最具代表性的传统手工艺之一,在中国至少有二三千年的历史。在农村手艺人、农村合作组织的带领下,全国已形成蜀绣、苏绣、湘绣、粤绣、堆绣、羌绣等知名刺绣流派,刺绣的技法也有错针绣、乱针绣、网绣、满地绣、戳纱、洒线、挑花等几十种。由此可见,中华文化
- ①世代相传,恒定不变
②独树一帜,独领风骚
③求同存异,兼收并蓄
④丰富多彩,各具风格
A. ①②
B. ①③
C. ②④
D. ③④
20. 2020年以来,宁夏回族自治区审计厅面对意识形态工作新形势新任务新要求,采取唱响宣传“主旋律”,营造浓厚氛围,筑牢意识形态工作防线。以下属于筑牢意识形态工作防线的有
- ①统筹规划主题宣传工作,强化舆论引导
②加强党员理想信念教育,保持政治本色
③坚决抵制一切外来文化,树立文化自信
④丰富科学知识储备,锤炼干事创业本领
A. ①②
B. ①③
C. ②④
D. ③④
21. 2020年11月,中国科学院南京地质古生物研究所宣布发现了一种形似虾一样的动物化石——“麒麟虾”,该化石来自5亿多年前,身体兼具真节肢动物和节肢动物祖先类型的多种特征,是打开节肢动物起源之谜的过渡型物种,为生物进化论增添了新的实证。这一发现进一步佐证了
- ①世界上没有不可认识之物
②意识的反应形式是主观的
③世界统一性在于其物质性
④真理与谬误往往相伴而行
A. ①②
B. ①③
C. ②④
D. ③④
22. 2020年11月11日,国务院总理李克强主持召开国务院常务会议。会议决定在浦东新区开展市场准入“一业一证”试点,更大激发市场活力,为扩大消费和有效投资创造条件。会议还要求,试点要总结经验,成熟后向全国推广。这体现了
- ①任何事物都处于普遍联系之中
②量变达到一定程度将引起质变
③矛盾普遍性和特殊性相互联结
④辩证的否定是事物发展的环节
A. ①③
B. ①④
C. ②③
D. ②④
23. 2020年9月23日,中宣部向全社会发布了国家援鄂抗疫医疗队等10个抗疫一线医务人员英雄群体的先进事迹,这些医务人员在抗疫斗争中白衣为甲、逆行出征,舍生忘死挽救生命,诠释了医者仁心和大爱无疆,被授予“时代楷模”称号。由此可见
- ①不被社会认可的人生是没有意义的人生
②人既是价值的创造者又是价值的享受者
③实现人生价值要坚持个人与社会的统一
④价值观影响人生道路和生活方式的选择
A. ①②
B. ①④
C. ②③
D. ③④

24. 孟子指出,“能尽人之性,则能尽物之性;能尽物之性,则可以赞天地之化育;可以赞天地之化育,则可以与天地参矣”。据此可知,孟子
- A. 主张人应遵循事物发展的规律
B. 倡导通过修身养性恢复人的善性
C. 继承和发展了以民为本的思想
D. 旨在强调人与自然和谐相处之道
25. 东汉中期以后,察举“以族为德”,“贡举则以阀阅”为标准,同年被举荐者互称“同年”。如广汉太守五世公举“同年”司徒长史段辽叔“才操卤钝”的长子为“孝廉”。这种选才方式
- A. 巩固了儒学的正统地位
B. 削弱了中央集权统治
C. 纯洁了吏治和社会风气
D. 保证了社会政治安定
26. 长期以来,史学界对雕版印刷术的发明年代问题一直众说纷纭,归纳起来,有“汉代发明说”“东晋发明说”“北齐发明说”“隋朝发明说”“唐代发明说”“五代发明说”和“北宋发明说”等七说。这种情况表明
- A. 年代久远导致历史认识模糊
B. 史学界争论过大的问题没有价值
C. 研究角度影响历史认识差异
D. 缺少考古资料佐证的认识不可信
27. 明清时期,太湖南边的乌青镇上的茧行、丝行、绸庄、布庄很多,商人收购商品转销各地,尤以绸庄为著。绸庄主人“发给原料,令乡人织成绵匹,给以工资”。这反映出当时
- A. 江南农业生产结构巨变
B. 手工生产的区域分工细致
C. 商业资本介入生产领域
D. 区域间长途贩运发展加快
28. 近代上海发生的事情往往与全国、全世界紧密相连,发生在世界各地的事情上海也特别敏感。这使得上海成为各种经济、社会、政治力量的关注点,发生在上海的事情也会有放大效应。这反映出近代上海具有
- A. 集散效应
B. 生活的复杂性
C. 孤岛效应
D. 文化的异质性
29. 陈独秀在《敬告青年》一文中写道:“等一人也,各有自由之权,绝无奴隶他人之权利……非血气所忍受”,在《吾人之觉悟》中又说:“(国民)自居于主人的地位,则应自进而建设政府,自立法度而自服以之,自定权利而自尊重之”。这体现了陈独秀
- A. 强调伦理问题和社会问题的同等重要
B. 试图构建未来社会的政治蓝图
C. 旨在唤醒广大民众救亡图存的自觉性
D. 主张否定传统思想的严重束缚
30. 1938年12月,汪精卫在公开投日的《艳电》中明确宣示:“三民主义为中华民国立国之责任。”而周佛海在1939年4月与梅思平商量收拾时局办法时,也提出“必需三民主义、国民党、青天白日满地红旗及国民政府四条件”。这表明汪伪集团
- A. 宣扬“曲线救国”的谬论
B. 散播再战必亡的“亡国论”论调
C. 攻击国共两党貌合神离
D. 与重庆争夺国民党的政治符号
31. 在社会主义市场经济条件下,我国政府对社会进行新的、有效的动员和整合,在乡村体现为党的基层组织对社会的动员和整合,抑制不良社会势力对基层群众自治和利益的侵蚀。这说明新时期我国农村基层民主政治建设的前提是
- A. 坚持中国共产党的领导
B. 培育基层社会组织
C. 完善社会主义市场经济
D. 整合乡村政治资源
32. 梭伦在改革中承认大私有制的客观存在,同时主张温和地抑制它的进一步发展,规定土地最高限额,保留富人的某些政治优先权。这反映出梭伦改革
- A. 复古而又创新
B. 注重现实
C. 维护贵族专权
D. 公私并存
33. 16世纪,英格兰人把每一个反对伊比利亚国家的举动,包括对外殖民探险、贸易、扩张在内,都视为捍卫民族国家利益,巩固主权国家的正义行动。这说明英国的早期殖民活动

- A. 冲击了欧洲封建统治秩序
B. 助推了近代英国民族国家的发展
C. 打击了西班牙的殖民扩张
D. 巩固了英国庞大的海外殖民帝国
34. 西班牙的毕加索,他的“作品完全打乱了传统绘画的全部技巧,将物体多个角度的不同视象,结合在画中同一形象之上。正面的脸上却画着侧面的鼻子,而侧面的脸上倒画着正面的眼睛……这些形象使人观后产生作呕感。”该作品
- A. 注重人物真实刻画
B. 追求微妙色彩变化
C. 追求神韵意趣结合
D. 表现手法比较抽象
35. 20 世纪八九十年代,在新自由主义的影响下,拉美国家先后实行对外开放的贸易自由化政策,加快国营企业私有化,开放金融市场,放宽对外资限制等经济改革。下表为这一时期拉美经济发展的状况。这表明

年份	经济增长率		占世界贸易的份额	贫困人口数
	世界年均	拉美年均		
1980			5%	上升到占总人口数的 44%
1990	3.3%	1.8%	3%	

- A. 国家干预经济的理论被否定
B. 拉美地区的经济一体化步伐加快
C. 拉美的国际地位进一步提高
D. 新自由主义实质上是新殖民主义
- 二、非选择题:共 160 分。第 36~42 题为必考题,每个试题考生都必须作答。第 43~47 题为选考题,考生根据要求作答。

(一)必考题:共 135 分。

36. 阅读图文材料,完成下列要求。(22 分)

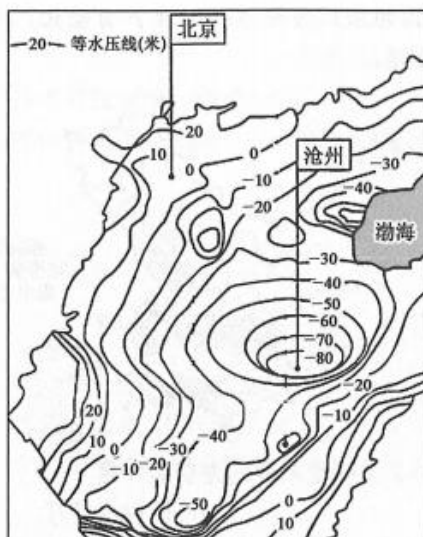
荷兰是世界上生命科学和健康活动最集中的地方之一,是中国生物医药和健康企业迈向欧洲的绝佳门户,吸引了众多医药企业在荷兰投资。第二大城市鹿特丹是欧洲第一大港口,有“欧洲门户”之称。同时荷兰的风车和拦海大坝是世界闻名的旅游景观,拦海大坝使荷兰拥有广阔的围海造田景观,但现今荷兰正陆续退田还海。下图为荷兰地理位置示意图及拦海大坝、风车景观。



- (1) 简析荷兰吸引中国医药企业投资的区位优势。(8 分)
- (2) 说明荷兰围海造田可以利用的优势自然条件。(6 分)
- (3) 荷兰经历了从围海造田到退田还海的过程,试分析说明其退田还海的原因。(8 分)

37. 阅读图文材料,完成下列要求。(24分)

京津冀协同发展政策实施以来,沧州抓住机会承接了大量京津疏散转移的产业,此现象被称为“沧州现象”。京津冀的产业转移缓解了北京的资源、环境压力,促进了沧州等产业承接地区的经济发展,但也会对产业承接地区的资源、环境造成一定压力。下图为华北局部区域京津冀协同发展以来某时期深层承压地下水等水压线图(承压地下水位面的等高线图)。



- (1)描述图示区域水压的分布特征。(6分)
- (2)简析北京地区水压较大的主要原因。(8分)
- (3)指出沧州水压与周围相差悬殊的原因并说明该现象带来的主要问题。(10分)

38. 阅读材料,完成下列要求。(14分)

投资、消费、出口被称为拉动经济增长的“三驾马车”。

材料一 2020年上半年、第三季度我国投资、消费、净出口对经济增长的贡献率

	2020年上半年	2020年第三季度
最终消费支出	-2.9%	1.7%
投资	1.5%	2.6%
净出口	-0.2%	0.6%

注:2020年三季度,最终消费支出向上拉动GDP1.7个百分点,年内首次转正,较2020年二季度上升4.0个百分点。

材料二 2020年前三季度,全国各地区各部门科学统筹疫情防控和经济社会发展,认真贯彻落实党中央、国务院决策部署,生产生活秩序逐步好转,经济运行稳步恢复,经济增长由负转正。三季度,我国GDP为266172亿元,按不变价格计算,比2019年同期增长4.9%,增速比2020年二季度提高1.7个百分点,经济整体保持稳步回升态势。

【高三12月·文综 第7页(共12页)】

- (1)解读材料一反映的经济信息。(4分)
(2)结合材料,运用经济生活知识,请你为经济整体持续稳步回升建言献策。(10分)

39. 阅读材料,完成下列要求。(12分)

证明事项告知承诺制,是指行政机关在办理有关许可登记等事项时,以书面形式将法律法规规定证明的义务或者证明条件一次性告知当事人,由申请人书面进行承诺,已经符合这些条件、标准和要求,同时也愿意承担承诺不实的法律责任,行政机关就不再索要证明,直接予以办理。

2020年10月21日,国务院总理李克强主持召开国务院常务会议决定,全面推行证明事项和涉企经营许可事项告知承诺制。按照“减证便民”要求,对与企业 and 群众生产生活相关、依申请办理的高频事项或获取难度较大的证明,特别是在户籍管理、市场主体准营、社会保险等方面,抓紧推行告知承诺制。申请人要对承诺负责。对承诺不实的要依法终止办理、责令限期整改、撤销行政决定或予以行政处罚,并纳入信用记录,实施失信惩戒。

结合材料,运用政治生活知识,说明国务院全面推行证明事项和涉企经营许可事项告知承诺制的理由。(12分)



40. 阅读材料,完成下列要求。(26分)

全球性挑战考验人类文明成色。当前,国际上不时出现“文明冲突论”“种族优越论”的喧嚣,新冠肺炎疫情甚至导致一些国家加剧社会撕裂、种族冲突。国际形势越是错综复杂,越是说明加强文明交流互鉴、促进文明和谐共生的任务十分迫切。2020年11月10日,国家主席习近平在上海合作组织成员国元首理事会第二十次会议上提出“促进民心相通,构建人文共同体”重大倡议。习近平指出,文明没有优劣之分,只有特色之别。我们要促进文明互学互鉴,增进各国睦邻友好,夯实上海合作组织长远发展民意基础。

促进文明交流互鉴,中国是倡议者,更是行动者,积极推出了一系列拉紧人文交流合作纽带的举措:上合组织媒体峰会促进媒体合作;妇女论坛开辟合作新天地;风云二号气象卫星顺利“上岗”提供气象服务;教育、科技、文化、旅游、卫生、减灾等各领域合作扎实推进……

- (1)结合材料,运用社会存在和社会意识的关系的知识,说明提出“促进民心相通,构建人文共同体”倡议的必要性。(12分)
- (2)结合材料,说明中国推出的一系列拉紧人文交流合作纽带举措的文化生活依据。(10分)
- (3)请就促进文明互学互鉴拟定两条宣传标语。(4分)

41. 阅读材料,完成下列要求。(25分)

材料一

19世纪末以来,美国大陆内部人口的迁移开始变得更加频繁,这主要是由于东北部大都市区的迅速发展和中西部的城市化形成规模而导致的,这种大陆内部的人口迁移不仅使美国的“地理中心点”不断向西迁移,也使“人口中心点”开始不断由东部发达的大都市区向中西部的城市或人口聚集点迁移。20世纪头十年美国城市人口大量增加,同时涌入了比之前任一时期都要多的移民。在一战前,这种人口的增长是一种“自然选择”的结果,即被美国发达的城市环境和充足的就业机会所吸引。1910年时的美国社会中白人占据着绝对优势地位,这必然决定着美国联邦政府的各项重大政策向以土生白人为主的美国人口主体倾斜,移民的被强制美国化就反映了这一正在得到加强的事实……总之,1900~1910年间的美国社会正经历着一场“巨变”,它在经济上表现为美国工业、农业中垄断资本主义的迅猛发展,在社会转型的层面则通过人口、城市、移民、族裔的变化得到反映。1910年人口普查便是全面反映这个国家当时经济、社会状况和其所处时代特征的最为真实的画卷。

——摘编自宋健《19世纪末20世纪初美国的经济垄断和社会转型:美国1910年人口普查研究》

材料二

2000年的第五次全国人口普查是在我国社会发展从第二步战略目标向第三步战略目标迈进的关键时期开展的。这次普查按户调查的项目有23项,按人调查的项目有26项,比1990年人口普查时的21个项目增加了许多。为了不过多增加居民的负担,同时也为了减少各级政府财力、物力的投入,这次人口普查采用了短表长表技术。短表内容包括有关人的自然属性等基本指标和简单的住房状况指标,由全国90%的家庭填报;长表内容包括有关人口素质、经济活动、婚姻、妇女生育状况、住

【高三12月·文综 第9页(共12页)】

房状况等指标,在全国抽取 10% 的户填报。随着我国市场经济的日趋活跃,人们会因就业、就学、迁居等因素迁移、流动,人户分离现象大量增加。针对这种情况,这次人口普查增设了《暂住人口调查表》,作为人口普查的附表。目的是为了为了防止流动人口漏报,对人口总量数据的质量进行控制。鉴于目前我国劳动力成本不断提高,各级政府和社会各界都希望尽快地得到普查成果,这次人口普查采用了光电录入技术。收到了节省人力、不受人工因素影响、精度高、录入速度快等好处。

——摘编自国家统计局人口和社会科技统计司《第五次全国人口普查的内容、特点及意义》

(1) 根据材料一并结合所学知识,简析美国进行 1910 年全国人口普查的时代背景,并指出其所反映出的当时美国社会转型的特点。(12 分)

(2) 根据材料二,概括我国第五次全国人口普查的特点,并结合所学知识分析形成这些特点的原因。(13 分)

42. 阅读材料,完成下列要求。(12 分)

材料

资本主义世界体系具有“中心—外围”结构,是指发达国家是这个体系的中心,不发达国家属于这个体系的外围。不能从表象出发把不发达外围单纯地看成一种落后状态或一种自然现象,而应认识到,它是世界资本主义积累过程的一个方面,也是资本主义发展的一种特殊后果。“中心—外围”结构在不同阶段不同地域有着不同的表现形式……当前资本主义世界体系的政治经济军事结构出现了前所未有的分离现象。苏联解体后,世界性军事力量更集中在美国和它最亲密的盟国手里,资本积累的世界性过程的中心却从美国逐渐向多个地区尤其是东亚地区转移。这样,到底是美国持续维持它的世界霸权地位,还是出现以一个国家为基地的新世界霸权,还是形成以某一个地区为主要基础的全球秩序,都还不能确定,都需要由未来的历史环境来决定。

——摘编自刘海霞《资本主义世界体系的历史考察及其霸权更迭》

根据材料与所学世界史相关知识,围绕“资本主义世界体系的演变”这一主题自行拟定一个具体论题,并就所拟论题进行简要阐述。(要求:论题明确,史论结合;层次分明,论证充分;逻辑严密,表述清晰。)



(二)选考题:共 25 分。请考生从 2 道地理题、3 道历史题中每科任选一题作答。如果多做,则每科按所做的第一题计分。

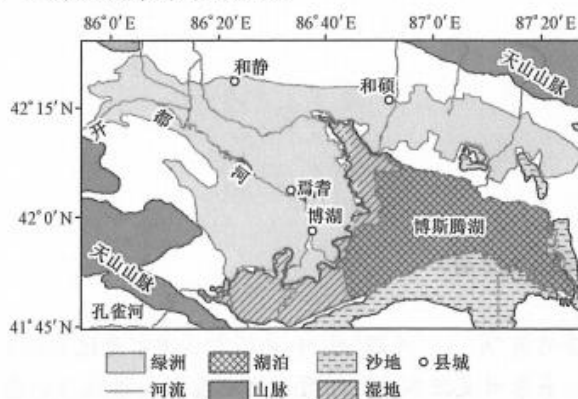
43. [地理——选修 3:旅游地理](10 分)

近年来,“夜经济”一词在我国各大城市发展规划中频频出现,无论是夜饮、夜宴,还是夜唱、夜购,“夜经济”几乎涵盖了商业、交通运输、餐饮业、旅游业、娱乐业等。夜间旅游是“夜经济”火爆的一个缩影。相对于白天走马观花式的景区打卡,夜晚的休闲更有助于游客对当地文化的感知与生活方式的体验。

说明“夜经济”对城市旅游发展的作用并提出推动夜间旅游发展的建议。

44. [地理——选修 6:环境保护](10 分)

新疆博斯腾湖流域矿产资源丰富,主要有菱镁矿、铁、煤、大理岩、石灰砂岩、食盐、芒硝、泥炭等。该区域绿洲地区近年来从沿海城市引入了建材、冶金等重点企业和重大项目。绿洲内人口较为密集,城镇周边有农田和交通主干道。当地某研究团队通过采样研究发现:绿洲农田土壤环境受到了不同程度的重金属污染威胁。下图示意博斯腾湖流域。



指出该区域绿洲土壤中重金属污染来源,并针对重金属污染提出可行性的防治措施。

45. [历史——选修 1:历史上重大改革回眸](15 分)

材料

同治二年四月,清廷任命左宗棠为闽浙总督。左宗棠到浙江后,得知,浙江浮收漕粮超出原规定的税则很多,因而他认为:“减征一事最为当今急务”。他奏准减征浙东地丁和南米浮收,缓征本年全省额赋、革除一切摊捐及陋规。当时货物税既有厘金,又有关税,浙江关税向由杭州制造管辖,南北新关税收供清皇室挥霍享用,左宗棠上奏说:“兵燹凋敝,若更关厘并举,竭泽而渔……请暂缓开关,于厘捐岁输银十万两供织造”。在浙江地区,盐商与官府勾结,高价售盐。左宗棠规定,民贩凭当地州县盐票,就可以去盐场买盐,到指定地区销售,同时裁汰一些陋规,人民普遍得到好处。对于贪官污吏,他也毫不留情地予以罢黜。他还广招邻省农民来浙,贷给耕牛和种子,并教农民种桑、养蚕。《清史稿》对左宗棠在浙江时的评价说:“百废俱兴,东南诸省善后之政,以浙江为最”。

——摘编自左景伊《左宗棠传》

(1)根据材料,概括左宗棠为整顿浙江政务所采取的措施。(8 分)

(2)根据材料并结合所学知识,简评左宗棠整顿活动产生的影响。(7 分)

46. [历史——选修 3:20 世纪的战争与和平](15 分)

材料

二战爆发后,希特勒采取出奇制胜的战略进攻法国。在法国和比利时之间集中的大量英法军队,全部陷入德国的包围,造成敦刻尔克大撤退。1940年6月,德军攻陷巴黎,之后,积极准备进攻英国。1940年8月,德军向英国进行狂轰滥炸。面对法西斯德国的进攻,丘吉尔极力寻找对策。此时,希特勒撕毁了《苏德互不侵犯条约》,发动了苏德战争。苏德战争的初期,苏联实力引起美国的极大关注,为了摸清情况,罗斯福派人访问莫斯科,并就美国援助苏联武器交换了意见。斯大林在1941年7月发表演说时说:“我们为了保卫我们的祖国的自由、民主进行战争,将同欧洲、美洲各国人民结成统一战线”。1941年12月,美国倡议,由所有对轴心国家作战的同盟国家签署一项共同宣言,即《联合国宣言》世界反法西斯同盟正式形成。

——摘编自杨春华《世界反法西斯同盟的形成及其意义》

(1)根据材料,概括世界反法西斯同盟形成的原因及过程。(9分)

(2)根据材料并结合所学知识,简析世界反法西斯同盟建立的意义。(6分)

47. [历史——选修 4:中外历史人物评说](15 分)

材料

晋文公,名重耳。其父晋献公意欲废长子申生而立妃子所生的奚齐为太子,申生被逼自尽。为了避祸,重耳逃亡他国。重耳心存仁义,礼贤下士,即使遇到极大的风险,一批忠实的属下也不离不弃,为重耳渡过难关做出巨大贡献。重耳后来逃亡到楚国后,楚成王以诸侯国国君的礼遇接待他。楚成王说,我这样厚待于你,日后你做了晋国国君该如何报答我。重耳说,如果晋、楚两国军队对垒,我将命令晋军退避三舍。后两国在城濮交战,晋文公重耳履行了当年的承诺。

晋惠公死后,晋国大臣们欢迎重耳归国执政。秦穆公派军队护送重耳归国,重耳继位,是为晋文公,经过几十年混乱的晋国方才安定下来。晋文公开始整顿和治理国家,诸如整顿官职,责成各级官员尽职尽责;轻徭薄赋,赈救困乏,发展农业生产;减轻关税,开通道路,促进商旅贸易;奖拔贤能,赏赐有功,赡养老人,礼遇宾客。培养良好的社会风气,从而开创了晋国的霸业。

——摘编自叶建华《晋文公的退避效应》

(1)根据材料并结合所学知识,分析晋文公成就霸业的原因。(7分)

(2)根据材料并结合所学知识,简评晋文公的功绩。(8分)



高三文科综合参考答案、提示及评分细则

1. B 由图可知,①地气候的降水在夏季增加快,②地气候的降水在冬季增加快,且两地位于同一纬度亚欧大陆的的东西两岸,由此判断①地气候为亚热带季风气候,②地气候为地中海气候;则与①地气候成因相同的是温带季风气候,热带季风气候的形成与海陆热力性质差异和气压带风带的季节移动有关。
2. B ②地气候为北半球的地中海气候,雨热不同期,受盛行西风(西南风)和副热带高压带交替影响。
3. C 由图可知松木希错流域北侧支流发源地无冰川分布,因此无永久性冰川融水补给,但因其位于青藏高原且海拔较高,冬季气温低,降雪较多,春季气温回升会使大量季节性积雪融化,补给河流;降雪在冬季直接补给河流的数量很少;湖泊位于河流下游,不会补给支流。
4. A 松木希错流域南侧支流冰川融水补给占比高,受此影响,流量具有季节变化大、年际变化小的特点。
5. D 珠三角地区是我国改革开放的先行区,具有政策优势,且最靠近台湾,便于产业转移,富士康最先在此布局;长三角地区经济发达,人口众多,市场广阔,富士康较早在此拓展业务;随着规模扩大,劳动力价格、地价等因素影响,富士康逐渐由东向西向较落后地区拓展。
6. A 机器人替代人工,可进行标准化生产,精确度高,一致性好,提升了生产效率,提高了产品的质量;可以减少工业生产安全事故,但不能完全解决;主要减少了劳动力成本;对能源消耗不会有太大影响。
7. D 该地海拔 2 860 米,不会有大量冰雪覆盖,关联性最小;由材料可知卢卡拉飞机场属于高原机场,海拔升高,飞机发动机性能下降,且跑道仅 460 米,起降复杂;位于高山深谷中,气流情况复杂,飞行视野小,净空区域小,均导致其成为最危险机场。
8. B 该地经济落后,机场修建后可运送物资,发展旅游业,促进对外交流;许多登山者经该机场前往珠峰,加快登山进程。
9. A 由材料可知,赣州市距珠三角较近,地理位置优越,便于面向珠三角招商引资,承接产业转移。
10. C 实行统一管理,每个产业园区的产业分工可以更为明确;同时提升了招商的效率;该地区不存在建设用地不足的问题;工业园区面积不会因为统一管理而扩大。
11. D “三南”产业园加入龙南经济技术开发区后,统一了招商引资政策,便于发挥政策优势。
12. B 不考虑其他因素,水果价格下降,水果需求增加,B符合题意;A、C反映的是水果价格不变,D反映的是水果价格上涨,均不符合题意。
13. A 国家公务员考试网上报名平均竞争比 54.5 : 1,表明考试竞争激烈,这从一个侧面告诉我们劳动者要树立平等就业观、多种方式就业观,努力提高自身综合素质,主动适应劳动力市场竞争,①②符合题意;网上报名竞争激烈与公共就业服务、劳动力流动的体制没有关系,③④不选。
14. A 由 2020 年前三季度我国财政收支数据可知,该收支关系属于财政赤字,有利于刺激社会总需求,①符合题意;全国一般公共预算支出中,与疫情防控直接相关的公共卫生支出增长 66.1%,表明国家财政能够促进资源的合理配置,②符合题意;③在材料中没有体现,不选;材料没有涉及刺激总供给,④排除。
15. B 近年来,佛坪县以“脱贫摘帽”为奋斗新起点,巩固拓展脱贫攻坚成果,这一做法是为了解决新时代的社会主要矛盾,遵循了共同富裕这一中国特色社会主义的根本原则,①④符合题意;材料没有涉及区域协调发展战略,②不选;我国把创新摆在国家发展全局的核心位置,佛坪县也不例外,③不选。
16. A 该社区积极探索构建基层社区治理体系,创新推进“五微融合”,助推社区“微自治”,这一模式创新了基层民主自治的方式,有利于提升社区基层治理能力,①②符合题意;自己选举当家人是社区自治的基础,社区自治是城市治理的基础,③不选;推进“五微融合”没有扩大居民的政治权利,④不选。
17. C 党的十九届五中全会审议通过“十四五”规划和二〇三五年远景目标的建议,发挥了总揽全局的作用,C符合题意;A在材料中没有体现,不选;我党通过政治领导、思想领导、组织领导来实现党的领导,B不选;履行经济建设职能的主体是政府,D不选。
18. D 面对全球经济的逆境,我国坚定不移地奉行互利共赢的开放战略,是因为中国与其他国家之间存在共同利益,促进共同发展符合当今时代的主题,③④符合题意;材料没有涉及国与国之间的冲突,①不选;②与这一态度不构成因果关系,不选。
19. C 刺绣是我国最具代表性的传统手工艺之一,体现了中华文化独树一帜,独领风骚,②符合题意;全国已形成多个知名刺绣流派和多种刺绣的技法,体现了中华文化丰富多彩,独具特色,④符合题意;恒定不变说法错误,①不选;刺绣求同存异、兼收并蓄在材料中没有体现,③不选。
20. A 筑牢意识形态工作防线,需要统筹重大主题宣传工作,强化舆论引导,加强理想信念教育,保持党员政治本色,①②符合题意;应该抵制外来腐朽、落后文化的冲击,③不选;④不属于意识形态工作范畴,不选。
21. B 中国科学院南京地质古生物研究所宣布发现了动物化石——“麒麟虾”,表明人能够能动的认识世界,世界上没有

- 不可认识之物,故选①;这一发现为生物进化论增添了实证,表明了③;材料没有涉及意识的形式问题,也没有体现真理和谬误的关系,②④不选。
22. A 通过在浦东新区开展市场准入“一业一证”试点,激发市场活力,扩大消费和有效投资,并向全国推广,体现了任何事物都处于普遍联系之中,①符合题意;在浦东新区开展市场准入“一业一证”试点,然后向全国推广,体现了矛盾普遍性和特殊性相互联结,③符合题意;②④与材料无关,不选。
23. C 广大医务人员在抗疫斗争中白衣为甲、逆行出征,舍生忘死挽救生命,受到表彰并获得“时代楷模”称号,表明人既是价值的创造者又是价值的享受者,②符合题意;英雄群体的先进事迹体现了实现人生价值要坚持个人与社会的统一,③符合题意;人的真正价值在于创造价值,在于对社会的责任和贡献,而不是取决于是否得到社会认可,①不选;④在材料中没有体现,不选。
24. D 考查孟子的思想。题干中孟子认为,如果一个人能尽知他人的本性,就能尽知万物的本性;能尽知万物的本性,就可以赞助天地万物的化育;能赞助天地万物的化育,就可以与天地并列为了。这体现了孟子对人与自然和谐相处之道的理解与阐述,故选 D 项。材料主旨是说孟子阐述人、天、地三者关系,并未涉及主张人应遵循事物发展的规律,故排除 A 项;材料虽然有“性”,但这里的“性”指的是人的本性,孟子虽提出“性善论”,但是材料中并未指明通过什么样的方式恢复人的善性,故排除 B 项;题干并未涉及“以民为本”这一主张,故排除 C 项。
25. B 考查汉代的察举制。材料中察举制的选才方式客观上使“世族”如虎添翼,加剧了吏治败坏,导致察举为中央和地方的世族、门阀所操纵,朋党勾结的风气日益盛行,东汉统治日渐衰弱,故选 B 项,并排除 C、D 两项。材料中没有反映儒家思想在察举中得到重视的信息,故排除 A 项。
26. C 考查中国古代的科技及史学理论。由于历史研究者在研究角度、参考史料等方面的差异,往往会得出不同的历史认识,题干中雕版印刷术发明的年代存在七种观点的现象即为其具体体现,故 C 项正确。A 项中“模糊”的说法与题干中雕版印刷术发明的年代存在七种观点的现象不符,故排除;B 项中“没有价值”、D 项中“不可信”的说法均过于绝对化,故排除。
27. C 考查古代中国的工商业。材料中乌青镇以丝、棉生产为核心的手工业发达,导致商业资本介入生产领域,控制了原料与销售市场,使乡间织户成为场外的加工者,商业资本与工业资本取得一定程度的结合,故选 C 项。材料中涉及的是乌青镇的工商业生产,未涉及农业生产结构的比重变化,故排除 A 项;材料并未反映手工业生产的区域分工细致的信息,排除 B 项;材料中确有“商人收购商品转销各地”的信息,但非材料主旨,故排除 D 项。
28. A 考查近代上海的城市生活。材料反映出近代上海因其特殊地位,在政治、经济、文化等各种信息的输入和传播方面十分快捷,并能有效扩展和放大,说明其城市地位的集散效应,故选 A 项。近代上海因其各色人种、各种文化、不同的政治势力介入、不同的经济利益纠葛等,城市生活丰富而复杂,但材料不能反映这一信息,故排除 B 项;近代上海的租界因其特殊地位,在战乱时期相对和平稳定而成为城市中的孤岛,但租界只是上海城市的一小部分,故排除 C 项;近代上海东西交汇,古今并存,不同的文化并存、融合,具有鲜明的异质性,但材料反映不出这一信息,故排除 D 项。
29. C 考查新文化运动。根据题干,陈独秀旨在唤起人民群众的自觉性,倡导国人应追求自己的权利,国人全体都应有主人之自觉意识,自觉履行权利,自觉遵守法律,自己建立政府,自己规定享有的权利并且进行遵守,故选 C 项。A 项体现不出材料的主旨,且新文化运动更强调中国社会问题方面,故排除;启蒙运动冲击欧洲的封建专制统治,启蒙思想家主张用理性建立自由和平等的理想社会,构建了未来社会的政治蓝图,但新文化运动仅是一次思想解放运动,故排除 B 项;结合所学知识,陈独秀对中国传统思想不是完全否定,因此 D 项不符合史实,故排除。
30. D 考查抗日战争。材料反映出为了漂白自身的奸伪身份,汪伪一直强调自己是国民党的正统、战前南京政府的合法继承者、孙中山思想的真正实践者。为此,他们表现出与其他“普通”汉奸明显不同的政治倾向,即与重庆方面激烈争夺一些长期附着于国民党的政治符号,故选 D 项。“曲线救国”是抗战时期国民党内亲日派为降日反共制造的借口,不符合材料主旨,故排除 A 项;材料不能反映“亡国论”论调及汪伪集团攻击国共合作的信息,故排除 B、C 两项。
31. A 考查新时期的基层民主政治建设。材料信息说明新时期在社会主义市场经济不断发展的基础上,农村基层民主政治建设需进行新的动员和整合,但为了抑制不良社会势力甚至敌对势力对这一基础的侵蚀,须坚持中国共产党的领导这一根本政治前提,以基层党组织建设为基础推进农村基层民主政治建设,故选 A 项。培育基层社会组织和整合乡村政治资源都属于推动新时期农村基层民主政治建设的内容,但都须坚持中国共产党的领导这一根本政治前提,故排除 B、D 两项;完善社会主义市场经济是进行农村基层民主政治建设的大背景而不是前提条件,故排除 C 项。
32. B 考查雅典民主政治。材料中梭伦“承认大私有制的现实”“温和地抑制它的进一步发展”“保留富人的某些政治优先权”说明梭伦改革注重与当时雅典的社会实际相结合,不好高骛远,以利于缓和矛盾稳定社会,故选 B 项,并排除 A 项。维护贵族专权是对材料的片面解读,故排除 C 项;材料不能反映梭伦改革发展公有制的信息,故排除 D 项。
33. B 考查早期殖民扩张和争夺。16 世纪英国人政治思想中已经产生了一种清晰的主权国家(民族国家)概念。近代早期英国人的海外殖民扩张活动,表明他们对西班牙的政治垄断权和罗马教皇的世俗特权提出了挑战,同时也表明他们争取民族国家发展机会的决心和尝试,故选 B 项。材料中并未提及欧洲封建统治秩序的信息,故排除 A 项;打击了西班牙的殖民扩张是对材料的片面解读,故排除 C 项;英国庞大的海外殖民帝国直到 18 世纪中叶才建立,故排除 D 项。

34. D 考查世界文学艺术。材料表明,该绘画作品一反传统,将绘画进行分解并进行重置,打破了人的正常视觉,这反映了该绘画作品在表现方法上具有变形、抽象的特点,D项正确。注重人物真实刻画是现实主义作品的特点,与材料主旨不符,故排除A项;追求微妙色彩变化是印象画派美术作品的特点,故排除B项;追求神韵意趣结合是中国古代的文人画,故排除C项。
35. D 考查二战后资本主义的新变化。材料反映出拉美国家推行新自由主义改革的结果导致民族工业的发展遭到了致命的打击,政府控制国内经济和金融活动的的能力大大削弱,国家经济安全、民族独立和国家主权不断弱化,与发达国家的经济差距越来越大。这是资本在全球范围内的新一轮扩张,是打着减少干预、贸易自由、金融自由旗号,并由发达国家的跨国公司主导的新殖民主义侵略,故选D项,并排除C项。这些措施只是减少了国家对经济的干预,并未完全否定国家干预政策,故排除A项;材料不能反映这场经济改革对拉美经济一体化的影响,故排除B项。
36. (1)拥有高质量的教育体系,生物医药行业研发水平高;作为欧洲的门户,地理位置优越;背靠欧盟广阔的消费市场;水陆空交通便利,物流基础设施发达完备;税收制度、研发激励方面优势大。(8分,答对4点即可)
- (2)大陆架浅且宽阔,海湾面积大;盛行西风风力强劲,风车抽水可减轻工程成本;河流及洋流携带大量泥沙并沉积,减少填海的原料及运输成本。(6分)
- (3)复原自然环境原貌,保护生物多样性;利于河流入海,减少洪涝灾害;恢复湿地,利于污染物的降解,净化环境;调节气候,缓解旱情。(8分)
37. (1)总体由四周向沧州递减;沧州是该区域水压最小的地区;北部水压变化梯度小,南部水压变化梯度大。(6分)
- (2)北京地处华北平原北部,北侧地势较高,地下水相对丰富,地下水位较高;京津冀协同发展政策实施后,北京环境保护的强度大,有效保护了地下水资源;大量产业向外转移,对水资源的消耗相对减少;南水北调对北京供水贡献大。(8分)
- (3)原因:沧州承接京津产业转移,产业活动密集;需水量大,地下水开采严重。(4分)主要问题:易形成地下漏斗,导致地面沉降;海水入侵,导致地下水咸化,水质变差;加剧土壤盐碱化。(6分)
38. (1)2020年第三季度,我国消费、投资、净出口对经济的拉动作用较2020年上半年均有改善,形成共同拉动经济增长合力;(2分)消费对经济增长拉动作用增强,经济发展方式转变效果显著。(2分)(其他答案,符合题意,可酌情给分)
- (2)①实施科学的宏观调控,转变经济发展方式,统筹疫情防控和经济社会发展;(1分)②激发消费需求,重视发挥消费对经济增长的基础性作用;(3分)③推动稳投资政策措施落地见效,刺激经济复苏,稳住产业链供应链;(3分)④加大开放力度,优化开放结构,发展更高层次的开放型经济。(3分)(其他答案,符合题意,可酌情给分)
39. ①我国政府坚持对人民负责,全心全意为人民服务,政府此举有利于更好地服务当事人;(3分)②我国政府履行社会主义市场经济建设职能,政府此举有利于优化营商环境,激发市场活力;(3分)③我国政府履行社会主义文化建设职能,政府此举有利于倡导诚信文化,构建诚信文化氛围;(3分)④我国政府积极推动职能转变,政府此举有利于优化公共服务,建设服务型政府。(3分)(其他答案,符合题意,可酌情给分)
40. (1)①社会存在决定社会意识,社会意识是对社会存在的反映。(3分)当前国际形势错综复杂,“文明冲突论”“种族优越论”的喧嚣呼唤一种正确的社会意识进行引领,提出“促进民心相通,构建人文共同体”倡议顺应了和平与发展的时代主题。(3分)②社会意识具有相对独立性,先进的社会意识对社会发展起积极的推动作用。(3分)提出“促进民心相通,构建人文共同体”倡议有利于促进文明交流互鉴,为各国人民世代友好、共同发展进步注入持久动力。(3分)(其他答案,符合题意,可酌情给分)
- (2)①上合组织媒体峰会促进媒体合作可以更好地发挥大众传媒对文化传递、沟通、共享的强大功能,推进世界不同国家和地区人民间的相互交流和沟通;(3分)②妇女论坛开辟合作新天地可以拓宽文化传播的途径和范围,增进各种文明之间相互理解;(3分)③教育、科技、文化、旅游等各领域合作扎实推进可以推动文化与经济相交融,发挥教育、科技在文化交流与发展中的积极作用。(4分)(其他答案,符合题意,可酌情给分)
- (3)①文明交流互鉴影响世界,共书“美美与共”新篇章。②文明因交流而多彩,文明因互鉴而进步。(每条2分,共4分。其他答案,符合题意,可酌情给分)
41. (1)背景:资产阶级民主化模式发展,社会发展趋于稳定;第二次工业革命发生,垄断资本主义兴起和发展;大批移民涌入,美国中西部得到大规模的开发;列强掀起瓜分世界的狂潮,资本主义世界体系形成;帝国主义国家矛盾尖锐,旧大陆动荡不安。(6分,任答三点即可)特点:城市人口的剧增和移民浪潮高涨;大都市区的发展与“人口中心点”西移;国家政策的“白人化”与移民被强制美国化。(6分)
- (2)特点:普查项目增多,内容更加充实;普查和抽样调查相结合;统计范围扩大,统计质量提高;增加了高新技术在人口普查中的运用,普查速度快。(6分,任答三点即可)原因:制定并实施国家经济、社会发展目标的战略需要和重要依据;农村剩余劳动力向城镇转移的速度加快,流动人口大量增加;劳动力的就业结构和城乡居民的受教育状况发生了深刻变化;经济体制改革不断深入,社会主义市场经济的日趋活跃;减少各级政府的投入和居民的负担;社会劳动力成本不断提高,普查结果对各级政府制定经济和社会发展规划十分重要。(7分,任答四点即可)

42.【评分标准】

(1)论题:(2分)

- ①没有论题或不是材料中得出的论题不得分。
- ②根据材料概括提出论题准确全面得2分,余者酌情给分。

(2)阐述:(10分)

- ①举出能说明论题正确的史实至少两个,每个4分共8分,余者酌情给分。
- ②论证充分,逻辑清楚、文字通顺,得2分,但全题不得超过12分。

示例一:

论题:资本主义世界体系具有“中心—外围”结构积累模式。(2分)

阐述:在西欧,15~18世纪是大规模产生资本主义生产关系的年代,也是资本原始积累时期。从新航路开辟到17世纪以前,西班牙海外事业的最后结果是刺激了西欧迅速发展的资本主义经济,而荷兰则利用制度创新获得了与西班牙比较的优势,这些优势包括殖民地、新型殖民公司、金融创新和商船队。这一时期,形成了以荷兰为核心的资本主义世界体系积累模式。

18世纪下半期到20世纪初,是欧洲世界经济体向全球的扩展时期。西欧各国经过剧烈的政治革命、两次科技革命,由自由资本主义向垄断资本主义过渡,对全世界进行殖民统治和掠夺,并成为全球的主人,而英国以其政治上的稳定、“世界工厂”的有利地位及庞大的殖民帝国为基础,开始确立以英国为核心、其他资本主义国家为外围、殖民地半殖民地为边缘的资本主义世界体系积累模式。

总之,近代荷、英两国霸权的确立说明:中心国家通过殖民扩张、争夺等手段,通过影响、控制、奴役外围国家和边缘国家来完成积累,是资本主义世界体系确立的重要模式。(10分)

示例二:

论题:资本主义世界体系的“中心—外围”结构在不同阶段、不同地域有着不同的表现形式。(2分)

阐述:17~18世纪资本主义世界体系的中心国家是通过殖民战争形成的。英国不断地向海外扩张,首先与当时拥有世界殖民航运霸权的荷兰发生冲突,三次英荷战争给荷兰以致命的打击,荷兰丧失了海上霸主地位。之后英国又通过奥地利王位继承战争、与法国的七年战争等,进一步巩固了其世界殖民霸主地位。

二战后美国则通过相对和平的方式和经济手段建立了以美国为中心的资本主义世界体系。如美国通过实行马歇尔计划,加强了对欧洲国家经济的控制;通过实行“第四点计划”,加强了对不发达国家和地区的控制;通过“布雷顿森林协定”,确立了美元的霸权地位;并且成立了以美国为核心的关税及贸易总协定、世界银行和国际货币基金组织,这样二战后美国把持的资本主义世界的金融、贸易体系都得以建立。

近现代英、美两国霸权的演变表明,资本主义世界体系的“中心—外围”结构正从暴力转向文明,从以军事斗争为主转向以经济竞争为主,通过更加隐蔽的手段来实现中心国家的积累。(10分)

43. 作用:有效延长旅游时间,打造全时段旅游;增加旅游产品供给,挖掘经济新增长点;打响“夜间旅游”品牌,提高旅游影响力;提高旅游收入等。(4分)建议:结合地域文化,形成品牌特色;优化配套服务,加强城市管理;提供多元化夜间旅游产品,延长旅游产业链等。(6分)
44. 来源:重金属矿床的开发冶炼,建材、冶金等工业的直接排污;大气中重金属降尘;农业中的污水灌溉、化肥使用;重金属富集区的岩石风化等。(4分)防治措施:进行土壤污染调查监测,开展土壤重金属污染生态风险评估;进行土壤环境功能区划;完善农作物种植管理制度,倡导农业清洁生产;建立土壤污染防治公众参与制度、完善土壤环境影响评价制度;对已被污染的耕地土壤进行整治;严格监督工业达标排污,加大监管力度;合理灌溉、合理施用化肥;增加土壤有机质含量,改良土壤净化能力等。(6分,答对三点即可)
45. (1)措施:减征漕粮浮收;停征浙江赋税,开征厘金;改革盐政,行盐票;鼓励发展农耕,教民种桑养蚕,发展副业;改革吏治,革除陋规。(8分,任答四点即可)
- (2)影响:一定程度上减轻了人民的负担,调动了人民生产的积极性;推动浙江地区农业的发展和手工业的进步;一定程度上打击了浙江地区官吏腐败现象;浙江凋敝的民生出现了复苏的景象。(7分,言之有理即可)
46. (1)原因:德军进攻英、法两国;德国发动对苏联的战争,德、意、日法西斯同盟的形成及对世界的战争。(4分,任答两点即可)过程:英法结盟成为世界反法西斯同盟建立的开端;英、美、苏三国结盟进一步奠定基础;《联合国宣言》签订,标志着世界反法西斯同盟正式形成。(5分)
- (2)意义:团结了一切反法西斯力量,对于孤立和打击德、意、日法西斯侵略者有巨大的历史意义;为赢得反法西斯战争的彻底胜利奠定了基础;加快了二战结束的步伐;也为后来联合国组织的建立奠定了基础。(6分,任答三点即可)
47. (1)原因:心存仁义;礼贤下士,重用人才;诚实守信;对晋国进行政治、经济等各方面的改革;得到秦国等诸侯国的援助;春秋战国时期的社会变革与混乱为其创造了发展的机遇。(7分,任答四点即可)
- (2)功绩:稳定了晋国的政局;促进了晋国经济、军事、政治的发展;改良了社会风气;提高了晋国的威望;开创了晋国的霸业;有利于局部统一和民族交融;其善待属下和讲究诚信等品格对后世影响大。(8分,任答四点即可)

关于我们

自主选拔在线（原自主招生在线）创办于 2014 年，历史可追溯至 2008 年，隶属北京太星网络科技有限公司，是专注于**中国拔尖人才培养**的升学咨询在线服务平台。主营业务涵盖：新高考、学科竞赛、强基计划、综合评价、三位一体、高中生涯规划、志愿填报等。

自主选拔在线旗下拥有网站门户、微信公众平台等全媒体矩阵生态平台。平台活跃用户达百万量级，网站年度流量超 1 亿量级。用户群体涵盖全国 31 省市，全国超 95% 以上的重点中学老师、家长及考生，更有许多重点高校招办老师关注，行业影响力首屈一指。

自主选拔在线平台一直秉承“专业、专注、有态度”的创办公念，不断探索“K12 教育+互联网+大数据”的运营模式，尝试基于大数据理论为广大中学和家长提供中学拔尖人才培养咨询服务，为广大高校、中学和教研单位提供“衔接和桥梁纽带”作用。

平台自创办以来，为众多重点大学发现和推荐优秀生源，和全国数百所重点中学达成深度战略合作，累计举办线上线下升学公益讲座千余场，直接或间接帮助数百万考生顺利通过强基计划（自主招生）、综合评价和高考，进入理想大学，在家长、考生、中学和社会各界具有广泛的口碑影响力，2019 年荣获央广网“年度口碑影响力在线教育品牌”。

未来，自主选拔在线将立足于全国新高考改革，全面整合高校、中学及教育机构等资源，依托在线教育模式，致力于打造更加全面、专业的**新高考拔尖人才培养**服务平台。



 微信搜一搜

 自主选拔在线